

# CÁLCULO - PRIMAVERA 2006

Profesor: Leonardo Sánchez  
Auxiliar: Oscar Peredo

## CLASES AUXILIARES PARA EL CONTROL #4 25 de Agosto

### 1. Clase 1

#### RESUMEN:

- Definición: Diremos que  $f : (a, b) \rightarrow \mathbb{R}$  es continua en  $\bar{x} \in (a, b)$  ssi  $\forall x \in (a, b)$

$$\lim_{x \rightarrow \bar{x}} f(x) = f(\bar{x})$$

(recordar hacer el límite por ambos lados)

- Definición: Diremos que  $f : (a, b) \rightarrow \mathbb{R}$  es derivable en  $\bar{x} \in (a, b)$ , si existe el límite

$$f'(\bar{x}) = \lim_{h \rightarrow 0} \frac{f(\bar{x} + h) - f(\bar{x})}{h}$$

- Operador L:

Se define como:

$$L(f(x)) = \frac{f'(x)}{f(x)}$$

Propiedades:

$$L(f(x)g(x)) = L(f(x)) + L(g(x))$$

$$L\left(\frac{f(x)}{g(x)}\right) = L(f(x)) - L(g(x))$$

$$L(cf(x)) = cL(f(x)) \text{ con } c = \text{constante}$$

- Fórmula de Leibnitz:

$$(f(x)g(x))^{(n)} = \sum_{k=0}^n \binom{n}{k} f^{(k)} g^{(n-k)}$$

**Problema 1.** Dado  $n \in \mathbb{N}$  considere la función  $f(x)$  definida por:

$$f(x) = \begin{cases} x^n \sin\left(\frac{1}{x}\right) & x \neq 0 \\ 0 & x = 0 \end{cases}$$

Probar que:

- i) f es continua en 0 ssi  $n \geq 1$
- ii) f es derivable en 0 ssi  $n \geq 2$
- iii) f' es continua en 0 ssi  $n \geq 3$

**Solución 1. :**

i) Pdq:  $\lim_{x \rightarrow 0} f(x) = f(0) = 0$

$$\lim_{x \rightarrow 0} \underbrace{x^n}_{\rightarrow 0 \text{ si } n \geq 1} \cdot \underbrace{\sin\left(\frac{1}{x}\right)}_{\text{acotado}} = 0$$

ii) Pdq: f'(0) existe.

Si  $x \neq 0$

$$f'(x) = nx^{n-1} \sin\left(\frac{1}{x}\right) - x^n \cos\left(\frac{1}{x}\right) \frac{1}{x^2}$$

Si  $x = 0$  (Usando la definicion)

$$\begin{aligned} f'(0) &= \lim_{h \rightarrow 0} \frac{f(0+h) - f(0)}{h} \\ &= \lim_{h \rightarrow 0} \frac{h^n \sin\left(\frac{1}{h}\right)}{h} \\ &= \lim_{h \rightarrow 0} \underbrace{h^{n-1}}_{\rightarrow 0 \text{ si } n \geq 2} \cdot \underbrace{\sin\left(\frac{1}{h}\right)}_{\text{acotado}} \\ &= 0 \end{aligned}$$

iii) Pdq:  $\lim_{x \rightarrow 0} f'(x) = f'(0) = 0$

$$\lim_{x \rightarrow 0} \left( n \cdot \underbrace{x^{n-1}}_{\rightarrow 0 \text{ si } n \geq 2} \cdot \underbrace{\sin\left(\frac{1}{x}\right)}_{\text{acotado}} - \underbrace{x^{n-2}}_{\rightarrow 0 \text{ si } n \geq 3} \cdot \underbrace{\cos\left(\frac{1}{x}\right)}_{\text{acotado}} \right) = 0$$

**Problema 2.** Sea f la función definida por:

$$f(x) = \begin{cases} \frac{1 - \cos^n(x)}{x} & x \neq 0 \\ 0 & x = 0 \end{cases}$$

Estudiar la continuidad de f, su derivada y la continuidad de la derivada de f

**Solución 2. :**

i) Continuidad:

Si  $x \neq 0$  f es continua por algebra de funciones continuasSi  $x = 0$  Pdq:  $\lim_{x \rightarrow 0} f(x) = f(0) = 0$ 

$$\begin{aligned}
\lim_{x \rightarrow 0} \frac{1 - \cos^n(x)}{x} &= \lim_{x \rightarrow 0} \frac{(1 - \cos(x))(1 + \cos(x) + \cos^2(x) + \dots + \cos^{n-1}(x))}{x} \\
&= \lim_{x \rightarrow 0} \underbrace{x}_{\rightarrow 0} \cdot \underbrace{\frac{(1 - \cos(x))}{x^2}}_{\rightarrow \frac{1}{2}} \cdot \underbrace{\sum_{k=0}^{n-1} \cos^k(x)}_{\text{acotado}} \\
&= 0
\end{aligned}$$

ii) Derivada:

Si  $x \neq 0$ 

$$\begin{aligned}
f'(x) &= \frac{(-n \cos^{n-1}(x)(-\sin(x))x - 1(1 - \cos^n(x)))}{x^2} \\
&= \frac{n \cos^{n-1}(x) \sin(x)x - (1 - \cos^n(x))}{x^2} \\
&= \frac{n \cos^{n-1}(x) \sin(x)}{x} + \frac{\cos^n(x) - 1}{x^2}
\end{aligned}$$

Si  $x = 0$ 

$$\begin{aligned}
f'(0) &= \lim_{h \rightarrow 0} \frac{f(h+0) - f(0)}{h} \\
&= \lim_{h \rightarrow 0} \frac{1 - \cos^n(h)}{h^2} \\
&= \lim_{h \rightarrow 0} \underbrace{\frac{1 - \cos(h)}{h^2}}_{\rightarrow \frac{1}{2}} \cdot \underbrace{(1 + \cos(x) + \dots + \cos^{n-1}(x))}_{\rightarrow n} \\
&= \frac{n}{2}
\end{aligned}$$

iii) Derivada de f':

Si  $x \neq 0$  f' es continua por algebra de funciones continuasSi  $x = 0$  Pdq:  $\lim_{x \rightarrow 0} f'(x) = f'(0) = \frac{n}{2}$ 

$$\begin{aligned}
\lim_{x \rightarrow 0} &= \lim_{x \rightarrow 0} \left( n \cos^{n-1}(x) \frac{\sin(x)}{x} + \frac{\cos^n(x) - 1}{x^2} \right) \\
&= \lim_{x \rightarrow 0} \left( n \cdot \underbrace{\cos^{n-1}(x)}_{\rightarrow 1} \cdot \underbrace{\frac{\sin(x)}{x}}_{\rightarrow 1} + \underbrace{\frac{\cos(x) - 1}{x^2}}_{\rightarrow \frac{-1}{2}} \cdot \underbrace{\sum_{k=0}^{n-1} \cos^k(x)}_{\rightarrow n} \right) \\
&= n - \frac{n}{2} \\
&= \frac{n}{2}
\end{aligned}$$

**Problema 3.** Calcular  $f^{(4)}(1)$  para  $f(x) = \frac{e^x}{x^2}$

**Solución 3. :**

$$f(x)x^2 = e^x$$

$$(f(x)x^2)^{(4)} = e^x$$

Usando la fórmula de Leibnitz

$$\binom{4}{0}x^2f^{(4)}(x) + \binom{4}{1}2xf^{(3)}(x) + \binom{4}{2}2f^{(2)}(x) = e^x$$

Evalutando en  $x=1$

$$1 \cdot 1 \cdot f^{(4)}(1) + 8 \cdot 1 \cdot f^{(3)}(1) + 12 \cdot f^{(2)}(1) = e$$

Ahora de la misma manera se calcula  $f^{(3)}(1), f^{(2)}(1)$  y  $f^{(1)}(1)$

$$f^{(3)}(1) = e - 6f^{(2)}(1) - 6f^{(1)}(1)$$

$$f^{(2)}(1) = e - 4f^{(1)}(1) - 2f(1)$$

$$f^{(1)}(1) = e - 2f(1)$$

Reemplazando se obtiene:

$$\begin{aligned} f^{(4)}(1) &= 120f(1) - 67e \\ &= 53e \end{aligned}$$

**Problema 4.** Calcular la derivada n-ésima de  $\arctan(x)$

**Solución 4. :**

Sabemos que la derivada de  $\arctan(x)$  es:

$$\arctan'(x) = \frac{1}{1+x^2}$$

$$\underbrace{\arctan'(x)}_{g(x)} \cdot \underbrace{(1+x^2)}_{h(x)} = 1$$

Usando la fórmula de Leibnitz:

$$(g(x)h(x))^{(n)} = \sum_{k=0}^n \binom{n}{k} h^{(k)}(x) g^{(n-k)}(x)$$

$$\Rightarrow \binom{n}{0}(1+x^2)g^{(n)}(x) + \binom{n}{1}2xg^{(n-1)}(x) + \binom{n}{2}2g^{(n-2)}(x) = 0$$

$$\Rightarrow g^{(n)} = \frac{-2xng^{(n-1)} - n(n-1)g^{(n-2)}}{1-x^2}$$

Encontramos la derivada n-ésima de  $\arctan'(x)$ , entonces  $g^{n-1}(x)$  corresponde a la derivada n-ésima de  $\arctan(x)$ .

**Problema 5.** Usando el operador L encontrar  $f'(x)$  siendo  $f(x) = \frac{x^3 \arctan(\alpha x)}{\sqrt{x^2+1}}$

**Solución 5. :**

$$\begin{aligned} L(f(x)) &= L(x^3) + L(\arctan(\alpha x)) - L(\sqrt{x^2+1}) \\ &= 3L(x) + L(\arctan(\alpha x)) - \frac{1}{2}L(x^2+1) \\ &= 3\frac{1}{x} + \frac{\frac{1}{1+(\alpha x)^2}\alpha}{\arctan(\alpha x)} - \frac{1}{2}\frac{2x}{x^2+1} \\ &= \frac{3}{x} + \frac{\alpha}{\arctan(\alpha x)(1+(\alpha x)^2)} - \frac{x}{1+x^2} \end{aligned}$$

Calculamos  $L(f(x))$ , multiplicando  $L(x) \cdot f(x)$  y se obtiene  $f'(x)$

**Problema 6.** Encuentre la recta tangente a la curva de ecuación  $e^{2\arcsin(yx)} = \ln(1+x^2+y^2)$  en el punto p donde la curva intersecta al eje de las abcisas, con abcisa positiva

**Solución 6. :**

Notar que  $y=y(x)$

Primero buscar el punto p (con coordenadas  $(\bar{x}, 0)$ ) que intersecta con las abcisas, para esto hacemos  $y=0$  y buscamos  $\bar{x}$

$$1 = \ln(1 + \bar{x}^2)$$

$$e = 1 + \bar{x}^2$$

$$\bar{x} = \pm\sqrt{e-1}$$

$$\Rightarrow p = (\sqrt{e-1}, 0)$$

(Se eligió la abcisa positiva)

La recta tangente corresponde a:

$$(y - \bar{y}) = f'(\bar{x})(x - \bar{x})$$

Ahora hay que encontrar  $y'(x)=f'(x)$ , y luego evaluar en  $\bar{x}$

Derivando la ecuación queda:

$$e^{2 \arcsin(yx)} \frac{2}{\sqrt{1-(yx)^2}} (y'x + y) = \frac{1}{1+x^2+y^2} (2x + 2yy')$$

Evaluable en p:

$$y'(\sqrt{e-1}) = \frac{\sqrt{e-1}}{1+e-1}$$

$$\Rightarrow y' = \frac{1}{e}$$

La recta tangente es:

$$y - 0 = \frac{1}{e}(x - \sqrt{e-1})$$

## 2. Clase 2

### RESUMEN:

- Reglas de L'Hopital:

Sean  $f$  y  $g$  derivables en  $(x_0 - \delta, x_0 + \delta)$ ,  $x \neq x_0$ . Entonces:

Si  $\lim_{x \rightarrow x_0} f(x) = \lim_{x \rightarrow x_0} g(x) = 0$  y  $\lim_{x \rightarrow x_0} \frac{f'(x)}{g'(x)} = L$  entonces  $\lim_{x \rightarrow x_0} \frac{f(x)}{g(x)} = L$

Si  $\lim_{x \rightarrow x_0} f(x) = \lim_{x \rightarrow x_0} g(x) = \infty$  y  $\lim_{x \rightarrow x_0} \frac{f'(x)}{g'(x)} = L$  entonces  $\lim_{x \rightarrow x_0} \frac{f(x)}{g(x)} = L$

Siempre que tengamos límites de la forma L'Hopital  $\frac{0}{0}$  o  $\frac{\infty}{\infty}$  podemos aplicar estas reglas. Si tenemos límites  $0 \cdot \infty, 1^\infty, \infty^0, 0^0$  hay que llevarlos a una forma L'Hopital.

- Máximos y Mínimos:

- $x_0$  se dice punto mínimo de  $f$  en  $A \subseteq \mathbb{R}$  si  $(\forall x \in A)$ ,  $f(x) \geq f(x_0)$
- $x_0$  se dice punto máximo de  $f$  en  $A \subseteq \mathbb{R}$  si  $(\forall x \in A)$ ,  $f(x) \leq f(x_0)$
- TEOREMA: Si  $x_0$  es punto de máximo (mínimo) y  $f$  es derivable en  $x_0$ , entonces  $f'(x_0) = 0$ .

**Problema 7.** Calcular:

a)  $\lim_{x \rightarrow 0} \frac{\sin(x) - x \cos(x)}{\sin(x)^2}$

b)  $\lim_{x \rightarrow 0} \frac{e^{ax^2} - e^{bx^2}}{x \ln(1+x)}$

c)  $\lim_{x \rightarrow \infty} (x + e^x + e^{2x})^{\frac{1}{x}}$

$$d) \lim_{x \rightarrow 0} \left( \frac{a^x + b^x}{2} \right)^{\frac{1}{x}}$$

**Solución 7. :**

a) Primero veamos si es de la forma L'Hopital. Evaluando en 0, nos queda el límite de la forma  $\frac{0}{0}$ , entonces podemos aplicar la regla:

$$\lim_{x \rightarrow 0} \frac{\sin(x) - x \cos(x)}{\sin(x)^2} = \lim_{x \rightarrow 0} \frac{\cos(x) - (\cos(x) + x(-\sin(x)))}{2 \sin(x) \cos(x)} = \lim_{x \rightarrow 0} \frac{\cos(x) - \cos(x) + x \sin(x)}{2 \sin(x) \cos(x)} = \lim_{x \rightarrow 0} \frac{x}{2 \cos(x)}$$

Evaluando nuevamente en 0, vemos que queda:

$$\lim_{x \rightarrow 0} \frac{x}{2 \cos(x)} = 0$$

$$\Rightarrow \lim_{x \rightarrow 0} \frac{\sin(x) - x \cos(x)}{\sin(x)^2} = 0$$

b) Es de la forma  $\frac{0}{0}$  entonces aplicando la regla queda:

$$\lim_{x \rightarrow 0} \frac{e^{ax^2} - e^{bx^2}}{x \ln(1+x)} = \lim_{x \rightarrow 0} \frac{2axe^{ax^2} - 2bxe^{bx^2}}{\ln(1+x) + \frac{x}{1+x}}$$

Evaluando en 0, queda  $\frac{0}{0}$ , entonces nuevamente derivamos:

$$= \lim_{x \rightarrow 0} \frac{2a(e^{ax^2} + x2axe^{ax^2}) - 2b(e^{bx^2} + x2bxe^{bx^2})}{\frac{1}{1+x} + \frac{(1+x) - x}{(1+x)^2}}$$

Evaluando en 0, no es de la forma L'Hopital y da:

$$= (a - b)$$

$$\Rightarrow \lim_{x \rightarrow 0} \frac{e^{ax^2} - e^{bx^2}}{x \ln(1+x)} = (a - b)$$

c) Vemos que evaluando en  $\infty$  este límite es de la forma  $\infty^0$ . En estos casos lo típico es tomar el logaritmo a la función y después aplicar la exponencial, ya que  $e^{\ln(f(x))} = f(x)$  (esto lo podemos hacer ya que, el logaritmo y la exponencial son funciones continuas y podemos meterlas en el límite ( $\lim_{x \rightarrow 0} \exp(f(x)) = \exp(\lim_{x \rightarrow 0} f(x))$ ). De esta manera tenemos:

$f(x) = (x + e^x + e^{2x})^{\frac{1}{x}} \Rightarrow \ln(f(x)) = \frac{1}{x} \ln(x + e^x + e^{2x})$ . Esto si es de la forma L'Hopital ( $\frac{\infty}{\infty}$ ), entonces aplicando la regla:

$$\lim_{x \rightarrow \infty} \frac{\ln(x + e^x + e^{2x})}{x} = \lim_{x \rightarrow \infty} \frac{\frac{1}{x + e^x + e^{2x}} (1 + e^x + 2e^{2x})}{1} = \lim_{x \rightarrow \infty} \frac{1 + e^x + 2e^{2x}}{x + e^x + e^{2x}}$$

Es nuevamente  $\frac{\infty}{\infty}$ , derivando nuevamente:

$$= \lim_{x \rightarrow \infty} \frac{e^x + 4e^{2x}}{1 + e^x + 2e^{2x}}$$

Otra vez es  $\frac{\infty}{\infty}$ , derivamos:

$$= \lim_{x \rightarrow \infty} \frac{e^x + 8e^{2x}}{e^x + 4e^{2x}}$$

No seguimos derivando ya que podemos ver que siempre va a ser de la forma  $\frac{\infty}{\infty}$ , por ser exponenciales. Pensemos un poco...podemos factorizar arriba y abajo por  $e^{2x}$  y así nos queda:

$$= \lim_{x \rightarrow \infty} \frac{e^{2x}(e^{-x} + 8)}{e^{2x}(e^{-x} + 4)} = \lim_{x \rightarrow \infty} \frac{e^{-x} + 8}{e^{-x} + 4} = \frac{8}{4} = 2$$

$$\Rightarrow \lim_{x \rightarrow \infty} (x + e^x + e^{2x})^{\frac{1}{x}} = e^2. (\text{Recordar que } e^{\ln(f(x))} = f(x))$$

d) Como  $\lim_{x \rightarrow 0} \frac{a^x + b^x}{2} = 1$  y  $\lim_{x \rightarrow 0} \frac{1}{x} = \infty$ , se tiene una expresión de la forma  $1^\infty$ , sin embargo:

$$\begin{aligned} \left( \frac{a^x + b^x}{2} \right)^{\frac{1}{x}} &= \exp \left( \ln \left[ \left( \frac{a^x + b^x}{2} \right)^{\frac{1}{x}} \right] \right) \\ &= \exp \left( \frac{1}{x} \ln \left[ \frac{a^x + b^x}{2} \right] \right) \end{aligned}$$

y como  $\lim_{x \rightarrow 0} \ln \left[ \frac{a^x + b^x}{2} \right] = 0$  y  $\lim_{x \rightarrow 0} x = 0$ , se tiene una expresión de la forma  $\frac{0}{0}$ , aplicando la regla de L'Hopital a  $\frac{1}{x} \ln \left( \frac{a^x + b^x}{2} \right)$ , se obtiene:

$$\begin{aligned} \lim_{x \rightarrow 0} \frac{1}{x} \ln \left[ \frac{a^x + b^x}{2} \right] &= \lim_{x \rightarrow 0} \frac{2}{a^x + b^x} \frac{a^x \ln a + b^x \ln b}{2} \\ &= \lim_{x \rightarrow 0} \frac{a^x \ln a + b^x \ln b}{a^x + b^x} \\ &= \frac{\ln a + \ln b}{2} \\ &= \ln \sqrt{ab} \end{aligned}$$

Como exp es una función continua,  $\lim_{x \rightarrow 0} \exp(f(x)) = \exp(\lim_{x \rightarrow 0} f(x))$ , luego

$$\lim_{x \rightarrow 0} \left( \frac{a^x + b^x}{2} \right)^{\frac{1}{x}} = \exp(\ln \sqrt{ab}) = \sqrt{ab}$$

**Problema 8.** Con un trozo de material rectangular, se forma una caja abierta suprimiendo de cada esquina cuadrados iguales y doblando los lados hacia arriba. Hallar las dimensiones de la caja de mayor volumen que se puede construir de esta manera, si el material tiene dimensiones a(largo) y b(ancho).

**Solución 8. :**

Nos están pidiendo maximizar el volumen, entonces lo primero es determinar la función  $V(x)$  y luego calcular su primera derivada para encontrar los puntos críticos y luego evaluar los puntos en la función y ver con cual,  $V(x)$  es mayor, entonces:



El volumen de la caja corresponde a:

$$V(x) = (a - 2x)(b - 2x)x = 4x^3 - 2(a + b)x^2 + abx$$

Su primera derivada es:

$$V'(x) = 12x^2 - 4(a + b)x + ab$$

Resolviendo la ecuación cuadrática  $V'(x) = 0$  nos dan dos soluciones  $x_1 = \frac{(a+b)+\sqrt{a^2+b^2-ab}}{6}$  y  $x_2 = \frac{(a+b)-\sqrt{a^2+b^2-ab}}{6}$  con  $x_1 \geq 0$  y  $x_2 \geq 0$ . Al evaluar en  $V(x)$  se tiene que  $V(x_1) \leq V(x_2)$ , por lo tanto  $x_2$  es un máximo y  $x_1$  un mínimo. Finalmente las dimensiones óptimas son largo  $a-2x_2$ , ancho  $b-2x_2$  y alto  $x_2$ .

Otra manera de determinar si es un máximo o mínimo es analizar la segunda derivada, en este caso tenemos que:

$$V''(x_1) = 6\sqrt{a^2 + b^2 - ab} \geq 0, \text{ entonces corresponde a un mínimo}$$

$$V''(x_2) = -6\sqrt{a^2 + b^2 - ab} \leq 0, \text{ entonces corresponde a un máximo.}$$

**Problema 9.** Se desea construir un estanque cilíndrico de capacidad 1000 metros cúbicos. Los costos de construcción son los siguientes:  $r$  la tapa,  $q$  el manto y  $p$  la tapa. Calcular las dimensiones del estanque tales que los costos de construcción sean los mínimos y se satisfagan los requerimientos de capacidad pedidos.

**Solución 9. :**

Lo primero que debemos hacer es modelar el problema, definiendo las variables. Sea  $y$  la altura del estanque y  $x$  el radio basal del estanque. Tenemos dos variables y como sólo sabemos minimizar en una variable, debemos usar alguna condición del problema que ligue a las variables  $x$  e  $y$ . En este caso la ligadura de las variables viene dada por la restricción de capacidad del estanque. Sea  $V_0$  la capacidad del estanque. Entonces tenemos:  $V_0 = \pi x^2 y \Rightarrow y = \frac{V_0}{\pi x^2}$ . Ahora debemos escribir la función que queremos minimizar, en este caso los costos de construcción del estanque. Sea  $C(x)$  esta función. Entonces:

$$C(x) = \text{Costo tapa} + \text{Costo manto} + \text{Costo fondo}$$

$$C(x) = \pi x^2 r + 2\pi xyq + \pi x^2 p$$

$$C(x) = \pi x^2(r + p) + \frac{2V_0 q}{x}$$

Lo siguiente es encontrar los puntos críticos. Como  $x \in (0, \infty)$  los puntos críticos están dados cuando  $C'(x) = 0$ .

$$C'(x) = 2\pi x(r + p) - \frac{2V_0 q}{x^2}$$

$$C'(x) = 0 \Rightarrow x^* = \sqrt[3]{\frac{V_0 q}{\pi(r + p)}}$$

Analizando la segunda derivada comprobamos que  $V''(x^*) = 2\pi(r + p) + \frac{4V_0 q}{x^{*3}} \geq 0$  entonces  $x^*$  efectivamente corresponde a un mínimo. Luego las dimensiones óptimas son:

$$\text{RADIO} = \sqrt[3]{\frac{V_0 q}{\pi(r + p)}}$$

$$\text{ALTURA} = \frac{V_0}{\pi x^*}$$

### 3. Clase 3

#### RESUMEN:

- Teorema del valor medio(TVM)

Sean  $f, g : [a, b] \rightarrow \mathbb{R}$  funciones continuas en  $[a, b]$  y derivables en  $(a, b)$ , con  $g(a) \neq g(b)$  y  $g'(x) \neq 0$  para todo  $x \in (a, b)$ . Entonces, existe  $c \in (a, b)$  tal que:

$$\frac{f(b) - f(a)}{g(b) - g(a)} = \frac{f'(c)}{g'(c)}$$

En particular si  $g(x) = x$  entonces:

$$\frac{f(b) - f(a)}{b - a} = f'(c)$$

- Teorema(Monotonía)

Sea  $f : [a, b] \rightarrow \mathbb{R}$  función continua en  $[a, b]$  y derivable en  $(a, b)$ .

i) Si  $f'(x) > 0$  para todo  $x \in (a, b) \Rightarrow f$  es estrictamente creciente en  $[a, b]$ .

ii) Si  $f'(x) < 0$  para todo  $x \in (a, b) \Rightarrow f$  es estrictamente decreciente en  $[a, b]$ .

- Teorema(Covexidad/Concavidad)

Sean  $f : [a, b] \rightarrow \mathbb{R}$  función continua en  $[a, b]$  y 2 veces derivable en  $(a, b)$ .

i) Si  $f''(x) > 0$  para todo  $x \in (a, b) \Rightarrow f$  es covexa en  $[a, b]$ .

ii) Si  $f''(x) < 0$  para todo  $x \in (a, b) \Rightarrow f$  es cóncava en  $[a, b]$ .

- Corolario:Determinación de Máximos y mínimos con la primera derivada

Sea  $f$  una función derivable en un intervalo  $[a, b]$  tal que  $f'$  es continua en  $[a, b]$ .

i) Si  $f'(x) > 0$  en  $(a, x_0)$  y  $f' < 0$  en  $(x_0, b) \Rightarrow f$  tiene un máximo relativo en  $x_0$ .

ii) Si  $f'(x) < 0$  en  $(a, x_0)$  y  $f' > 0$  en  $(x_0, b) \Rightarrow f$  tiene un mínimo relativo en  $x_0$ .

- Corolario: Determinación de máximos y mínimos con la segunda derivada  
Sea  $f$  función con  $f''$  continua en  $[a, b]$  y  $x_0$  un punto crítico de  $f$ .

i) Si  $f''(x_0) > 0 \Rightarrow f$  tiene un mínimo relativo en  $x_0$

ii) Si  $f''(x_0) < 0 \Rightarrow f$  tiene un máximo relativo en  $x_0$

iii) i) Si  $f''(x_0) = 0 \Rightarrow$  no hay información.

**Problema 10.** Usando el TVM, demuestre las siguientes desigualdades:

(a)  $e^x \geq 1 + x \quad \forall x \in \mathbb{R}$

(b)  $-x \leq \sin(x) \leq x \quad \forall x \geq 0$

**Solución 10. :**

(a) Sea  $f(x) = e^x$ , entonces  $f'(x) = e^x \quad \forall x \in \mathbb{R}$ . Por lo tanto  $f'(x) > 1$  si  $x > 0$  y  $f'(x) < 1$  si  $x < 0$ . Apliquemos el TVM con:

$$a = 0, b = x$$

$$\frac{f(b) - f(a)}{b - a} = f'(x_0) \quad x_0 \in (0, x)$$

$$\Leftrightarrow \frac{f(x) - f(0)}{x} = f'(x_0) > 1 \quad x_0 \in (0, x)$$

$$\Leftrightarrow \frac{e^x - 1}{x} = e^{x_0} > 1$$

$$\Rightarrow e^x - 1 > x \Leftrightarrow e^x > 1 + x$$

Tenemos la desigualdad para los  $x > 0$ , y tiene que ser  $\forall x \in \mathbb{R}$ . veamos que pasa con los  $x < 0$ , procedamos del mismo modo:

$$a = x, b = 0$$

$$\Leftrightarrow \frac{f(0) - f(x)}{-x} = f'(x_0) < 1 \quad x_0 \in (x, 0)$$

$$\Leftrightarrow \frac{1 - e^x}{-x} = e^{x_0} < 1$$

$$\Rightarrow 1 - e^x < -x \Leftrightarrow e^x > 1 + x$$

Y para  $x=0$  se cumple directamente la igualdad ( $1=1$ ).

$$\Rightarrow 1 + x \leq e^x \quad \forall x \in \mathbb{R}$$

(b) Sea  $f(x) = \sin(x)$ , entonces  $f'(x) = \cos(x)$ . Aplicando el TVM con  $a=0, b=x$ . Nos queda:

$$\frac{f(x) - f(0)}{x} = f'(x_0) \quad x_0 \in (0, x)$$

$$\frac{\sin(x)}{x} = \cos(x_0)$$

Pero  $-1 \leq \cos(x_0) \leq 1$ . Luego  $-x \leq \sin(x) \leq x \quad \forall x \geq 0$

**Problema 11.** Sea  $f$  continua en  $[0, \infty)$  y derivable en  $(0, \infty)$  y  $f'$  es creciente en  $(0, \infty)$  con  $f(0) = 0$ . Utilice el teorema del valor medio para probar que  $f'(x) \geq \frac{f(x)}{x}, \forall x \in (0, \infty)$ . Concluya que  $f$  es creciente en  $(0, \infty)$ .

**Solución 11. :**

Para  $x \in (0, \infty)$ , se cumplen la hipótesis del TVN en  $[0, x]$ , luego,  $\exists c \in (0, x)$  tal que  $\frac{f(x) - f(0)}{x - 0} = f'(c)$ , pero como  $f(0) = 0$ , se tiene que  $\frac{f(x)}{x} = f'(c)$ . Como  $c < x$  se tiene que  $f'(c) \leq f'(x)$ , pues  $f'$  es creciente en  $(0, \infty)$ , por lo tanto  $f'(x) \geq f'(c) = \frac{f(x)}{x}$  para todo  $x > 0$ .

Ahora demostremos que  $f$  es creciente. Sabemos que:

$$\begin{aligned} \left( \frac{f(x)}{x} \right)' &= \frac{f'(x)x - f(x)}{x^2} \\ &= \frac{f'(x) - \frac{f(x)}{x}}{x} \end{aligned}$$

Como  $f'(x) - \frac{f(x)}{x} \geq 0$  (demostrado anteriormente) y  $x > 0$  se tiene que  $\left( \frac{f(x)}{x} \right)' \geq 0$ , con

lo cual  $\frac{f(x)}{x}$  es creciente. Si  $x \leq y$  entonces  $\frac{f(x)}{x} \leq \frac{f(y)}{y}$ , es decir,  $f(x) \leq f(y) \underbrace{\frac{x}{y}}_{\leq 1} \leq f(y)$ ,

con lo cual  $f$  es creciente en  $(0, \infty)$ .

**Problema 12.** Analizar el comportamiento de  $f(x) = \sqrt{4 - x^2}$ .

**Solución 12. :**

■ Dominio:

$$f(x) \in \mathbb{R} \Leftrightarrow 4 - x^2 \geq 0 \Leftrightarrow x \in [-2, 2] \Leftrightarrow D(f) = [-2, 2]$$

■ Ceros:

$$f(x) = 0 \Leftrightarrow 4 - x^2 = 0 \Leftrightarrow x = -2 \vee x = 2$$

■ Signo de  $f$ :

$$f(x) \geq 0 \quad \forall x \in D(f)$$

■ Puntos críticos:

$$f'(x) = 0 \Leftrightarrow \frac{-x}{\sqrt{4-x^2}} = 0 \Leftrightarrow x = 0$$

■ Continuidad:

$f$  es continua en todo su dominio por algebra y composición de funciones continuas.

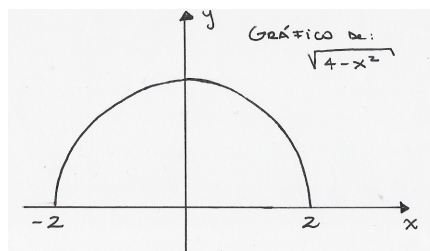
■ Crecimiento:

$f'(x) > 0$  si  $x < 0$  y  $f'(x) < 0$  si  $x > 0$ . Entonces en  $x = 0$  la función alcanza su máximo valor  $f(0) = 2$ .

■ Concavidad/Convexidad:

$f''(x) = \frac{-4}{\sqrt{(4-x^2)^3}}$ , vemos que siempre es negativa, por lo que la curva es cóncava.

■ Gráfico:



**Problema 13.** Analizar la función  $f(x) = \frac{x^3}{x^2 - x - 2}$ .

**Solución 13. :**

Escribamos  $f(x) = \frac{x^3}{(x+1)(x-2)}$

- Dominio:

$$D(f) = \mathbb{R} - \{-1, 2\}$$

- Ceros:

$$f(x) = 0 \Leftrightarrow x = 0$$

- Signos de f:

El numerador cambia de signo en  $x = 0$  y el denominador en  $x = -1$  y  $x = 2$ , y f es continua en su dominio. Calculemos los valores de f en cada subintervalo.

$(-\infty, -1)$  f es negativa ya que  $f(-2) = -2 < 0$ .

$(-1, 0)$  f es positiva ya que  $f(\frac{-1}{2}) = \frac{1}{10} > 0$ .

$(0, 2)$  f es negativa ya que  $f(1) = \frac{-1}{2} < 0$ .

$(2, \infty)$  f es positiva ya que  $f(3) = \frac{27}{4} > 0$ .

- Puntos críticos:

$$f'(x) = 0$$

$$\begin{aligned} f'(x) &= \frac{3x^2(x^2 - x - 2) - (2x - 1)x^3}{\left((x + 1)(x - 2)\right)^2} \\ &= \frac{x^4 - 2x^3 - 6x^2}{\left((x + 1)(x - 2)\right)^2} \\ &= \frac{x^2(x^2 - 2x - 6)}{\left((x + 1)(x - 2)\right)^2} \end{aligned}$$

$$\Rightarrow f'(x) = 0 \Leftrightarrow x^2(x^2 - 2x - 6) = 0 \Leftrightarrow x = 0 \text{ o } x^2 - 2x - 6 = 0$$

Resolviendo la ecuación nos queda:

$x_1 = 0, x_2 = 1 + \sqrt{7}, x_3 = 1 - \sqrt{7}$  son puntos críticos.

- Continuidad:

f es continua para todos los  $x \in \mathbb{R}$  tal que  $x \neq -1$  y  $x \neq 2$ , por composición de funciones continuas y por algebra de funciones continuas.

- Crecimiento:

$$f'(x) = \frac{x^2(x^2 - 2x - 6)}{\left((x+1)(x-2)\right)^2}$$

Los cambios dependen de  $(x^2 - 2x - 6)$ , y son en  $x_2$  y  $x_3$ . Haciendo una tabla queda:

$x$	$(-\infty, 1 - \sqrt{7})$	$(1 - \sqrt{7}, 1 + \sqrt{7})$	$(1 + \sqrt{7}, \infty)$
$f'(x)$	+	-	+
$f(x)$	$\nearrow$	$\searrow$	$\nearrow$

- Concavidad/Convexidad:

$$f''(x) = \frac{6x(x^2 + 2x + 4)}{(x+1)^3(x-2)^3}$$

Puntos de inflexión:  $f''(x) = 0 \Rightarrow x = 0$  o  $x^2 + 2x + 4 = 0$  (cuyas soluciones pertenecen a los complejos)

$(x^2 + 2x + 4)$  siempre es  $\geq 0 \Rightarrow$  el signo va a depender del denominador

$x$	$(-\infty, -1)$	$(-1, 0)$	$(0, 2)$	$(2, \infty)$
$f''(x)$	-	+	-	+
$f(x)$	$\frown$	$\smile$	$\frown$	$\smile$

Entonces  $f$  tiene un máximo en  $x = 1 - \sqrt{7}$  y un mínimo en  $x = 1 + \sqrt{7}$ .

- Asíntotas y límites complementarios:

$$\begin{aligned} m &= \lim_{x \rightarrow \infty} f'(x) \\ &= \lim_{x \rightarrow \infty} \frac{x^2(x^2 - 2x - 6)}{\left((x+1)(x-2)\right)^2} \\ &= 1 \end{aligned}$$

(se usó L'Hopital para resolver el límite).

$$\begin{aligned} n &= \lim_{x \rightarrow \infty} (f(x) - mx) \\ &= \lim_{x \rightarrow \infty} \left( \frac{x^3}{x^2 - x - 2} - x \right) \\ &= 1 \end{aligned}$$

(También se usó L'Hopital).

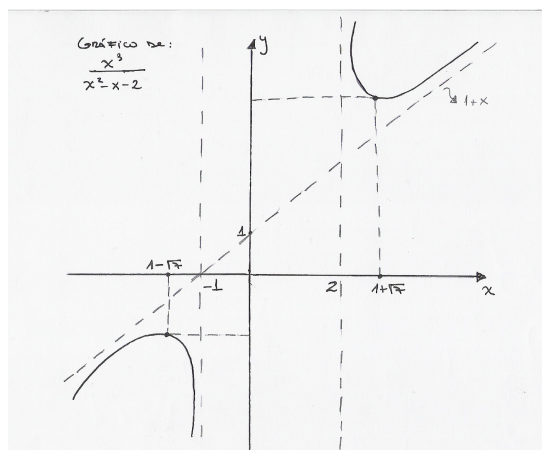
$\Rightarrow y = mx + n = x + 1$  es una asíntota oblicua.

Otros límites:

$$- \lim_{x \rightarrow -\infty} f(x) = \lim_{x \rightarrow -\infty} \frac{x^3}{x^2 - x - 2} = \lim_{x \rightarrow -\infty} \frac{3x^2}{2x - 1} = \lim_{x \rightarrow -\infty} \frac{6x}{2} = -\infty$$

$$- \lim_{x \rightarrow \infty} f(x) = \lim_{x \rightarrow \infty} \frac{x^3}{x^2 - x - 2} = \lim_{x \rightarrow \infty} \frac{3x^2}{2x - 1} = \lim_{x \rightarrow \infty} \frac{6x}{2} = \infty$$

■ Gráfico:



## 4. Clase 4

### RESUMEN:

■ Fórmula de Taylor:

Sea  $f : (a, b) \rightarrow \mathbb{R}$ . Supongamos que  $f$  es  $(n + 1)$  veces derivable en  $x_0 \in (a, b)$ . El polinomio de Taylor de orden  $n$  de  $f$  en  $x_0$  es:

$$T_n(x) = \sum_{k=0}^n c_k (x - x_0)^k, \quad c_k = \frac{f^{(k)}(x_0)}{k!}$$

El error que se comete al aproximar  $f(x)$  por  $T_n(x)$ , se llama Resto y es:

$$R_n(x) = f(x) - T_n(x) = \frac{f^{(n+1)}(\xi)}{(n+1)!} (x - x_0)^{n+1} \quad \xi \text{ entre } x_0 \text{ y } x$$



$$f(x) = T_n(x) + R_n(x) = \sum_{k=0}^n \frac{f^{(k)}(x_0)}{k!} (x - x_0)^k \Rightarrow \frac{f^{(n+1)}(\xi)}{(n+1)!} (x - x_0)^{n+1}$$

■ Derivadas n-ésimas:

Si  $f'(x)$  es la primera derivada, podemos seguir derivando en órdenes superiores una cantidad tal que la derivada de ese orden exista para la función  $f(x)$ :

$$f^{(0)} = f(x)$$

$$f^{(n)} = (f^{(n-1)}(x))'$$

Algunas derivadas n-ésimas importantes son:

$$f(x) = x^n \rightarrow f^{(n)}(x) = n!$$

$$f(x) = e^{ax} \rightarrow f^{(n)}(x) = a^n e^{ax}$$

$$f(x) = \operatorname{sen}(x) \rightarrow f^{(n)}(x) = \operatorname{sen}\left(\frac{n\pi}{2} + x\right)$$

$$f(x) = \operatorname{cos}(x) \rightarrow f^{(n)}(x) = \operatorname{cos}\left(\frac{n\pi}{2} + x\right)$$

$$f(x) = \frac{1}{x} \rightarrow f^{(n)}(x) = \frac{(-1)^n n!}{x^{n+1}}$$

Propiedades:

$$1) (f \pm g)^{(n)} = f^{(n)} \pm g^{(n)}$$

$$2) (f \cdot g)^{(n)} = \sum_{k=0}^n \binom{n}{k} f^{(n-k)}(x) g^{(k)}(x) \quad (\text{Regla de Leibnitz})$$

**Problema 14.** Analizar el comportamiento de  $f(x) = \frac{1}{\sin^3(\frac{x}{2})} + \frac{1}{\cos^3(\frac{x}{2})}$

**Solución 14. :**

Para este problema les recomiendo que grafiquen la función  $\sin(x)$  y  $\cos(x)$  juntas, ya que varios resultados son más fáciles verlos en el gráfico.

■ Dominio:

La función es de período  $4\pi$ , por lo que basta analizarla en  $[0, 4\pi]$ . Por esta razón trabajaremos en el dominio restringido:  $D(f) = [0, 4\pi] - \{0, \pi, 2\pi, 3\pi, 4\pi\}$

■ Ceros:

$$f(x) = \frac{\sin^3(\frac{x}{2}) + \cos^3(\frac{x}{2})}{\sin^3(\frac{x}{2}) \cos^3(\frac{x}{2})} = 0,$$

por tanto,  $f(x) = 0 \Leftrightarrow \sin^3(\frac{x}{2}) + \cos^3(\frac{x}{2}) = 0 \Leftrightarrow \sin(\frac{x}{2}) + \cos(\frac{x}{2}) = 0$ , pues el otro factor no tiene raíces reales. Esto implica:  $\frac{x}{2} = \frac{3\pi}{4}$  y  $\frac{x}{2} = \frac{7\pi}{4}$ , es decir,  $x = \frac{3\pi}{2}$  y  $x = \frac{7\pi}{2}$

■ Puntos críticos:

$$f'(x) = \frac{3 \sin^5(\frac{x}{2}) - \cos^5(\frac{x}{2})}{2 \sin^4(\frac{x}{2}) \cos^4(\frac{x}{2})} = 0,$$

Se anula para  $\sin(\frac{x}{2}) = \cos(\frac{x}{2})$ , es decir, para  $x = \frac{\pi}{2}$  y  $x = \frac{5\pi}{2}$

■ Crecimiento:

La derivada es positiva para los  $x$  tales que  $\sin(\frac{x}{2}) > \cos(\frac{x}{2})$ , lo que implica,  $\frac{\pi}{2} < x < \frac{5\pi}{2}$ .

$x$	$(0, \frac{\pi}{2})$	$(\frac{\pi}{2}, \pi)$	$(\pi, \frac{3\pi}{2})$	$(\frac{3\pi}{2}, 2\pi)$	$(2\pi, \frac{5\pi}{2})$	$(\frac{5\pi}{2}, 3\pi)$	$(3\pi, \frac{7\pi}{2})$	$(\frac{7\pi}{2}, 4\pi)$
$f'(x)$	-	+	+	+	+	-	-	-
$f(x)$	$\searrow$	$\nearrow$	$\nearrow$	$\nearrow$	$\nearrow$	$\searrow$	$\searrow$	$\searrow$

■ Puntos de inflexión:

$$f''(x) = \left( \frac{15 + 9 \cos(x)}{8} \right) \left[ \operatorname{cosec}^5\left(\frac{x}{2}\right) + \sec^5\left(\frac{x}{2}\right) \right],$$

el primer factor no se anula, pues si lo hiciera tendríamos  $\cos(x) = \frac{-15}{9}$ , lo que no puede ser. Por lo tanto debe anularse el segundo factor, lo que sucede cuando  $\sin(\frac{x}{2}) = -\cos(\frac{x}{2})$ , así  $\frac{x}{2} = \frac{3\pi}{4}, \frac{7\pi}{4}$  y entonces, tenemos como candidatos a puntos de inflexión  $x = \frac{3\pi}{2}, \frac{7\pi}{2}$ .

■ Concavidad/Convexidad:

Para determinar el signo de  $f''$  basta calcular la  $f''$  en algunos puntos estratégicos, como ya hemos hecho en otros problemas.

$$f''\left(\frac{5\pi}{4}\right) = -323,778 < 0$$

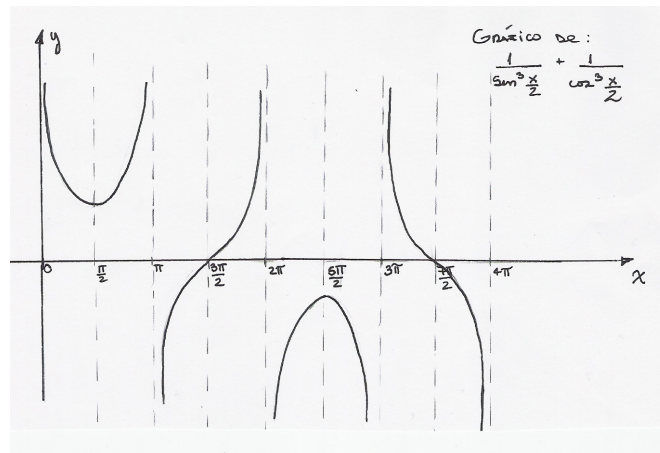
$$f''\left(\frac{7\pi}{4}\right) = 323,778 > 0$$

$$f''\left(\frac{13\pi}{4}\right) = 323,778 > 0$$

$$f''\left(\frac{15\pi}{4}\right) = -323,778 < 0.$$

Por lo tanto la función tiene: en  $(\frac{\pi}{2}, 4\sqrt{2})$  un mínimo y en  $(\frac{5\pi}{2}, -4\sqrt{2})$  un máximo. y los puntos de inflexión son:  $(\frac{3\pi}{2}, 0)$  y  $(\frac{7\pi}{2}, 0)$ .

■ Gráfico:



**Problema 15.** Determine el intervalo de números reales para que la fórmula  $\sqrt[5]{1+x} = 1 + \frac{x}{5} - \frac{2x^2}{25}$  de un resultado con 3 decimales exactos.

**Solución 15. :**

$$f(x) = \sqrt[5]{1+x} = (1+x)^{\frac{1}{5}}$$

$$f'(x) = \frac{1}{5}(1+x)^{-\frac{4}{5}}$$

$$f''(x) = \frac{-4}{25}(1+x)^{-\frac{9}{5}}$$

$$f'''(x) = \frac{36}{125}(1+x)^{-\frac{14}{5}}$$

$$\Rightarrow f(x) = f(0) + f'(0)x + f''(0)\frac{x^2}{2} + R_3(x) = 1 + \frac{x}{5} - \frac{2x^2}{25} + R_3(x)$$

$$|R_3(x)| = \left| \frac{f'''(\xi_x)(x-x_0)^3}{3!} \right|$$

En nuestro caso  $x_0 = 0$  y la tercera derivada ya la calculamos, entonces queda:

$$|R_3(x)| = \left| \frac{36}{125}(1+\xi_x)^{-\frac{14}{5}} \frac{x^3}{3!} \right| \quad \xi_x \text{ está entre } 0 \text{ y } x:$$

$$\Rightarrow |R_3(x)| = \left| \frac{6}{125}(1+\xi_x)^{-\frac{14}{5}} x^3 \right| \underbrace{\leq}_{\xi_x=0} \left| \frac{6x^3}{125} \right| < 10^{-3}$$

$$\Rightarrow |x^3| < \frac{125}{6 \cdot 10^3} = \frac{5^3}{6 \cdot 10^3} = \frac{1}{6 \cdot 2^3}$$

$$\Rightarrow |x| < \frac{1}{2 \cdot \sqrt[3]{6}}$$

**Problema 16.** Calculando la derivada n-ésima de  $x^{2n}$  de dos formas distintas, demuestre que:

$$\sum_{k=0}^n \binom{n}{k}^2 = \binom{2n}{n}$$

**Solución 16. .**

**Primera forma:** Derivemos hasta encontrar una recurrencia:

$$f(x) = x^{2n}$$

$$f'(x) = 2nx^{2n-1}$$

$$f''(x) = 2n(2n-1)x^{2n-2}$$

$\vdots$

$$f^{(k)}(x) = 2n(2n-1)(2n-2) \dots (2n-(k-1))x^{2n-k} = \frac{(2n)!}{(2n-k)!}x^{2n-k}$$

Luego para  $k = n$  tenemos:

$$f^{(n)}(x) = \frac{(2n)!}{n!}x^n$$

**Segunda forma:**  $f(x) = x^n \cdot x^n$ . Apliquemos Regla de Leibnitz

$$f^{(n)}(x) = (x^n \cdot x^n)^{(n)} = \sum_{k=0}^n \binom{n}{k} (x^n)^{(2-k)} (x^n)^{(k)}.$$

Pero tenemos que  $(x^n)^{(k)} = \frac{n!}{(n-k)!} x^{n-k}$ . Con esto la expresión anterior queda

$$f^{(n)}(x) = \sum_{k=0}^n \binom{n}{k} \cdot \frac{n!x^k}{k!} \cdot \frac{n!}{(n-k)!} \cdot x^{(n-k)} = n!x^n \sum_{k=0}^n \binom{n}{k}^2. \text{ Obtenemos}$$

$$f^{(n)}(x) = n!x^n \sum_{k=0}^n \binom{n}{k}^2$$

Ahora igualando la primera y la segunda forma de calcular la derivada n-ésima de  $x^{2n}$  obtenemos el resultado pedido.

$$\Rightarrow \sum_{k=0}^n \binom{n}{k}^2 = \binom{2n}{n}$$

### Problema 17. .

- a) Determinar el polinomio de Taylor en torno a 0 y encontrar el resto para la función  $f(x) = \ln(1+x)$ .  
b) Encontrar el error que se comete al calcular  $\ln(1,1)$  mediante  $P_3$ .

### Solución 17. :

- (a) Lo primero que debemos hacer es encontrar las derivadas  $k$ -ésimas de  $f$ , para encontrar los coeficientes  $a_k$ .

$$\begin{aligned} f'(x) &= \frac{1}{x+1} \rightarrow f'(0) = 1 = 0! \\ f''(x) &= \frac{-1}{(x+1)^2} \rightarrow f''(0) = -1 = -(1!) \\ f'''(x) &= \frac{2}{(x+1)^3} \rightarrow f'''(0) = 2 = 2! \\ f^{(iv)}(x) &= \frac{-2 \cdot 3}{(x+1)^4} \rightarrow f^{(iv)}(0) = -2 \cdot 3 = -(3!) \end{aligned}$$

$\vdots$

$$f^{(k)}(x) = \frac{(-1)^{k-1}(k-1)!}{(x+1)^k} \rightarrow f^{(k)}(0) = (-1)^{(k-1)}(k-1)!$$

Con esto,  $f$  queda de la siguiente forma:

$$f(x) = \sum_{k=0}^n \frac{(-1)^{(k-1)}(k-1)!x^k}{k!} + \frac{x^{n+1}f^{(n+1)}(\xi)}{(n+1)!} = \sum_{k=0}^n \frac{(-1)^{(k-1)}x^k}{k} + \frac{(-1)^n n!}{(1+\xi)^n} \cdot \frac{x^{n+1}}{(n+1)!}$$

- (b)  $|R_3(x)| = \left| \frac{(-1)^3 x^{3+1}}{(3+1)(1+\xi)^{3+1}} \right| = \frac{|x|^4}{4(1+\xi)^4}$ . Ahora para  $x=0,1$  tenemos:

$$|R_3(0,1)| \leq \frac{(0,1)^4}{4}$$

, pues  $\xi \in (0,0,1)$ .