


# ALGEBRA

A. BALDOR





**CONCEPTO DE NÚMERO EN LOS PUEBLOS PRIMITIVOS (25,000-5,000 A. C.)** Medir y contar fueron las primeras actividades matemáticas del hombre primitivo. Haciendo marcas en los troncos de los árboles lograban, estos primeros pueblos, la medición del tiempo y el conteo del número de animales que poseían; así surgió la Aritmética. El origen del Álgebra es posterior. Pasaron cientos de siglos para que el hombre alcanzara un concepto abstracto del número, base indispensable para la formación de la ciencia algebraica.

go y el conteo del número de animales que poseían; así surgió la Aritmética. El origen del Álgebra es posterior. Pasaron cientos de siglos para que el hombre alcanzara un concepto abstracto del número, base indispensable para la formación de la ciencia algebraica.

## PRELIMINARES

- 1 **ÁLGEBRA** es la rama de la Matemática que estudia la cantidad considerada del modo más general posible.
- 2 **CARACTER DEL ÁLGEBRA Y SU DIFERENCIA CON LA ARITMÉTICA**

El concepto de la cantidad en Álgebra es mucho más amplio que en Aritmética.

En Aritmética las cantidades se representan por números y éstos expresan valores determinados. Así, 20 expresa un solo valor: veinte; para expresar un valor mayor o menor que éste habrá que escribir un número distinto de 20.

En Álgebra, para lograr la generalización, las cantidades se representan por medio de letras, las cuales pueden representar todos los valores. Así,  $a$  representa el valor que nosotros le asignemos, y por tanto puede representar 20 o más de 20 o menos de 20, a nuestra elección, aunque conviene advertir que cuando en un problema asignamos a una letra un valor determinado, esa letra no puede representar, en el mismo problema, otro valor distinto del que le hemos asignado.

- 3 **NOTACIÓN ALGEBRAICA**

Los símbolos usados en Álgebra para representar las cantidades son los números y las letras.



Los **números** se emplean para representar cantidades conocidas y determinadas.

Las **letras** se emplean para representar toda clase de cantidades, ya sean conocidas o desconocidas.

Las **cantidades conocidas** se expresan por las primeras letras del alfabeto:  $a, b, c, d, \dots$

Las **cantidades desconocidas** se representan por las últimas letras del alfabeto:  $u, v, w, x, y, z$ .

Una misma letra puede representar distintos valores diferenciándolos por medio de comillas; por ejemplo:  $a', a'', a'''$ , que se leen a prima, a segunda, a tercera, o también por medio de subíndices; por ejemplo:  $a_1, a_2, a_3$ , que se leen a subuno, a subdos, a subtres.

#### 4 FORMULAS

Consecuencia de la generalización que implica la representación de las cantidades por medio de letras son las **fórmulas algebraicas**.

**Fórmula algebraica** es la representación, por medio de letras, de una regla o de un principio general.

Así, la Geometría enseña que el área de un rectángulo es igual al producto de su base por su altura; luego, llamando  $A$  al área del rectángulo,  $b$  a la base y  $h$  a la altura, la fórmula

$$A = b \times h$$

representará de un modo general el área de cualquier rectángulo, pues el área de un rectángulo dado se obtendrá con sólo sustituir  $b$  y  $h$  en la fórmula anterior por sus valores en el caso dado. Así, si la base de un rectángulo es 3 m. y su altura 2 m., su área será:

$$A = b \times h = 3 \text{ m.} \times 2 \text{ m.} = 6 \text{ m.}^2.$$

El área de otro rectángulo cuya base fuera 8 m. y su altura  $3\frac{1}{2}$  m. sería:

$$A = b \times h = 8 \text{ m.} \times 3\frac{1}{2} \text{ m.} = 28 \text{ m.}^2. ( )$$

#### 5 SIGNOS DEL ALGEBRA

Los signos empleados en Algebra son de tres clases: Signos de Operación, Signos de Relación y Signos de Agrupación.

#### 6 SIGNOS DE OPERACION

En Algebra se verifican con las cantidades las mismas operaciones que en Aritmética: Suma, Resta, Multiplicación, División, Elevación a Potencias y Extracción de Raíces, que se indican con los signos siguientes:

El **Signo de la Suma** es  $+$ , que se lee **más**. Así  $a + b$  se lee "a más b".

( ) En el Cap. XVIII, página 270, se estudia ampliamente todo lo relacionado con las fórmulas algebraicas.

El **Signo de la Resta** es  $-$ , que se lee **menos**. Así,  $a - b$  se lee "a menos b".

El **Signo de la Multiplicación** es  $\times$ , que se lee **multiplicado por**. Así,  $a \times b$  se lee "a multiplicado por b".

En lugar del signo  $\times$  suele emplearse un **punto** entre los factores y también se indica la multiplicación colocando los factores entre paréntesis. Así,  $a.b$  y  $(a)(b)$  equivalen a  $a \times b$ .

Entre factores literales o entre un factor numérico y uno literal el signo de multiplicación suele omitirse. Así  $abc$  equivale a  $a \times b \times c$ ;  $5xy$  equivale a  $5 \times x \times y$ .

El **Signo de la División** es  $\div$ , que se lee **dividido entre**. Así,  $a \div b$  se lee "a dividido entre b". También se indica la división separando el dividendo y el divisor por una raya horizontal. Así,  $\frac{m}{n}$  equivale a  $m \div n$ .

El **Signo de la Elevación a Potencia** es el exponente, que es un número pequeño colocado arriba y a la derecha de una cantidad, el cual indica las veces que dicha cantidad, llamada base, se toma como factor. Así,

$$a^3 = aaa; b^4 = bbbb$$

Cuando una letra **no tiene exponente**, su exponente es la **unidad**. Así,  $a$  equivale a  $a^1$ ;  $m \times n$  equivale a  $m^1 n^1$ .

El **Signo de Raíz** es  $\sqrt{\quad}$ , llamado **signo radical**, y bajo este signo se coloca la cantidad a la cual se le extrae la raíz. Así,  $\sqrt{a}$  equivale a raíz cuadrada de  $a$ , o sea, la cantidad que elevada al cuadrado reproduce la cantidad  $a$ ;  $\sqrt[3]{b}$  equivale a raíz cúbica de  $b$ , o sea la cantidad que elevada al cubo reproduce la cantidad  $b$ .

#### 7 COEFICIENTE

En el producto de dos factores, cualquiera de los factores es llamado **coeficiente** del otro factor.

Así, en el producto  $3a$  el factor 3 es coeficiente del factor  $a$  e indica que el factor  $a$  se toma como sumando tres veces, o sea  $3a = a + a + a$ ; en el producto  $5b$ , el factor 5 es coeficiente de  $b$  e indica que  $5b = b + b + b + b + b$ . Estos son **coeficientes numéricos**.

En el producto  $ab$ , el factor  $a$  es coeficiente del factor  $b$ , e indica que el factor  $b$  se toma como sumando  $a$  veces, o sea  $ab = b + b + b + b \dots a$  veces. Este es un **coeficiente literal**.

En el producto de más de dos factores, uno o varios de ellos son el coeficiente de los restantes. Así, en el producto  $abcd$ ,  $a$  es el coeficiente de  $bcd$ ;  $ab$  es el coeficiente de  $cd$ ;  $abc$  es el coeficiente de  $d$ .

Cuando una cantidad **no tiene coeficiente numérico**, su coeficiente es la **unidad**. Así,  $b$  equivale a  $1b$ ;  $abc$  equivale a  $1abc$ .



**8 SIGNOS DE RELACION**

Se emplean estos signos para indicar la relación que existe entre dos cantidades. Los principales son:

=, que se lee **igual a**. Así,  $a = b$  se lee "a igual a b".

>, que se lee **mayor que**. Así,  $x + y > m$  se lee "x + y mayor que m".

<, que se lee **menor que**. Así,  $a < b + c$  se lee "a menor que b + c".

**9 SIGNOS DE AGRUPACION**

Los signos de agrupación son: el **paréntesis ordinario** ( ), el **paréntesis angular o corchete** [ ], las **llaves** { } y la **barra o vínculo** —.

Estos signos indican que la operación colocada entre ellos debe efectuarse primero. Así,  $(a + b)c$  indica que el resultado de la suma de a y b debe multiplicarse por c;  $[a - b]m$  indica que la diferencia entre a y b debe multiplicarse por m;  $\{a + b\} \div \{c - d\}$  indica que la suma de a y b debe dividirse entre la diferencia de c y d.

**10 MODO DE RESOLVER LOS PROBLEMAS EN ARITMETICA Y EN ALGEBRA**

Exponemos a continuación un ejemplo para hacer notar la diferencia entre el método aritmético y el algebraico en la resolución de problemas, fundado este último en la notación algebraica y en la generalización que ésta implica.

Las edades de A y B suman 48 años. Si la edad de B es 5 veces la edad de A, ¿qué edad tiene cada uno?

**METODO ARITMETICO**

Edad de A más edad de B = 48 años.

Como la edad de B es 5 veces la de A, tendremos:

Edad de A más 5 veces la edad de A = 48 años.

O sea, 6 veces la edad de A = 48 años;

luego,

Edad de A = 8 años. R.

Edad de B = 8 años  $\times$  5 = 40 años. R.

**METODO ALGEBRAICO**

Como la edad de A es una cantidad desconocida la represento por x.

Sea  $x$  = edad de A.

Entonces  $5x$  = edad de B.

Como ambas edades suman 48 años, tendremos:

$x + 5x = 48$  años;

$6x = 48$  años.

O sea,

Si 6 veces x equivale a 48 años, x valdrá la sexta parte de 48 años,

o sea

$x = 8$  años, edad de A. R.

Entonces

$5x = 8 \text{ años} \times 5 = 40$  años, edad de B. R.

**11 CANTIDADES POSITIVAS Y NEGATIVAS**

En Algebra, cuando se estudian cantidades que pueden tomarse en dos sentidos opuestos o que son de condición o de modo de ser opuestos, se expresa el sentido, condición o modo de ser (valor relativo) de la cantidad por medio de los signos + y -, anteponiendo el signo + a las cantidades tomadas en un sentido determinado (cantidades positivas) y anteponiendo el signo - a las cantidades tomadas en sentido opuesto al anterior (cantidades negativas).

Así, el haber se designa con el signo + y las deudas con el signo -. Para expresar que una persona tiene \$100 de haber, diremos que tiene + \$100, y para expresar que debe \$100, diremos que tiene - \$100.

Los grados sobre cero del termómetro se designan con el signo + y los grados bajo cero con el signo -. Así, para indicar que el termómetro marca 10° sobre cero escribiremos +10° y para indicar que marca 8° bajo cero escribiremos -8°.

El camino recorrido a la derecha o hacia arriba de un punto se designa con el signo + y el camino recorrido a la izquierda o hacia abajo de un punto se representa con el signo -. Así, si hemos recorrido 200 m. a la derecha de un punto dado, diremos que hemos recorrido +200 m., y si recorremos 300 m. a la izquierda de un punto escribiremos -300 m.

El tiempo transcurrido después de Cristo se considera positivo y el tiempo transcurrido antes de Cristo, negativo. Así, +150 años significa 150 años D. C. y -78 años significa 78 años A. C.

En un poste introducido en el suelo, representamos con el signo + la porción que se halla del suelo hacia arriba y con el signo - la porción que se halla del suelo hacia abajo. Así, para expresar que la longitud del poste que se halla del suelo hacia arriba mide 15 m., escribiremos +15 m., y si la porción introducida en el suelo es de 8 m., escribiremos -8 m.

La latitud norte se designa con el signo + y la latitud sur con el signo -; la longitud este se considera positiva y la longitud oeste, negativa. Por lo tanto, un punto de la Tierra cuya situación geográfica sea: +45° de longitud y -15° de latitud se hallará a 45° al este del primer meridiano y a 15° bajo el Ecuador.

**12 ELECCION DEL SENTIDO POSITIVO**

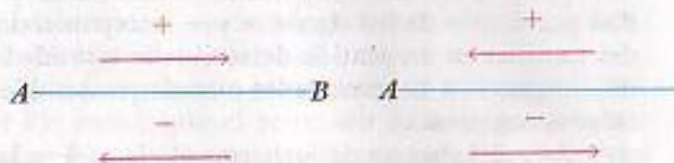
La fijación del sentido positivo en cantidades que pueden tomarse en dos sentidos opuestos es arbitraria, depende de nuestra voluntad; es decir,



que podemos tomar como sentido positivo el que queramos; pero una vez fijado el sentido positivo, el sentido opuesto a éste será el negativo.

Así, si tomamos como sentido positivo el camino recorrido a la derecha de un punto, el camino recorrido a la izquierda de ese punto será negativo, pero nada nos impide tomar como positivo el camino recorrido a la izquierda del punto y entonces el camino recorrido a la derecha del punto sería negativo.

Así, si sobre el segmento  $AB$  tomamos como positivo el sentido de  $A$  hacia  $B$ , el sentido de  $B$  hacia  $A$  sería negativo, pero si fijamos como sentido positivo de  $B$  hacia  $A$ , el sentido de  $A$  hacia  $B$  sería negativo.



No obstante, en la práctica se aceptan generalmente los sentidos positivos de que se trató en el número anterior.

**13 CERO** es la ausencia de cantidad. Así, representar el estado económico de una persona por 0 equivale a decir que no tiene haber ni deudas.

Las cantidades positivas son mayores que 0 y las negativas menores que 0. Así,  $+3$  es una cantidad que es tres unidades mayor que 0;  $+5$  es una cantidad que es cinco unidades mayor que 0, mientras que  $-3$  es una cantidad que es tres unidades menor que 0 y  $-5$  es una cantidad que es cinco unidades menor que 0.

De dos cantidades positivas, es mayor la de mayor valor absoluto; así,  $+5$  es mayor que  $+3$ , mientras que de dos cantidades negativas es mayor la de menor valor absoluto:  $-3$  es mayor que  $-5$ ;  $-9$  es menor que  $-4$ .

### EJERCICIOS SOBRE CANTIDADES POSITIVAS Y NEGATIVAS

1) Un hombre cobra \$130. Paga una deuda de \$80 y luego hace compras por valor de \$95. ¿Cuánto tiene?

Teniendo \$130, pagó \$80; luego, se quedó con \$50. Después hace un gasto de \$95 y como sólo tiene \$50 incurre en una deuda de \$45. Por lo tanto, tiene actualmente  $-\$45$ . R.

### EJERCICIO 1

- Pedro debía 60 bolívares y recibió 320. Expresar su estado económico.
- Un hombre que tenía 1170 sucres hizo una compra por valor de 1515. Expresar su estado económico.
- Tenía \$200. Cobré \$56 y pagué deudas por \$189. ¿Cuánto tengo?

- Compro ropas por valor de 665 soles y alimentos por 1178. Si después recibo 2280, ¿cuál es mi estado económico?
- Tenía \$20. Pagué \$15 que debía, después cobré \$40 y luego hice gastos por \$75. ¿Cuánto tengo?
- Enrique hace una compra por \$67; después recibe \$72; luego hace otra compra por \$16 y después recibe \$2. Expresar su estado económico.
- Después de recibir 200 colones hago tres gastos por 78, 81 y 93. Recibo entonces 41 y luego hago un nuevo gasto por 59. ¿Cuánto tengo?
- Pedro tenía tres deudas de \$45, \$66 y \$79 respectivamente. Entonces recibe \$200 y hace un gasto de \$10. ¿Cuánto tiene?

2) A las 6 a. m. el termómetro marca  $-4^\circ$ . A las 9 a. m. ha subido  $7^\circ$  y desde esta hora hasta las 5 p. m. ha bajado  $11^\circ$ . Expresar la temperatura a las 5 p. m.

A las 6 a. m. marca  $-4^\circ$ . Como a las 9 a. m. ha subido  $7^\circ$ , contamos siete divisiones de la escala desde  $-4^\circ$  hacia arriba y tendremos  $3^\circ$  sobre cero ( $+3^\circ$ ); como desde esta hora hasta las 5 p. m. ha bajado  $11^\circ$ , contando 11 divisiones de la escala desde  $+3^\circ$  hacia abajo llegaremos a  $-8^\circ$ . Luego, a las 5 p. m. la temperatura es de  $-8^\circ$ . R.

### EJERCICIO 2

- A las 9 a. m. el termómetro marca  $+12^\circ$  y de esta hora a las 8 p. m. ha bajado  $15^\circ$ . Expresar la temperatura a las 8 p. m.
- A las 6 a. m. el termómetro marca  $-3^\circ$ . A las 10 a. m. la temperatura es  $8^\circ$  más alta y desde esta hora hasta las 9 p. m. ha bajado  $6^\circ$ . Expresar la temperatura a las 9 p. m.
- A las 1 p. m. el termómetro marca  $+15^\circ$  y a las 10 p. m. marca  $-3^\circ$ . ¿Cuántos grados ha bajado la temperatura?
- A las 3 a. m. el termómetro marca  $-8^\circ$  y al mediodía  $+5^\circ$ . ¿Cuántos grados ha subido la temperatura?
- A las 8 a. m. el termómetro marca  $-4^\circ$ ; a las 9 a. m. ha subido  $7^\circ$ ; a las 4 p. m. ha subido  $2^\circ$  más y a las 11 p. m. ha bajado  $11^\circ$ . Expresar la temperatura a las 11 p. m.
- A las 6 a. m. el termómetro marca  $-8^\circ$ . De las 6 a. m. a las 11 a. m. sube a razón de  $4^\circ$  por hora. Expresar la temperatura a las 7 a. m., a las 8 a. m. y a las 11 a. m.
- A las 8 a. m. el termómetro marca  $-1^\circ$ . De las 8 a. m. a las 11 a. m. baja a razón de  $2^\circ$  por hora y de 11 a. m. a 2 p. m. sube a razón de  $3^\circ$  por hora. Expresar la temperatura a las 10 a. m., a las 11 a. m., a las 12 a. m. y a las 2 p. m.
- El día 10 de diciembre un barco se halla a  $56^\circ$  al oeste del primer meridiano. Del día 10 al 18 recorre  $7^\circ$  hacia el este. Expresar su longitud este día.
- El día primero de febrero la situación de un barco es:  $71^\circ$  de longitud oeste y  $15^\circ$  de latitud sur. Del día primero al 26 ha recorrido  $5^\circ$  hacia el este y su latitud es entonces de  $5^\circ$  más al sur. Expresar su situación el día 26.



10. El día 5 de mayo la situación de un viajero es  $18^\circ$  de longitud este y  $65^\circ$  de latitud norte. Del día 5 al 31 ha recorrido  $3^\circ$  hacia el este y se ha acercado  $4^\circ$  al Ecuador. Expresar su situación el día 31.
11. Una ciudad fundada el año 75 A.C. fue destruida 135 años después. Expresar la fecha de su destrucción.

3) Un móvil recorre 40 m. en línea recta a la derecha de un punto A y luego retrocede en la misma dirección a razón de 15 m. por segundo. Expresar a qué distancia se halla del punto A al cabo del  $1^\circ$ ,  $2^\circ$ ,  $3^\circ$  y  $4^\circ$  segundo.

El móvil ha recorrido 40 m. a la derecha del punto A; luego, su posición es + 40 m., tomando como positivo el sentido de izquierda a derecha.

Entonces empieza a moverse de la derecha hacia la izquierda (sentido negativo) a razón de 15 m. por segundo; luego, en el primer segundo se acerca 15 m. al punto A y como estaba a 40 m. de ese punto, se halla a  $40 - 15 = 25$  m. a la derecha de A; luego, su posición es + 25 m. R.

En el  $2^\circ$  segundo se acerca otros 15 m. al punto A; luego, se hallará a  $25 - 15 = 10$  m. a la derecha de A; su posición ahora es + 10 m. R.

En el  $3^\circ$  segundo recorre otros 15 m. hacia A, y como estaba a 10 m. a la derecha de A, habrá llegado al punto A (con 10 m.) y recorrido 5 m. a la izquierda de A, es decir,  $10 - 15 = -5$  m. Su posición ahora es -5 m. R.

En el  $4^\circ$  segundo recorre otros 15 m. más hacia la izquierda y como ya estaba a 5 m. a la izquierda de A, se hallará al cabo del  $4^\circ$  segundo a 20 m. a la izquierda de A, o sea  $-5 - 15 = -20$  m.; luego, su posición ahora es -20 m. R.

### ■ EJERCICIO 3

(SENTIDO POSITIVO: DE IZQUIERDA A DERECHA Y DE ABAJO A ARRIBA).

1. Expresar que un móvil se halla a 32 m. a la derecha del punto A; a 16 m. a la izquierda de A.
2. Expresar que la parte de un poste que sobresale del suelo es 10 m. y tiene enterrados 4 m.
3. Después de caminar 50 m. a la derecha del punto A recorro 85 m. en sentido contrario. ¿A qué distancia me hallo ahora de A?
4. Si corro a la izquierda del punto B a razón de 6 m. por segundo, ¿a qué distancia de B me hallaré al cabo de 11 segs.?
5. Dos corredores parten del punto A en sentidos opuestos. El que corre hacia la izquierda de A va a 8 m. por seg. y el que corre hacia la derecha va a 9 m. por seg. Expresar sus distancias del punto A al cabo de 6 seg.
6. Partiendo de la línea de salida hacia la derecha un corredor da dos vueltas a una pista de 400 m. de longitud. Si yo parto del mismo punto y doy 3 vueltas a la pista en sentido contrario, ¿qué distancia hemos recorrido?
7. Un poste de 40 pies de longitud tenía 15 pies sobre el suelo. Días después se introdujeron 3 pies más. Expresar la parte que sobresale y la enterrada.

8. Un móvil recorre 55 m. a la derecha del punto A y luego en la misma dirección retrocede 52 m. ¿A qué distancia se halla de A?
9. Un móvil recorre 32 m. a la izquierda del punto A y luego retrocede en la misma dirección 15 m. ¿A qué distancia se halla de A?
10. Un móvil recorre 35 m. a la derecha de B y luego retrocede en la misma dirección 47 m. ¿A qué distancia se halla de B?
11. Un móvil recorre 39 m. a la izquierda de M y luego retrocede en la misma dirección 56 m. ¿A qué distancia se halla de M?
12. A partir del punto B una persona recorre 90 m. a la derecha y retrocede, en la misma dirección, primero 58 m. y luego 36 m. ¿A qué distancia se halla de B?
13. Un móvil recorre 72 m. a la derecha de A y entonces empieza a retroceder en la misma dirección, a razón de 30 m. por seg. Expresar su distancia del punto A al cabo del  $1^\circ$ ,  $2^\circ$ ,  $3^\circ$  y  $4^\circ$  seg.
14. Un auto recorre 120 Km. a la izquierda del punto M y luego retrocede a razón de 60 Km. por hora. ¿A qué distancia se halla del punto M al cabo de la  $1^\circ$ ,  $2^\circ$ ,  $3^\circ$  y  $4^\circ$  hora?

### 14 VALOR ABSOLUTO Y RELATIVO

Valor absoluto de una cantidad es el número que representa la cantidad prescindiendo del signo o sentido de la cantidad, y valor relativo es el sentido de la cantidad, representado por el signo.

Así, el valor absoluto de +\$8 es \$8, y el valor relativo haber, expresado por el signo +; el valor absoluto de -\$20 es \$20, y el valor relativo deuda, expresado por el signo -.

Las cantidades  $+7^\circ$  y  $-7^\circ$  tienen el mismo valor absoluto, pero su valor relativo es opuesto, pues el primero expresa grados sobre cero y el segundo bajo cero;  $-8^\circ$  y  $-11^\circ$  tienen el mismo valor relativo (grados bajo cero) y distinto valor absoluto.

El valor absoluto de una cantidad algebraica cualquiera se representa colocando el número que corresponda a dicho valor entre dos líneas verticales. Así, el valor absoluto de +8 se representa  $|8|$ .

### 15 CANTIDADES ARITMETICAS Y ALGEBRAICAS

De lo expuesto anteriormente se deduce la diferencia entre cantidades aritméticas y algebraicas.

**Cantidades aritméticas** son las que expresan solamente el valor absoluto de las cantidades representado por los números, pero no nos dicen el sentido o valor relativo de las cantidades.

Así, cuando en Aritmética escribimos que una persona tiene \$5, tenemos solamente la idea del valor absoluto \$5 de esta cantidad, pero con esto no sabemos si la persona tiene \$5 de haber o de deuda. Escribiendo que el termómetro marca  $8^\circ$ , no sabemos si son sobre cero o bajo cero.



**Cantidades algebraicas** son las que expresan el valor absoluto de las cantidades y además su sentido o valor relativo por medio del signo.

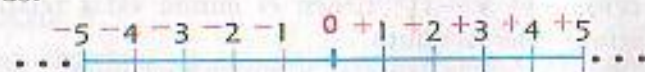
Así, escribiendo que una persona tiene +\$5 expresamos el valor absoluto \$5 y el sentido o valor relativo (haber) expresado por el signo +; escribiendo -\$8 expresamos el valor absoluto \$8 y el sentido o valor relativo (deuda) expresado por el signo -; escribiendo que el termómetro marca +8° tenemos el valor absoluto 8° y el valor relativo (sobre cero) expresado por el signo +, y escribiendo -9° tenemos el valor absoluto 9° y el valor relativo (bajo cero) expresado por el signo -.

Los signos + y - tienen en Algebra dos aplicaciones: una, indicar las operaciones de suma y resta, y otra, indicar el sentido o condición de las cantidades.

Esta doble aplicación se distingue porque cuando los signos + o - tienen la significación de suma o resta, van entre términos o expresiones incluidas en paréntesis, como por ejemplo en  $(+8) + (-4)$  y en  $(-7) - (+6)$ . Cuando van precediendo a un término, ya sea literal o numérico, expresan el sentido positivo o negativo, como por ejemplo en  $-a$ ,  $+b$ ,  $+7$ ,  $-8$ .

## 16 REPRESENTACION GRAFICA DE LA SERIE ALGEBRAICA DE LOS NUMEROS

Teniendo en cuenta que el 0 en Algebra es la ausencia de la cantidad, que las cantidades positivas son mayores que 0 y las negativas menores que 0, y que las distancias medidas hacia la derecha o hacia arriba de un punto se consideran positivas y hacia la izquierda o hacia abajo de un punto negativas, la serie algebraica de los números se puede representar de este modo:



## NOMENCLATURA ALGEBRAICA

**17 EXPRESION ALGEBRAICA** es la representación de un símbolo algebraico o de una o más operaciones algebraicas.

### Ejemplos

$$a, 5x, \sqrt{4a}, (a+b)c, \frac{(5x-3y)a}{x^2}$$

**18 TERMINO** es una expresión algebraica que consta de un solo símbolo o de varios símbolos no separados entre sí por el signo + o -. Así,  $a$ ,  $3b$ ,  $2xy$ ,  $\frac{4a}{3x}$  son términos.

Los elementos de un término son cuatro: el signo, el coeficiente, la parte literal y el grado.

Por el signo, son términos positivos los que van precedidos del signo + y negativos los que van precedidos del signo -. Así,  $+a$ ,  $+8x$ ,  $+9ab$  son términos positivos y  $-x$ ,  $-5bc$  y  $-\frac{3a}{2b}$  son términos negativos.

El signo + suele omitirse delante de los términos positivos. Así,  $a$  equivale a  $+a$ ;  $3ab$  equivale a  $+3ab$ .

Por tanto, cuando un término no va precedido de ningún signo es positivo.

El coeficiente, como se dijo antes, es uno cualquiera, generalmente el primero, de los factores del término. Así, en el término  $5a$  el coeficiente es 5; en  $-3a^2x^3$  el coeficiente es -3.

La parte literal la constituyen las letras que haya en el término. Así, en  $5xy$  la parte literal es  $xy$ ; en  $\frac{3x^3y^4}{2ab}$  la parte literal es  $\frac{x^3y^4}{ab}$ .

**19 EL GRADO DE UN TERMINO** puede ser de dos clases: absoluto y con relación a una letra.

Grado absoluto de un término es la suma de los exponentes de sus factores literales. Así, el término  $4a$  es de primer grado porque el exponente del factor literal  $a$  es 1; el término  $ab$  es de segundo grado porque la suma de los exponentes de sus factores literales es  $1+1=2$ ; el término  $a^2b$  es de tercer grado porque la suma de los exponentes de sus factores literales es  $2+1=3$ ;  $5a^4b^3c^2$  es de noveno grado porque la suma de los exponentes de sus factores literales es  $4+3+2=9$ .

El grado de un término con relación a una letra es el exponente de dicha letra. Así el término  $bx^3$  es de primer grado con relación a  $b$  y de tercer grado con relación a  $x$ ;  $4x^2y^4$  es de segundo grado con relación a  $x$  y de cuarto grado con relación a  $y$ .

## 20 CLASES DE TERMINOS

Término entero es el que no tiene denominador literal como  $5a$ ,  $6a^4b^3$ ,  $\frac{2a}{5}$ .

Término fraccionario es el que tiene denominador literal como  $\frac{3a}{b}$ .

Término racional es el que no tiene radical, como los ejemplos anteriores, e irracional el que tiene radical, como  $\sqrt{ab}$ ,  $\frac{3b}{\sqrt[3]{2a}}$ .

Términos homogéneos son los que tienen el mismo grado absoluto. Así,  $4x^2y$  y  $6x^2y^3$  son homogéneos porque ambos son de quinto grado absoluto.

Términos heterogéneos son los de distinto grado absoluto, como  $5a$ , que es de primer grado, y  $3a^2$ , que es de segundo grado.



## EJERCICIO 4

1. Digase qué clase de términos son los siguientes atendiendo al signo, a si tienen o no denominador y a si tienen o no radical:

$$5a^2, -4a^2b, \frac{2a}{3}, -\frac{5b^2}{6}, \sqrt{a}, -\sqrt[3]{5b^2}, \frac{\sqrt{a}}{6}, -\frac{4a^2b^3}{\sqrt{6a}}$$

2. Digase el grado absoluto de los términos siguientes:

$$5a, -6a^2b, a^2b^2, -5a^2b^4c, 8x^2y^2, 4m^2n^3, -xyz^5$$

3. Digase el grado de los términos siguientes respecto a cada uno de sus factores literales:

$$-a^2b^2, -5x^4y^3, 6a^2bx^3, -4abcy^2, 10m^2n^3b^4c^5$$

4. De los términos siguientes escoger cuatro que sean homogéneos y tres heterogéneos:

$$-4a^2b^2, 6ab^3, -x^5, 6x^4y, -2a^2x^4, -ab^3, 4abcx^2, -2ac$$

5. Escribir tres términos enteros; dos fraccionarios; dos positivos, enteros y racionales; tres negativos, fraccionarios e irracionales.

6. Escribir un término de cada uno de los grados absolutos siguientes: de tercer grado, de quinto grado, de undécimo grado, de décimo quinto grado, de vigésimo grado.

7. Escribir un término de dos factores literales que sea de cuarto grado con relación a la  $x$ ; otro de cuatro factores literales que sea de séptimo grado con relación a la  $y$ ; otro de cinco factores literales que sea de décimo grado con relación a la  $b$ .

## CLASIFICACION DE LAS EXPRESIONES ALGEBRAICAS

- 21 **MONOMIO** es una expresión algebraica que consta de un solo término, como

$$3a, -5b, \frac{x^2y}{4a^2}$$

- 22 **POLINOMIO** es una expresión algebraica que consta de más de un término, como  $a + b$ ,  $a + x - y$ ,  $x^3 + 2x^2 + x + 7$ .

**Binomio** es un polinomio que consta de dos términos, como:

$$a + b, x - y, \frac{a^2}{3} - \frac{5mx^4}{6b^2}$$

**Trinomio** es un polinomio que consta de tres términos, como

$$a + b + c, x^2 - 5x + 6, 5x^2 - 6y^3 + \frac{a^2}{3}$$

- 23 **EL GRADO** de un polinomio puede ser absoluto y con relación a una letra.

**Grado absoluto** de un polinomio es el grado de su término de mayor grado. Así, en el polinomio  $x^4 - 5x^2 + x^2 - 3x$  el primer término es de cuarto grado; el segundo, de tercer grado; el tercero, de segundo grado, y el último, de primer grado; luego, el grado absoluto del polinomio es el cuarto.

**Grado de un polinomio con relación a una letra** es el mayor exponente de dicha letra en el polinomio. Así, el polinomio  $a^6 + a^4x^2 - a^2x^4$  es de sexto grado con relación a la  $a$  y de cuarto grado con relación a la  $x$ .

## EJERCICIO 5

1. Digase el grado absoluto de los siguientes polinomios:

a)  $x^2 + x^2 + x$ .

c)  $a^3b - a^2b^2 + ab^3 - b^4$ .

b)  $5a - 3a^2 + 4a^4 - 6$ .

d)  $x^5 - 6x^4y^3 - 4a^2b + x^2y^4 - 3y^6$ .

2. Digase el grado de los siguientes polinomios con relación a cada una de sus letras:

a)  $a^3 + a^2 - ab^3$ .

c)  $6a^4b^7 - 4a^2x + ab^3 - 5a^3b^8x^6$ .

b)  $x^4 + 4x^3 - 6x^2y^4 - 4xy^5$ .

d)  $m^4n^2 - mn^3 + mx^4y^3 - x^8 + y^{15} - m^{11}$ .

## 24 CLASES DE POLINOMIOS

Un polinomio es **entero** cuando ninguno de sus términos tiene denominador literal como  $x^2 + 5x - 6$ ;  $\frac{x^2}{2} - \frac{x}{3} + \frac{1}{5}$ ; **fraccionario** cuando alguno

de sus términos tiene letras en el denominador como  $\frac{a^2}{b} + \frac{b}{c} - 8$ ; **racional** cuando no contiene radicales, como en los ejemplos anteriores; **irrational** cuando contiene radical, como  $\sqrt{a} + \sqrt{b} - \sqrt{c} - \sqrt{abc}$ ; **homogéneo** cuando todos sus términos son del mismo grado absoluto, como  $4a^3 + 5a^2b + 6ab^2 + b^3$ , y **heterogéneo** cuando sus términos no son del mismo grado, como  $x^3 + x^2 + x - 6$ .

**Polinomio completo** con relación a una letra es el que contiene todos los exponentes sucesivos de dicha letra, desde el más alto al más bajo que tenga dicha letra en el polinomio. Así, el polinomio  $x^5 + x^4 - x^3 + x^2 - 3x$  es completo respecto de la  $x$ , porque contiene todos los exponentes sucesivos de la  $x$  desde el más alto 5, hasta el más bajo 1, o sea 5, 4, 3, 2, 1; el polinomio  $a^4 - a^3b + a^2b^2 - ab^3 + b^4$  es completo respecto de  $a$  y  $b$ .

**Polinomio ordenado** con respecto a una letra es un polinomio en el cual los exponentes de una letra escogida, llamada **letra ordenatriz**, van aumentando o disminuyendo.

Así, el polinomio  $x^4 - 4x^3 + 2x^2 - 5x + 8$  está ordenado en orden descendente con relación a la letra ordenatriz  $x$ ; el polinomio  $a^5 - 2a^4b + 6a^3b^2 - 5a^2b^3 + 3ab^4 - b^5$  está ordenado en orden descendente respecto de la letra ordenatriz  $a$  y en orden ascendente respecto de la letra ordenatriz  $b$ .

- 25 **Ordenar un polinomio** es escribir sus términos de modo que los exponentes de una letra escogida como letra ordenatriz queden en orden descendente o ascendente. Así, ordenar el polinomio  $-5x^5 + x^6 - 3x + x^4 - x^2 + 6$  en orden descendente con relación a  $x$  será escribir  $x^6 + x^4 - 5x^5 - x^2 - 3x + 6$ .

Ordenar el polinomio  $x^4y - 7x^2y^3 - 5x^6 + 6xy^4 + y^5 - x^3y^2$  en orden ascendente con relación a  $x$  será escribirlo:

$$y^5 + 6xy^4 - 7x^2y^3 - x^3y^2 + x^4y - 5x^6$$



**26** Término independiente de un polinomio con relación a una letra es el término que no tiene dicha letra.

Así, en el polinomio  $a^3 - a^2 + 3a - 5$  el término independiente con relación a la  $a$  es 5 porque no tiene  $a$ ; en  $x^4 - 6x^3 + 8x^2 - 9x + 20$  el término independiente es 20; en  $a^3 - a^2b + 3ab^2 + b^3$  el término independiente con relación a la  $a$  es  $b^3$ , y el término independiente con relación a la  $b$  es  $a^3$ . El término independiente con relación a una letra puede considerarse que tiene esa letra con exponente cero, porque como se verá más adelante, toda cantidad elevada a cero equivale a 1.

Así, en el primer ejemplo anterior,  $-5$  equivale a  $-5a^0$ , y en el último ejemplo,  $b^3$  equivale a  $a^0b^3$ .

### EJERCICIO 6

1. Atendiendo a si tienen o no denominador literal y a si tienen o no radical, dígame de qué clase son los polinomios siguientes:

a)  $a^3 + 2a^2 - 3a$ , c)  $\sqrt{a} + \sqrt{b} - 2c + \sqrt{d}$ .

b)  $\frac{a^4}{2} - \frac{a^3}{3} + \frac{a^2}{2} - a$ , d)  $4a + \frac{\sqrt{a}}{2} - 6b + 4$ .

2. Escribir un polinomio de tercer grado absoluto; de quinto grado absoluto; de octavo grado absoluto; de décimoquinto grado absoluto.

3. Escribir un trinomio de segundo grado respecto de la  $x$ ; un polinomio de quinto grado respecto de la  $a$ ; un polinomio de noveno grado respecto de la  $m$ .

4. De los siguientes polinomios:

a)  $3a^2b + 4a^3 - 5b^3$ , d)  $4a - 5b + 6c^2 - 8d^3 - 6$ ,  
b)  $a^4 - a^3b + a^2b^2 + ab^3$ , e)  $y^5 - ay^4 + a^2y^3 - a^3y^2 - a^4y + y^5$ ,  
c)  $x^2 - bx^4 + abx^3 + ab^2x^2$ , f)  $-6a^2b^4 - 5a^4b + 8a^2b^3 - b^7$ .

escoger dos que sean homogéneos y dos heterogéneos.

5. De los siguientes polinomios:

a)  $a^4 - a^2 + a - a^3$ , d)  $m^3 - m^4 + m^3 - m + 5$ ,  
b)  $5x^4 - 8x^2 + x - 6$ , e)  $y^5 - by^4 + b^2y^3 - b^3y^2 + b^4y$ ,  
c)  $x^4y - x^3y^2 + x^2y^3 - y^4$ .

digase cuáles son completos y respecto de cuáles letras.

6. Escribir tres polinomios homogéneos de tercer grado absoluto; cuatro de quinto grado absoluto; dos polinomios completos.

7. Ordenar los siguientes polinomios respecto de cualquier letra en orden descendente:

a)  $m^2 + 6m - m^3 + m^4$ ,  
b)  $6ax^2 - 5a^3 + 2a^2x + x^3$ ,  
c)  $-a^2b^3 + a^4b + a^3b^2 - ab^4$ ,  
d)  $a^4 - 5a + 6a^3 - 9a^2 + 6$ ,  
e)  $-x^5y^2 + x^{10} + 3x^4y^6 - x^6y^4 + x^2y^8$ ,  
f)  $-3m^{15}n^2 + 4m^{12}n^3 - 8m^6n^5 - 10m^3n^6 + n^7 - 7m^9n^4 + m^{18}n$ .

8. Ordenar los siguientes polinomios respecto de cualquier letra en orden ascendente:

a)  $a^2 - 5a^3 + 6a$ , d)  $a^2b^4 + a^4b^3 - a^3b^2 + a^5b + b^5$ ,  
b)  $x - 5x^3 + 6x^2 + 9x^4$ , e)  $y^{12} - x^5y^6 + x^{12}y^4 - x^3y^{10}$ ,  
c)  $2y^4 + 4y^5 - 6y + 2y^2 + 5y^3$ .

### 27 TERMINOS SEMEJANTES

Dos o más términos son semejantes cuando tienen la misma parte literal, o sea, cuando tienen iguales letras afectadas de iguales exponentes.

#### Ejemplos

$$2a \text{ y } a; -2b \text{ y } 8b; -5a^2b^2 \text{ y } -8a^2b^2; x^{m+1} \text{ y } 3x^{m+1}.$$

Los términos  $4ab$  y  $-6a^2b$  no son semejantes, porque aunque tienen iguales letras, éstas no tienen los mismos exponentes, ya que la  $a$  del primero tiene de exponente 1 y la  $a$  del segundo tiene de exponente 2.

Los términos  $-bx^4$  y  $ab^4$  no son semejantes, porque aunque tienen los mismos exponentes, las letras no son iguales.

**28 REDUCCION DE TERMINOS SEMEJANTES** es una operación que tiene por objeto convertir en un solo término dos o más términos semejantes.

En la reducción de términos semejantes pueden ocurrir los tres casos siguientes:

1) Reducción de dos o más términos semejantes del mismo signo.

#### REGLA

Se suman los coeficientes, poniendo delante de esta suma el mismo signo que tienen todos y a continuación se escribe la parte literal.

#### Ejemplos

(1)  $3a + 2a = 5a$ . R.

(2)  $-5b - 7b = -12b$ . R.

(3)  $-a^2 - 9a^2 = -10a^2$ . R.

(4)  $3a^{x-2} + 5a^{x-2} = 8a^{x-2}$ . R.

(5)  $-4a^{m+1} - 7a^{m+1} = -11a^{m+1}$ . R.

(6)  $\frac{1}{2}ab + \frac{2}{3}ab = \frac{7}{6}ab$ . R.

(7)  $-\frac{1}{3}xy - \frac{2}{5}xy = -\frac{11}{15}xy$ . R.

(8)  $5x + x + 2x = 8x$ . R.

(9)  $-m - 3m - 6m - 5m = -15m$ .

(10)  $\frac{1}{2}x^2y + \frac{1}{4}x^2y + \frac{1}{6}x^2y = \frac{7}{12}x^2y$ . R.

### EJERCICIO 7

Reducir:

1.  $x + 2x$ .

2.  $8a + 9a$ .

3.  $11b + 9b$ .

4.  $-b - 5b$ .

5.  $-8m - m$ .

6.  $-9m - 7m$ .

7.  $4a^x + 5a^x$ .

8.  $6a^{x+1} + 8a^{x+1}$ .

9.  $-m^{x+1} - 5m^{x+1}$ .

10.  $-3a^{x-2} - a^{x-2}$ .

11.  $\frac{1}{2}a + \frac{1}{2}a$ .

12.  $\frac{3}{5}ab + \frac{1}{10}ab$ .

13.  $\frac{1}{3}xy + \frac{1}{6}xy$ .

14.  $-\frac{1}{5}xy - \frac{4}{5}xy$ .

15.  $-\frac{5}{6}a^2b - \frac{1}{6}a^2b$ .

16.  $-a - \frac{7}{8}a$ .



17.  $8a+9a+6a$ .  
 18.  $15x+20x+x$ .  
 19.  $-7m-8m-9m$ .  
 20.  $-a^2b-a^2b-3a^2b$ .  
 21.  $a^3+3a^3+8a^3$ .  
 22.  $-5a^{x+1}-3a^{x+1}-5a^{x+1}$ .  
 23.  $a+\frac{1}{2}a+\frac{2}{3}a$ .  
 24.  $-x-\frac{2}{3}x-\frac{1}{6}x$ .  
 25.  $\frac{1}{5}ax+\frac{3}{10}ax+ax$ .  
 26.  $-\frac{3}{4}a^2x-\frac{5}{6}a^2x-a^2x$ .  
 27.  $11a+8a+9a+11a$ .  
 28.  $m^{x+1}+3m^{x+1}+4m^{x+1}+6m^{x+1}$ .  
 29.  $-x^2y-8x^2y-9x^2y-20x^2y$ .  
 30.  $-3a^m-5a^m-6a^m-9a^m$ .  
 31.  $\frac{1}{2}a+\frac{1}{4}a+\frac{1}{8}a+a$ .  
 32.  $\frac{2}{5}ax+\frac{1}{3}ax+\frac{1}{10}ax+\frac{1}{20}ax$ .  
 33.  $0.5m+0.6m+0.7m+0.8m$ .  
 34.  $-\frac{1}{7}ab-\frac{1}{14}ab-\frac{1}{28}ab-ab$ .  
 35.  $-\frac{2}{3}x^2y-\frac{1}{6}x^2y-\frac{1}{9}x^2y-\frac{1}{12}x^2y$ .  
 36.  $ab^2+ab^2+7ab^2+9ab^2+21ab^2$ .  
 37.  $-m-m-8m-7m-3m$ .  
 38.  $-x^a+1-8x^a+1-4x^a+1-5x^a+1-x^a+1$ .  
 39.  $\frac{1}{2}a+\frac{1}{3}a+\frac{1}{4}a+\frac{1}{5}a+\frac{1}{6}a$ .  
 40.  $-\frac{1}{3}ab-\frac{1}{6}ab-\frac{1}{2}ab-\frac{1}{12}ab-\frac{1}{6}ab$ .

## 2) Reducción de dos términos semejantes de distinto signo.

### REGLA

Se restan los coeficientes, poniendo delante de esta diferencia el signo del mayor y a continuación se escribe la parte literal.

### Ejemplos

- (1)  $2a-3a=-a$ . R.  
 (2)  $18x-11x=7x$ . R.  
 (3)  $-20ab+11ab=-9ab$ . R.  
 (4)  $-8a^x+13a^x=5a^x$ . R.  
 (5)  $25a^{x+1}-54a^{x+1}=-29a^{x+1}$ . R.  
 (6)  $\frac{1}{2}a-\frac{2}{3}a=-\frac{1}{6}a$ . R.  
 (7)  $-\frac{8}{7}a^2b+a^2b=-\frac{1}{7}a^2b$ . R.  
 (8)  $-\frac{5}{6}a^{x+1}+\frac{8}{4}a^{x+1}=-\frac{1}{12}a^{x+1}$ . R.

De la regla anterior se deduce que dos términos semejantes de iguales coeficientes y de signo contrario se anulan.

Así:

$$-8ab+8ab=0. \text{ R.}$$

$$\frac{2}{3}x^2y-\frac{2}{3}x^2y=0. \text{ R.}$$

## EJERCICIO 8

Reducir:

1.  $8a-6a$ .  
 2.  $6a-8a$ .  
 3.  $9ab-15ab$ .  
 4.  $15ab-9ab$ .  
 5.  $2a-2a$ .  
 6.  $-7b+7b$ .  
 7.  $-14xy+32xy$ .  
 8.  $-25x^2y+32x^2y$ .  
 9.  $40x^3y-51x^3y$ .  
 10.  $-m^2n+6m^2n$ .  
 11.  $-15xy+40xy$ .  
 12.  $55a^3b^2-81a^3b^2$ .

13.  $-x^2y+x^2y$ .  
 14.  $-9ab^2+9ab^2$ .  
 15.  $7x^2y-7x^2y$ .  
 16.  $-101mn+118mn$ .  
 17.  $502ab-405ab$ .  
 18.  $-1024x+1018x$ .  
 19.  $-15ab+15ab$ .  
 20.  $\frac{1}{2}a-\frac{8}{4}a$ .  
 21.  $\frac{3}{4}a-\frac{1}{2}a$ .  
 22.  $\frac{5}{6}a^2b-\frac{5}{12}a^2b$ .  
 23.  $-\frac{4}{7}x^2y+\frac{9}{14}x^2y$ .  
 24.  $\frac{3}{8}am-\frac{5}{4}am$ .  
 25.  $-am+\frac{8}{5}am$ .  
 26.  $\frac{5}{6}mn-\frac{7}{8}mn$ .  
 27.  $-a^2b+\frac{3}{12}a^2b$ .  
 28.  $3.4a^4b^3-5.6a^4b^3$ .  
 29.  $-1.2yz+3.4yz$ .  
 30.  $4a^x-2a^x$ .  
 31.  $-8a^{x+1}+8a^{x+1}$ .  
 32.  $25m^{x-1}-32m^{x-1}$ .  
 33.  $-x^{a+1}+x^{a+1}$ .  
 34.  $-\frac{1}{4}a^{m-2}+\frac{1}{2}a^{m-2}$ .  
 35.  $\frac{5}{6}a^{m+1}-\frac{7}{12}a^{m+1}$ .  
 36.  $4a^2-\frac{1}{3}a^2$ .  
 37.  $-5mn+\frac{3}{4}mn$ .  
 38.  $8a^x+2b^{x+3}-25a^{x+2}b^{x+3}$ .  
 39.  $-\frac{7}{8}a^mb^n+a^mb^n$ .  
 40.  $0.85mxy-\frac{1}{2}mxy$ .

## 3) Reducción de más de dos términos semejantes de signos distintos.

### REGLA

Se reducen a un solo término todos los positivos, se reducen a un solo término todos los negativos y a los dos resultados obtenidos se aplica la regla del caso anterior.

### Ejemplos

- (1) Reducir  $5a-8a+a-6a+21a$ .

Reduciendo los positivos:  $5a+a+21a=27a$ .

Reduciendo los negativos:  $-8a-6a=-14a$ .

Aplicando a estos resultados obtenidos,  $27a$  y  $-14a$ , la regla del caso anterior, se tiene:  $27a-14a=13a$ . R.

Esta reducción también suele hacerse término a término, de esta manera:

$5a-8a=-3a$ ;  $-3a+a=-2a$ ;  $-2a-6a=-8a$ ;  $-8a+21a=13a$ . R.

- (2) Reducir  $-\frac{2}{5}bx^2+\frac{1}{5}bx^2+\frac{3}{4}bx^2-4bx^2+bx^2$ .

Reduciendo los positivos:  $\frac{1}{5}bx^2+\frac{3}{4}bx^2+bx^2=\frac{39}{20}bx^2$ .

Reduciendo los negativos:  $-\frac{2}{5}bx^2-4bx^2=-\frac{22}{5}bx^2$ .

Tendremos:  $\frac{39}{20}bx^2-\frac{22}{5}bx^2=-\frac{49}{20}bx^2$ . R.

## EJERCICIO 9

Reducir:

1.  $9a-3a+5a$ .  
 2.  $-8x+9x-x$ .  
 3.  $12mn-23mn-5mn$ .  
 4.  $-x+19x-18x$ .  
 5.  $19m-10m+6m$ .  
 6.  $-11ab-15ab+26ab$ .  
 7.  $-5a^3+9a^3-35a^3$ .  
 8.  $-24a^{x+2}-15a^{x+2}+39a^{x+2}$ .  
 9.  $\frac{2}{3}y+\frac{1}{5}y-y$ .  
 10.  $-\frac{3}{5}m+\frac{1}{4}m$ .



11.  $\frac{8}{9}a^2b + \frac{1}{4}a^2b - a^2b$ .  
 12.  $-a + 8a + 9a - 15a$ .  
 13.  $7ab - 11ab + 20ab - 31ab$ .  
 14.  $25x^2 - 50x^2 + 11x^2 + 14x^2$ .  
 15.  $-xy - 8xy - 19xy + 40xy$ .  
 16.  $7ab + 21ab - ab - 80ab$ .  
 17.  $-25xy^2 + 11xy^2 + 60xy^2 - 82xy^2$ .  
 18.  $-72ax + 87ax - 101ax + 243ax$ .  
 19.  $-82bx - 71bx - 53bx + 206bx$ .  
 20.  $105a^3 - 464a^3 + 58a^3 + 301a^3$ .  
 21.  $\frac{1}{2}x - \frac{1}{3}x + \frac{1}{4}x - \frac{1}{5}x$ .  
 22.  $\frac{1}{3}y - \frac{1}{4}y + \frac{1}{5}y - \frac{1}{12}y$ .  
 23.  $\frac{3}{5}a^2b - \frac{1}{6}a^2b + \frac{1}{3}a^2b - a^2b$ .  
 24.  $-\frac{5}{9}ab^2 - \frac{1}{6}ab^2 + ab^2 - \frac{8}{9}ab^2$ .  
 25.  $-a + 8a - 11a + 15a - 75a$ .  
 26.  $-7c + 21c + 14c - 30c + 82c$ .  
 27.  $-mn + 14mn - 31mn - mn + 20mn$ .  
 28.  $a^2y - 7a^2y - 93a^2y + 51a^2y + 48a^2y$ .  
 29.  $-a + a - a + a - 3a + 6a$ .  
 30.  $\frac{1}{2}x + \frac{2}{3}x - \frac{7}{6}x + \frac{1}{2}x - x$ .  
 31.  $-2x + \frac{3}{4}x + \frac{1}{4}x + x - \frac{5}{6}x$ .  
 32.  $7a^2 - 30a^2 - 41a^2 - 9a^2 + 73a^2$ .  
 33.  $-a^{x+1} + 7a^{x+1} - 11a^{x+1} - 20a^{x+1} + 26a^{x+1}$ .  
 34.  $a + 6a - 20a + 150a - 80a + 31a$ .  
 35.  $-9b - 11b - 17b - 81b - b + 110b$ .  
 36.  $-a^2b + 15a^2b + a^2b - 85a^2b - 131a^2b + 39a^2b$ .  
 37.  $84m^2x - 501m^2x - 604m^2x - 715m^2x + 231m^2x + 165m^2x$ .  
 38.  $\frac{5}{9}a^3b^2 + \frac{2}{3}a^3b^2 - \frac{1}{4}a^3b^2 - \frac{5}{9}a^3b^2 + 4a^3b^2$ .  
 39.  $40a - 81a + 130a + 41a - 83a - 91a + 16a$ .  
 40.  $-21ab + 52ab - 60ab + 84ab - 31ab - ab - 23ab$ .

## 29 REDUCCION DE UN POLINOMIO QUE CONTENGA TERMINOS SEMEJANTES DE DIVERSAS CLASES

### Ejemplos

- (1) Reducir el polinomio  $5a - 6b + 8c + 9a - 20c - b + 6b - c$ .

Se reducen por separado los de cada clase:

$$5a + 9a = 14a.$$

$$-6b - b + 6b = -b.$$

$$8c - 20c - c = -13c.$$

Tendremos:  $14a - b - 13c$ . R.

- (2) Reducir el polinomio:

$$8a^3b^2 + 4a^4b^3 + 6a^5b^2 - a^3b^2 - 9a^4b^3 - 15 - 5ab^5 + 8 - 6ab^5.$$

Se reducen por separado los de cada clase:

$$4a^4b^3 - 9a^4b^3 = -5a^4b^3.$$

$$8a^3b^2 + 6a^3b^2 - a^3b^2 = 13a^3b^2.$$

$$-5ab^5 - 6ab^5 = -11ab^5.$$

$$-15 + 8 = -7.$$

Tendremos:  $-5a^4b^3 + 13a^3b^2 - 11ab^5 - 7$ . R.

- (3) Reducir el polinomio:

$$\frac{2}{5}x^4 - \frac{1}{2}x^3y + 3x^4 - y^4 + \frac{6}{9}y^4 - 0.3x^4 - \frac{3}{5}x^3y - 6 + x^3y - 14 + 2\frac{1}{8}y^4.$$

Tendremos:  $\frac{2}{5}x^4 + 3x^4 - 0.3x^4 = 3\frac{1}{10}x^4.$

$$x^3y - \frac{1}{2}x^3y - \frac{3}{5}x^3y = -\frac{1}{10}x^3y.$$

$$2\frac{1}{8}y^4 + \frac{5}{9}y^4 - y^4 = 2\frac{1}{6}y^4.$$

$$-6 - 14 = -20.$$

$$3\frac{1}{10}x^4 - \frac{1}{10}x^3y + 2\frac{1}{6}y^4 - 20. \text{ R.}$$

## EJERCICIO 10

Reducir los polinomios siguientes:

- $7a - 9b + 6a - 4b$ .
- $a + b - c - b - c + 2c - a$ .
- $5x - 11y - 9 + 20x - 1 - y$ .
- $-6m + 8n + 5 - m - n - 6m - 11$ .
- $-a + b + 2b - 2c + 3a + 2c - 3b$ .
- $-81x + 19y - 30z + 6y + 80x + x - 25y$ .
- $15a^2 - 6ab - 8a^2 + 20 - 5ab - 31 + a^2 - ab$ .
- $-3a + 4b - 6a + 81b - 114b + 81a - a - b$ .
- $-71a^3b - 84a^4b^2 + 50a^3b + 84a^4b^2 - 45a^3b + 18a^3b$ .
- $-a + b - c + 8 + 2a + 2b - 19 - 2c - 3a - 3 - 3b + 3c$ .
- $m^2 + 71mn - 14m^2 - 65mn + m^3 - m^2 - 115m^2 + 6m^3$ .
- $x^4y - x^3y^2 + x^2y - 8x^4y - x^2y - 10 + x^2y^2 - 7x^3y^2 - 9 + 21x^4y - y^3 + 50$ .
- $5a^{x+1} - 3b^{x+2} - 8c^{x+3} - 5a^{x+1} - 50 + 4b^{x+2} - 65 - b^{x+2} + 90 + c^{x+3} + 7c^{x+3}$ .
- $a^{m+2} - x^{n+5} - 5 + 8 - 3a^{m+2} + 5x^{n+5} - 6 + a^{m+2} - 5x^{m+2}$ .
- $0.3a + 0.4b + 0.5c - 0.6a - 0.7b - 0.9c + 3a - 3b - 3c$ .
- $\frac{1}{2}a + \frac{1}{3}b + 2a - 3b - \frac{8}{4}a - \frac{1}{6}b + \frac{5}{4} - \frac{1}{2}$ .
- $\frac{3}{5}m^2 - 2mn + \frac{1}{10}m^2 - \frac{1}{3}mn + 2mn - 2m^2$ .
- $-\frac{3}{4}a^2 + \frac{1}{2}ab - \frac{5}{6}b^2 + 2\frac{1}{3}a^2 - \frac{3}{4}ab + \frac{1}{6}b^2 - \frac{1}{5}b^2 - 2ab$ .
- $0.4x^2y + 31 + \frac{3}{8}xy^2 - 0.6y^3 - \frac{2}{5}x^2y - 0.2xy^2 + \frac{1}{4}y^3 - 6$ .
- $\frac{3}{25}a^{m-1} - \frac{7}{50}b^{n-2} + \frac{3}{5}a^{m-1} - \frac{1}{25}b^{n-2} - 0.2a^{m-1} + \frac{1}{5}b^{n-2}$ .

## VALOR NUMERICO

Valor numérico de una expresión algebraica es el resultado que se obtiene al sustituir las letras por valores numéricos dados y efectuar después las operaciones indicadas.



## 30 VALOR NUMÉRICO DE EXPRESIONES SIMPLES

## Ejemplos

- (1) Hallar el valor numérico de  $5ab$  para  $a=1$ ,  $b=2$ .  
Sustituimos la  $a$  por su valor 1, y la  $b$  por 2, y tendremos:

$$5ab = 5 \times 1 \times 2 = 10. \text{ R.}$$

- (2) Valor numérico de  $a^2b^3c^4$  para  $a=2$ ,  $b=3$ ,  $c=\frac{1}{2}$ .

$$a^2b^3c^4 = 2^2 \times 3^3 \times \left(\frac{1}{2}\right)^4 = 4 \times 27 \times \frac{1}{16} = \frac{27}{4} = 6\frac{3}{4}. \text{ R.}$$

- (3) Valor numérico de  $3ac\sqrt{2ab}$  para  $a=2$ ,  $b=9$ ,  $c=\frac{1}{3}$ .

$$3ac\sqrt{2ab} = 3 \times 2 \times \frac{1}{3} \times \sqrt{2 \times 2 \times 9} = 2 \times \sqrt{36} = 2 \times 6 = 12. \text{ R.}$$

- (4) Valor numérico de  $\frac{4a^2b^3}{5cd}$  para  $a=\frac{1}{2}$ ,  $b=\frac{1}{3}$ ,  $c=2$ ,  $d=3$ .

$$\frac{4a^2b^3}{5cd} = \frac{4 \times \left(\frac{1}{2}\right)^2 \times \left(\frac{1}{3}\right)^3}{5 \times 2 \times 3} = \frac{4 \times \frac{1}{4} \times \frac{1}{27}}{30} = \frac{1/27}{30} = \frac{1}{810}. \text{ R.}$$

## EJERCICIO 11

Hallar el valor numérico de las expresiones siguientes para

$$a=1, \quad b=2, \quad c=3, \quad m=\frac{1}{2}, \quad n=\frac{1}{3}, \quad p=\frac{1}{4}.$$

- |                            |                                 |                                    |   |
|----------------------------|---------------------------------|------------------------------------|---|
| 1. $3ab.$                  | 7. $m^2n^3p^4.$                 | 13. $\frac{5b^2m^2}{np}.$          | 16. $\frac{24mn}{2\sqrt{n^2p^2}}.$                      |
| 2. $5a^2b^3c.$             | 8. $\frac{5}{9}a^{b-1}m^{c-2}.$ | 14. $\frac{3b^3}{\frac{2}{3}c^2}.$ | 17. $\frac{3\sqrt[3]{64b^3c^2}}{2m}.$                   |
| 3. $b^2mn.$                | 9. $\sqrt{2bc^2}.$              | 15. $\frac{2m}{\sqrt{n^2}}.$       | 18. $\frac{3\sqrt{apb^2}}{\frac{2}{3}\sqrt[3]{125bm}}.$ |
| 4. $24m^2n^3p.$            | 10. $4m\sqrt[4]{12bc^2}.$       |                                    |   |
| 5. $\frac{2}{3}a^4b^2m^3.$ | 11. $mn\sqrt[4]{8a^4b^3}.$      |                                    |   |
| 6. $\frac{1}{12}c^3p^2m.$  | 12. $\frac{4a}{3bc}.$           |                                    |   |

## 31 VALOR NUMÉRICO DE EXPRESIONES COMPUESTAS

## Ejemplos

- (1) Hallar el valor numérico de  $a^2 - 5ab + 3b^3$  para  $a=3$ ,  $b=4$ .  
 $a^2 - 5ab + 3b^3 = 3^2 - 5 \times 3 \times 4 + 3 \times 4^3 = 9 - 60 + 192 = 141. \text{ R.}$

- (2) Valor numérico de  $\frac{3a^2}{4} - \frac{5ab}{x} + \frac{b}{ax}$  para  $a=2$ ,  $b=\frac{1}{3}$ ,  $x=\frac{1}{6}$ .

$$\frac{3a^2}{4} - \frac{5ab}{x} + \frac{b}{ax} = \frac{3 \times 2^2}{4} - \frac{5 \times 2 \times \frac{1}{3}}{\frac{1}{6}} + \frac{\frac{1}{3}}{2 \times \frac{1}{6}} = 3 - \frac{10}{\frac{1}{3}} + \frac{1}{\frac{1}{3}} = 3 - 30 + 1 = -26. \text{ R.}$$

## EJERCICIO 12

Hallar el valor numérico de las expresiones siguientes para

$$a=3, \quad b=4, \quad c=\frac{1}{2}, \quad d=\frac{1}{2}, \quad m=6, \quad n=\frac{1}{4}.$$

- |   |  |   |
|---|--|---|
| 1. $a^2 - 2ab + b^2.$                               | 7. $\frac{ab}{n} + \frac{ac}{d} - \frac{bd}{m}.$ | 13. $\frac{a+b}{c} - \frac{b+m}{d}.$                                    |
| 2. $c^2 + 2cd + d^2.$                               | 8. $\sqrt{b} + \sqrt{n} + \sqrt{6m}.$            | 14. $\frac{b-a}{n} + \frac{m-b}{d} + 5a.$                               |
| 3. $\frac{a}{c} + \frac{b}{d}.$                     | 9. $c\sqrt{3a} - d\sqrt{16b^2} + n\sqrt{8d}.$    | 15. $\frac{12c-a}{2b} - \frac{16n-a}{m} + \frac{1}{d}.$                 |
| 4. $\frac{c}{d} - \frac{m}{n} + 2.$                 | 10. $\frac{m^6}{d^6}.$                           | 16. $\sqrt{4b} + \frac{\sqrt{3a}}{3} - \frac{\sqrt{6m}}{6}.$            |
| 5. $\frac{a^2}{3} - \frac{b^2}{2} + \frac{m^2}{6}.$ | 11. $\frac{3c^2}{4} + \frac{4n^2}{m}.$           | 17. $\frac{\sqrt{b} + \sqrt{2d}}{2} - \frac{\sqrt{3c} + \sqrt{8d}}{4}.$ |
| 6. $\frac{8}{5}c - \frac{1}{2}b + 2d.$              | 12. $\frac{4d^2}{2} + \frac{16n^2}{2} - 1.$      | 18. $\frac{2\sqrt{a^2b^2}}{3} + \frac{3\sqrt{2+d^2}}{4} - a.$           |

- (3) Valor numérico de  $2(2a-b)(x^2+y) - (a^2+b)(b-a)$  para

$$a=2, \quad b=3, \quad x=4, \quad y=\frac{1}{2}.$$

Las operaciones indicadas dentro de los paréntesis deben efectuarse antes que ninguna otra, así:

$$2(2a-b) = 2 \times (2 \times 2 - 3) = 2 \times (4 - 3) = 2 \times 1 = 2.$$

$$x^2 + y = 4^2 + \frac{1}{2} = 16 + \frac{1}{2} = 16\frac{1}{2}.$$

$$a^2 + b = 2^2 + 3 = 4 + 3 = 7.$$

$$b - a = 3 - 2 = 1.$$

Tendremos:

$$2(2a-b)(x^2+y) - (a^2+b)(b-a) = 2 \times 16\frac{1}{2} - 7 \times 1 = 2 \times \frac{33}{2} - 7 = 33 - 7 = 26.$$

## EJERCICIO 13

Hallar el valor numérico de las expresiones siguientes para

$$a=1, \quad b=2, \quad c=3, \quad d=4, \quad m=\frac{1}{2}, \quad n=\frac{2}{3}, \quad p=\frac{1}{4}, \quad x=0.$$

- |                       |                              |  |
|-----------------------|------------------------------|--|
| 1. $(a+b)c-d.$        | 5. $(4m+8p)(a^2+b^2)(6n-d).$ | 9. $\left(\frac{8m}{9n} + \frac{16p}{b}\right)a.$            |
| 2. $(a+b)(b-a).$      | 6. $(c-b)(d-c)(b-a)(m-p).$   | 10. $\frac{x+m(a^3+d^3-c^3)}{4(m+p)} + \frac{a^2+b^2}{c^2}.$ |
| 3. $(b-m)(c-n)+4a^2.$ | 7. $b^2(c+d)-a^2(m+n)+2x.$   | 11. $\frac{4(m+p)}{a} + \frac{a^2+b^2}{c^2}.$                |
| 4. $(2m+3n)(4p+b^2).$ | 8. $2mx+6(b^2+c^2)-4d^2.$    |  |



$$\begin{aligned}
 & (2m+3n+4p)(8p+6n-4m)(9n+20p). \\
 & c^2(m+n)-d^2(m+p)+b^2(n+p). \\
 & \left(\frac{\sqrt{c^2+d^2}}{a} + \frac{2}{\sqrt{d}}\right)m. \\
 & (4p+2b)(18n-24p)+2(8m+2)(40p+a). \\
 & a + \frac{d}{b} \times \frac{5 + \frac{2}{m^2}}{p^2}. \\
 & (a+b)\sqrt{c^2+8b}-m\sqrt{n}. \\
 & \left(\frac{\sqrt{a+c}}{2} + \frac{\sqrt{6n}}{b}\right) + (c+d)\sqrt{p}.
 \end{aligned}$$

$$\begin{aligned}
 19. & 3(c-b)\sqrt{32m}-2(d-a)\sqrt{16p}-\frac{2}{n}. \\
 20. & \frac{\sqrt{6abc}}{2\sqrt{8b}} + \frac{\sqrt{3mn}}{2(b-a)} - \frac{cdnp}{abc}. \\
 21. & \frac{a^2+b^2}{b^2-a^2} + 3(a+b)(2a+3b). \\
 22. & b^2 + \left(\frac{1}{a} + \frac{1}{b}\right)\left(\frac{1}{b} + \frac{1}{c}\right) + \left(\frac{1}{n} + \frac{1}{m}\right)^2. \\
 23. & (2m+3n)(4p+2c)-4m^2n^2. \\
 24. & \frac{b^2-\frac{c}{3}}{2ab-m} - \frac{n}{b-m}.
 \end{aligned}$$

### 32 EJERCICIOS SOBRE NOTACION ALGEBRAICA

Con las cantidades algebraicas, representadas por letras, pueden hacerse las mismas operaciones que con los números aritméticos. Como la representación de cantidades por medio de símbolos o letras suele ofrecer dificultades a los alumnos, ofrecemos a continuación algunos ejemplos.

#### Ejemplos

- (1) Escribese la suma del cuadrado de  $a$  con el cubo de  $b$ .  
 $a^2 + b^3$ . R.
- (2) Un hombre tenía \$ $a$ ; después recibió \$ $B$  y después pagó una cuenta de \$ $c$ . ¿Cuánto le queda?  
 Teniendo \$ $a$  recibió \$ $B$  luego tenía \$ $(a+B)$ . Si entonces gasta \$ $c$  le quedan \$ $(a+B-c)$ . R.
- (3) Compré 3 libros a \$ $a$  cada uno; 6 sombreros a \$ $b$  cada uno y  $m$  trajes a \$ $x$  cada uno. ¿Cuánto he gastado?  
 3 libros a \$ $a$  importan \$ $3a$ .  
 6 sombreros a \$ $b$  importan \$ $6b$ .  
 $m$  trajes a \$ $x$  importan \$ $mx$ .  
 Luego el gasto total ha sido de \$ $(3a+6b+mx)$ . R.
- (4) Compró  $x$  libros iguales por \$ $m$ . ¿Cuánto me ha costado cada uno?  
 Cada libro ha costado \$ $\frac{m}{x}$ . R.
- (5) Tenía \$ $9$  y gasté \$ $x$ . ¿Cuánto me queda?  
 Me quedan \$ $(9-x)$ . R.

#### EJERCICIO 14

1. Escribese la suma de  $a$ ,  $b$  y  $m$ .
2. Escribese la suma del cuadrado de  $m$ , el cubo de  $b$  y la cuarta potencia de  $x$ .

3. Siendo  $a$  un número entero, escribanse los dos números enteros consecutivos posteriores a  $a$ .
4. Siendo  $x$  un número entero, escribanse los dos números consecutivos anteriores a  $x$ .
5. Siendo  $y$  un número entero par, escribanse los tres números pares consecutivos posteriores a  $y$ .
6. Pedro tenía \$ $a$ , cobró \$ $x$  y le regalaron \$ $m$ . ¿Cuánto tiene Pedro?
7. Escribese la diferencia entre  $m$  y  $n$ .
8. Debía  $x$  bolívares y pagué 6. ¿Cuánto debo ahora?
9. De una jornada de  $x$  Km. ya se han recorrido  $m$  Km. ¿Cuánto falta por andar?
10. Recibo \$ $x$  y después \$ $a$ . Si gasto \$ $m$ , ¿cuánto me queda?
11. Tengo que recorrer  $m$  Km. El lunes ando  $a$  Km., el martes  $b$  Km. y el miércoles  $c$  Km. ¿Cuánto me falta por andar?
12. Al vender una casa en \$ $n$  gano \$ $300$ . ¿Cuánto me costó la casa?
13. Si han transcurrido  $x$  días de un año, ¿cuántos días faltan por transcurrir?
14. Si un sombrero cuesta \$ $a$ , ¿cuánto importarán 8 sombreros; 15 sombreros;  $m$  sombreros?
15. Escribese la suma del duplo de  $a$  con el triplo de  $b$  y la mitad de  $c$ .
16. Expresar la superficie de una sala rectangular que mide  $a$  m. de largo y  $b$  m. de ancho.
17. Una extensión rectangular de 23 m. de largo mide  $n$  m. de ancho. Expresar su superficie.
18. ¿Cuál será la superficie de un cuadrado de  $x$  m. de lado?
19. Si un sombrero cuesta \$ $a$  y un traje \$ $b$ , ¿cuánto importarán 3 sombreros y 6 trajes? ¿ $x$  sombreros y  $m$  trajes?
20. Escribese el producto de  $a+b$  por  $x+y$ .
21. Vendo  $(x+6)$  trajes a \$ $8$  cada uno. ¿Cuánto importa la venta?
22. Compró  $(a-8)$  caballos a  $(x+4)$  bolívares cada uno. ¿Cuánto importa la compra?
23. Si  $x$  lápices cuestan 75 sucres; ¿cuánto cuesta un lápiz?
24. Si por \$ $a$  compro  $m$  kilos de azúcar, ¿cuánto importa un kilo?
25. Se compran  $(n-1)$  caballos por 3000 colones. ¿Cuánto importa cada caballo?
26. Compré  $a$  sombreros por  $x$  soles. ¿A cómo habría salido cada sombrero si hubiera comprado 3 menos por el mismo precio?
27. La superficie de un campo rectangular es  $m$  m.<sup>2</sup> y el largo mide 14 m. Expresar el ancho.
28. Si un tren ha recorrido  $x+1$  Km. en  $a$  horas, ¿cuál es su velocidad por hora?
29. Tenía \$ $a$  y cobré \$ $b$ . Si el dinero que tengo lo empleo todo en comprar  $(m-2)$  libros, ¿a cómo sale cada libro?
30. En el piso bajo de un hotel hay  $x$  habitaciones. En el segundo piso hay doble número de habitaciones que en el primero; en el tercero la mitad de las que hay en el primero. ¿Cuántas habitaciones tiene el hotel?
31. Pedro tiene  $a$  sucres; Juan tiene la tercera parte de lo de Pedro; Enrique la cuarta parte del duplo de lo de Pedro. La suma de lo que tienen los tres es menor que 1000 sucres. ¿Cuánto falta a esta suma para ser igual a 1000 sucres?



## NOTAS SOBRE EL CONCEPTO DE NUMERO

El concepto de número natural (véase Aritmética Teórico-Práctica, 33), que satisface las exigencias de la Aritmética elemental no responde a la generalización y abstracción características de la operatoria algebraica.

En Álgebra se desarrolla un cálculo de validez general aplicable a cualquier tipo especial de número. Conviene pues, considerar cómo se ha ampliado el campo de los números por la introducción de nuevos entes, que satisfacen las leyes que regulan las operaciones fundamentales, ya que, como veremos más adelante, el número natural (1) no nos sirve para efectuar la resta y la división en todos los casos. Baste por el momento, dado el nivel matemático que alcanzaremos a lo largo de este texto, explicar cómo se ha llegado al concepto de número real.

Para hacer más comprensible la ampliación del campo de los números, adoptaremos un doble criterio. Por un lado, un criterio histórico que nos haga conocer la gradual aparición de las distintas clases de números; por otro, un criterio intuitivo que nos ponga de manifiesto cómo ciertas necesidades materiales han obligado a los matemáticos a introducir nuevos entes numéricos. Este doble criterio, justificable por la índole didáctica de este libro, permitirá al principiante alcanzar una comprensión clara del concepto formal (abstracto) de los números reales.

## EL NUMERO ENTERO Y EL NUMERO FRACCIONARIO

Mucho antes de que los griegos (Eudoxio, Euclides, Apolonio, etc.) realizaran la sistematización de los conocimientos matemáticos, los babilonios (según muestran las tablillas cuneiformes que datan de 2000-1800 A.C.) y los egipcios (como se ve en el papiro de Rhind) conocían las fracciones.

La necesidad de medir magnitudes continuas tales como la longitud, el volumen, el peso, etc., llevó al hombre a introducir los números fraccionarios.

Cuando tomamos una unidad cualquiera, por ejemplo, la vara, para medir una magnitud continua (magnitud escalar o lineal), puede ocurrir una de estas dos cosas: que la unidad esté contenida un número entero de veces, o que no esté contenida un número entero de veces. (2) En el primer caso, representamos el resultado de la medición con un número entero. En el segundo caso, tendremos que fraccionar la unidad elegida en dos, en tres, o en cuatro partes iguales; de este modo, hallaremos una fracción de la unidad que esté contenida en la magnitud que tratamos de medir. El resultado de esta última medición lo expresamos con un par de números enteros, distintos de cero, llamados respectivamente numerador y denominador. El denominador nos dará el número de partes en que hemos dividido la unidad, y el numerador, el número de subunidades contenidas en la magnitud que acabamos de medir. Surgen de este modo los números fraccionarios. Son números fraccionarios  $1/2$ ,  $1/3$ ,  $3/5$ , etc.

(1) P. L. G. Dirichlet (alemán, 1805-1859), ha sostenido que no es necesariamente indispensable ampliar el concepto de número natural, ya que —según él— cualquier principio de la más alta matemática puede demostrarse por medio de los números naturales.

(2) En la práctica y hablando con rigor, ninguna medida resulta exacta, en razón de lo imperfecto de nuestros instrumentos de medida y de nuestros sentidos.

Podemos decir también, que son números fraccionarios los que nos permiten expresar el cociente de una división inexacta, o lo que es lo mismo, una división en la cual el dividendo no es múltiplo del divisor.

Como se ve, en oposición a los números fraccionarios tenemos los números enteros, que podemos definir como aquellos que expresan el cociente de una división exacta, como por ejemplo, 1, 2, 3, etc.

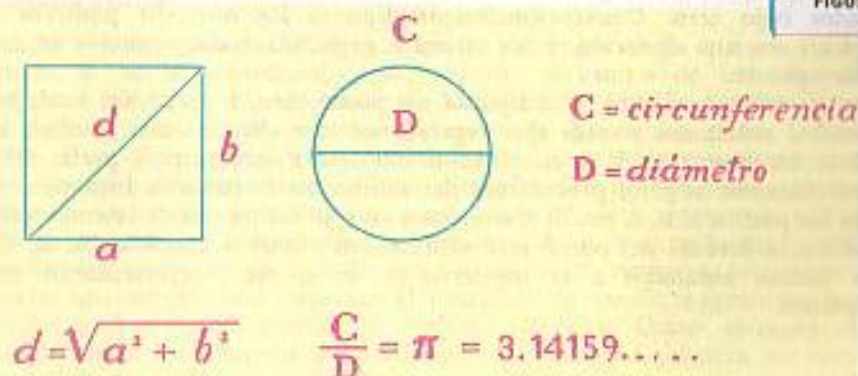
$$\begin{array}{r} 5 \overline{) 5} \\ 0 \ 1 \end{array} \quad \begin{array}{r} 8 \overline{) 4} \\ 0 \ 2 \end{array} \quad 6 \div 2 = 3.$$

## EL NUMERO RACIONAL Y EL NUMERO IRRACIONAL

Siguiendo el orden histórico que nos hemos trazado, vamos a ver ahora cuándo y cómo surgieron los números irracionales.

Es indudable que fueron los griegos quienes conocieron primero los números irracionales. Los historiadores de la matemática, están de acuerdo en atribuir a Pitágoras de Samos (540 A.C.), el descubrimiento de estos números, al establecer la relación entre el lado de un cuadrado y la diagonal del mismo. Más tarde, Teodoro de Cirene (400 A.C.), matemático de la escuela pitagórica, demostró geoméricamente que  $\sqrt{2}$ ,  $\sqrt{3}$ ,  $\sqrt{5}$ ,  $\sqrt{7}$ , etc., son irracionales. Euclides (300 A.C.), estudió en el Libro X de sus "Elementos", ciertas magnitudes que al ser medidas no encontramos ningún número entero ni fraccionario que las exprese. Estas magnitudes se llaman incommensurables, y los números que se originan al medir tales magnitudes se llaman irracionales. (3) Ejemplos de tales magnitudes son la relación del lado de un cuadrado con la diagonal del mismo, que se expresa con el número irracional  $\sqrt{a^2 + b^2}$ ; y la relación de la circunferencia, al diámetro que se expresa con la letra  $\pi = 3.141592 \dots$

FIGURA 1



(3) Al exponer sistemáticamente los números irracionales, Euclides los llamó asymmetros, y a los racionales los llamó symmetros, palabras que significan sin medida y con medida. Para señalar el hecho de que estos números (los irracionales) no tenían expresión los designaba con la voz alopos. Boecio (475-554 D.C.), al traducir empleó commensurabilis e incommensurabilis. Sin embargo, Gerardo de Cremona (1114-1187), en una traducción de un comentario árabe sobre Euclides, utilizó erróneamente rationalis e irrationalis, al tomar logos y alopos como razón y no en la acepción de palabra (verbum), usada por Euclides. Este error se difundió a lo largo de toda la Edad Media, prevaleciendo en nuestros días el nombre de números irracionales.



Como consecuencia de la introducción de los números irracionales, consideramos racionales el conjunto de los números fraccionarios y el conjunto de los números enteros. Definimos el número racional como aquel número que puede expresarse como cociente de dos enteros. Y el número irracional como aquel número real que no puede expresarse como el cociente de dos enteros.


Llamamos número reales al conjunto de los números racionales e irracionales.

### LOS NUMEROS POSITIVOS Y NEGATIVOS

Los números negativos no fueron conocidos por los matemáticos de la antigüedad, salvo en el caso de Diofanto (siglo III D.C.), que en su Aritmética, al explicar el producto de dos diferencias, introduce un número con signo  $+$ . En el siglo VI, los hindúes Brahmagupta y Bháskara usan los números negativos de un modo práctico, sin llegar a dar una definición de ellos. Durante la Edad Media y el Renacimiento los matemáticos rehuyeron usar los números negativos, y fue Newton el primero en comprender la verdadera naturaleza de estos números. Posteriormente Harriot (1560-1621) introdujo los signos  $+$  y  $-$  para caracterizar los números positivos y negativos.

La significación de los números relativos o con signos (positivos y negativos) se comprende claramente, cuando los utilizamos para representar el resultado de medir magnitudes relativas, es decir, magnitudes cuyas cantidades pueden tomarse en sentidos opuestos, tal como sucede cuando tratamos de medir la longitud geográfica de una región determinada; o de expresar el grado de temperatura de un lugar dado. En el primer caso, podemos hablar de longitud este u oeste con respecto a un meridiano fijado arbitrariamente (Greenwich). En el segundo caso, podemos referirnos a grados sobre cero o grados bajo cero. Convencionalmente fijamos los números positivos o con signo  $+$  en una dirección, y los números negativos o con signo  $-$ , en la dirección opuesta.

Si sobre una semirrecta fijamos un punto cero, a partir del cual, hacia la derecha, señalamos puntos que representan una determinada unidad, nos resultan los puntos A, B, C, etc. Si sobre esa misma semirrecta, a partir del punto cero (llamado origen), procedemos del mismo modo hacia la izquierda, tendremos los puntos a, b, c, etc. Si convenimos en que los puntos de la semirrecta indicados a la derecha del punto cero representan números positivos (A, B, C, etc.); los puntos señalados a la izquierda (a, b, c, etc.), representarán números negativos.



Históricamente, los números negativos surgen para hacer posible la resta en todos los casos. De este modo, la resta se convierte en una operación inversa de la suma, y se hace posible restarle a un minuendo menor un sustraendo mayor.

Los números y los símbolos literales negativos se distinguen por el signo  $-$  que llevan antepuesto. Los números positivos y su representación literal llevan el signo  $+$ , siempre que no inicien una expresión algebraica.

El número cero. Cuando tratamos de aprehender el concepto de número natural, vemos cómo éste surge de la comparación de conjuntos equivalentes o coordinables entre sí. Por extensión llamamos conjunto al que tiene un solo elemento y que se representa por el número  $1$ . Ahora, consideramos el número cero como expresión de un conjunto nulo o vacío, es decir, un conjunto que carece de elementos.

Por otra parte, el cero representa un elemento de separación entre los números negativos y positivos, de modo que el cero es mayor que cualquier número negativo y menor que cualquier número positivo.

El siguiente diagrama nos aclarará las distintas clases de números con los cuales vamos a trabajar:



### LEYES FORMALES DE LAS OPERACIONES FUNDAMENTALES CON NUMEROS REALES

Hemos visto sumariamente cómo a través del curso de la historia de las matemáticas, se ha ido ampliando sucesivamente el campo de los números, hasta llegar al concepto de número real. El camino recorrido ha sido, unas veces, el geométrico, que siempre desemboca en la Aritmética pura, formal; otras veces, el camino puro, formal ha iniciado el recorrido para desembocar en lo intuitivo, en lo geométrico. Como ejemplos del primer caso, tenemos los números irracionales, introducidos como razón de dos segmentos con el propósito de representar magnitudes incommensurables, y que hacen posible la expresión del resultado de la radicación inexacta. Y también, los números fraccionarios que surgen para expresar el resultado de medir magnitudes conmensurables, y que hacen posible la división inexacta. Como ejemplo del segundo caso, están los números negativos que aparecen por primera vez como raíces de ecuaciones, y hacen posible la resta en todos los casos, ya que cuando el minuendo es menor que el sustraendo esta operación carece de sentido cuando trabajamos con números naturales. Más tarde, estos números negativos (relativos) servirán para expresar los puntos a uno y otro lado de una recta indefinida.

Sin pretensiones de profundizar prematuramente en el campo numérico, vamos a exponer las leyes formales (esto es, que no toman en cuenta la naturaleza de los números) de la suma y de la multiplicación, ya que las demás operaciones fundamentales pueden explicarse como inversas de éstas, así, la resta,



la división, la potenciación, la logaritmación y la radicación. Conviene ir adaptando la mentalidad del principiante al carácter formal (abstracto) de estas leyes, pues ello contribuirá a la comprensión de los problemas que ulteriormente le plantearán las matemáticas superiores. Por otra parte, el conjunto de estas leyes formales constituirá una definición indirecta de los números reales y de las operaciones fundamentales. Estas leyes que no requieren demostración, pues son de aprehensión inmediata, se llaman axiomas.

### IGUALDAD

- I. Axioma de identidad:  $a = a$ .
- II. Axioma de reciprocidad: si  $a = b$ , tenemos que  $b = a$ .
- III. Axioma de transitividad: si  $a = b$  y  $b = c$ , tenemos que  $a = c$ .

### SUMA O ADICION

- I. Axioma de uniformidad: la suma de dos números es siempre igual, es decir, única; así, si  $a = b$  y  $c = d$ , tenemos que  $a + c = b + d$ .
- II. Axioma de conmutatividad:  $a + b = b + a$ .
- III. Axioma de asociatividad:  $(a + b) + c = a + (b + c)$ .
- IV. Axioma de identidad, o módulo de la suma: hay un número y sólo un número, el cero, de modo que  $a + 0 = 0 + a = a$ , para cualquier valor de  $a$ . De ahí que el cero reciba el nombre de elemento idéntico o módulo de la suma.

### MULTIPLICACION

- I. Axioma de uniformidad: el producto de dos números es siempre igual, es decir, único; así si  $a = b$  y  $c = d$ , tenemos que  $ac = bd$ .
- II. Axioma de conmutatividad:  $ab = ba$ .
- III. Axioma de asociatividad:  $(ab)c = a(bc)$ .
- IV. Axioma de distributividad: con respecto a la suma tenemos que  $a(b + c) = ab + ac$ .
- V. Axioma de identidad, o módulo del producto: hay un número y sólo un número, el uno (1), de modo que  $a \cdot 1 = 1 \cdot a = a$ , para cualquier valor de  $a$ .
- VI. Axioma de existencia del inverso: para todo número real  $a \neq 0$  ( $a$  distinto de cero) corresponde un número real, y sólo uno,  $x$ , de modo que  $ax = 1$ . Este número  $x$  se llama inverso o recíproco de  $a$ , y se representa por  $1/a$ .

### AXIOMAS DE ORDEN

- I. Tricotomía: Si tenemos dos números reales  $a$  y  $b$  sólo puede haber una relación, y sólo una, entre ambos, que  $a > b$ ;  $a = b$  o  $a < b$ .
- II. Monotonía de la suma: si  $a > b$  tenemos que  $a + c > b + c$ .
- III. Monotonía de la multiplicación: si  $a > b$  y  $c > 0$  tenemos que  $ac > bc$ .

### AXIOMA DE CONTINUIDAD

I. Si tenemos dos conjuntos de números reales  $A$  y  $B$ , de modo que todo número de  $A$  es menor que cualquier número de  $B$ , existirá siempre un número real  $c$  con el que se verifique  $a \leq c \leq b$ , en que  $a$  es un número que está dentro del conjunto  $A$ , y  $b$  es un número que está dentro del conjunto  $B$ .

### OPERACIONES FUNDAMENTALES CON LOS NUMEROS RELATIVOS

#### SUMA DE NUMEROS RELATIVOS

En la suma o adición de números relativos podemos considerar cuatro casos: sumar dos números positivos; sumar dos números negativos; sumar un positivo con otro negativo, y sumar el cero con un número positivo o negativo.

#### 1) Suma de dos números positivos

##### Regla

Para sumar dos números positivos se procede a la suma aritmética de los valores absolutos de ambos números, y al resultado obtenido se le antepone el signo  $+$ . Así tenemos:

$$(+4) + (+2) = +6$$

Podemos representar la suma de dos números positivos del siguiente modo:



FIGURA 2

#### 2) Suma de dos números negativos

##### Regla

Para sumar dos números negativos se procede a la suma aritmética de los valores absolutos de ambos, y al resultado obtenido se le antepone el signo  $-$ . Así tenemos:

$$(-4) + (-2) = -6$$

Podemos representar la suma de dos números negativos del siguiente modo:




FIGURA 3



## 3) Suma de un número positivo y otro negativo

## Regla

Para sumar un número positivo y un número negativo procede a hallar la diferencia aritmética de los valores absolutos de ambos números, y al resultado obtenido se le pone el signo del número mayor. Cuando los dos números tienen igual valor absoluto y signos distintos la suma es 0. Así tenemos:

$$\begin{aligned} (+6) + (-2) &= +4 \\ (-6) + (+2) &= -4 \\ (-6) + (+6) &= 0 \\ (+6) + (-6) &= 0 \end{aligned}$$

Podemos representar la suma de un número positivo y otro negativo de siguientes modos:

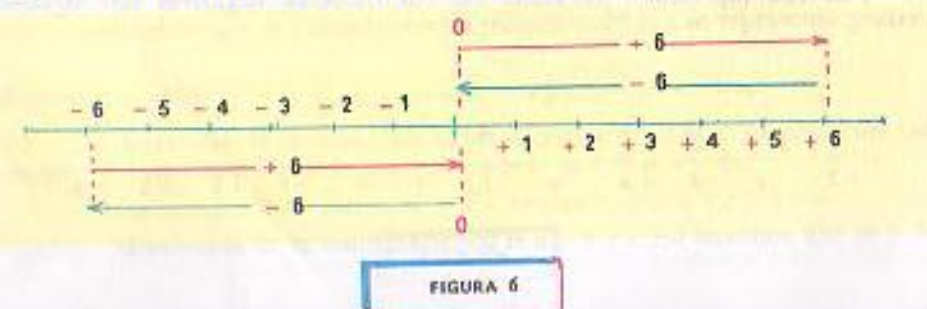
Representación gráfica de la suma de un número positivo y un número negativo, en que el número positivo tiene mayor valor absoluto que el negativo:



Representación gráfica de la suma de un número positivo y un número negativo, en que el número negativo tiene mayor valor absoluto que el positivo:



Representación gráfica de la suma de un número positivo y un número negativo, en que el valor absoluto de ambos números es igual.



## 4) Suma de cero y un número positivo o negativo

## Regla

La suma de cero con cualquier número positivo o negativo nos dará el mismo número positivo o negativo.

Así tenemos:  $\longrightarrow$   $(+4) + 0 = +4$   
 $(-4) + 0 = -4$

En general:  $\longrightarrow$   $a + 0 = 0 + a = a$

En que  $a$  puede ser positivo, negativo o nulo.

## SUSTRACCION DE NUMEROS RELATIVOS

Llamamos opuesto de un número al mismo número con signo contrario. Así, decimos que  $-m$  es opuesto de  $+m$ . Ya vimos en un caso de la suma que:

$$(+m) + (-m) = 0$$

La sustracción es una operación inversa de la suma que consiste en hallar un número  $x$  (llamado diferencia), tal que, sumado con un número dado  $m$ , dé un resultado igual a otro número  $n$ , de modo que se verifique:

$$x + m = n \quad (1)$$

Llamando  $m'$  al opuesto de  $m$ , podemos determinar la diferencia  $x$ , sumando en ambos miembros de la igualdad (1), el número  $m'$ ; en efecto:

$$x + m + m' = n + m' \quad (2)$$

Si observamos el primer miembro de esta igualdad (2), veremos que aplicando el axioma de asociatividad tenemos:  $m + m' = 0$ , y como  $x + 0 = x$ , tendremos:

$$x = n + m' \quad (3)$$

que es lo que queríamos demostrar, es decir, que para hallar la diferencia entre  $n$  y  $m$  basta sumarle a  $n$  el opuesto de  $m$  ( $m'$ ). Y como hemos visto que para hallar el opuesto de un número basta cambiarle el signo, podemos enunciar la siguiente

## Regla

Para hallar la diferencia entre dos números relativos se suma al minuendo el sustraendo, cambiándole el signo.

Así:

$$\begin{aligned} (+8) - (+4) &= (+8) + (-4) = +4 \\ (+8) - (-4) &= (+8) + (+4) = +12 \\ (-8) - (+4) &= (-8) + (-4) = -12 \\ (-8) - (-4) &= (-8) + (+4) = -4 \end{aligned}$$

## REPRESENTACION GRAFICA DE LA SUSTRACCION DE NUMEROS RELATIVOS

Por medio de la interpretación geométrica de la sustracción de números relativos, podemos expresar la distancia, en unidades, que hay entre el punto que representa al minuendo y el punto que representa al sustraendo, así como el sentido (negativo o positivo) de esa distancia.



Para expresar la diferencia  $(+4) - (-8) = +12$ , tendremos:

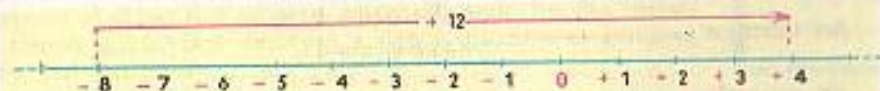


FIGURA 7

Para expresar la diferencia  $(-8) - (+4) = -12$ , tendremos:

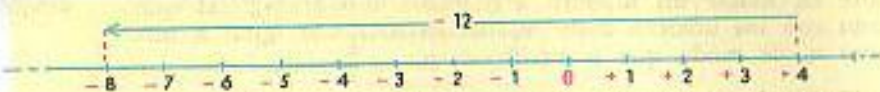


FIGURA 8

#### MULTIPLICACION DE NUMEROS RELATIVOS

##### Regla

El producto de dos números relativos se halla multiplicando los valores absolutos de ambos. El producto hallado llevará signo positivo (+), si los signos de ambos factores son iguales; llevará signo negativo (-), si los factores tienen signos distintos. Si uno de los factores es 0 el producto será 0.

Cuando operamos con símbolos literales el producto es siempre indicado, bien en la forma  $a \times b$ ; bien en la forma  $a \cdot b$ ; y más usualmente  $ab$ .

Así: \_\_\_\_\_

El siguiente cuadro es un medio de recordar fácilmente la ley de los signos en la multiplicación de los números relativos.

$$\begin{array}{ll} (+2)(+3) = +6 & (0)(+3) = 0 \\ (-2)(-3) = +6 & (0)(-3) = 0 \\ (+2)(-3) = -6 & 0 \cdot 0 = 0 \\ (-2)(+3) = -6 & \end{array}$$

$$\begin{array}{ll} + \text{ por } + \text{ da } + & + \text{ por } - \text{ da } - \\ - \text{ por } - \text{ da } + & - \text{ por } + \text{ da } - \end{array}$$

#### REPRESENTACION GRAFICA DEL PRODUCTO DE DOS NUMEROS RELATIVOS

El producto de dos números relativos puede expresarse geométricamente como el área de un rectángulo cuyo largo y cuyo ancho vienen dados por ambos números. A esta área podemos atribuirle un valor positivo o negativo,

según que sus lados tengan valores de un mismo sentido o de sentidos distintos respectivamente.

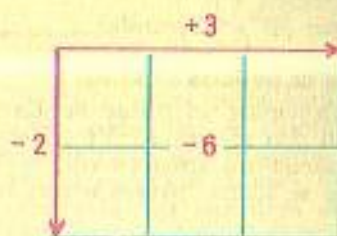
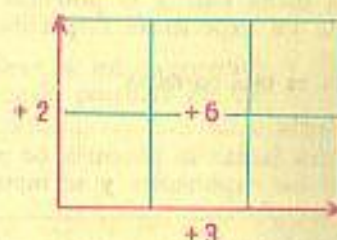


FIGURA 9

#### POTENCIA DE NUMEROS RELATIVOS

Llamamos potencia de un número relativo al producto de tomarlo como factor tantas veces como se quiera. Si  $a$  es un número relativo cualquiera y  $n > 1$  es un número natural, tendremos la notación  $a^n$ , que se lee  $a$  elevado a la  $n$ -ésima potencia.  $n$  indica que  $a$  debe tomarse como factor  $n$  veces. Así: \_\_\_\_\_

$$a^n = \underbrace{a \cdot a \cdot a \cdots a}_{n \text{ veces}}$$

En la notación  $a^n = x$ , llamamos potencia al producto  $x$ , base al número que tomamos como factor  $a$ , y exponente a  $n$ , que nos indica las veces que debemos tomar como factor a  $a$ . A la operación de hallar el producto  $x$ , la llamamos **potenciación** o **elevación a potencia**.

Ejemplo: \_\_\_\_\_

En este ejemplo, 4 es la base; 5 es el exponente, y 1024 es la potencia.

##### Regla

La potencia de un número positivo siempre es positiva. La potencia de un número negativo será positiva si el exponente es entero y par; negativa si el exponente entero es impar. Así: \_\_\_\_\_

$$\begin{array}{ll} a^2 = +A & (-a)^2 = +A \\ a^3 = +A & (-a)^3 = -A \end{array}$$



## PRODUCTO DE DOS POTENCIAS DE IGUAL BASE

## Regla

Para multiplicar dos potencias de igual base, se eleva dicha base a la potencia que resulte de la suma de los exponentes respectivos. Ejemplo:

$$a^m \cdot a^n = a^{m+n}$$

$$(3)^2 (3)^4 = 3^{2+4} = 3^6 = 729$$

## POTENCIA DE UNA POTENCIA

## Regla

Para hallar la potencia de una potencia se multiplican los exponentes y se mantiene la base primitiva. Ejemplo:

$$(a^n)^m = a^{n \times m} = a^{nm}$$

$$(-2^2)^3 = -2^{2 \times 3} = -2^6 = -64$$

Hay que poner especial cuidado en no confundir la potencia de una potencia, con la elevación de un número a una potencia cuyo exponente, a la vez, está afectado por otro exponente. Así, no es lo mismo  $(4^2)^3$  que  $4^{2^3}$ . Ejemplo:

$$(4^2)^3 = 4^{2 \times 3} = 4^6 = 4096$$

$$(4^2)^8 = 4^{2 \times 8} = 4^{16} = 65536$$

## DIVISION DE NUMEROS RELATIVOS

Ya vimos, al tratar de las leyes formales de la multiplicación, que de acuerdo con el axioma VI (existencia del inverso), a todo número real  $a \neq 0$ , corresponde un número real, y sólo uno,  $x$ , de modo que  $ax = 1$ . Este número  $x$  se llama inverso o recíproco de  $a$ , y se representa por  $1/a$ .

El inverso o recíproco de un número relativo cualquiera distinto de cero tiene su mismo signo.

$$\begin{aligned} \text{El inverso de } +4 \text{ es } +\frac{1}{4} \\ \text{El inverso de } -4 \text{ es } -\frac{1}{4} \\ \text{El inverso de } -\sqrt{3} \text{ es } -\frac{1}{\sqrt{3}} \\ \text{El inverso de } +\frac{1}{2} \text{ es } +2 \end{aligned}$$

La división es una operación inversa de la multiplicación que consiste en hallar uno de los factores, conocidos el otro factor y el producto. Es decir, dado el dividendo  $d$  y el divisor  $d'$  hallar el cociente  $c$ , de modo que se verifique  $d'c = d$ .

Recordamos que esta operación sólo es posible si  $d'$  es distinto de cero. Aplicando el axioma de existencia del inverso, tenemos que:

$$1/d' (d'c) = 1/d' d$$

$$\text{Sabemos que: } 1/d' (d'c) = (1/d' d') c = (+1) c = c$$

$$\text{Eliminando queda: } c = 1/d' d$$

De lo cual deducimos la siguiente

## Regla

Para dividir un número cualquiera  $d$  por otro número distinto de cero  $d'$ , multiplicamos  $d$  por el recíproco  $d'$  ( $1/d'$ ). El cociente que resulte será positivo si los dos números son del mismo signo; y negativo, si son de signos contrarios.

Con el siguiente cuadro podemos recordar fácilmente la ley de los signos de la división con números relativos.

+	entre	+	da	+
-	entre	-	da	+
+	entre	-	da	-
-	entre	+	da	-

Ahora que estudiamos la división, podemos enunciar tres casos de la elevación a potencia de un número cualquiera.

1) Si un número cualquiera  $a \neq 0$ , se eleva a la potencia 0 es igual a +1. Así:

$$a^0 = 1$$

$$3^0 = 1$$

2) Si un número cualquiera  $a \neq 0$ , se eleva a un exponente negativo cualquiera  $-m$  es igual al recíproco de la potencia  $a^m$ , de exponente positivo. Así:

$$a^{-m} = \frac{1}{a^m}$$

$$3^{-2} = \frac{1}{3^2} = \frac{1}{9}$$

3) La división de dos potencias de igual base es igual a la base elevada a la potencia que dé la diferencia de ambos exponentes. Así:

$$\frac{a^m}{a^n} = a^{m-n}$$

$$\frac{3^4}{3^2} = 3^{4-2} = 3^2 = 9$$

## UNIFORMIDAD DE LAS OPERACIONES FUNDAMENTALES CON NUMEROS RELATIVOS

Hemos visto en las operaciones estudiadas, a saber: suma, resta, multiplicación, potenciación y división, que se cumple en todas ellas el axioma de uniformidad. Quiere esto significar que cuando sometemos dos números relativos a cualquiera de las operaciones mencionadas, el resultado es uno, y sólo uno, es decir, único. Sin embargo, cuando extraemos la raíz cuadrada de un número positivo, tenemos un resultado doble. Pues como veremos, al estudiar la extracción de las raíces, un número positivo cualquiera siempre tiene dos raíces de grado par, una positiva y otra negativa.

$$\text{Así: } \sqrt{+a} = \pm a'$$

$$\text{porque: } (+a')^2 = (+a') (+a') = +a$$

$$\text{del mismo modo: } \sqrt{+64} = \pm 8$$

$$\text{porque: } (-a')^2 = (-a') (-a') = +a$$


$$(+8)^2 = (+8) (+8) = +64$$

$$(-8)^2 = (-8) (-8) = +64$$

## POSIBILIDAD DE AMPLIAR EL CAMPO NUMERICO

Los números reales no cierran la posibilidad de ampliación del campo numérico. Tal posibilidad se mantiene abierta para la introducción de nuevos entes, siempre que tales entes cumplan las leyes formales. Dentro de los límites de este texto, el estudiante todavía se enfrentará con una nueva ampliación del campo numérico. Se trata del número complejo, que es un par de números dados en un orden determinado y que está constituido por un número real y un número imaginario. Con estos números podremos representar un punto cualquiera en el plano. En el capítulo XXXII se presentará una discusión amplia sobre estos números.





**ALGEBRA EN EL ANTIGUO EGIPTO (5.000-500 A.C.)**  
En Egipto, maravilloso pueblo de faros y de faraones, encontramos los primeros vestigios del desarrollo de una ciencia matemática. Sus exigencias vinculadas a las periódicas inundaciones del Nilo,

los llevaron a perfeccionar la Aritmética y la Geometría. En el papiro de Rhind, debido al escriba Ahmes (1650 A.C.), el más valioso y antiguo documento matemático que existe, se presentan entre múltiples problemas, soluciones de ecuaciones de segundo grado.

## CAPITULO

### SUMA

**33 LA SUMA O ADICION** es una operación que tiene por objeto reunir dos o más expresiones algebraicas (sumandos) en una sola expresión algebraica (suma).

Así, la suma de  $a$  y  $b$  es  $a+b$ , porque esta última expresión es la reunión de las dos expresiones algebraicas dadas:  $a$  y  $b$ .

La suma de  $a$  y  $-b$  es  $a-b$ , porque esta última expresión es la reunión de las dos expresiones dadas:  $a$  y  $-b$ .

### 34 CARACTER GENERAL DE LA SUMA ALGEBRAICA

En Aritmética, la suma siempre significa aumento, pero en Álgebra la suma es un concepto más general, pues puede significar aumento o disminución, ya que hay sumas algebraicas como la del último ejemplo, que equivale a una resta en Aritmética.

Resulta, pues, que sumar una cantidad negativa equivale a restar una cantidad positiva de igual valor absoluto.

Así, la suma de  $m$  y  $-n$  es  $m-n$ , que equivale a restar de  $m$  el valor absoluto de  $-n$  que es  $|n|$ .

La suma de  $-2x$  y  $-3y$  es  $-2x-3y$ , que equivale a restar de  $-2x$  el valor absoluto de  $-3y$  que es  $|3y|$ .

### 35 REGLA GENERAL PARA SUMAR

Para sumar dos o más expresiones algebraicas se escriben unas a continuación de las otras con sus propios signos y se reducen los términos semejantes si los hay.

#### 1. SUMA DE MONOMIOS

1) Sumar  $5a$ ,  $6b$  y  $8c$ .

Los escribimos unos a continuación de otros con sus propios signos, y como  $5a=+5a$ ,  $6b=+6b$  y  $8c=+8c$  la suma será:  $5a+6b+8c$ .

El orden de los sumandos no altera la suma. Así,  $5a+6b+8c$  es lo mismo que  $5a+8c+6b$  o que  $6b+8c+5a$ .

Esta es la Ley Conmutativa de la suma.

2) Sumar  $3a^2b$ ,  $4ab^2$ ,  $a^2b$ ,  $7ab^2$  y  $6b^3$ .

Tendremos:  $3a^2b+4ab^2+a^2b+7ab^2+6b^3$ .

Reduciendo los términos semejantes, queda:  $4a^2b+11ab^2+6b^3$ .

3) Sumar  $3a$  y  $-2b$ .

Cuando algún sumando es negativo, suele incluirse dentro de un paréntesis para indicar la suma; así:  $3a+(-2b)$ .

La suma será:  $3a-2b$ . R.

4) Sumar  $7a$ ,  $-8b$ ,  $-15a$ ,  $9b$ ,  $-4c$  y  $8$ .

Tendremos:  $7a+(-8b)+(-15a)+9b+(-4c)+8=7a-8b-15a+9b-4c+8=-8a+b-4c+8$ .

5) Sumar  $\frac{2}{3}a^2$ ,  $\frac{1}{2}ab$ ,  $-2b^2$ ,  $-\frac{3}{4}ab$ ,  $\frac{1}{3}a^2$ ,  $-\frac{3}{5}b^2$ .

$$\begin{aligned} & \frac{2}{3}a^2 + \frac{1}{2}ab + (-2b^2) + (-\frac{3}{4}ab) + \frac{1}{3}a^2 + (-\frac{3}{5}b^2) \\ &= \frac{2}{3}a^2 + \frac{1}{2}ab - 2b^2 - \frac{3}{4}ab + \frac{1}{3}a^2 - \frac{3}{5}b^2 = a^2 - \frac{1}{4}ab - \frac{13}{5}b^2. \quad \text{R.} \end{aligned}$$

#### EJERCICIO 15

Sumar:

- |                  |                                     |  |   |
|------------------|-------------------------------------|--|---|
| 1. $m, n$ .      | 11. $-11m, 8m$ .                    | 18. $-\frac{1}{2}xy, -\frac{1}{2}xy$ .   | 24. $a, -b, 2c$ .                                 |
| 2. $m, -n$ .     | 12. $9ab, -15ab$ .                  | 19. $-\frac{3}{5}abc, -\frac{2}{5}abc$ . | 25. $3m, -2n, 4p$ .                               |
| 3. $-3a, 4b$ .   | 13. $-xy, -9xy$ .                   | 20. $-4x^2y, \frac{3}{5}x^2y$ .          | 26. $a^2, -7ab, -c$ .                             |
| 4. $5b, -6a$ .   | 14. $mn, -11mn$ .                   | 21. $\frac{5}{8}mn, -\frac{3}{4}mn$ .    | 27. $x^2, -3xy, -z$ .                             |
| 5. $7, -6$ .     | 15. $\frac{1}{2}a, -\frac{2}{3}b$ . | 22. $a, b, c$ .                          | 28. $x^3, -x^2y, 6$ .                             |
| 6. $-6, 9$ .     | 16. $\frac{3}{5}b, \frac{3}{4}c$ .  | 23. $a, -b, c$ .                         | 29. $2a, -b, 3a$ .                                |
| 7. $-2x, 3y$ .   | 17. $\frac{1}{3}b, \frac{2}{3}b$ .  |  | 30. $-m, -8n, 4p$ .                               |
| 8. $5mn, -m$ .   |                                     |  | 31. $-7a, 8a, -b$ .                               |
| 9. $5a, 7a$ .    |                                     |  | 32. $\frac{1}{2}x, \frac{2}{3}y, -\frac{3}{4}z$ . |
| 10. $-8x, -5x$ . |                                     |  |   |



$$\frac{a}{5}m, -m, -\frac{2}{5}mn.$$

$$a^2, 5ab, 3b^2, -a^2.$$

$$mn^2, -5m, 17mn^2, -4m.$$

$$-8x^2y, 5, -7x^3, 4x^2y.$$

$$3, 9xy, -6xy, 7y^2, -x^2.$$

$$a^2b, 5ab^2, -a^2b, -11ab^2, -7b^3.$$

$$, -8m^2n, 7mn^2, -n^3, 7m^2n.$$

$$a, \frac{2}{9}b, -\frac{1}{4}a, \frac{1}{5}b, -6.$$

$$-3b, -8c, 4b, -a, 8c.$$

$$42. m^3, -4m^2n, 5m^3, -7mn^2, -4m^2n, -5m^3.$$

$$43. 9x, -11y, -x, -6y, 4z, -6z.$$

$$44. 6a^2, -7b^2, -11, -5ab, 9a^2, -8b^2.$$

$$45. -x^2y^2, -5xy^3, -4y^4, 7xy^3, -8, x^2y^2.$$

$$46. 3a, \frac{1}{2}b, -4, -b, -\frac{1}{2}a, 6.$$

$$47. \frac{1}{2}x^2, \frac{2}{3}xy, \frac{5}{9}y^2, -\frac{1}{3}xy, \frac{3}{4}x^2, -\frac{5}{6}y^2.$$

$$48. 5a^x, -6a^{x+1}, 8a^{x+2}, a^{x+1}, 5a^{x+1}, -5a^x.$$

$$49. \frac{3}{4}x^2, -\frac{2}{3}xy, \frac{1}{9}y^2, -\frac{1}{9}xy, x^2, 5y^2.$$

$$50. \frac{3}{4}a^2b, \frac{1}{2}ab^2, -\frac{1}{4}a^2b, \frac{1}{2}ab^2, a^2b, -\frac{5}{9}ab^2.$$

## Ejemplo

Sumar  $8a - 3b + 5c - d$ ,  $-2b + c - 4d$  y  $-3a + 5b - c$  y probar el resultado por el valor numérico para  $a = 1$ ,  $b = 2$ ,  $c = 3$ ,  $d = 4$ .

$$\begin{array}{rclcl} \text{Tendremos:} & 8a - 3b + 5c - d & = & 8 - 6 + 15 - 4 & = & 13 \\ & -2b + c - 4d & = & -4 + 3 - 16 & = & -17 \\ & -3a + 5b - c & = & -3 + 10 - 3 & = & 4 \\ \hline & 5a & + & 5c - 5d & & 5 & + & 15 - 20 & = & 0 \end{array}$$

La suma de los valores numéricos de los sumandos  $13 - 17 + 4 = 0$ , igual que el valor numérico de la suma que también es cero.

## EJERCICIO 16

Hallar la suma de:

- $3a + 2b - c$ ;  $2a + 3b + c$ .
- $7a - 4b + 5c$ ;  $-7a + 4b - 6c$ .
- $m + n - p$ ;  $-m - n + p$ .
- $9x - 3y + 5$ ;  $-x - y + 4$ ;  $-5x + 4y - 9$ .
- $a + b - c$ ;  $2a + 2b - 2c$ ;  $-3a - b + 3c$ .
- $p + q + r$ ;  $-2p - 6q + 3r$ ;  $p + 5q - 8r$ .
- $-7x - 4y + 6z$ ;  $10x - 20y - 8z$ ;  $-5x + 24y + 2z$ .
- $-2m + 3n - 6$ ;  $3m - 8n + 8$ ;  $-5m + n - 10$ .
- $-5a - 2b - 3c$ ;  $7a - 3b + 5c$ ;  $-8a + 5b - 3c$ .
- $ab + bc + cd$ ;  $-8ab - 3bc - 3cd$ ;  $5ab + 2bc + 2cd$ .
- $ax - ay - az$ ;  $-5ax - 7ay - 6az$ ;  $4ax + 9ay + 8az$ .
- $5x - 7y + 8$ ;  $-y + 6 - 4x$ ;  $9 - 3x + 8y$ .
- $-am + 6mn - 4s$ ;  $6s - am - 5mn$ ;  $-2s - 5mn + 3am$ .
- $2a + 3b$ ;  $6b - 4c$ ;  $-a + 8c$ .
- $6m - 3n$ ;  $-4n + 5p$ ;  $-m - 5p$ .
- $2a + 3b$ ;  $5c - 4$ ;  $8a + 6$ ;  $7c - 9$ .
- $2x - 3y$ ;  $5z + 9$ ;  $6x - 4$ ;  $3y - 5$ .
- $8a + 3b - c$ ;  $5a - b + c$ ;  $-a - b - c$ ;  $7a - b + 4c$ .
- $7x + 2y - 4$ ;  $9y - 6z + 5$ ;  $-y + 3z - 6$ ;  $-5 + 8x - 3y$ .
- $-m - n - p$ ;  $m + 2n - 5$ ;  $3p - 6m + 4$ ;  $2n + 5m - 8$ .
- $5a^4 - 3a^m - 7a^n$ ;  $-8a^2 + 5a^m - 9a^2$ ;  $-11a^4 + 5a^m + 16a^n$ .
- $6m^{n+1} - 7m^{n+2} - 5m^{n+3}$ ;  $4m^{n+1} - 7m^{n+2} - m^{n+3}$ ;  $-5m^{n+1} + 3m^{n+2} + 12m^{n+3}$ .
- $8x + y + z + u$ ;  $-3x - 4y - 2z + 3u$ ;  $4x + 5y + 3z - 4u$ ;  $-9x - y + z + 2u$ .
- $a + b - c + d$ ;  $a - b + c - d$ ;  $-2a + 3b - 2c + d$ ;  $-3a - 3b + 4c - d$ .
- $5ab - 3bc + 4cd$ ;  $2bc + 2cd - 3de$ ;  $4bc - 2ab + 3de$ ;  $-3bc - 6cd - ab$ .
- $a - b$ ;  $b - c$ ;  $c + d$ ;  $a - c$ ;  $c - d$ ;  $d - a$ ;  $a - d$ .

$$3) \text{ Sumar } 3x^2 - 4xy + y^2, -5xy + 6x^2 - 3y^2 \text{ y } -6y^2 - 8xy - 9x^2.$$

Si los polinomios que se suman pueden ordenarse con relación a una letra, deben ordenarse todos con relación a una misma letra antes de sumar.

Así, en este caso vamos a ordenar en orden descendente con relación a  $x$  y tendremos:

$$\begin{array}{r} 3x^2 - 4xy + y^2 \\ 6x^2 - 5xy - 3y^2 \\ -9x^2 - 8xy - 6y^2 \\ \hline -17xy - 8y^2 \end{array}$$

## II. SUMA DE POLINOMIOS

$$1) \text{ Sumar } a - b, 2a + 3b - c \text{ y } -4a + 5b.$$

La suma suele indicarse incluyendo los sumandos dentro de paréntesis; así:  $(a - b) + (2a + 3b - c) + (-4a + 5b)$ .

Ahora colocamos todos los términos de estos polinomios unos a continuación de otros con sus propios signos, y tendremos:

$$a - b + 2a + 3b - c - 4a + 5b = -a + 7b - c. \quad R.$$

En la práctica, suelen colocarse los polinomios unos debajo de los otros de modo que los términos semejantes queden en columna; se hace la reducción de éstos, separándolos unos de otros con sus propios signos.

$$\begin{array}{r} \text{Así, la suma anterior se verifica de esta manera:} \\ \begin{array}{r} a - b \\ 2a + 3b - c \\ -4a + 5b \\ \hline -a + 7b - c. \quad R. \end{array} \end{array}$$

$$2) \text{ Sumar } 3m - 2n + 4, 6n + 4p - 5, 8n - 6 \text{ y } m - n - 4p.$$

$$\begin{array}{r} \text{Tendremos:} \\ \begin{array}{r} 3m - 2n + 4 \\ 6n + 4p - 5 \\ 8n - 6 \\ m - n - 4p \\ \hline 4m + 11n - 7. \quad R. \end{array} \end{array}$$

## 36 PRUEBA DE LA SUMA POR EL VALOR NUMERICO

Se halla el valor numérico de los sumandos y de la suma para los mismos valores, que fijamos nosotros, de las letras. Si la operación está correcta, la suma algebraica de los valores numéricos de los sumandos debe ser igual al valor numérico de la suma.



## 4) Sumar

$$a^3b - b^4 + ab^3, -2a^2b^2 + 4ab^3 + 2b^4 \text{ y } 5a^3b - 4ab^3 - 6a^2b^2 - b^4 - 6.$$

Ordenando con relación a la  $a$ se tiene: \_\_\_\_\_

$$\begin{array}{r} a^3b + ab^3 - b^4 \\ - 2a^2b^2 + 4ab^3 + 2b^4 \\ 5a^3b - 6a^2b^2 - 4ab^3 - b^4 - 6 \\ 6a^3b - 8a^2b^2 + ab^3 - 6 \end{array} \quad \text{R.}$$

## EJERCICIO 17

Hallar la suma de:

1.  $x^2+4x; -5x+x^2;$
2.  $x^2+ab; -2ab+b^2.$
3.  $x^3+2x; -x^2+4.$
4.  $x^4-3a^2; a^3+4a.$
5.  $-x^2+3x; x^3+6.$
6.  $x^2-4x; -7x+6; 3x^2-5.$
7.  $x^2+n^2; -3mn+4n^2; -5m^2-5n^2.$
8.  $3x+x^3; -4x^2+5; -x^3+4x^2-6.$
9.  $x^2-3xy+y^2; -2y^2+3xy-x^2; x^2+3xy-y^2.$
10.  $a^2-3ab+b^2; -5ab+a^2-b^2; 8ab-b^2-2a^2.$
11.  $-7x^2+5x-6; 8x-9+4x^2; -7x+14-x^2.$
12.  $a^3-4a+5; a^3-2a^2+6; a^2-7a+4.$
13.  $-x^2+x-6; x^3-7x^2+5; -x^3+8x-5.$
14.  $a^3-b^3; 5a^2b-4ab^2; a^3-7ab^2-b^3.$
15.  $x^3+xy^2+y^3; -5x^2y+x^3-y^3; 2x^3-4xy^2-5y^3.$
16.  $-7m^2n+4n^3; m^3+6mn^2-n^3; -m^3+7m^2n+5n^3.$
17.  $x^4-x^2+x; x^3-4x^2+5; 7x^2-4x+6.$
18.  $a^4+a^0+6; a^5-3a^3+8; a^3-a^2-14.$
19.  $x^5+x-9; 3x^4-7x^2+6; -3x^3-4x+5.$
20.  $a^3+a; a^2+5; 7a^2+4a; -8a^2-6.$
21.  $x^4-x^2y^2; -5x^3y+6xy^3; -4xy^2+y^4; -4x^2y^2-6.$
22.  $xy+x^2; -7y^2+4xy-x^2; 5y^2-x^2+6xy; -6x^2-4xy+y^2.$
23.  $a^3-8ax^2+x^3; 5a^2x-6ax^2-x^3; 3a^3-5a^2x-x^3; a^3+14ax^2-x^3.$
24.  $-8a^2m+6am^2-m^3; a^3-5am^2+m^3; -4a^3+4a^2m-3am^2; 7a^3m-4am^2-6.$
25.  $x^5-x^3y^2-xy^4; 2x^4y+3x^2y^3-y^5; 3x^3y^2-4xy^4-y^5; x^5+5xy^4+2y^5.$
26.  $a^5+a^0+a^3; a^4+a^3+6; 3a^2+5a-8; -a^5-4a^2-5a+6.$
27.  $a^4-b^4; -a^3b+a^2b^2-ab^3; -3a^4+5a^3b-4a^2b^2; -4a^3b+3a^2b^2-3b^4.$
28.  $m^3-n^3+6m^2n; -4m^2n+5mn^2+n^3; m^3-n^3+6mn^2; -2m^3-2m^2n+n^3.$
29.  $a^x-3a^{x-2}; 5a^{x-1}+6a^{x-3}; 7a^{x-1}+a^{x-4}; a^{x-1}-13a^{x-3}.$
30.  $a^{x+2}-a^x+a^{x+1}; -3a^{x+3}-a^{x-1}+a^{x-2}; -a^x+4a^{x+2}-5a^{x+2}; a^{x-1}-a^{x-2}+a^{x+2}.$

## 37 SUMA DE POLINOMIOS CON COEFICIENTES FRACCIONARIOS

1) Sumar  $\frac{1}{3}x^3 + 2y^3 - \frac{2}{5}x^2y + 3, -\frac{1}{10}x^2y + \frac{3}{4}xy^2 - \frac{5}{7}y^3, -\frac{1}{2}y^3 + \frac{1}{8}xy^2 - 5.$

Tendremos:

$$\begin{array}{r} \frac{1}{3}x^3 - \frac{2}{5}x^2y + 2y^3 + 3 \\ - \frac{1}{10}x^2y + \frac{3}{4}xy^2 - \frac{5}{7}y^3 \\ \frac{1}{8}xy^2 - \frac{1}{2}y^3 - 5 \\ \hline \frac{1}{3}x^3 - \frac{1}{2}x^2y + \frac{7}{8}xy^2 + \frac{15}{14}y^3 - 2. \end{array} \quad \text{R.}$$

## EJERCICIO 18

Hallar la suma de:

1.  $\frac{1}{2}x^2 + \frac{1}{8}xy; \frac{1}{2}xy + \frac{1}{4}y^2.$
2.  $a^2 + \frac{1}{2}ab; -\frac{1}{4}ab + \frac{1}{2}b^2; -\frac{1}{4}ab - \frac{1}{5}b^2.$
3.  $x^2 + \frac{2}{3}xy; -\frac{1}{6}xy + y^2; -\frac{5}{6}xy + \frac{2}{3}y^2.$
4.  $\frac{3}{4}x^2 - \frac{1}{2}y^2; -\frac{2}{6}xy + \frac{1}{6}y^2; \frac{1}{10}xy + \frac{1}{3}y^2.$
5.  $\frac{2}{3}a^3 + \frac{1}{5}ab - \frac{1}{2}b^2; \frac{5}{6}a^2 - \frac{1}{10}ab + \frac{1}{6}b^3; -\frac{1}{12}a^2 + \frac{1}{20}ab - \frac{1}{8}b^2.$
6.  $\frac{5}{6}x^2 - \frac{2}{3}y^2 + \frac{3}{4}xy; -\frac{1}{2}xy - \frac{1}{6}x^2 + \frac{1}{8}y^2; \frac{5}{6}xy - \frac{1}{3}x^2 + \frac{1}{4}y^2.$
7.  $a^3 - \frac{1}{2}ab^2 + b^3; \frac{5}{6}a^2b - \frac{3}{8}ab^2 - 2b^3; \frac{1}{4}a^3 - \frac{1}{2}a^2b - \frac{3}{6}b^3.$
8.  $x^4 - x^2 + 5; \frac{2}{3}x^3 - \frac{3}{8}x - 3; -\frac{3}{6}x^4 + \frac{5}{6}x^3 - \frac{5}{4}x.$
9.  $\frac{2}{3}m^3 - \frac{1}{4}mn^2 + \frac{2}{5}n^3; \frac{1}{6}m^2n + \frac{1}{8}mn^2 - \frac{5}{6}n^3; m^3 - \frac{1}{2}n - n^3.$
10.  $x^4 + 2x^2y^2 + \frac{2}{7}y^4; -\frac{5}{6}x^4 + \frac{3}{8}x^2y^2 - \frac{1}{6}xy^3 - \frac{1}{16}y^4; -\frac{5}{6}x^3y - \frac{1}{4}x^2y^2 + \frac{1}{7}y^4.$
11.  $x^5 - \frac{2}{3}x^3 + \frac{4}{5}x; -3x^5 + \frac{9}{8}x^2 - \frac{1}{10}x; -\frac{3}{5}x^4 + \frac{1}{6}x^3 - \frac{1}{4}x^2; -\frac{1}{12}x^3 + \frac{3}{5}x - 4.$
12.  $\frac{2}{9}a^3 + \frac{5}{6}ax^2 - \frac{1}{8}x^3; -\frac{3}{7}a^2x - \frac{2}{5}ax^2 - \frac{1}{6}x^3; -\frac{2}{3}a^3 + \frac{1}{2}a^2x - \frac{1}{4}ax^2.$
13.  $a^6 - a^4 + a^2; \frac{3}{5}a^5 - \frac{8}{6}a^3 - \frac{1}{2}a; -\frac{5}{7}a^4 - \frac{5}{8}a^2 + 6; -\frac{3}{8}a - 6.$
14.  $x^5 - y^5; \frac{1}{10}x^3y^2 - \frac{3}{4}xy^4 - \frac{1}{6}y^5; \frac{3}{5}x^4y - \frac{5}{6}x^2y^3 - \frac{1}{6}y^5; 2x^4y - \frac{2}{5}x^2y^2 - \frac{1}{8}y^5.$

## EJERCICIO 19

Sumar las expresiones siguientes y hallar el valor numérico del resultado para  $a=2, b=3, c=10, x=5, y=4, m=\frac{2}{3}, n=\frac{1}{6}.$

1.  $4x-5y; -3x+6y-8; -x+y.$
2.  $x^2-5x+8; -x^2+10x-30; -6x^2+5x-50.$
3.  $x^4-y^4; -5x^2y^2-8+2x^4; -4x^4+7x^3y+10xy^3.$
4.  $3m-5n+6; -6m+8-20n; -20n+12m-12.$
5.  $nx+cn-ab; -ab+8nx-2cn; -ab+nx-5.$
6.  $a^3+b^3; -3a^2b+8ab^2-b^3; -5a^3-6ab^2+8; 3a^2b-2b^3.$
7.  $27m^3+125n^3; -9m^2n+25mn^2; -14mn^2-8; 11mn^2+10m^2n.$
8.  $x^{n-1}+y^{n-2}+m^{n-1}; 2x^{n-1}-2y^{n-2}-2m^{n-1}; 3y^{n-2}-2m^{n-1}.$
9.  $n^{n-1}-m^{n-3}+8; -5n^{n-1}-3m^{n-3}+10; 4n^{n-1}+5m^{n-2}-18.$
10.  $x^3y-xy^3+5; x^4-x^2y^2+5x^3y-6; -6xy^3+x^2y^2+2; -y^4+3xy^3+1.$
11.  $\frac{9}{4}a^2+\frac{2}{3}b^2; -\frac{1}{8}ab+\frac{1}{9}b^2; \frac{1}{6}ab-\frac{1}{8}b^2.$
12.  $\frac{9}{17}m^3+\frac{25}{34}n^2-\frac{1}{4}; -15mn+\frac{1}{2}; \frac{5}{17}n^2+\frac{7}{34}m^2-\frac{1}{4}; -\frac{7}{34}m^2-30mn+3.$
13.  $\frac{1}{2}b^2m-\frac{3}{5}cn-2; \frac{8}{4}b^2m+6-\frac{1}{10}cn; -\frac{1}{4}b^2m+\frac{1}{25}cn+4; 2cn+\frac{3}{5}-\frac{1}{8}b^2m.$
14.  $0.2a^3+0.4ab^2-0.5a^2b; -0.8b^3+0.6ab^2-0.3a^2b; -0.4a^3+6-0.8a^2b; 0.2a^3+0.9b^3+1.5a^2b.$





**CULO EN CALDEA Y ASIRIA (5.000-500)**  
No ha sido sino recientemente que se ha de manifiesto la enorme contribución de los asirios y babilonios al acervo matemático de la humanidad. En tablillas descifradas hace muy poco

tiempo (1930), figuran operaciones algebraicas con ecuaciones de segundo grado y tablas de potencias que requieren un dominio de la matemática elemental, pero no supone esto que los caldeos tuvieran toda una concepción abstracta de las matemáticas.

## CAPITULO II

### RESTA

**38 LA RESTA O SUSTRACCION** es una operación que tiene por objeto, dada una suma de dos sumandos (minuendo) y uno de ellos (sustraendo), hallar el otro sumando (resta o diferencia).

Es evidente, de esta definición, que la suma del sustraendo y la diferencia tiene que ser el minuendo.

Si de  $a$  (minuendo) queremos restar  $b$  (sustraendo), la diferencia será  $a - b$ . En efecto:  $a - b$  será la diferencia si sumada con el sustraendo  $b$  reproduce el minuendo  $a$ , y en efecto:  $a - b + b = a$ .

### 39 REGLA GENERAL PARA RESTAR

Se escribe el minuendo con sus propios signos y a continuación el sustraendo con los signos cambiados y se reducen los términos semejantes, si los hay.

#### 1. RESTA DE MONOMIOS

1) De  $-4$  restar  $7$ .

Escribimos el minuendo  $-4$  con su propio signo y a continuación el sustraendo  $7$  con el signo cambiado y la resta será:

$$-4 - 7 = -11. \quad R.$$

En efecto:  $-11$  es la diferencia porque sumada con el sustraendo  $7$  reproduce el minuendo  $-4$ :

$$-11 + 7 = -4.$$

2) Restar  $4b$  de  $2a$ .

Escribimos el minuendo  $2a$  con su signo y a continuación el sustraendo  $4b$  con el signo cambiado y la resta será:

$$2a - 4b.$$

En efecto:  $2a - 4b$  es la diferencia, porque sumada con el sustraendo  $4b$  reproduce el minuendo:

$$2a - 4b + 4b = 2a.$$

3) Restar  $4a^2b$  de  $-5a^2b$ .

Escribo el minuendo  $-5a^2b$  y a continuación el sustraendo  $4a^2b$  con el signo cambiado y tengo:

$$-5a^2b - 4a^2b = -9a^2b.$$

$-9a^2b$  es la diferencia, porque sumada con el sustraendo  $4a^2b$  reproduce el minuendo:

$$-9a^2b + 4a^2b = -5a^2b.$$

4) De  $7$  restar  $-4$ .

Cuando el sustraendo es negativo suele incluirse dentro de un paréntesis para indicar la operación, de este modo distinguimos el signo  $-$  que indica la resta del signo  $-$  que señala el carácter negativo del sustraendo. Así:

$$7 - (-4) = 7 + 4 = 11.$$

El signo  $-$  delante del paréntesis está para indicar la resta y este signo no tiene más objeto que decirnos, de acuerdo con la regla general para restar, que debemos cambiar el signo al sustraendo  $-4$ . Por eso a continuación del minuendo  $7$  escribimos  $+4$ .

5) De  $7x^3y^4$  restar  $-8x^3y^4$ .

Tendremos:  $7x^3y^4 - (-8x^3y^4) = 7x^3y^4 + 8x^3y^4 = 15x^3y^4. \quad R.$

6) De  $-\frac{1}{2}ab$  restar  $-\frac{3}{4}ab$ .

Tendremos:  $-\frac{1}{2}ab - (-\frac{3}{4}ab) = -\frac{1}{2}ab + \frac{3}{4}ab = \frac{1}{4}ab. \quad R.$

### 40 CARACTER GENERAL DE LA RESTA ALGEBRAICA

En Aritmética la resta siempre implica disminución, mientras que la resta algebraica tiene un carácter más general, pues puede significar disminución o aumento.

Hay restas algebraicas, como las de los ejemplos 4 y 5 anteriores, en que la diferencia es mayor que el minuendo.

Los ejemplos 4, 5 y 6 nos dicen que restar una cantidad negativa equivale a sumar la misma cantidad positiva.

### EJERCICIO 20

De:

1. $-8$	restar	5.	6. $2a$	restar	3b.	11. $-9a^2$	restar	5b <sup>3</sup>
2. $-7$	"	4.	7. $3b$	"	2.	12. $-7xy$	"	$-5yz$
3. $8$	"	11.	8. $4x$	"	6b.	13. $3a$	"	$4a$
4. $-8$	"	$-11$ .	9. $-5a$	"	6b.	14. $11m^2$	"	$25m$
5. $-1$	"	$-9$ .	10. $-8x$	"	$-3$ .	15. $-6x^2y$	"	$-x^2y$



11a <sup>3</sup> m <sup>2</sup> restar -7a <sup>3</sup> m <sup>2</sup> .	22. 6a <sup>n</sup> restar -5a <sup>n</sup> .	27. - $\frac{2}{3}$ restar $\frac{8}{4}$ .
8ab <sup>2</sup> " -8ab <sup>2</sup> .	23. -45a <sup>n-1</sup> " -60a <sup>n-1</sup> .	28. $\frac{1}{8}x^2$ " $-\frac{2}{3}x^2$ .
31x <sup>2</sup> y " -46x <sup>2</sup> y.	24. 54b <sup>n-1</sup> " -86b <sup>n-1</sup> .	29. $\frac{4}{5}x^2y$ " $-\frac{6}{8}x^2y$ .
84a <sup>2</sup> b " -84a <sup>2</sup> b.	25. -35m <sup>n</sup> " -60m <sup>n</sup> .	30. $-\frac{1}{8}ab^2$ " $-\frac{8}{4}ab^2$ .
3a <sup>n+1</sup> " 5b <sup>n+2</sup> .		
3x <sup>n+2</sup> " 11.	26. 5 " $-\frac{1}{2}$ .	

## Restar

3 de -2.	43. -a de 3a.	55. 54a <sup>n+2</sup> de -85a <sup>n+2</sup> .
1 " 7.	44. -3b " -4b.	56. -6a " $\frac{1}{4}$ .
5 " -8.	45. -11x <sup>3</sup> " 54x <sup>3</sup> .	57. -5 " $-\frac{2}{3}$ .
4 " 5.	46. 14a <sup>2</sup> b " 78a <sup>2</sup> b.	58. $\frac{8}{5}m^3$ " $-\frac{7}{10}m^3$ .
7 " -7.	47. -43a <sup>2</sup> y " -54a <sup>2</sup> y.	59. $-\frac{11}{12}a^2b^2$ " $\frac{5}{6}a^2b^2$ .
5 " 2a.	48. 9ab " -ab.	60. 45a <sup>3</sup> b <sup>2</sup> " $-\frac{1}{9}a^3b^2$ .
b " -3x.	49. -31x <sup>2</sup> y " -31x <sup>2</sup> y.	
5m " -2n.	50. a <sup>x</sup> " -3a <sup>x</sup> .	
6a " 3b.	51. -7a <sup>n+1</sup> " 311a <sup>n+1</sup> .	
5a <sup>n</sup> " 8b.	52. 9m <sup>x</sup> " 105m <sup>x</sup> .	
9 " -7a.	53. 18a <sup>n-1</sup> " -31a <sup>n-1</sup> .	
25 " 25ab.	54. -19m <sup>n</sup> " -236m <sup>n</sup> .	

## II. RESTA DE POLINOMIOS

- 41 Cuando el sustraendo es un polinomio, hay que restar del minuendo cada uno de los términos del sustraendo, así que a continuación del minuendo escribiremos el sustraendo cambiándole el signo a todos sus términos.

## Ejemplos

- (1) De  $4x - 3y + z$  restar  $2x + 5z - 6$ .

La sustracción se indica incluyendo el sustraendo en un paréntesis precedido del signo -, así:

$$4x - 3y + z - (2x + 5z - 6).$$

Ahora, dejamos el minuendo con sus propios signos y a continuación escribimos el sustraendo cambiándole el signo a todos sus términos y tendremos:

$$4x - 3y + z - 2x - 5z + 6.$$

Reduciendo los términos semejantes, tendremos:

$$2x - 3y - 4z + 6. \text{ R.}$$

En la práctica suele escribirse el sustraendo con sus signos cambiados debajo del minuendo, de modo que los términos semejantes queden en columna y se hace la reducción de éstos, separándolos unos de otros con sus propios signos.

Así, la resta anterior se verifica de esta manera:

$$\begin{array}{r} 4x - 3y + z \\ - 2x \quad - 5z + 6 \\ \hline 2x - 3y - 4z + 6. \text{ R.} \end{array}$$

## PRUEBA

La diferencia sumada con el sustraendo debe dar el minuendo.

En el ejemplo anterior, sumando la diferencia  $2x - 3y - 4z + 6$ , con el sustraendo  $2x + 5z - 6$ , tendremos:

$$\begin{array}{r} 2x - 3y - 4z + 6 \\ 2x \quad + 5z - 6 \\ \hline 4x - 3y + z \quad (\text{minuendo}). \end{array}$$

- (2) Restar  $-4a^5b - ab^5 + 6a^3b^3 - a^2b^4 - 3b^6$  de  $8a^4b^2 + a^6 - 4a^2b^4 + 6ab^5$ .

Al escribir el sustraendo, con sus signos cambiados, debajo del minuendo, deben ordenarse ambos con relación a una misma letra.

Así, en este caso, ordenando en orden descendente con relación a la  $a$  tendremos:

$$\begin{array}{r} a^6 \quad + 8a^4b^2 \quad - 4a^2b^4 + 6ab^5 \\ + 4a^5b \quad - 6a^3b^3 + a^2b^4 + ab^5 + 3b^6 \\ \hline a^6 + 4a^5b + 8a^4b^2 - 6a^3b^3 - 3a^2b^4 + 7ab^5 + 3b^6 \end{array}$$

La diferencia sumada con el sustraendo, debe darnos el minuendo:

$$\begin{array}{r} a^6 + 4a^5b + 8a^4b^2 - 6a^3b^3 - 3a^2b^4 + 7ab^5 + 3b^6 \\ - 4a^5b \quad + 6a^3b^3 - a^2b^4 - ab^5 - 3b^6 \\ \hline a^6 \quad + 8a^4b^2 \quad - 4a^2b^4 + 6ab^5 \quad (\text{minuendo}) \end{array}$$

- (3) Restar  $-8a^2x + 6 - 5ax^2 - x^3$  de  $7a^3 + 8a^2x + 7ax^2 - 4$  y probar el resultado por el valor numérico.

Efectuemos la resta ordenando con relación a la  $x$ :

$$\begin{array}{r} 7ax^2 + 8a^2x + 7a^3 - 4 \\ x^3 + 5ax^2 + 8a^2x \quad - 6 \\ \hline x^3 + 12ax^2 + 16a^2x + 7a^3 - 10. \end{array}$$

La prueba del valor numérico se efectúa hallando el valor numérico del minuendo, del sustraendo con los signos cambiados y de la diferencia para un mismo valor de las letras (el valor de cada letra lo escogemos nosotros). Reduciendo el valor numérico de minuendo y sustraendo con el signo cambiado, debe darnos el valor numérico de la diferencia.

Así, en el ejemplo anterior para  $a=1$ ,  $x=2$ , tendremos:

$$\begin{array}{r} 7ax^2 + 8a^2x + 7a^3 - 4 = 28 + 16 + 7 - 4 = 47 \\ x^3 + 5ax^2 + 8a^2x \quad - 6 = 8 + 20 + 16 \quad - 6 = 48 \\ \hline x^3 + 12ax^2 + 16a^2x + 7a^3 - 10 = 8 + 48 + 32 + 7 - 10 = 95 \end{array}$$

## EJERCICIO 21

De:

- $a+b$  restar  $a-b$ .
- $2x-3y$  restar  $-x+2y$ .
- $8a+b$  restar  $-3a+4$ .
- $x^3-3x$  restar  $-5x+6$ .
- $a^3-a^2b$  restar  $7a^2b+9ab^2$ .
- $x-y+z$  restar  $x-y+z$ .
- $x+y-z$  restar  $-x-y+z$ .
- $x^2+y^2-3xy$  restar  $-y^2+3x^2-4xy$ .
- $x^3-x^2+6$  restar  $5x^2-4x+6$ .
- $y^2+6y^3-8$  restar  $2y^4-3y^2+6y$ .
- $a^3-6ab^2+9a$  restar  $15a^2b-8a+5$ .
- $x^4+9xy^3-11y^4$  restar  $-8x^4y-6x^2y^2+20y^4$ .
- $a+b+c-d$  restar  $-a-b+c-d$ .
- $ab+2ac-3cd-5de$  restar  $-4ac+8ab-5cd+5d$ .
- $x^3-9x+6x^2-19$  restar  $-11x^2+21x-43+6x^3$ .
- $y^3-9y^4+6y^2-31$  restar  $-11y^4+31y^3-8y^2-19y$ .
- $5m^3-9n^3+6m^2n-8mn^2$  restar  $14mn^2-21m^2n+5m^3-18$ .
- $4x^3y-19xy^3+y^4-6x^2y^2$  restar  $-x^4-51xy^3+32x^2y^2-25x^3y$ .
- $m^4+m^4n^2-9m^2n^4+19$  restar  $-13m^3n^5+16mn^6-30m^2n^4-61$ .
- $-a^5b+6a^3b^3-18ab^5+42$  restar  $-8a^6+9b^6-11a^4b^2-11a^2b^4$ .



21.  $1-x^2+x^4-x^6+3x-6x^5$  restar  $-x^0+8x^4-30x^2+15x-24$ .  
 22.  $-6x^2y^3+8x^3-23x^4y+80x^2y^2-18$  restar  $-y^5+9xy^4+80-21x^3y^2-51x^4y$ .  
 23.  $m^0-8m^4n^2+21m^2n^4+8-6mn^5$  restar  $-23m^5n+14m^3n^3-24mn^5+8n^4-14$ .  
 24.  $x^7-8x+16x^5-23x^2-15$  restar  $-8x^0+25x^4-30x^3+51x-18$ .  
 25.  $9a^6-15a^4b^2+31a^2b^4-b^6+14$  restar  $25a^3b-15a^4b^2+53a^3b^3-9ab^5+3b^0$ .  
 26.  $a^4+a^{4+1}-a^{4+2}$  restar  $5a^5-6a^{4+1}-a^{4+2}$ .  
 27.  $m^0-m^6-1+3m^{5-2}$  restar  $3m^{4+1}-4m^3+5m^{1-2}+8m^{6-2}$ .  
 28.  $a^{m+4}-7a^{m+2}-8a^{m+6}+6a^{m-1}$  restar  $-5a^{m+3}-14a^{m+2}-11a^{m+1}-8a^{m-1}$ .  
 29.  $x^{3+2}-7x^4+9x^{3-1}+25x^{2-2}$  restar  $-11x^{6+1}+19x^6+45x^{5-1}+60x^{6-5}$ .  
 30.  $m^{n+1}-6m^{n-2}+8m^{n-3}-19m^{n-6}$  restar  $8m^n+5m^{n-2}+6m^{n-3}+m^{n-4}+9m^{n-5}$ .

## EJERCICIO 22

Restar:

- $-b$  de  $b-a$ .  
 $-y$  de  $2x+3y$ .  
 $-5a+b$  de  $-7a+5$ .  
 $x^2-5x$  de  $-x^2+6$ .  
 $x^5-xy^2$  de  $x^2y+5xy^2$ .  
 $5a^2b-8a^3$  de  $7a^2b+5ab^2$ .  
 $-b+2c$  de  $-a+2b-3c$ .  
 $m-n+p$  de  $-3n+4m+5p$ .  
 $-x+y-z$  de  $x+3y-6z$ .  
 $3a^2+ab-6b^2$  de  $-5b^2+8ab+a^2$ .

11.  $m^2-n^2-3mn$  de  $-5m^2-n^2+6mn$ .  
 12.  $-x^3-x+6$  de  $-8x^2+5x-4$ .  
 13.  $m^3+14m^2+9$  de  $14m^2-8n+16$ .  
 14.  $ab-bc+6cd$  de  $8ab+5bc+6cd$ .  
 15.  $25a^2b-8ab^2-b^3$  de  $a^3-9a^2b-b^3$ .  
 16.  $xy^2-6y^3+4$  de  $6x^3-8x^2y-6xy^2$ .  
 17.  $m^2+7n-8c+d$  de  $m^2-9n+11c+14$ .  
 18.  $7a^3b+5ab^3-8a^2b^2+b^4$  de  $5a^4+9a^3b-40ab^3+6b^4$ .  
 19.  $6x^3-9x+6x^2-7$  de  $x^5-8x^4+25x^2+15$ .  
 20.  $x^5-x^2y^3+6xy^4+25y^5$  de  $-3xy^4-8x^2y^2-19y^5+18$ .

21.  $25x+25x^3-18x^2-11x^3-46$  de  $x^3-6x^4+8x^2-9+15x$ .  
 22.  $8a^4b+a^3b^2-15a^2b^3-45ab^4-8$  de  $a^3-26a^3b^2+8ab^4-b^5+6$ .  
 23.  $23y^3+8y^4-15y^5-8y-5$  de  $y^0+y^3+y^2+9$ .  
 24.  $7x^7+5x^6-23x^3+51x+36$  de  $x^5-x^0+3x^4-5x^2-9$ .  
 25.  $y^7-60x^4y^3+90x^3y^4-50xy^6-x^2y^5$  de  $x^7-3x^2y^2+35x^4y^3-8x^2y^5+60$ .  
 26.  $a^{x+2}-5a^{x+1}-6a^x$  de  $a^{x+3}-8a^{x+1}-5$ .  
 27.  $8a^{n-1}+5a^{n-2}+7a^n+a^{n-3}$  de  $-8a^n+16a^{n-4}+15a^{n-2}+a^{n-3}$ .  
 28.  $31x^{n+1}-9x^{n+2}-x^{n+4}-18x^{n-1}$  de  $15x^{n+3}+5x^{n+2}-6x^n+41x^{n-1}$ .  
 29.  $12a^{m-2}-5a^{m-1}-a^m-8a^{m-4}$  de  $9a^{m-1}-21a^{m-2}+26a^{m-3}+14a^{m-6}$ .  
 30.  $-m^{x+4}-6m^{x+1}-23m^{x+2}-m^{x-1}$  de  $-15m^{x+3}+50m^{x+1}-14m^x-6m^{x-3}+8m^{x-2}$ .

(4) De 1 restar  $x^2+x+5$ .  

$$\begin{array}{r} 1 \\ -5-x-x^2 \\ \hline -4-x-x^2 \end{array} \text{ R.}$$

El sustraendo  $x^2+x+5$  sumado con la diferencia  $-4-x-x^2$  nos da el minuendo:

$$\begin{array}{r} x^2+x+5 \\ -x^2-x-4 \\ \hline 1 \end{array} \text{ (minuendo).}$$

(5) Restar  $9ab^3-11a^3b+8a^2b^2-b^4$  de  $a^4-1$ .  
 Tendremos:

$$\begin{array}{r} a^4 \\ 11a^3b-8a^2b^2-9ab^3+b^4 \\ \hline a^4+11a^3b-8a^2b^2-9ab^3+b^4-1 \end{array} \text{ R.}$$

## EJERCICIO 23

De:

1. 1 restar  $a-1$ .  
 2. 0 restar  $a-8$ .  
 3.  $-9$  restar  $3a+a^2-5$ .  
 4. 16 restar  $5xy-x^2+16$ .  
 5. 1 restar  $a^3-a^2b+ab^2$ .  
 6.  $x^3$  restar  $-x^3-8x^2y-6xy^2$ .

7.  $a^5$  restar  $-8a^2b+6ab^2-b^3$ .  
 8.  $y^4$  restar  $-5x^3y+7x^2y^2-8xy^3$ .  
 9.  $m^4$  restar  $a^5m-a^4+7a^2m^2-18am^3+5m^4$ .  
 10. 16 restar  $b-a+c+d-14$ .  
 11.  $x^2-1$  restar  $xy+y^2$ .  
 12.  $a^3+6$  restar  $5a^2b-8ab^2+b^3$ .  
 13. Restar  $-5x^2y+17xy^2-5$  de  $x^5+y^5$ .  
 14. Restar  $9x^3y-15xy^3-8x^2y^2$  de  $x^4-1$ .  
 15. Restar  $-11a^4b+2a^2b^3+8a^3b^2-4ab^4$  de  $a^5+b^5$ .  
 16. Restar  $5x^4-25x$  de  $x^4+x^2+50$ .  
 17. Restar  $9y^5+17y^4-y^3+18y^2$  de  $y^5+y-41$ .  
 18. Restar  $-15a^5b+17a^3b^3-14ab^5-b^6$  de  $a^6+9a^4b^2+a^2b^4$ .  
 19. Restar  $-x^5+5x-34$  de  $x^4+x^3-11x$ .  
 20. Restar  $m^2n+7mn^2-3n^3$  de  $m^3-1$ .

## 42 RESTA DE POLINOMIOS CON COEFICIENTES FRACCIONARIOS

## Ejemplos

(1) De  $\frac{3}{5}x^3$  restar  $-\frac{1}{2}x^5-\frac{2}{3}xy^2+\frac{5}{4}x^2y-\frac{1}{2}y^4$ .

Tendremos:

$$\begin{array}{r} \frac{3}{5}x^3 \\ -\frac{1}{2}x^5-\frac{2}{3}xy^2+\frac{5}{4}x^2y-\frac{1}{2}y^4 \\ \hline \frac{11}{10}x^3-\frac{8}{5}x^2y+\frac{2}{3}xy^2+\frac{1}{2}y^4 \end{array} \text{ R.}$$

(2) Restar  $-4a^3b^3-\frac{1}{10}ab+\frac{2}{3}a^2b^2-9$  de  $-\frac{3}{5}ab+\frac{1}{6}a^2b^2-8$ .

Tendremos:

$$\begin{array}{r} \frac{1}{6}a^2b^2-\frac{3}{5}ab-8 \\ 4a^3b^3-\frac{2}{3}a^2b^2+\frac{1}{10}ab+9 \\ \hline 4a^3b^3-\frac{1}{2}a^2b^2-\frac{1}{2}ab+1 \end{array} \text{ R.}$$

## EJERCICIO 24

De:

1.  $\frac{1}{2}a^2$  restar  $-\frac{1}{4}a^2-\frac{1}{3}ab+\frac{2}{5}b^2$ .  
 2. 15 restar  $\frac{4}{5}xy+\frac{2}{3}yz-\frac{8}{9}$ .  
 3.  $\frac{8}{9}bc$  restar  $-\frac{8}{6}ab+\frac{1}{6}bc-\frac{2}{9}cd$ .  
 4.  $\frac{1}{2}a-\frac{2}{3}b$  restar  $\frac{4}{5}a+\frac{2}{9}b-\frac{1}{2}$ .  
 5.  $\frac{5}{9}x^2-\frac{3}{8}y^2$  restar  $\frac{5}{7}xy+\frac{1}{10}y^2-\frac{3}{11}$ .  
 6.  $\frac{6}{8}m^3+\frac{2}{9}n^3$  restar  $-\frac{1}{2}m^2n+\frac{3}{8}mn^2-\frac{1}{9}$ .



7.  $\frac{3}{7}a^2 + \frac{1}{8}ab - \frac{3}{5}b^2$  restar  $\frac{5}{14}a^2 + \frac{1}{2}ab - \frac{1}{8}$ .
8.  $\frac{3}{8}x^2 + \frac{5}{6}xy - \frac{1}{10}y^2$  restar  $-\frac{3}{5}x^2 + 2y^2 - \frac{3}{10}xy$ .
9.  $a^3 + a^2 - a + \frac{6}{9}$  restar  $-\frac{7}{8}a^2 + \frac{9}{10}a + \frac{7}{8}$ .
10.  $m^3 + \frac{7}{12}mn^2 - \frac{1}{7}n^3$  restar  $-\frac{5}{21}m^2n + \frac{6}{9}mn^2 + n^3 - \frac{1}{8}$ .
11.  $\frac{8}{5}x^4 + \frac{3}{4}x^3y - \frac{5}{7}xy^3 + \frac{2}{8}y^4$  restar  $x^4 + \frac{5}{8}x^2y^2 - \frac{1}{3}xy^3 + \frac{5}{8}y^4$ .
12.  $\frac{1}{2}a + \frac{5}{8}b - \frac{7}{8}c + \frac{3}{9}d$  restar  $-\frac{7}{20}b + \frac{1}{8}c - \frac{1}{2}d + \frac{7}{8}$ .

### EJERCICIO 25

Restar:

1.  $\frac{5}{6}a^2$  de  $\frac{3}{8}a^2 - \frac{5}{6}a$ .
2.  $\frac{1}{2}a - \frac{3}{8}b$  de  $8a + 6b - 5$ .
3.  $\frac{7}{9}x^2y$  de  $x^3 + \frac{2}{5}x^2y - 6$ .
4.  $\frac{3}{2}a - \frac{3}{4}b + \frac{2}{3}c$  de  $a + b - c$ .
5.  $m + n - p$  de  $\frac{2}{3}m + \frac{6}{9}n + \frac{1}{2}p$ .
6.  $\frac{5}{6}a^3 - \frac{7}{8}ab^2 + 6$  de  $\frac{6}{9}a^2b + \frac{1}{4}ab^2 - \frac{1}{5}$ .
7.  $-m^4 + \frac{7}{8}m^2n^2 - \frac{2}{9}mn^3$  de  $\frac{2}{11}m^3n + \frac{6}{14}m^2n^2 + \frac{1}{3}mn^3 - 6$ .
8.  $\frac{2}{9} + \frac{3}{7}x^2y^2 - \frac{1}{8}xy^4 - \frac{1}{2}x^5$  de  $-\frac{7}{8}x^4y + \frac{1}{14}x^2y^2 + \frac{2}{3}x^5y^3 + \frac{1}{3}xy^4 - 7$ .
9.  $x^6 - \frac{7}{9}x^4y^2 + \frac{1}{11}x^2y^4 - y^6 + xy^5$  de  $\frac{7}{9}x^5y + \frac{2}{3}x^4y^2 - \frac{1}{8}x^3y^3 - x^2y^4 + xy^5 + \frac{2}{13}y^6$ .
10.  $-\frac{1}{6}x^2y + \frac{3}{4}xy^2 - \frac{2}{3}x^3 + 6$  de  $\frac{5}{8}xy^2 - \frac{7}{9}x^2y + \frac{1}{5}x^3 - \frac{7}{11}y^3 - \frac{2}{8}$ .
11.  $-\frac{2}{13}m^6 + \frac{1}{3}n^6 - \frac{7}{20}m^4n^2 + \frac{5}{14}m^2n^4 - \frac{3}{5}$  de  $\frac{3}{10}m^4n^2 - \frac{8}{7}m^2n^4 + \frac{5}{9}n^6$ .
12.  $-\frac{5}{11}c^4d + \frac{3}{13}d^5 - \frac{5}{6}c^2d^2 + \frac{3}{4}cd^4$  de  $\frac{3}{8}c^5 + \frac{1}{2}c^2d^5 - \frac{1}{8}d^3 + \frac{7}{12}c^3d^2 + \frac{7}{22}c^4d - 35$ .

### EJERCICIO 26

Efectuar las restas siguientes y hallar el valor numérico del resultado para  $a=1$ ,  $b=2$ ,  $c=3$ ,  $x=4$ ,  $y=5$ ,  $m=\frac{3}{2}$ ,  $n=\frac{2}{5}$ .

De:

1.  $a^2 - ab$  restar  $3ab + b^2$ .
2.  $a^3 + b^3$  restar  $-5a^2b + 6ab^2 - 2b^3$ .
3.  $\frac{1}{2}a$  restar  $\frac{1}{2}b - \frac{6}{3}c + a$ .
4.  $3m^2 - 5n^2$  restar  $m^2 + 8mn + 10n^2$ .
5.  $x^4 - 18x^2y^2 + 15y^4$  restar  $-16x^3y - 6xy^3 + 9y^4$ .
6.  $a^3 - 7am^2 + m^3$  restar  $-5am^2 + 8a^2m - 5m^3$ .
7.  $\frac{2}{3}a^2 + \frac{7}{8}ab - \frac{1}{5}b^2$  restar  $\frac{1}{6}a^2 + ab - \frac{1}{10}b^2$ .
8.  $\frac{2}{3}m^2n + \frac{3}{4}mn^2 - \frac{1}{2}n^3$  restar  $-m^3 - \frac{1}{6}m^2n - \frac{1}{4}mn^2 - \frac{1}{2}n^3$ .

Restar:

9.  $a^4b^2 - 5a^3b^3$  de  $a^5 - 3a^2b^4 + b^6$ .
10.  $15ab$  de  $-ab + 10mn - 8mx$ .
11.  $11a^2b - 9ab^2 + b^3$  de  $a^3$ .
12.  $\frac{2}{8}x^2 + \frac{5}{6}x - \frac{5}{8}$  de  $\frac{1}{64}x^4$ .
13.  $\frac{8}{4}x^3 - \frac{3}{5}xy^2 - \frac{1}{25}y^3$  de  $x^3 + \frac{3}{10}x^2y - \frac{2}{5}xy^2$ .
14.  $a^{x-1} - 9a^{x-3} + a^{x-2}$  de  $\frac{2}{5}a^{x-1} + a^x - \frac{5}{6}a^{x-3} + a^{x-2}$ .

### SUMA Y RESTA COMBINADAS

#### 43 SUMA Y RESTA COMBINADAS DE POLINOMIOS CON COEFICIENTES ENTEROS

#### Ejemplos

- (1) De  $a^2$  restar la suma de  $3ab - 6$  y  $3a^2 - 8ab + 5$ .

$$\begin{array}{r} 3a^2 - 8ab + 5 \\ 3ab - 6 \\ \hline 3a^2 - 5ab - 1 \end{array}$$

Esta suma, que es el sustraendo, hay que restarla de  $a^2$  que es el minuendo, luego debajo de  $a^2$  escribo  $3a^2 - 5ab - 1$  con los signos cambiados, y tendremos:

- (2) De  $x^3 - 4x^2y + 5y^3$  restar la suma de  $-x^3 + 5x^2y - 6xy^2 + y^3$  con  $-6x^2y + 9xy^2 - 16y^3$ .

$$\begin{array}{r} -x^3 + 5x^2y - 6xy^2 + y^3 \\ -6x^2y + 9xy^2 - 16y^3 \\ \hline -x^3 - x^2y + 3xy^2 - 15y^3 \end{array}$$

Esta suma, que es el sustraendo, tengo que restarla de  $x^3 - 4x^2y + 5y^3$  que es el minuendo, luego debajo de este minuendo escribiré el sustraendo con los signos cambiados y tendremos:

- (3) De la suma de  $x^3 + 4x^2 - 6$  y  $-5x^2 - 11x + 5$  restar  $x^4 - 1$ .

$$\begin{array}{r} x^3 + 4x^2 - 6 \\ -5x^2 - 11x + 5 \\ \hline x^3 - x^2 - 11x - 1 \end{array}$$

Esta suma es el minuendo, luego debajo de ella escribiré el sustraendo  $x^4 - 1$  con los signos cambiados y tendremos:

$$\begin{array}{r} x^4 - x^2 - 11x - 1 \\ -x^4 \\ \hline -x^2 - 11x - 1 \end{array}$$



## EJERCICIO 27

- De  $a^2$  restar la suma de  $ab+b^2$  con  $a^2-5b^2$ .
- De 1 restar la suma de  $a+8$  con  $-a+6$ .
- De  $-7x^2y$  restar la suma de  $4xy^2-x^3$  con  $5x^2y+y^3$ .
- De  $5m^4$  restar la suma de  $-3m^3n+4mn^2-n^3$  con  $3m^3n-4mn^2+5n^3$ .
- De  $6a$  restar la suma de  $8a+9b-3c$  con  $-7a-9b+3c$ .
- De  $a+b-c$  restar la suma de  $a-b+c$  con  $-2a+b-c$ .
- De  $m-n+p$  restar la suma de  $-m+n-p$  con  $2m-2n+2p$ .
- De  $x^2-5ax+3a^2$  restar la suma de  $9ax-a^2$  con  $25x^2-9ax+7a^2$ .
- De  $a^3-1$  restar la suma de  $5a^2+6a-4$  con  $2a^3-8a+6$ .
- De  $x^4-1$  restar la suma de  $5x^3-9x^2+4$  con  $-11x^4-7x^3-6x$ .
- De  $a^2+b^2$  restar la suma de  $-7ab^2+35a^2b-11$  con  $-7a^3+8ab^2-35a^2b+6$ .
- De  $n^5-7n^3+4n$  restar la suma de  $-11n^4+14n^2-25n+8$  con  $19n^3-6n^2+9n-4$ .
- De  $a^4-8a^2m^2+m^4$  restar la suma de  $-6a^3m+5am^3-6$  con  $7a^4-11a^2m^2-5a^3m-6m^4$ .
- De  $x^5-30x^3y^2+40xy^3+y^5$  restar la suma de  $-4x^4y+13x^2y^3-9xy^4$  con  $-6x^5+8x^3y^2+xy^4-2y^5$ .
- De la suma de  $a+b$  con  $a-b$  restar  $2a-b$ .
- De la suma de  $8x+9$  con  $6y-5$  restar  $-2$ .
- De la suma de  $x^2-6y^2$  con  $-7xy+40y^2$  restar  $-9y^2+16$ .
- De la suma de  $4a^2+8ab-5b^2$  con  $a^2+6b^2-7ab$  restar  $4a^2+ab-b^2$ .
- De la suma de  $x^3-y^3$  con  $-14x^2y+5xy^2$  restar  $-3x^3+19y^3$ .
- De la suma de  $x^4-6x^2y^2+y^4$  con  $8x^2y^2+31y^4$  restar  $x^4+2x^2y^2+32y^4$ .
- De la suma de  $n^4-6n^2+n^2$  con  $7n^3-8n-n^2-6$  restar  $-3n^4-n^6-8n^2+19$ .
- Restar  $5a^4b-7a^2b^3+b^5$  de la suma de  $a^5-3a^3b^2+6ab^4$  con  $22a^4b+10a^2b^3-11ab^4-b^5$ .
- Restar  $5-m^4$  de la suma de  $-5m^2+4m^3-2m$  con  $-7m^3+8m+4$ .
- Restar  $-4$  de la suma de  $7a^2-11ab+b^2$  con  $-7a^2+11ab+b^2-8$ .
- Restar  $a-b-2c$  de la suma de  $3a-4b+5c$ ;  $-7a+8b-11$ ;  $-a+2b-7c$ .
- Restar  $a^4-3a^3+5$  de la suma de  $5a^3+14a^2-19a+8$ ;  $a^5+9a-1$  y  $-a^4+3a^2-1$ .
- Restar la suma de  $m^4+10m^2n^2+15n^4$  con  $-11m^3n-14m^2n^2-3mn^3+n^4$  de  $6m^4+7m^2n^2+8mn^3-n^4$ .
- Restar la suma de  $a^6+4a^3b^2+8ab^4-b^6$ ;  $-7a^4b+15a^2b^3-25ab^4+3b^6$  y  $-5ab^4+3a^2b^3-a^3b^2$  de  $3a^6-6a^2b^3-21ab^4-6$ .
- Restar la suma de  $x^3+y^5$  con  $3x^4y+21x^2y^2+18x^2y^3-y^5$  de  $x^5+32x^4y-26x^3y^2+18x^2y^3-2xy^4+y^5$ .
- Restar la suma de  $3a^x+6a^{x-1}$  con  $a^x-7a^{x-1}+a^{x-2}$  de  $8a^{x+2}-7a^{x+1}-a^x+12a^{x-1}$ .

- (4) Restar la suma de  $5x^4y^2+6x^2y^4-5y^6$  con  $-3x^6+x^2y^4-11y^6$  de la suma de  $x^6+2x^2y^4-y^6$  con  $-4x^4y^2+3x^2y^4+3y^6$ .

Efectuemos la primera suma que será el sustraendo:

$$\begin{array}{r} 5x^4y^2 + 6x^2y^4 - 5y^6 \\ - 3x^6 \\ \hline - 3x^6 + 5x^4y^2 + 7x^2y^4 - 16y^6 \end{array}$$

Efectuemos la segunda suma que será el minuendo:

$$\begin{array}{r} x^6 + 2x^2y^4 - y^6 \\ - 4x^4y^2 + 3x^2y^4 + 3y^6 \\ \hline x^6 - 4x^4y^2 + 5x^2y^4 + 2y^6 \end{array}$$

Como esta suma es el minuendo escribimos debajo de ella, con los signos cambiados, la suma anterior que es el sustraendo y tenemos:

$$\begin{array}{r} x^6 - 4x^4y^2 + 5x^2y^4 + 2y^6 \\ 3x^6 - 5x^4y^2 - 7x^2y^4 + 16y^6 \\ \hline 4x^6 - 9x^4y^2 - 2x^2y^4 + 18y^6 \end{array}$$

## EJERCICIO 28

- De la suma de  $x^2+5$  con  $2x-6$  restar la suma de  $x-4$  con  $-x+6$ .
- De la suma de  $3a-5b+c$  con  $a-b-3c$  restar la suma de  $7a+b$  con  $-8b-3c$ .
- De la suma de  $x^3+1$  con  $5x^3+7-x^2$  restar la suma de  $9x+4$  con  $-3x^2-x+1$ .
- De la suma de  $a^2+1$  con  $a^3-1$  restar la suma de  $a^4+2$  con  $a-2$ .
- De la suma de  $ab+bc+ac$  con  $-7bc+8ac-9$  restar la suma de  $4ac-3bc+5ab$  con  $3bc+5ac-ab$ .
- De la suma de  $a^2x-3x^3$  con  $a^3+3ax^2$  restar la suma de  $-5a^2x+11ax^3-11x^5$  con  $a^3+8x^3-4a^2x+6ax^2$ .
- De la suma de  $x^4+x^2-3$ ;  $-3x+5-x^3$ ;  $-5x^2+4x+x^4$  restar la suma de  $-7x^3+8x^2-3x+4$  con  $x^4-3$ .
- De la suma de  $m^4-n^4$ ;  $-7mn^3+17m^3n-4m^2n^2$  y  $-m^4+6m^2n^2-80n^4$  restar la suma de  $6-m^4$  con  $-m^2n^2+mn^3-4$ .
- De la suma de  $a-7+a^3$ ;  $a^3-a^4-6a^2+8$ ;  $-5a^2-11a+26$  restar la suma de  $-4a^3+a^2-a^4$  con  $-15+16a^3-8a^2-7a$ .
- Restar la suma de  $3x^2-y^4$  con  $-11xy+9y^2-14$  de la suma de  $x^2-3xy-y^2$  con  $9y^2-8xy+19x^2$ .
- Restar la suma de  $a-1$  con  $-a+1$  de la suma de  $a^2-3$ ;  $a-4$ ;  $-3a+8$ .
- Restar la suma de  $a^2+b^2-ab$ ;  $7b^2-8ab+3a^2$ ;  $-5a^2-17b^2+11ab$  de la suma de  $3b^2-a^2+9ab$  con  $-8ab-7b^2$ .
- Restar la suma de  $m^4-1$ ;  $-m^3+8m^2-6m+5$ ;  $-7m-m^2+1$  de la suma de  $m^5-16$  con  $-16m^4+7m^2-3$ .
- Restar la suma de  $x^5-y^5$ ;  $-2x^4y+5x^3y^2-7x^2y^3-3y^5$ ;  $6xy^4-7x^3y^2-8$  de la suma de  $-x^3y^2+7x^4y+11xy^4$  con  $-xy^4-1$ .
- Restar la suma de  $7a^4-a^6-8a$ ;  $-3a^5+11a^3-a^2+4$ ;  $-6a^4-11a^3-2a+8$ ;  $-5a^4+5a^2-4a+1$  de la suma de  $-3a^4+7a^2-8a+5$  con  $5a^5-7a^3+41a^2-50a+8$ .
- Restar la suma de  $a^5-7a^3x^2+9$ ;  $-20a^4x+21a^2x^2-19ax^4$ ;  $x^5-7ax^4+9a^3x^2-80$  de la suma de  $-4x^5+18a^3x^2-8$ ;  $-9a^4x-17a^3x^2+11a^2x^3$ ;  $a^5+36$ .

## 44 SUMA Y RESTA COMBINADAS DE POLINOMIOS CON COEFICIENTES FRACCIONARIOS

## Ejemplos

- (1) De  $\frac{1}{2}a^2 - \frac{1}{5}b^2$  restar la suma de  $\frac{3}{4}a^2 + \frac{1}{6}b^2 - \frac{1}{8}ab$  con  $-\frac{1}{8}a^2 + \frac{1}{12}b^2 - \frac{7}{8}ab$ .

Efectuemos la suma que será el sustraendo:

$$\begin{array}{r} \frac{3}{4}a^2 - \frac{1}{6}ab + \frac{1}{6}b^2 \\ - \frac{1}{8}a^2 - \frac{7}{8}ab + \frac{1}{12}b^2 \\ \hline \frac{5}{8}a^2 - ab + \frac{1}{4}b^2 \end{array}$$



Debajo del minuendo  $\frac{1}{2}a^2 - \frac{5}{6}b^2$  escribimos el resultado de esta suma con los signos cambiados y tendremos:

$$\begin{array}{r} \frac{1}{2}a^2 \quad - \frac{5}{6}b^2 \\ -\frac{5}{8}a^2 + ab - \frac{1}{4}b^2 \\ \hline -\frac{1}{8}a^2 + ab - \frac{17}{20}b^2. \quad R. \end{array}$$

- (2) Restar la suma de  $\frac{2}{5}m^3 - \frac{1}{8}mn^2 + 6$  con  $\frac{3}{4}m^2n + \frac{1}{6}mn^2 - \frac{5}{8}n^3$  de la suma de  $\frac{2}{3}m^3 + \frac{1}{2}n^3 - \frac{2}{5}mn^2$  con  $\frac{3}{4}m^2n + \frac{1}{8}mn^2 - \frac{1}{5}$ .

Efectuamos la segunda suma que será el minuendo.

$$\begin{array}{r} \frac{2}{3}m^3 \quad - \frac{2}{5}mn^2 + \frac{1}{2}n^3 \\ \frac{3}{4}m^2n + \frac{1}{8}mn^2 \quad - \frac{1}{5} \\ \hline \frac{2}{3}m^3 + \frac{3}{4}m^2n - \frac{1}{15}mn^2 + \frac{1}{2}n^3 - \frac{1}{5} \end{array}$$

Efectuamos la primera suma que será el sustraendo:

$$\begin{array}{r} \frac{2}{5}m^3 \quad - \frac{1}{8}mn^2 \quad + 6 \\ \frac{3}{4}m^2n + \frac{1}{6}mn^2 - \frac{5}{8}n^3 \\ \hline \frac{2}{5}m^3 + \frac{3}{4}m^2n + \frac{1}{24}mn^2 - \frac{5}{8}n^3 + 6 \end{array}$$

Ahora, de la primera suma restamos esta última suma y tendremos:

$$\begin{array}{r} \frac{2}{3}m^3 + \frac{3}{4}m^2n - \frac{1}{15}mn^2 + \frac{1}{2}n^3 - \frac{1}{5} \\ -\frac{2}{5}m^3 - \frac{3}{4}m^2n - \frac{1}{24}mn^2 + \frac{5}{8}n^3 - 6 \\ \hline \frac{1}{15}m^3 \quad - \frac{13}{120}mn^2 + \frac{7}{8}n^3 - \frac{31}{5}. \quad R. \end{array}$$

## EJERCICIO 29

- De  $\frac{3}{4}a$  restar la suma de  $a + \frac{1}{2}b$  con  $-\frac{2}{3}a + \frac{3}{4}b$ .
- De  $\frac{1}{2}a^3 + \frac{3}{5}a^2$  restar la suma de  $\frac{5}{8}a - 6$  con  $\frac{8}{9}a^2 - \frac{5}{6}a^3$ .
- Restar  $\frac{1}{6}a - \frac{1}{9}b$  de la suma de  $a + 3b$  con  $6 - \frac{2}{3}a - \frac{2}{3}b$ .
- Restar la suma de  $\frac{1}{8}x^3 + \frac{1}{5} - \frac{3}{7}x^2$  con  $6 - \frac{2}{9}x + \frac{1}{14}x^2$  de  $-\frac{5}{6}x^3$ .
- De la suma de  $\frac{7}{12}a^4$  con  $-\frac{8}{7}a^3 + \frac{2}{5}a^2 - 6$  restar  $\frac{1}{5}a - \frac{1}{3} - \frac{3}{4}a^4$ .
- Restar la suma de  $-\frac{1}{2}x + \frac{2}{3}y - \frac{1}{4}z$  con  $3 - \frac{2}{5}z - \frac{1}{9}y$  de  $\frac{5}{9}y - \frac{2}{5}$ .
- De  $\frac{1}{2}a^3 - \frac{1}{3}b^3$  restar la suma de  $-\frac{3}{2}a^2b + \frac{8}{4}ab^2 - b^3$  con  $\frac{1}{8}a^2b - \frac{5}{6}ab^2 + \frac{2}{8}b^3$ .

- De la suma de  $\frac{1}{2}a - \frac{2}{9}b$  con  $\frac{1}{3}b - \frac{8}{6}c$  restar la suma de  $\frac{2}{8}b + \frac{1}{6}c$  con  $-\frac{1}{10}c - \frac{6}{9}b$ .
- Restar la suma de  $\frac{1}{3}a^3 + \frac{1}{8}a^2 + \frac{1}{6}$  con  $-\frac{3}{4}a - \frac{8}{5}a^2 - \frac{1}{10}$  de la suma de  $\frac{1}{4}a^2 - \frac{2}{5}a + \frac{1}{4}$  con  $-\frac{20}{40}a^2 + \frac{1}{3}a^3 - \frac{1}{8}$ .
- De la suma de  $\frac{3}{6}x^2 - \frac{5}{6}xy + \frac{2}{9}y^2$  con  $-\frac{3}{2}xy - \frac{1}{3}y^2 + \frac{1}{4}$  restar la suma de  $\frac{2}{9}x^2 - \frac{2}{3}y^2 + \frac{1}{9}xy$  con  $\frac{17}{45}x^2 - \frac{22}{9}xy - \frac{3}{2}y^2 - \frac{1}{2}$ .
- Restar la suma de  $\frac{2}{7}a^3 - \frac{1}{5}b^3$  con  $-\frac{3}{4}a^2b + \frac{8}{8}ab^2 + \frac{1}{10}b^3$  de la suma de  $\frac{1}{2}a^2b + \frac{1}{4}ab^2 - \frac{1}{5}$  con  $-\frac{5}{4}a^2b + \frac{1}{8}ab^2 - \frac{5}{2}b^3 - \frac{1}{2}$ .
- De  $\frac{6}{14}m^4 - \frac{2}{5}n^4$  restar la suma de  $\frac{1}{3}m^2n^2 - \frac{1}{4}mn^3 - n^4$ ;  $\frac{2}{7}m^4 + \frac{8}{5}m^3n - \frac{3}{6}m^2n^2 + \frac{5}{3}n^4$  con  $\frac{1}{14}m^4 - \frac{7}{20}m^3n + \frac{1}{4}m^2n^2 - \frac{2}{3}n^4$ .
- De 5 restar la suma de  $\frac{1}{2}x + \frac{1}{9}y$ ;  $\frac{3}{4}y - \frac{1}{6}z$ ;  $\frac{2}{9}z + \frac{1}{4}m$ ;  $-\frac{1}{2}m + \frac{1}{8}n + \frac{8}{8}$ .
- Restar  $\frac{3}{8} - \frac{1}{12}a^3 + a^4$  de la suma de  $\frac{1}{2}a^3 - \frac{3}{5}a + \frac{5}{6}a^4$ ;  $-\frac{8}{8}a + 5 - \frac{2}{3}a^2$ ;  $-\frac{8}{4}a^3 + \frac{1}{6}a^2 - \frac{2}{3}$ ;  $-\frac{3}{8}a^4 + \frac{1}{8}a^3 + \frac{59}{40}a + \frac{1}{11}$ .

## EJERCICIO 30

- Hallar la expresión que sumada con  $x^3 - x^2 + 5$  da  $3x - 6$ .
- Hallar la expresión que sumada con  $-5a + 9b - 6c$  da  $8x + 9$ .
- ¿Qué expresión sumada con  $a^3 - b^3$  da  $-8a^2b + 5ab^2 - 4b^3$ ?
- Para obtener como resto  $x - 5$ , ¿qué expresión debe restarse de  $x^3 - 4x^2 + 8$ ?
- ¿Qué expresión hay que restar de  $m^4 - 3mn^3 + 6n^4$  para que la diferencia sea  $4m^2n^2 - 8$ ?
- Si  $4x^3 - 9x + 6$  es el resto y  $5x^2 + 4x - 8$  el sustraendo, ¿cuál es el minuendo?
- ¿De qué expresión se ha restado  $a^3 - b^3$  si la diferencia ha sido  $4a^5 + 8ab^2 - 11$ ?
- Siendo el sustraendo  $\frac{1}{2}x - \frac{1}{3}y$ , ¿cuál ha de ser el minuendo para que la diferencia sea  $-4$ ?
- ¿Qué expresión hay que sumar con  $-7xy + 5x^2 - 8y^2$  para que la suma sea 1?
- Si  $9m^3 - 8m^2n + 5mn^2 - n^3$  se resta de  $n^3$ , ¿qué expresión hay que sumar a la diferencia para obtener  $m^3$ ?
- Si  $a^3 - 5a + 8$  es el sustraendo de una diferencia y el resto es  $-a^3 + 5a - 8$ , ¿de qué expresión se ha restado la primera?





THALES DE MILETO (640-535 A. C.). El primero famoso de los siete sabios de Grecia. Su vida envuelta en la bruma de la leyenda. Fue el filósofo jónico. Recorrió Egipto, donde hizo conociéndose en contacto de este modo con los misterios de la religión egipcia. Se le atribuye el haber predicho el eclipse de Sol ocurrido en el año 585. También se le atribuye el haber realizado la medición de las pirámides, mediante las sombras que proyectan. Fue el primero en dar una explicación de los eclipses.

## CAPITULO



## SIGNOS DE AGRUPACION

45 Los signos de agrupación o paréntesis son de cuatro clases: el paréntesis ordinario ( ), el paréntesis angular o corchete [ ], las llaves { } y el vínculo o barra —

## 46 USO DE LOS SIGNOS DE AGRUPACION

Los signos de agrupación se emplean para indicar que las cantidades encerradas en ellos deben considerarse como un todo, o sea, como una sola cantidad.

Así,  $a + (b - c)$ , que equivale a  $a + (+b - c)$ , indica que la diferencia  $b - c$  debe sumarse con  $a$ , y ya sabemos que para efectuar esta suma escribimos a continuación de  $a$  las demás cantidades con su propio signo y tendremos:

La expresión  $x + (-2y + z)$

indica que a  $x$  hay que sumarle  $-2y + z$ ; luego, a continuación de  $x$ , escribimos  $-2y + z$  con sus propios signos y tendremos:

Vemos, pues, que hemos suprimido el paréntesis precedido del signo  $+$ , dejando a cada una de las cantidades que estaban dentro de él con su propio signo.

$$a + (b - c) = a + b - c.$$

$$x + (-2y + z) = x - 2y + z.$$

La expresión

$$a - (b + c), \text{ que equivale a } a - (+b + c),$$

indica que de  $a$  hay que restar la suma  $b + c$  y como para restar escribimos el sustraendo con los signos cambiados a continuación del minuendo, tendremos:

$$a - (b + c) = a - b - c$$

La expresión  $x - (-y + z)$

indica que de  $x$  hay que restar  $-y + z$ ; luego, cambiando los signos al sustraendo, tendremos:

$$x - (-y + z) = x + y - z$$

Vemos, pues, que hemos suprimido el paréntesis precedido del signo  $-$ , cambiando el signo a cada una de las cantidades que estaban encerradas en el paréntesis.

El paréntesis angular [ ], las llaves { } y el vínculo o barra — tienen la misma significación que el paréntesis ordinario y se suprimen del mismo modo.

Se usan estos signos, que tienen distinta forma pero igual significación, para mayor claridad en los casos en que una expresión que ya tiene uno o más signos de agrupación se incluye en otro signo de agrupación.

## I. SUPRESION DE SIGNOS DE AGRUPACION

## 47 REGLA GENERAL PARA SUPRIMIR SIGNOS DE AGRUPACION

1) Para suprimir signos de agrupación precedidos del signo  $+$  se deja el mismo signo que tengan a cada una de las cantidades que se hallan dentro de él.

2) Para suprimir signos de agrupación precedidos del signo  $-$  se cambia el signo a cada una de las cantidades que se hallan dentro de él.

## Ejemplos

(1) Suprimir los signos de agrupación en la expresión:

$$a + (b - c) + 2a - (a + b).$$

Esta expresión equivale a

$$+a + (b - c) + 2a - (+a + b).$$

Como el primer paréntesis va precedido del signo  $+$  lo suprimimos dejando a las cantidades que se hallan dentro con su propio signo y como el segundo paréntesis va precedido del signo  $-$  lo suprimimos cambiando el signo a las cantidades que se hallan dentro y tendremos:

$$a + (b - c) + 2a - (a + b) = a + b - c + 2a - a - b = 2a - c. \text{ R.}$$

(2) Suprimir los signos de agrupación en  $5x + (-x - y) - [-y + 4x] + \{x - 6\}$ .

El paréntesis y las llaves están precedidos del signo  $+$ , luego los suprimimos dejando las cantidades que se hallan dentro con su propio signo y como el corchete va precedido del signo  $-$ , lo suprimimos cambiando el signo a las cantidades que se hallan dentro, y tendremos:

$$\begin{aligned} 5x + (-x - y) - [-y + 4x] + \{x - 6\} \\ = 5x - x - y + y - 4x + x - 6 \\ = x - 6. \text{ R.} \end{aligned}$$



- (3) Simplificar
- $m + 4n - 6 + 3m - n + 2m - 1$
- .

El vínculo o barra equivale a un paréntesis que encierra a las cantidades que se hallan debajo de él y su signo es el signo de la primera de las cantidades que están debajo de él.

Así, la expresión anterior equivale a:  $m + (4n - 6) + 3m - (n + 2m - 1)$ .

$$\begin{aligned} & m + 4n - 6 + 3m - n + 2m - 1 \\ \text{Suprimiendo los vínculos, tendremos:} & = m + 4n - 6 + 3m - n - 2m + 1 \\ & = 2m + 3n - 5. \quad R. \end{aligned}$$

**EJERCICIO 31**

Simplificar, suprimiendo los signos de agrupación y reduciendo términos semejantes:

- |  |  |
|--|--|
| 1. $x - (x - y)$ .                         | 9. $x^2 + y^2 - (x^2 + 2xy + y^2) + [-x^2 + y^2]$ .            |
| 2. $x^2 + (-3x - x^2 + 5)$ .               | 10. $(-5m + 6) + (-m + 5) - 6$ .                               |
| 3. $a + b - (-2a + 3)$ .                   | 11. $x + y + x - y + z - x + y - z$ .                          |
| 4. $4m - (-2m - n)$ .                      | 12. $a - (b + a) + (-a + b) - (-a + 2b)$ .                     |
| 5. $2x + 3y - 4x + 3y$ .                   | 13. $-(x^2 - y^2) + xy + (-2x^2 + 3xy) - [-y^2 + xy]$ .        |
| 6. $a + (a - b) + (-a + b)$ .              | 14. $8x^2 + [-2xy + y^2] - [-x^2 + xy - 3y^2] - (x^2 - 3xy)$ . |
| 7. $a^2 + [-b^2 + 2a^2] - [a^2 - b^2]$ .   | 15. $-(a + b) + (-a - b) - (-b + a) + (3a + b)$ .              |
| 8. $2a - \{-x + a - 1\} - \{a + x - 3\}$ . |  |

- (4) Simplificar la expresión:
- $3a + \{-5x - [-a + (9x - a + x)]\}$
- .

Cuando unos signos de agrupación están incluidos dentro de otros, como en este ejemplo, se suprime uno en cada paso empezando por el más interior. Así, en este caso, suprimimos primero el vínculo y tendremos:

$$3a + \{-5x - [-a + (9x - a - x)]\}.$$

Suprimiendo el paréntesis, tenemos:  $3a + \{-5x - [-a + 9x - a - x]\}$ .

Suprimiendo el corchete, tenemos:  $3a + \{-5x + a - 9x + a + x\}$ .

Suprimiendo las llaves, tenemos:  $3a - 5x + a - 9x + a + x$ .

Reduciendo términos semejantes, queda:  $5a - 13x$ . R.

- (5) Simplificar la expresión:

$$-[-3a - \{b + [-a + (2a - b) - (-a + b)]\} + 3b] + 4a.$$

Empezando por los más interiores que son los paréntesis ordinarios, tenemos:

$$\begin{aligned} & -[-3a - \{b + [-a + 2a - b + a - b] + 3b\} + 4a] \\ & = -[-3a - \{b - a + 2a - b + a - b + 3b\} + 4a] \\ & = -[-3a - b + a - 2a + b - a + b - 3b + 4a] \\ & = 3a + b - a + 2a - b + a - b + 3b - 4a \\ & = a + 2b. \quad R. \end{aligned}$$
**EJERCICIO 32**

Simplificar, suprimiendo los signos de agrupación y reduciendo términos semejantes:

- |                                 |   |
|---------------------------------|---|
| 1. $2a + [a - (a + b)]$ .       | 4. $4x^2 + [-(x^2 - xy) + (-3y^2 + 2xy) - (-3x^2 + y^2)]$ . |
| 2. $3x - [x + y - 2x + y]$ .    | 5. $a + \{(-2a + b) - (-a + b - c) + a\}$ .                 |
| 3. $2m - [(m - n) - (m + n)]$ . | 6. $4m - [2m + (n - 3)] + [-4n - (2m + 1)]$ .               |

7.  $2x + [-5x - (-2y + \{-x + y\})]$ .
8.  $x^2 - \{-7xy + [-y^2 + (-x^2 + 3xy - 2y^2)]\}$ .
9.  $-(a + b) + [-3a + b - \{-2a + b - (a - b)\} + 2a]$ .
10.  $(-x + y) - \{4x + 2y + [-x - y - x + y]\}$ .
11.  $-(a + b) + [- (a + b) - (-2a + 3b) + (-b + a - b)]$ .
12.  $7m^2 - \{[m^2 + 3n - (5 - n) - (-3 + m^2)] - (2n + 3)\}$ .
13.  $2a - (-4a + b) - \{-[-4a + (b - a) - (-b + a)]\}$ .
14.  $3x - (5y + [-2x + \{y - 6 + x\} - (-x + y)])$ .
15.  $6c - [-(2a + c) + \{- (a + c) - 2a - a + c\} + 3c]$ .
16.  $-(3m + n) - [2m + \{-m + (2m - 2n - 5)\} - (n + 6)]$ .
17.  $2a + \{-[5b + (3a - c) + 2 - (-a + b - c + 4)] - (-a + b)\}$ .
18.  $-[-3x + (-x - 2y - 3)] + \{- (2x + y) + (-x - 3) + 2 - x + y\}$ .
19.  $-[-(-a)] - [+(-a)] + \{-[-b + c] - [(-c)]\}$ .
20.  $-\{-[-(a + b)]\} - \{-[-(-b - a)]\} - a + b$ .
21.  $-\{-[-(a + b - c)]\} - \{-[-(-c - a + b)]\} + \{-[-a + (-b)]\}$ .
22.  $-[3m + \{-m - (n - m + 4)\} + \{- (m + n) + (-2n + 3)\}]$ .
23.  $-[x + \{- (x + y) - [-x + (y - z) - (-x + y)] - y\}]$ .
24.  $-[-a + \{-a + (a - b) - a - b + c - \{-(-a) + b\}\}]$ .

**II. INTRODUCCION DE SIGNOS DE AGRUPACION**

- 48) Sabemos que  $\longrightarrow a + (-b + c) = a - b + c$   
 luego, recíprocamente:  $\longrightarrow a - b + c = a + (-b + c)$ .  
 Hemos visto también que  $\longrightarrow a - (b - c) = a - b + c$   
 luego, recíprocamente:  $\longrightarrow a - b + c = a - (b - c)$ .  
 Del propio modo,  $\longrightarrow a + b - c - d - e = a + (b - c) - (d + e)$ .  
 Lo anterior nos dice que los términos de una expresión pueden agruparse de cualquier modo.

Esta es la Ley Asociativa de la suma y de la resta.  
 Podemos, pues, enunciar la siguiente:

**49 REGLA GENERAL PARA INTRODUCIR CANTIDADES EN SIGNOS DE AGRUPACION**

1) Para introducir cantidades dentro de un signo de agrupación precedido del signo + se deja a cada una de las cantidades con el mismo signo que tengan.

2) Para introducir cantidades dentro de un signo de agrupación precedido del signo - se cambia el signo a cada una de las cantidades que se incluyen en él.



## Ejemplos

- (1) Introducir los tres últimos términos de la expresión:  $x^3 - 2x^2 + 3x - 4$  en un paréntesis precedido del signo +.

Dejamos a cada cantidad con el signo que tiene y tendremos:

$$x^3 + (-2x^2 + 3x - 4). \text{ R.}$$

- (2) Introducir los tres últimos términos de la expresión:  $x^2 - a^2 + 2ab - b^2$  en un paréntesis precedido del signo -.

Cambiamos el signo a cada una de las tres últimas cantidades y tendremos:

$$x^2 - (a^2 - 2ab + b^2). \text{ R.}$$

## EJERCICIO 33

Introducir los tres últimos términos de las expresiones siguientes dentro de un paréntesis precedido del signo +:

- $a - b + c - d.$
- $x^2 - 3xy - y^2 + 6.$
- $x^3 + 4x^2 - 3x + 1.$
- $a^3 - 5a^2b + 3ab^2 - b^3.$
- $x^4 - x^3 + 2x^2 - 2x + 1.$

Introducir los tres últimos términos de las expresiones siguientes dentro de un paréntesis precedido del signo -:

- $2a + b - c + d.$
- $x^3 + x^2 + 3x - 4.$
- $x^3 - 5x^2y + 3xy^2 - y^3.$
- $a^2 - x^2 - 2xy - y^2.$
- $a^2 + b^2 - 2bc - c^2.$

- (3) Introducir todos los términos menos el primero, de la expresión

$$3a + 2b - (a + b) - (-2a + 3b)$$

en un paréntesis precedido del signo -.

Cambiaremos el signo a  $2b$  y pondremos  $-2b$ , y cambiaremos los signos que están delante de los paréntesis, porque cambiando estos signos cambian los signos de las cantidades encerradas en ellas, y tendremos:

$$3a - [-2b + (a + b) + (-2a + 3b)].$$


## EJERCICIO 34

Introducir todos los términos, menos el primero, de las expresiones siguientes, en un paréntesis precedido del signo -:

- $x + 2y + (x - y).$
- $4m - 2n + 3 - (-m + n) + (2m - n).$
- $x^2 - 3xy + [(x^2 - xy) + y^2].$
- $x^3 - 3x^2 + [-4x + 2] - 3x - (2x + 3).$
- $2a + 3b - \{-2a + [a + (b - a)]\}.$

Introducir las expresiones siguientes en un paréntesis precedido del signo -:

- $-2a + (-3a + b).$
- $2x^2 + 3xy - (y^2 + xy) + (-x^2 + y^2).$
- $x^3 - [-3x^2 + 4x - 2].$
- $[m^4 - (3m^2 + 2m + 3)] + (-2m + 3).$



**PITAGORAS (585-500) A. C.** Célebre filósofo griego nacido en Samos y muerto en Metaponte. Después de realizar sus primeros estudios en su ciudad natal viajó por Egipto y otros países de Oriente. A su regreso fundó la Escuela de Crotona, que era

una sociedad secreta de tipo político-religioso, la alcanzó gran preponderancia. Fue el primero en locar a la base de las especulaciones filosóficas, conceptos fundamentales de la matemática. El del número el principio universal por excelencia.

## CAPÍTULO IV

## MULTIPLICACION

- 50 LA MULTIPLICACION** es una operación que tiene por objeto, dadas dos cantidades llamadas multiplicando y multiplicador, hallar una tercera cantidad, llamada producto, que sea respecto del multiplicando, en valor absoluto y signo, lo que el multiplicador es respecto de la unidad positiva.

El multiplicando y multiplicador son llamados factores del producto.

- 51 El orden de los factores no altera el producto.** Esta propiedad, demostrada en Aritmética, se cumple también en Algebra.

Así, el producto  $ab$  puede escribirse  $ba$ ; el producto  $abc$  puede escribirse también  $bac$  o  $acb$ .

Esta es la Ley Conmutativa de la multiplicación.

- 52 Los factores de un producto pueden agruparse de cualquier modo.**

Así, en el producto  $abcd = a \times (bcd) = (ab) \times (cd) = (abc) \times d$ .  $abcd$ , tenemos:

Esta es la Ley Asociativa de la multiplicación.



**53 LEY DE LOS SIGNOS**

Distinguiremos dos casos:

1) **Signo del producto de dos factores.** En este caso, la regla es:Signos iguales dan **+** y signos diferentes dan **-**

En efecto:

1.  $(+a) \times (+b) = +ab,$

porque según la definición de multiplicar, el signo del producto tiene que ser respecto del signo del multiplicando lo que el signo del multiplicador es respecto de la unidad positiva, pero en este caso, el multiplicador tiene el mismo signo que la unidad positiva; luego, el producto necesita tener el mismo signo que el multiplicando, pero el signo del multiplicando es **+**, luego, el signo del producto será **+**.

2.  $(-a) \times (+b) = -ab,$

porque teniendo el multiplicador el mismo signo que la unidad positiva, el producto necesita tener el mismo signo que el multiplicando, pero éste tiene **-**, luego, el producto tendrá **-**.

3.  $(+a) \times (-b) = -ab,$

porque teniendo el multiplicador signo contrario a la unidad positiva, el producto tendrá signo contrario al multiplicando, pero el multiplicando tiene **+**, luego, el producto tendrá **-**.

4.  $(-a) \times (-b) = +ab,$

porque teniendo el multiplicador signo contrario a la unidad positiva, el producto ha de tener signo contrario al multiplicando; pero éste tiene **-**, luego, el producto tendrá **+**.

+ por + da +.  
- por - da +.  
+ por - da -.  
- por + da -.

Lo anterior podemos resumirlo diciendo que →

2) **Signo del producto de más de dos factores.** En este caso, la regla es:a) El signo del producto de varios factores es **+** cuando tiene un número par de factores negativos o ninguno.

Así,  $(-a) \times (-b) \times (-c) \times (-d) = abcd$

En efecto: Según se demostró antes, el signo del producto de dos factores negativos es **+**; luego, tendremos:

$$(-a) \times (-b) \times (-c) \times (-d) = (-a \cdot -b) \times (-c \cdot -d) = (+ab) \times (+cd) = abcd.$$

b) El signo del producto de varios factores es **-** cuando tiene un número impar de factores negativos.

Así,  $(-a) \times (-b) \times (-c) = -abc.$

En efecto:

$$(-a) \times (-b) \times (-c) = [(-a) \times (-b)] \times (-c) = (+ab) \times (-c) = -abc.$$

**54 LEY DE LOS EXPONENTES**

Para multiplicar potencias de la misma base se escribe la misma base y se le pone por exponente la suma de los exponentes de los factores.

Así,  $a^4 \times a^3 \times a^2 = a^{4+3+2} = a^9.$

En efecto:  $a^4 \times a^3 \times a^2 = aaaa \times aaa \times aa = aaaaaaaaa = a^9.$

**55 LEY DE LOS COEFICIENTES**

El coeficiente del producto de dos factores es el producto de los coeficientes de los factores.

Así,  $3a \times 4b = 12ab.$

En efecto: Como el orden de factores no altera el producto, tendremos:

$$3a \times 4b = 3 \times 4 \times a \times b = 12ab$$

**56 CASOS DE LA MULTIPLICACION**

Distinguiremos tres casos: 1) Multiplicación de monomios. 2) Multiplicación de un polinomio por un monomio. 3) Multiplicación de polinomios.

**1. MULTIPLICACION DE MONOMIOS****57 REGLA**

Se multiplican los coeficientes y a continuación de este producto se escriben las letras de los factores en orden alfabético, poniéndole a cada letra un exponente igual a la suma de los exponentes que tenga en los factores. El signo del producto vendrá dado por la Ley de los signos (53).

**Ejemplos**(1) Multiplicar  $2a^2$  por  $3a^3$ .

$$2a^2 \times 3a^3 = 2 \times 3a^{2+3} = 6a^5. \text{ R.}$$

El signo del producto es **+** porque **+** por **+** da **+**.(2) Multiplicar  $-xy^2$  por  $-5mx^4y^3$ 

$$(-xy^2) \times (-5mx^4y^3) = 5mx^{1+4}y^{2+3} = 5mx^5y^5. \text{ R.}$$

El signo del producto es **+** porque **-** por **-** da **+**.(3) Multiplicar  $3a^2b$  por  $-4b^2x$ .

$$3a^2b \times (-4b^2x) = -3 \times 4a^2b^{1+2}x = -12a^2b^3x. \text{ R.}$$

El signo del producto es **-** porque **+** por **-** da **-**.(4) Multiplicar  $-ab^2$  por  $4a^m b^n c^3$ .

$$(-ab^2) \times 4a^m b^n c^3 = -1 \times 4a^{1+m}b^{2+n}c^3 = -4a^{m+1}b^{n+2}c^3. \text{ R.}$$

El signo del producto es **-** porque **-** por **+** da **-**.**EJERCICIO 35**

Multiplicar:

- |               |                     |                           |                           |
|---------------|---------------------|---------------------------|---------------------------|
| 1. 2 por -3.  | 3. -15 por 16.      | 5. $2x^2$ por $-3x$ .     | 7. $-5x^3y$ por $xy$ .    |
| 2. -4 por -8. | 4. $ab$ por $-ab$ . | 6. $-4a^2b$ por $-ab^2$ . | 8. $a^2b^3$ por $3a^2b$ . |



1.  $-4m^2$  por  $-5mn^2p$ . 13.  $-15x^4y^3$  por  $-16a^2x^2$ . 17.  $a^3b^4$  por  $-ab$ .  
 2.  $5a^2y$  por  $-6x^2$ . 14.  $3a^2b^3$  por  $-4x^2y$ . 18.  $-5a^3b^4$  por  $-6a^2b^3x$ .  
 3.  $-x^2y^3$  por  $-4y^2z^4$ . 15.  $3a^2bx$  por  $7b^3x^5$ . 19.  $x^m y^n c$  por  $-x^m y^n c^2$ .  
 4.  $abc$  por  $cd$ . 16.  $-8m^2n^3$  por  $-9a^2mx^4$ . 20.  $-m^3n^4$  por  $-6m^2n$ .

(5) Multiplicar  $a^{x+1}b^{y+2}$  por  $-3a^{x+2}b^3$ .  
 $(a^{x+1}b^{y+2}) \times (-3a^{x+2}b^3) = -3a^{x+1+x+2}b^{y+2+3} = -3a^{2x+3}b^{y+5}$ . R.

(6) Multiplicar  $-a^{m+1}b^{n-2}$  por  $-4a^{m-2}b^{2n+1}$ .  
 $(-a^{m+1}b^{n-2}) \times (-4a^{m-2}b^{2n+1}) = 4a^{m+1+m-2}b^{n-2+2n+1} = 4a^{2m-1}b^{3n-1}$ . R.

### EJERCICIO 36

Multiplicar:

1.  $a^m$  por  $a^{m+1}$ . 6.  $3x^2y^3$  por  $4x^{m+1}y^{n+2}$ .  
 2.  $-x^4$  por  $-x^{n+2}$ . 7.  $4x^{n+2}b^{n+4}$  por  $-5x^{n+3}b^{n+1}$ .  
 3.  $4a^3b^2$  por  $-ab^{n+1}$ . 8.  $a^m b^n c$  por  $-a^{m+1}b^{n+1}$ .  
 4.  $-a^{n+1}b^{n+2}$  por  $a^{n+2}b^n$ . 9.  $-x^{m+1}y^{n+2}$  por  $-4x^{m-2}y^{n-5}c^2$ .  
 5.  $-3a^{n+4}b^{n+1}$  por  $-4a^{n+2}b^{n+3}$ . 10.  $-5m^3n^{n-1}c$  por  $-7m^{2n-5}n^{n-4}$ .

(7) Multiplicar  $\frac{2}{3}a^2b$  por  $-\frac{5}{4}a^5m$ .

$$(\frac{2}{3}a^2b) \times (-\frac{5}{4}a^5m) = -\frac{2}{3} \times \frac{5}{4} a^5bm = -\frac{5}{6}a^5bm. \text{ R.}$$

(8) Multiplicar  $-\frac{5}{6}x^2y^3$  por  $-\frac{3}{10}x^m y^{n+1}$ .

$$(-\frac{5}{6}x^2y^3) \times (-\frac{3}{10}x^m y^{n+1}) = \frac{5}{6} \times \frac{3}{10} x^{m+2}y^{n+4} = \frac{1}{4}x^{m+2}y^{n+4}. \text{ R.}$$

### EJERCICIO 37

Efectuar:

1.  $\frac{1}{2}a^2$  por  $\frac{4}{5}a^3b$ . 7.  $\frac{1}{3}a$  por  $\frac{3}{5}a^m$ .  
 2.  $-\frac{3}{7}m^2n$  por  $-\frac{7}{14}a^2m^3$ . 8.  $-\frac{3}{4}a^m$  por  $-\frac{2}{5}ab^3$ .  
 3.  $\frac{2}{8}x^2y^3$  por  $-\frac{3}{5}a^2x^4y$ . 9.  $\frac{5}{6}a^m b^n$  por  $-\frac{8}{10}ab^2c$ .  
 4.  $-\frac{1}{8}m^2n^4$  por  $-\frac{4}{5}a^3m^2n$ . 10.  $-\frac{2}{9}a^x b^{m+1}$  por  $-\frac{8}{5}a^{x-1}b^m$ .  
 5.  $-\frac{7}{8}abc$  por  $\frac{2}{7}a^3$ . 11.  $\frac{2}{9}a^m b^n$  por  $-\frac{4}{5}a^{2m}b^{2n}$ .  
 6.  $-\frac{3}{5}x^2y^4$  por  $-\frac{5}{6}a^2by^5$ . 12.  $-\frac{2}{11}a^{x+1}b^{x-3}c^2$  por  $-\frac{44}{7}a^{x-8}b^2$ .

### 58 PRODUCTO CONTINUADO

Multiplicación de más de dos monomios.

#### Ejemplos

(1) Efectuar  $(2a)(-3a^2b)(-ab^3)$ .

$$(2a)(-3a^2b)(-ab^3) = 6a^4b^4. \text{ R.}$$

El signo del producto es + porque hay un número par de factores negativos.

(2) Efectuar  $(-x^2y)(-\frac{3}{2}x^m)(-\frac{3}{2}a^2y^n)$ .

$$(-x^2y)(-\frac{3}{2}x^m)(-\frac{3}{2}a^2y^n) = -\frac{3}{2}a^2x^{m+2}y^{n+1}. \text{ R.}$$

El signo del producto es - porque tiene un número impar de factores negativos.

### EJERCICIO 38

Multiplicar:

1.  $(a)(-3a)(a^2)$ . 7.  $(\frac{2}{3}a^m)(\frac{3}{4}a^2b^4)(-3a^4b^{n+1})$ .  
 2.  $(3x^2)(-x^3y)(-a^2x)$ . 8.  $(-\frac{3}{5}m^3)(-5a^2m)(-\frac{1}{10}a^5m^4)$ .  
 3.  $(-m^2n)(-3m^2)(-5mn^3)$ . 9.  $(2a)(-a^2)(-3a^3)(4a)$ .  
 4.  $(4a^2)(-5a^3x^2)(-ay^3)$ . 10.  $(-3b^2)(-4a^3b)(ab)(-5a^2x)$ .  
 5.  $(-a^m)(-2ab)(-3a^2b^3)$ . 11.  $(a^m b^n)(-a^2)(-2ab)(-3a^2x)$ .  
 6.  $(\frac{1}{2}x^3)(-\frac{2}{3}a^2x)(-\frac{8}{5}a^4m)$ . 12.  $(-\frac{1}{2}x^2y)(-\frac{3}{5}xy^2)(-\frac{10}{3}x^3)(-\frac{3}{4}x^2y)$ .

## II MULTIPLICACION DE POLINOMIOS POR MONOMIOS

59 Sea el producto  $(a+b)c$ .

Multiplicar  $(a+b)$  por  $c$  equivale a tomar la suma  $(a+b)$  como sumando  $c$  veces; luego:

$$\begin{aligned} (a+b)c &= (a+b) + (a+b) + (a+b) \dots c \text{ veces} \\ &= (a+a+a \dots c \text{ veces}) + (b+b+b \dots c \text{ veces}) \\ &= ac + bc. \end{aligned}$$

Sea el producto  $(a-b)c$ .

$$\begin{aligned} \text{Tendremos: } (a-b)c &= (a-b) + (a-b) + (a-b) \dots c \text{ veces} \\ &= (a+a+a \dots c \text{ veces}) - (b+b+b \dots c \text{ veces}) \\ &= ac - bc. \end{aligned}$$

Podemos, pues, enunciar la siguiente:

### 60 REGLA PARA MULTIPLICAR UN POLINOMIO POR UN MONOMIO

Se multiplica el monomio por cada uno de los términos del polinomio, teniendo en cuenta en cada caso la regla de los signos, y se separan los productos parciales con sus propios signos.

Esta es la Ley Distributiva de la multiplicación.

#### Ejemplos

(1) Multiplicar  $3x^2 - 6x + 7$  por  $4ax^2$ .

$$\begin{aligned} \text{Tendremos: } (3x^2 - 6x + 7) \times 4ax^2 &= 3x^2(4ax^2) - 6x(4ax^2) + 7(4ax^2) \\ &= 12ax^4 - 24ax^3 + 28ax^2. \text{ R.} \end{aligned}$$

$$\begin{array}{r} 3x^2 - 6x + 7 \\ 4ax^2 \\ \hline 12ax^4 - 24ax^3 + 28ax^2 \end{array}$$

La operación suele disponerse así:



$$\begin{array}{r} (2) \text{ Multiplicar } a^3x - 4a^2x^2 + 5ax^3 - x^4 \\ \text{por } -2a^2x. \\ \hline a^3x - 4a^2x^2 + 5ax^3 - x^4 \\ -2a^2x \\ \hline -2a^5x^2 + 8a^4x^3 - 10a^3x^4 + 2a^2x^5. \quad R. \end{array}$$

$$\begin{array}{r} (3) \text{ Multiplicar } x^{n+1}y - 3x^ny^2 + 2x^{n-1}y^3 - x^{n-2}y^4 \text{ por } -3x^2y^n. \\ \hline x^{n+1}y - 3x^ny^2 + 2x^{n-1}y^3 - x^{n-2}y^4 \\ -3x^2y^n \\ \hline -3x^{n+3}y^{n+1} + 9x^{n+2}y^{n+2} - 6x^{n+1}y^{n+3} + 3x^ny^{n+4}. \quad R. \end{array}$$

## EJERCICIO 39

Multiplicar:

- $3x^2 - x^2$  por  $-2x$ .  
 $8x^2y - 3y^2$  por  $2ax^3$ .  
 $x^2 - 4x + 3$  por  $-2x$ .  
 $a^2 - 4a^2 + 6a$  por  $3ab$ .  
 $a^2 - 2ab + b^2$  por  $-ab$ .  
 $x^3 - 6x^2 - 8x$  por  $3a^2x^2$ .  
 $m^4 - 3m^2n^2 + 7n^4$  por  $-4m^3x$ .  
 $x^3 - 4x^2y + 6xy^2$  por  $ax^3y$ .  
 $a^3 - 5a^2b - 8ab^2$  por  $-4a^4m^2$ .  
 10.  $a^m - a^{m-1} + a^{m-2}$  por  $-2a$ .  
 11.  $x^{m+1} + 3x^m - x^{m-1}$  por  $3x^{2m}$ .  
 12.  $a^{m+1}b^n + a^{m-1}b^{n+1} - a^{m-2}b^{n+2}$  por  $3a^2b$ .  
 13.  $x^3 - 3x^2 + 5x - 6$  por  $-4x^2$ .  
 14.  $a^4 - 6a^3x + 9a^2x^2 - 8$  por  $3bx^3$ .  
 15.  $a^{n+3} - 3a^{n+2} - 4a^{n+1} - a^n$  por  $-a^nx^2$ .  
 16.  $x^4 - 6x^3 + 8x^2 - 7x + 5$  por  $-3a^2x^3$ .  
 17.  $-3x^3 + 5x^2y - 7xy^2 - 4y^3$  por  $5a^2xy^2$ .  
 18.  $x^{n+5} - 3x^{n+4} + x^{n+3} - 5x^{n+1}$  por  $-2x^2$ .  
 19.  $a^6 - 3a^5b^2 + a^4b^4 - 3a^2b^6 + b^9$  por  $-5a^3y^2$ .  
 20.  $a^mb^n + 3a^{m-1}b^{n+2} - a^{m-2}b^{n+4} + a^{m-3}b^{n+6}$  por  $4a^nb^3$ .

$$(4) \text{ Multiplicar } \frac{2}{3}x^4y^2 - \frac{5}{6}x^2y^4 + \frac{1}{6}y^6 \text{ por } -\frac{2}{9}a^2x^3y^2.$$

$$\begin{array}{r} \frac{2}{3}x^4y^2 - \frac{5}{6}x^2y^4 + \frac{1}{6}y^6 \\ -\frac{2}{9}a^2x^3y^2 \\ \hline -\frac{4}{27}a^2x^7y^4 + \frac{10}{27}a^2x^5y^6 - \frac{2}{27}a^2x^3y^8. \quad R. \end{array}$$

## EJERCICIO 40

Multiplicar:

- $\frac{1}{2}a - \frac{2}{3}b$  por  $\frac{2}{5}a^2$ .  
 $\frac{2}{3}a - \frac{3}{4}b$  por  $-\frac{2}{5}a^2b$ .  
 $\frac{5}{6}a - \frac{1}{6}b + \frac{2}{3}c$  por  $-\frac{5}{3}ac^2$ .  
 $\frac{2}{5}a^2 + \frac{1}{3}ab - \frac{2}{9}b^2$  por  $3a^2x$ .  
 $\frac{1}{4}x^2 - \frac{2}{5}xy - \frac{1}{4}y^2$  por  $\frac{3}{2}y^3$ .  
 6.  $3a - 5b + 6c$  por  $-\frac{5}{10}a^2x^3$ .  
 7.  $\frac{2}{9}x^4 - x^2y^2 + \frac{1}{3}y^4$  por  $\frac{3}{7}x^2y^4$ .  
 8.  $\frac{1}{2}a^2 - \frac{1}{8}b^2 + \frac{1}{5}x^2 - \frac{1}{9}y^2$  por  $-\frac{5}{8}a^2m$ .  
 9.  $\frac{2}{3}m^3 + \frac{1}{2}m^2n - \frac{5}{6}mn^2 - \frac{1}{9}n^3$  por  $\frac{3}{4}m^2n^3$ .  
 10.  $\frac{2}{9}x^6 - \frac{1}{3}x^4y^2 + \frac{2}{5}x^2y^4 - \frac{1}{10}y^6$  por  $-\frac{5}{7}a^3x^4y^3$ .

## III. MULTIPLICACION DE POLINOMIOS POR POLINOMIOS

61 Sea el producto  $(a+b-c)(m+n)$ .Haciendo  $m+n=y$  tendremos:

$$(a+b-c)(m+n) = (a+b-c)y = ay + by - cy$$

(sustituyendo y por su valor  $m+n$ )

$$\begin{aligned} &= a(m+n) + b(m+n) - c(m+n) \\ &= am + an + bm + bn - cm - cn \\ &= am + bm - cm + an + bn - cn \end{aligned}$$

Podemos, pues, enunciar la siguiente:

## 62 REGLA PARA MULTIPLICAR DOS POLINOMIOS

Se multiplican todos los términos del multiplicando por cada uno de los términos del multiplicador, teniendo en cuenta la Ley de los signos, y se reducen los términos semejantes.

## Ejemplos

(1) Multiplicar  $a-4$  por  $3+a$ .

Los dos factores deben ordenarse con relación a una misma letra.

$$\begin{array}{r} \text{Tendremos: } \begin{array}{r} a-4 \\ a+3 \\ \hline a(a)-4(a) \\ +3(a)-3(4) \end{array} \quad \text{o sea } \begin{array}{r} a-4 \\ a+3 \\ \hline a^2-4a \\ 3a-12 \\ \hline a^2-a-12. \quad R. \end{array} \end{array}$$

Hemos multiplicado el primer término del multiplicador  $a$  por los dos términos del multiplicando y el segundo término del multiplicador  $3$  por los dos términos del multiplicando, escribiendo los productos parciales de modo que los términos semejantes queden en columna y hemos reducido los términos semejantes.

(2) Multiplicar  $4x-3y$  por  $-2y+5x$ .Ordenando en orden descendente con relación a la  $x$  tendremos:

$$\begin{array}{r} \begin{array}{r} 4x-3y \\ 5x-2y \\ \hline 4x(5x)-3y(5x) \\ -4x(2y)+3y(2y) \end{array} \quad \text{o sea } \begin{array}{r} 4x-3y \\ 5x-2y \\ \hline 20x^2-15xy \\ -8xy+6y^2 \\ \hline 20x^2-23xy+6y^2. \quad R. \end{array} \end{array}$$

## EJERCICIO 41

Multiplicar:

1.  $a+3$  por  $a-1$ .  
 2.  $a-3$  por  $a+1$ .  
 3.  $x+5$  por  $x-4$ .  
 4.  $m-6$  por  $m-5$ .  
 5.  $-x+3$  por  $-x+5$ .  
 6.  $-a-2$  por  $-a-3$ .  
 7.  $3x-2y$  por  $y+2x$ .  
 8.  $-4y+5x$  por  $-3x+2y$ .  
 9.  $5a-7b$  por  $a+3b$ .  
 10.  $7x-3$  por  $4+2x$ .  
 11.  $-a+b$  por  $-4b+8a$ .  
 12.  $6m-5n$  por  $-n+m$ .  
 13.  $8n-9m$  por  $4n+6m$ .  
 14.  $-7y-3$  por  $-11+2y$ .



(3) Multiplicar  $2 + a^2 - 2a - a^3$  por  $a + 1$ .

Ordenando en orden ascendente con relación a la  $a$  tendremos:

$$\begin{array}{r} 2 - 2a + a^2 - a^3 \\ 1 + a \\ \hline 2 - 2a + a^2 - a^3 \\ 2a - 2a^2 + a^3 - a^4 \\ \hline 2 - a^2 - a^4. \text{ R.} \end{array}$$

(4) Multiplicar  $6y^2 + 2x^2 - 5xy$  por  $3x^3 - 4y^2 + 2xy$ .

Ordenando en orden descendente con relación a la  $x$  tendremos:

$$\begin{array}{r} 2x^2 - 5xy + 6y^2 \\ 3x^3 + 2xy - 4y^2 \\ \hline 6x^4 - 15x^2y + 18x^2y^2 \\ 4x^3y - 10x^2y^2 + 12xy^3 \\ - 8x^2y^2 + 20xy^3 - 24y^4 \\ \hline 6x^4 - 11x^2y + 32xy^3 - 24y^4. \text{ R.} \end{array}$$

(5) Multiplicar  $x - 4x^2 + x^3 - 3$  por  $x^5 - 1 + 4x^2$ .

Ordenando en orden descendente con relación a  $x$ , tendremos:

$$\begin{array}{r} x^5 - 4x^2 + x - 3 \\ x^5 + 4x^2 - 1 \\ \hline x^6 - 4x^5 + x^4 - 3x^5 \\ 4x^6 - 16x^4 + 4x^3 - 12x^2 \\ - x^3 + 4x^2 - x + 3 \\ \hline x^6 - 15x^4 - 8x^2 - x + 3. \text{ R.} \end{array}$$

(6) Multiplicar  $2x - y + 3z$  por  $x - 3y - 4z$ .

$$\begin{array}{r} 2x - y + 3z \\ x - 3y - 4z \\ \hline 2x^2 - xy + 3xz \\ - 6xy + 3y^2 - 9yz \\ - 8xz + 4yz - 12z^2 \\ \hline 2x^2 - 7xy - 5xz + 3y^2 - 5yz - 12z^2. \text{ R.} \end{array}$$

## EJERCICIO 42

Multiplicar:

- $x^2 + xy + y^2$  por  $x - y$ .
- $a^2 + b^2 - 2ab$  por  $a - b$ .
- $a^2 + b^2 + 2ab$  por  $a + b$ .
- $x^3 - 3x^2 + 1$  por  $x + 3$ .
- $a^5 - a + a^2$  por  $a - 1$ .
- $m^4 + m^2n^2 + n^4$  por  $m^2 - n^2$ .
- $x^5 - 2x^2 + 3x - 1$  por  $2x + 3$ .
- $3y^3 + 5 - 6y$  por  $y^2 + 2$ .
- $m^3 - m^2 + m - 2$  por  $am + a$ .
- $3a^2 - 5ab + 2b^2$  por  $4a - 5b$ .
- $5m^4 - 3m^2n^2 + n^4$  por  $3m - n$ .
- $a^2 + a + 1$  por  $a^2 - a - 1$ .
- $x^5 + 2x^2 - x$  por  $x^2 - 2x + 5$ .
- $m^3 - 3m^2n + 2mn^2$  por  $m^2 - 2mn - 8n^2$ .
- $x^2 + 1 - x$  por  $x^2 - x - 1$ .
- $2 - 3x + x^4$  por  $x^2 - 2x + 3$ .
- $m^3 - 4m + m^2 - 1$  por  $m^3 + 1$ .
- $a^3 - 5a + 2$  por  $a^2 - a + 5$ .
- $x^2 - 2xy + y^2$  por  $xy - x^2 + 3y^2$ .
- $n^2 - 2n + 1$  por  $n^2 - 1$ .
- $a^3 - 3a^2b + 4ab^2$  por  $a^2b - 2ab^2 - 10b^3$ .
- $8x^3 - 9y^3 + 6xy^2 - 12x^2y$  por  $2x + 3y$ .
- $2y^3 + y - 3y^2 - 4$  por  $2y + 5$ .
- $3x^3 - a^3 + 2ax^2$  por  $2a^2 - x^2 - 3ax$ .

- $x^4 - 3x^3y + 2x^2y^2 + xy^3$  por  $-y^2 - xy - x^2$ .
- $2a - 5a^2 + a^3 - 3$  por  $a^3 - 2a - 7$ .
- $m^4 + 3 - m^2 + m^5$  por  $m^2 - 2m + 3$ .
- $a^4 - 3a^2b^2 + a^3b - ab^3 + b^4$  por  $a^2 - 2ab + b^2$ .
- $x^4 - x^3y + x^2y^2 - xy^3 + y^4$  por  $x^2 - 2y^2 + xy$ .
- $y^2 - 2y + 1$  por  $y^4 - 2y^2 + 2$ .

- $m^4 - 3m^2 + 4$  por  $3m^3 - 2m + 1$ .
- $a^3 - a + a^2 + 1$  por  $a^2 + a^3 - 2a - 1$ .
- $8x^3 - 12x^2y - 6xy^2 + y^3$  por  $3x^2 + 4y^2 - 1$ .
- $5a^4 - 3a + 2a^2 - 4a^3 - 1$  por  $a^4 - 2a^3 + 2$ .
- $x^4 - x^3 + x^2 - x + 1$  por  $x^5 - 2x^2 + 3x + 6$ .
- $3a^3 - 5a + 2a^2 - 4$  por  $a^2 + a^3 - 2a + 1$ .

- $5y^4 - 3y^3 + 4y^2 + 2y$  por  $y^4 - 3y^2 - 1$ .
- $m^4 - 2m^3n + 3m^2n^2 - 4n^4$  por  $n^2 - 5mn^2 + 3m^2n - m^3$ .
- $x^6 - 3x^4y^2 - x^2y^4 + y^6$  por  $x^2 - 2x^3y^2 + 3xy^4$ .
- $3a^5 - 6a^3 + 2a^2 - 3a + 2$  por  $a^4 - 3a^2 + 4a - 5$ .
- $a + b - c$  por  $a - b + c$ .
- $x + 2y - z$  por  $x - y + z$ .
- $2x - 3y + 5z$  por  $y + 2z - x$ .
- $x^2 + y^2 + z^2 - xy - xz - yz$  por  $x + y + z$ .

## 63 MULTIPLICACION DE POLINOMIOS CON EXPONENTES LITERALES

### Ejemplos

(1) Multiplicar  $a^{m+2} - 4a^m - 2a^{m+1}$  por  $a^2 - 2a$ .

$$\begin{array}{r} a^{m+2} - 2a^{m+1} - 4a^m \\ a^2 - 2a \\ \hline a^{m+4} - 2a^{m+3} - 4a^{m+2} \\ - 2a^{m+3} + 4a^{m+2} + 8a^{m+1} \\ \hline a^{m+4} - 4a^{m+3} + 8a^{m+1} \end{array}$$

(2) Multiplicar  $x^{2+2} - 3x^n - x^{n+1} + x^{n-1}$  por  $x^{n+1} + x^3 + 4x^{n-1}$ .

$$\begin{array}{r} x^{4+2} - 3x^{n+1} - x^{n+2} + x^{n-1} \\ x^{2+1} + x^3 + 4x^{n-1} \\ \hline x^{2n+3} - x^{2n+2} - 3x^{2n+1} + x^{2n} \\ x^{2n+2} - x^{2n+1} - 3x^{2n} + x^{2n-1} \\ 4x^{2n+1} - 4x^{2n} - 12x^{2n-1} + 4x^{2n-2} \\ \hline x^{2n+3} - 6x^{2n} - 11x^{2n-1} + 4x^{2n-2}. \text{ R.} \end{array}$$

## EJERCICIO 43

Multiplicar:

- $a^x - a^{x+1} + a^{x+2}$  por  $a + 1$ .
- $x^{n+1} + 2x^{n+2} - x^{n+3}$  por  $x^2 + x$ .
- $m^{x-1} + m^{x+1} + m^{x+2} - m^x$  por  $m^2 - 2m + 3$ .
- $a^{n+2} - 2a^n + 3a^{n+1}$  por  $a^2 + a^{n+1}$ .
- $x^{n+2} - x^3 + 2x^{n+1}$  por  $x^{n+3} - 2x^{n+1}$ .
- $3a^{x-2} - 2a^{x-1} + a^x$  por  $a^2 + 2a - 1$ .
- $3a^{x-1} + a^x - 2a^{x-2}$  por  $a^2 - a^{x-1} + a^{x-2}$ .
- $m^{n+1} - 2m^{n+2} - m^{n+3} + m^{n+4}$  por  $m^{n-3} - m^{n-1} + m^{n-2}$ .
- $x^{n-1} + 2x^{n-2} - x^{n-3} + x^{n-4}$  por  $-x^{n-2} + x^{n-1} - x^{n-2}$ .
- $a^nb - a^{n-1}b^2 + 2a^{n-2}b^3 - a^{n-3}b^4$  por  $a^2b^2 - a^{n-2}b^4$ .
- $a^x + b^x$  por  $a^m + b^m$ .
- $a^{x-1} - b^{n-1}$  por  $a - b$ .
- $a^{2m+1} - 5a^{2m} + 2 + 3a^{2m}$  por  $a^{2m-3} + 6a^{2m-1} - 8a^{2m-2}$ .
- $x^3 + 2y^{x-1} + 3xy^{x+1} - 4x^{x+1}y^x$  por  $-2x^{2x-1}y^{x-2} - 10x^{2x}y^x - 4x^{2x-2}y^{x-1}$ .



## 64 MULTIPLICACION DE POLINOMIOS CON COEFICIENTES FRACCIONARIOS

### Ejemplos

$$\frac{1}{2}x^2 - \frac{1}{3}xy$$

$$\frac{2}{3}x - \frac{4}{5}y$$

$$\frac{1}{3}x^3 - \frac{2}{5}x^2y$$

$$-\frac{2}{5}x^2y + \frac{4}{15}xy^2$$

$$\frac{1}{3}x^3 - \frac{28}{45}x^2y + \frac{4}{15}xy^2. \text{ R.}$$

(1) Multiplicar  $\frac{1}{2}x^2 - \frac{1}{3}xy$  por  $\frac{2}{3}x - \frac{4}{5}y$ .

Los productos de los coeficientes deben simplificarse. Así, en este caso, tenemos:

$$\frac{1}{2} \times \frac{2}{3} = \frac{2}{6} = \frac{1}{3}; \quad \frac{1}{3} \times \frac{4}{5} = \frac{4}{15}.$$

(2) Multiplicar  $\frac{1}{8}a^2 + \frac{1}{2}b^2 - \frac{1}{6}ab$  por  $\frac{3}{4}a^2 - \frac{1}{2}ab - \frac{1}{4}b^2$ .

$$\frac{1}{8}a^2 - \frac{1}{6}ab + \frac{1}{2}b^2$$

$$\frac{3}{4}a^2 - \frac{1}{2}ab - \frac{1}{4}b^2$$

$$\frac{1}{4}a^4 - \frac{3}{20}a^3b + \frac{3}{8}a^2b^2$$

$$- \frac{1}{6}a^3b + \frac{1}{10}a^2b^2 - \frac{1}{4}ab^3$$

$$- \frac{1}{12}a^2b^2 + \frac{1}{20}ab^3 - \frac{1}{8}b^4$$

$$\frac{1}{4}a^4 - \frac{19}{60}a^3b + \frac{47}{120}a^2b^2 - \frac{1}{5}ab^3 - \frac{1}{8}b^4. \text{ R.}$$

### EJERCICIO 44

Multiplicar:

$$\frac{1}{2}a - \frac{1}{8}b \text{ por } \frac{1}{3}a + \frac{1}{2}b.$$

$$x - \frac{2}{5}y \text{ por } \frac{5}{6}y + \frac{1}{3}x.$$

$$\frac{1}{3}x^2 - \frac{1}{6}xy + \frac{1}{4}y^2 \text{ por } \frac{2}{3}x - \frac{3}{2}y.$$

$$\frac{1}{4}a^2 - ab + \frac{2}{3}b^2 \text{ por } \frac{1}{4}a - \frac{5}{2}b.$$

$$5. \frac{2}{5}m^2 + \frac{1}{8}mn - \frac{1}{2}n^2 \text{ por } \frac{5}{2}m^2 + 2n^2 - mn.$$

$$6. \frac{3}{8}x^2 + \frac{1}{4}x - \frac{2}{5} \text{ por } 2x^3 - \frac{1}{8}x + 2.$$

$$7. \frac{1}{8}ax - \frac{1}{2}x^2 + \frac{3}{2}a^2 \text{ por } \frac{3}{2}x^2 - ax + \frac{2}{8}a^2.$$

$$8. \frac{2}{7}x^3 + \frac{1}{2}xy^2 - \frac{1}{5}x^2y \text{ por } \frac{1}{4}x^2 - \frac{2}{3}xy + \frac{5}{6}y^2.$$

$$9. \frac{1}{2} + \frac{1}{3}x^2 - \frac{1}{4}x + \frac{1}{4}x^3 \text{ por } \frac{3}{2}x^2 - \frac{1}{5} + \frac{1}{10}x.$$

$$10. \frac{5}{4}m^5 - \frac{1}{2}m^2n + \frac{2}{3}mn^2 - \frac{1}{4}n^3 \text{ por } \frac{2}{3}m^2 + \frac{5}{2}n^2 - \frac{2}{3}mn.$$

## 65 MULTIPLICACION POR COEFICIENTES SEPARADOS

La multiplicación de polinomios por el Método de coeficientes separados abrevia la operación y se aplica en los dos casos siguientes:

1) Multiplicación de dos polinomios que contengan una sola letra y estén ordenados en el mismo orden con relación a esa letra.

### Ejemplos

(1) Multiplicar  $3x^3 - 2x^2 + 5x - 2$  por  $2x^2 + 4x - 3$  por coeficientes separados.

$$\begin{array}{r} 3 - 2 + 5 - 2 \\ 2 + 4 - 3 \end{array}$$

Escribimos solamente los coeficientes con sus signos y efectuamos la multiplicación:

$$\begin{array}{r} 6 - 4 + 10 - 4 \\ + 12 - 8 + 20 - 8 \\ - 9 + 6 - 15 + 6 \\ \hline 6 + 8 - 7 + 22 - 23 + 6 \end{array}$$

Como el primer término del multiplicando tiene  $x^3$  y el primer término del multiplicador tiene  $x^2$ , el primer término del producto tendrá  $x^5$  y como en los factores el exponente de  $x$  disminuye una unidad en cada término, en el producto el exponente de  $x$  disminuirá también una unidad en cada término, luego el producto será:

$$6x^5 + 8x^4 - 7x^3 + 22x^2 - 23x + 6. \text{ R.}$$

(2) Multiplicar  $a^4 - 6a^2 + 2a - 7$  por  $a^3 - 2a + 4$  por coeficientes separados.

Escribimos solamente los coeficientes, pero como en el multiplicando falta el término en  $a^3$  y en el multiplicador falta el término en  $a^2$  escribimos cero en los lugares correspondientes a esos términos y tendremos:

$$\begin{array}{r} 1 + 0 - 6 + 2 - 7 \\ 1 + 0 - 2 + 4 \\ \hline 1 + 0 - 6 + 2 - 7 \\ - 2 - 0 + 12 - 4 + 14 \\ + 4 + 0 - 24 + 8 - 28 \\ \hline 1 + 0 - 8 + 6 + 5 - 28 + 22 - 28 \end{array}$$

Como el primer término del multiplicando tiene  $a^4$  y el primero del multiplicador tiene  $a^3$ , el primer término del producto tendrá  $a^7$  y como en los factores el exponente de  $a$  disminuye de uno en uno, en el producto también disminuirá de uno en uno, luego el producto será:

$$a^7 - 8a^6 + 6a^4 + 5a^3 - 28a^2 + 22a - 28. \text{ R.}$$

### OBSERVACION

Si en ambos factores el exponente de la letra común disminuye de dos en dos, de tres en tres, de cuatro en cuatro, etc., no es necesario poner cero en los lugares correspondientes a los términos que falten; sólo hay que tener presente que en el producto, los exponentes también bajarán de dos en dos, de tres en tres, de cuatro en cuatro, etc.

2) Multiplicación de dos polinomios homogéneos que contengan sólo dos letras comunes y estén ordenados en el mismo orden con relación a una de las letras.



Un polinomio es **homogéneo** cuando todos sus términos son homogéneos, o sea, cuando la suma de los exponentes de las letras en cada término es una cantidad constante.

El producto de dos polinomios homogéneos es otro polinomio homogéneo.

### Ejemplo

Multiplicar  $a^4 - 5a^3m + 7a^2m^2 - 3m^4$  por  $3a^2 - 2m^2$  por coeficientes separados.

El primer polinomio es homogéneo, porque la suma de los exponentes de las letras en todos los términos es 4 y el segundo también es homogéneo, porque la  $a$  tiene de exponente 2 y la  $m$  también tiene de exponente 2.

Escribimos solamente los coeficientes, poniendo cero en el multiplicando en el lugar correspondiente al término en  $am^3$  que falta y poniendo cero en el multiplicador en el lugar correspondiente al término en  $am$  que falta, y tendremos:

$$\begin{array}{r} 1 - 5 + 7 + 0 - 3 \\ 3 + 0 - 2 \\ \hline 3 - 15 + 21 + 0 - 9 \\ \quad - 2 + 10 - 14 - 0 + 6 \\ \hline 3 - 15 + 19 + 10 - 23 - 0 + 6 \end{array}$$

El primer término del producto tendrá  $a^6$  y, como el producto es homogéneo, la suma de los exponentes de las letras en cada término será 6.

Como en los factores, el exponente de  $a$  disminuye una unidad en cada término y el de  $m$  aumenta una unidad en cada término, en el producto se cumplirá la misma ley, luego el producto será:

$$3a^6 - 15a^5m + 19a^4m^2 + 10a^3m^3 - 23a^2m^4 + 6m^6. \quad R.$$

### EJERCICIO 45

Multiplicar por coeficientes separados:

- $x^3 - x^2 + x$  por  $x^2 - 1$ .
- $x^4 + 3x^3 - 5x^2 + 8$  por  $x^3 - 2x^2 - 7$ .
- $a^4 + 3a^3b - 2a^2b^2 + 5ab^3 - b^4$  por  $a^2 - 2ab + b^2$ .
- $m^3 + n^3 + 6mn^2 - 5m^2n$  por  $m^3 - 4mn^2 - n^3$ .
- $x^4 - 8x^2 + 3$  por  $x^4 + 6x^2 - 5$ .
- $a^6 - 3a^4 - 6a^2 + 10$  por  $a^3 - 4a^2 + 3a - 2a^2$ .
- $x^3 - 4x^2 + 3x - 2$  por  $3x^3 - 8x^2 + 10$ .
- $m^{12} - 7m^8 + 9m^4 - 15$  por  $m^{16} - 5m^{12} + 9m^8 - 4m^4 + 3$ .
- $x^5 - 3x^4y - 6x^3y^2 - 4x^2y^3 - y^5$  por  $2x^2 + 4y^2$ .
- $6a^5 - 4a^2 + 6a - 2$  por  $a^4 - 2a^2 + a - 7$ .
- $n^6 - 3n^4 + 5n^2 - 8n + 4$  por  $n^4 - 3n^2 + 4$ .
- $3x^4 - 4x^3y - y^4$  por  $x^5 - 5xy^2 + 3y^5$ .
- $x^{10} - 5x^6y^4 + 3x^2y^8 - 6y^{10}$  por  $x^9 - 4x^4y^2 + y^6 - 5x^2y^4$ .
- $a^m - 3a^{m-1} + 5a^{m-2}$  por  $a^2 - 5$ .
- $a^{x+2} - 5a^x - 7a^{x-1}$  por  $a^x + 6a^{x+1} + 7a^{x+3}$ .
- $x^{a+2} - 5x^a - 6x^{a-2}$  por  $6x^{a+1} - 4x^a + 2x^{a-1} + x^{a-2}$ .
- $a^{2x+2} - a^{2x} - 3a^{2x+1} - 5a^{2x-1}$  por  $3a^{3x-1} - 5a^{2x} + 6a^{2x+1}$ .

### 66 PRODUCTO CONTINUADO DE POLINOMIOS

#### Ejemplo

Efectuar  $3x(x+3)(x-2)(x+1)$ .

Al poner los factores entre paréntesis la multiplicación está indicada.

La operación se desarrolla efectuando el producto de dos factores cualesquiera; este producto se multiplica por el tercer factor y este nuevo producto por el factor que queda.

Así, en este caso efectuamos el producto  $3x(x+3) = 3x^2 + 9x$ . Este producto lo multiplicamos por  $x-2$  y tendremos:

$$\begin{array}{r} 3x^2 + 9x \\ x - 2 \\ \hline 3x^3 + 9x^2 \\ - 6x^2 - 18x \\ \hline 3x^3 + 3x^2 - 18x \end{array}$$

Este producto se multiplica por  $x+1$ :

$$\begin{array}{r} 3x^3 + 3x^2 - 18x \\ x + 1 \\ \hline 3x^4 + 3x^3 - 18x^2 \\ 3x^3 + 3x^2 - 18x \\ \hline 3x^4 + 6x^3 - 15x^2 - 18x \end{array} \quad R.$$

En virtud de la Ley Asociativa de la multiplicación, podíamos también haber hallado el producto  $3x(x+3)$ ; después el producto  $(x-2)(x+1)$  y luego multiplicar ambos productos parciales.

### EJERCICIO 46

Simplificar:

- $4(a+5)(a-3)$ .
- $3a^2(x+1)(x-1)$ .
- $2(a-3)(a-1)(a+4)$ .
- $(x^2+1)(x^2-1)(x^2+1)$ .
- $m(m-4)(m-6)(3m+2)$ .
- $(a-b)(a^2-2ab+b^2)(a+b)$ .
- $3x(x^2-2x+1)(x-1)(x+1)$ .
- $(x^2-x+1)(x^2+x-1)(x-2)$ .
- $(a^2-3)(a^{n-1}+2)(a^{n-2}-1)$ .
- $a(a-1)(a-2)(a-3)$ .
- $(x-3)(x+4)(x-5)(x+1)$ .
- $(x^2-3)(x^2+2x+1)(x-1)(x^2+3)$ .
- $9a^2(3a-2)(2a+1)(a-1)(2a-1)$ .
- $a^x(a^{x-1}+b^{x+2})(a^{x+1}-b^{x+2})b^x$ .

### 67 MULTIPLICACION COMBINADA CON SUMA Y RESTA

1) Simplificar  $(x+3)(x-4) + 3(x-1)(x+2)$ .

Efectuaremos el primer producto  $(x+3)(x-4)$ ; efectuaremos el segundo producto  $3(x-1)(x+2)$  y sumaremos este segundo producto con el primero.

Efectuando el primer producto:  $(x+3)(x-4) = x^2 - x - 12$ .

Efectuando el segundo producto:  $3(x-1)(x+2) = 3(x^2 + x - 2) = 3x^2 + 3x - 6$ .

Sumando este segundo producto con el primero:

$$(x^2 - x - 12) + (3x^2 + 3x - 6) = x^2 - x - 12 + 3x^2 + 3x - 6 = 4x^2 + 2x - 18. \quad R.$$



3) Simplificar  $x(a-b)^2 - 4x(a+b)^2$ .

Elevar una cantidad al cuadrado equivale a multiplicarla por sí misma; así  $(a-b)^2$  equivale a  $(a-b)(a-b)$ .

Desarrollando  $x(a-b)^2$ .

$$x(a-b)^2 = x(a^2 - 2ab + b^2) = a^2x - 2abx + b^2x.$$

Desarrollando  $4x(a+b)^2$ .

$$4x(a+b)^2 = 4x(a^2 + 2ab + b^2) = 4a^2x + 8abx + 4b^2x.$$

Restando este segundo producto del primero:

$$\begin{aligned} & a^2x - 2abx + b^2x - (4a^2x + 8abx + 4b^2x) \\ &= a^2x - 2abx + b^2x - 4a^2x - 8abx - 4b^2x \\ &= -3a^2x - 10abx - 3b^2x. \quad R. \end{aligned}$$

## EJERCICIO 47

Simplificar:

$$\begin{aligned} & 4(x+3)+5(x+2). \\ & 6(x^2+4)-3(x^2+1)+5(x^2+2). \\ & a(a-x)+3a(x+2a)-a(x-3a). \\ & x^2(y^2+1)+y^2(x^2+1)-3x^2y^2. \\ & 4m^3-5mn^2+3m^2(m^2+n^2)-3m(m^2-n^2). \\ & y^2+x^2y^2-y^2(x^2+1)+y^2(x^2+1)-y^2(x^2-1). \\ & 5(x+3)-(x+1)(x+4)-6x. \\ & (a+5)(a-5)-3(a+2)(a-2)+5(a+4). \\ & (a+b)(4a-3b)-(5a-2b)(3a+b). \\ & -(a+b)(3a-6b). \\ & (a+c)^2-(a-c)^2. \end{aligned}$$

$$\begin{aligned} & 11. 3(x+y)^2-4(x-y)^2+3x^2-3y^2. \\ & 12. (m+n)^2-(2m+n)^2+(m-4n)^2. \\ & 13. x(a+x)+3x(a+1)-(x+1)(a+2x)-(a-x)^2. \\ & 14. (a+b-c)^2+(a-b+c)^2-(a+b+c)^2. \\ & 15. (x^2+x-3)^2-(x^2-2+x)^2+(x^2-x-3)^2. \\ & 16. (x+y+z)^2-(x+y)(x-y)+3(x^2+xy+y^2). \\ & 17. [x+(2x-3)][3x-(x+1)]+4x-x^2. \\ & 18. [3(x+2)-4(x+1)][3(x+4)-2(x+2)]. \\ & 19. [(m+n)(m-n)-(m+n)(m+n)][2(m+n)-3(m-n)]. \\ & 20. [(x+y)^2-3(x-y)^2][(x+y)(x-y)+x(y-x)]. \end{aligned}$$

## 8 SUPRESION DE SIGNOS DE AGRUPACION CON PRODUCTOS INDICADOS

## Ejemplos

(1) Simplificar  $5a + \{ a - 2[a + 3b - 4(a + b)] \}$ .

Un coeficiente colocado junto a un signo de agrupación nos indica que hay que multiplicarlo por cada uno de los términos encerrados en el signo de agrupación. Así, en este caso multiplicamos  $-4$  por  $a+b$ , y tendremos:

$$5a + \{ a - 2[a + 3b - 4a - 4b] \}.$$

En el curso de la operación podemos reducir términos semejantes. Así, reduciendo los términos semejantes dentro del corchete, tenemos:

$$5a + \{ a - 2[-3a - b] \}.$$

Efectuando la multiplicación de  $-2$  por  $(-3a - b)$  tenemos:

$$\begin{aligned} & 5a + \{ a + 6a + 2b \} \\ &= 5a + \{ 7a + 2b \} \\ &= 5a + 7a + 2b = 12a + 2b. \quad R. \end{aligned}$$

(2) Simplificar  $-3(x+y) - 4[-x+2\{-x+2y-3(x-y+2)\}-2x]$ .

Suprimiendo primero el vínculo, tendremos:

$$\begin{aligned} & -3(x+y) - 4[-x+2\{-x+2y-3(x-y+2)\}-2x] \\ &= -3x-3y-4[-x+2\{-x+2y-3x+3y+6\}-2x] \\ &= -3x-3y-4[-x+2\{-4x+5y+6\}-2x] \\ &= -3x-3y-4[-x-8x+10y+12-2x] \\ &= -3x-3y-4[-11x+10y+12] \\ &= -3x-3y+44x-40y-48 \\ &= 41x-43y-48. \quad R. \end{aligned}$$

## EJERCICIO 48

Simplificar:

- $x - [3a + 2(-x + 1)]$ .
- $-(a+b) - 3[2a + b(-a + 2)]$ .
- $-[3x - 2y + (x - 2y) - 2(x + y) - 3(2x + 1)]$ .
- $4x^2 - \{-3x + 5 - [-x + x(2 - x)]\}$ .
- $2a - \{-3x + 2[-a + 3x - 2(-a + b - 2 + a)]\}$ .
- $a - (x + y) - 3(x - y) + 2[-(x - 2y) - 2(-x - y)]$ .
- $m - (m + n) - 3\{-2m + [-2m + n + 2(-1 + n) - \overline{m + n - 1}]\}$ .
- $-2(a - b) - 3(a + 2b) - 4\{a - 2b + 2[-a + b - 1 + 2(a - b)]\}$ .
- $-5(x + y) - [2x - y + 2\{-x + y - 3 - \overline{x - y - 1}\}] + 2x$ .
- $m - 3(m + n) + [-\{-(-2m + n - 2 - 3[m - n + 1]) + m\}]$ .
- $-3(x - 2y) + 2\{-4[-2x - 3(x + y)]\} - \{-[-(x + y)]\}$ .
- $5\{-(a + b) - 3[-2a + 3b - (a + b) + (-a - b) + 2(-a + b)] - a\}$ .
- $-3\{-[-(-a + b)]\} - 4\{-[-(-a - b)]\}$ .
- $-\{a + b - 3(a - b) + 3\{-2a + b - 3(a + b - 1)\}\} - 3[-a + 2(-1 + a)]$ .

## 69 CAMBIOS DE SIGNOS EN LA MULTIPLICACION

Las reglas generales para los cambios de signos en la multiplicación son las siguientes:  $(+a)(+b) = +ab$  y  $(-a)(-b) = +ab$ .

1) Si se cambia el signo a un número par de factores, el signo del producto no varía.

En efecto: Sabemos que

$$(+a)(+b) = +ab \quad \text{y} \quad (-a)(-b) = +ab,$$

donde vemos que cambiando el signo a dos factores el signo del producto no varía.



3) Si se cambia el signo a un número impar de factores, el signo del producto varía.

En efecto: Sabemos que

$$(+a)(+b) = +ab \quad \text{y} \quad (+a)(-b) = -ab \quad \text{o} \quad (-a)(+b) = -ab,$$

donde vemos que cambiando el signo a un factor el signo del producto varía.

Cuando los factores sean polinomios, para cambiarles el signo hay que cambiar el signo a cada uno de sus términos. Así, en el producto  $(a-b)(c-d)$ , para cambiar el signo al factor  $(a-b)$ , hay que escribir  $(b-a)$ , donde vemos que  $a$ , que tenía  $+$ , ahora tiene  $-$ , y  $b$ , que tenía  $-$ , tiene ahora  $+$ ; para cambiar el signo a  $(c-d)$  hay que escribir  $(d-c)$ .

Por tanto, como cambiando el signo a un factor el producto varía su signo, tendremos:

$$(a-b)(c-d) = -(b-a)(c-d)$$

$$(a-b)(c-d) = -(a-b)(d-c)$$

y como cambiando el signo a dos factores el producto no varía de signo, tendremos:

$$(a-b)(c-d) = (b-a)(d-c).$$

Tratándose de más de dos factores aplicamos las reglas generales que nos dicen que cambiando el signo a un número par de factores el producto no varía de signo y cambiando el signo a un número impar de factores el producto varía de signo.

Así, tendremos:

$$\begin{aligned} (+a)(+b)(+c) &= -(-a)(+b)(+c) \\ (+a)(+b)(+c) &= -(+a)(-b)(+c) \\ (+a)(+b)(+c) &= -(-a)(-b)(-c) \end{aligned}$$

y también:

$$\begin{aligned} (+a)(+b)(+c) &= (-a)(-b)(+c) \\ (+a)(+b)(+c) &= (+a)(-b)(-c) \\ (+a)(+b)(+c) &= (-a)(+b)(-c). \end{aligned}$$

Si se trata de polinomios, tendremos:

$$\begin{aligned} (a-b)(c-d)(m-n) &= -(b-a)(c-d)(m-n) \\ (a-b)(c-d)(m-n) &= -(a-b)(d-c)(m-n) \\ (a-b)(c-d)(m-n) &= -(b-a)(d-c)(n-m) \end{aligned}$$

y también:

$$\begin{aligned} (a-b)(c-d)(m-n) &= (b-a)(d-c)(m-n) \\ (a-b)(c-d)(m-n) &= (a-b)(d-c)(n-m) \\ (a-b)(c-d)(m-n) &= (b-a)(c-d)(n-m). \end{aligned}$$



**PLATÓN (429-347 A. C.)** Uno de los más grandes filósofos de la Antigüedad. Alumno predilecto de Sócrates, dio a conocer las doctrinas del Maestro y las suyas propias en los famosos Diálogos, entre los que sobresalen el Timeo, Fedón, el Banquete etc. Viajó

por el mundo griego de su época, y recibe la influencia de los sabios y matemáticos contemporáneos a él. Alcanzó pleno dominio de las ciencias de su tiempo. Al fundar la Academia hizo inscribir en el frontispicio: "Que nadie entre aquí si no sabe Geometría".

## CAPITULO V

### DIVISION

**70 LA DIVISION** es una operación que tiene por objeto, dado el producto de dos factores (dividendo) y uno de los factores (divisor), hallar el otro factor (cociente).

De esta definición se deduce que el cociente multiplicado por el divisor reproduce el dividendo.

Así, la operación de dividir  $6a^2$  entre  $3a$ , que se indica  $6a^2 \div 3a$  ó  $\frac{6a^2}{3a}$ , consiste en hallar una cantidad que multiplicada por  $3a$  dé  $6a^2$ . Esa cantidad (cociente) es  $2a$ .

Es evidente que  $6a^2 \div 2a = \frac{6a^2}{2a} = 3a$ , donde vemos que si el dividendo se divide entre el cociente nos da de cociente lo que antes era divisor.

**71 LEY DE LOS SIGNOS**

La ley de los signos en la división es la misma que en la multiplicación:

**Signos iguales dan + y signos diferentes dan -**

En efecto:

$$1. \quad +ab \div +a = \frac{+ab}{+a} = +b$$

porque el cociente multiplicado por el divisor tiene que dar el dividendo con su signo y siendo el dividendo positivo, como el divisor es positivo, el



cociente tiene que ser positivo para que multiplicado por el divisor reproduzca el dividendo:  $(+a) \times (+b) = +ab$ .

El cociente no puede ser  $-b$  porque multiplicado por el divisor no reproduce el dividendo:  $(+a) \times (-b) = -ab$ .

$$2. \quad -ab \div -a = \frac{-ab}{-a} = +b \text{ porque } (-a) \times (+b) = -ab.$$

$$3. \quad +ab \div -a = \frac{+ab}{-a} = -b \text{ porque } (-a) \times (-b) = +ab.$$

$$4. \quad -ab \div +a = \frac{-ab}{+a} = -b \text{ porque } (+a) \times (-b) = -ab.$$

En resumen:

+	entre	+	da	+
-	entre	-	da	+
+	entre	-	da	-
-	entre	+	da	-

## 72 LEY DE LOS EXPONENTES

Para dividir potencias de la misma base se deja la misma base y se le pone de exponente la diferencia entre el exponente del dividendo y el exponente del divisor.

Sea el cociente  $a^3 \div a^3$ . Decimos que

$$a^3 \div a^3 = \frac{a^3}{a^3} = a^{3-3} = a^0$$

$a^0$  será el cociente de esta división si multiplicada por el divisor  $a^3$  reproduce el dividendo, y en efecto:  $a^0 \times a^3 = a^3$ .

## 73 LEY DE LOS COEFICIENTES

El coeficiente del cociente es el cociente de dividir el coeficiente del dividendo entre el coeficiente del divisor.

En efecto:

$$20a^2 \div 5a = 4a$$

$4a$  es el cociente porque  $4a \times 5a = 20a^2$  y vemos que el coeficiente del cociente 4, es el cociente de dividir 20 entre 5.

## 74 CASOS DE LA DIVISION

Estudiaremos tres casos: 1) División de monomios. 2) División de un polinomio por un monomio. 3) División de dos polinomios.

## I. DIVISION DE MONOMIOS

De acuerdo con las leyes anteriores, podemos enunciar la siguiente:

### 75 REGLA PARA DIVIDIR DOS MONOMIOS

Se divide el coeficiente del dividendo entre el coeficiente del divisor y a continuación se escriben en orden alfabético las letras, poniéndole a cada letra un exponente igual a la diferencia entre el exponente que tiene en el dividendo y el exponente que tiene en el divisor. El signo lo da la Ley de los signos.

### Ejemplos

(1) Dividir  $4a^3b^2$  entre  $-2ab$ .

$$4a^3b^2 \div -2ab = \frac{4a^3b^2}{-2ab} = -2a^2b. \quad R.$$

porque  $(-2ab) \times (-2a^2b) = 4a^3b^2$ .

(2) Dividir  $-5a^4b^3c$  entre  $-a^2b$ .

$$-5a^4b^3c \div -a^2b = \frac{-5a^4b^3c}{-a^2b} = 5a^2b^2c. \quad R.$$

porque  $5a^2b^2c \times (-a^2b) = -5a^4b^3c$ .

Obsérvese que cuando en el dividendo hay una letra que no existe en el divisor, en este caso  $c$ , dicha letra aparece en el cociente. Sucede lo mismo que si la  $c$  estuviera en el divisor con exponente cero porque tendríamos:

$$c \div c^0 = c^{1-0} = c.$$

(3) Dividir  $-20mx^2y^3 \div 4xy^3$ .

$$-20mx^2y^3 \div 4xy^3 = \frac{-20mx^2y^3}{4xy^3} = -5mx. \quad R.$$

porque  $4xy^3 \times (-5mx) = -20mx^2y^3$ .

Obsérvese que letras iguales en el dividendo y divisor se cancelan porque su cociente es 1. Así, en este caso,  $y^3$  del dividendo se cancela con  $y^3$  del divisor, igual que en Aritmética suprimimos los factores comunes en el numerador y denominador de un quebrado.

También, de acuerdo con la Ley de los exponentes  $y^3 \div y^3 = y^{3-3} = y^0$  y veremos más adelante que  $y^0 = 1$  y 1 como factor puede suprimirse en el cociente.

(4) Dividir  $-x^ny^nz^n$  entre  $3xy^2z^3$ .

$$-x^ny^nz^n \div 3xy^2z^3 = \frac{-x^ny^nz^n}{3xy^2z^3} = -\frac{1}{3}x^{n-1}y^{n-2}z^{n-3}. \quad R.$$



## EJERCICIO 49

Dividir:

- |                                      |   |   |
|--------------------------------------|---|---|
| 1. -24 entre 8.                      | 8. $-5m^2n$ entre $m^2n$ .              | 15. $-2m^2n^3$ entre $-3mn^3$ .         |
| 2. -63 entre -7.                     | 9. $-8a^2x^3$ entre $-8a^2x^3$ .        | 16. $a^4$ entre $a^2$ .                 |
| 3. $-5a^2$ entre $-a$ .              | 10. $-xy^2$ entre $2y$ .                | 17. $-3a^2b^3$ entre $ab^2$ .           |
| 4. $14a^3b^4$ entre $-2ab^2$ .       | 11. $5x^4y^5$ entre $-6x^3y$ .          | 18. $5a^2b^3c$ entre $-6a^3b^4c$ .      |
| 5. $-a^3b^4c$ entre $a^3b^4$ .       | 12. $-a^4b^3c^4$ entre $8c^4$ .         | 19. $a^4b^3$ entre $-4a^3b^3$ .         |
| 6. $-a^2b$ entre $-ab$ .             | 13. $16m^6n^4$ entre $-5n^3$ .          | 20. $-3m^2n^3x^3$ entre $-5m^2n^2x^3$ . |
| 7. $54x^2y^3z^3$ entre $-6xy^2z^3$ . | 14. $-108a^7b^5c^4$ entre $-20b^6c^4$ . |   |

(5) Dividir  $a^{x+3}b^{m+2}$  entre  $a^{x+2}b^{m+1}$ .

$$\frac{a^{x+3}b^{m+2}}{a^{x+2}b^{m+1}} = a^{x+3-(x+2)}b^{m+2-(m+1)} = a^{x+3-x-2}b^{m+2-m-1} = ab. \quad R.$$

(6) Dividir  $-3x^{2n+3}y^{3n-2}$  entre  $-5x^{n-4}y^{n-1}$ .

$$\frac{-3x^{2n+3}y^{3n-2}}{-5x^{n-4}y^{n-1}} = \frac{3}{5}x^{2n+3-(n-4)}y^{3n-2-(n-1)} = \frac{3}{5}x^{2n+3-n+4}y^{3n-2-n+1} = \frac{3}{5}x^{n+7}y^{2n-1}. \quad R.$$

## EJERCICIO 50

Dividir:

- |                                      |   |
|--------------------------------------|---|
| 1. $a^{m+3}$ entre $a^{m+2}$ .       | 6. $-7x^{m+3}y^{m-1}$ entre $-8x^4y^2$ .          |
| 2. $2x^{n+9}$ entre $-x^{n+2}$ .     | 7. $5a^{2m-3}b^{n-8}$ entre $-6a^{2m-2}b^{n-4}$ . |
| 3. $-3a^{m-2}$ entre $-5a^{m-5}$ .   | 8. $-4x^{n-1}y^{n+1}$ entre $5x^{n-1}y^{n+1}$ .   |
| 4. $x^{2n+3}$ entre $-4x^{n+4}$ .    | 9. $a^{m+2}b^{n-2}$ entre $a^m b^3$ .             |
| 5. $-4a^{x-2}b^5$ entre $-5a^3b^2$ . | 10. $-5ab^2c^3$ entre $6a^2b^3c^4$ .              |

(7) Dividir  $\frac{2}{3}a^2b^3c$  entre  $-\frac{5}{6}a^2bc$ .

$$\frac{\frac{2}{3}a^2b^3c}{-\frac{5}{6}a^2bc} = -\frac{4}{5}b^2. \quad R.$$

## EJERCICIO 51

Dividir:

- |   |  |
|---|--|
| 1. $\frac{1}{2}x^2$ entre $\frac{3}{8}$ .           | 7. $-\frac{7}{8}a^2b^3c^4$ entre $-\frac{5}{2}ab^3c^5$ .                 |
| 2. $-\frac{3}{5}a^3b$ entre $-\frac{4}{9}a^2b$ .    | 8. $\frac{2}{3}a^4b^{12}$ entre $-\frac{8}{5}ab^2$ .                     |
| 3. $\frac{2}{9}xy^3z^3$ entre $-\frac{7}{6}z^3$ .   | 9. $-\frac{3}{8}c^3d^5$ entre $\frac{3}{4}d^4$ .                         |
| 4. $-\frac{7}{8}a^m b^n$ entre $-\frac{3}{4}ab^2$ . | 10. $\frac{3}{4}a^m b^n$ entre $-\frac{3}{2}b^3$ .                       |
| 5. $-\frac{9}{8}x^4y^5$ entre $-2$ .                | 11. $-2a^{x+4}b^{m-3}$ entre $-\frac{1}{2}a^4b^3$ .                      |
| 6. $3m^4n^3p^6$ entre $-\frac{1}{8}m^4np^6$ .       | 12. $-\frac{1}{15}a^{x-3}b^m + 5c^2$ entre $\frac{3}{8}a^{x-4}b^{m-1}$ . |

## II. DIVISION DE POLINOMIOS POR MONOMIOS

76 Sea  $(a+b-c) \div m$ . Tendremos:

$$(a+b-c) \div m = \frac{a+b-c}{m} = \frac{a}{m} + \frac{b}{m} - \frac{c}{m}$$

En efecto:  $\frac{a}{m} + \frac{b}{m} - \frac{c}{m}$  es el cociente de la división porque multiplicado por el divisor reproduce el dividendo:

$$\left(\frac{a}{m} + \frac{b}{m} - \frac{c}{m}\right)m = \frac{a}{m} \times m + \frac{b}{m} \times m - \frac{c}{m} \times m = a + b - c.$$

Podemos, pues, enunciar la siguiente:

## 77 REGLA PARA DIVIDIR UN POLINOMIO POR UN MONOMIO

Se divide cada uno de los términos del polinomio por el monomio separando los cocientes parciales con sus propios signos.

Esta es la Ley Distributiva de la división.

## Ejemplos

(1) Dividir  $3a^3 - 6a^2b + 9ab^2$  entre  $3a$ .

$$\begin{aligned} (3a^3 - 6a^2b + 9ab^2) \div 3a &= \frac{3a^3 - 6a^2b + 9ab^2}{3a} = \frac{3a^3}{3a} - \frac{6a^2b}{3a} + \frac{9ab^2}{3a} \\ &= a^2 - 2ab + 3b^2. \quad R. \end{aligned}$$

(2) Dividir  $2a^x b^m - 6a^{x+1} b^{m-1} - 3a^{x+2} b^{m-2}$  entre  $-2a^3 b^4$ .

$$\begin{aligned} (2a^x b^m - 6a^{x+1} b^{m-1} - 3a^{x+2} b^{m-2}) \div -2a^3 b^4 &= -\frac{2a^x b^m}{2a^3 b^4} \\ &+ \frac{6a^{x+1} b^{m-1}}{2a^3 b^4} + \frac{3a^{x+2} b^{m-2}}{2a^3 b^4} = -a^{x-3} b^{m-4} + 3a^{x-2} b^{m-5} + \frac{3}{2}a^{x-1} b^{m-6}. \quad R. \end{aligned}$$

## EJERCICIO 52

Dividir:

- |   |  |
|---|--|
| 1. $a^2 - ab$ entre $a$ .                         | 9. $8m^2n^2 - 10m^2n^4 - 20m^5n^4 + 12m^5n^8$ entre $2m^2$ .                         |
| 2. $3x^2y^3 - 5a^2x^4$ entre $-3x^2$ .            | 10. $a^x + a^{m-1}$ entre $a^2$ .  |
| 3. $3a^3 - 5ab^2 - 6a^2b^3$ entre $-2a$ .         | 11. $2a^m - 3a^{m+2} + 6a^{m+4}$ entre $-3a^3$ .                                     |
| 4. $x^3 - 4x^2 + x$ entre $x$ .                   | 12. $a^2b^3 + a^{m-1}b^3 + 2 - a^{m-2}b^3 + 4$ entre $a^2b^3$ .                      |
| 5. $4x^6 - 10x^5 - 5x^4$ entre $2x^3$ .           | 13. $x^{m+2} - 5x^m + 6x^{m+1} - x^{m-1}$ entre $x^{m-2}$ .                          |
| 6. $6m^3 - 8m^2n + 20mn^2$ entre $-2m$ .          | 14. $4a^x + 4b^{m-1} - 6a^x + 3b^{m-2} + 8a^x + 2b^{m-3}$ entre $-2a^x + 2b^{m-4}$ . |
| 7. $6a^4b^3 - 3a^4b^6 - a^2b^3$ entre $3a^2b^3$ . |  |
| 8. $x^4 - 5x^3 - 10x^2 + 15x$ entre $-5x$ .       |  |



(3) Dividir  $\frac{3}{4}x^2y - \frac{2}{3}x^2y^2 + \frac{5}{6}xy^3 - \frac{1}{2}y^4$  entre  $\frac{5}{6}y$ .

$$\left(\frac{3}{4}x^2y - \frac{2}{3}x^2y^2 + \frac{5}{6}xy^3 - \frac{1}{2}y^4\right) \div \frac{5}{6}y = \frac{\frac{3}{4}x^2y}{\frac{5}{6}y} - \frac{\frac{2}{3}x^2y^2}{\frac{5}{6}y} + \frac{\frac{5}{6}xy^3}{\frac{5}{6}y} - \frac{\frac{1}{2}y^4}{\frac{5}{6}y}$$

$$= \frac{9}{10}x^2 - \frac{4}{5}x^2y + xy^2 - \frac{3}{5}y^3. \text{ R.}$$

### ● EJERCICIO 53

Dividir:

1.  $\frac{1}{2}x^2 - \frac{2}{3}x$  entre  $\frac{2}{3}x$ .

2.  $\frac{1}{3}a^3 - \frac{8}{5}a^2 + \frac{1}{4}a$  entre  $-\frac{3}{5}$ .

3.  $\frac{1}{4}m^4 - \frac{2}{3}m^3n + \frac{2}{5}m^2n^2$  entre  $\frac{1}{4}m^2$ .

4.  $\frac{2}{3}x^4y^3 - \frac{1}{6}x^3y^4 + \frac{1}{4}x^2y^5 - xy^6$  entre  $-\frac{1}{2}xy^3$ .

5.  $\frac{2}{5}a^5 - \frac{1}{3}a^3b^3 - ab^5$  entre  $5a$ .

6.  $\frac{1}{3}a^m + \frac{1}{4}a^{m-1}$  entre  $\frac{1}{2}a$ .

7.  $\frac{2}{3}a^{x+1} - \frac{1}{4}a^{x-1} - \frac{2}{5}a^x$  entre  $\frac{1}{6}a^{x-2}$ .

8.  $-\frac{5}{4}a^{n-1}x^{m+2} + \frac{1}{3}a^nx^{m+1} - \frac{2}{3}a^{n+1}x^m$  entre  $-\frac{2}{5}a^3x^2$ .

### III. DIVISION DE DOS POLINOMIOS

La división de dos polinomios se verifica de acuerdo con la siguiente:

#### 78 ● REGLA PARA DIVIDIR DOS POLINOMIOS

Se ordenan el dividendo y el divisor con relación a una misma letra.

Se divide el primer término del dividendo entre el primero del divisor y tendremos el primer término del cociente.

Este primer término del cociente se multiplica por todo el divisor y el producto se resta del dividendo, para lo cual se le cambia el signo, escribiendo cada término debajo de su semejante. Si algún término de este producto no tiene término semejante en el dividendo se escribe en el lugar que le corresponda de acuerdo con la ordenación del dividendo y el divisor.

Se divide el primer término del resto entre el primer término del divisor y tendremos el segundo término del cociente.

Este segundo término del cociente se multiplica por todo el divisor y el producto se resta del dividendo, cambiando los signos.

Se divide el primer término del segundo resto entre el primero del divisor y se efectúan las operaciones anteriores; y así sucesivamente hasta que el residuo sea cero.

### Ejemplos

(1) Dividir  $3x^2 + 2x - 8$  entre  $x + 2$ .

$$\begin{array}{r} 3x^2 + 2x - 8 \quad | \quad x + 2 \\ - 3x^2 - 6x \quad \quad \quad \\ \hline - 4x - 8 \\ \quad \quad \quad + 4x + 8 \\ \hline \quad \quad \quad \quad \quad 0 \end{array} \text{ R.}$$

#### EXPLICACION

El dividendo y el divisor están ordenados en orden descendente con relación a  $x$ .

Dividimos el primer término del dividendo  $3x^2$  entre el primero del divisor  $x$  y tenemos  $3x^2 \div x = 3x$ . Este es el primer término del cociente.

Multiplicamos  $3x$  por cada uno de los términos del divisor y como estos productos hay que restarlos del dividendo, tendremos:  $3x \times x = 3x^2$ , para restar  $-3x^2$ ;  $3x \times 2 = 6x$ , para restar  $-6x$ .

Estos productos con sus signos cambiados los escribimos debajo de los términos semejantes con ellos del dividendo y hacemos la reducción; nos da  $-4x$  y bajamos el  $-8$ .

Dividimos  $-4x$  entre  $x$ :  $-4x \div x = -4$  y este es el segundo término del cociente. Este  $-4$  hay que multiplicarlo por cada uno de los términos del divisor y restar los productos del dividendo y tendremos:

$$(-4) \times x = -4x, \text{ para restar } +4x; (-4) \times 2 = -8, \text{ para restar } 8.$$

Escribimos estos términos debajo de sus semejantes y haciendo la reducción nos da cero de residuo.

#### RAZON DE LA REGLA APLICADA

Dividir  $3x^2 + 2x - 8$  entre  $x + 2$  es hallar una cantidad que multiplicada por  $x + 2$  nos dé  $3x^2 + 2x - 8$ , de acuerdo con la definición de división.

El término  $3x^2$  que contiene la mayor potencia de  $x$  en el dividendo tiene que ser el producto del término que tiene la mayor potencia de  $x$  en el divisor que es  $x$  por el término que tenga la mayor potencia de  $x$  en el cociente, luego dividiendo  $3x^2 \div x = 3x$  tendremos el término que contiene la mayor potencia de  $x$  en el cociente.

Hemos multiplicado  $3x$  por  $x + 2$  que nos da  $3x^2 + 6x$  y este producto lo restamos del dividendo. El residuo es  $-4x - 8$ .

Este residuo  $-4x - 8$ , se considera como un nuevo dividendo, porque tiene que ser el producto del divisor  $x + 2$  por lo que aún nos falta del cociente. Divido  $-4x$  entre  $x$  y me da de cociente  $-4$ .

Este es el segundo término del cociente. Multiplicando  $-4$  por  $x + 2$  obtengo  $-4x - 8$ . Restando este producto del dividendo  $-4x - 8$  me da cero de residuo. Luego  $3x - 4$  es la cantidad que multiplicada por el divisor  $x + 2$  nos da el dividendo  $3x^2 + 2x - 8$ , luego  $3x - 4$  es el cociente de la división.



(2) Dividir  $28x^2 - 30y^2 - 11xy$  entre  $4x - 5y$ .

Ordenando dividendo y divisor en orden descendente con relación a  $x$  tendremos:

$$\begin{array}{r} 28x^2 - 11xy - 30y^2 \\ - 28x^2 + 35xy \\ \hline 24xy - 30y^2 \\ - 24xy + 30y^2 \\ \hline 0 \end{array} \quad \begin{array}{l} 4x - 5y \\ 7x + 6y. \end{array} \quad R.$$

### EXPLICACION

Dividimos  $28x^2 \div 4x = 7x$ . Este primer término del cociente lo multiplicamos por cada uno de los términos del divisor:  $7x \times 4x = 28x^2$ , para restar  $-28x^2$ ;  $7x \times (-5y) = -35xy$ , para restar  $+35xy$ . Escribimos estos términos debajo de sus semejantes en el dividendo y los reducimos. El residuo es  $24xy - 30y^2$ . Divido el primer término del residuo entre el primero del divisor:  $24xy \div 4x = +6y$ . Este es el segundo término del cociente.

Multiplico  $6y$  por cada uno de los términos del divisor.  $6y \times 4x = 24xy$  para restar  $-24xy$ ;  $6y \times (-5y) = -30y^2$ , para restar  $+30y^2$ . Escribamos estos términos debajo de sus semejantes y haciendo la reducción nos da cero de residuo.  $7x + 6y$  es el cociente de la división.

### EJERCICIO 54

Dividir:

1.  $a^2+2a-3$  entre  $a+3$ .
2.  $a^2-2a-3$  entre  $a+1$ .
3.  $x^2-20+x$  entre  $x+5$ .
4.  $m^2-11m+30$  entre  $m-6$ .
5.  $x^2+15-8x$  entre  $3-x$ .
6.  $6+a^2+5a$  entre  $a+2$ .
7.  $6x^2-xy-2y^2$  entre  $y+2x$ .
8.  $-15x^2-8y^2+22xy$  entre  $2y-3x$ .
9.  $5a^2+8ab-21b^2$  entre  $a+3b$ .
10.  $14x^2-12+22x$  entre  $7x-3$ .
11.  $-8a^2+12ab-4b^2$  entre  $b-a$ .
12.  $5n^2-11mn+6m^2$  entre  $m-n$ .
13.  $32n^2-54m^2+12mn$  entre  $8n-9m$ .
14.  $-14y^2+33+71y$  entre  $-3-7y$ .
15.  $x^3-y^3$  entre  $x-y$ .
16.  $a^3+3ab^2-3a^2b-b^3$  entre  $a-b$ .
17.  $x^4-9x^2+3+x$  entre  $x+3$ .
18.  $a^4+a$  entre  $a+1$ .
19.  $m^6-n^6$  entre  $m^2-n^2$ .
20.  $2x^4-x^3-3+7x$  entre  $2x+3$ .
21.  $3y^4+5y^2-12y+10$  entre  $y^2+2$ .
22.  $am^4-am-2a$  entre  $am+a$ .
23.  $12a^3+33ab^2-35a^2b-10b^3$  entre  $4a-5b$ .
24.  $15m^5-9m^3n^2-5m^4n+3m^2n^3+3mn^4-n^5$  entre  $3m-n$ .

## 79 PRUEBA DE LA DIVISION

Puede verificarse, cuando la división es exacta, multiplicando el divisor por el cociente, debiendo darnos el dividendo si la operación está correcta.

(3) Dividir  $2x^3 - 2 - 4x$  entre  $2 + 2x$ .

$$\begin{array}{r} 2x^3 \phantom{- 4x - 2} \phantom{+ 2x + 2} \\ - 2x^3 - 2x^2 \phantom{- 4x - 2} \phantom{+ 2x + 2} \\ \hline - 2x^2 - 4x \phantom{- 2} \phantom{+ 2x + 2} \\ \phantom{- 2x^2} + 2x^2 + 2x \phantom{- 2} \phantom{+ 2x + 2} \\ \hline \phantom{- 2x^2} - 2x - 2 \phantom{+ 2x + 2} \\ \phantom{- 2x^2} \phantom{- 2x} + 2x + 2 \phantom{+ 2x + 2} \\ \hline \phantom{- 2x^2} \phantom{- 2x} \phantom{+ 2x} + 2 \phantom{+ 2x + 2} \end{array}$$

Al ordenar el dividendo y el divisor debemos tener presente que en el dividendo falta el término en  $x^2$ , luego debemos dejar un lugar para ese término:

(4) Dividir  $3a^6 + 10a^3b^2 + 64a^2b^3 - 21a^4b + 32ab^4$  entre  $a^3 - 4ab^2 - 5a^2b$

Ordenando con relación a la  $a$  en orden descendente:

$$\begin{array}{r} 3\alpha^5 - 21\alpha^4b + 10\alpha^3b^2 + 64\alpha^2b^3 + 32\alpha b^4 \\ - 3\alpha^5 + 15\alpha^4b + 12\alpha^3b^2 \\ \hline - 6\alpha^4b + 22\alpha^3b^2 + 64\alpha^2b^3 \\ 6\alpha^4b - 30\alpha^3b^2 - 24\alpha^2b^3 \\ \hline - 8\alpha^3b^2 + 40\alpha^2b^3 + 32\alpha b^4 \\ 8\alpha^3b^2 - 40\alpha^2b^3 - 32\alpha b^4 \end{array} \quad \begin{array}{r} \alpha^5 - 5\alpha^2b - 4\alpha b^2 \\ 3\alpha^2 - 6\alpha b - 8b^3. \end{array} \quad R.$$

(5) Dividir  $x^{12} + x^6y^6 - x^8y^4 - x^2y^{10}$  entre  $x^6 + x^6y^2 - x^4y^4 - x^2y^6$ .

Al ordenar el dividendo tenemos  $x^{12} - x^8y^4 + x^6y^6 - x^2y^{10}$

Aquí podemos observar que faltan los términos en  $x^{10}y^2$  y en  $x^4y^8$ ; dejaremos pues un espacio entre  $x^{12}$  y  $-x^8y^4$  para el término en  $x^{10}y^2$  y otro espacio entre  $x^6y^0$  y  $-x^2y^{10}$  para término en  $x^4y^8$  y tendremos:

$$\begin{array}{r} x^{12} - x^{10}y^2 + x^8y^4 - x^6y^6 - x^2y^{10} \\ - x^{12} - x^{10}y^2 + x^8y^4 - x^6y^6 - x^2y^{10} \\ \hline - x^{10}y^2 + x^8y^4 - x^6y^6 - x^2y^{10} \\ x^{10}y^2 + x^8y^4 - x^6y^6 - x^2y^{10} \\ \hline x^8y^4 - x^6y^6 - x^2y^{10} \\ - x^8y^4 + x^6y^6 + x^2y^{10} \\ \hline \end{array}$$

(6) Dividir  $11a^4 - 3a^3 - 46a^2 + 32$  entre  $8 - 3a^2 - 6a$

Ordenaremos en orden ascendente porque con ello logramos que el primer término del divisor sea positivo, lo cual siempre es más cómodo. Además, como en el dividendo faltan los términos en  $x^4$  y en  $x^5$  dejaremos los lugares vacíos correspondientes y tendremos:

$$\begin{array}{r}
 32 - 46a^2 + 11a^3 - 3a^5 \\
 - 32 + 24a + 12a^2 \\
 \hline
 24a - 34a^2 + 11a^3 \\
 - 24a + 18a^2 + 9a^3 \\
 \hline
 -16a^2 + 20a^3 \\
 16a^3 - 12a^3 - 6a^4 \\
 \hline
 8a^3 - 6a^4 - 3a^5 \\
 - 8a^3 + 6a^4 + 3a^5 \\
 \hline
 0
 \end{array}$$

### EJERCICIO 55

Dividir:

1.  $a^4 - a^2 - 2a - 1$  entre  $a^2 + a + 1$ .
2.  $x^3 + 12x^2 - 5x$  entre  $x^2 - 2x + 5$ .
3.  $m^3 - 5m^2n + 20m^2n^2 - 16mn^3$  entre  $m^2 - 2mn - 8n^2$ .
4.  $x^4 - x^2 - 2x - 1$  entre  $x^2 - x - 1$ .
5.  $x^6 + 6x^3 - 2x^2 - 7x^2 - 4x + 6$  entre  $x^4 - 3x^2 + 2$ .



6.  $m^6 + m^5 - 4m^4 - 4m + m^2 - 1$  entre  $m^3 + m^2 - 4m - 1$ .
7.  $a^5 - a^4 + 10 - 27a + 7a^2$  entre  $a^2 + 5 - a$ .
8.  $3x^3y - 5xy^3 + 3y^4 - x^4$  entre  $x^2 - 2xy + y^2$ .
9.  $2n - 2n^3 + n^4 - 1$  entre  $n^2 - 2n + 1$ .
10.  $22a^2b^4 - 5a^4b^2 + a^6b - 40ab^5$  entre  $a^2b - 2ab^2 - 10b^3$ .
11.  $16x^4 - 27y^4 - 24x^2y^2$  entre  $8x^3 - 9y^3 + 6xy^2 - 12x^2y$ .
12.  $4y^4 - 13y^2 + 4y^3 - 3y - 20$  entre  $2y + 5$ .
13.  $5a^3x^2 - 3x^5 - 11ax^4 + 3a^4x - 2a^5$  entre  $3x^3 - a^3 + 2ax^2$ .
14.  $2x^5y - x^6 - 3x^2y^4 - xy^5$  entre  $x^4 - 3x^2y + 2x^2y^2 + xy^3$ .
15.  $a^6 - 5a^5 + 31a^2 - 8a + 21$  entre  $a^3 - 2a - 7$ .
16.  $m^6 - m^5 + 5m^3 - 6m + 9$  entre  $m^4 + 3 - m^2 + m^3$ .
17.  $a^4 + b^6 - a^3b - 4a^4b^2 + 6a^5b^3 - 3ab^5$  entre  $a^2 - 2ab + b^2$ .
18.  $x^6 - 2x^4y^2 + 2x^3y^3 - 2x^2y^4 + 3xy^6 - 2y^6$  entre  $x^2 - 2y^2 + xy$ .
19.  $4y^3 - 2y^6 + y^6 - y^4 - 4y + 2$  entre  $y^4 + 2 - 2y^2$ .
20.  $3m^7 - 11m^6 + m^4 + 18m^3 - 8m - 3m^2 + 4$  entre  $m^4 - 3m^2 + 4$ .
21.  $a^6 + 2a^5 - 3a^3 - 2a^4 + 2a^2 - a - 1$  entre  $a^3 + a^2 - a + 1$ .
22.  $24x^5 - 52x^4y + 38x^3y^2 - 33x^2y^3 - 26xy^4 + 4y^5$  entre  $8x^3 - 12x^2y - 6xy^2 + y^3$ .
23.  $5a^3 + 6a^4 + 5a^8 - 4a^7 - 8a^6 - 2a^5 + 4a^2 - 6a$  entre  $a^4 - 2a^2 + 2$ .
24.  $x^7 - 3x^6 + 6x^3 + x^2 - 3x + 6$  entre  $x^3 - 2x^2 + 3x + 6$ .
25.  $3a^6 + 5a^5 - 9a^4 - 10a^3 + 8a^2 + 3a - 4$  entre  $3a^5 + 2a^2 - 5a - 4$ .
26.  $5y^6 - 3y^7 - 11y^2 + 11y^5 - 17y^4 - 3y^3 - 4y^2 - 2y$  entre  $5y^4 - 3y^3 + 4y^2 + 2y$ .
27.  $-m^7 + 5m^6n - 14m^5n^2 + 20m^4n^3 - 13m^3n^4 - 9m^2n^5 + 20mn^6 - 4n^7$  entre  $n^3 + 3m^2n - 5mn^2 - m^3$ .
28.  $x^{11} - 5x^9y^2 + 8x^7y^4 - 6x^5y^6 - 5x^3y^8 + 3xy^{10}$  entre  $x^5 - 2x^3y^2 + 3xy^4$ .
29.  $3a^6 - 15a^7 + 14a^6 - 28a^4 + 47a^3 - 28a^2 + 23a - 10$  entre  $3a^5 - 6a^3 + 2a^2 - 3a + 2$ .
30.  $a^2 - b^3 + 2bc - c^2$  entre  $a + b - c$ .
31.  $-2x^2 + 5xy - xz - 3y^2 - yz + 10z^2$  entre  $2x - 3y + 5z$ .
32.  $x^3 + y^3 + z^3 - 3xyz$  entre  $x^2 + y^2 + z^2 - xy - xz - yz$ .
33.  $a^6 + b^6$  entre  $a + b$ .
34.  $21x^5 - 21y^5$  entre  $3x - 3y$ .
35.  $16x^3 - 16y^3$  entre  $2x^2 + 2y^2$ .
36.  $x^{10} - y^{10}$  entre  $x^2 - y^2$ .
37.  $x^{15} + y^{15}$  entre  $x^3 + y^3$ .
38.  $x^8 + y^8 + 3x^2y + 3xy^2 - 1$  entre  $x^2 + 2xy + y^2 + x + y + 1$ .
39.  $x^3 + y^3$  entre  $x^4 - x^3y + x^2y^2 - xy^3 + y^4$ .

## 80 DIVISION DE POLINOMIOS CON EXPONENTES LITERALES

### Ejemplos

- (1) Dividir  $3a^{x+5} + 19a^{x+3} - 10a^{x+4} - 8a^{x+2} + 5a^{x+1}$  entre  $a^2 - 3a + 5$ .

Ordenando en orden descendente con relación a la  $a$ , tendremos:

$$\begin{array}{r} 3a^{x+5} - 10a^{x+4} + 19a^{x+3} - 8a^{x+2} + 5a^{x+1} \\ - 3a^{x+5} + 9a^{x+4} - 15a^{x+3} \\ \hline 4a^{x+3} - 8a^{x+2} + 5a^{x+1} \\ - 4a^{x+3} + 12a^{x+2} - 20a^{x+1} \\ \hline 8a^{x+2} - 15a^{x+1} + 5a^x \\ - 8a^{x+2} + 24a^{x+1} - 40a^x \\ \hline 9a^{x+1} - 35a^x \end{array} \quad \begin{array}{l} a^2 - 3a + 5 \\ 3a^{x+3} - a^{x+2} + a^{x+1} \\ R. \end{array}$$

### EXPLICACION

La división  $3a^{x+5} \div a^2 = 3a^{x+5-2} = 3a^{x+3}$ .

La división  $-10a^{x+4} \div a^2 = -10a^{x+4-2} = -10a^{x+2}$ .

La división  $19a^{x+3} \div a^2 = 19a^{x+3-2} = 19a^{x+1}$ .

- (2) Dividir  $x^{2n} - 17x^{2n-2} + x^{2n-1} + 3x^{2n-4} + 2x^{2n-3} - 2x^{2n-5}$  entre  $x^{2n-1} - 2x^{2n-3} - 3x^{2n-5}$ .

Ordenamos en orden descendente con relación a  $x$  y tendremos:

$$\begin{array}{r} x^{2n} + x^{2n-1} - 17x^{2n-2} + 2x^{2n-3} + 3x^{2n-4} - 2x^{2n-5} \\ - x^{2n} + 3x^{2n-1} + 2x^{2n-2} \\ \hline 4x^{2n-1} - 15x^{2n-2} + 2x^{2n-3} \\ - 4x^{2n-1} + 12x^{2n-2} + 8x^{2n-3} \\ \hline - 3x^{2n-2} + 10x^{2n-3} + 3x^{2n-4} \\ 3x^{2n-2} - 9x^{2n-3} - 6x^{2n-4} \\ \hline - 3x^{2n-2} + 10x^{2n-3} + 3x^{2n-4} \\ - 3x^{2n-2} + 9x^{2n-3} + 6x^{2n-4} \\ \hline x^{2n-5} - 3x^{2n-4} - 2x^{2n-5} \\ - x^{2n-5} + 3x^{2n-4} + 2x^{2n-5} \\ \hline 0 \end{array} \quad \begin{array}{l} x^{2n-1} - 3x^{2n-2} - 2x^{2n-3} \\ x^{n+1} + 4x^n - 3x^{n-1} + x^{n-2} \end{array}$$

### EXPLICACION

La división  $x^{2n} \div x^{2n-1} = x^{2n-(2n-1)} = x^{2n-2n+1} = x^{n+1}$ .

La división  $4x^{2n-1} \div x^{2n-1} = 4x^{2n-1-(2n-1)} = 4x^{2n-1-2n+1} = 4x^0 = 4$ .

La división  $-3x^{2n-2} \div x^{2n-1} = -3x^{2n-2-(2n-1)} = -3x^{2n-2-2n+1} = -3x^{n-1}$ .

La división  $x^{2n-3} \div x^{2n-1} = x^{2n-3-(2n-1)} = x^{2n-3-2n+1} = x^{n-2}$ .

### EJERCICIO 56

Dividir:

1.  $a^x + 2 + a^x$  entre  $a + 1$ .
2.  $x^5 + 2 + 3x^0 + 3 + x^0 + 4 - x^0 + 5$  entre  $x^2 + x$ .
3.  $m^6 + 4 - m^6 + 3 + 6m^3 + 1 - 5m^2 + 3m^{n-1}$  entre  $m^2 - 2m + 3$ .
4.  $a^{2n+5} + 4a^{2n+2} + a^{2n+1} - 2a^{2n}$  entre  $a^2 + a^{n+1}$ .
5.  $x^{2n+5} - 3x^{2n+3} + 2x^{2n+4} - 4x^{2n+2} + 2x^{2n+1}$  entre  $x^{n+3} - 2x^{n+1}$ .
6.  $a^x + 2 - 2a^x + 8a^{x-1} - 3a^{x-2}$  entre  $3a^{x-2} - 2a^{x-1} + a^x$ .
7.  $a^{2x} - 4a^{2x-2} + 5a^{2x-3} + 2a^{2x-1} - 2a^{2x-4}$  entre  $a^x - a^{x-1} + a^{x-2}$ .
8.  $m^{2x-2} - m^{2x-1} - 4m^{2x} + 2m^{2x+1} + 2m^{2x+2} - m^{2x+5}$  entre  $m^{x-2} - m^{x-1} + m^{x-2}$ .
9.  $x^{2n-2} + x^{2n-3} - 4x^{2n-4} - x^{2n-7}$  entre  $-x^{n-3} + x^{n-1} - x^{n-2}$ .
10.  $a^{2n}b^3 - a^{2n-1}b^4 + a^{2n-2}b^5 - 2a^{2n-4}b^7 + a^{2n-5}b^8$  entre  $a^nb - a^{n-1}b^2 + 2a^{n-2}b^3 - a^{n-3}b^4$ .
11.  $a^m + x + a^mb^3 + a^xb^3 + b^m + x$  entre  $a^x + b^x$ .
12.  $a^x - ab^{n-1} - a^{x-1}b + b^n$  entre  $a - b$ .
13.  $3a^{5n-3} - 23a^{5n-2} + 5a^{5n-1} + 46a^{5n} - 30a^{5n+1}$  entre  $a^{3n-2} + 6a^{3n-1} - 8a^{3n-2}$ .
14.  $2x^{3n} + 1y^{2n-3} - 4x^{2n+2}y^{2n-2} - 28x^{5n-2}y^{2n} + 30x^{3n-3}y^{2n+1}$  entre  $-x^{n+2}y^{n-1} - 3x^{n+1}y^{n+1} + 4x^{n+1}y^n$ .



# 81 DIVISION DE POLINOMIOS CON COEFICIENTES FRACCIONARIOS

## Ejemplo

$$\begin{array}{r} \text{Dividir } \frac{1}{3}x^3 - \frac{35}{30}x^2y + \frac{2}{3}xy^2 - \frac{3}{5}y^3 \text{ entre } \frac{2}{3}x - \frac{3}{5}y. \\ \frac{1}{3}x^3 - \frac{35}{30}x^2y + \frac{2}{3}xy^2 - \frac{3}{5}y^3 \quad \frac{2}{3}x - \frac{3}{5}y \\ - \frac{1}{3}x^3 + \frac{8}{4}x^2y \\ \hline -\frac{2}{9}x^2y + \frac{2}{3}xy^2 \\ \frac{2}{9}x^2y - \frac{1}{2}xy^2 \\ \hline \frac{1}{6}xy^2 - \frac{3}{5}y^3 \\ - \frac{1}{6}xy^2 + \frac{3}{5}y^3 \\ \hline \end{array}$$

Obsérvese que todo quebrado que se obtenga en el cociente al dividir, lo mismo que los quebrados que se obtienen al multiplicar el cociente por el divisor, deben reducirse a su más simple expresión.

## EJERCICIO 57

Dividir:

- $\frac{1}{6}a^2 + \frac{5}{24}ab - \frac{1}{6}b^2$  entre  $\frac{1}{2}a + \frac{1}{2}b$ .
- $\frac{1}{8}x^2 + \frac{7}{10}xy - \frac{1}{3}y^2$  entre  $x - \frac{2}{3}y$ .
- $\frac{1}{3}x^3 - \frac{85}{24}x^2y + \frac{2}{3}xy^2 - \frac{3}{8}y^3$  entre  $\frac{1}{2}x^2 - \frac{1}{3}xy + \frac{1}{4}y^2$ .
- $\frac{1}{10}a^3 - \frac{5}{8}a^2b - b^3 + \frac{5}{3}ab^2$  entre  $\frac{1}{4}a - \frac{3}{2}b$ .
- $\frac{8}{5}m^4 + \frac{1}{10}m^3n - \frac{17}{60}m^2n^2 + \frac{1}{6}mn^3 - n^4$  entre  $\frac{5}{2}m^2 + 2n^2 - mn$ .
- $\frac{3}{4}x^5 + \frac{1}{2}x^4 - \frac{37}{40}x^3 + \frac{2}{3}x^2 - \frac{4}{5}x + \frac{19}{20}$  entre  $2x^2 - \frac{1}{5}x + 2$ .
- $\frac{9}{4}a^4 - a^3x + \frac{18}{15}ax^3 - \frac{1}{12}a^2x^2 - \frac{1}{5}x^4$  entre  $\frac{5}{2}a^2 - ax + \frac{2}{3}x^2$ .
- $\frac{1}{14}x^5 + \frac{139}{250}x^3y^2 - \frac{1}{2}x^2y^3 - \frac{101}{420}x^4y + \frac{5}{12}xy^4$  entre  $\frac{2}{3}x^3 - \frac{1}{5}x^2y + \frac{1}{2}xy^2$ .
- $\frac{5}{8}x^5 + \frac{21}{40}x^4 - \frac{47}{120}x^3 + \frac{79}{120}x^2 + \frac{1}{10}x - \frac{1}{10}$  entre  $\frac{1}{2} + \frac{1}{3}x^2 - \frac{1}{4}x + \frac{1}{4}x^5$ .
- $\frac{99}{40}m^3n^2 - \frac{101}{60}m^2n^3 + \frac{1}{2}m^5 - \frac{5}{6}m^4n + \frac{7}{6}mn^4 - \frac{6}{5}n^5$  entre  $\frac{3}{4}m^3 - \frac{1}{2}m^2n + \frac{3}{5}mn^2 - \frac{1}{4}n^3$ .

# 82 DIVISION DE POLINOMIOS POR EL METODO DE COEFICIENTES SEPARADOS

La división por coeficientes separados, que abrevia mucho la operación, puede usarse en los mismos casos que en la multiplicación.

1) División de dos polinomios que contengan una sola letra y estén ordenados en el mismo orden con relación a esa letra.

## Ejemplo

Dividir  $8x^5 - 16x^4 + 6x^3 + 24x^2 + 18x - 36$  entre  $4x^3 + 3x - 6$  por coeficientes separados.

Escribimos solamente los coeficientes con sus signos teniendo cuidado de poner cero donde falte algún término y se efectúa la división con ellos:

$$\begin{array}{r} 8 - 16 + 6 + 0 + 24 + 18 - 36 \quad 4 + 0 + 3 - 6 \\ - 8 - 0 - 6 + 12 \quad \quad \quad 2 - 4 + 0 + 6 \\ \hline - 16 + 0 + 12 + 24 \\ 16 + 0 + 12 - 24 \\ \hline + 24 + 0 + 18 - 36 \\ - 24 - 0 - 18 + 36 \\ \hline \end{array}$$

El primer término del cociente tiene  $x^2$  porque proviene de dividir  $x^5$  entre  $x^3$  y como en el dividendo y divisor el exponente de  $x$  disminuye una unidad en cada término, en el cociente también disminuirá una unidad en cada término, luego el cociente es:

$$2x^2 - 4x^2 + 6. \text{ R.}$$

2) División de dos polinomios homogéneos que contengan solamente dos letras.

## Ejemplo

Dividir  $a^5 - 7a^4b + 21a^3b^2 - 37a^2b^3 + 38ab^4 - 24b^5$  entre  $a^2 - 3ab + 4b^2$  por coeficientes separados.

$$\begin{array}{r} \text{Tendremos: } 1 - 7 + 21 - 37 + 38 - 24 \quad 1 - 3 + 4 \\ - 1 + 3 - 4 \quad \quad \quad 1 - 4 + 5 - 6 \\ \hline - 4 + 17 - 37 \\ 4 - 12 + 16 \\ \hline 5 - 21 + 38 \\ - 5 + 15 - 20 \\ \hline - 6 + 18 - 24 \\ 6 - 18 + 24 \\ \hline \end{array}$$

El primer término del cociente tiene  $a^3$  porque proviene de dividir  $a^5$  entre  $a^2$ . Como el cociente es homogéneo y en el dividendo y divisor el exponente de  $a$  disminuye una unidad en cada término y el de  $b$  aumenta una unidad en cada término, el cociente será:

$$a^3 - 4a^2b + 5ab^2 - 6b^3. \text{ R.}$$



## EJERCICIO 58

Dividir por coeficientes separados:

$$x^5 - x^4 + x^2 - x \text{ entre } x^3 - x^2 + x.$$

$$x^7 + x^4 - 11x^5 + 3x^4 - 13x^3 + 19x^2 - 56 \text{ entre } x^3 - 2x^2 - 7.$$

$$a^6 + a^5b - 7a^4b^2 + 12a^3b^3 - 13a^2b^4 + 7ab^5 - b^6 \text{ entre } a^2 - 2ab + b^2.$$

$$m^6 + 2m^4n^2 - 5m^3n + 20m^2n^3 - 19m^2n^4 - 10mn^5 - n^6 \text{ entre } m^2 - 4mn^2 - n^5.$$

$$x^3 - 2x^2 - 50x^4 + 58x^2 - 15 \text{ entre } x^4 + 6x^2 - 5.$$

$$a^{14} + 9a^{10} - 7a^{12} + 23a^8 - 52a^6 + 42a^4 - 20a^2 \text{ entre } a^5 - 4a^6 + 3a^4 - 2a^2.$$

$$3x^{15} - 20x^{12} - 70x^6 + 51x^6 + 46x^3 - 20 \text{ entre } 3x^5 - 8x^2 + 10.$$

$$53m^{20} - 12m^{14} + m^{23} - 127m^{10} + 187m^{12} - 192m^8 + 87m^4 - 45 \text{ entre } m^{12} - 7m^6 + 9m^4 - 15.$$

$$2x^7 - 6x^6y - 8x^5y^2 - 20x^4y^3 - 24x^3y^4 - 18x^2y^5 - 4y^7 \text{ entre } 2x^2 + 4y^2.$$

$$6a^9 - 12a^7 + 2a^6 - 36a^5 + 6a^4 - 16a^3 + 38a^2 - 44a + 14 \text{ entre } a^4 - 2a^2 + a - 7.$$

$$n^{10} - 6n^8 + 5n^7 + 13n^6 - 23n^5 - 8n^4 + 44n^3 - 12n^2 - 32n + 16 \text{ entre } n^6 - 3n^4 + 5n^3 - 8n + 4.$$

$$3x^7 - 4x^6y - 15x^5y^2 + 29x^4y^3 - 13x^3y^4 + 5xy^6 - 3y^7 \text{ entre } x^3 - 5xy^2 + 3y^3.$$

$$x^{16} - 4x^{14}y^2 - 10x^{12}y^4 + 21x^{10}y^6 + 28x^8y^8 - 23x^6y^{10} + 9x^4y^{12} + 33x^2y^{14} - 6y^{16} \text{ entre } x^6 - 4x^4y^2 - 5x^2y^4 + y^6.$$

$$a^{15} + 2 - 3a^{11} + 1 - 5a^9 + 20a^{10} - 1 - 25a^{12} - 3 \text{ entre } a^2 - 5.$$

$$7a^{2x+5} - 35a^{2x+4} + 6a^{2x+3} - 78a^{2x+2} - 5a^{2x+1} - 42a^{2x} - 7a^{2x-1} \text{ entre } a^x + 6a^{x+1} + 7a^{x+3}.$$

$$6x^{2n+3} - 4x^{2n+2} - 28x^{2n+1} + 21x^{2n} - 46x^{2n-1} + 19x^{2n-2} - 12x^{2n-3} - 6x^{2n-4} \text{ entre } 6x^{n+1} - 4x^2 + 2x^{n-1} + x^{n-2}.$$

$$6a^{5x+5} - 23a^{5x+2} + 12a^{5x+1} - 34a^{5x} + 22a^{5x-1} - 15a^{5x-2} \text{ entre } a^{2x+2} - a^{2x} - 3a^{2x+1} - 5a^{2x-1}.$$

## Ejemplos

$$\begin{array}{r} x^2 - x - 6 \quad | \quad x + 3 \\ -x^2 - 3x \\ \hline -4x - 6 \\ 4x + 12 \\ \hline 6 \end{array} \quad \begin{array}{r} x + 3 \\ x - 4 + \frac{6}{x+3} \quad R. \end{array}$$

(1) Dividir  $x^2 - x - 6$  entre  $x + 3$ .

El residuo no tiene  $x$ , así que es de grado cero con relación a la  $x$  y el divisor es de primer grado con relación a la  $x$ , luego aquí detenemos la división porque el residuo es de grado inferior al divisor. Ahora añadimos al cociente  $x - 4$  el quebrado  $\frac{6}{x+3}$ , de modo semejante a como procedemos en Aritmética cuando nos sobra un residuo.

(2) Dividir  $6m^4 - 4m^3n^2 - 3m^2n^4 + 4mn^6 - n^8$  entre  $2m^2 - n^4$

$$\begin{array}{r} 6m^4 - 4m^3n^2 - 3m^2n^4 + 4mn^6 - n^8 \quad | \quad 2m^2 - n^4 \\ -6m^4 \quad \quad \quad + 3m^2n^4 \\ \hline -4m^3n^2 \quad \quad \quad + 4mn^6 \\ 4m^3n^2 \quad \quad \quad - 2mn^6 \\ \hline 2mn^6 - n^8 \end{array} \quad \begin{array}{r} 2m^2 - n^4 \\ 3m^2 - 2mn^2 + \frac{2mn^6 - n^8}{2m^2 - n^4} \quad R. \end{array}$$

Hemos detenido la operación al ser el primer término del residuo  $2mn^6$  en el cual la  $m$  tiene de exponente 1 mientras que en el primer término del divisor la  $m$  tiene de exponente 2 y hemos añadido al cociente el quebrado que se forma poniendo por numerador el residuo y por denominador el divisor.

## NOTA

En el número 190, una vez conocidos los cambios de signos en las fracciones, se tratará esta materia más ampliamente.

## EJERCICIO 59

Hallar el cociente mixto de:

1.  $a^2 + b^2$  entre  $a^2$ .
2.  $a^4 + 2$  entre  $a^3$ .
3.  $9x^3 + 6x^2 + 7$  entre  $3x^2$ .
4.  $16a^4 - 20a^3b + 8a^2b^2 + 7ab^3$  entre  $4a^2$ .
5.  $x^2 + 7x + 10$  entre  $x + 6$ .
6.  $x^2 - 5x + 7$  entre  $x - 4$ .
7.  $m^4 - 11m^2 + 34$  entre  $m^2 - 3$ .
8.  $x^2 - 6xy + y^2$  entre  $x + y$ .
9.  $x^3 - x^2 + 3x + 2$  entre  $x^2 - x + 1$ .
10.  $x^3 + y^3$  entre  $x - y$ .
11.  $x^5 + y^5$  entre  $x - y$ .
12.  $x^3 + 4x^2 - 5x + 8$  entre  $x^2 - 2x + 1$ .
13.  $8a^3 - 6a^2b + 5ab^2 - 9b^3$  entre  $2a - 3b$ .
14.  $x^5 - 3x^4 + 9x^2 + 7x - 4$  entre  $x^2 - 3x + 2$ .

## 84 VALOR NUMÉRICO DE EXPRESIONES ALGEBRAICAS CON EXPONENTES ENTEROS PARA VALORES POSITIVOS Y NEGATIVOS

Conociendo ya las operaciones fundamentales con cantidades negativas, así como las reglas de los signos en la multiplicación y división, podemos hallar el valor de expresiones algebraicas para cualesquiera valores de las letras, teniendo presente lo siguiente:

## 83 COCIENTE MIXTO

En todos los casos de división estudiados hasta ahora el dividendo era divisible exactamente por el divisor. Cuando el dividendo no es divisible exactamente por el divisor, la división no es exacta, nos da un residuo y esto origina los cocientes mixtos, así llamados porque constan de entero y quebrado.

Cuando la división no es exacta debemos detenerla cuando el primer término del residuo es de grado inferior al primer término del divisor con relación a una misma letra, o sea, cuando el exponente de una letra en el residuo es menor que el exponente de la misma letra en el divisor y sumamos al cociente el quebrado que se forma, poniendo por numerador el residuo y por denominador el divisor.



## 85 POTENCIAS DE CANTIDADES NEGATIVAS

1) Toda potencia par de una cantidad negativa es positiva, porque equivale a un producto en que entra un número par de factores negativos.

Así,  $(-2)^2 = +4$  porque  $(-2)^2 = (-2) \times (-2) = +4$ .

$(-2)^4 = +16$  porque  $(-2)^4 = (-2)^2 \times (-2)^2 = (+4) \times (+4) = +16$ .

$(-2)^6 = +64$  porque  $(-2)^6 = (-2)^4 \times (-2)^2 = (+16) \times (+4) = +64$ .

$(-2)^8 = +256$  porque  $(-2)^8 = (-2)^6 \times (-2)^2 = (+64) \times (+4) = +256$ .

y así sucesivamente.

En general, siendo  $N$  un número entero se tiene:  $(-a)^{2N} = a^{2N}$ .

2) Toda potencia impar de una cantidad negativa es negativa porque equivale a un producto en que entra un número impar de factores negativos.

Así,  $(-2)^1 = -2$ .

$(-2)^3 = -8$  porque  $(-2)^3 = (-2)^2 \times (-2) = (+4) \times (-2) = -8$ .

$(-2)^5 = -32$  porque  $(-2)^5 = (-2)^4 \times (-2) = (+16) \times (-2) = -32$ .

$(-2)^7 = -128$  porque  $(-2)^7 = (-2)^6 \times (-2) = (+64) \times (-2) = -128$ .

y así sucesivamente.

En general, se tiene:  $(-a)^{2N+1} = -a^{2N+1}$ .

## Ejemplos

(1) Valor numérico de  $x^5 - 3x^2 + 2x - 4$  para  $x = -2$ .

Sustituyendo  $x$  por  $-2$ , tenemos:

$$\begin{aligned} & (-2)^5 - 3(-2)^2 + 2(-2) - 4 \\ &= -8 - 3(4) + 2(-2) - 4 \\ &= -8 - 12 - 4 - 4 \\ &= -28. \quad R. \end{aligned}$$

(2) Valor numérico de  $\frac{a^4}{4} - \frac{3a^2b}{6} + \frac{5ab^2}{3} - b^3$  para  $a = -2$ ,  $b = -3$ .

Tendremos:  $\frac{a^4}{4} - \frac{3a^2b}{6} + \frac{5ab^2}{3} - b^3$

$$= \frac{(-2)^4}{4} - \frac{3(-2)^2(-3)}{6} + \frac{5(-2)(-3)^2}{3} - (-3)^3$$

$$= \frac{16}{4} - \frac{3(4)(-3)}{6} + \frac{5(-2)(9)}{3} - (-27)$$

$$= 4 - \left(\frac{-36}{6}\right) + \left(\frac{-90}{3}\right) + 27$$

$$= 4 - (-6) + (-30) + 27$$

$$= 4 + 6 - 30 + 27 = 7. \quad R.$$

## NOTA

Para ejercicios de valor numérico de expresiones algebraicas con exponentes cero, negativos o fraccionarios, véase Teoría de los Exponentes, pág. 407.

## EJERCICIO 60

Hallar el valor numérico de las expresiones siguientes para

$$a = -1, \quad b = 2, \quad c = -\frac{1}{2};$$

- $a^2 - 2ab + b^2$ .
- $3a^3 - 4a^2b + 3ab^2 - b^3$ .
- $a^4 - 3a^3 + 2ac - 3bc$ .
- $a^5 - 8a^4c + 16a^3c^2 - 20a^2c^3 + 40ac^4 - c^5$ .
- $(a-b)^2 + (b-c)^2 - (a-c)^2$ .
- $(b+a)^3 - (b-c)^3 - (a-c)^3$ .
- $\frac{ab}{c} + \frac{ac}{b} - \frac{bc}{a}$ .
- $(a+b+c)^2 - (a-b-c)^2 + c$ .
- $3(2a+b) - 4a(b+c) - 2c(a-b)$ .

Hallar el valor numérico de las expresiones siguientes para

$$a = 2, \quad b = \frac{1}{3}, \quad x = -2, \quad y = -1, \quad m = 3, \quad n = \frac{1}{2};$$

- $\frac{x^4}{8} - \frac{x^2y}{2} + \frac{3xy^2}{2} - y^3$ .
- $(a-x)^2 + (x-y)^2 + (x^2-y^2)(m+x-n)$ .
- $-(x-y) + (x^2+y^2)(x-y-m) + 3b(x+y+n)$ .
- $(3x-2y)(2n-4m) + 4x^2y^2 - \frac{x-y}{2}$ .
- $\frac{4x}{3y} - \frac{x^2}{2+y^3} + \left(\frac{1}{n} - \frac{1}{b}\right)x + x^4 - m$ .
- $x^2(x-y+m) - (x-y)(x^2+y^2-n) + (x+y)^2(m^2-2n)$ .
- $\frac{3a}{x} + \frac{2y}{m} + \frac{3n}{y} - \frac{m}{n} + 2(x^3-y^2+4)$ .

## EJERCICIO 61


## MISCELANEA

## SOBRE SUMA, RESTA, MULTIPLICACION Y DIVISION

- A las 7 a.m. el termómetro marca  $+5^\circ$  y de las 7 a las 10 a.m. baja a razón de  $3^\circ$  por hora. Expresar la temperatura a las 8 a.m., 9 a.m. y 10 a.m.
- Tomando como escala 1 cm = 10 m, representar gráficamente que un punto  $B$  está situado a  $+40$  m de  $A$  y otro punto  $C$  está situado a  $-35$  m de  $B$ .
- Sumar  $x^2 - 3xy$  con  $3xy - y^2$  y el resultado restarlo de  $x^2$ .
- ¿Qué expresión hay que añadir a  $3x^2 - 5x + 6$  para que la suma sea  $3x$ ?
- Restar  $-2a^2 + 3a - 5$  de 3 y sumar el resultado con  $8a + 5$ .
- Simplificar  $-3x^2 - \{ -[4x^2 + 5x - (x^2 - x + 6)] \}$ .
- Simplificar  $(x+y)(x-y) - (x+y)^2$ .
- Valor numérico de  $3(a+b) - 4(c-b) + \sqrt{\frac{c-b}{-a}}$  para  $a=2$ ,  $b=3$ ,  $c=1$ .
- Restar  $x^2 - 3xy + y^2$  de  $3x^2 - 5y^2$  y sumar la diferencia con el resultado de restar  $5xy + x^2$  de  $2x^2 + 5xy + 6y^2$ .



10. Multiplicar  $\frac{2}{3}a^2 - \frac{1}{2}ab + \frac{1}{5}b^2$  por  $\frac{1}{2}a^2 + \frac{3}{4}ab - 2b^2$ .
11. Dividir la suma de  $x^3 - x^2 + 5x^2$ ,  $-2x^4 + 2x^2 - 10x$ ,  $6x^3 - 6x + 30$  entre  $x^2 - 2x + 6$ .
12. Restar el cociente de  $\frac{1}{4}a^3 - \frac{1}{50}ab^2 + \frac{1}{15}b^3$  entre  $\frac{1}{2}a + \frac{1}{3}b$  de  $\frac{1}{2}a^2 + ab + \frac{1}{5}b^2$ .
13. Restar la suma de  $-3ab^2 - b^3$  y  $2a^2b + 3ab^2 - b^3$  de  $a^3 - a^2b + b^3$  y la diferencia multiplicarla por  $a^2 - ab + b^2$ .
14. Restar la suma de  $x^3 - 5x^2 + 4x$ ,  $-6x^2 - 6x + 3$ ,  $-8x^3 + 8x - 3$  de  $2x^3 - 16x^2 + 5x + 12$  y dividir esta diferencia entre  $x^2 - x + 3$ .
15. Probar que  $(2+x)^2(1+x^2) - (x^2-2)(x^2+x-3) = x^2(3x+10) + 2(3x-1)$ .
16. Hallar el valor numérico de  $(x+y)^2(x-y)^2 + 2(x+y)(x-y)$  para  $x=-2$ ,  $y=1$ .
17. ¿Qué expresión hay que sumar a la suma de  $x+4$ ,  $x-6$  y  $x^2+2x+8$  para obtener  $5x^2-4x+3$ ?
18. Restar  $- \{3a + (-b+a) - 2(a+b)\}$  de  $-2[(a+b) - (a-b)]$ .
19. Multiplicar  $5x + [- (3x - x - y)]$  por  $8x + [-2x + (-x+y)]$ .
20. Restar el cociente de  $\frac{1}{4}x^3 + \frac{1}{24}x^2y + \frac{5}{12}xy^2 + \frac{1}{8}y^3$  entre  $\frac{1}{2}x^2 - \frac{1}{4}xy + y^2$  de  $2x + [-5x - (x-y)]$ .
21. Probar que  $[x^2 - (3x+2)][x^2 + (-x+3)] = x^2(x^2 - 4x + 4) - (7x+6)$ .
22. ¿Qué expresión hay que sumar al producto de  $[x(x+y) - x(x-y)][2(x^2+y^2) - 3(x^2-y^2)]$  para obtener  $2x^2y + 3xy^2$ ?
23. Restar  $-x^2 - 3xy + y^2$  de cero y multiplicar la diferencia por el cociente de dividir  $x^3 - y^3$  entre  $x - y$ .
24. Simplificar  $(x-y)(x^2+xy+y^2) - (x+y)(x^2-xy+y^2)$ .
25. Hallar el valor numérico de  $\sqrt{\frac{ab}{c}} + 2(b-a)\sqrt{\frac{9b}{a^2}} - 3(c-b)\sqrt{\frac{c}{b}}$  para  $a=4$ ,  $b=9$ ,  $c=25$ .
26. ¿Por cuál expresión hay que dividir el cociente de  $x^3+3x^2-4x-12$  entre  $x+3$  para obtener  $x-2$ ?
27. Simplificar  $4x^2 - \{3x - (x^2 - 4 + x)\} + [x^2 - \{x + (-3)\}]$  y hallar su valor para  $x=-2$ .
28. ¿De cuál expresión hay que restar  $-18x^3+14x^2+84x-45$  para que la diferencia dividida entre  $x^2+7x-5$  dé como cociente  $x^2-9$ ?
29. Probar que  $(a^2+b^2)(a+b)(a-b) = a^4 - [3a+2(a+2)-4(a+1)-a+b^4]$ .
30. Restar  $-x^3-5x^2+6$  de 3 y sumar la diferencia con la suma de  $x^2-x+2$  y  $-[x^2+(-3x+4)-(-x+3)]$ .



**EUCLIDES (365-275 A. C.)** Uno de los más grandes matemáticos griegos. Fue el primero que estableció un método riguroso de demostración geométrica. La Geometría construida por Euclides se mantuvo incólume hasta el siglo XIX. La piedra angular de su geo-

metría es el Postulado: "Por un punto exterior a una recta sólo puede trazarse una perpendicular a la misma y sólo una". El libro en que recoge sus investigaciones lo tituló "Elementos", es conocido en todos los ámbitos y ha sido traducido a los idiomas cultos.

## CAPÍTULO V

### PRODUCTOS Y COCIENTES NOTABLES

#### 1. PRODUCTOS NOTABLES

**86** Se llama **productos notables** a ciertos productos que cumplen reglas fijas y cuyo resultado puede ser escrito por simple inspección, es decir, sin verificar la multiplicación.

#### 87 CUADRADO DE LA SUMA DE DOS CANTIDADES

Elevar al cuadrado  $a+b$  equivale a multiplicar este binomio por sí mismo y tendremos:

$$(a+b)^2 = (a+b)(a+b)$$

Efectuando este producto, tenemos:

$$\begin{array}{r} a+b \\ a+b \\ \hline a^2+ab \\ ab+b^2 \\ \hline a^2+2ab+b^2 \end{array} \quad \text{o sea } (a+b)^2 = a^2 + 2ab + b^2$$

luego, el cuadrado de la suma de dos cantidades es igual al cuadrado de la primera cantidad más el duplo de la primera cantidad por la segunda más el cuadrado de la segunda cantidad.



## Ejemplos

(1) Desarrollar  $(x+4)^2$ .

Cuadrado del primero.....  $x^2$   
 Duplo del primero por el segundo.....  $2x \times 4 = 8x$   
 Cuadrado del segundo..... 16

Luego  $(x+4)^2 = x^2 + 8x + 16$ . R.

Estas operaciones deben hacerse *mentalmente* y el producto escribirse directamente.

**Cuadrado de un monomio.** Para elevar un monomio al cuadrado se eleva su coeficiente al cuadrado y se multiplica el exponente de cada letra por 2. Sea el monomio  $4ab^2$ . Decimos que

$$(4ab^2)^2 = 4^2 a^{1 \times 2} b^{2 \times 2} = 16a^2b^4.$$

En efecto:  $(4ab^2)^2 = 4ab^2 \times 4ab^2 = 16a^2b^4$ .

Del propio modo:  $(5x^2y^4z^3)^2 = 25x^4y^8z^6$ .

(2) Desarrollar  $(4a+5b)^2$ .  $\rightarrow$  Cuadrado del 1º .....  $(4a)^2 = 16a^2$ .  
 Duplo del 1º por el 2º.....  $2 \times 4a \times 5b = 40ab$ .  
 Cuadrado del 2º .....  $(5b)^2 = 25b^2$ .

Luego  $(4a+5b)^2 = 16a^2 + 40ab + 25b^2$ . R.

Las operaciones, que se han detallado para mayor facilidad, no deben escribirse sino verificarse mentalmente.

(3) Desarrollar  $(3a^2+5x^3)^2$ .

$$(3a^2+5x^3)^2 = 9a^4 + 30a^2x^3 + 25x^6$$

(4) Efectuar  $(7ax^4+9y^5)(7ax^4+9y^5)$ .

$$(7ax^4+9y^5)(7ax^4+9y^5) = (7ax^4+9y^5)^2 = 49a^2x^8 + 126ax^4y^5 + 81y^{10}$$

## EJERCICIO 62

Escribir, por simple inspección, el resultado de:

- |                  |                       |                             |                           |
|------------------|-----------------------|-----------------------------|---------------------------|
| 1. $(m+3)^2$ .   | 6. $(x+y)^2$ .        | 11. $(4m^2+5n^3)^2$ .       | 16. $(a^m+a^n)^2$ .       |
| 2. $(5+x)^2$ .   | 7. $(1+3x^2)^2$ .     | 12. $(7a^2b^3+5x^4)^2$ .    | 17. $(a^2+b^2+1)^2$ .     |
| 3. $(6a+b)^2$ .  | 8. $(2x+3y)^2$ .      | 13. $(4ab^2+5xy^3)^2$ .     | 18. $(x^m+1+y^{n-2})^2$ . |
| 4. $(9+4m)^2$ .  | 9. $(a^2x+by^2)^2$ .  | 14. $(8x^2y+9m^3)^2$ .      |                           |
| 5. $(7x+11)^2$ . | 10. $(3a^3+8b^4)^2$ . | 15. $(x^{10}+10y^{12})^2$ . |                           |

## REPRESENTACION GRAFICA DEL CUADRADO DE LA SUMA DE DOS CANTIDADES

El cuadrado de la suma de dos cantidades puede representarse geométricamente cuando los valores son positivos. Véanse los siguientes pasos:

Sea  $(a+b)^2 = a^2 + 2ab + b^2$ .

Construimos un cuadrado de  $a$  unidades de lado, es decir, de lado  $a$ :

FIGURA 10

Construimos un cuadrado de  $b$  unidades de lado, es decir, de lado  $b$ :

FIGURA 11

Construimos dos rectángulos de largo  $a$  y ancho  $b$ :

FIGURA 12

Uniendo estas cuatro figuras como se indica en la figura 13, formaremos un cuadrado de  $(a+b)$  unidades de lado. El área de este cuadrado es  $(a+b)(a+b) = (a+b)^2$ , y como puede verse en la figura 13, esta área está formada por un cuadrado de área  $a^2$ , un cuadrado de área  $b^2$  y dos rectángulos de área  $ab$  cada uno o sea  $2ab$ . Luego:

$$(a+b)^2 = a^2 + 2ab + b^2.$$




FIGURA 13



**88 CUADRADO DE LA DIFERENCIA DE DOS CANTIDADES**

Elevar  $(a-b)$  al cuadrado equivale a multiplicar esta diferencia por sí misma; luego:  $(a-b)^2 = (a-b)(a-b)$ .

Efectuando este producto, tendremos:

$$\begin{array}{r} a-b \\ a-b \\ \hline a^2 - ab \\ - ab + b^2 \\ \hline a^2 - 2ab + b^2 \end{array} \quad \text{o sea } (a-b)^2 = a^2 - 2ab + b^2$$

luego, el cuadrado de la diferencia de dos cantidades es igual al cuadrado de la primera cantidad menos el duplo de la primera cantidad por la segunda más el cuadrado de la segunda cantidad.

**Ejemplos**

(1) Desarrollar  $(x-5)^2$ .

$$(x-5)^2 = x^2 - 10x + 25. \quad R.$$

(2) Efectuar  $(4a^2 - 3b^3)^2$ .

$$(4a^2 - 3b^3)^2 = 16a^4 - 24a^2b^3 + 9b^6. \quad R.$$

**EJERCICIO 63**

Escribir, por simple inspección, el resultado de:

- |                  |                      |                         |                        |
|------------------|----------------------|-------------------------|------------------------|
| 1. $(a-3)^2$ ,   | 5. $(4ax-1)^2$ ,     | 9. $(x^5-3ay^2)^2$ ,    | 13. $(x^2-y^2)^2$ ,    |
| 2. $(x-7)^2$ ,   | 6. $(a^3-b^3)^2$ ,   | 10. $(a^2-b^2)^2$ ,     | 14. $(a^2-5)^2$ ,      |
| 3. $(9-a)^2$ ,   | 7. $(3a^4-5b^2)^2$ , | 11. $(2m-3n)^2$ ,       | 15. $(x^6+1-3x^4)^2$ , |
| 4. $(2a-3b)^2$ , | 8. $(x^2-1)^2$ ,     | 12. $(10x^3-9xy^2)^2$ , |                        |

**89 PRODUCTO DE LA SUMA POR LA DIFERENCIA DE DOS CANTIDADES**

Sea el producto  $(a+b)(a-b)$ .

Efectuando esta multiplicación, tenemos:

$$\begin{array}{r} a+b \\ a-b \\ \hline a^2 + ab \\ - ab - b^2 \\ \hline a^2 - b^2 \end{array} \quad \text{o sea } (a+b)(a-b) = a^2 - b^2$$

luego, la suma de dos cantidades multiplicada por su diferencia es igual al cuadrado del minuendo (en la diferencia) menos el cuadrado del sustraendo.

**Ejemplos**

(1) Efectuar  $(a+x)(a-x)$ .

$$(a+x)(a-x) = a^2 - x^2. \quad R.$$

(2) Efectuar  $(2a+3b)(2a-3b)$

$$(2a+3b)(2a-3b) = (2a)^2 - (3b)^2 = 4a^2 - 9b^2. \quad R.$$

(3) Efectuar  $(5a^{n+1} + 3a^m)(3a^m - 5a^{n+1})$ .

Como el orden de los sumandos no altera la suma,  $5a^{n+1} + 3a^m$  es lo mismo que  $3a^m + 5a^{n+1}$ , pero téngase presente que  $3a^m - 5a^{n+1}$  no es lo mismo que  $5a^{n+1} - 3a^m$ . Por eso hay que fijarse en la *diferencia* y escribir el cuadrado del minuendo menos el cuadrado del sustraendo.

$$\text{Tendremos: } (5a^{n+1} + 3a^m)(3a^m - 5a^{n+1}) = (3a^m)^2 - (5a^{n+1})^2 = 9a^{2m} - 25a^{2n+2}. \quad R.$$

**EJERCICIO 64**

Escribir, por simple inspección, el resultado de:

- |                           |                           |  |
|---------------------------|---------------------------|--|
| 1. $(x+y)(x-y)$ ,         | 6. $(n-1)(n+1)$ ,         | 11. $(1-8xy)(8xy+1)$ ,                       |
| 2. $(m-n)(m+n)$ ,         | 7. $(1-3ax)(3ax+1)$ ,     | 12. $(6x^2-m^2x)(6x^2+m^2x)$ ,               |
| 3. $(a-x)(x+a)$ ,         | 8. $(2m+9)(2m-9)$ ,       | 13. $(a^{2n}+b^2)(a^{2n}-b^2)$ ,             |
| 4. $(x^2+a^2)(x^2-a^2)$ , | 9. $(a^3-b^2)(a^2+b^2)$ , | 14. $(3x^3-5y^6)(5y^6+3x^3)$ ,               |
| 5. $(2a-1)(1+2a)$ ,       | 10. $(y^2-3y)(y^2+3y)$ ,  | 15. $(a^{2+1}-2b^{2-1})(2b^{2-1}+a^{2+1})$ , |

(4) Efectuar  $(a+b+c)(a+b-c)$ .

Este producto puede convertirse en la suma de dos cantidades multiplicada por su diferencia, de este modo:

$$(a+b+c)(a+b-c) = [(a+b)+c][(a+b)-c] = (a+b)^2 - c^2 = a^2 + 2ab + b^2 - c^2. \quad R.$$

donde hemos desarrollado  $(a+b)^2$  por la regla del 1er. caso.

(5) Efectuar  $(a+b+c)(a-b-c)$ .

Introduciendo los dos últimos términos del primer trinomio en un paréntesis precedido del signo +, lo cual no hace variar los signos, y los dos últimos términos del segundo trinomio en un paréntesis precedido del signo -, para lo cual hay que cambiar los signos, tendremos:

$$\begin{aligned} (a+b+c)(a-b-c) &= [a+(b+c)][a-(b+c)] \\ &= a^2 - (b+c)^2 \\ &= a^2 - (b^2 + 2bc + c^2) \\ &= a^2 - b^2 - 2bc - c^2. \quad R. \end{aligned}$$

(6) Efectuar  $(2x+3y-4z)(2x-3y+4z)$ .

$$\begin{aligned} (2x+3y-4z)(2x-3y+4z) &= [2x+(3y-4z)][2x-(3y-4z)] \\ &= (2x)^2 - (3y-4z)^2 \\ &= 4x^2 - (9y^2 - 24yz + 16z^2) \\ &= 4x^2 - 9y^2 + 24yz - 16z^2. \quad R. \end{aligned}$$

**EJERCICIO 65**

Escribir, por simple inspección, el resultado de:

- |                       |                             |                                  |
|-----------------------|-----------------------------|----------------------------------|
| 1. $(x+y+z)(x+y-z)$ , | 6. $(x+y-2)(x-y+2)$ ,       | 11. $(2x+y-z)(2x-y+z)$ ,         |
| 2. $(x-y+z)(x+y-z)$ , | 7. $(n^2+2n+1)(n^2-2n-1)$ , | 12. $(x^2-5x+6)(x^2+5x-6)$ ,     |
| 3. $(x+y+z)(x-y-z)$ , | 8. $(a^2-2a+3)(a^2+2a+3)$ , | 13. $(a^2-ab+b^2)(a^2+b^2+ab)$ , |
| 4. $(m+n+1)(m+n-1)$ , | 9. $(m^2-m-1)(m^2+m-1)$ ,   | 14. $(x^3-x^2-x)(x^3+x^2+x)$ ,   |
| 5. $(m-n-1)(m-n+1)$ , | 10. $(2a-b-c)(2a-b+c)$ ,    |                                  |



# REPRESENTACIÓN GRÁFICA DEL PRODUCTO DE LA SUMA POR LA DIFERENCIA DE DOS CANTIDADES

El producto de la suma por la diferencia de dos cantidades puede representarse geométricamente cuando los valores de dichas cantidades son positivos. Véanse los siguientes pasos:

$$\text{Sea } (a+b)(a-b) = a^2 - b^2$$

Construimos un cuadrado de  $a$  unidades de lado, es decir, de lado  $a$ :

FIGURA 14

Construimos un cuadrado de  $b$  unidades de lado, es decir, de lado  $b$ :

FIGURA 15

Al cuadrado de lado  $a$  le quitamos el cuadrado de lado  $b$  (figura 16), y trazando la línea de puntos obtenemos el rectángulo  $c$ , cuyos lados son  $b$  y  $(a-b)$ . Si ahora trasladamos el rectángulo  $c$  en la forma indicada por la flecha en la figura 17, obtenemos el rectángulo ABCD, cuyos lados son  $(a+b)$  y  $(a-b)$ , y cuya área (figura 18) será:

$$(a+b)(a-b) = a^2 - b^2$$

$$\begin{aligned} (a+b)(a-b) &= a^2 - b^2 \\ (10+6)(10-6) &= (10)^2 - (6)^2 \\ 16 \times 4 &= 100 - 36 \\ &= 64 \quad \text{R.} \end{aligned}$$

FIGURA 16

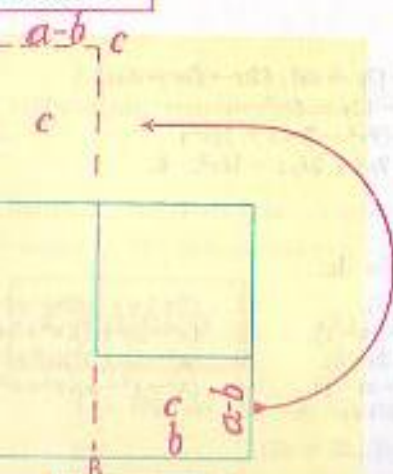


FIGURA 17



FIGURA 18

## 90 CUBO DE UN BINOMIO

1) Elevemos  $a+b$  al cubo.

$$\text{Tendremos: } (a+b)^3 = (a+b)(a+b)(a+b) = (a+b)^2(a+b) = (a^2 + 2ab + b^2)(a+b)$$

$$\begin{array}{r} \text{Efectuando esta} \\ \text{multiplicación,} \\ \text{tenemos: } \end{array} \begin{array}{r} a^2 + 2ab + b^2 \\ a + b \\ \hline a^3 + 2a^2b + ab^2 \\ a^2b + 2ab^2 + b^3 \\ \hline a^3 + 3a^2b + 3ab^2 + b^3 \end{array} \quad \text{o sea } (a+b)^3 = a^3 + 3a^2b + 3ab^2 + b^3$$

lo que nos dice que el cubo de la suma de dos cantidades es igual al cubo de la primera cantidad más el triplo del cuadrado de la primera por la segunda, más el triplo de la primera por el cuadrado de la segunda, más el cubo de la segunda.

2) Elevemos  $a-b$  al cubo. Tendremos:  $(a-b)^3 = (a-b)^2(a-b) = (a^2 - 2ab + b^2)(a-b)$

Efectuando esta multiplicación, tenemos:

$$\begin{array}{r} a^2 - 2ab + b^2 \\ a - b \\ \hline a^3 - 2a^2b + ab^2 \\ - a^2b + 2ab^2 - b^3 \\ \hline a^3 - 3a^2b + 3ab^2 - b^3 \end{array} \quad \text{o sea } (a-b)^3 = a^3 - 3a^2b + 3ab^2 - b^3$$

lo que nos dice que el cubo de la diferencia de dos cantidades es igual al cubo de la primera cantidad, menos el triplo del cuadrado de la primera por la segunda, más el triplo de la primera por el cuadrado de la segunda, menos el cubo de la segunda cantidad.

## Ejemplos

(1) Desarrollar  $(a+1)^3$ .

$$(a+1)^3 = a^3 + 3a^2(1) + 3a(1^2) + 1^3 = a^3 + 3a^2 + 3a + 1. \quad \text{R.}$$

(2) Desarrollar  $(x-2)^3$ .

$$(x-2)^3 = x^3 - 3x^2(2) + 3x(2^2) - 2^3 = x^3 - 6x^2 + 12x - 8. \quad \text{R.}$$

(3) Desarrollar  $(4x+5)^3$ .

$$(4x+5)^3 = (4x)^3 + 3(4x)^2(5) + 3(4x)(5^2) + 5^3 = 64x^3 + 240x^2 + 300x + 125. \quad \text{R.}$$

(4) Desarrollar  $(x^2-3y)^3$ .

$$(x^2-3y)^3 = (x^2)^3 - 3(x^2)^2(3y) + 3x^2(3y)^2 - (3y)^3 = x^6 - 9x^4y + 27x^2y^2 - 27y^3. \quad \text{R.}$$



## EJERCICIO 66

Desarrollar:

- |              |               |                |                  |
|--------------|---------------|----------------|------------------|
| 1. $(a+2)^2$ | 4. $(n-4)^2$  | 7. $(2+y^2)^2$ | 10. $(a^2-2b)^2$ |
| 2. $(x-1)^2$ | 5. $(2x+1)^2$ | 8. $(1-2x)^2$  | 11. $(2x+3y)^2$  |
| 3. $(m+3)^2$ | 6. $(1-3y)^2$ | 9. $(4n+3)^2$  | 12. $(1-a^2)^2$  |

91 PRODUCTO DE DOS BINOMIOS DE LA FORMA  $(x+a)(x+b)$ 

La multiplicación nos da:

$x+2$	$x-3$	$x-2$	$x+6$
$x+3$	$x-4$	$x+5$	$x-4$
$x^2+2x$	$x^2-3x$	$x^2-2x$	$x^2+6x$
$3x+6$	$-4x+12$	$+5x-10$	$-4x-24$
$x^2+5x+6$	$x^2-7x+12$	$x^2+3x-10$	$x^2+2x-24$

En los cuatro ejemplos expuestos se cumplen las siguientes reglas:

- 1) El primer término del producto es el producto de los primeros términos de los binomios.
- 2) El coeficiente del segundo término del producto es la suma algebraica de los segundos términos de los binomios y en este término la  $x$  está elevada a un exponente que es la mitad del que tiene esta letra en el primer término del producto.
- 3) El tercer término del producto es el producto de los segundos términos de los binomios.

PRODUCTO DE DOS BINOMIOS DE LA FORMA  $(mx+a)(nx+b)$ .

El producto de dos binomios de esta forma, en los cuales los términos en  $x$  tienen distintos coeficientes, puede hallarse fácilmente siguiendo los pasos que se indican en el siguiente esquema.

Sea, hallar el producto de  $(3x+5)(4x+6)$ :

$$(3x+5)(4x+6) = 12x^2 + 20x + 18x + 30$$

FIGURA 19

Reduciendo los términos semejantes tenemos:  $12x^2 + 38x + 30$  R.

## Ejemplos

(1) Multiplicar  $(x+7)(x-2)$ .

Coeficiente del segundo término .....  $7-2=5$   
 Tercer término .....  $7 \times (-2) = -14$   
 luego  $(x+7)(x-2) = x^2 + 5x - 14$  R.

(2) Efectuar  $(x-7)(x-6)$ .

Coeficiente del 2º término .....  $(-7) + (-6) = -13$   
 Tercer término .....  $(-7) \times (-6) = +42$

luego  $(x-7)(x-6) = x^2 - 13x + 42$  R.

Los pasos intermedios deben suprimirse y el producto escribirse directamente sin escribir las operaciones intermedias.

(3) Efectuar  $(a-11)(a+9)$ .luego  $(a-11)(a+9) = a^2 - 2a - 99$  R.(4) Efectuar  $(x^2+7)(x^2+3)$ .luego  $(x^2+7)(x^2+3) = x^4 + 10x^2 + 21$  R.

Obsérvese que como el exponente de  $x$  en el primer término del producto es 4, el exponente de  $x$  en el segundo término es la mitad de 4, o sea  $x^2$ .

(5) Efectuar  $(x^3-12)(x^3-3)$ .luego  $(x^3-12)(x^3-3) = x^6 - 15x^3 + 36$  R.

## EJERCICIO 67

Escribir, por simple inspección, el resultado de:

- |                 |                      |                       |                            |
|-----------------|----------------------|-----------------------|----------------------------|
| 1. $(a+1)(a+2)$ | 7. $(x-3)(x-1)$      | 13. $(n^2-1)(n^2+20)$ | 19. $(ab+5)(ab-6)$         |
| 2. $(x+2)(x+4)$ | 8. $(x-5)(x+4)$      | 14. $(n^2+3)(n^2-6)$  | 20. $(xy^2-9)(xy^2+12)$    |
| 3. $(x+5)(x-2)$ | 9. $(a-11)(a+10)$    | 15. $(x^3+7)(x^3-6)$  | 21. $(a^2b^2-1)(a^2b^2+7)$ |
| 4. $(m-6)(m-5)$ | 10. $(n-19)(n+10)$   | 16. $(a^4+8)(a^4-1)$  | 22. $(x^2y^3-6)(x^2y^3+8)$ |
| 5. $(x+7)(x-3)$ | 11. $(a^2+5)(a^2-9)$ | 17. $(a^6-2)(a^6+7)$  | 23. $(a^5-3)(a^5+8)$       |
| 6. $(x+2)(x-1)$ | 12. $(x^2-1)(x^2-7)$ | 18. $(a^6+7)(a^6-9)$  | 24. $(a^8+1-6)(a^8+1-5)$   |

## EJERCICIO 68

## MISCELANEA

Escribir, por simple inspección, el resultado de:

- |                      |                                |                            |
|----------------------|--------------------------------|----------------------------|
| 1. $(x+2)^2$         | 14. $(x+y+1)(x-y-1)$           | 27. $(2a^2-5b^2)^2$        |
| 2. $(x+2)(x+3)$      | 15. $(1-a)(a+1)$               | 28. $(a^3+12)(a^3-15)$     |
| 3. $(x+1)(x-1)$      | 16. $(m-8)(m+12)$              | 29. $(m^2-m+n)(n+m+m^2)$   |
| 4. $(x-1)^2$         | 17. $(x^2-1)(x^2+3)$           | 30. $(x^4+7)(x^4-11)$      |
| 5. $(n+3)(n+5)$      | 18. $(x^3+6)(x^3-8)$           | 31. $(11-ab)^2$            |
| 6. $(m-3)(m+3)$      | 19. $(5x^2+6m^2)^2$            | 32. $(x^2y^3-8)(x^2y^3+6)$ |
| 7. $(a+b-1)(a+b+1)$  | 20. $(x^4-2)(x^4+5)$           | 33. $(a+b)(a-b)(a^2-b^2)$  |
| 8. $(1+b)^2$         | 21. $(1-a+b)(b-a-1)$           | 34. $(x+1)(x-1)(x^2-2)$    |
| 9. $(a^2+4)(a^2-4)$  | 22. $(a^2+b^2)(a^2-b^2)$       | 35. $(a+3)(a^2+9)(a-3)$    |
| 10. $(3ab-5x^2)^2$   | 23. $(x^3+1-8)(x^3+1+9)$       | 36. $(x+5)(x-5)(x^2+1)$    |
| 11. $(ab+3)(3-ab)$   | 24. $(a^2b^2+c^2)(a^2b^2-c^2)$ | 37. $(a+1)(a-1)(a+2)(a-2)$ |
| 12. $(1-4ax)^2$      | 25. $(2a+x)^2$                 | 38. $(a+2)(a-3)(a-2)(a+3)$ |
| 13. $(a^2+8)(a^2-7)$ | 26. $(x^2-11)(x^2-2)$          |                            |



## II. COCIENTES NOTABLES

92 Se llama **cocientes notables** a ciertos cocientes que obedecen a reglas fijas y que pueden ser escritos por simple inspección.

93 **COCIENTE DE LA DIFERENCIA DE LOS CUADRADOS DE DOS CANTIDADES ENTRE LA SUMA O LA DIFERENCIA DE LAS CANTIDADES**

1) Sea el cociente  $\frac{a^2 - b^2}{a + b}$ . Efectuando la división, tenemos:

$$\begin{array}{r} a^2 \quad -b^2 \quad | \quad a+b \\ -a^2 - ab \\ \hline -ab - b^2 \\ ab + b^2 \\ \hline 0 \end{array}$$

o sea  $\frac{a^2 - b^2}{a + b} = a - b$ .

2) Sea el cociente  $\frac{a^2 - b^2}{a - b}$ . Efectuando la división, tenemos:

$$\begin{array}{r} a^2 \quad -b^2 \quad | \quad a-b \\ -a^2 + ab \\ \hline ab - b^2 \\ -ab + b^2 \\ \hline 0 \end{array}$$

o sea  $\frac{a^2 - b^2}{a - b} = a + b$ .

Lo anterior nos dice que:

1) La diferencia de los cuadrados de dos cantidades dividida por la suma de las cantidades es igual a la diferencia de las cantidades.

2) La diferencia de los cuadrados de dos cantidades dividida por la diferencia de las cantidades es igual a la suma de las cantidades.

## Ejemplos

(1) Dividir  $9x^2 - y^2$  entre  $3x + y$ .

$$\frac{9x^2 - y^2}{3x + y} = 3x - y. \quad R.$$

(2) Dividir  $1 - x^4$  entre  $1 - x^2$ .

$$\frac{1 - x^4}{1 - x^2} = 1 + x^2. \quad R.$$

(3) Dividir  $(a+b)^2 - c^2$  entre  $(a+b) + c$ .

$$\frac{(a+b)^2 - c^2}{(a+b) + c} = a + b - c. \quad R.$$

(4) Dividir  $1 - (a+n)^2$  entre  $1 - (a+n)$ .

$$\frac{1 - (a+n)^2}{1 - (a+n)} = 1 + a + n. \quad R.$$

## EJERCICIO 69

Hallar, por simple inspección, el cociente de:

- |                          |                              |  |                                       |                                 |
|--------------------------|------------------------------|--|---------------------------------------|---------------------------------|
| 1. $\frac{x^2-1}{x+1}$   | 5. $\frac{x^2-4}{x+2}$       | 9. $\frac{4x^2-9m^2n^4}{2x+3mn^2}$             | 13. $\frac{x^{2n}-y^{2n}}{x^n+y^n}$   | 17. $\frac{1-(a+b)}{1+(a+b)}$   |
| 2. $\frac{1-x^2}{1-x}$   | 6. $\frac{9-x^4}{3-x^2}$     | 10. $\frac{36m^2-49n^2x^4}{6m-7nx^2}$          | 14. $\frac{a^{2n+2}-100}{a^{n+1}-10}$ | 18. $\frac{4-(m+n)}{2+(m+n)}$   |
| 3. $\frac{x^2-y^2}{x+y}$ | 7. $\frac{a^2-4b^2}{a+2b}$   | 11. $\frac{81a^6-100b^6}{9a^3+10b^4}$          | 15. $\frac{1-9x^{2n+4}}{1+3x^{n+2}}$  | 19. $\frac{x^2-(x-y)}{x+(x-y)}$ |
| 4. $\frac{y^2-x^2}{y-x}$ | 8. $\frac{25-36x^4}{5-6x^2}$ | 12. $\frac{a^4b^6-4x^8y^{10}}{a^2b^3+2x^4y^5}$ | 16. $\frac{(x+y)^2-z^2}{(x+y)-z}$     | 20. $\frac{(a+x)^2}{(a+x)}$     |

94 **COCIENTE DE LA SUMA O DIFERENCIA DE LOS CUBOS DE DOS CANTIDADES ENTRE LA SUMA O DIFERENCIA DE LAS CANTIDADES**

1) Sea el cociente  $\frac{a^3 + b^3}{a + b}$ . Efectuando la división, tenemos:

$$\begin{array}{r} a^3 \quad +b^3 \quad | \quad a+b \\ -a^3 - a^2b \\ \hline a^2b + ab^3 \\ ab^2 + b^3 \\ \hline -ab^2 - b^3 \\ 0 \end{array}$$

o sea  $\frac{a^3 + b^3}{a + b} = a^2 - ab + b^2$ .

2) Sea el cociente  $\frac{a^3 - b^3}{a - b}$ . Efectuando la división, tenemos:

$$\begin{array}{r} a^3 \quad -b^3 \quad | \quad a-b \\ -a^3 + a^2b \\ \hline a^2b - b^3 \\ a^2b - b^3 \\ \hline 0 \end{array}$$

o sea  $\frac{a^3 - b^3}{a - b} = a^2 + ab + b^2$ .

Lo anterior nos dice que:

1) La suma de los cubos de dos cantidades dividida por la suma de las cantidades es igual al cuadrado de la primera cantidad, menos el producto de la primera por la segunda, más el cuadrado de la segunda cantidad.

2) La diferencia de los cubos de dos cantidades dividida por la diferencia de las cantidades es igual al cuadrado de la primera cantidad, más el producto de la primera por la segunda, más el cuadrado de la segunda cantidad.



## Ejemplos

(1) Dividir  $8x^3 + y^3$  entre  $2x + y$ .

$$\frac{8x^3 + y^3}{2x + y} = (2x)^3 - 2x(y) + y^2 = 4x^2 - 2xy + y^2. \quad R.$$

(2) Dividir  $27x^6 + 125y^9$  entre  $3x^2 + 5y^3$ .

$$\frac{27x^6 + 125y^9}{3x^2 + 5y^3} = (3x^2)^3 - 3x^2(5y^3) + (5y^3)^2 = 9x^4 - 15x^2y^3 + 25y^6.$$

(3) Dividir  $1 - 64a^8$  entre  $1 - 4a$ .

$$\frac{1 - 64a^8}{1 - 4a} = 1 + 4a + 16a^2. \quad R.$$

(4) Dividir  $8x^{12} - 729y^9$  entre  $2x^4 - 9y^3$ .

$$\frac{8x^{12} - 729y^9}{2x^4 - 9y^3} = 4x^8 + 18x^4y^2 + 81y^6. \quad R.$$

Los pasos intermedios deben suprimirse y escribir directamente el resultado final.

## EJERCICIO 70

Hallar, por simple inspección, el cociente de:

1. $\frac{x^3 - 27y^3}{x - 3y}$	5. $\frac{8x^3 + 27y^3}{2x + 3y}$	9. $\frac{1 + a^8b^8}{1 + ab}$	13. $\frac{x^6 - 27y^3}{x^2 - 3y}$	17. $\frac{64a^3 + b^9}{4a + b^3}$
2. $\frac{x^3 - a^3}{x - a}$	6. $\frac{27m^3 - 125n^3}{3m - 5n}$	10. $\frac{729 - 512b^3}{9 - 8b}$	14. $\frac{8a^6 + y^6}{2a^3 + y^3}$	18. $\frac{a^6 - b^6}{a^2 - b^2}$
3. $\frac{x^3 + y^3}{x + y}$	7. $\frac{64a^3 + 343}{4a + 7}$	11. $\frac{a^3x^3 + b^3}{ax + b}$	15. $\frac{1 - x^{12}}{1 - x^4}$	19. $\frac{125 - 343x^{15}}{5 - 7x^5}$
4. $\frac{x^3 - 1}{x - 1}$	8. $\frac{216 - 125y^3}{6 - 5y}$	12. $\frac{n^3 - m^3x^3}{n - mx}$	16. $\frac{27x^6 + 1}{3x^2 + 1}$	20. $\frac{n^6 + 1}{n^2 + 1}$

## 95 COCIENTE DE LA SUMA O DIFERENCIA DE POTENCIAS IGUALES DE DOS CANTIDADES ENTRE LA SUMA O DIFERENCIA DE LAS CANTIDADES

La división nos da:

$$\begin{aligned} \text{I. } \frac{a^4 - b^4}{a - b} &= a^3 + a^2b + ab^2 + b^3 \\ \text{II. } \frac{a^4 - b^4}{a + b} &= a^3 - a^2b + ab^2 - b^3. \end{aligned}$$

$$\text{III. } \frac{a^5 + b^5}{a + b} = a^4 - a^3b + a^2b^2 - ab^3 + b^4. \quad \text{IV. } \begin{cases} \frac{a^4 + b^4}{a + b} & \text{no es exacta la división} \\ \frac{a^4 + b^4}{a - b} & \text{no es exacta la división} \end{cases}$$

Lo anterior nos dice que:

1) La diferencia de potencias iguales, ya sean pares o impares, es siempre divisible por la diferencia de las bases.

2) La diferencia de potencias iguales pares es siempre divisible por la suma de las bases.

3) La suma de potencias iguales impares es siempre divisible por la suma de las bases.

4) La suma de potencias iguales pares nunca es divisible por la suma ni por la diferencia de las bases.

Los resultados anteriores pueden expresarse abreviadamente de este modo:

1)  $a^n - b^n$  es siempre divisible por  $a - b$ , siendo  $n$  cualquier número entero, ya sea par o impar.

2)  $a^n - b^n$  es divisible por  $a + b$  siendo  $n$  un número entero par.

3)  $a^n + b^n$  es divisible por  $a + b$  siendo  $n$  un número entero impar.

4)  $a^n + b^n$  nunca es divisible por  $a + b$  ni por  $a - b$  siendo  $n$  un número entero par.

### NOTA

La prueba de estas propiedades, fundada en el Teorema del Residuo, en el número 102.

## 96 LEYES QUE SIGUEN ESTOS COCIENTES

Los resultados de I, II y III del número anterior, que pueden ser comprobados cada uno de ellos en otros casos del mismo tipo, nos permiten establecer inductivamente las siguientes leyes:

1) El cociente tiene tantos términos como unidades tiene el exponente de las letras en el dividendo.

2) El primer término del cociente se obtiene dividiendo el primer término del dividendo entre el primer término del divisor y el exponente de  $a$  disminuye 1 en cada término.

3) El exponente de  $b$  en el segundo término del cociente es 1, y este exponente aumenta 1 en cada término posterior a éste.

4) Cuando el divisor es  $a - b$  todos los signos del cociente son  $+$  y cuando el divisor es  $a + b$  los signos del cociente son alternativamente  $+$  y  $-$ .



## Ejemplos

- (1) Hallar el cociente de
- $x^7 - y^7$
- entre
- $x - y$
- .

Aplicando las leyes anteriores, tenemos:

$$\frac{x^7 - y^7}{x - y} = x^6 + x^5y + x^4y^2 + x^3y^3 + x^2y^4 + xy^5 + y^6. \quad R.$$

Como el divisor es  $x - y$ , todos los signos del cociente son +.

- (2) Hallar el cociente de
- $m^8 - n^8$
- entre
- $m + n$
- .

$$\frac{m^8 - n^8}{m + n} = m^7 - m^6n + m^5n^2 - m^4n^3 + m^3n^4 - m^2n^5 + mn^6 - n^7. \quad R.$$

Como el divisor es  $m + n$  los signos del cociente alternan.

- (3) Hallar el cociente de
- $x^5 + 32$
- entre
- $x + 2$
- .

Como  $32 = 2^5$ , tendremos:

$$\frac{x^5 + 32}{x + 2} = \frac{x^5 + 2^5}{x + 2} = x^4 - 2x^3 + 2^2x^2 - 2^3x + 2^4 = x^4 - 2x^3 + 4x^2 - 8x + 16. \quad R.$$

- (4) Hallar el cociente de
- $64a^6 - 729b^6$
- entre
- $2a + 3b$
- .

Como  $64a^6 = (2a)^6$  y  $729b^6 = (3b)^6$ , tendremos:

$$\begin{aligned} \frac{64a^6 - 729b^6}{2a + 3b} &= \frac{(2a)^6 - (3b)^6}{2a + 3b} \\ &= (2a)^5 - (2a)^4(3b) + (2a)^3(3b)^2 - (2a)^2(3b)^3 + (2a)(3b)^4 - (3b)^5 \\ &= 32a^5 - 48a^4b + 72a^3b^2 - 108a^2b^3 + 162ab^4 - 243b^5. \quad R. \end{aligned}$$

## EJERCICIO 71

Hallar, por simple inspección, el cociente de:

1. $\frac{x^7 - y^7}{x - y}$	7. $\frac{a^7 - m^7}{a - m}$	13. $\frac{1 - n^3}{1 - n}$	19. $\frac{x^7 - 128}{x - 2}$	25. $\frac{x^5 + 243y^5}{x + 3y}$
2. $\frac{x^8 - y^8}{x + y}$	8. $\frac{a^8 - b^8}{a + b}$	14. $\frac{1 - a^6}{1 - a}$	20. $\frac{a^5 + 243}{a + 3}$	26. $\frac{16a^4 - 81b^4}{2a - 3b}$
3. $\frac{x^{10} - y^{10}}{x - y}$	9. $\frac{x^{10} - y^{10}}{x - y}$	15. $\frac{1 + a^7}{1 + a}$	21. $\frac{x^6 - 729}{x - 3}$	27. $\frac{64m^6 - 729n^6}{2m + 3n}$
4. $\frac{m^8 + n^8}{m + n}$	10. $\frac{m^8 + n^8}{m + n}$	16. $\frac{1 - m^8}{1 + m}$	22. $\frac{625 - x^4}{x + 5}$	28. $\frac{1024x^{10} - 1}{2x - 1}$
5. $\frac{m^9 - n^9}{m - n}$	11. $\frac{m^9 - n^9}{m - n}$	17. $\frac{x^4 - 16}{x - 2}$	23. $\frac{m^8 - 256}{m - 2}$	29. $\frac{512a^9 + b^9}{2a + b}$
6. $\frac{a^{10} - x^{10}}{a + x}$	12. $\frac{a^{10} - x^{10}}{a + x}$	18. $\frac{x^6 - 64}{x + 2}$	24. $\frac{x^{10} - 1}{x - 1}$	30. $\frac{a^6 - 729}{a - 3}$

- (5) Hallar el cociente de
- $a^{10} + b^{10}$
- entre
- $a^2 + b^2$
- .

En los casos estudiados hasta ahora los exponentes del divisor han sido siempre 1. Cuando los exponentes del divisor sean 2, 3, 4, 5, etc., sucederá que el exponente de  $a$  disminuirá en cada término 2, 3, 4, 5, etc.; la  $b$  aparece en el segundo término del cociente elevada a un exponente igual al que tiene en el divisor, y este exponente en cada término posterior, aumentará 2, 3, 4, 5, etc.

$$\text{Así, en este caso, tendremos: } \frac{a^{10} + b^{10}}{a^2 + b^2} = a^8 - a^6b^2 + a^4b^4 - a^2b^6 + b^8. \quad R.$$

donde vemos que el exponente de  $a$  disminuye 2 en cada término y el de  $b$  aumenta 2 en cada término.

- (6) Hallar el cociente de
- $x^{16} - y^{16}$
- entre
- $x^3 - y^3$
- .

$$\frac{x^{16} - y^{16}}{x^3 - y^3} = x^{12} + x^9y^3 + x^6y^6 + x^3y^9 + y^{12}. \quad R.$$

## EJERCICIO 72

Escribir, por simple inspección, el cociente de:

1. $\frac{x^9 + y^9}{x^3 + y^3}$	4. $\frac{a^{12} - b^{12}}{a^3 + b^3}$	7. $\frac{m^{12} + 1}{m^4 + 1}$	10. $\frac{x^{20} - y^{20}}{x^5 + y^5}$	13. $\frac{a^{25} + b^{25}}{a^5 + b^5}$
2. $\frac{a^8 - b^8}{a^2 + b^2}$	5. $\frac{a^{18} - x^{12}}{a^6 - x^3}$	8. $\frac{m^{16} - n^{16}}{m^4 - n^4}$	11. $\frac{m^{21} + n^{21}}{m^3 + n^3}$	14. $\frac{a^{30} - m^{15}}{a^6 - m^3}$
3. $\frac{m^{10} - n^{10}}{m^2 - n^2}$	6. $\frac{x^{16} + y^{16}}{x^3 + y^3}$	9. $\frac{a^{18} - b^{18}}{a^3 + b^3}$	12. $\frac{x^{24} - 1}{x^6 - 1}$	


## EJERCICIO 73

## MISCELANEA

Escribir el cociente sin efectuar la división:

1. $\frac{x^4 - 1}{1 + x^2}$	7. $\frac{1 + a^8}{1 + a}$	13. $\frac{32x^6 + 243y^6}{2x + 3y}$	19. $\frac{1 + x^{11}}{x + 1}$
2. $\frac{8m^3 + n^6}{2m + n^2}$	8. $\frac{16x^2y^4 - 25m^6}{4xy^2 + 5m^3}$	14. $\frac{25 - (a + 1)^2}{5 + (a + 1)}$	20. $\frac{x^{40} - y^{40}}{x^5 - y^5}$
3. $\frac{1 - a^6}{1 - a}$	9. $\frac{x^{27} + y^{27}}{x^3 + y^3}$	15. $\frac{1 - x^{12}}{1 - x^4}$	21. $\frac{9 - 36x^{10}}{3 + 6x^5}$
4. $\frac{x^6 - 27y^3}{x^2 - 3y}$	10. $\frac{a^{27} + y^{27}}{a^3 + y^3}$	16. $\frac{64x^6 - 343y^9}{4x^2 - 7y^3}$	22. $\frac{x^6 - 256}{x - 2}$
5. $\frac{x^6 - 49y^6}{x^3 + 7y^3}$	11. $\frac{a^4b^4 - 64x^6}{a^2b^2 + 8x^3}$	17. $\frac{a^{18} - b^{18}}{a^3 + b^3}$	
6. $\frac{a^{14} - b^{14}}{a^2 - b^2}$	12. $\frac{1 - a^2b^4c^8}{1 - ab^2c^4}$	18. $\frac{(a + x)^2 - y^2}{(a + x) - y}$	





MEDES (287-212 A.C.) El más genial de los científicos de la Antigüedad. Fue el primero en aplicar metódicamente las ciencias a los problemas de la vida real. Por espacio de tres años defendió a Siracusa, su ciudad natal, contra el ataque de los romanos.

Fue autor de innumerables inventos mecánicos, entre los que están el tornillo sin fin, la rueda dentada, etc. Fue asesinado por un soldado enemigo mientras resolvía un problema matemático. Fundó la Hidrostatica al descubrir el principio que lleva su nombre.

## CAPITULO VII

### TEOREMA DEL RESIDUO

#### 97 POLINOMIO ENTERO Y RACIONAL

Un polinomio como  $x^3 + 5x^2 - 3x + 4$  es entero porque ninguno de sus términos tiene letras en el denominador y es racional porque ninguno de sus términos tiene raíz inexacta. Este es un polinomio entero y racional en  $x$  y su grado es 3.

El polinomio  $a^5 + 6a^4 - 3a^3 + 5a^2 + 8a + 3$  es un polinomio entero y racional en  $a$  y su grado es 5.

#### 98 RESIDUO DE LA DIVISION DE UN POLINOMIO ENTERO Y RACIONAL EN $x$ POR UN BINOMIO DE LA FORMA $x-a$

1) Vamos a hallar el residuo de la división de  $x^3 - 7x^2 + 17x - 6$  entre  $x - 3$ .

$$\begin{array}{r} \text{Efectuemos la división: } x^3 - 7x^2 + 17x - 6 \quad | \quad x - 3 \\ - x^3 + 3x^2 \phantom{+ 17x - 6} \phantom{|} \phantom{x - 3} \\ \hline - 4x^2 + 17x \phantom{- 6} \phantom{|} \phantom{x - 3} \\ - 4x^2 + 12x \phantom{- 6} \phantom{|} \phantom{x - 3} \\ \hline 5x - 6 \phantom{|} \phantom{x - 3} \\ - 5x + 15 \phantom{|} \phantom{x - 3} \\ \hline 9 \phantom{|} \phantom{x - 3} \end{array}$$

La división no es exacta y el residuo es 9.

Si ahora, en el dividendo  $x^3 - 7x^2 + 17x - 6$  sustituimos la  $x$  por 3, tendremos:

$$3^3 - 7(3)^2 + 17(3) - 6 = 27 - 63 + 51 - 6 = 9$$

y vemos que el residuo de dividir el polinomio dado entre  $x - 3$  se obtiene sustituyendo en el polinomio dado la  $x$  por  $+3$ .

2) Vamos a hallar el residuo de la división de  $3x^3 - 2x^2 - 18x - 1$  entre  $x + 2$ .

$$\begin{array}{r} \text{Efectuemos la división: } 3x^3 - 2x^2 - 18x - 1 \quad | \quad x + 2 \\ - 3x^3 - 6x^2 \phantom{- 18x - 1} \phantom{|} \phantom{x + 2} \\ \hline - 8x^2 - 18x \phantom{- 1} \phantom{|} \phantom{x + 2} \\ - 8x^2 + 16x \phantom{- 1} \phantom{|} \phantom{x + 2} \\ \hline - 2x - 1 \phantom{|} \phantom{x + 2} \\ - 2x + 4 \phantom{|} \phantom{x + 2} \\ \hline 3 \phantom{|} \phantom{x + 2} \end{array}$$

Si ahora, en el dividendo  $3x^3 - 2x^2 - 18x - 1$  sustituimos la  $x$  por  $-2$ , tendremos:

$$3(-2)^3 - 2(-2)^2 - 18(-2) - 1 = -24 - 8 + 36 - 1 = 3$$

y vemos que el residuo de dividir el polinomio dado entre  $x + 2$  se obtiene sustituyendo en el polinomio dado la  $x$  por  $-2$ .

Lo expuesto anteriormente se prueba en el

#### 99 TEOREMA DEL RESIDUO

El residuo de dividir un polinomio entero y racional en  $x$  por un binomio de la forma  $x - a$  se obtiene sustituyendo en el polinomio dado la  $x$  por  $a$ .

Sea el polinomio  $Ax^n + Bx^{n-1} + Cx^{n-2} + \dots + Mx + N$ .

Dividamos este polinomio por  $x - a$  y continuemos la operación hasta que el residuo  $R$  sea independiente de  $x$ . Sea  $Q$  el cociente de esta división.

Como en toda división inexacta el dividendo es igual al producto del divisor por el cociente más el residuo, tendremos:

$$Ax^n + Bx^{n-1} + Cx^{n-2} + \dots + Mx + N = (x - a)Q + R.$$

Esta igualdad es cierta para todos los valores de  $x$ . Sustituycamos la  $x$  por  $a$  y tendremos:

$$Aa^n + Ba^{n-1} + Ca^{n-2} + \dots + Ma + N = (a - a)Q + R.$$

Pero  $(a - a) = 0$  y  $(a - a)Q = 0 \times Q = 0$ ; luego, la igualdad anterior se convierte en

$$Aa^n + Ba^{n-1} + Ca^{n-2} + \dots + Ma + N = R,$$

igualdad que prueba el teorema, pues nos dice que  $R$ , el residuo de la división, es igual a lo que se obtiene sustituyendo en el polinomio dado la  $x$  por  $a$ , que era lo que queríamos demostrar.



## NOTA

Un polinomio ordenado en  $x$  suele expresarse abreviadamente por la notación  $P(x)$  y el resultado de sustituir en este polinomio la  $x$  por  $a$  se escribe  $P(a)$ .

Si el divisor es  $x+a$ , como  $x+a = x - (-a)$ , el residuo de la división del polinomio ordenado en  $x$  entre  $x+a$  se obtiene sustituyendo en el polinomio dado la  $x$  por  $-a$ .

En los casos anteriores el coeficiente de  $x$  en  $x-a$  y  $x+a$  es 1. Estos binomios pueden escribirse  $1x-a$  y  $1x+a$ .

Sabemos que el residuo de dividir un polinomio ordenado en  $x$  entre  $x-a$  ó  $1x-a$  se obtiene sustituyendo la  $x$  por  $a$ , o sea, por  $\frac{a}{1}$  y el residuo de dividirlo entre  $x+a$  ó  $1x+a$  se obtiene sustituyendo la  $x$  por  $-a$ , o sea por  $-\frac{a}{1}$ .

Por tanto, cuando el divisor sea la forma  $bx-a$ , donde  $b$ , que es el coeficiente de  $x$ , es distinto de 1, el residuo de la división se obtiene sustituyendo en el polinomio dado la  $x$  por  $\frac{a}{b}$  y cuando el divisor sea de la forma  $bx+a$  el residuo se obtiene sustituyendo en el polinomio dado la  $x$  por  $-\frac{a}{b}$ .

En general, el residuo de dividir un polinomio ordenado en  $x$  por un binomio de la forma  $bx-a$  se obtiene sustituyendo en el polinomio dado la  $x$  por el quebrado que resulta de dividir el segundo término del binomio con el signo cambiado entre el coeficiente del primer término del binomio.

## Ejemplos

- (1) Hallar, sin efectuar la división, el residuo de dividir  $x^2 - 7x + 6$  entre  $x - 4$ .

Sustituyendo la  $x$  por 4, tendremos:

$$4^2 - 7(4) + 6 = 16 - 28 + 6 = -6. \quad R.$$

- (2) Hallar, por inspección, el residuo de dividir  $a^3 + 5a^2 + a - 1$  entre  $a + 5$ .

Sustituyendo la  $a$  por  $-5$ , tendremos:

$$(-5)^3 + 5(-5)^2 + (-5) - 1 = -125 + 125 - 5 - 1 = -6. \quad R.$$

- (3) Hallar, por inspección, el residuo de  $2x^3 + 6x^2 - 12x + 1$  entre  $2x + 1$ .

Sustituyendo la  $x$  por  $-\frac{1}{2}$ , tendremos:

$$2(-\frac{1}{2})^3 + 6(-\frac{1}{2})^2 - 12(-\frac{1}{2}) + 1 = -\frac{1}{4} + \frac{3}{2} + 6 + 1 = \frac{33}{4}. \quad R.$$

- (4) Hallar, por inspección, el residuo de  $a^4 - 9a^2 - 3a + 2$  entre  $3a - 2$ .

Sustituyendo la  $a$  por  $\frac{2}{3}$ , tendremos:

$$(\frac{2}{3})^4 - 9(\frac{2}{3})^2 - 3(\frac{2}{3}) + 2 = \frac{16}{81} - 4 - 2 + 2 = -\frac{203}{81}. \quad R.$$

## EJERCICIO 74

Hallar, sin efectuar la división, el residuo de dividir:

- $x^2 - 2x + 3$  entre  $x - 1$ .
- $x^3 - 3x^2 + 2x - 2$  entre  $x + 1$ .
- $x^4 - x^3 + 5$  entre  $x - 2$ .
- $a^4 - 5a^3 + 2a^2 - 6$  entre  $a + 3$ .
- $m^4 + m^3 - m^2 + 5$  entre  $m - 4$ .
- $x^5 + 3x^4 - 2x^3 + 4x^2 - 2x + 2$  entre  $x + 3$ .
- $a^5 - 2a^3 + 2a - 4$  entre  $a - 5$ .
- $6x^3 + x^2 + 3x + 5$  entre  $2x + 1$ .
- $12x^3 - 21x + 90$  entre  $3x - 3$ .
- $15x^3 - 11x^2 + 10x + 18$  entre  $3x + 1$ .
- $5x^4 - 12x^3 + 9x^2 - 22x + 21$  entre  $5x - 1$ .
- $a^6 + a^4 - 8a^2 + 4a + 1$  entre  $2a + 3$ .

## DIVISION SINTETICA.

100 REGLA PRACTICA PARA HALLAR EL COCIENTE Y EL RESIDUO DE LA DIVISION DE UN POLINOMIO ENTERO EN  $x$  POR  $x - a$ .

$$\begin{array}{r}
 x^3 - 5x^2 + 3x + 14 \quad | \quad x - 3 \\
 -x^3 + 3x^2 \phantom{+ 3x + 14} \quad \underline{\phantom{000}} \\
 -2x^2 + 3x \phantom{+ 14} \quad \underline{\phantom{000}} \\
 2x^2 - 6x \phantom{+ 14} \quad \underline{\phantom{000}} \\
 -3x + 14 \phantom{+ 14} \quad \underline{\phantom{000}} \\
 3x - 9 \phantom{+ 14} \quad \underline{\phantom{000}} \\
 5
 \end{array}$$

Aquí vemos que el cociente  $x^2 - 2x - 3$  es un polinomio en  $x$  cuyo grado es 1 menos que el grado del dividendo; que el coeficiente del primer término del cociente es igual al coeficiente del primer término del dividendo y que el residuo es 5.

Sin efectuar la división, el cociente y el residuo pueden hallarse por la siguiente regla práctica llamada división sintética:

- 1) El cociente es un polinomio en  $x$  cuyo grado es 1 menos que el grado del dividendo.
- 2) El coeficiente del primer término del cociente es igual al coeficiente del primer término del dividendo.
- 3) El coeficiente de un término cualquiera del cociente se obtiene multiplicando el coeficiente del término anterior por el segundo término del binomio divisor cambiado de signo y sumando este producto con el coeficiente del término que ocupa el mismo lugar en el dividendo.
- 4) El residuo se obtiene multiplicando el coeficiente del último término del cociente por el segundo término del divisor cambiado de signo y sumando este producto con el término independiente del dividendo:

Apliquemos esta regla a la división anterior. Para ello escribimos solamente los coeficientes del dividendo y se procede de este modo:

Dividendo...	$x^3$	$-5x^2$	$+3x$	$+14$		Divisor $x - 3$
Coefficientes...	1	-5	+3	+14	$\div 3 \rightarrow$	(Segundo término del divisor con el signo cambiado).
	$1 \times 3 = 3$	$(-5) \times 3 = -15$	$(3) \times 3 = 9$	$(14) \times 3 = 42$		
	1	-2	-3	+5		



El cociente será un polinomio en  $x$  de 2º grado, porque el dividendo es de 3º grado.

El coeficiente del primer término del cociente es 1, igual que en el dividendo.

El coeficiente del segundo término del cociente es  $-2$ , que se ha obtenido multiplicando el segundo término del divisor con el signo cambiado  $+3$ , por el coeficiente del primer término del cociente y sumando este producto:  $1 \times 3 = 3$ , con el coeficiente del término que ocupa en el dividendo el mismo lugar que el que estamos hallando del cociente, el segundo del dividendo  $-5$  y tenemos  $-5 + 3 = -2$ .

El coeficiente del tercer término del cociente es  $-3$ , que se ha obtenido multiplicando el segundo término del divisor con el signo cambiado  $+3$ , por el coeficiente del segundo término del cociente  $-2$  y sumando este producto:  $(-2) \times 3 = -6$ , con el coeficiente del término que ocupa en el dividendo el mismo lugar que el que estamos hallando del cociente, el tercero del dividendo  $+3$  y tenemos  $+3 - 6 = -3$ .

El residuo es 5, que se obtiene multiplicando el coeficiente del último término del cociente  $-3$ , por el segundo término del divisor cambiado de signo  $+3$  y sumando este producto:  $(-3) \times 3 = -9$ , con el término independiente del dividendo  $+14$  y tenemos  $+14 - 9 = +5$ .

Por lo tanto, el cociente de la división es  $x^2 - 2x - 3$  y el residuo 5, que son el cociente y el residuo que se obtuvieron efectuando la división.

Con este método, en realidad, lo que se hace es sustituir en el polinomio dado la  $x$  por  $+3$ .

2) Hallar, por división sintética, el cociente y el resto de las divisiones  $2x^4 - 5x^3 + 6x^2 - 4x - 105$  entre  $x + 2$ .

				(2o. término del divisor con el signo cambiado)	
-5	+6	-4	-105	-2	
$(-9) \times (-2) = 18$	$24 \times (-2) = -48$	$(-52) \times (-2) = 104$			
-9	+24	-52	-1		
			(residuo)		

Como el dividendo es de 4º grado, el cociente es de 3º grado.

Los coeficientes del cociente

son 2,  $-9$ ,  $+24$  y  $-52$ ; luego, el cociente es  $2x^3 - 9x^2 + 24x - 52$  y el residuo es  $-1$ .

Con este método, hemos sustituido en el polinomio dado la  $x$  por  $-2$ .

3) Hallar, por división sintética, el cociente y el residuo de dividir  $x^5 - 16x^3 - 202x + 81$  entre  $x - 4$ .

Como este polinomio es incompleto, pues le faltan los términos en  $x^4$  y en  $x^2$ , al escribir los coeficientes ponemos 0 en los lugares que debían ocupar los coeficientes de estos términos.

Tendremos:

1	+0	-16	+0	-202	+81	+4
	4	16	0	0	-808	
1	+4	0	0	-202	-727	
				(residuo)		

Como el dividendo es de 5º grado, el cociente es de 4º grado.

Los coeficientes del cociente son 1,  $+4$ , 0, 0 y  $-202$ ; luego, el cociente es  $x^4 + 4x^3 - 202$  y el residuo es  $-727$ .

4) Hallar por división sintética el cociente  $2x^4 - 3x^3 - 7x - 6$  entre  $2x + 1$  y el resto de la división de  $x^3 - 2x^2 + x - 2$  entre  $x + 2$ .

Pongamos el divisor en la forma  $x + a$  dividiendo sus dos términos por 2 y tendremos  $\frac{2x}{2} + \frac{1}{2} = x + \frac{1}{2}$ . Ahora bien, como el divisor lo hemos dividido entre 2, el cociente quedará multiplicado por 2; luego, los coeficientes que encontremos para el cociente tendremos que dividirlos entre 2 para destruir esta operación:

2	-3	+0	-7	-6	$\frac{1}{2}$
	-1	+2	-1	4	
2	-4	+2	-8	-2	
			(residuo)		

2,  $-4$ ,  $+2$  y  $-8$  son los coeficientes del cociente multiplicados por 2; luego, para destruir esta operación hay que dividirlos entre 2 y tendremos 1,  $-2$ ,  $+1$  y  $-4$ . Como el cociente es de tercer grado, el cociente será  $x^3 - 2x^2 + x - 4$ .

y el residuo es  $-2$  porque al residuo no le afecta la división del divisor entre 2.

### ■ EJERCICIO 75

Hallar, por división sintética, el cociente y el resto de las divisiones siguientes:

- $x^2 - 7x + 5$  entre  $x - 3$ .
- $a^2 - 5a + 1$  entre  $a + 2$ .
- $x^3 - x^2 + 2x - 2$  entre  $x + 1$ .
- $x^3 - 2x^2 + x - 2$  entre  $x - 2$ .
- $a^3 - 3a^2 - 6$  entre  $a + 3$ .
- $n^4 - 5n^3 + 4n - 48$  entre  $n + 2$ .



$$4-3x+5 \text{ entre } x-1.$$

$$5+x^3-12x^2-x^2-4x-2 \text{ entre } x+4.$$

$$3-3a^3+4a-6 \text{ entre } a-2.$$

$$5-208x^2+2076 \text{ entre } x-5.$$

$$11. x^6-3x^5+4x^4-3x^3-x^2+2 \text{ entre } x+3.$$

$$12. 2x^5-3x^2+7x-5 \text{ entre } 2x-1.$$

$$13. 3a^3-4a^2+5a+6 \text{ entre } 3a+2.$$

$$14. 3x^4-4x^3+4x^2-10x+8 \text{ entre } 3x-1.$$

$$15. x^6-x^4+\frac{10}{5}x^3+x^2-1 \text{ entre } 2x+3.$$

## COROLARIOS DEL TEOREMA DEL RESIDUO

### 101 DIVISIBILIDAD POR $x-a$

Un polinomio entero en  $x$  que se anula para  $x=a$ , o sea sustituyendo en él la  $x$  por  $a$ , es divisible por  $x-a$ .

Sea el polinomio entero  $P(x)$ , que suponemos se anula para  $x=a$ , es decir, sustituyendo la  $x$  por  $a$ . Decimos que  $P(x)$  es divisible por  $x-a$ .

En efecto: Según lo demostrado en el Teorema del Residuo, el residuo de dividir un polinomio entero en  $x$  por  $x-a$  se obtiene sustituyendo en el polinomio dado la  $x$  por  $a$ ; pero por hipótesis  $P(x)$  se anula al sustituir la  $x$  por  $a$ , o sea  $P(a)=0$ ; luego, el residuo de la división de  $P(x)$  entre  $x-a$  es cero; luego,  $P(x)$  es divisible por  $x-a$ .

Del propio modo, si  $P(x)$  se anula para  $x=-a$ ,  $P(x)$  es divisible por  $x-(-a)=x+a$ ; si  $P(x)$  se anula para  $x=\frac{a}{b}$  será divisible por  $x-\frac{a}{b}$  o por  $bx-a$ ; si  $P(x)$  se anula para  $x=-\frac{a}{b}$  será divisible por  $x-(-\frac{a}{b})=x+\frac{a}{b}$  o por  $bx+a$ .

Recíprocamente, si  $P(x)$  es divisible por  $x-a$  tiene que anularse para  $x=a$ , es decir, sustituyendo la  $x$  por  $a$ ; si  $P(x)$  es divisible por  $x+a$  tiene que anularse para  $x=-a$ ; si  $P(x)$  es divisible por  $bx-a$  tiene que anularse para  $x=\frac{a}{b}$  y si es divisible por  $bx+a$  tiene que anularse para  $x=-\frac{a}{b}$ .

### Ejemplos

- (1) Hallar, sin efectuar la división, si  $x^3-4x^2+7x-6$  es divisible por  $x-2$ .

Este polinomio será divisible por  $x-2$  si se anula para  $x=+2$ .

Sustituyendo la  $x$  por 2, tendremos:

$$2^3-4(2)^2+7(2)-6=8-16+14-6=0$$

luego es divisible por  $x-2$ .

- (2) Hallar, por inspección, si  $x^3-2x^2+3$  es divisible por  $x+1$ .

Este polinomio será divisible por  $x+1$  si se anula para  $x=-1$ .

Sustituyendo la  $x$  por  $-1$ , tendremos:

$$(-1)^3-2(-1)^2+3=-1-2+3=0$$

luego es divisible por  $x+1$ .

- (3) Hallar, por inspección, si  $x^4+2x^3-2x^2+x-6$  es divisible por  $x+3$  y encontrar el cociente de la división.

Aplicaremos la división sintética del número 100 con la cual hallamos simultáneamente el cociente y el residuo, si lo hay.

Tendremos:	1	+2	-2	+1	-6	-3
		-3	+3	-3	+6	
	1	-1	+1	-2	0	(residuo)

Lo anterior nos dice que el polinomio se anula al sustituir la  $x$  por  $-3$ ; luego es divisible por  $x+3$ .

El cociente es de tercer grado y sus coeficientes son 1,  $-1$ ,  $+1$  y  $-2$ , luego el cociente es

$$x^3-x^2+x-2.$$

Por tanto, si el dividendo es  $x^4+2x^3-2x^2+x-6$ , el divisor  $x+3$  y el cociente  $x^3-x^2+x-2$ , y la división es exacta, podemos escribir:

$$x^4+2x^3-2x^2+x-6=(x+3)(x^3-x^2+x-2).$$

## CONDICION NECESARIA PARA LA DIVISIBILIDAD DE UN POLINOMIO EN $x$ POR UN BINOMIO DE LA FORMA $x-a$ .

Es condición necesaria para que un polinomio en  $x$  sea divisible por un binomio de la forma  $x-a$ , que el término independiente del polinomio sea múltiplo del término  $a$  del binomio, sin tener en cuenta los signos.

Así, el polinomio  $3x^4+2x^3-6x^2+8x+7$  no es divisible por el binomio  $x-3$ , porque el término independiente del polinomio 7, no es divisible por el término numérico del binomio, que es 3.

Esta condición no es suficiente, es decir, que aun cuando el término independiente del polinomio sea divisible por el término  $a$  del binomio, no podemos afirmar que el polinomio en  $x$  sea divisible por el binomio  $x-a$ .

### EJERCICIO 76

Hallar, sin efectuar la división, si son exactas las divisiones siguientes:

- |  |   |
|--|---|
| 1. $x^2-x-6$ entre $x-3$ .             | 4. $x^5+x^4-5x^3-7x+8$ entre $x+3$ .        |
| 2. $x^3+4x^2-x-10$ entre $x+2$ .       | 5. $4x^3-8x^2+11x-4$ entre $2x-1$ .         |
| 3. $2x^4-5x^3+7x^2-9x+3$ entre $x-1$ . | 6. $6x^6+2x^4-3x^3-x^2+3x+3$ entre $3x+1$ . |

Sin efectuar la división, probar que:

7.  $a+1$  es factor de  $a^6-2a^2+2a+5$ .
8.  $x-5$  divide a  $x^5-6x^4+6x^3-5x^2+2x-10$ .
9.  $4x-3$  divide a  $4x^4-7x^3+7x^2-7x+3$ .
10.  $3n+2$  no es factor de  $3n^5+2n^4-3n^3-2n^2+6n+7$ .



Sin efectuar la división, hallar si las divisiones siguientes son o no exactas y determinar el cociente en cada caso y el residuo, si lo hay:

11.  $2a^3 - 2a^2 - 4a + 16$  entre  $a + 2$ .
12.  $a^4 - a^2 + 2a + 2$  entre  $a + 1$ .
13.  $x^4 + 5x - 6$  entre  $x - 1$ .
14.  $x^6 - 39x^4 + 26x^3 - 52x^2 + 29x - 30$  entre  $x - 6$ .
15.  $a^6 - 4a^5 - a^4 + 4a^3 + a^2 - 8a + 25$  entre  $a - 4$ .
16.  $16x^4 - 24x^3 + 37x^2 - 24x + 4$  entre  $4x - 1$ .
17.  $15n^5 + 25n^4 - 18n^3 - 18n^2 + 17n - 11$  entre  $3n + 5$ .

En los ejemplos siguientes, hallar el valor de la constante K (término independiente del polinomio) para que:

18.  $7x^2 - 5x + K$  sea divisible por  $x - 5$ .
19.  $x^3 - 3x^2 + 4x + K$  sea divisible por  $x - 2$ .
20.  $2a^4 + 25a + K$  sea divisible por  $a + 3$ .
21.  $20x^5 - 7x^2 + 29x + K$  sea divisible por  $4x + 1$ .

## 102 DIVISIBILIDAD DE $a^n + b^n$ Y $a^n - b^n$ POR $a + b$ Y $a - b$

Vamos a aplicar el Teorema del Residuo a la demostración de las reglas establecidas en el número 95.

Siendo  $n$  un número entero y positivo, se verifica:

- 1)  $a^n - b^n$  es siempre divisible por  $a - b$ , ya sea  $n$  par o impar.

En efecto: De acuerdo con el Teorema del Residuo,  $a^n - b^n$  será divisible por  $a - b$ , si se anula sustituyendo  $a$  por  $+b$ .

Sustituyendo  $a$  por  $+b$  en  $a^n - b^n$ , tenemos:  $a^n - b^n = b^n - b^n = 0$ .

Se anula; luego,  $a^n - b^n$  es siempre divisible por  $a - b$ .

- 2)  $a^n + b^n$  es divisible por  $a + b$  si  $n$  es impar.

Siendo  $n$  impar,  $a^n + b^n$  será divisible por  $a + b$  si se anula al sustituir  $a$  por  $-b$ .

Sustituyendo  $a$  por  $-b$  en  $a^n + b^n$ , tenemos:  $a^n + b^n = (-b)^n + b^n = -b^n + b^n = 0$ .

Se anula; luego,  $a^n + b^n$  es divisible por  $a + b$  siendo  $n$  impar.  $(-b)^n = -b^n$  porque  $n$  es impar y toda cantidad negativa elevada a un exponente impar da una cantidad negativa.

- 3)  $a^n - b^n$  es divisible por  $a + b$  si  $n$  es par.

Siendo  $n$  par,  $a^n - b^n$  será divisible por  $a + b$  si se anula al sustituir la  $a$  por  $-b$ .

Sustituyendo la  $a$  por  $-b$  en  $a^n - b^n$ , tenemos:  $a^n - b^n = (-b)^n - b^n = b^n - b^n = 0$ .

Se anula; luego,  $a^n - b^n$  es divisible por  $a + b$  siendo  $n$  par.  $(-b)^n = b^n$  porque  $n$  es par y toda cantidad negativa elevada a un exponente par da una cantidad positiva.

- 4)  $a^n + b^n$  no es divisible por  $a - b$  si  $n$  es par.

Siendo  $n$  par, para que  $a^n + b^n$  sea divisible por  $a - b$  es necesario que se anule al sustituir la  $a$  por  $-b$ .

Sustituyendo la  $a$  por  $-b$ , tenemos:  $a^n + b^n = (-b)^n + b^n = b^n + b^n = 2b^n$ .

No se anula; luego,  $a^n + b^n$  no es divisible por  $a - b$  cuando  $n$  es par.

- 5)  $a^n + b^n$  nunca es divisible por  $a - b$ , ya sea  $n$  par o impar.

Siendo  $n$  par o impar, para que  $a^n + b^n$  sea divisible por  $a - b$  es necesario que se anule al sustituir la  $a$  por  $+b$ .

Sustituyendo, tenemos:  $a^n + b^n = b^n + b^n = 2b^n$ .

No se anula; luego,  $a^n + b^n$  nunca es divisible por  $a - b$ .

## EJERCICIO 77

Diga, por simple inspección, si son exactas las divisiones siguientes y en caso negativo, diga cuál es el residuo:

- |                          |                           |                              |                         |                           |                                   |
|--------------------------|---------------------------|------------------------------|-------------------------|---------------------------|-----------------------------------|
| 1. $\frac{x^6+1}{x-1}$   | 3. $\frac{x^8-1}{x^2+1}$  | 5. $\frac{a^6+b^6}{a^2+b^2}$ | 7. $\frac{x^3-8}{x+2}$  | 9. $\frac{a^5+32}{a-2}$   | 11. $\frac{16a^4-81b}{2a+3b}$     |
| 2. $\frac{a^4+b^4}{a+b}$ | 4. $\frac{a^{12}+1}{a-1}$ | 6. $\frac{x^7-1}{x-1}$       | 8. $\frac{x^4-16}{x+2}$ | 10. $\frac{x^7-128}{x+2}$ | 12. $\frac{a^8x^4+b^8}{ax^2+b^3}$ |

## DIVISIBILIDAD DE $\frac{a^n \pm b^n}{a \pm b}$

- |  |  |
|--|--|
| 1) $\frac{a^n - b^n}{a - b}$ siempre es divisible.       | 2) $\frac{a^n + b^n}{a + b}$ es divisible si $n$ es impar. |
| 3) $\frac{a^n - b^n}{a + b}$ es divisible si $n$ es par. | 4) $\frac{a^n + b^n}{a - b}$ nunca es divisible.           |





**PTOLOMEO (100-175 D. C.)** El más so-  
te de los astrónomos de la época helenística.  
en Egipto, confluencia de dos culturas, Orien-  
cidente, influyó igualmente sobre ambas. Su  
geocéntrico dominó la Astronomía durante

catorce siglos hasta la aparición de Copérnico. Aunque  
es más conocido por estos trabajos, fue uno de los  
fundadores de la Trigonometría. Su obra principal, el  
Almagesto, en que se abordan cuestiones científicas,  
se utilizó en las universidades hasta el siglo XVIII.

## CAPITULO VIII

### ECUACIONES ENTERAS DE PRIMER GRADO CON UNA INCOGNITA

**103 IGUALDAD** es la expresión de que dos cantidades o expresiones al-  
gebraicas tienen el mismo valor.

#### Ejemplos

$$a = b + c.$$

$$3x^2 = 4x + 15.$$

**104 ECUACION** es una igualdad en la que hay una o varias cantidades  
desconocidas llamadas **incógnitas** y que sólo se verifica o es verdadera  
para determinados valores de las incógnitas.

Las **incógnitas** se representan por las últimas letras del alfabeto:  
 $x, y, z, u, v$ .

Así,  $5x + 2 = 17$

es una ecuación, porque es una igualdad en la  
que hay una incógnita, la  $x$ , y esta igualdad sólo  
se verifica, o sea que sólo es verdadera, para el  
valor  $x = 3$ . En efecto, si sustituimos la  $x$  por 3,  
tenemos:

$$5(3) + 2 = 17, \text{ o sea: } 17 = 17.$$

Si damos a  $x$  un valor distinto de 3, la igualdad no se verifica o no es  
verdadera.

La igualdad  $y^2 - 5y = -6$  es una ecuación porque es  
una igualdad que sólo se verifica para  $y = 2$  e  $y = 3$ . En efec-  
to, sustituyendo la  $y$  por 2, tenemos:

$$\begin{aligned} 2^2 - 5(2) &= - \\ 4 - 10 &= - \\ -6 &= - \end{aligned}$$

$$\begin{aligned} \text{Si hacemos } y = 3, \text{ tenemos: } 3^2 - 5(3) &= -6 \\ 9 - 15 &= -6 \\ -6 &= -6 \end{aligned}$$

Si damos a  $y$  un valor distinto de 2 ó 3, la igualdad no se verifica.

**105 IDENTIDAD** es una igualdad que se verifica para cualesquiera valo-  
res de las letras que entran en ella.

Así,  $(a - b)^2 = (a - b)(a - b)$   
 $a^2 - m^2 = (a + m)(a - m)$

son identidades porque se verifican para cualesquiera valores de las letras  
 $a$  y  $b$  en el primer ejemplo y de las letras  $a$  y  $m$  del segundo ejemplo.

El signo de identidad es  $=$ , que se lee "idéntico a".  
Así, la identidad de  $(x + y)^2$  con  $x^2 + 2xy + y^2$  se escribe  
y se lee  $(x + y)^2$  idéntico a  $x^2 + 2xy + y^2$

$$(x + y)^2 = x^2 + 2xy + y^2$$

**106 MIEMBROS**

Se llama **primer miembro** de una ecuación o de una identidad a la  
expresión que está a la izquierda del signo de igualdad o identidad, y **se-  
gundo miembro**, a la expresión que está a la derecha.

Así, en la ecuación  $3x - 5 = 2x - 3$

el primer miembro es  $3x - 5$  y el segundo miembro  $2x - 3$ .

**107 TERMINOS** son cada una de las cantidades que están conectadas con  
otra por el signo  $+$  o  $-$ , o la cantidad que está sola en un miembro.

Así, en la ecuación  $3x - 5 = 2x - 3$

los términos son  $3x, -5, 2x$  y  $-3$ .

No deben confundirse los **miembros** de una ecuación con los **términos**  
de la misma, error muy frecuente en los alumnos.

**Miembro** y **término** son equivalentes sólo cuando en un miembro de  
una ecuación hay una sola cantidad.

Así, en la ecuación  $3x = 2x + 3$

tenemos que  $3x$  es el **primer miembro** de la ecuación y también es un  
**término** de la ecuación.



### 108 CLASES DE ECUACIONES

Una ecuación numérica es una ecuación que no tiene más letras que las incógnitas, como donde la única letra es la incógnita  $x$ .

$$4x - 5 = x + 4,$$

Una ecuación literal es una ecuación que además de las incógnitas tiene otras letras, que representan cantidades conocidas, como

$$3x + 2a = 5b - bx.$$

Una ecuación es entera cuando ninguno de sus términos tiene denominador como en los ejemplos anteriores, y es fraccionaria cuando algunos o todos sus términos tienen denominador, como

$$\frac{3x}{2} + \frac{6x}{5} = 5 + \frac{x}{5}.$$

**109 GRADO** de una ecuación con una sola incógnita es el mayor exponente que tiene la incógnita en la ecuación. Así,

$$4x - 6 = 3x - 1 \text{ y } ax + b = b^2x + c,$$

son ecuaciones de primer grado porque el mayor exponente de  $x$  es 1.

La ecuación

$$x^2 - 5x + 6 = 0$$

es una ecuación de segundo grado porque el mayor exponente de  $x$  es 2. Las ecuaciones de primer grado se llaman ecuaciones simples o lineales.

**110 RAICES O SOLUCIONES** de una ecuación son los valores de las incógnitas que verifican o satisfacen la ecuación, es decir, que sustituidos en lugar de las incógnitas, convierten la ecuación en identidad.

Así, en la ecuación

$$5x - 6 = 3x + 8$$

la raíz es 7 porque haciendo  $x = 7$  se tiene

$$5(7) - 6 = 3(7) + 8, \text{ o sea } 29 = 29,$$

donde vemos que 7 satisface la ecuación.

Las ecuaciones de primer grado con una incógnita tienen una sola raíz.

**111 RESOLVER UNA ECUACION** es hallar sus raíces, o sea el valor o los valores de las incógnitas que satisfacen la ecuación.

### 112 AXIOMA FUNDAMENTAL DE LAS ECUACIONES

Si con cantidades iguales se verifican operaciones iguales los resultados serán iguales.

#### REGLAS QUE SE DERIVAN DE ESTE AXIOMA

- 1) Si a los dos miembros de una ecuación se suma una misma cantidad, positiva o negativa, la igualdad subsiste.
- 2) Si a los dos miembros de una ecuación se resta una misma cantidad, positiva o negativa, la igualdad subsiste.
- 3) Si los dos miembros de una ecuación se multiplican por una misma cantidad, positiva o negativa, la igualdad subsiste.
- 4) Si los dos miembros de una ecuación se dividen por una misma cantidad, positiva o negativa, la igualdad subsiste.
- 5) Si los dos miembros de una ecuación se elevan a una misma potencia o si a los dos miembros se extrae una misma raíz, la igualdad subsiste.

**113 LA TRANSPOSICION DE TERMINOS** consiste en cambiar los términos de una ecuación de un miembro al otro.

#### REGLA

Cualquier término de una ecuación se puede pasar de un miembro a otro cambiándole el signo.

En efecto:

$$1) \text{ Sea la ecuación } 5x = 2a - b.$$

Sumando  $b$  a los dos miembros de esta ecuación, la igualdad subsiste (Regla 1), y tendremos:

$$5x + b = 2a - b + b$$

y como  $-b + b = 0$ , queda

$$5x + b = 2a$$

donde vemos que  $-b$ , que estaba en el segundo miembro de la ecuación dada, ha pasado al primer miembro con signo  $+$ .

$$2) \text{ Sea la ecuación } 3x + b = 2a.$$

Restando  $b$  a los dos miembros de esta ecuación, la igualdad subsiste (Regla 2), y tendremos:

$$3x + b - b = 2a - b$$

y como  $b - b = 0$ , queda

$$3x = 2a - b$$

donde vemos que  $+b$ , que estaba en el primer miembro de la ecuación dada, ha pasado al segundo miembro con signo  $-$ .



- 114** Términos iguales con signos iguales en distinto miembro de una ecuación, pueden suprimirse.

Así, en la ecuación

$$x + b = 2a + b$$

tenemos el término  $b$  con signo  $+$  en los dos miembros. Este término puede suprimirse, quedando

$$x = 2a$$

porque equivale a restar  $b$  a los dos miembros.

En la ecuación

$$5x - x^2 = 4x - x^2 + 5$$

tenemos el término  $x^2$  con signo  $-x^2$  en los dos miembros.

Podemos suprimirlo, y queda

$$5x = 4x + 5,$$

porque equivale a sumar  $x^2$  a los dos miembros.

### 115 CAMBIO DE SIGNOS

Los signos de todos los términos de una ecuación se pueden cambiar sin que la ecuación varíe, porque equivale a multiplicar los dos miembros de la ecuación por  $-1$ , con lo cual la igualdad no varía. (Regla 3).

Así, si en la ecuación

$$-2x - 3 = x - 15$$

multiplicamos ambos miembros por  $-1$ , para lo cual hay que multiplicar por  $-1$  todos los términos de cada miembro, tendremos:

$$2x + 3 = -x + 15,$$

que es la ecuación dada con los signos de todos sus términos cambiados.

## RESOLUCION DE ECUACIONES ENTERAS DE PRIMER GRADO CON UNA INCOGNITA

### 116 REGLA GENERAL

- 1) Se efectúan las operaciones indicadas, si las hay.
- 2) Se hace la transposición de términos, reuniendo en un miembro todos los términos que contengan la incógnita y en el otro miembro todas las cantidades conocidas.
- 3) Se reducen términos semejantes en cada miembro.
- 4) Se despeja la incógnita dividiendo ambos miembros de la ecuación por el coeficiente de la incógnita.

## Ejemplos

- (1) Resolver la ecuación  $3x - 5 = x + 3$ .

Pasando  $x$  al primer miembro y  $-5$  al segundo, cambiando los signos, tenemos,  $3x - x = 3 + 5$ .

Reduciendo términos semejantes:

$$2x = 8$$

Despejando  $x$  para lo cual dividimos los dos miembros de la ecuación por 2, tenemos:

$$\frac{2x}{2} = \frac{8}{2} \text{ y simplificando } x = 4.$$

### VERIFICACION

La verificación es la prueba de que el valor obtenido para la incógnita es correcto.

La verificación se realiza sustituyendo en los dos miembros de la ecuación dada la incógnita por el valor obtenido, y si éste es correcto, la ecuación dada se convertirá en identidad.

Así, en el caso anterior, haciendo  $x = 4$  en la ecuación dada tenemos:

$$\begin{aligned} 3(4) - 5 &= 4 + 3 \\ 12 - 5 &= 4 + 3 \\ 7 &= 7. \end{aligned}$$

El valor  $x = 4$  satisface la ecuación.

- (2) Resolver la ecuación:  $35 - 22x + 6 - 18x = 14 - 30x + 32$ .

Pasando  $-30x$  al primer miembro y  $35$  y  $6$  al segundo:

$$-22x - 18x + 30x = 14 + 32 - 35 - 6.$$

Reduciendo:

$$-10x = 5.$$

Dividiendo por  $-5$ :

$$2x = -1.$$

Despejando  $x$  para lo cual dividimos ambos miembros por 2:

$$x = -\frac{1}{2}.$$

### VERIFICACION

Haciendo  $x = -\frac{1}{2}$  en la ecuación dada, se tiene:

$$\begin{aligned} 35 - 22\left(-\frac{1}{2}\right) + 6 - 18\left(-\frac{1}{2}\right) &= 14 - 30\left(-\frac{1}{2}\right) + 32 \\ 35 + 11 + 6 + 9 &= 14 + 15 + 32 \\ 61 &= 61. \end{aligned}$$

## EJERCICIO 78

Resolver las ecuaciones:

- |                               |  |
|-------------------------------|--|
| 1. $5x = 8x - 15.$            | 8. $8x - 4 + 3x = 7x + x + 14.$                |
| 2. $4x + 1 = 2.$              | 9. $8x + 9 - 12x = 4x - 13 - 5x.$              |
| 3. $y - 5 = 3y - 25.$         | 10. $5y + 6y - 81 = 7y + 102 + 65y.$           |
| 4. $5x + 6 = 10x + 5.$        | 11. $16 + 7x - 5 + x = 11x - 3 - x.$           |
| 5. $9y - 11 = -10 + 12y.$     | 12. $3x + 101 - 4x - 33 = 108 - 16x - 100.$    |
| 6. $21 - 6x = 27 - 8x.$       | 13. $14 - 12x + 39x - 18x = 256 - 60x - 657x.$ |
| 7. $11x + 5x - 1 = 65x - 36.$ | 14. $8x - 15x - 30x - 51x = 53x + 31x - 172.$  |



## RESOLUCION DE ECUACIONES DE PRIMER GRADO CON SIGNOS DE AGRUPACION

### Ejemplos

(1) Resolver  $3x - (2x - 1) = 7x - (3 - 5x) + (-x + 24)$

Suprimiendo los signos de agrupación:

$$3x - 2x + 1 = 7x - 3 + 5x - x + 24.$$

Transponiendo:  $3x - 2x - 7x - 5x + x = -3 + 24 - 1.$

Reduciendo:  $-10x = 20$

$$x = -\frac{20}{10} = -2. \text{ R.}$$

(2) Resolver  $5x + \{-2x + (-x + 6)\} = 18 - \{-7x + 6\} - (3x - 24)$

Suprimiendo los paréntesis interiores:

$$5x + \{-2x - x + 6\} = 18 - \{-7x - 6 - 3x + 24\}$$

Suprimiendo las llaves:

$$\begin{aligned} 5x - 2x - x + 6 &= 18 + 7x + 6 + 3x - 24 \\ 5x - 2x - x - 7x - 3x &= 18 + 6 - 24 - 6 \\ -8x &= -6. \end{aligned}$$

Multiplicando por  $-1$ :  $8x = 6.$

Dividiendo por 2:  $4x = 3.$

$$x = \frac{3}{4}. \text{ R.}$$

### EJERCICIO 79

Resolver las siguientes ecuaciones:

- $x - (2x + 1) = 8 - (3x + 3).$
- $15x - 10 = 6x - (x + 2) + (-x + 3).$
- $(5 - 3x) - (-4x + 6) = (8x + 11) - (3x - 6).$
- $30x - (-x + 6) + (-5x + 4) = -(5x + 6) + (-8 + 3x).$
- $15x + (-6x + 5) - 2 - (-x + 3) = -(7x + 23) - x + (3 - 2x).$
- $3x + [-5x - (x + 3)] = 8x + (-5x - 9).$
- $16x - [3x - (6 - 9x)] = 30x + [-(3x + 2) - (x + 3)].$
- $x - [5 + 3x - \{5x - (6 + x)\}] = -3.$
- $9x - (5x + 1) - \{2 + 8x - (7x - 5)\} + 9x = 0$
- $71 + [-5x + (-2x + 3)] = 25 - [-(3x + 4) - (4x + 3)].$
- $-\{3x + 8 - [-15 + 6x - (-3x + 2) - (5x + 4)] - 29\} = -5.$

## 117 RESOLUCION DE ECUACIONES DE PRIMER GRADO CON PRODUCTOS INDICADOS

### Ejemplos

(1) Resolver la ecuación

$$10(x - 9) - 9(5 - 6x) = 2(4x - 1) + 5(1 + 2x).$$

Efectuando los productos indicados:

$$10x - 90 - 45 + 54x = 8x - 2 + 5 + 10x.$$

Suprimiendo  $10x$  en ambos miembros por ser cantidades iguales con signos iguales en distintos miembros, queda:

$$\begin{aligned} -90 - 45 + 54x &= 8x - 2 + 5 \\ 54x - 8x &= -2 + 5 + 90 + 45 \\ 46x &= 138 \\ x &= \frac{138}{46} = 3. \text{ R.} \end{aligned}$$

### VERIFICACION

Haciendo  $x = 3$  en la ecuación dada, se tiene:  $\rightarrow$

$$\begin{aligned} 10(3 - 9) - 9(5 - 18) &= 2(12 - 1) + 5(1 + 6) \\ 10(-6) - 9(-13) &= 2(11) + 5(7) \\ -60 + 117 &= 22 + 35 \\ 57 &= 57. \end{aligned}$$

$x = 3$  satisface la ecuación.

(2) Resolver  $4x - (2x + 3)(3x - 5) = 49 - (6x - 1)(x - 2).$

Efectuando los productos indicados:  $\rightarrow$

$$\begin{aligned} (2x + 3)(3x - 5) &= 6x^2 - x - 15 \\ (6x - 1)(x - 2) &= 6x^2 - 13x + 2. \end{aligned}$$

El signo  $-$  delante de los productos indicados en cada miembro de la ecuación nos dice que hay que efectuar los productos y cambiar el signo a cada uno de sus términos; luego una vez efectuados los productos los introducimos en paréntesis precedidos del signo  $-$  y tendremos que la ecuación dada se convierte en:

$$4x - (6x^2 - x - 15) = 49 - (6x^2 - 13x + 2)$$

$$4x - 6x^2 + x + 15 = 49 - 6x^2 + 13x - 2$$

Suprimiendo los paréntesis:  $\rightarrow$

$$\begin{aligned} 4x + x - 13x &= 49 - 2 - 15 \\ -8x &= 32 \\ x &= -4. \text{ R.} \end{aligned}$$

(3) Resolver  $[x + 1](x - 2) - [4x - 1](3x + 5) - 6 = 8x - 11(x - 3) + x + 7.$

Efectuando los productos indicados:

$$x^2 - x - 2 - (12x^2 + 17x - 5) - 6 = 8x - 11(x^2 + 4x - 21)$$

Suprimiendo los paréntesis:

$$x^2 - x - 2 - 12x^2 - 17x + 5 - 6 = 8x - 11x^2 - 44x + 231.$$

En el primer miembro tenemos  $x^2$  y  $-12x^2$  que reducidos dan  $-11x^2$ , y como en el segundo miembro hay otro  $-11x^2$ , los suprimimos y queda:

$$\begin{aligned} -x - 2 - 17x + 5 - 6 &= 8x - 44x + 231 \\ -x - 17x - 8x + 44x &= 231 + 2 - 5 + 6 \\ 18x &= 234 \\ x &= \frac{234}{18} = 13. \text{ R.} \end{aligned}$$



(4) Resolver  $(3x-1)^2 - 3(2x+3)^2 + 42 = 2x(-x-5) - (x-1)^2$ .

Desarrollando los cuadrados de los binomios:

$$9x^2 - 6x + 1 - 3(4x^2 + 12x + 9) + 42 = 2x(-x-5) - (x^2 - 2x + 1)$$

Suprimiendo los paréntesis:

$$\begin{aligned} 9x^2 - 6x + 1 - 12x^2 - 36x - 27 + 42 &= -2x^2 - 10x - x^2 + 2x - 1 \\ -6x - 36x + 10x - 2x &= -1 - 1 + 27 - 42 \\ -34x &= -17 \\ 34x &= 17 \end{aligned}$$

$$x = \frac{17}{34} = \frac{1}{2} \quad \text{R.}$$

## EJERCICIO 80

Resolver las siguientes ecuaciones:

- $x+3(x-1)=6-4(2x+3)$ .
- $5(x-1)+16(2x+3)=3(2x-7)-x$ .
- $2(3x+3)-4(5x-3)=x(x-3)-x(x+5)$ .
- $184-7(2x+5)=301+6(x-1)-6$ .
- $7(18-x)-6(3-5x)=-(7x+9)-3(2x+5)-12$ .
- $3x(x-3)+5(x+7)-x(x+1)-2(x^2+7)+4=0$ .
- $-3(2x+7)+(-5x+6)-8(1-2x)-(x-3)=0$ .
- $(3x-4)(4x-3)=(6x-4)(2x-5)$ .
- $(4-5x)(4x-5)=(10x-3)(7-2x)$ .
- $(x+1)(2x+5)=(2x+3)(x-4)+5$ .
- $(x-2)^2-(3-x)^2=1$ .
- $14-(5x-1)(2x+3)=17-(10x+1)(x-6)$ .
- $(x-2)^2+x(x-3)=3(x+4)(x-3)-(x+2)(x-1)+2$ .
- $(3x-1)^2-5(x-2)-(2x+3)^2-(5x+2)(x-1)=0$ .
- $2(x-3)^2-3(x+1)^2+(x-5)(x-3)+4(x^2-5x+1)=4x^2-12$ .
- $5(x-2)^2-5(x+3)^2+(2x-1)(5x+2)-10x^2=0$ .
- $x^2-5x+15=x(x-3)-14+5(x-2)+3(13-2x)$ .
- $3(5x-6)(3x+2)-6(3x+4)(x-1)-3(9x+1)(x-2)=0$ .
- $7(x-4)^2-3(x+5)^2=4(x+1)(x-1)-2$ .
- $5(1-x)^2-6(x^2-3x-7)=x(x-3)-2x(x+5)-2$ .

## EJERCICIO 81

### MISCELANEA

Resolver las siguientes ecuaciones:

- $14x-(3x-2)-[5x+2-(x-1)]=0$ .
- $(3x-7)^2-5(2x+1)(x-2)=-x^2-[-(3x+1)]$ .
- $6x-(2x+1)=-\{ -5x+[-(-2x-1)] \}$ .
- $2x+3(-x^2-1)=-\{ 3x^2+2(x-1)-3(x+2) \}$ .
- $x^2-\{ 3x+[x(x+1)+4(x^2-1)-4x^2] \}=0$ .
- $3(2x+1)(-x+3)-(2x+5)^2=-[-\{ -3(x+5) \}+10x^2]$ .
- $(x+1)(x+2)(x-3)=(x-2)(x+1)(x+1)$ .
- $(x+2)(x+3)(x-1)=(x+4)(x+4)(x-4)+7$ .
- $(x+1)^3-(x-1)^3=6x(x-3)$ .
- $3(x-2)^2(x+5)=3(x+1)^2(x-1)+3$ .



**DIOFANTO (325-409 D. C.)** Famoso matemático griego perteneciente a la Escuela de Alejandría. Se le tenía hasta hace poco como el fundador del Álgebra, pero se sabe hoy que los babilonios y caldeos ya ignoraban ninguno de los problemas que abordó

Diofanto. Fue, sin embargo, el primero en enunciar una teoría clara sobre las ecuaciones de primer grado. También ofreció la fórmula para la resolución de las ecuaciones de segundo grado. Sus obras ejercieron una considerable influencia sobre Viète.

## CAPÍTULO 12

### PROBLEMAS SOBRE ECUACIONES ENTERAS DE PRIMER GRADO CON UNA INCOGNITA

- 118** La suma de las edades de A y B es 84 años, y B tiene 8 años menos que A. Hallar ambas edades.

Sea  $x$  = edad de A.

Como B tiene 8 años

$$x-8 = \text{edad de B.}$$

menos que A:

La suma de ambas edades es 84 años:

$$x+x-8=84.$$

luego, tenemos la ecuación:

Resolviendo:

$$x+x=84+8$$

$$2x=92$$

$$x=\frac{92}{2}=46 \text{ años, edad de A. R.}$$

La edad de B será:  $x-8=46-8=38$  años. R.

La verificación en los problemas consiste en ver si los resultados obtenidos satisfacen las condiciones del problema.

Así, en este caso, hemos obtenido que la edad de B es 38 años y la de A 46 años; luego, se cumple la condición dada en el problema de que



B tiene 8 años menos que A y ambas edades suman  $46 + 38 = 84$  años, que es la otra condición dada en el problema.

Luego los resultados obtenidos satisfacen las condiciones del problema.

**119** Pagué \$87 por un libro, un traje y un sombrero. El sombrero costó \$5 más que el libro y \$20 menos que el traje. ¿Cuánto pagué por cada cosa?

Sea  $x =$  precio del libro.

Como el sombrero costó \$5 más que el libro:

$$x + 5 = \text{precio del sombrero.}$$

El sombrero costó \$20 menos que el traje; luego el traje costó \$20 más que el sombrero:

$$x + 5 + 20 = x + 25 = \text{precio del traje.}$$

Como todo costó \$87, la suma de los precios del libro, traje y sombrero tiene que ser igual a \$87; luego, tenemos la ecuación:

$$x + x + 5 + x + 25 = 87.$$

Resolviendo:

$$3x + 30 = 87$$

$$3x = 87 - 30$$

$$3x = 57$$

$$x = \frac{57}{3} = \$19, \text{ precio del libro. R.}$$

$$x + 5 = 19 + 5 = \$24, \text{ precio del sombrero. R.}$$

$$x + 25 = 19 + 25 = \$44, \text{ precio del traje. R.}$$

**120** La suma de tres números enteros consecutivos es 156. Hallar los números.

Sea

$$x = \text{número menor}$$

$$x + 1 = \text{número intermedio}$$

$$x + 2 = \text{número mayor.}$$

Como la suma de los tres números es 156, se tiene la ecuación

$$x + x + 1 + x + 2 = 156.$$

Resolviendo:

$$3x + 3 = 156$$

$$3x = 156 - 3$$

$$3x = 153$$

$$x = \frac{153}{3} = 51, \text{ número menor. R.}$$

$$x + 1 = 51 + 1 = 52, \text{ número intermedio. R.}$$

$$x + 2 = 51 + 2 = 53, \text{ número mayor. R.}$$

#### NOTA

Si designamos por  $x$  el número mayor, el número intermedio sería  $x - 1$  y el menor  $x - 2$ .

Si designamos por  $x$  el número intermedio, el mayor sería  $x + 1$  y el menor  $x - 1$ .

#### EJERCICIO 82

1. La suma de dos números es 106 y el mayor excede al menor en 8. Hallar los números.
2. La suma de dos números es 540 y su diferencia 32. Hallar los números.
3. Entre  $A$  y  $B$  tienen 1154 bolívares y  $B$  tiene 506 menos que  $A$ . ¿Cuánto tiene cada uno?
4. Dividir el número 106 en dos partes tales que la mayor exceda a la menor en 24.
5.  $A$  tiene 14 años menos que  $B$  y ambas edades suman 56 años. ¿Qué edad tiene cada uno?
6. Repartir 1080 soles entre  $A$  y  $B$  de modo que  $A$  reciba 1014 más que  $B$ .
7. Hallar dos números enteros consecutivos cuya suma sea 103.
8. Tres números enteros consecutivos suman 204. Hallar los números.
9. Hallar cuatro números enteros consecutivos cuya suma sea 74.
10. Hallar dos números enteros pares consecutivos cuya suma sea 194.
11. Hallar tres números enteros consecutivos cuya suma sea 186.
12. Pagué \$325 por un caballo, un coche y sus arreos. El caballo costó \$80 más que el coche y los arreos \$25 menos que el coche. Hallar los precios respectivos.
13. La suma de tres números es 200. El mayor excede al del medio en 32 y al menor en 65. Hallar los números.
14. Tres cestos contienen 575 manzanas. El primer cesto tiene 10 manzanas más que el segundo y 15 más que el tercero. ¿Cuántas manzanas hay en cada cesto?
15. Dividir 454 en tres partes sabiendo que la menor es 15 unidades menor que la del medio y 70 unidades menor que la mayor.
16. Repartir 310 sucres entre tres personas de modo que la segunda reciba 20 menos que la primera y 40 más que la tercera.
17. La suma de las edades de tres personas es 88 años. La mayor tiene 20 años más que la menor y la del medio 18 años menos que la mayor. Hallar las edades respectivas.
18. Dividir 642 en dos partes tales que una exceda a la otra en 36.

**121** La edad de  $A$  es doble que la de  $B$ , y ambas edades suman 36 años. Hallar ambas edades.

Sea

$$x = \text{edad de } B.$$

Como, según las condiciones, la edad de  $A$  es doble que la de  $B$ , tendremos:

$$2x = \text{edad de } A$$

Como la suma de ambas edades es 36 años, se tiene la ecuación:

$$x + 2x = 36$$

Resolviendo:

$$3x = 36$$

$$x = 12 \text{ años, edad de } B. \text{ R.}$$

$$2x = 24 \text{ años, edad de } A. \text{ R.}$$



- 122** Se ha comprado un coche, un caballo y sus arreos por \$350. El coche costó el triplo de los arreos, y el caballo, el doble de lo que costó el coche. Hallar el costo de los arreos, del coche y del caballo.

Sea  $x = \text{costo de los arreos.}$

Como el coche costó el triplo de los arreos:  $3x = \text{costo del coche.}$

Como el caballo costó el doble del coche:  $6x = \text{costo del caballo.}$

Como los arreos, el coche y el caballo  $x + 3x + 6x = 350.$

costaron \$350, se tiene la ecuación:

Resolviendo:  $10x = 350$

$$x = \frac{350}{10} = \$35, \text{ costo de los arreos. R.}$$

$$3x = 3 \times \$35 = \$105, \text{ costo del coche. R.}$$

$$6x = 6 \times \$35 = \$210, \text{ costo del caballo. R.}$$

- 123** Repartir 180 bolívares entre A, B y C de modo que la parte de A sea la mitad de la de B y un tercio de la de C.

Si la parte de A es la mitad de la de B, la parte de B es doble que la de A; y si la parte de A es un tercio de la de C, la parte de C es el triplo de la de A. Entonces, sea:

$x = \text{parte de A.}$

$2x = \text{parte de B.}$

$3x = \text{parte de C.}$

Como la cantidad repartida es bs. 180, la suma de las partes de cada uno tiene que ser igual a bs. 180; luego, tendremos la ecuación:  $x + 2x + 3x = 180.$

Resolviendo:  $6x = 180$

$$x = \frac{180}{6} = \text{bs. 30, parte de A. R.}$$

$$2x = \text{bs. 60, parte de B. R.}$$

$$3x = \text{bs. 90, parte de C. R.}$$

### ■ EJERCICIO 83

- La edad de Pedro es el triplo de la de Juan y ambas edades suman 40 años. Hallar ambas edades.
- Se ha comprado un caballo y sus arreos por \$600. Si el caballo costó 4 veces los arreos, ¿cuánto costó el caballo y cuánto los arreos?
- En un hotel de 2 pisos hay 48 habitaciones. Si las habitaciones del segundo piso son la mitad de las del primero, ¿cuántas habitaciones hay en cada piso?
- Repartir 300 colones entre A, B y C de modo que la parte de B sea doble que la de A y la de C el triplo de la de A.
- Repartir 133 sucres entre A, B y C de modo que la parte de A sea la mitad de la de B y la de C doble de la de B.

- El mayor de dos números es 6 veces el menor y ambos números suman 147. Hallar los números.
- Repartir 140 quetzales entre A, B y C de modo que la parte de B sea la mitad de la de A y un cuarto de la de C.
- Dividir el número 850 en tres partes de modo que la primera sea el cuarto de la segunda y el quinto de la tercera.
- El duplo de un número equivale al número aumentado en 111. Hallar el número.
- La edad de María es el triplo de la de Rosa más quince años y ambas edades suman 59 años. Hallar ambas edades.
- Si un número se multiplica por 8 el resultado es el número aumentado en 21. Hallar el número.
- Si al triplo de mi edad añado 7 años, tendría 100 años. ¿Qué edad tengo?
- Dividir 96 en tres partes tales que la primera sea el triplo de la segunda y la tercera igual a la suma de la primera y la segunda.
- La edad de Enrique es la mitad de la de Pedro; la de Juan el triplo de la de Enrique y la de Eugenio el doble de la de Juan. Si las cuatro edades suman 132 años, ¿qué edad tiene cada uno?

- 124** La suma de las edades de A, B y C es 69 años. La edad de A es doble que la de B y 6 años mayor que la de C. Hallar las edades.

Sea

$x = \text{edad de B.}$

$2x = \text{edad de A.}$

Si la edad de A es 6 años mayor que la de C, la edad de C es 6 años menor que la de A; luego,  $2x - 6 = \text{edad de C.}$

Como las tres edades suman 69 años, tendremos la ecuación:

$$x + 2x + 2x - 6 = 69$$

Resolviendo:

$$5x - 6 = 69$$

$$5x = 69 + 6$$

$$5x = 75$$

$$x = \frac{75}{5} = 15 \text{ años, edad de B. R.}$$

$$2x = 30 \text{ años, edad de A. R.}$$

$$2x - 6 = 24 \text{ años, edad de C. R.}$$

### ■ EJERCICIO 84

- Dividir 254 en tres partes tales que la segunda sea el triplo de la primera y 40 unidades mayor que la tercera.
- Entre A, B y C tienen 130 balboas. C tiene el doble de lo que tiene A y 15 balboas menos que B. ¿Cuánto tiene cada uno?
- La suma de tres números es 238. El primero excede al duplo del segundo en 8 y al tercero en 18. Hallar los números.
- Se ha comprado un traje, un bastón y un sombrero por \$259. El traje costó 8 veces lo que el sombrero y el bastón \$30 menos que el traje. Hallar los precios respectivos.



5. La suma de tres números es 72. El segundo es  $\frac{1}{3}$  del tercero y el primero excede al tercero en 6. Hallar los números.
6. Entre  $A$  y  $B$  tienen 99 bolívars. La parte de  $B$  excede al triplo de la de  $A$  en 19. Hallar la parte de cada uno.
7. Una varilla de 74 cm de longitud se ha pintado de azul y blanco. La parte pintada de azul excede en 14 cm al duplo de la parte pintada de blanco. Hallar la longitud de la parte pintada de cada color.
8. Repartir \$152 entre  $A$ ,  $B$  y  $C$  de modo que la parte de  $B$  sea \$8 menos que el duplo de la de  $A$  y \$32 más que la de  $C$ .
9. El exceso de un número sobre 80 equivale al exceso de 220 sobre el duplo del número. Hallar el número.
10. Si me pagaran 60 sucres tendría el doble de lo que tengo ahora más 10 sucres. ¿Cuánto tengo?
11. El asta de una bandera de 9.10 m de altura se ha partido en dos. La parte separada tiene 80 cm menos que la otra parte. Hallar la longitud de ambas partes del asta.
12. Las edades de un padre y su hijo suman 83 años. La edad del padre excede en 3 años al triplo de la edad del hijo. Hallar ambas edades.
13. En una elección en que había 3 candidatos  $A$ ,  $B$  y  $C$  se emitieron 9000 votos.  $B$  obtuvo 500 votos menos que  $A$  y 800 votos más que  $C$ . ¿Cuántos votos obtuvo el candidato triunfante?
14. El exceso de 8 veces un número sobre 60 equivale al exceso de 60 sobre 7 veces el número. Hallar el número.
15. Preguntado un hombre por su edad, responde: Si al doble de mi edad se quitan 17 años se tendría lo que me falta para tener 100 años. ¿Qué edad tiene el hombre?

**125** Dividir 85 en dos partes tales que el triplo de la parte menor equivalga al duplo de la mayor.

Sea  $x =$  la parte menor.

Tendremos:  $85 - x =$  la parte mayor.

El problema me dice que el triplo de la parte menor,  $3x$ , equivale al duplo de la parte mayor,  $2(85 - x)$ ; luego, tenemos la ecuación

$$3x = 2(85 - x).$$

Resolviendo:  $3x = 170 - 2x$

$$3x + 2x = 170$$

$$5x = 170$$

$$x = \frac{170}{5} = 34, \text{ parte menor. R.}$$

$$85 - x = 85 - 34 = 51, \text{ parte mayor. R.}$$

**126** Entre  $A$  y  $B$  tienen \$81. Si  $A$  pierde \$36, el duplo de lo que le queda equivale al triplo de lo que tiene  $B$  ahora. ¿Cuánto tiene cada uno?

Sea  $x =$  número de pesos que tiene  $A$ .

$81 - x =$  número de pesos que tiene  $B$ .

Si  $A$  pierde \$36, se queda con  $\$(x - 36)$  y el duplo de esta cantidad  $2(x - 36)$  equivale al triplo de lo que tiene  $B$  ahora, o sea, al triplo de  $81 - x$ ; luego, tenemos la ecuación:

$$2(x - 36) = 3(81 - x)$$

Resolviendo:

$$2x - 72 = 243 - 3x$$

$$2x + 3x = 243 + 72$$

$$5x = 315$$

$$x = \frac{315}{5} = \$63, \text{ lo que tiene } A. \text{ R.}$$

$$81 - x = 81 - 63 = \$18, \text{ lo que tiene } B. \text{ R.}$$

## EJERCICIO 85

1. La suma de dos números es 100 y el duplo del mayor equivale al triplo del menor. Hallar los números.
2. Las edades de un padre y su hijo suman 60 años. Si la edad del padre se disminuyera en 15 años se tendría el doble de la edad del hijo. Hallar ambas edades.
3. Dividir 1080 en dos partes tales que la mayor disminuida en 132 equivalga a la menor aumentada en 100.
4. Entre  $A$  y  $B$  tienen 150 soles. Si  $A$  pierde 46, lo que le queda equivale a lo que tiene  $B$ . ¿Cuánto tiene cada uno?
5. Dos ángulos suman  $180^\circ$  y el duplo del menor excede en  $45^\circ$  al mayor. Hallar los ángulos.
6. La suma de dos números es 540 y el mayor excede al triplo del menor en 88. Hallar los números.
7. La diferencia de dos números es 36. Si el mayor se disminuye en 12 se tiene el cuádruplo del menor. Hallar los números.
8. Un perro y su collar han costado \$54, y el perro costó 8 veces lo que el collar. ¿Cuánto costó el perro y cuánto el collar?
9. Entre  $A$  y  $B$  tienen \$84. Si  $A$  pierde \$16 y  $B$  gana \$20, ambos tienen lo mismo. ¿Cuánto tiene cada uno?
10. En una clase hay 60 alumnos entre jóvenes y señoritas. El número de señoritas excede en 15 al duplo de los jóvenes. ¿Cuántos jóvenes hay en la clase y cuántas señoritas?
11. Dividir 160 en dos partes tales que el triplo de la parte menor disminuido en la parte mayor equivalga a 16.
12. La suma de dos números es 506 y el triplo del menor excede en 50 al mayor aumentado en 100. Hallar los números.
13. Una estilográfica y un lapicero han costado 18 bolívars. Si la estilográfica hubiera costado 6 bolívars menos y el lapicero 4 bolívars más, habrían costado lo mismo. ¿Cuánto costó cada uno?
14. Una varilla de 84 cm de longitud está pintada de rojo y negro. La parte roja es 4 cm menor que la parte pintada de negro. Hallar la longitud de cada parte.



- 127** La edad de A es doble que la de B y hace 15 años la edad de A era el triplo de la de B. Hallar las edades actuales.

Sea  $x$  = número de años que tiene B ahora.  
 $2x$  = número de años que tiene A ahora.

Hace 15 años, la edad de A era  $2x - 15$  años y la edad de B era  $(x - 15)$  años y como el problema me dice que la edad de A hace 15 años,  $(2x - 15)$  era igual al triplo de la edad de B hace 15 años o sea el triplo de  $x - 15$ , tendremos la ecuación:

$$2x - 15 = 3(x - 15).$$

Resolviendo:  $2x - 15 = 3x - 45$   
 $2x - 3x = -45 + 15$   
 $-x = -30$

$x = 30$  años, edad actual de B. R.

$2x = 60$  años, edad actual de A. R.

- 128** La edad de A es el triplo de la de B y dentro de 20 años será el doble. Hallar las edades actuales.

Sea  $x$  = número de años que tiene B ahora.  
 $3x$  = número de años que tiene A ahora.

Dentro de 20 años, la edad de A será  $(3x + 20)$  años y la de B será  $(x + 20)$  años. El problema me dice que la edad de A dentro de 20 años,  $3x + 20$ , será igual al doble de la edad de B dentro de 20 años, o sea, igual al doble de  $x + 20$ ; luego, tendremos la ecuación:

$$3x + 20 = 2(x + 20).$$

Resolviendo:  $3x + 20 = 2x + 40$   
 $3x - 2x = 40 - 20$

$x = 20$  años, edad actual de B. R.

$3x = 60$  años, edad actual de A. R.

## ● EJERCICIO 86

- La edad actual de A es doble que la de B, y hace 10 años la edad de A era el triplo de la de B. Hallar las edades actuales.
- La edad de A es triple que la de B y dentro de 5 años será el doble. Hallar las edades actuales.
- A tiene doble dinero que B. Si A pierde \$10 y B pierde \$5, A tendrá \$20 más que B. ¿Cuánto tiene cada uno?
- A tiene la mitad de lo que tiene B. Si A gana 66 colones y B pierde 90, A tendrá el doble de lo que le quede a B. ¿Cuánto tiene cada uno?
- En una clase el número de señoritas es  $\frac{1}{3}$  del número de varones. Si ingresarán 20 señoritas y dejarán de asistir 10 varones, habrá 6 señoritas más que varones. ¿Cuántos varones hay y cuántas señoritas?

- La edad de un padre es el triplo de la edad de su hijo. La edad que tenía el padre hace 5 años era el duplo de la edad que tendrá su hijo dentro de 10 años. Hallar las edades actuales.
- La suma de dos números es 85 y el número menor aumentado en 36 equivale al doble del mayor disminuido en 20. Hallar los números.
- Enrique tiene 5 veces lo que tiene su hermano. Si Enrique le diera a su hermano 50 cts., ambos tendrían lo mismo. ¿Cuánto tiene cada uno?
- Un colono tiene 1400 sucres en dos bolsas. Si de la bolsa que tiene más dinero saca 200 y los pone en la otra bolsa, ambas tendrían igual cantidad de dinero. ¿Cuánto tiene cada bolsa?
- El número de días que ha trabajado Pedro es 4 veces el número de días que ha trabajado Enrique. Si Pedro hubiera trabajado 15 días menos y Enrique 21 días más, ambos habrían trabajado igual número de días. ¿Cuántos días trabajó cada uno?
- Hace 14 años la edad de un padre era el triplo de la edad de su hijo y ahora es el doble. Hallar las edades respectivas hace 14 años.
- Dentro de 22 años la edad de Juan será el doble de la de su hijo y actualmente es el triplo. Hallar las edades actuales.
- Entre A y B tienen \$84. Si A gana \$80 y B gana \$4, A tendrá el triplo de lo que tenga B. ¿Cuánto tiene cada uno?

- 129** Un hacendado ha comprado doble número de vacas que de bueyes. Por cada vaca pagó \$70 y por cada buey \$85. Si el importe de la compra fue de \$2700, ¿cuántas vacas compró y cuántos bueyes?

Sea  $x$  = número de bueyes.  
 $2x$  = número de vacas.

Si se han comprado  $x$  bueyes y cada buey costó \$85, los  $x$  bueyes costaron  $85x$  y si se han comprado  $2x$  vacas y cada vaca costó \$70, las  $2x$  vacas costaron  $70 \times 2x = 140x$ . Como el importe total de la compra ha sido \$2700, tendremos la ecuación:

$$85x + 140x = 2700$$

Resolviendo:  $225x = 2700$

$x = \frac{2700}{225} = 12$ , número de bueyes. R.

$2x = 2 \times 12 = 24$ , número de vacas. R.

- 130** Se han comprado 96 aves entre gallinas y palomas. Cada gallina costó 80 cts. y cada paloma 65 cts. Si el importe de la compra ha sido \$69.30, ¿cuántas gallinas y cuántas palomas se han comprado?

Sea  $x$  = número de gallinas.  
 $96 - x$  = número de palomas.

Si se han comprado  $x$  gallinas y cada gallina costó 80 cts., las  $x$  gallinas costaron  $80x$  cts.



Si se han comprado  $96 - x$  palomas y cada paloma costó 65 cts., las  $96 - x$  palomas costaron  $65(96 - x)$  cts.

Como el importe total de la compra fue \$69.30, o sea 6930 cts., tendremos la ecuación:  $80x + 65(96 - x) = 6930$ .

$$\begin{aligned}\text{Resolviendo: } 80x + 6240 - 65x &= 6930 \\ 80x - 65x &= 6930 - 6240 \\ 15x &= 690\end{aligned}$$

$$x = \frac{690}{15} = 46, \text{ número de gallinas. R.}$$

$$96 - x = 96 - 46 = 50, \text{ número de palomas. R.}$$

### ● EJERCICIO 87

- Compré doble número de sombreros que de trajes por 702 balboas. Cada sombrero costó 2 y cada traje 50. ¿Cuántos sombreros y cuántos trajes compré?
- Un hacendado compró caballos y vacas por 40000 bolívares. Por cada caballo pagó 600 y por cada vaca 800. Si compró 6 vacas menos que caballos, ¿cuántas vacas y cuántos caballos compró?
- Un padre pone 16 problemas a su hijo con la condición de que por cada problema que resuelva el muchacho recibirá 12 cts. y por cada problema que no resuelva perderá 5 cts. Después de trabajar en los 16 problemas el muchacho recibe 73 cts. ¿Cuántos problemas resolvió y cuántos no resolvió?
- Un capataz contrata un obrero por 50 días pagándole \$3 por cada día de trabajo con la condición de que por cada día que el obrero deje de asistir al trabajo perderá \$2. Al cabo de los 50 días el obrero recibe \$90. ¿Cuántos días trabajó y cuántos no trabajó?
- Un comerciante compró 35 trajes de a 30 quetzales y de a 25 quetzales, pagando por todos Q. 1015. ¿Cuántos trajes de cada precio compró?
- Un comerciante compró trajes de dos calidades por 1624 balboas. De la calidad mejor compró 32 trajes y de la calidad inferior 18. Si cada traje de la mejor calidad le costó 7 balboas más que cada traje de la calidad inferior, ¿cuál era el precio de un traje de cada calidad?
- Un muchacho compró triple número de lápices que de cuadernos. Cada lápiz le costó a 5 cts. y cada cuaderno 6 cts. Si por todo pagó \$1.47, ¿cuántos lápices y cuántos cuadernos compró?
- Pagué \$582 por cierto número de sacos de azúcar y de frijoles. Por cada saco de azúcar pagué \$5 y por cada saco de frijoles \$6. Si el número de sacos de frijoles es el triplo del número de sacos de azúcar más 5, ¿cuántos sacos de azúcar y cuántos de frijoles compré?
- Se han comprado 80 pies cúbicos de madera por \$68.40. La madera comprada es cedro y caoba. Cada pie cúbico de cedro costó 75 cts. y cada pie cúbico de caoba 90 cts. ¿Cuántos pies cúbicos he comprado de cedro y cuántos de caoba?
- Dividir el número 1050 en dos partes tales que el triplo de la parte mayor disminuido en el duplo de la parte menor equivalga a 1825.

### ● EJERCICIO 88

#### MISCELANEA

- Dividir 196 en tres partes tales que la segunda sea el duplo de la primera y la suma de las dos primeras exceda a la tercera en 20.
- La edad de  $A$  es triple que la de  $B$  y hace 5 años era el cuádruplo de la de  $B$ . Hallar las edades actuales.
- Un comerciante adquiere 50 trajes y 35 pares de zapatos por 16000 soles. Cada traje costó el doble de lo que costó cada par de zapatos más 50 soles. Hallar el precio de un traje y de un par de zapatos.
- 6 personas iban a comprar una casa contribuyendo por partes iguales pero dos de ellas desistieron del negocio y entonces cada una de las restantes tuvo que poner 2000 bolívares más. ¿Cuál era el valor de la casa?
- La suma de dos números es 108 y el doble del mayor excede al triplo del menor en 156. Hallar los números.
- El largo de un buque, que es 461 pies, excede en 11 pies a 9 veces el ancho. Hallar el ancho.
- Tenia \$85. Gasté cierta suma y lo que me queda es el cuádruplo de lo que gasté. ¿Cuánto gasté?
- Hace 12 años la edad de  $A$  era el doble de la de  $B$  y dentro de 12 años, la edad de  $A$  será 68 años menos que el triplo de la de  $B$ . Hallar las edades actuales.
- Tengo \$1.85 en monedas de 10 y 5 centavos. Si en total tengo 22 monedas, ¿cuántas son de 10 centavos y cuántas de 5 centavos?
- Si a un número se resta 24 y la diferencia se multiplica por 12, el resultado es el mismo que si al número se resta 27 y la diferencia se multiplica por 24. Hallar el número.
- Un hacendado compró 35 caballos. Si hubiera comprado 5 caballos más por el mismo precio, cada caballo le habría costado \$10 menos. ¿Cuánto le costó cada caballo?
- El exceso del triplo de un número sobre 55 equivale al exceso de 233 sobre el número. Hallar el número.
- Hallar tres números enteros consecutivos, tales que el duplo del menor más el triplo del mediano más el cuádruplo del mayor equivalga a 740.
- Un hombre ha recorrido 150 kilómetros. En auto recorrió una distancia triple que a caballo y a pie, 20 kilómetros menos que a caballo. ¿Cuántos kilómetros recorrió de cada modo?
- Un hombre deja una herencia de 16500 colones para repartir entre 3 hijos y 2 hijas, y manda que cada hija reciba 2000 más que cada hijo. Hallar la parte de cada hijo y de cada hija.
- La diferencia de los cuadrados de dos números enteros consecutivos es 31. Hallar los números.
- La edad de  $A$  es el triplo de la de  $B$ , y la de  $B$  5 veces la de  $C$ .  $B$  tiene 12 años más que  $C$ . ¿Qué edad tiene cada uno?



18. Dentro de 5 años la edad de  $A$  será el triplo de la de  $B$ , y 15 años después la edad de  $A$  será el duplo de la de  $B$ . Hallar las edades actuales.
19. El martes gané el doble de lo que gané el lunes; el miércoles el doble de lo que gané el martes; el jueves el doble de lo que gané el miércoles; el viernes \$30 menos que el jueves y el sábado \$10 más que el viernes. Si en los 6 días he ganado \$911, ¿cuánto gané cada día?
20. Hallar dos números cuya diferencia es 18 y cuya suma es el triplo de su diferencia.
21. Entre  $A$  y  $B$  tienen \$36. Si  $A$  perdiera \$16, lo que tiene  $B$  sería el triplo de lo que le quedaría a  $A$ . ¿Cuánto tiene cada uno?
22.  $A$  tiene el triplo de lo que tiene  $B$ , y  $B$  el doble de lo de  $C$ . Si  $A$  pierde \$1 y  $B$  pierde \$3, la diferencia de lo que les queda a  $A$  y a  $B$  es el doble de lo que tendría  $C$  si ganara \$20. ¿Cuánto tiene cada uno?
23. 5 personas han comprado una tienda contribuyendo por partes iguales. Si hubiera habido 2 socios más, cada uno hubiera pagado 800 bolívares menos. ¿Cuánto costó la tienda?
24. Un colono compró dos caballos, pagando por ambos \$120. Si el caballo peor hubiera costado \$15 más, el mejor habría costado doble que él. ¿Cuánto costó cada caballo?
25.  $A$  y  $B$  empiezan a jugar con 80 quetzales cada uno. ¿Cuánto ha perdido  $A$  si  $B$  tiene ahora el triplo de lo que tiene  $A$ ?
26.  $A$  y  $B$  empiezan a jugar teniendo  $A$  doble dinero que  $B$ .  $A$  pierde \$400 y entonces  $B$  tiene el doble de lo que tiene  $A$ . ¿Con cuánto empezó a jugar cada uno?
27. Compré cuádruple número de caballos que de vacas. Si hubiera comprado 5 caballos más y 5 vacas más tendría triple número de caballos que de vacas. ¿Cuántos caballos y cuántas vacas compré?
28. En cada día, de lunes a jueves, gané \$6 más que lo que gané el día anterior. Si el jueves gané el cuádruple de lo que gané el lunes, ¿cuánto gané cada día?
29. Tenía cierta suma de dinero. Ahorré una suma igual a lo que tenía y gasté 50 soles; luego ahorré una suma igual al doble de lo que me quedaba y gasté 390 soles. Si ahora no tengo nada, ¿cuánto tenía al principio?
30. Una sala tiene doble largo que ancho. Si el largo se disminuye en 6 m y el ancho se aumenta en 4 m, la superficie de la sala no varía. Hallar las dimensiones de la sala.
31. Hace 5 años la edad de un padre era tres veces la de su hijo y dentro de 5 años será el doble. ¿Qué edades tienen ahora el padre y el hijo?
32. Dentro de 4 años la edad de  $A$  será el triplo de la de  $B$ , y hace 2 años era el quíntuplo. Hallar las edades actuales.



**HYPATIA (370-415 D. C.)** Una excepcional mujer griega, hija del filósofo y matemático Teón. Se hizo célebre por su saber, por su elocuencia y por su belleza. Nacida en Alejandría, viaja a Atenas donde realiza estudios; al regresar a Alejandría funda una

escuela donde enseña las doctrinas de Platón y Aristóteles y se pone al frente del pensamiento neoplatónico. Hypatia es uno de los últimos matemáticos griegos. Se distinguió por los comentarios a las obras de Apolonio y Diofanto. Murió asesinada bárbaramente.

## CAPÍTULO

### DESCOMPOSICION FACTORIAL

#### 131 FACTORES

Se llama **factores** o **divisores** de una expresión algebraica a las expresiones algebraicas que multiplicadas entre sí dan como producto la primera expresión.

Así, multiplicando  $a$  por  $a + b$  tenemos:

$$a(a + b) = a^2 + ab$$

$a$  y  $a + b$ , que multiplicadas entre sí dan como producto  $a^2 + ab$ , son factores o divisores de  $a^2 + ab$ .

Del propio modo.

$$(x + 2)(x + 3) = x^2 + 5x + 6$$

luego,  $x + 2$  y  $x + 3$  son factores de  $x^2 + 5x + 6$ .

**132 DESCOMPONER EN FACTORES O FACTORAR** una expresión algebraica es convertirla en el producto indicado de sus factores.

#### 133 FACTORAR UN MONOMIO

Los factores de un monomio se pueden hallar por simple inspección. Así, los factores de  $15ab$  son 3, 5,  $a$  y  $b$ . Por tanto:

$$15ab = 3 \cdot 5 \cdot a \cdot b.$$



## 134 FACTORAR UN POLINOMIO

No todo polinomio se puede descomponer en dos o más factores distintos de 1, pues del mismo modo que, en Aritmética, hay números primos que sólo son divisibles por ellos mismos y por 1, hay expresiones algebraicas que sólo son divisibles por ellas mismas y por 1, y que, por tanto, no son el producto de otras expresiones algebraicas. Así  $a + b$  no puede descomponerse en dos factores distintos de 1 porque sólo es divisible por  $a + b$  y por 1.

En este capítulo estudiaremos la manera de descomponer polinomios en dos o más factores distintos de 1.

## CASO I

## CUANDO TODOS LOS TERMINOS DE UN POLINOMIO TIENEN UN FACTOR COMUN

## a) Factor común monomio

1. Descomponer en factores
- $a^2 + 2a$
- .

$a^2$  y  $2a$  contienen el factor común  $a$ . Escribimos el factor común  $a$  como coeficiente de un paréntesis; dentro del paréntesis escribimos los cocientes de dividir  $a^2 \div a = a$  y  $2a \div a = 2$ , y tendremos  $a^2 + 2a = a(a + 2)$ . R.

2. Descomponer
- $10b - 30ab^2$
- .

Los coeficientes 10 y 30 tienen los factores comunes 2, 5 y 10. Tomamos 10 porque siempre se saca el mayor factor común. De las letras, el único factor común es  $b$  porque está en los dos términos de la expresión dada y la tomamos con su menor exponente  $b$ .

El factor común es  $10b$ . Lo escribimos como coeficiente de un paréntesis y dentro ponemos los cocientes de dividir  $10b \div 10b = 1$  y  $-30ab^2 \div 10b = -3ab$  y tendremos:  $10b - 30ab^2 = 10b(1 - 3ab)$ . R.

3. Descomponer
- $10a^2 - 5a + 15a^3$
- .

El factor común es  $5a$ . Tendremos:

$$10a^2 - 5a + 15a^3 = 5a(2a - 1 + 3a^2). \text{ R.}$$

4. Descomponer
- $18mxy^2 - 54m^2x^2y^2 + 36my^2$
- .

El factor común es  $18my^2$ . Tendremos:

$$18mxy^2 - 54m^2x^2y^2 + 36my^2 = 18my^2(x - 3mx^2 + 2). \text{ R.}$$

5. Factorar
- $6xy^3 - 9nx^2y^3 + 12nx^3y^3 - 3n^2x^4y^3$
- .

Factor común  $3xy^3$ .

$$6xy^3 - 9nx^2y^3 + 12nx^3y^3 - 3n^2x^4y^3 = 3xy^3(2 - 3nx + 4nx^2 - n^2x^3). \text{ R.}$$

## 135 PRUEBA GENERAL DE LOS FACTORES

En cualquiera de los diez casos que estudiaremos, la prueba consiste en multiplicar los factores que se obtienen, y su producto tiene que ser igual a la expresión que se factoró.

## EJERCICIO 89

Factorar o descomponer en dos factores:

- |                              |   |  |
|------------------------------|---|--|
| 1. $a^2 + ab$ .              | 16. $a^3 + a^2 + a$ .                                 | 29. $a^6 - 3a^4 + 8a^3 - 4a^2$ .                       |
| 2. $b + b^2$ .               | 17. $4x^2 - 8x + 2$ .                                 | 30. $25x^7 - 10x^5 + 15x^3 - 5x$ .                     |
| 3. $x^2 + x$ .               | 18. $15y^3 + 20y^2 - 5y$ .                            | 31. $x^{15} - x^{12} + 2x^9 - 3x^6$ .                  |
| 4. $3a^3 - a^2$ .            | 19. $a^3 - a^2x + ax^2$ .                             | 32. $9a^2 - 12ab + 15a^3b^2 - 24ab^3$ .                |
| 5. $x^3 - 4x^4$ .            | 20. $2a^2x + 2ax^2 - 3ax$ .                           | 33. $16x^5y^2 - 8x^2y - 24x^4y^3 - 40x^2y^3$ .         |
| 6. $5m^2 + 15m^3$ .          | 21. $x^3 + x^2 - x^7$ .                               | 34. $12m^2n + 24m^3n^2 - 36m^4n^3 + 48m^5n^4$ .        |
| 7. $ab - bc$ .               | 22. $14x^2y^2 - 28x^3 + 56x^4$ .                      | 35. $100a^2b^3c - 150ab^2c^2 + 50ab^3c^3 - 200abc^2$ . |
| 8. $x^2y + x^2z$ .           | 23. $34ax^2 + 51a^2y - 68ay^2$ .                      | 36. $x^5 - x^4 + x^3 - x^2 + x$ .                      |
| 9. $2a^2x + 6ax^2$ .         | 24. $96 - 48mn^2 + 144n^3$ .                          | 37. $a^2 - 2a^3 + 3a^4 - 4a^5 + 6a^6$ .                |
| 10. $8m^2 - 12mn$ .          | 25. $a^2b^2c^2 - a^2c^2x^2 + a^2c^2y^2 - 220m^2y^3$ . | 38. $3a^2b + 6ab - 5a^3b^2 + 8a^3bx + 4ab^2m$ .        |
| 11. $9a^3x^2 - 18ax^3$ .     | 26. $55m^2n^3x + 110m^2n^3x^2 - 220m^2y^3$ .          | 39. $a^{20} - a^{10} + a^{12} - a^6 + a^4 - a^3$ .     |
| 12. $15c^3d^2 + 60c^2d^3$ .  | 27. $93a^3x^2y - 62a^2x^3y^2 - 124a^2x$ .             |  |
| 13. $35m^2n^3 - 70m^3$ .     | 28. $x - x^2 + x^3 - x^4$ .                           |  |
| 14. $abc + abc^2$ .          |   |  |
| 15. $24a^2xy^2 - 36x^2y^4$ . |   |  |

## b) Factor común polinomio

1. Descomponer
- $x(a + b) + m(a + b)$
- .

Los dos términos de esta expresión tienen de factor común el binomio  $(a + b)$ .

Escribo  $(a + b)$  como coeficiente de un paréntesis y dentro del paréntesis escribo los cocientes de dividir los dos términos de la expresión dada entre el factor común  $(a + b)$ , o sea:

$$\frac{x(a + b)}{(a + b)} = x \quad \text{y} \quad \frac{m(a + b)}{(a + b)} = m \quad \text{y tendremos:}$$

$$x(a + b) + m(a + b) = (a + b)(x + m). \text{ R.}$$

2. Descomponer
- $2x(a - 1) - y(a - 1)$
- .

Factor común  $(a - 1)$ . Dividiendo los dos términos de la expresión dada entre el factor común  $(a - 1)$ , tenemos:

$$\frac{2x(a - 1)}{(a - 1)} = 2x \quad \text{y} \quad \frac{-y(a - 1)}{(a - 1)} = -y.$$

$$\text{Tendremos: } 2x(a - 1) - y(a - 1) = (a - 1)(2x - y). \text{ R.}$$



3. Descomponer  $m(x+2)+x+2$ .

Esta expresión podemos escribirla:  $m(x+2)+(x+2)=m(x+2)+1(x+2)$ .

Factor común  $(x+2)$ . Tendremos:

$$m(x+2)+1(x+2)=(x+2)(m+1). \quad R.$$

4. Descomponer  $a(x+1)-x-1$ .

Introduciendo los dos últimos términos en un paréntesis precedido del signo  $-$  se tiene:

$$a(x+1)-x-1=a(x+1)-(x+1)=a(x+1)-1(x+1)=(x+1)(a-1). \quad R.$$

5. Factorar  $2x(x+y+z)-x-y-z$ .

Tendremos:

$$2x(x+y+z)-x-y-z=2x(x+y+z)-(x+y+z)=(x+y+z)(2x-1). \quad R.$$

6. Factorar  $(x-a)(y+2)+b(y+2)$ .

Factor común  $(y+2)$ . Dividiendo los dos términos de la expresión dada entre  $(y+2)$  tenemos:

$$\frac{(x-a)(y+2)}{(y+2)}=x-a \quad y \quad \frac{b(y+2)}{(y+2)}=b; \text{ luego:}$$

$$(x-a)(y+2)+b(y+2)=(y+2)(x-a+b). \quad R.$$

7. Descomponer  $(x+2)(x-1)-(x-1)(x-3)$ .

Dividiendo entre el factor común  $(x-1)$  tenemos:

$$\frac{(x+2)(x-1)}{(x-1)}=(x+2) \quad y \quad \frac{-(x-1)(x-3)}{(x-1)}=-(x-3).$$

Por tanto:

$$(x+2)(x-1)-(x-1)(x-3)=(x-1)[(x+2)-(x-3)]$$

$$=(x-1)(x+2-x+3)=(x-1)(5)=5(x-1). \quad R.$$

8. Factorar  $x(a-1)+y(a-1)-a+1$ .

$$x(a-1)+y(a-1)-a+1=x(a-1)+y(a-1)-(a-1)=(a-1)(x+y-1). \quad R.$$

## EJERCICIO 90

Factorar o descomponer en dos factores:

- |                        |                        |                                 |
|------------------------|------------------------|---------------------------------|
| 1. $a(x+1)+b(x+1)$ .   | 7. $x(a+1)-a-1$ .      | 13. $a^3(a-b+1)-b^2(a-b+1)$ .   |
| 2. $x(a+1)-3(a+1)$ .   | 8. $a^2+1-b(a^2+1)$ .  | 14. $4m(a^2+x-1)+3n(x-1+a^2)$ . |
| 3. $2(x-1)+y(x-1)$ .   | 9. $3x(x-2)-2y(x-2)$ . | 15. $x(2a+b+c)-2a-b-c$ .        |
| 4. $m(a-b)+(a-b)n$ .   | 10. $1-x+2a(1-x)$ .    | 16. $(x+y)(n+1)-3(n+1)$ .       |
| 5. $2x(n-1)-3y(n-1)$ . | 11. $4x(m-n)+n-m$ .    | 17. $(x+1)(x-2)+3y(x-2)$ .      |
| 6. $a(n+2)+n+2$ .      | 12. $-m-n+x(m+n)$ .    | 18. $(a+3)(a+1)-4(a+1)$ .       |

19.  $(x^2+2)(m-n)+2(m-n)$ .

20.  $a(x-1)-(a+2)(x-1)$ .

21.  $5x(a^2+1)+(x+1)(a^2+1)$ .

22.  $(a+b)(a-b)-(a-b)(a-b)$ .

23.  $(m+n)(a-2)+(m-n)(a-2)$ .

24.  $(x+m)(x+1)-(x+1)(x-n)$ .

25.  $(x-3)(x-4)+(x-3)(x+4)$ .

26.  $(a+b-1)(a^2+1)-a^2-1$ .

27.  $(a+b-c)(x-3)-(b-c-a)(x-3)$ .

28.  $3x(x-1)-2y(x-1)+z(x-1)$ .

29.  $a(n+1)-b(n+1)-n-1$ .

30.  $x(a+2)-a-2+3(a+2)$ .

31.  $(1+3a)(x+1)-2a(x+1)+3(x+1)$ .

32.  $(3x+2)(x+y-z)-(3x+2)$   
 $-(x+y-1)(3x+2)$ .

## CASO II

## FACTOR COMUN POR AGRUPACION DE TERMINOS

## Ejemplos

(1) Descomponer  $ax+bx+ay+by$ .

Los dos primeros términos tienen el factor común  $x$  y los dos últimos el factor común  $y$ . Agrupamos los dos primeros términos en un paréntesis y los dos últimos en otro precedido del signo  $+$  porque el tercer término tiene el signo  $+$  y tendremos:

$$ax+bx+ay+by=(ax+bx)+(ay+by)$$

$$=x(a+b)+y(a+b)$$

$$=(a+b)(x+y). \quad R.$$

La agrupación puede hacerse generalmente de más de un modo con tal que los dos términos que se agrupan tengan algún factor común, y siempre que las cantidades que quedan dentro de los paréntesis después de sacar el factor común en cada grupo, sean exactamente iguales. Si esto no es posible la expresión dada no se puede descomponer por este método.

Así en el ejemplo anterior podemos agrupar el 1º y 3er. términos que tienen el factor común  $a$  y el 2º y 4º que tienen el factor común  $b$  y tendremos:

$$ax+bx+ay+by=(ax+ay)+(bx+by)$$

$$=a(x+y)+b(x+y)$$

$$=(x+y)(a+b). \quad R.$$

resultado idéntico al anterior, ya que el orden de los factores es indiferente.

(2) Factorar  $3m^2-6mn+4m-8n$ .

Los dos primeros términos tienen el factor común  $3m$  y los dos últimos el factor común 4. Agrupando, tenemos:

$$3m^2-6mn+4m-8n=(3m^2-6mn)+(4m-8n)$$

$$=3m(m-2n)+4(m-2n)$$

$$=(m-2n)(3m+4). \quad R.$$

(3) Descomponer  $2x^2-3xy-4x+6y$ .

Los dos primeros términos tienen el factor común  $x$  y los dos últimos el factor común 2, luego los agrupamos pero introducimos los dos últimos términos en un paréntesis precedido del signo  $-$  porque el signo del 3er. término es  $-$ , para lo cual hay que cambiarles el signo y tendremos:

$$2x^2-3xy-4x+6y=(2x^2-3xy)-(4x-6y)$$

$$=x(2x-3y)-2(2x-3y)$$

$$=(2x-3y)(x-2). \quad R.$$



También podíamos haber agrupado el 1° y 3° que tienen el factor común  $2x$ , y el 2° y 4° que tienen el factor común  $3y$  y tendríamos:

- (4) Descomponer  $x + z^2 - 2ax - 2az^2$ .

Agrupando 1° y 3°, 2° y 4°, tenemos:

- (5) Factorar  $3ax - 3x + 4y - 4ay$ .

Obsérvese que en la segunda línea del ejemplo anterior los binomios  $(a-1)$  y  $(1-a)$  tienen los signos distintos: para hacerlos iguales cambiamos los signos al binomio  $(1-a)$  convirtiéndolo en  $(a-1)$ , pero para que el producto  $4y(1-a)$  no variara de signo le cambiamos el signo al otro factor  $4y$  convirtiéndolo en  $-4y$ . De este modo, como hemos cambiado los signos a un número par de factores, el signo del producto no varía.

En el ejemplo anterior, agrupando 1° y 4°, y 2° y 3°, tenemos:

- (6) Factorar  $ax - ay + az + x - y + z$ .

- (7) Descomponer  $a^2x - ax^2 - 2a^2y + 2axy + x^3 - 2x^2y$ .

Agrupando 1° y 3°, 2° y 4°, 5° y 6°, tenemos:

$$\begin{aligned} a^2x - ax^2 - 2a^2y + 2axy + x^3 - 2x^2y &= (a^2x - 2a^2y) - (ax^2 - 2axy) + (x^3 - 2x^2y) \\ &= a^2(x - 2y) - ax(x - 2y) + x^2(x - 2y) \\ &= (x - 2y)(a^2 - ax + x^2). \quad R. \end{aligned}$$

Agrupando de otro modo:

$$\begin{aligned} a^2x - ax^2 - 2a^2y + 2axy + x^3 - 2x^2y &= (a^2x - ax^2 + x^3) - (2a^2y - 2axy + 2x^2y) \\ &= x(a^2 - ax + x^2) - 2y(a^2 - ax + x^2) \\ &= (a^2 - ax + x^2)(x - 2y). \quad R. \end{aligned}$$

## ● EJERCICIO 91

Factorar o descomponer en dos factores:

- |                                    |                                     |  |
|------------------------------------|-------------------------------------|--|
| $a^2 + ab + ax + bx.$              | 7. $4a^3 - 1 - a^2 + 4a.$           | 13. $3x^3 - 9ax^2 - x + 3a.$           |
| $am - bm + an - bn.$               | 8. $x + x^2 - xy^2 - y^2.$          | 14. $2a^2x - 5a^2y + 15by - 6bx.$      |
| $ax - 2bx - 2ay + 4by.$            | 9. $3abx^2 - 2y^2 - 2x^2 + 3aby^2.$ | 15. $2x^2y + 2xz^2 + y^2z^2 + xy^2.$   |
| $a^2x^2 - 3bx^2 + a^2y^2 - 3by^2.$ | 10. $3a - b^2 + 2b^2x - 6ax.$       | 16. $6m - 9n + 21nx - 14mx.$           |
| $3m - 2n - 2nx^4 + 3mx^4.$         | 11. $4a^3x - 4a^2b + 3bm - 3amx.$   | 17. $n^2x - 5a^2y^2 - n^2y^2 + 5a^2x.$ |
| $x^2 - a^2 + x - a^2x.$            | 12. $6ax + 3a + 1 + 2x.$            | 18. $1 + a + 3ab + 3b.$                |

- |                                   |   |
|-----------------------------------|---|
| 19. $4am^3 - 12amn - m^2 + 3n.$   | 25. $3ax - 2by - 2bx - 6a + 3ay + 4b.$                      |
| 20. $20ax - 5bx - 2by + 8ay.$     | 26. $a^3 + a + a^2 + 1 + x^2 + a^2x^2.$                     |
| 21. $3 - x^2 + 2abx^2 - 6ab.$     | 27. $3a^3 - 3a^2b + 9ab^2 - a^2 + ab - 3b^2.$               |
| 22. $a^3 + a^2 + a + 1.$          | 28. $2x^3 - nx^2 + 2xz^2 - nz^2 - 3ny^2 + 6xy^2.$           |
| 23. $3a^2 - 7b^2x + 3ax - 7ab^2.$ | 29. $3x^3 + 2axy + 2ay^2 - 3xy^2 - 2ax^2 - 3x^2y.$          |
| 24. $2am - 2an + 2a - m + n - 1.$ | 30. $a^2b^3 - n^4 + a^2b^3x^2 - n^4x^2 - 3a^2b^3x + 3n^4x.$ |

## CASO III

### TRINOMIO CUADRADO PERFECTO

- (136) Una cantidad es **cuadrado perfecto** cuando es el cuadrado de otra cantidad, o sea, cuando es el producto de dos factores iguales.

Así,  $4a^2$  es cuadrado perfecto porque es el cuadrado de  $2a$ .

En efecto:  $(2a)^2 = 2a \times 2a = 4a^2$  y  $2a$ , que multiplicada por sí misma da  $4a^2$ , es la **raíz cuadrada** de  $4a^2$ .

Obsérvese que  $(-2a)^2 = (-2a) \times (-2a) = 4a^2$ ; luego,  $-2a$  es también la raíz cuadrada de  $4a^2$ .

Lo anterior nos dice que **la raíz cuadrada de una cantidad positiva tiene dos signos,  $+$  y  $-$ .**

En este capítulo nos referimos sólo a la raíz positiva.

- (137) **RAÍZ CUADRADA DE UN MONOMIO**

Para extraer la raíz cuadrada de un monomio se extrae la raíz cuadrada de su coeficiente y se divide el exponente de cada letra por 2.

Así, la raíz cuadrada de  $9a^2b^4$  es  $3ab^2$  porque  $(3ab^2)^2 = 3ab^2 \times 3ab^2 = 9a^2b^4$ .

La raíz cuadrada de  $36x^6y^8$  es  $6x^3y^4$ .

- (138) Un **trinomio** es **cuadrado perfecto** cuando es el cuadrado de un binomio, o sea, el producto de dos binomios iguales.

Así,  $a^2 + 2ab + b^2$  es cuadrado perfecto porque es el cuadrado de  $a + b$ .

En efecto:  $(a + b)^2 = (a + b)(a + b) = a^2 + 2ab + b^2$ .

Del propio modo,  $(2x + 3y)^2 = 4x^2 + 12xy + 9y^2$  luego  $4x^2 + 12xy + 9y^2$  es un **trinomio cuadrado perfecto**.

- (139) **REGLA PARA CONOCER SI UN TRINOMIO ES CUADRADO PERFECTO**

Un trinomio ordenado con relación a una letra es cuadrado perfecto cuando el primero y tercero términos son cuadrados perfectos (o tienen raíz cuadrada exacta) y positivos, y el segundo término es el doble producto de sus raíces cuadradas.



Así,  $a^2 - 4ab + 4b^2$  es cuadrado perfecto porque:

Raíz cuadrada de  $a^2$  . . . . .  $a$

Raíz cuadrada de  $4b^2$  . . . . .  $2b$

Doble producto de estas raíces:  $2 \times a \times 2b = 4ab$ , segundo término.

$36x^2 - 18xy^4 + 4y^8$  no es cuadrado perfecto porque:

Raíz cuadrada de  $36x^2$  . . . . .  $6x$

Raíz cuadrada de  $4y^8$  . . . . .  $2y^4$

Doble producto de estas raíces:  $2 \times 6x \times 2y^4 = 24xy^4$ , que no es el 2º término.

#### 140 REGLA PARA FACTORAR UN TRINOMIO CUADRADO PERFECTO

Se extrae la raíz cuadrada al primero y tercer términos del trinomio y se separan estas raíces por el signo del segundo término. El binomio así formado, que es la raíz cuadrada del trinomio, se multiplica por sí mismo o se eleva al cuadrado.

#### Ejemplos

(1) Factorar  $m^2 + 2m + 1$ .

$$m^2 + 2m + 1 = (m + 1)(m + 1) = (m + 1)^2. \quad R.$$

(2) Descomponer  $4x^2 + 25y^2 - 20xy$ .

Ordenando el trinomio, tenemos:

$$4x^2 - 20xy + 25y^2 = (2x - 5y)(2x - 5y) = (2x - 5y)^2. \quad R.$$

#### IMPORTANTE

Cualquiera de las dos raíces puede ponerse de minuendo. Así, en el ejemplo anterior se tendrá también:

$$4x^2 - 20xy + 25y^2 = (5y - 2x)(5y - 2x) = (5y - 2x)^2$$

porque desarrollando este binomio se tiene:

$$(5y - 2x)^2 = 25y^2 - 20xy + 4x^2$$

expresión idéntica a  $4x^2 - 20xy + 25y^2$  ya que tiene las mismas cantidades con los mismos signos.

(3) Descomponer  $1 - 16ax^2 + 64a^2x^4$ .

$$1 - 16ax^2 + 64a^2x^4 = (1 - 8ax^2)^2 = (8ax^2 - 1)^2. \quad R.$$

(4) Factorar  $x^2 + bx + \frac{b^2}{4}$ .

Este trinomio es cuadrado perfecto porque: Raíz cuadrada de  $x^2 = x$ ; raíz cuadrada de  $\frac{b^2}{4} = \frac{b}{2}$  y el doble producto de estas raíces:  $2 \times x \times \frac{b}{2} = bx$ .

$$\text{luego: } x^2 + bx + \frac{b^2}{4} = \left(x + \frac{b}{2}\right)^2. \quad R.$$

(5) Factorar  $\frac{1}{4} - \frac{b}{3} + \frac{b^2}{9}$ .

Es cuadrado perfecto porque: Raíz cuadrada de  $\frac{1}{4} = \frac{1}{2}$ ; raíz cuadrada de

$$\frac{b^2}{9} = \frac{b}{3} \text{ y } 2 \times \frac{1}{2} \times \frac{b}{3} = \frac{b}{3} \text{ luego:}$$

$$\frac{1}{4} - \frac{b}{3} + \frac{b^2}{9} = \left(\frac{1}{2} - \frac{b}{3}\right)^2 = \left(\frac{3}{6} - \frac{2b}{6}\right)^2$$

#### CASO ESPECIAL

(6) Descomponer  $a^2 + 2a(a - b) + (a - b)^2$ .

La regla anterior puede aplicarse a casos en que el primero o tercer término del trinomio o ambos son expresiones compuestas.

Así, en este caso se tiene:

$$a^2 + 2a(a - b) + (a - b)^2 = [a + (a - b)]^2 = [a + a - b]^2 = (2a - b)^2. \quad R.$$

(7) Factorar  $(x + y)^2 - 2(x + y)(a + x) + (a + x)^2$ .

$$\begin{aligned} (x + y)^2 - 2(x + y)(a + x) + (a + x)^2 &= [(x + y) - (a + x)]^2 \\ &= (x + y - a - x)^2 \\ &= (y - a)^2 = (a - y)^2. \quad R. \end{aligned}$$

#### EJERCICIO 92

Factorar o descomponer en dos factores:

- |                               |  |   |
|-------------------------------|--|---|
| 1. $a^2 - 2ab + b^2$ .        | 15. $1 + 14x^2y + 49x^4y^2$ .                | 28. $\frac{1}{25} + \frac{25x^4}{36} - \frac{x^2}{3}$ . |
| 2. $a^2 + 2ab + b^2$ .        | 16. $1 + a^{10} - 2a^5$ .                    | 29. $16x^6 - 2x^2y^2 + \frac{y^4}{16}$ .                |
| 3. $x^2 - 2x + 1$ .           | 17. $49m^6 - 70am^3n^2 + 25a^2n^4$ .         | 30. $\frac{n^2}{9} + 2mn + 9m^2$ .                      |
| 4. $y^4 + 1 + 2y^2$ .         | 18. $100x^{10} - 60a^4x^3y^6 + 9a^8y^{12}$ . | 31. $a^2 + 2a(a + b) + (a + b)^2$ .                     |
| 5. $a^2 - 10a + 25$ .         | 19. $121 + 198x^6 + 81x^{12}$ .              | 32. $4 - 4(1 - a) + (1 - a)^2$ .                        |
| 6. $9 - 6x + x^2$ .           | 20. $a^2 - 24am^2x^2 + 144m^4x^4$ .          | 33. $4m^2 - 4m(n - m) + (n - m)^2$ .                    |
| 7. $16 + 40x^2 + 25x^4$ .     | 21. $16 - 104x^2 + 169x^4$ .                 | 34. $(m - n)^2 + 6(m - n) + 9$ .                        |
| 8. $1 + 49a^2 - 14a$ .        | 22. $400x^{10} + 40x^6 + 1$ .                | 35. $(a + x)^2 - 2(a + x)(x + y) + (x + y)^2$ .         |
| 9. $36 + 12m^2 + m^4$ .       | 23. $\frac{a^2}{4} - ab + b^2$ .             | 36. $(m + n)^2 - 2(a - m)(m + n) + (a - m)^2$ .         |
| 10. $1 - 2a^3 + a^6$ .        | 24. $1 + \frac{2b}{3} + \frac{b^2}{9}$ .     | 37. $4(1 + a)^2 - 4(1 + a)(b - 1) + (b - 1)^2$ .        |
| 11. $a^3 + 18a^4 + 81$ .      | 25. $a^4 - a^2b^2 + \frac{b^4}{4}$ .         | 38. $9(x - y)^2 + 12(x - y)(x + y) + 4(x + y)^2$ .      |
| 12. $a^6 - 2a^3b^3 + b^6$ .   |  |   |
| 13. $4x^2 - 12xy + 9y^2$ .    |  |   |
| 14. $9b^2 - 30a^2b + 25a^4$ . |  |   |



## CASO IV

## DIFERENCIA DE CUADRADOS PERFECTOS

**141** En los productos notables (89) se vio que la suma de dos cantidades multiplicadas por su diferencia es igual al cuadrado del minuendo menos el cuadrado del sustraendo, o sea,  $(a + b)(a - b) = a^2 - b^2$ ; luego, recíprocamente,

$$a^2 - b^2 = (a + b)(a - b).$$

Podemos, pues, enunciar la siguiente:

**142** **REGLA PARA FACTORAR UNA DIFERENCIA DE CUADRADOS**

Se extrae la raíz cuadrada al minuendo y al sustraendo y se multiplica la suma de estas raíces cuadradas por la diferencia entre la raíz del minuendo y la del sustraendo.

(1) Factorar  $1 - a^2$ .

La raíz cuadrada de 1 es 1; la raíz cuadrada de  $a^2$  es  $a$ . Multiplico la suma de estas raíces  $(1 + a)$  por la diferencia  $(1 - a)$  y tendremos:

$$1 - a^2 = (1 + a)(1 - a). \text{ R.}$$

(2) Descomponer  $16x^2 - 25y^4$ .

La raíz cuadrada de  $16x^2$  es  $4x$ ; la raíz cuadrada de  $25y^4$  es  $5y^2$ . Multiplico la suma de estas raíces  $(4x + 5y^2)$  por su diferencia  $(4x - 5y^2)$  y tendremos:

$$16x^2 - 25y^4 = (4x + 5y^2)(4x - 5y^2). \text{ R.}$$

(3) Factorar  $49x^2y^6z^{10} - a^{12}$ .

$$49x^2y^6z^{10} - a^{12} = (7xy^3z^5 + a^6)(7xy^3z^5 - a^6). \text{ R.}$$

(4) Decomponer  $\frac{a^2}{4} - \frac{b^4}{9}$ .

La raíz cuadrada de  $\frac{a^2}{4}$  es  $\frac{a}{2}$  y la raíz cuadrada de  $\frac{b^4}{9}$  es  $\frac{b^2}{3}$ . Tendremos:

$$\frac{a^2}{4} - \frac{b^4}{9} = \left(\frac{a}{2} + \frac{b^2}{3}\right)\left(\frac{a}{2} - \frac{b^2}{3}\right). \text{ R.}$$

(5) Factorar  $a^{2n} - 9b^{4m}$ .

$$a^{2n} - 9b^{4m} = (a^n + 3b^{2m})(a^n - 3b^{2m}). \text{ R.}$$

## EJERCICIO 93

Factorar o descomponer en dos factores:

- |                  |                      |                                  |
|------------------|----------------------|----------------------------------|
| 1. $x^2 - y^2$ . | 8. $1 - y^2$ .       | 15. $a^{10} - 49b^{12}$ .        |
| 2. $a^2 - 1$ .   | 9. $4a^2 - 9$ .      | 16. $25x^2y^4 - 121$ .           |
| 3. $a^2 - 4$ .   | 10. $25 - 36x^4$ .   | 17. $100m^2n^4 - 169y^6$ .       |
| 4. $9 - b^2$ .   | 11. $1 - 49a^2b^2$ . | 18. $a^2m^4n^6 - 144$ .          |
| 5. $1 - 4m^2$ .  | 12. $4x^2 - 81y^4$ . | 19. $196x^2y^4 - 225z^{12}$ .    |
| 6. $16 - n^2$ .  | 13. $a^2b^6 - c^2$ . | 20. $256a^{12} - 289b^4m^{10}$ . |
| 7. $a^2 - 25$ .  | 14. $100 - x^2y^6$ . | 21. $1 - 9a^2b^4c^6d^8$ .        |

22.  $361x^{14} - 1$ .

27.  $\frac{x^2}{100} - \frac{y^2z^4}{81}$ .

32.  $a^{4n} - 225b^4$ .

23.  $\frac{1}{4} - 9a^2$ .

28.  $\frac{x^6}{49} - \frac{4a^{10}}{121}$ .

33.  $16x^{6m} - \frac{y^{26}}{49}$ .

24.  $1 - \frac{a^2}{25}$ .

29.  $100m^2n^4 - \frac{1}{16}x^8$ .

34.  $49a^{10n} - \frac{b^{124}}{81}$ .

25.  $\frac{1}{16} - \frac{4x^2}{49}$ .

30.  $a^{2n} - b^{2n}$ .

35.  $a^{2n}b^{4n} - \frac{1}{25}$ .

26.  $\frac{a^2}{36} - \frac{x^6}{25}$ .

31.  $4x^{2n} - \frac{1}{9}$ .

36.  $\frac{1}{100} - x^{2n}$ .

## CASO ESPECIAL

1. Factorar  $(a + b)^2 - c^2$ .

La regla empleada en los ejemplos anteriores es aplicable a las diferencias de cuadrados en que uno o ambos cuadrados son expresiones compuestas.

Así, en este caso, tenemos:

La raíz cuadrada de  $(a + b)^2$  es  $(a + b)$ .

La raíz cuadrada de  $c^2$  es  $c$ .

Multiplico la suma de estas raíces  $(a + b) + c$  por la diferencia  $(a + b) - c$  y tengo:

$$(a + b)^2 - c^2 = [(a + b) + c][(a + b) - c] = (a + b + c)(a + b - c). \text{ R.}$$

2. Descomponer  $4x^2 - (x + y)^2$ .

La raíz cuadrada de  $4x^2$  es  $2x$ .

La raíz cuadrada de  $(x + y)^2$  es  $(x + y)$ .

Multiplico la suma de estas raíces  $2x + (x + y)$  por la diferencia  $2x - (x + y)$  y tenemos:

$$4x^2 - (x + y)^2 = [2x + (x + y)][2x - (x + y)] = (2x + x + y)(2x - x - y) = (3x + y)(x - y). \text{ R.}$$

3. Factorar  $(a + x)^2 - (x + 2)^2$ .

La raíz cuadrada de  $(a + x)^2$  es  $(a + x)$ .

La raíz cuadrada de  $(x + 2)^2$  es  $(x + 2)$ .

Multiplico la suma  $(a + x) + (x + 2)$  por la diferencia  $(a + x) - (x + 2)$  y tengo:

$$(a + x)^2 - (x + 2)^2 = [(a + x) + (x + 2)][(a + x) - (x + 2)] = (a + x + x + 2)(a + x - x - 2) = (a + 2x + 2)(a - 2). \text{ R.}$$



## EJERCICIO 94

Descomponer en dos factores y simplificar, si es posible:

- |                           |                               |                                |
|---------------------------|-------------------------------|--------------------------------|
| 1. $(x+y)^2 - a^2$ .      | 13. $(a-2b)^2 - (x+y)^2$ .    | 25. $(2a+b-c)^2 - (a+b)^2$ .   |
| 2. $4 - (a+1)^2$ .        | 14. $(2a-c)^2 - (a+c)^2$ .    | 26. $100 - (x-y+z)^2$ .        |
| 3. $9 - (m+n)^2$ .        | 15. $(x+1)^2 - 4x^2$ .        | 27. $x^2 - (y-x)^2$ .          |
| 4. $(m-n)^2 - 16$ .       | 16. $36x^2 - (a+3x)^2$ .      | 28. $(2x+3)^2 - (5x-1)^2$ .    |
| 5. $(x-y)^2 - 4z^2$ .     | 17. $a^6 - (a-1)^2$ .         | 29. $(x-y+z)^2 - (y-z+2x)^2$ . |
| 6. $(a+2b)^2 - 1$ .       | 18. $(a-1)^2 - (m-2)^2$ .     | 30. $(2x+1)^2 - (x+4)^2$ .     |
| 7. $1 - (x-2y)^2$ .       | 19. $(2x-3)^2 - (x-5)^2$ .    | 31. $(a+2x+1)^2 - (x+a-1)^2$ . |
| 8. $(x+2a)^2 - 4x^2$ .    | 20. $1 - (5a+2x)^2$ .         | 32. $4(x+a)^2 - 49y^2$ .       |
| 9. $(a+b)^2 - (c+d)^2$ .  | 21. $(7x+y)^2 - 81$ .         | 33. $25(x-y)^2 - 4(x+y)^2$ .   |
| 10. $(a-b)^2 - (c-d)^2$ . | 22. $m^6 - (m^2-1)^2$ .       | 34. $36(m+n)^2 - 121(m-n)^2$ . |
| 11. $(x+1)^2 - 16x^2$ .   | 23. $16a^{10} - (2a^2+3)^2$ . |                                |
| 12. $64m^2 - (m-2n)^2$ .  | 24. $(x-y)^2 - (c+d)^2$ .     |                                |

## CASOS ESPECIALES

## COMBINACION DE LOS CASOS III Y IV

**143** Estudiamos a continuación la descomposición de expresiones compuestas en las cuales mediante un arreglo conveniente de sus términos se obtiene uno o dos trinomios cuadrados perfectos y descomponiendo estos trinomios (Caso III) se obtiene una diferencia de cuadrados (Caso IV).

1. Factorar  $a^2 + 2ab + b^2 - 1$ .

Aquí tenemos que  $a^2 + 2ab + b^2$  es un trinomio cuadrado perfecto; luego:

$$a^2 + 2ab + b^2 - 1 = (a^2 + 2ab + b^2) - 1$$

$$(\text{factorando el trinomio}) = (a+b)^2 - 1$$

$$(\text{factorando la diferencia de cuadrados}) = (a+b+1)(a+b-1). \quad R.$$

2. Descomponer  $a^2 + m^2 - 4b^2 - 2am$ .

Ordenando esta expresión, podemos escribirla:  $a^2 - 2am + m^2 - 4b^2$ , y vemos que  $a^2 - 2am + m^2$  es un trinomio cuadrado perfecto; luego:

$$a^2 - 2am + m^2 - 4b^2 = (a^2 - 2am + m^2) - 4b^2$$

$$(\text{factorando el trinomio}) = (a-m)^2 - 4b^2$$

$$(\text{factorando la diferencia de cuadrados}) = (a-m+2b)(a-m-2b). \quad R.$$

3. Factorar  $9a^2 - x^2 + 2x - 1$ .

Introduciendo los tres últimos términos en un paréntesis precedido del signo  $-$  para que  $x^2$  y  $1$  se hagan positivos, tendremos:

$$9a^2 - x^2 + 2x - 1 = 9a^2 - (x^2 - 2x + 1)$$

$$(\text{factorando el trinomio}) = 9a^2 - (x-1)^2$$

$$(\text{factorando la diferencia de cuadrados}) = [3a + (x-1)][3a - (x-1)] \\ = (3a+x-1)(3a-x+1). \quad R.$$

4. Descomponer  $4x^2 - a^2 + y^2 - 4xy + 2ab - b^2$ .

El término  $4xy$  nos sugiere que es el segundo término de un trinomio cuadrado perfecto cuyo primer término tiene  $x^2$  y cuyo tercer término tiene  $y^2$  y el término  $2ab$  nos sugiere que es el segundo término de un trinomio cuadrado perfecto cuyo primer término tiene  $a^2$  y cuyo tercer término tiene  $b^2$ ; pero como  $-a^2$  y  $-b^2$  son negativos, tenemos que introducir este último trinomio en un paréntesis precedido del signo  $-$  para hacerlos positivos, y tendremos:

$$4x^2 - a^2 + y^2 - 4xy + 2ab - b^2 = (4x^2 - 4xy + y^2) - (a^2 - 2ab + b^2)$$

$$(\text{factorando los trinomios}) = (2x-y)^2 - (a-b)^2$$

$$(\text{descomp. la diferencia de cuadrados}) = [(2x-y) + (a-b)][(2x-y) - (a-b)] \\ = (2x-y+a-b)(2x-y-a+b). \quad R.$$

5. Factorar  $a^2 - 9n^2 - 6mn + 10ab + 25b^2 - m^2$ .

El término  $10ab$  nos sugiere que es el segundo término de un trinomio cuadrado perfecto cuyo primer término tiene  $a^2$  y cuyo tercer término tiene  $b^2$ , y  $6mn$  nos sugiere que es el 2º término de un trinomio cuadrado perfecto cuyo primer término tiene  $m^2$  y cuyo tercer término tiene  $n^2$ ; luego, tendremos:

$$a^2 - 9n^2 - 6mn + 10ab + 25b^2 - m^2 = (a^2 + 10ab + 25b^2) - (m^2 + 6mn + 9n^2)$$

$$(\text{descomponiendo los trinomios}) = (a+5b)^2 - (m+3n)^2$$

$$(\text{descomp. la diferencia de cuadrados}) = [(a+5b) + (m+3n)][(a+5b) - (m+3n)] \\ = (a+5b+m+3n)(a+5b-m-3n). \quad R.$$

## EJERCICIO 95

Factorar o descomponer en dos factores:

- |                                   |   |
|-----------------------------------|---|
| 1. $a^2 + 2ab + b^2 - x^2$ .      | 20. $25 - x^2 - 16y^2 + 8xy$ .                    |
| 2. $x^2 - 2xy + y^2 - m^2$ .      | 21. $9x^2 - a^2 - 4m^2 + 4am$ .                   |
| 3. $m^2 + 2mn + n^2 - 1$ .        | 22. $16x^2y^2 + 12ab - 4a^2 - 9b^2$ .             |
| 4. $a^2 - 2a + 1 - b^2$ .         | 23. $-a^2 + 25m^2 - 1 - 2a$ .                     |
| 5. $n^2 + 6n + 9 - c^2$ .         | 24. $49x^4 - 25x^2 - 9y^2 + 30xy$ .               |
| 6. $a^2 + x^2 + 2ax - 4$ .        | 25. $a^2 - 2ab + b^2 - c^2 - 2cd - d^2$ .         |
| 7. $a^2 + 4 - 4a - 9b^2$ .        | 26. $x^2 + 2xy + y^2 - m^2 + 2mn - n^2$ .         |
| 8. $x^2 + 4y^2 - 4xy - 1$ .       | 27. $a^2 + 4b^2 + 4ab - x^2 - 2ax - a^2$ .        |
| 9. $a^2 - 6ay + 9y^2 - 4x^2$ .    | 28. $x^2 + 4a^2 - 4ax - y^2 - 9b^2 + 6by$ .       |
| 10. $4x^2 + 25y^2 - 36 + 20xy$ .  | 29. $m^2 - x^2 + 9n^2 + 6mn - 4ax - 4a^2$ .       |
| 11. $9x^2 - 1 + 16a^2 - 24ax$ .   | 30. $9x^2 + 4y^2 - a^2 - 12xy - 25b^2 - 10ab$ .   |
| 12. $1 + 64a^2b^2 - x^4 - 16ab$ . | 31. $2am - x^2 - 9 + a^2 + m^2 - 6x$ .            |
| 13. $a^2 - b^2 - 2bc - c^2$ .     | 32. $x^2 - 9a^4 + 6a^2b + 1 + 2x - b^2$ .         |
| 14. $1 - a^2 + 2ax - x^2$ .       | 33. $16a^2 - 1 - 10m + 9x^2 - 24ax - 25m^2$ .     |
| 15. $m^2 - x^2 - 2xy - y^2$ .     | 34. $9m^2 - a^2 + 2acd - c^2d^2 + 100 - 60m$ .    |
| 16. $c^2 - a^2 + 2a - 1$ .        | 35. $4a^2 - 9x^2 + 49b^2 - 30xy - 25y^2 - 28ab$ . |
| 17. $9 - n^2 - 25 - 10n$ .        | 36. $225a^2 - 169b^2 + 1 + 30a + 26bc - c^2$ .    |
| 18. $4a^2 - x^2 + 4x - 4$ .       | 37. $x^2 - y^2 + 4 + 4x - 1 - 2y$ .               |
| 19. $1 - a^2 - 9n^2 - 6an$ .      | 38. $a^2 - 16 - x^2 + 36 + 12a - 8x$ .            |



## CASO V

## TRINOMIO CUADRADO PERFECTO POR ADICION Y SUSTRACCION

1. Factorar  $x^4 + x^2y^2 + y^4$ .

Veamos si este trinomio es cuadrado perfecto. La raíz cuadrada de  $x^4$  es  $x^2$ ; la raíz cuadrada de  $y^4$  es  $y^2$  y el doble producto de estas raíces es  $2x^2y^2$ ; luego, este trinomio no es cuadrado perfecto.

Para que sea cuadrado perfecto hay que lograr que el 2º término  $x^2y^2$  se convierta en  $2x^2y^2$ , lo cual se consigue sumándole  $x^2y^2$ , pero para que el trinomio no varíe hay que restarle la misma cantidad que se suma,  $x^2y^2$ , y tendremos:

$$\begin{array}{r} x^4 + x^2y^2 + y^4 \\ + x^2y^2 \quad - x^2y^2 \end{array}$$

$$x^4 + 2x^2y^2 + y^4 - x^2y^2 = (x^4 + 2x^2y^2 + y^4) - x^2y^2$$

(factorando el trinomio cuadrado perfecto)  $= (x^2 + y^2)^2 - x^2y^2$

(factorando la diferencia de cuadrados)  $= (x^2 + y^2 + xy)(x^2 + y^2 - xy)$

(ordenando)  $= (x^2 + xy + y^2)(x^2 - xy + y^2)$ . R.

2. Descomponer  $4a^4 + 8a^2b^2 + 9b^4$ .

La raíz cuadrada de  $4a^4$  es  $2a^2$ ; la raíz cuadrada de  $9b^4$  es  $3b^2$  y el doble producto de estas raíces es  $2 \times 2a^2 \times 3b^2 = 12a^2b^2$ ; luego, este trinomio no es cuadrado perfecto porque su 2º término es  $8a^2b^2$  y para que sea cuadrado perfecto debe ser  $12a^2b^2$ .

Para que  $8a^2b^2$  se convierta en  $12a^2b^2$  le sumamos  $4a^2b^2$  y para que el trinomio no varíe le restamos  $4a^2b^2$  y tendremos:

$$\begin{array}{r} 4a^4 + 8a^2b^2 + 9b^4 \\ + 4a^2b^2 \quad - 4a^2b^2 \end{array}$$

$$4a^4 + 12a^2b^2 + 9b^4 - 4a^2b^2 = (4a^4 + 12a^2b^2 + 9b^4) - 4a^2b^2$$

(fact. el trinomio cuadrado perfecto)  $= (2a^2 + 3b^2)^2 - 4a^2b^2$

(fact. la diferencia de cuadrados)  $= (2a^2 + 3b^2 + 2ab)(2a^2 + 3b^2 - 2ab)$

(ordenando)  $= (2a^2 + 2ab + 3b^2)(2a^2 - 2ab + 3b^2)$ . R.

3. Descomponer  $a^4 - 16a^2b^2 + 36b^4$ .

La raíz cuadrada de  $a^4$  es  $a^2$ ; la de  $36b^4$  es  $6b^2$ . Para que este trinomio fuera cuadrado perfecto, su 2º término debía ser  $-2 \times a^2 \times 6b^2 = -12a^2b^2$  y es  $-16a^2b^2$ ; pero  $-16a^2b^2$  se convierte en  $-12a^2b^2$  sumándole  $4a^2b^2$ , pues

tendremos:  $-16a^2b^2 + 4a^2b^2 = -12a^2b^2$ , y para que no varíe le restamos  $4a^2b^2$ , igual que en los casos anteriores y tendremos:

$$a^4 - 16a^2b^2 + 36b^4$$

$$+ 4a^2b^2 \quad - 4a^2b^2$$

$$a^4 - 12a^2b^2 + 36b^4 - 4a^2b^2 = (a^4 - 12a^2b^2 + 36b^4) - 4a^2b^2$$

$$= (a^2 - 6b^2)^2 - 4a^2b^2$$

$$= (a^2 - 6b^2 + 2ab)(a^2 - 6b^2 - 2ab)$$

$$= (a^2 + 2ab - 6b^2)(a^2 - 2ab - 6b^2)$$
. R.

4. Factorar  $49m^4 - 151m^2n^4 + 81n^8$ .

La raíz cuadrada de  $49m^4$  es  $7m^2$ ; la de  $81n^8$  es  $9n^4$ . El 2º término debía ser  $-2 \times 7m^2 \times 9n^4 = -126m^2n^4$  y es  $-151m^2n^4$ , pero  $-151m^2n^4$  se convierte en  $-126m^2n^4$  sumándole  $25m^2n^4$ , pues se tiene:  $-151m^2n^4 + 25m^2n^4 = -126m^2n^4$ , y para que no varíe le restamos  $25m^2n^4$  y tendremos:

$$49m^4 - 151m^2n^4 + 81n^8$$

$$+ 25m^2n^4 \quad - 25m^2n^4$$

$$49m^4 - 126m^2n^4 + 81n^8 - 25m^2n^4 = (49m^4 - 126m^2n^4 + 81n^8) - 25m^2n^4$$

$$= (7m^2 - 9n^4)^2 - 25m^2n^4$$

$$= (7m^2 - 9n^4 + 5mn^2)(7m^2 - 9n^4 - 5mn^2)$$

$$= (7m^2 + 5mn^2 - 9n^4)(7m^2 - 5mn^2 - 9n^4)$$
. R.

## EJERCICIO 96

Factorar o descomponer en dos factores:

- |                                 |                                    |   |
|---------------------------------|------------------------------------|---|
| 1. $a^4 + a^2 + 1$ .            | 11. $25a^4 + 54a^2b^2 + 49b^4$ .   | 21. $144 + 23n^6 + 9n^{12}$ .               |
| 2. $m^4 + m^2n^2 + n^4$ .       | 12. $36x^4 - 109x^2y^2 + 49y^4$ .  | 22. $16 - 9c^4 + c^8$ .                     |
| 3. $x^8 + 3x^4 + 4$ .           | 13. $81m^8 + 2m^4 + 1$ .           | 23. $64a^4 - 169a^2b^4 + 81b^8$ .           |
| 4. $a^4 + 2a^2 + 9$ .           | 14. $c^4 - 45c^2 + 100$ .          | 24. $225 + 5m^2 + m^4$ .                    |
| 5. $a^4 - 3a^2b^2 + b^4$ .      | 15. $4a^8 - 53a^4b^4 + 49b^8$ .    | 25. $1 - 126a^2b^4 + 169a^4b^8$ .           |
| 6. $x^4 - 6x^2 + 1$ .           | 16. $49 + 76n^2 + 64n^4$ .         | 26. $x^4y^4 + 21x^2y^2 + 121$ .             |
| 7. $4a^4 + 3a^2b^2 + 9b^4$ .    | 17. $25x^4 - 139x^2y^2 + 81y^4$ .  | 27. $49c^8 + 75c^4m^2n^2 + 196m^4n^4$ .     |
| 8. $4x^4 - 29x^2 + 25$ .        | 18. $49x^8 + 76x^4y^4 + 100y^8$ .  | 28. $81a^4b^8 - 292a^2b^4x^8 + 256x^{16}$ . |
| 9. $x^8 + 4x^4y^4 + 16y^8$ .    | 19. $4 - 108x^2 + 121x^4$ .        |   |
| 10. $16m^4 - 25m^2n^2 + 9n^4$ . | 20. $121x^4 - 133x^2y^4 + 36y^8$ . |   |

## CASO ESPECIAL

## FACTORAR UNA SUMA DE DOS CUADRADOS

144 En general una suma de dos cuadrados no tiene descomposición en factores racionales, es decir, factores en que no haya raíz, pero hay sumas de cuadrados que, sumándoles y restándoles una misma cantidad, pueden llevarse al caso anterior y descomponerse.



## Ejemplos

(1) Factorar  $a^4 + 4b^4$ .

La raíz cuadrada de  $a^4$  es  $a^2$ ; la de  $4b^4$  es  $2b^2$ . Para que esta expresión sea un trinomio cuadrado perfecto hace falta que su segundo término sea  $2 \times a^2 \times 2b^2 = 4a^2b^2$ . Entonces, igual que en los casos anteriores, a la expresión  $a^4 + 4b^4$  le sumamos y restamos  $4a^2b^2$  y tendremos:

$$\begin{aligned} & a^4 + 4b^4 \\ & + 4a^2b^2 - 4a^2b^2 \\ \hline & a^4 + 4a^2b^2 + 4b^4 - 4a^2b^2 = (a^2 + 2b^2)^2 - 4a^2b^2 \\ & = (a^2 + 2b^2)^2 - (2ab)^2 \\ & = (a^2 + 2b^2 + 2ab)(a^2 + 2b^2 - 2ab) \quad R. \end{aligned}$$

## EJERCICIO 97

Factorar o descomponer en dos factores:

- |                     |                     |                      |
|---------------------|---------------------|----------------------|
| 1. $x^4 + 64y^4$ .  | 4. $4m^4 + 81n^4$ . | 7. $1 + 4x^4$ .      |
| 2. $4x^5 + y^5$ .   | 5. $4 + 625x^5$ .   | 8. $64x^5 + y^5$ .   |
| 3. $a^4 + 324b^4$ . | 6. $64 + a^{12}$ .  | 9. $81a^4 + 64b^4$ . |

## CASO VI

TRINOMIO DE LA FORMA  $x^2 + bx + c$ 145 Trinomios de la forma  $x^2 + bx + c$  son trinomios como

$$\begin{aligned} x^2 + 5x + 6, & \quad m^2 + 5m - 14 \\ a^2 - 2a - 15, & \quad y^2 - 8y + 15 \end{aligned}$$

que cumplen las condiciones siguientes:

1. El coeficiente del primer término es 1.
2. El primer término es una letra cualquiera elevada al cuadrado.
3. El segundo término tiene la misma letra que el primero con exponente 1 y su coeficiente es una cantidad cualquiera, positiva o negativa.
4. El tercer término es independiente de la letra que aparece en el 1º y 2º términos y es una cantidad cualquiera, positiva o negativa.

146 REGLA PRACTICA PARA FACTORAR UN TRINOMIO DE LA FORMA  $x^2 + bx + c$ 

1) El trinomio se descompone en dos factores binomios cuyo primer término es  $x$ , o sea la raíz cuadrada del primer término del trinomio.

2) En el primer factor, después de  $x$  se escribe el signo del segundo término del trinomio, y en el segundo factor, después de  $x$  se escribe el signo que resulta de multiplicar el signo del 2º término del trinomio por el signo del tercer término del trinomio.

3) Si los dos factores binomios tienen en el medio **signos iguales** se buscan dos números cuya suma sea el valor absoluto del segundo término del trinomio y cuyo producto sea el valor absoluto del tercer término del trinomio. Estos números son los segundos términos de los binomios.

4) Si los dos factores binomios tienen en el medio **signos distintos** se buscan dos números cuya diferencia sea el valor absoluto del segundo término del trinomio y cuyo producto sea el valor absoluto del tercer término del trinomio. El **mayor** de estos números es el segundo término del primer binomio, y el menor, el segundo término del segundo binomio.

Esta regla práctica, muy sencilla en su aplicación, se aclarará con los siguientes

## Ejemplos

(1) Factorar  $x^2 + 5x + 6$ .

El trinomio se descompone en dos binomios cuyo primer término es la raíz cuadrada de  $x^2$  o sea  $x$ :

$$x^2 + 5x + 6 \quad |x \quad | (x \quad )$$

En el primer binomio después de  $x$  se pone **signo +** porque el segundo término del trinomio  $+5x$  tiene signo **+**. En el segundo binomio, después de  $x$ , se escribe el signo que resulta de multiplicar el signo de  $+5x$  por el signo de  $+6$  y se tiene que **+** por **+** da **+** o sea:

$$x^2 + 5x + 6 \quad |x + | (x + |$$

Ahora, como en estos binomios tenemos **signos iguales** buscamos dos números que cuya suma sea 5 y cuyo producto sea 6. Esos números son 2 y 3, luego:

$$x^2 + 5x + 6 = (x + 2)(x + 3). \quad R.$$

(2) Factorar  $x^2 - 7x + 12$ .

$$\text{Tendremos: } x^2 - 7x + 12 \quad |x - | (x - |$$

En el primer binomio se pone **-** porque  $-7x$  tiene signo **-**. En el segundo binomio se pone **-** porque multiplicando el signo de  $-7x$  por el signo de  $+12$  se tiene que: **-** por **+** da **-**.

Ahora, como en los binomios tenemos **signos iguales** buscamos dos números cuya suma sea 7 y cuyo producto sea 12. Estos números son 3 y 4, luego:

$$x^2 - 7x + 12 = (x - 3)(x - 4). \quad R.$$



(3) Factorar  $x^2 + 2x - 15$ .Tenemos:  $x^2 + 2x - 15 \quad |x + \quad | (x - \quad)$ 

En el primer binomio se pone + porque +2x tiene signo +.

En el segundo binomio se pone - porque multiplicando el signo de +2x por el signo de -15 se tiene que + por - da -.

Ahora, como en los binomios tenemos signos distintos buscamos dos números cuya diferencia sea 2 y cuyo producto sea 15.

Estos números son 5 y 3. El mayor 5, se escribe en el primer binomio, y tendremos:

$$x^2 + 2x - 15 = (x + 5)(x - 3). \quad R.$$

(4) Factorar  $x^2 - 5x - 14$ .Tenemos:  $x^2 - 5x - 14 \quad |x - \quad | (x + \quad)$ 

En el primer binomio se pone - porque -5x tiene signo -.

En el segundo binomio se pone + porque multiplicando el signo de -5x por el signo de -14 se tiene que - por - da +.

Ahora como en los binomios tenemos signos distintos se buscan dos números cuya diferencia sea 5 y cuyo producto sea 14.

Estos números son 7 y 2. El mayor 7, se escribe en el primer binomio y se tendrá:

$$x^2 - 5x - 14 = (x - 7)(x + 2). \quad R.$$

(5) Factorar  $a^2 - 13a + 40$ .

$$a^2 - 13a + 40 = (a - 5)(a - 8). \quad R.$$

(6) Factorar  $m^2 - 11m - 12$ .

$$m^2 - 11m - 12 = (m - 12)(m + 1). \quad R.$$

(7) Factorar  $n^2 + 28n - 29$ .

$$n^2 + 28n - 29 = (n + 29)(n - 1). \quad R.$$

(8) Factorar  $x^2 + 6x - 216$ .

$$x^2 + 6x - 216 \quad |x + \quad | (x - \quad)$$

Necesitamos dos números cuya diferencia sea 6 y cuyo producto sea 216. Estos números no se ven fácilmente. Para hallarlos, descomponemos en sus factores primos el tercer término:

216	2	Ahora, formamos con estos factores primos dos productos.		
108	2	Por tanteo, variando los factores de cada producto, obtendremos		
54	2	los dos números que buscamos. Así:		
27	3			
9	3	$2 \times 2 \times 2 = 8$	$3 \times 3 \times 3 = 27$	$27 - 8 = 19$ , no nos sirven
3	3	$2 \times 2 \times 2 \times 3 = 24$	$3 \times 3 = 9$	$24 - 9 = 15$ , no nos sirven
1		$2 \times 2 \times 3 = 12$	$2 \times 3 \times 3 = 18$	$18 - 12 = 6$ , sirven.

18 y 12 son los números que buscamos porque su diferencia es 6 y su producto necesariamente es 216 ya que para obtener estos números hemos empleado todos los factores que obtuvimos en la descomposición de 216. Por tanto:

$$x^2 + 6x - 216 = (x + 18)(x - 12). \quad R.$$

(9) Factorar  $a^2 - 66a + 1080$ .

$$a^2 - 66a + 1080 \quad |a - \quad | (a - \quad)$$

Necesitamos dos números cuya suma sea 66 y cuyo producto sea 1080. Descomponiendo 1080, tendremos:

1080	2			
540	2			
270	2			
135	3	$2 \times 2 \times 2 = 8$	$3 \times 3 \times 3 \times 5 = 105$	$105 + 8 = 113$ , no sirve
45	3	$2 \times 2 \times 2 \times 3 = 24$	$3 \times 3 \times 5 = 45$	$45 + 24 = 69$ , no sirve
15	3	$2 \times 3 \times 5 = 30$	$2 \times 2 \times 3 \times 3 = 36$	$30 + 36 = 66$ , sirven
5	5			
1				

Los números que necesitamos son 30 y 36 porque su suma es 66 y su producto necesariamente es 1080 ya que para obtener estos números hemos empleado todos los factores que obtuvimos en la descomposición de 1080, luego:

$$a^2 - 66a + 1080 = (a - 36)(a - 30). \quad R.$$

## EJERCICIO 98

Factorar o descomponer en dos factores:

- |                       |                        |                         |                         |
|-----------------------|------------------------|-------------------------|-------------------------|
| 1. $x^2 + 7x + 10$ .  | 13. $y^2 - 4y + 3$ .   | 25. $a^2 - 2a - 35$ .   | 37. $m^2 - 2m - 168$ .  |
| 2. $x^2 - 5x + 6$ .   | 14. $12 - 8n + n^2$ .  | 26. $x^2 + 14x + 13$ .  | 38. $c^2 + 24c + 135$ . |
| 3. $x^2 + 3x - 10$ .  | 15. $x^2 + 10x + 21$ . | 27. $a^2 + 32 - 14a$ .  | 39. $m^2 - 41m + 400$ . |
| 4. $x^2 + x - 2$ .    | 16. $a^2 + 7a - 18$ .  | 28. $m^2 + 13m - 30$ .  | 40. $a^2 + a - 380$ .   |
| 5. $a^2 + 4a + 3$ .   | 17. $m^2 - 12m + 11$ . | 29. $c^2 - 13c - 14$ .  | 41. $x^2 + 12x - 364$ . |
| 6. $m^2 + 5m - 14$ .  | 18. $x^2 - 7x - 30$ .  | 30. $x^2 + 15x + 56$ .  | 42. $a^2 + 42a + 432$ . |
| 7. $y^2 - 9y + 20$ .  | 19. $n^2 + 6n - 16$ .  | 31. $x^2 - 15x + 54$ .  | 43. $m^2 - 30m - 675$ . |
| 8. $x^2 - 6 - x$ .    | 20. $20 + a^2 - 21a$ . | 32. $a^2 + 7a - 60$ .   | 44. $y^2 + 50y + 336$ . |
| 9. $x^2 - 9x + 8$ .   | 21. $y^2 + y - 30$ .   | 33. $x^2 - 17x - 60$ .  | 45. $x^2 - 2x - 528$ .  |
| 10. $c^2 + 5c - 24$ . | 22. $28 + a^2 - 11a$ . | 34. $x^2 + 8x - 180$ .  | 46. $n^2 + 43n + 432$ . |
| 11. $x^2 - 3x + 2$ .  | 23. $n^2 - 6n - 40$ .  | 35. $m^2 - 20m - 300$ . | 47. $c^2 - 4c - 320$ .  |
| 12. $a^2 + 7a + 6$ .  | 24. $x^2 - 5x - 36$ .  | 36. $x^2 + x - 132$ .   | 48. $m^2 - 8m - 1008$ . |

## CASOS ESPECIALES

(147) El procedimiento anterior es aplicable a la factoración de trinomios que siendo de la forma  $x^2 + bx + c$  difieren algo de los estudiados anteriormente.

## Ejemplos

(1) Factorar  $x^4 - 5x^2 - 50$ .El primer término de cada factor binomio será la raíz cuadrada de  $x^4$  o sea  $x^2$ :

$$x^4 - 5x^2 - 50 \quad |x^2 - \quad | (x^2 + \quad)$$

Buscamos dos números cuya diferencia (signos distintos en los binomios) sea 5 y cuyo producto sea 50. Esos números son 10 y 5. Tendremos:

$$x^4 - 5x^2 - 50 = (x^2 - 10)(x^2 + 5). \quad R.$$



(2) Factorar  $x^3 + 7x^2 - 44$ .

El primer término de cada binomio será la raíz cuadrada de  $x^6$  o sea  $x^3$ . Aplicando las reglas tendremos:

$$x^3 + 7x^2 - 44 = (x^3 + 11)(x^2 - 4). \quad R.$$

(3) Factorar  $a^2b^2 - ab - 42$ .

El primer término de cada factor será la raíz cuadrada de  $a^2b^2$  o sea  $ab$ :

$$a^2b^2 - ab - 42 = (ab - 1)(ab + 1)$$

Buscamos dos números cuya diferencia sea 1 (que es el coeficiente de  $ab$ ) y cuyo producto sea 42. Esos números son 7 y 6. Tendremos:

$$a^2b^2 - ab - 42 = (ab - 7)(ab + 6). \quad R.$$

(4) Factorar  $(5x)^2 - 9(5x) + 8$ .

Llamamos la atención sobre este ejemplo porque usaremos esta descomposición en el caso siguiente.

El primer término de cada binomio será la raíz cuadrada de  $(5x)^2$  o sea  $5x$ :

$$(5x)^2 - 9(5x) + 8 = (5x - 1)(5x - 8)$$

Los números cuya suma (signos iguales en los binomios) es 9 y cuyo producto es 8 son 8 y 1. Tendremos:

$$(5x)^2 - 9(5x) + 8 = (5x - 8)(5x - 1). \quad R.$$

(5) Factorar  $x^2 - 5ax - 36a^2$ .

$$x^2 - 5ax - 36a^2 = (x - 9a)(x + 4a)$$

El coeficiente de  $x$  en el segundo término es  $5a$ . Buscamos dos cantidades cuya diferencia sea  $5a$  (que es el coeficiente de  $x$  en el segundo término) y cuyo producto sea  $36a^2$ . Esas cantidades son  $9a$  y  $4a$ . Tendremos:

$$x^2 - 5ax - 36a^2 = (x - 9a)(x + 4a). \quad R.$$

(6) Factorar  $(a+b)^2 - 12(a+b) + 20$ .

El primer término de cada binomio será la raíz cuadrada de  $(a+b)^2$  que es  $(a+b)$ .

$$(a+b)^2 - 12(a+b) + 20 = [(a+b) - 10][(a+b) - 2]$$

Buscamos dos números cuya suma sea 12 y cuyo producto sea 20. Esos números son 10 y 2. Tendremos:

$$(a+b)^2 - 12(a+b) + 20 = [(a+b) - 10][(a+b) - 2] \\ = (a+b-10)(a+b-2). \quad R.$$

(7) Factorar  $28 + 3x - x^2$ .

Ordenando en orden descendente respecto de  $x$ , tenemos:

$$-x^2 + 3x + 28.$$

Para eliminar el signo  $-$  de  $-x^2$  introducimos el trinomio en un paréntesis precedido del signo  $-$ :

$$-(x^2 - 3x - 28)$$

Factorando  $x^2 - 3x - 28 = (x-7)(x+4)$ , pero como el trinomio está precedido de  $-$  su descomposición también debe ir precedida de  $-$  y tendremos:

$$-(x-7)(x+4)$$

Para que desaparezca el signo  $-$  del producto  $-(x-7)(x+4)$  o sea, para convertirlo en  $+$  basta cambiarle el signo a un factor, por ejemplo, a  $(x-7)$  y quedará:

$$28 + 3x - x^2 = (7-x)(x+4). \quad R.$$

(8) Factorar  $30 + y^2 - y^4$ .

$$30 + y^2 - y^4 = -(y^4 - y^2 - 30) = -(y^2 - 6)(y^2 + 5) = (6 - y^2)(y^2 + 5). \quad R.$$

## EJERCICIO 99

Factorar:

- |                              |                                |                                   |
|------------------------------|--------------------------------|-----------------------------------|
| 1. $x^4 + 5x^2 + 4$ .        | 13. $x^4 + 7ax^2 - 60a^2$ .    | 25. $a^2 + 2axy - 44x^2y^2$ .     |
| 2. $x^6 - 6x^3 - 7$ .        | 14. $(2x)^2 - 4(2x) + 3$ .     | 26. $m^6n^6 - 21m^3n^3 + 104$ .   |
| 3. $x^5 - 2x^4 - 80$ .       | 15. $(m-n)^2 + 5(m-n) - 24$ .  | 27. $14 + 5n - n^2$ .             |
| 4. $x^2y^2 + xy - 12$ .      | 16. $x^6 + x^4 - 240$ .        | 28. $x^6 + x^3 - 930$ .           |
| 5. $(4x)^2 - 2(4x) - 15$ .   | 17. $15 + 2y - y^2$ .          | 29. $(4x^2)^2 - 8(4x^2) - 105$ .  |
| 6. $(5x)^2 + 13(5x) + 42$ .  | 18. $a^4b^4 - 2a^2b^2 - 99$ .  | 30. $x^4 + 5abx^2 - 36a^2b^4$ .   |
| 7. $x^2 + 2ax - 15a^2$ .     | 19. $c^2 + 11cd + 28d^2$ .     | 31. $a^4 - a^2b^2 - 156b^4$ .     |
| 8. $a^2 - 4ab - 21b^2$ .     | 20. $25x^2 - 5(5x) - 84$ .     | 32. $21a^2 + 4ax - x^2$ .         |
| 9. $(x-y)^2 + 2(x-y) - 24$ . | 21. $a^2 - 21ab + 98b^2$ .     | 33. $x^4y^4 - 15ax^4y^4 - 100$ .  |
| 10. $5 + 4x - x^2$ .         | 22. $x^4y^4 + x^2y^2 - 132$ .  | 34. $(a-1)^2 + 3(a-1) - 10$ .     |
| 11. $x^{10} + x^5 - 20$ .    | 23. $48 + 2x^2 - x^4$ .        | 35. $m^2 + abcm - 56a^3b^2c^4$ .  |
| 12. $m^2 + mn - 56n^2$ .     | 24. $(c+d)^2 - 18(c+d) + 65$ . | 36. $(7x^2)^2 + 24(7x^2) + 128$ . |

## CASO VII

TRINOMIO DE LA FORMA  $ax^2 + bx + c$ 

- 148 Son trinomios de esta forma:
- $$\begin{aligned} 2x^2 + 11x + 5 \\ 3a^2 + 7a - 6 \\ 10n^2 - n - 2 \\ 7m^2 - 23m + 6 \end{aligned}$$

que se diferencian de los trinomios estudiados en el caso anterior en que el primer término tiene un coeficiente distinto de 1.

149 DESCOMPOSICION EN FACTORES DE UN TRINOMIO DE LA FORMA  $ax^2 + bx + c$ 

## Ejemplos

(1) Factorar  $6x^2 - 7x - 3$ .

Multipliquemos el trinomio por el coeficiente de  $x^2$  que es 6 y dejando indicado el producto de 6 por  $7x$  se tiene:

$$36x^2 - 6(7x) - 18.$$

Pero  $36x^2 = (6x)^2$  y  $6(7x) = 7(6x)$  luego podemos escribir:  $(6x)^2 - 7(6x) - 18$ .



Descomponiendo este trinomio según se vio en el caso anterior, el 1er. término de cada factor será la raíz cuadrada de  $(6x)^2$  o sea  $6x$ :  $(6x - ) (6x + )$ . Dos números cuya diferencia sea 7 y cuyo producto sea 18 son 9 y 2. Tendremos:  $(6x - 9)(6x + 2)$ .

Como al principio multiplicamos el trinomio dado por 6, ahora tenemos que dividir por 6, para no alterar el trinomio, y tendremos:  $\frac{(6x - 9)(6x + 2)}{6}$

pero como ninguna de los binomios es divisible por 6, descomponemos 6 en  $2 \times 3$  y dividiendo  $(6x - 9)$  entre 3 y  $(6x + 2)$  entre 2 se tendrá:

$$\frac{(6x - 9)(6x + 2)}{2 \times 3} = (2x - 3)(3x + 1)$$

Luego:  $6x^2 - 7x - 3 = (2x - 3)(3x + 1)$ . R.

### (2) Factorar $20x^2 + 7x - 6$ .

Multiplicando el trinomio por 20, tendremos:  $(20x)^2 + 7(20x) - 120$ .

Descomponiendo este trinomio, tenemos:  $(20x + 15)(20x - 8)$ .

Para cancelar la multiplicación por 20, tenemos que dividir por 20, pero como ninguno de los dos binomios es divisible por 20, descomponemos el 20 en  $5 \times 4$  y dividiendo el factor  $(20x + 15)$  entre 5 y  $(20x - 8)$  entre 4 tendremos:

$$\frac{(20x + 15)(20x - 8)}{5 \times 4} = (4x + 3)(5x - 2)$$

Luego  $20x^2 + 7x - 6 = (4x + 3)(5x - 2)$ . R.

### (3) Factorar $18a^2 - 13a - 5$ .

Multiplicando por 18:  $(18a)^2 - 13(18a) - 90$ .

Factorando este trinomio:  $(18a - 18)(18a + 5)$ .

Dividiendo por 18, para lo cual, como el primer binomio  $18a - 18$  es divisible por 18 basta dividir este factor entre 18, tendremos:

$$\frac{(18a - 18)(18a + 5)}{18} = (a - 1)(18a + 5)$$

Luego  $18a^2 - 13a - 5 = (a - 1)(18a + 5)$ . R.

## ● EJERCICIO 100

Factorar:

- |                         |                          |                          |
|-------------------------|--------------------------|--------------------------|
| 1. $2x^2 + 3x - 2$ .    | 10. $20y^2 + y - 1$ .    | 19. $m - 6 + 15m^2$ .    |
| 2. $3x^2 - 5x - 2$ .    | 11. $8a^2 - 14a - 15$ .  | 20. $15a^2 - 8a - 12$ .  |
| 3. $6x^2 + 7x + 2$ .    | 12. $7x^2 - 44x - 35$ .  | 21. $9x^2 + 37x + 4$ .   |
| 4. $5x^2 + 13x - 6$ .   | 13. $16m + 15m^2 - 15$ . | 22. $44n + 20n^2 - 15$ . |
| 5. $6x^2 - 6 - 5x$ .    | 14. $2a^2 + 5a + 2$ .    | 23. $14m^2 - 31m - 10$ . |
| 6. $12x^2 - x - 6$ .    | 15. $12x^2 - 7x - 12$ .  | 24. $2x^2 + 29x + 90$ .  |
| 7. $4a^2 + 15a + 9$ .   | 16. $9a^2 + 10a + 1$ .   | 25. $20a^2 - 7a - 40$ .  |
| 8. $3 + 11a + 10a^2$ .  | 17. $20n^2 - 9n - 20$ .  | 26. $4n^2 + n - 33$ .    |
| 9. $12m^2 - 13m - 35$ . | 18. $21x^2 + 11x - 2$ .  | 27. $30x^2 + 13x - 10$ . |

## CASOS ESPECIALES

### 1. Factorar $15x^4 - 11x^3 - 12$ .

Multiplicando por 15:  $(15x^2)^2 - 11(15x^2) - 180$ .

Descomponiendo este trinomio, el primer término de cada factor será la raíz cuadrada de  $(15x^2)^2$ , o sea  $15x^2$ :  $(15x^2 - 20)(15x^2 + 9)$

Dividiendo por 15:  $\frac{(15x^2 - 20)(15x^2 + 9)}{5 \times 3} = (3x^2 - 4)(5x^2 + 3)$ . R.

### 2. Factorar $12x^2y^2 + xy - 20$ .

Multiplicando por 12:  $(12xy)^2 + 1(12xy) - 240$ .

Factorando este trinomio:  $(12xy + 16)(12xy - 15)$ .

Dividiendo por 12:  $\frac{(12xy + 16)(12xy - 15)}{4 \times 3} = (3xy + 4)(4xy - 5)$ . R.

### 3. Factorar $6x^2 - 11ax - 10a^2$ .

Multiplicando por 6:  $(6x)^2 - 11a(6x) - 60a^2$ .

Factorando este trinomio:  $(6x - 15a)(6x + 4a)$ .

Dividiendo por 6:  $\frac{(6x - 15a)(6x + 4a)}{3 \times 2} = (2x - 5a)(3x + 2a)$ . R.

### 4. Factorar $20 - 3x - 9x^2$ .

Ordenando el trinomio en orden descendente respecto de  $x$ :  $-9x^2 - 3x + 20$

Introduciéndolo en un paréntesis precedido del signo  $-$ :  $-(9x^2 + 3x - 20)$

Multiplicando por 9:  $-[(9x)^2 + 3(9x) - 180]$ .

Factorando este trinomio:  $-(9x + 15)(9x - 12)$ .

Dividiendo por 9:  $\frac{-(9x + 15)(9x - 12)}{3 \times 3} = -(3x + 5)(3x - 4)$ .

Para que desaparezca el signo  $-$  de este producto, o sea para convertirlo en  $+$ , hay que cambiar el signo a un factor, por ejemplo, a  $(3x - 4)$ , que se convertirá en  $(4 - 3x)$ , y tendremos:

$$20 - 3x - 9x^2 = (3x + 5)(4 - 3x)$$

## ● EJERCICIO 101

Factorar:

- |                            |                                |                               |
|----------------------------|--------------------------------|-------------------------------|
| 1. $6x^4 + 5x^2 - 6$ .     | 9. $6m^2 - 13am - 15a^2$ .     | 17. $18a^2 + 17ay - 15y^2$ .  |
| 2. $5x^4 + 4x^2 - 12$ .    | 10. $14x^4 - 45x^2 - 14$ .     | 18. $15 + 2x^2 - 8x^4$ .      |
| 3. $10x^4 + 29x^2 + 10$ .  | 11. $30a^2 - 13ab - 3b^2$ .    | 19. $6 - 25x^4 + 5x^4$ .      |
| 4. $6a^2x^2 + 5ax - 21$ .  | 12. $7x^6 - 33x^3 - 10$ .      | 20. $30x^{10} - 91x^6 - 30$ . |
| 5. $20x^2y^2 + 9xy - 20$ . | 13. $30 + 13a - 3a^2$ .        | 21. $30m^2 + 17am - 21a^2$ .  |
| 6. $15x^2 - ax - 2a^2$ .   | 14. $5 + 7x^4 - 6x^4$ .        | 22. $16a - 4 - 15a^2$ .       |
| 7. $12 - 7x - 10x^2$ .     | 15. $6a^2 - ax - 15x^2$ .      | 23. $11xy - 6y^2 - 4x^2$ .    |
| 8. $21x^2 - 29xy - 7y^2$ . | 16. $4x^2 + 7mnx - 15m^2n^2$ . | 24. $27ab - 9b^2 - 20a^2$ .   |



## CASO VIII

## CUBO PERFECTO DE BINOMIOS

- 150 En los productos notables (90) se vio que  $(a+b)^3 = a^3 + 3a^2b + 3ab^2 + b^3$   
 $(a-b)^3 = a^3 - 3a^2b + 3ab^2 - b^3$ .

Lo anterior nos dice que para que una expresión algebraica ordenada con respecto a una letra sea el cubo de un binomio, tiene que cumplir las siguientes condiciones:

1. Tener cuatro términos.
2. Que el primero y el último términos sean cubos perfectos.
3. Que el 2º término sea más o menos el triplo del cuadrado de la raíz cúbica del primer término multiplicado por la raíz cúbica del último término.
4. Que el 3º término sea más el triplo de la raíz cúbica del primer término por el cuadrado de la raíz cúbica del último.

Si todos los términos de la expresión son positivos, la expresión dada es el cubo de la suma de las raíces cúbicas de su primero y último término, y si los términos son alternativamente positivos y negativos la expresión dada es el cubo de la diferencia de dichas raíces.

## 151 RAIZ CUBICA DE UN MONOMIO

La raíz cúbica de un monomio se obtiene extrayendo la raíz cúbica de su coeficiente y dividiendo el exponente de cada letra entre 3.

Así, la raíz cúbica de  $8a^3b^6$  es  $2ab^2$ . En efecto:

$$(2ab^2)^3 = 2ab^2 \times 2ab^2 \times 2ab^2 = 8a^3b^6.$$

## 152 HALLAR SI UNA EXPRESION DADA ES EL CUBO DE UN BINOMIO

## Ejemplos

- (1) Hallar si  $8x^3 + 12x^2 + 6x + 1$  es el cubo de un binomio.

Veamos si cumple las condiciones expuestas antes.  
 La expresión tiene cuatro términos.

La raíz cúbica de  $8x^3$  es  $2x$ .

La raíz cúbica de 1 es 1.

$$3(2x)^2(1) = 12x^2, \text{ segundo término.}$$

$$3(2x)(1)^2 = 6x, \text{ tercer término.}$$

Cumple las condiciones, y como todos sus términos son positivos, la expresión dada es el cubo de  $(2x+1)$ , o de otro modo,  $(2x+1)$  es la raíz cúbica de la expresión.

- (2) Hallar si  $8x^6 + 54x^5y^4 - 27y^9 - 36x^4y^3$  es el cubo de un binomio.

Ordenando la expresión, se tiene:  $8x^6 - 36x^4y^3 + 54x^2y^6 - 27y^9$ .

La expresión tiene cuatro términos:

La raíz cúbica de  $8x^6$  es  $2x^2$ .  
 La raíz cúbica de  $27y^9$  es  $3y^3$ .  
 $3(2x^2)^2(3y^3) = 36x^4y^3$ , segundo término  
 $3(2x^2)(3y^3)^2 = 54x^2y^6$ , tercer término

y como los términos son alternativamente positivos y negativos, la expresión dada es el cubo de  $(2x^2 - 3y^3)$ .

## 153 FACTORAR UNA EXPRESION QUE ES EL CUBO DE UN BINOMIO

## Ejemplos

- (1) Factorar  $1 + 12a + 48a^2 + 64a^3$ .

Aplicando el procedimiento anterior vemos que esta expresión es el cubo de  $(1 + 4a)$ ; luego:

$$1 + 12a + 48a^2 + 64a^3 = (1 + 4a)^3. \quad R.$$

- (2) Factorar  $a^9 - 18a^4b^5 + 108a^3b^{10} - 216b^{15}$ .

Aplicando el procedimiento anterior, vemos que esta expresión es el cubo de  $(a^3 - 6b^3)$ ; luego:

$$a^9 - 18a^4b^5 + 108a^3b^{10} - 216b^{15} = (a^3 - 6b^3)^3. \quad R.$$

## EJERCICIO 102

Factorar por el método anterior, si es posible, las expresiones siguientes, ordenándolas previamente:

1.  $a^3 + 3a^2 + 3a + 1$ .
2.  $27 - 27x + 9x^2 - x^3$ .
3.  $m^3 + 3m^2n + 3mn^2 + n^3$ .
4.  $1 + 3a^2 - 3a - a^3$ .
5.  $8 + 12a^2 + 6a^4 + a^6$ .
6.  $125x^3 + 1 + 75x^2 + 15x$ .
7.  $8a^3 - 36a^2b + 54ab^2 - 27b^3$ .
8.  $27m^3 + 108m^2n + 144mn^2 + 64n^3$ .
9.  $x^3 - 3x^2 + 3x + 1$ .
10.  $1 + 12a^2b - 6ab - 8a^3b^3$ .
11.  $125a^3 + 150a^2b + 60ab^2 + 8b^3$ .
12.  $8 + 36x + 54x^2 + 27x^3$ .
13.  $8 - 12a^2 - 6a^4 - a^6$ .
14.  $a^6 + 3a^4b^2 + 3a^2b^4 + b^6$ .
15.  $x^9 - 9x^6y^4 + 27x^3y^8 - 27y^{12}$ .
16.  $64x^3 + 240x^2y + 300xy^2 + 125y^3$ .
17.  $216 - 756a^2 + 882a^4 - 343a^6$ .
18.  $125x^{12} + 600x^8y^4 + 960x^4y^{10} + 512y^{15}$ .
19.  $3a^{12} + 1 + 3a^6 + a^{18}$ .
20.  $m^3 - 3am^2n + 3a^2mn^2 - a^3n^3$ .
21.  $1 + 18a^2b^3 + 108a^4b^6 + 216a^6b^9$ .
22.  $64x^6 - 125y^{12} - 240x^4y^4 + 300x^3y^6$ .

## CASO IX

## SUMA O DIFERENCIA DE CUBOS PERFECTOS

- 154 Sabemos (94) que:  $\frac{a^3 + b^3}{a + b} = a^2 - ab + b^2$  y  $\frac{a^3 - b^3}{a - b} = a^2 + ab + b^2$

y como en toda división exacta el dividendo es igual al producto del divisor por el cociente, tendremos:

$$a^3 + b^3 = (a + b)(a^2 - ab + b^2) \quad (1)$$

$$a^3 - b^3 = (a - b)(a^2 + ab + b^2) \quad (2)$$



La fórmula (1) nos dice que:

### REGLA 1

La suma de dos cubos perfectos se descompone en dos factores:

1º La suma de sus raíces cúbicas. 2º El cuadrado de la primera raíz, **menos** el producto de las dos raíces, más el cuadrado de la segunda raíz. La fórmula (2) nos dice que:

### REGLA 2

La diferencia de dos cubos perfectos se descompone en dos factores:

1º La diferencia de sus raíces cúbicas. 2º El cuadrado de la primera raíz, **más** el producto de las dos raíces, más el cuadrado de la segunda raíz.

## 155 FACTORAR UNA SUMA O UNA DIFERENCIA DE CUBOS PERFECTOS

### Ejemplos

(1) Factorar  $x^3 + 1$ .

La raíz cúbica de  $x^3$  es  $x$ , la raíz cúbica de 1 es 1. Según la Regla 1:

$$x^3 + 1 = (x + 1)[x^2 - x + 1] = (x + 1)(x^2 - x + 1). \quad R.$$

(2) Factorar  $a^3 - 8$ .

La raíz cúbica de  $a^3$  es  $a$ , la de 8 es 2. Según la Regla 2:

$$a^3 - 8 = (a - 2)[a^2 + 2a + 2^2] = (a - 2)(a^2 + 2a + 4). \quad R.$$

(3) Factorar  $27a^3 + b^3$ .

La raíz cúbica de  $27a^3$  es  $3a$ , la de  $b^3$  es  $b$ . Según la Regla 1 tendremos:

$$27a^3 + b^3 = (3a + b)[(3a)^2 - 3a(b) + b^2] = (3a + b)(9a^2 - 3ab + b^2). \quad R.$$

(4) Factorar  $8x^3 - 125$ .

La raíz cúbica de  $8x^3$  es  $2x$ , la de 125 es 5. Según la Regla 2 tendremos:

$$8x^3 - 125 = (2x - 5)[(2x)^2 + 5(2x) + 5^2] = (2x - 5)(4x^2 + 10x + 25). \quad R.$$

(5) Factorar  $27m^3 + 64n^3$ .

$$27m^3 + 64n^3 = (3m + 4n)(9m^2 - 12mn + 16n^2). \quad R.$$

### EJERCICIO 103

Descomponer en 2 factores:

- |                  |                    |                      |                      |
|------------------|--------------------|----------------------|----------------------|
| 1. $1 + a^3$ .   | 7. $y^3 - 1$ .     | 13. $27a^3 - b^3$ .  | 19. $8x^3 - 27y^3$ . |
| 2. $1 - a^3$ .   | 8. $8x^3 - 1$ .    | 14. $64 + a^3$ .     | 20. $1 + 343n^3$ .   |
| 3. $x^3 + y^3$ . | 9. $1 - 8x^3$ .    | 15. $a^3 - 125$ .    | 21. $64a^3 - 729$ .  |
| 4. $m^3 - n^3$ . | 10. $x^3 - 27$ .   | 16. $1 - 216m^3$ .   | 22. $a^3b^3 - x^3$ . |
| 5. $a^3 - 1$ .   | 11. $a^3 + 27$ .   | 17. $8a^3 + 27b^3$ . | 23. $512 + 27a^3$ .  |
| 6. $y^3 + 1$ .   | 12. $8x^3 + y^3$ . | 18. $x^3 - b^3$ .    | 24. $x^3 - 8y^3$ .   |

- |                         |                         |                         |                           |
|-------------------------|-------------------------|-------------------------|---------------------------|
| 25. $1 + 729x^3$ .      | 29. $a^3b^3x^3 + 1$ .   | 33. $x^{12} + y^{12}$ . | 37. $8x^3 - 125y^3 + 6$ . |
| 26. $27m^3 + 64n^3$ .   | 30. $x^3 + y^3$ .       | 34. $1 - 27a^3b^3$ .    | 38. $27m^3 + 343n^3$ .    |
| 27. $343x^3 + 512y^3$ . | 31. $1000x^3 - 1$ .     | 35. $8x^3 + 729$ .      | 39. $216 - x^{12}$ .      |
| 28. $x^3y^3 - 216y^3$ . | 32. $a^3 + 125b^{12}$ . | 36. $a^3 + 8b^{12}$ .   |                           |

### CASOS ESPECIALES

1. Factorar  $(a + b)^3 + 1$ .

La raíz cúbica de  $(a + b)^3$  es  $(a + b)$ ; la de 1 es 1. Tendremos:

$$(a + b)^3 + 1 = [(a + b) + 1][(a + b)^2 - (a + b)(1) + 1^2] \\ = (a + b + 1)(a^2 + 2ab + b^2 - a - b + 1). \quad R.$$

2. Factorar  $8 - (x - y)^3$ .

La raíz cúbica de 8 es 2; la de  $(x - y)^3$  es  $(x - y)$ . Tendremos:

$$8 - (x - y)^3 = [2 - (x - y)][2^2 + 2(x - y) + (x - y)^2] \\ = (2 - x + y)(4 + 2x - 2y + x^2 - 2xy + y^2). \quad R.$$

3. Factorar  $(x + 1)^3 + (x - 2)^3$ .

$$(x + 1)^3 + (x - 2)^3 = [(x + 1) + (x - 2)][(x + 1)^2 - (x + 1)(x - 2) + (x - 2)^2] \\ = (x + 1 + x - 2)(x^2 + 2x + 1 - x^2 + x + 2 + x^2 - 4x + 4) \\ (\text{reduciendo}) = (2x - 1)(x^2 - x + 7). \quad R.$$

4. Factorar  $(a - b)^3 - (a + b)^3$ .

$$(a - b)^3 - (a + b)^3 = [(a - b) - (a + b)][(a - b)^2 + (a - b)(a + b) + (a + b)^2] \\ = (a - b - a - b)(a^2 - 2ab + b^2 + a^2 - b^2 + a^2 + 2ab + b^2) \\ (\text{reduciendo}) = (-2b)(3a^2 + b^2). \quad R.$$

### EJERCICIO 104

Descomponer en dos factores:

- |                       |                          |                               |                                 |
|-----------------------|--------------------------|-------------------------------|---------------------------------|
| 1. $1 + (x + y)^3$ .  | 6. $1 - (2a - b)^3$ .    | 11. $x^6 - (x + 2)^3$ .       | 16. $(2x - y)^3 + (3x + y)^3$ . |
| 2. $1 - (a + b)^3$ .  | 7. $a^3 + (a + 1)^3$ .   | 12. $(a + 1)^3 + (a - 3)^3$ . | 17. $8(a + b)^3 + (a - b)^3$ .  |
| 3. $27 + (m - n)^3$ . | 8. $8a^3 - (a - 1)^3$ .  | 13. $(x - 1)^3 - (x + 2)^3$ . | 18. $64(m + n)^3 - 125$ .       |
| 4. $(x - y)^3 - 8$ .  | 9. $27x^3 - (x - y)^3$ . | 14. $(x - y)^3 - (x + y)^3$ . |                                 |
| 5. $(x + 2y)^3 + 1$ . | 10. $(2a - b)^3 - 27$ .  | 15. $(m - 2)^3 + (m - 3)^3$ . |                                 |

### CASO X

### SUMA O DIFERENCIA DE DOS POTENCIAS IGUALES

156 En el número (95) establecimos y aplicando el Teorema del Residuo (102), probamos que:

- $a^n - b^n$  es divisible por  $a - b$  siendo  $n$  par o impar.
- $a^n + b^n$  es divisible por  $a + b$  siendo  $n$  impar.
- $a^n - b^n$  es divisible por  $a + b$  cuando  $n$  es par.
- $a^n + b^n$  nunca es divisible por  $a - b$ .

y vimos el modo de hallar el cociente cuando la división era exacta.



# 157 FACTORAR UNA SUMA O DIFERENCIA DE POTENCIAS IMPARES IGUALES

## Ejemplos

(1) Factorar  $m^5 + n^5$ .

Dividiendo entre  $m + n$  (96, 4º) los signos del cociente son alternativamente  $+$  y  $-$ :

$$\frac{m^5 + n^5}{m + n} = m^4 - m^3n + m^2n^2 - mn^3 + n^4$$

$$\text{luego } m^5 + n^5 = (m + n)(m^4 - m^3n + m^2n^2 - mn^3 + n^4) \quad R.$$

(2) Factorar  $x^5 + 32$ .

Esta expresión puede escribirse  $x^5 + 2^5$ . Dividiendo por  $x + 2$ , tenemos:

$$\frac{x^5 + 32}{x + 2} = x^4 - x^3(2) + x^2(2^2) - x(2^3) + 2^4$$

$$\text{o sea } \frac{x^5 + 32}{x + 2} = x^4 - 2x^3 + 4x^2 - 8x + 16$$

$$\text{luego } x^5 + 32 = (x + 2)(x^4 - 2x^3 + 4x^2 - 8x + 16) \quad R.$$

(3) Factorar  $a^5 - b^5$ .

Dividiendo por  $a - b$  (96, 4º) los signos del cociente son todos  $+$ :

$$\frac{a^5 - b^5}{a - b} = a^4 + a^3b + a^2b^2 + ab^3 + b^4$$

$$\text{luego } a^5 - b^5 = (a - b)(a^4 + a^3b + a^2b^2 + ab^3 + b^4) \quad R.$$

(4) Factorar  $x^7 - 1$ .

Esta expresión equivale a  $x^7 - 1^7$ . Dividiendo entre  $x - 1$ , se tiene:

$$\frac{x^7 - 1}{x - 1} = x^6 + x^5(1) + x^4(1^2) + x^3(1^3) + x^2(1^4) + x(1^5) + 1^6$$

$$\text{o sea } \frac{x^7 - 1}{x - 1} = x^6 + x^5 + x^4 + x^3 + x^2 + x + 1$$

$$\text{luego } x^7 - 1 = (x - 1)(x^6 + x^5 + x^4 + x^3 + x^2 + x + 1) \quad R.$$

## NOTA

Expresiones que corresponden al caso anterior  $x^n + y^n$  o  $x^n - y^n$  en que  $n$  es impar y múltiplo de 3, como  $x^3 + y^3$ ,  $x^9 - y^9$ ,  $x^3 + y^3$ ,  $x^9 - y^9$ ,  $x^{15} + y^{15}$ ,  $x^{15} - y^{15}$ , pueden descomponerse por el método anteriormente expuesto o como suma o diferencia de cubos. Generalmente es más expedito esto último. Las expresiones de la forma  $x^n - y^n$  en que  $n$  es par, como  $x^4 - y^4$ ,  $x^6 - y^6$ ,  $x^8 - y^8$  son divisibles por  $x + y$  o  $x - y$ , y pueden descomponerse por el método anterior, pero mucho más fácil es factorarlas como diferencia de cuadrados.

## EJERCICIO 105

Factorar:

- |                  |                   |                      |                    |                     |
|------------------|-------------------|----------------------|--------------------|---------------------|
| 1. $a^6 + 1$ .   | 6. $m^7 - n^7$ .  | 9. $x^7 + 128$ .     | 13. $1 + x^7$ .    | 17. $x^{10} + 32$ . |
| 2. $a^5 - 1$ .   | 6. $a^5 + 243$ .  | 10. $243 - 32b^5$ .  | 14. $x^7 - y^7$ .  | 18. $1 + 128a^7$ .  |
| 3. $1 - x^6$ .   | 7. $32 - m^6$ .   | 11. $a^3 + b^5c^5$ . | 15. $a^7 + 2187$ . |                     |
| 4. $a^7 + b^7$ . | 8. $1 + 243x^5$ . | 12. $m^7 - a^7x^7$ . | 16. $1 - 128a^7$ . |                     |

## EJERCICIO 106

MISCELANEA SOBRE LOS 10 CASOS DE DESCOMPOSICION EN FACTORES

Descomponer en factores:

- |  |   |   |
|--|---|---|
| 1. $5a^2 + a$ .                            | 40. $1 + (a - 3b)^6$ .                    | 80. $x^4 - 4x^3 - 480$ .                    |
| 2. $m^2 + 2mx + x^2$ .                     | 41. $x^4 + x^2 + 25$ .                    | 81. $ax - bx + b - a - by + ay$ .           |
| 3. $a^2 + a - ab - b$ .                    | 42. $a^5 - 28a^4 + 36$ .                  | 82. $6am - 3m - 2a + 1$ .                   |
| 4. $x^2 - 36$ .                            | 43. $343 + 8a^5$ .                        | 83. $15 + 14x - 8x^2$ .                     |
| 5. $9x^2 - 6xy + y^2$ .                    | 44. $12a^2bx - 15a^2by$ .                 | 84. $a^{10} - a^5 + a^6 + a^4$ .            |
| 6. $x^2 - 3x - 4$ .                        | 45. $x^2 + 2xy - 15y^2$ .                 | 85. $2x(a - 1) - a + 1$ .                   |
| 7. $6x^2 - x - 2$ .                        | 46. $6am - 4an - 2n + 3m$ .               | 86. $(m + n)(m - n) + 3n(m - n)$ .          |
| 8. $1 + x^3$ .                             | 47. $81a^6 - 4b^2c^3$ .                   | 87. $a^2 - b^2 + 2b^2x^2 - 2a^2x^2$ .       |
| 9. $27a^3 - 1$ .                           | 48. $16 - (2a + b)^2$ .                   | 88. $2am - 3b - c - cm - 3bm + 2a$ .        |
| 10. $x^3 + m^3$ .                          | 49. $20 - x - x^2$ .                      |   |
| 11. $a^3 - 3a^2b + 5ab^2$ .                | 50. $n^2 + n - 42$ .                      | 89. $x^2 - \frac{2}{3}x + \frac{1}{9}$ .    |
| 12. $2xy - 6y + xz - 3z$ .                 | 51. $a^2 - d^2 + n^2 - c^2 - 2an - 2cd$ . | 90. $4a^{2n} - b^{4n}$ .                    |
| 13. $1 - 4b + 4b^2$ .                      | 52. $1 + 216x^9$ .                        | 91. $81x^2 - (a + x)^2$ .                   |
| 14. $4x^4 + 3x^2y^2 + y^4$ .               | 53. $x^8 - 64$ .                          | 92. $a^2 + 9 - 6a - 16x^2$ .                |
| 15. $x^6 - 6x^4y^2 + y^6$ .                | 54. $x^3 - 64x^4$ .                       | 93. $9a^2 - x^2 - 4 + 4x$ .                 |
| 16. $a^2 - a - 30$ .                       | 55. $18ax^5y^3 - 36x^4y^3 - 54x^2y^3$ .   | 94. $9x^2 - y^2 + 3x - y$ .                 |
| 17. $15m^2 + 11m - 14$ .                   | 56. $49a^2b^2 - 14ab + 1$ .               | 95. $x^2 - x - 72$ .                        |
| 18. $a^4 + 1$ .                            | 57. $(x + 1)^2 - 81$ .                    | 96. $36a^4 - 120a^2b^2 + 49b^4$ .           |
| 19. $8m^3 - 27y^6$ .                       | 58. $a^2 - (b + c)^2$ .                   | 97. $a^2 - m^2 - 9n^2 - 6mn + 4ab + 4b^2$ . |
| 20. $16a^2 - 24ab + 9b^2$ .                | 59. $(m + n)^2 - 6(m + n) + 9$ .          |   |
| 21. $1 + a^7$ .                            | 60. $7x^2 + 31x - 20$ .                   | 98. $1 - \frac{4}{9}a^6$ .                  |
| 22. $8a^3 - 12a^2 + 6a - 1$ .              | 61. $9a^5 + 63a - 45a^2$ .                | 99. $81a^6 + 64b^{12}$ .                    |
| 23. $1 - m^2$ .                            | 62. $ax + a - x - 1$ .                    | 100. $49x^2 - 77x + 30$ .                   |
| 24. $x^4 + 4x^2 - 21$ .                    | 63. $81x^4 + 25y^2 - 90x^2y$ .            | 101. $x^2 - 2abx - 35a^2b^2$ .              |
| 25. $125a^3 + 1$ .                         | 64. $1 - 27b^2 + b^4$ .                   | 102. $125x^3 - 225x^2 + 135x - 27$ .        |
| 26. $a^2 + 2ab + b^2 - m^2$ .              | 65. $m^4 + m^2n^2 + n^4$ .                | 103. $(a - 2)^2 - (a + 3)^2$ .              |
| 27. $8a^2b + 16a^3b - 24a^2b^2$ .          | 66. $c^4 - 4d^4$ .                        | 104. $4a^2m + 12a^2n - 5bm - 1$ .           |
| 28. $x^6 - x^4 + x - 1$ .                  | 67. $15x^4 - 15x^3 + 20x^2$ .             | 105. $1 + 6x^8 + 9x^6$ .                    |
| 29. $6x^2 + 19x - 20$ .                    | 68. $a^2 - x^2 - a - x$ .                 | 106. $a^4 + 3a^2b - 40b^2$ .                |
| 30. $25x^4 - 81y^2$ .                      | 69. $x^4 - 8x^2 - 240$ .                  | 107. $m^3 + 8a^3x^3$ .                      |
| 31. $1 - m^3$ .                            | 70. $6m^4 + 7m^2 - 20$ .                  | 108. $1 - 9x^2 + 24xy - 16y^2$ .            |
| 32. $x^2 - a^2 + 2xy + y^2 + 2ab - b^2$ .  | 71. $9n^2 + 4a^2 - 12an$ .                | 109. $1 + 11x + 24x^2$ .                    |
| 33. $21m^6n - 7m^4n^2 + 7m^2n^3 - 7m^2n$ . | 72. $2x^2 + 2$ .                          | 110. $9x^2y^3 - 27x^3y^3 - 9x^6y^3$ .       |
| 34. $a(x + 1) - b(x + 1) + c(x + 1)$ .     | 73. $7a(x + y - 1) - 3b(x + y - 1)$ .     | 111. $(a^2 + b^2 - c^2)^2 - 9x^2y^2$ .      |
| 35. $4 + 4(x - y) + (x - y)^2$ .           | 74. $x^2 + 3x - 18$ .                     | 112. $8(a + 1)^3 - 1$ .                     |
| 36. $1 - a^2b^4$ .                         | 75. $(a + m)^2 - (b + n)^2$ .             | 113. $100x^4y^0 - 121m^4$ .                 |
| 37. $b^2 + 12ab + 36a^2$ .                 | 76. $x^3 + 6x^2y + 12xy^2 + 8y^3$ .       | 114. $(a^2 + 1)^2 + 5(a^2 + 1) - 24$ .      |
| 38. $x^6 + 4x^3 - 77$ .                    | 77. $8a^2 - 22a - 21$ .                   | 115. $1 + 1000x^6$ .                        |
| 39. $15x^4 - 17x^2 - 4$ .                  | 78. $1 + 18ab + 81a^2b^2$ .               |   |
|  | 79. $4a^4 - 1$ .                          |   |



116.  $49a^2 - x^2 - 9y^2 + 6xy$ .  
 117.  $x^4 - y^2 + 4x^2 + 4 - 4yz - 4z^2$ .  
 118.  $a^3 - 64$ .  
 119.  $a^3 + x^5$ .  
 120.  $a^5 - 3a^3b - 54b^2$ .  
 121.  $165 + 4x - x^2$ .  
 122.  $x^4 + a^2 + 1$ .  
 123.  $\frac{x^2}{4} - \frac{y^2}{81}$ .  
 124.  $16x^2 + \frac{8xy}{5} + \frac{y^2}{25}$ .

125.  $a^4b^4 + 4a^2b^2 - 96$ .  
 126.  $8a^2x + 7y + 21by - 7ay - 8a^3x + 24a^2bx$ .  
 127.  $x^4 + 11x^2 - 390$ .  
 128.  $7 + 33m - 10m^2$ .  
 129.  $4(a+b)^2 - 9(c+d)^2$ .  
 130.  $729 - 125x^5y^{12}$ .  
 131.  $(x+y)^2 + x + y$ .  
 132.  $4 - (a^2 + b^2) + 2ab$ .  
 133.  $x^3 - y^3 + x - y$ .  
 134.  $a^2 - b^2 + a^3 - b^3$ .

## COMBINACION DE CASOS DE FACTORES

## 158 DESCOMPOSICION DE UNA EXPRESION ALGEBRAICA EN TRES FACTORES

## Ejemplos

(1) Descomponer en tres factores  $5a^2 - 5$ .

Lo primero que debe hacerse es ver si hay algún factor común, y si lo hay, sacar dicho factor común.

Así, en este caso, tenemos el factor común 5, luego:

$$5a^2 - 5 = 5(a^2 - 1)$$

pero el factor  $(a^2 - 1) = (a + 1)(a - 1)$ , luego:

$$5a^2 - 5 = 5(a + 1)(a - 1) \quad R.$$

donde vemos que  $5a^2 - 5$  está descompuesta en tres factores.(2) Descomponer en tres factores  $3x^3 - 18x^2y + 27xy^2$ .Sacando el factor común  $3x$ :

$$3x^3 - 18x^2y + 27xy^2 = 3x(x^2 - 6xy + 9y^2)$$

pero el factor  $(x^2 - 6xy + 9y^2)$  es un trinomio cuadrado perfecto que descompuesto da  $(x^2 - 6xy + 9y^2) = (x - 3y)^2$ , luego:

$$3x^3 - 18x^2y + 27xy^2 = 3x(x - 3y)^2 \quad R.$$

(3) Descomponer en tres factores  $x^4 - y^4$ .

$$x^4 - y^4 = (x^2 + y^2)(x^2 - y^2)$$

pero  $(x^2 - y^2) = (x + y)(x - y)$ , luego:

$$x^4 - y^4 = (x^2 + y^2)(x + y)(x - y) \quad R.$$

(4) Descomponer en tres factores  $6ax^2 + 12ax - 90a$ .Sacando el factor común  $6a$ :

$$6ax^2 + 12ax - 90a = 6a(x^2 + 2x - 15)$$

pero  $(x^2 + 2x - 15) = (x + 5)(x - 3)$ , luego,

$$6ax^2 + 12ax - 90a = 6a(x + 5)(x - 3) \quad R.$$

(5) Descomponer en tres factores  $3x^4 - 26x^2 - 9$ .Factorando esta expresión:  $3x^4 - 26x^2 - 9 = (3x^2 + 1)(x^2 - 9)$ 

$$= (3x^2 + 1)(x + 3)(x - 3) \quad R.$$

(6) Descomponer en tres factores  $8x^3 + 8$ .

$$8x^3 + 8 = 8(x^3 + 1)$$

$$= 8(x + 1)(x^2 - x + 1) \quad R.$$

(7) Descomponer en tres factores  $a^4 - 8a + a^3 - 8$ .

$$\begin{aligned} a^4 - 8a + a^3 - 8 &= (a^4 - 8a) + (a^3 - 8) \\ &= a(a^3 - 8) + (a^3 - 8) \\ &= (a + 1)(a^3 - 8) \\ &= (a + 1)(a - 2)(a^2 + 2a + 4). \end{aligned}$$

(8) Descomponer en tres factores  $x^3 - 4x - x^2 + 4$ .

$$\begin{aligned} x^3 - 4x - x^2 + 4 &= (x^3 - 4x) - (x^2 - 4) \\ &= x(x^2 - 4) - (x^2 - 4) \\ &= (x - 1)(x^2 - 4) \\ &= (x - 1)(x + 2)(x - 2) \quad R. \end{aligned}$$

## EJERCICIO 107

Descomponer en tres factores:

- |                                   |  |   |
|-----------------------------------|--|---|
| 1. $3ax^2 - 3a$ .                 | 22. $m^3 + 3m^2 - 16m - 48$ .            | 43. $(x^2 - 2xy)(a + 1) + y^2(a + 1)$ .             |
| 2. $3x^2 - 3x - 6$ .              | 23. $x^3 - 6x^2y + 12xy^2 - 8y^3$ .      | 44. $x^3 + 2x^2y - 3xy^2$ .                         |
| 3. $2a^2x - 4abx + 2b^2x$ .       | 24. $(a + b)(a^2 - b^2) - (a^2 - b^2)$ . | 45. $a^2x - 4b^2x + 2a^2y - 8b^2y$ .                |
| 4. $2a^3 - 2$ .                   | 25. $32a^5x - 48a^3bx + 18ab^2x$ .       | 46. $45a^2x^4 - 20a^2$ .                            |
| 5. $a^3 - 3a^2 - 28a$ .           | 26. $x^4 - x^3 + x^2 - x$ .              | 47. $a^4 - (a - 1)^2$ .                             |
| 6. $x^3 - 4x + x^2 - 4$ .         | 27. $4x^2 + 32x - 36$ .                  | 48. $bx^2 - b - x^2 + 1$ .                          |
| 7. $3ax^3 + 3ay^3$ .              | 28. $a^4 - (a + 2)^2$ .                  | 49. $2x^4 + 6x^3 - 56x^2$ .                         |
| 8. $4ab^2 - 4abn + an^2$ .        | 29. $x^6 - 25x^3 - 54$ .                 | 50. $30a^2 - 55a - 50$ .                            |
| 9. $x^4 - 3x^2 - 4$ .             | 30. $a^6 + a$ .                          | 51. $9(x - y)^2 - (x - y)$ .                        |
| 10. $a^3 - a^2 - a + 1$ .         | 31. $a^3b + 2a^2bx + abx^2 - aby^2$ .    | 52. $6a^2x - 9a^2 - ax^2$ .                         |
| 11. $2ax^2 - 4ax + 2a$ .          | 32. $3abm^2 - 3ab$ .                     | 53. $64a - 125a^4$ .                                |
| 12. $x^3 - x + x^2y - y$ .        | 33. $81x^4y + 3xy^4$ .                   | 54. $70x^4 + 26x^3 - 24x^2$ .                       |
| 13. $2a^3 + 6a^2 - 8a$ .          | 34. $a^4 - a^2 + a - 1$ .                | 55. $a^7 + 6a^5 - 55a^3$ .                          |
| 14. $16x^3 - 48x^2y + 36xy^2$ .   | 35. $x - 3x^2 - 18x^3$ .                 | 56. $16a^2b - 56a^3b^3 + 49ab^5$ .                  |
| 15. $3x^3 - x^2y - 3xy^2 + y^3$ . | 36. $6ax - 2bx + 6ab - 2b^2$ .           | 57. $7x^6 + 32a^2x^4 - 15a^4x^2$ .                  |
| 16. $5a^4 + 5a$ .                 | 37. $am^3 - 7am^2 + 12am$ .              | 58. $x^{2m+2} - x^{2m}$ .                           |
| 17. $6ax^2 - ax - 2a$ .           | 38. $4a^2x^3 - 4a^2$ .                   | 59. $3x^4 + 5x^3 - 54x - 135$ .                     |
| 18. $n^4 - 81$ .                  | 39. $28x^3y - 7xy^3$ .                   | 60. $ax^3 + ax^2y + axy^2 - 2ax^3 - 2axy - 2ay^2$ . |
| 19. $8ax^2 - 2a$ .                | 40. $3abx^2 - 3abx - 18ab$ .             | 61. $(x + y)^4 - 1$ .                               |
| 20. $ax^3 + 10ax^2 + 25ax$ .      | 41. $x^4 - 8x^2 - 128$ .                 | 62. $3a^3 + 3a^2 + 3a$ .                            |
| 21. $x^3 - 6x^2 - 7x$ .           | 42. $18x^2y + 60xy^2 + 50y^3$ .          |   |

## 159 DESCOMPOSICION DE UNA EXPRESION ALGEBRAICA EN CUATRO FACTORES

## Ejemplos

(1) Descomponer en cuatro factores  $2x^4 - 32$ .

$$\begin{aligned} 2x^4 - 32 &= 2(x^4 - 16) \\ &= 2(x^2 + 4)(x^2 - 4) \\ &= 2(x^2 + 4)(x + 2)(x - 2) \quad R. \end{aligned}$$

(2) Descomponer en cuatro factores  $a^4 - b^4$ .

Esta expresión puede factorarse como diferencia de cuadrados o como diferencia de cubos. Por los dos métodos obtenemos resultados idénticos.

Factorando como diferencia de cuadrados:

$$a^4 - b^4 = (a^2 + b^2)(a^2 - b^2)$$

(factorando  $a^2 + b^2$  y  $a^2 - b^2$ )  $= (a + b)(a^2 - ab + b^2)(a - b)(a^2 + ab + b^2) \quad R.$



Factorando como diferencia de cubos:

$$a^6 - b^6 = (a^2 - b^2)(a^4 + a^2b^2 + b^4) \\ = (a + b)(a - b)(a^2 + ab + b^2)(a^2 - ab + b^2). \quad R.$$

$(a^4 + a^2b^2 + b^4)$  se descompone como trinomio cuadrado perfecto por adición y sustracción.

El resultado obtenido por este método es idéntico al anterior, ya que el orden de los factores no altera el producto.

- (3) Descomponer en cuatro factores
- $x^4 - 13x^2 + 36$
- .

$$x^4 - 13x^2 + 36 = (x^2 - 9)(x^2 - 4)$$

$$(\text{factorando } x^2 - 9 \text{ y } x^2 - 4) = (x + 3)(x - 3)(x + 2)(x - 2). \quad R.$$

- (4) Descomponer en cuatro factores
- $1 - 18x^2 + 81x^4$
- .

$$1 - 18x^2 + 81x^4 = (1 - 9x^2)^2$$

$$(\text{factorando } 1 - 9x^2) = [(1 + 3x)(1 - 3x)]^2$$

$$= (1 + 3x)^2(1 - 3x)^2. \quad R.$$

- (5) Descomponer en cuatro factores
- $4x^5 - x^3 + 32x^2 - 8$
- .

$$4x^5 - x^3 + 32x^2 - 8 = (4x^5 - x^3) + (32x^2 - 8)$$

$$= x^3(4x^2 - 1) + 8(4x^2 - 1)$$

$$= (4x^2 - 1)(x^3 + 8)$$

$$(\text{factorando } 4x^2 - 1 \text{ y } x^3 + 8) = (2x + 1)(2x - 1)(x + 2)(x^2 - 2x + 4). \quad R.$$

- (6) Descomponer en cuatro factores
- $x^5 - 25x^3 - 54x^2$
- .

$$x^5 - 25x^3 - 54x^2 = x^2(x^3 - 25x - 54)$$

$$= x^2(x^3 - 27)(x^2 + 2)$$

$$(\text{factorando } x^3 - 27) = x^2(x - 3)(x^2 + 3x + 9)(x^2 + 2). \quad R.$$

**EJERCICIO 108**

Descomponer en cuatro factores:

1.  $a^5 - a^3$ .  
 2.  $a^4 - 1$ .  
 3.  $x^4 - 41x^2 + 40$ .  
 4.  $x^4 - 2a^2b^2 + b^4$ .  
 5.  $x^5 + x^3 - 2x$ .  
 6.  $2x^4 + 6x^3 - 2x - 6$ .  
 7.  $3x^4 - 243$ .  
 8.  $16x^4 - 8x^2y^2 + y^4$ .  
 9.  $10x^4 + 9x^3y - x^2 - xy$ .  
 10.  $12ax^4 + 33ax^2 - 9a$ .  
 11.  $x^6 - y^6$ .  
 12.  $x^6 - 7x^3 - 8$ .  
 13.  $34 - x^6$ .

14.  $a^5 - a^3b^2 - a^2b^3 + b^5$ .  
 15.  $8x^4 + 6x^2 - 2$ .  
 16.  $a^4 - 25a^2 + 144$ .  
 17.  $a^2x^3 - a^2y^3 + 2ax^2 - 2ay^2$ .  
 18.  $a^4 + 2a^3 - a^2 - 2a$ .  
 19.  $1 - 2a^3 + a^6$ .  
 20.  $m^6 - 729$ .  
 21.  $x^5 - x$ .  
 22.  $x^5 - x^3y^2 + x^2y^3 - y^5$ .  
 23.  $a^4b - a^3b^2 - a^2b^3 + ab^4$ .  
 24.  $5a^4 - 3125$ .  
 25.  $(a^2 + 2a)^2 - 2(a^2 + 2a) - 3$ .  
 26.  $a^2x^3 + 2ax^3 - 8a^2 - 16a$ .

27.  $1 - a^9b^6$ .  
 28.  $5ax^3 + 10ax^2 - 5ax - 10a$ .  
 29.  $a^2x^2 + b^2y^2 - b^2x^2 - a^2y^2$ .  
 30.  $x^5 + x^4 - 2$ .  
 31.  $a^4 + a^8 - 9a^2 - 9a$ .  
 32.  $a^2x^2 + a^2x - 6a^2 - x^2 - x + 6$ .  
 33.  $16m^4 - 25m^2 + 9$ .  
 34.  $3abx^2 - 12ab + 3bx^2 - 12b$ .  
 35.  $3a^2m + 9am - 30m + 3a^2 + 9a - 30$ .  
 36.  $a^3x^2 - 5a^3x + 6a^3 + x^2 - 5x + 6$ .  
 37.  $x^2(x^2 - y^2) - (2x - 1)(x^2 - y^2)$ .  
 38.  $a(x^3 + 1) + 3ax(x + 1)$ .

**EJERCICIO 109**

Descomponer en cinco factores:

1.  $x^5 - xy^5$ .  
 2.  $x^5 - 40x^3 + 144x$ .  
 3.  $a^6 + a^3b^3 - a^4 - ab^3$ .  
 4.  $4x^4 - 8x^2 + 4$ .  
 5.  $a^7 - ab^6$ .

6.  $2a^4 - 2a^3 - 4a^2 - 2a^2b^2 + 2ab^2 + 4b^2$ .  
 7.  $x^6 + 5x^5 - 81x^3 - 405x$ .  
 8.  $3 - 3a^4$ .  
 9.  $4ax^2(a^2 - 2ax + x^2) - a^3 + 2a^2x - ax^2$ .  
 10.  $x^7 + x^4 - 81x^3 - 81$ .

Descomponer en seis factores:

11.  $x^{17} - x$ .  
 12.  $3x^6 - 75x^4 - 48x^2 + 1200$ .

13.  $a^6x^2 - x^2 + a^6x - x$ .  
 14.  $(a^2 - ax)(x^4 - 82x^2 + 81)$ .

**160 DESCOMPOSICION DE UN POLINOMIO EN FACTORES POR EL METODO DE EVALUACION**

En la Divisibilidad por  $x - a$  (101) hemos demostrado que si un polinomio entero y racional en  $x$  se anula para  $x = a$ , el polinomio es divisible por  $x - a$ . Aplicaremos ese principio a la descomposición de un polinomio en factores por el Método de Evaluación.

**Ejemplos**

- (1) Descomponer por evaluación
- $x^3 + 2x^2 - x - 2$
- .

Los valores que daremos a  $x$  son los factores del término independiente 2 que son  $+1, -1, +2$  y  $-2$ . Veamos si el polinomio se anula para  $x = 1, x = -1, x = 2, x = -2$  y si se anula para alguna de estas valores, el polinomio será divisible por  $x$  menos ese valor.

Aplicando la división sintética explicada en el número (100) y (101, e), 3,

veremos si el polinomio se anula para estos valores de  $x$  y simultáneamente hallamos los coeficientes del cociente de la división. En este caso, tendremos:

Coeficientes del polinomio	1	+2	-1	-2	+1	$x = 1$
		$1 \times 1 = +1$	$3 \times 1 = +3$	$2 \times 1 = +2$		
Coeficientes del cociente	1	+3	+2	0		

El residuo es 0, o sea que el polinomio dado se anula para  $x = 1$ , luego es divisible por  $(x - 1)$ .

Dividiendo  $x^3 + 2x^2 - x - 2$  entre  $x - 1$  el cociente será de 2° grado y sus coeficientes son 1, 3 y 2, luego el cociente es  $x^2 + 3x + 2$  y como el dividendo es igual al producto del divisor por el cociente, tendremos:

$$x^3 + 2x^2 - x - 2 = (x - 1)(x^2 + 3x + 2)$$

$$(\text{factorando el trinomio}) = (x - 1)(x + 1)(x + 2). \quad R.$$

- (2) Descomponer por evaluación
- $x^3 - 3x^2 - 4x + 12$
- .

Los factores de 12 son  $\pm 1, 2, 3, 4, 6, 12$ .

**PRUEBAS**

Coeficientes del polinomio	1	-3	-4	+12	+1	$x = 1$
		$1 \times 1 = +1$	$(-2) \times 1 = -2$	$(-6) \times 1 = -6$		
	1	-2	-6	+6		

El residuo es 6, luego el polinomio no se anula para  $x = 1$ , y no es divisible por  $(x - 1)$ .

Coeficientes del polinomio	1	-3	-4	+12	-1	$x = -1$
		$1 \times (-1) = -1$	$(-4) \times (-1) = +4$	$0 \times (-1) = 0$		
	1	-4	0	+12		

El residuo es 12, luego el polinomio no se anula para  $x = -1$  y no es divisible por  $x - (-1) = x + 1$ .

Coeficientes del polinomio	1	-3	-4	+12	+2	$x = 2$
		$1 \times 2 = +2$	$(-1) \times 2 = -2$	$(-6) \times 2 = -12$		
	1	-1	-6	0		



El residuo es 0 luego el polinomio dado se anula para  $x=2$  y es divisible por  $(x-2)$ .

El cociente de dividir el polinomio dado  $x^3 - 3x^2 - 4x + 12$  entre  $x-2$  será de 2º grado y sus coeficientes son 1, -1 y -6, luego el cociente será  $x^2 - x - 6$ .

Por tanto:

$$x^3 - 3x^2 - 4x + 12 = (x-2)(x^2 - x - 6)$$

(factorando el trinomio)  $= (x-2)(x-3)(x+2)$ . R.

### (3) Descomponer por evaluación $x^4 - 11x^2 - 18x - 8$ .

Los factores de 8 son  $\pm(1, 2, 4, 8)$ .

Al escribir los coeficientes del polinomio dado hay que poner cero en el lugar correspondiente a los términos que faltan. En este caso, ponemos cero en el lugar correspondiente al término en  $x^3$  que falta.

#### PRUEBAS

Coeficientes del polinomio	1	0	-11	-18	-8	+1	$x=1$
		+1	+1	-10	-28		
	1	+1	-10	-28	-36		no se anula
	1	0	-11	-18	-8	-1	$x=-1$
		-1	+1	+10	+8		
Coeficientes del cociente	1	-1	-10	-8	0		

Se anula para  $x=-1$ , luego el polinomio dado es divisible por

$$x - (-1) = x + 1.$$

El cociente de dividir  $x^4 - 11x^2 - 18x - 8$  entre  $x+1$  será de 3er. grado y sus coeficientes son 1, -1, -10 y -8, luego el cociente será  $x^3 - x^2 - 10x - 8$ .

Por tanto:  $x^4 - 11x^2 - 18x - 8 = (x+1)(x^3 - x^2 - 10x - 8)$ . (1)

Ahora vamos a descomponer  $x^3 - x^2 - 10x - 8$  por el mismo método.

El valor  $x=1$ , que no anuló al polinomio dado, no se prueba porque no puede anular a este polinomio.

El valor  $x=-1$ , que anuló al polinomio dado, se prueba nuevamente. Tendremos:

	1	-1	-10	-8	-1	$x=-1$
		-1	+2	+8		
Coeficientes del cociente	1	-2	-8	0		

Se anula para  $x=-1$ , luego  $x^3 - x^2 - 10x - 8$  es divisible por  $x+1$ . El cociente será  $x^2 - 2x - 8$ , luego

$$x^3 - x^2 - 10x - 8 = (x+1)(x^2 - 2x - 8).$$

Sustituyendo en (1) este valor, tenemos:

$$x^4 - 11x^2 - 18x - 8 = (x+1)(x+1)(x^2 - 2x - 8)$$

(factorando el trinomio)  $= (x+1)(x+1)(x-4)(x+2)$   
 $= (x+1)^2(x+2)(x-4)$ . R.

### (4) Descomponer por evaluación $x^5 - x^4 - 7x^3 - 7x^2 + 22x + 24$ .

Los factores de 24 son  $\pm(1, 2, 3, 4, 6, 8, 12, 24)$ .

#### PRUEBAS

Coeficientes del polinomio	1	-1	-7	-7	+22	+24	+1	$x=1$
		+1	0	-7	-14	+8		
	1	0	-7	-14	+8	+32		no se anula
	1	-1	-7	-7	+22	+24	-1	$x=-1$
		-1	+2	+5	+2	-24		
Coeficientes del cociente	1	-2	-5	-2	+24	0		

Se anula para  $x=-1$ , luego es divisible por  $x+1$ . El cociente será  $x^4 - 2x^3 - 5x^2 - 2x + 24$ , luego:

$$x^5 - x^4 - 7x^3 - 7x^2 + 22x + 24 = (x+1)(x^4 - 2x^3 - 5x^2 - 2x + 24). \quad (1)$$

Ahora descomponemos  $x^4 - 2x^3 - 5x^2 - 2x + 24$ . Se prueba nuevamente  $x=-1$ .

Coeficientes del polinomio	1	-2	-5	-2	+24	-1	$x=-1$
		-1	+3	+2	0		
	1	-3	-2	0	24		no se anula
	1	-2	-5	-2	+24	+2	$x=2$
		+2	0	-10	-24		
Coeficientes del cociente	1	0	-5	-12	0		

Se anula para  $x=2$ , luego  $x^4 - 2x^3 - 5x^2 - 2x + 24$  es divisible por  $x-2$ . El cociente es  $x^3 - 5x - 12$ , luego:

$$x^4 - 2x^3 - 5x^2 - 2x + 24 = (x-2)(x^3 - 5x - 12).$$

Sustituyendo esta descomposición en (1), tenemos:

$$x^5 - x^4 - 7x^3 - 7x^2 + 22x + 24 = (x+1)(x-2)(x^3 - 5x - 12). \quad (2)$$

Ahora descomponemos  $x^3 - 5x - 12$ . Se prueba nuevamente  $x=2$ , poniendo cero en el lugar correspondiente a  $x^2$ , que falta. Tendremos:

Coeficientes del polinomio	1	0	-5	-12	+2	$x=2$
			+2	+4	-2	
	1	+2	-1	-14		no se anula
	1	0	-5	-12	-2	$x=-2$
		-2	+4	+2		
	1	-2	-1	-10		no se anula
	1	0	-5	-12	+3	$x=3$
		+3	+9	+12		
Coeficientes del cociente	1	+3	+4	0		

Se anula para  $x=3$ , luego  $x^3 - 5x - 12$  es divisible por  $x-3$ . El cociente es  $x^2 + 3x + 4$ , luego:

$$x^3 - 5x - 12 = (x-3)(x^2 + 3x + 4).$$

Sustituyendo esta descomposición en (2), tenemos:

$$x^5 - x^4 - 7x^3 - 7x^2 + 22x + 24 = (x+1)(x-2)(x-3)(x^2 + 3x + 4). \quad R.$$

(El trinomio  $x^2 + 3x + 4$  no tiene descomposición).



(5) Descomponer por evaluación  $6x^5 + 19x^4 - 59x^3 - 160x^2 - 4x + 48$ .

Los factores de 48: son  $\pm (1, 2, 3, 4, 6, 8, 12, 16, 24, 48)$

Probando para  $x = 1$ ,  $x = -1$ ,  $x = 2$ , veremos que el polinomio no se anula.

Probando para  $x = -2$ :

Coeficientes del polinomio	6	+ 19	- 59	- 160	- 4	+ 48	- 2	$x = -2$
Coeficientes del cociente	6	+ 7	- 73	- 14	+ 24	0		

Se anula, luego:

$$6x^5 + 19x^4 - 59x^3 - 160x^2 - 4x + 48 = (x + 2)(6x^4 + 7x^3 - 73x^2 - 14x + 24). \quad (1)$$

Ahora descomponemos  $6x^4 + 7x^3 - 73x^2 - 14x + 24$ . Probando  $x = -2$ , veremos que no se anula. Probando  $x = 3$ .

6	+ 7	- 73	- 14	+ 24	+ 3	$x = 3$
6	+ 25	+ 2	- 8	0		

Se anula, luego:

$$6x^4 + 7x^3 - 73x^2 - 14x + 24 = (x - 3)(6x^3 + 25x^2 + 2x - 8).$$

Sustituyendo esta descomposición en (1):

$$6x^5 + 19x^4 - 59x^3 - 160x^2 - 4x + 48 = (x + 2)(x - 3)(6x^3 + 25x^2 + 2x - 8). \quad (2)$$

Ahora descomponemos  $6x^3 + 25x^2 + 2x - 8$ .

$x = 3$  no se prueba, aunque anuló al polinomio anterior, porque 3 no es factor del término independiente 8.

Si probamos  $x = 4$ , veremos que no anula a este polinomio. Probando  $x = -4$ :

6	+ 25	+ 2	- 8	- 4	$x = -4$
6	+ 1	- 2	0		

Se anula, luego:

$$6x^3 + 25x^2 + 2x - 8 = (x + 4)(6x^2 + x - 2).$$

Sustituyendo esta descomposición en (2), tenemos:

$$6x^5 + 19x^4 - 59x^3 - 160x^2 - 4x + 48 = (x + 2)(x - 3)(x + 4)(6x^2 + x - 2)$$

$$[\text{factorando el trinomio}] = (x + 2)(x - 3)(x + 4)(3x + 2)(2x - 1). \quad R.$$

(6) Descomponer por evaluación  $3a^6 - 47a^4 - 21a^2 + 80$ .

Al escribir los coeficientes tenemos que poner cero como coeficiente de los términos en  $a^5$ , en  $a^3$  y en  $a$ , que faltan.

Haciendo  $a = 1$ ,  $a = -1$ ,  $a = 2$ ,  $a = -2$  veremos que el polinomio no se anula.

Probando  $a = 4$ :

3	0	- 47	0	- 21	0	+ 80	+ 4
3	+ 12	+ 1	+ 4	- 5	- 20	0	

Se anula, luego:

$$3a^6 - 47a^4 - 21a^2 + 80 = (a - 4)(3a^5 + 12a^4 + a^3 + 4a^2 - 5a - 20). \quad (1)$$

Para descomponer el cociente, si probamos  $a = 4$  veremos que no se anula.

Probando  $a = -4$ :

3	+ 12	+ 1	+ 4	- 5	- 20	- 4
3	0	+ 1	0	- 5	0	

Se anula, luego:

$$3a^5 + 12a^4 + a^3 + 4a^2 - 5a - 20 = (a + 4)(3a^4 + a^2 - 5).$$

Sustituyendo en (1):

$$3a^6 - 47a^4 - 21a^2 + 80 = (a - 4)(a + 4)(3a^4 + a^2 - 5). \quad R.$$

[El trinomio  $3a^4 + a^2 - 5$  no tiene descomposición.]

## ■ EJERCICIO 110

Descomponer por evaluación:

1.  $x^3 + x^2 - x - 1$ .
2.  $x^3 - 4x^2 + x + 6$ .
3.  $a^3 - 3a^2 - 4a + 12$ .
4.  $m^3 - 12m + 16$ .
5.  $2x^3 - x^2 - 18x + 9$ .
6.  $a^3 + a^2 - 13a - 28$ .
7.  $x^3 + 2x^2 + x + 2$ .
8.  $n^3 - 7n + 6$ .
9.  $x^3 - 6x^2 + 32$ .
10.  $6x^3 + 23x^2 + 9x - 18$ .
11.  $x^4 - 4x^3 + 3x^2 + 4x - 4$ .
12.  $x^4 - 2x^3 - 13x^2 + 14x + 24$ .
13.  $a^4 - 15a^2 - 10a + 24$ .
14.  $n^4 - 27n^2 - 14n + 120$ .
15.  $x^4 + 6x^3 + 3x + 140$ .
16.  $8a^4 - 18a^3 - 75a^2 + 46a + 120$ .
17.  $x^4 - 22x^2 - 75$ .
18.  $15x^4 + 94x^3 - 5x^2 - 164x + 60$ .
19.  $x^5 - 21x^3 + 16x^2 + 108x - 144$ .
20.  $a^5 - 23a^3 - 6a^2 + 112a + 96$ .
21.  $4x^5 + 3x^4 - 108x^3 - 25x^2 + 522x + 360$ .
22.  $n^5 - 30n^3 - 25n^2 - 36n - 180$ .
23.  $6x^6 - 13x^4 - 81x^3 + 112x^2 + 180x - 144$ .
24.  $x^6 - 25x^3 + x^2 - 25$ .
25.  $2a^5 - 8a^4 + 3a - 12$ .
26.  $x^5 + 2x^4 - 15x^3 - 3x^2 - 6x + 45$ .
27.  $x^6 + 6x^5 + 4x^4 - 42x^3 - 113x^2 - 108x - 36$ .
28.  $a^6 - 32a^4 + 18a^3 + 247a^2 - 162a - 360$ .
29.  $x^6 - 41x^4 + 184x^2 - 144$ .
30.  $2x^6 - 10x^5 - 34x^4 + 146x^3 + 224x^2 - 424x - 48$ .
31.  $a^6 - 8a^5 + 6a^4 + 103a^3 - 344a^2 + 396a - 144$ .
32.  $x^7 - 20x^5 - 2x^4 + 64x^3 + 40x^2 - 128$ .





**ALGEBRISTAS DE LA INDIA** (Siglos V, VI y VII, C.). Tres nombres se pueden señalar como en la historia de la matemática india: Aryabhata, Brahmagupta y Bhaskara. Aryabhata, del siglo V, con la resolución completa de la ecuación de se-

gundo grado. Brahmagupta, del siglo VI, fue alumno de Aryabhata, expuso en sus obras "Ganita" y "Cuttaca" la resolución de las ecuaciones indeterminadas. Y Bhaskara, del siglo XII, recoge los conocimientos de su época en su obra "Siddhanta Ciromani".

## MAXIMO COMUN DIVISOR

**161 FACTOR COMUN O DIVISOR COMUN** de dos o más expresiones algebraicas es toda expresión algebraica que está contenida exactamente en cada una de las primeras.

Así,  $x$  es divisor común de  $2x$  y  $x^2$ ;  $5a^2b$  es divisor común de  $10a^2b^2$  y  $15a^4b$ .

Una expresión algebraica es prima cuando sólo es divisible por ella misma y por la unidad.

Así,  $a$ ,  $b$ ,  $a+b$  y  $2x-1$  son expresiones primas.

Dos o más expresiones algebraicas son primas entre sí cuando el único divisor común que tienen es la unidad, como  $2x$  y  $3b$ ;  $a+b$  y  $a-x$ .

**162 MAXIMO COMUN DIVISOR** de dos o más expresiones algebraicas es la expresión algebraica de mayor coeficiente numérico y de mayor grado que está contenida exactamente en cada una de ellas.

Así, el m.c.d. de  $10a^2b$  y  $20a^3$  es  $10a^2$ ; el m.c.d. de  $8a^3n^2$ ,  $24an^3$  y  $40a^2n^4p$  es  $8an^2$ .

## CAPITULO XI

### I. M. C. D. DE MONOMIOS

#### 163 REGLA

Se halla el m. c. d. de los coeficientes y a continuación de éste se escriben las letras comunes, dando a cada letra el menor exponente que tenga en las expresiones dadas.

#### Ejemplos

(1) Hallar el m. c. d. de  $a^2x^2$  y  $3a^3bx$ .

El m. c. d. de los coeficientes es 1. Las letras comunes son  $a$  y  $x$ . Tomamos  $a$  con su menor exponente:  $a^2$  y  $x$  con su menor exponente:  $x$ ; la  $b$  no se toma porque no es común. El m. c. d. será  $a^2x$ . R.

(2) Hallar el m. c. d. de  $36a^2b^4$ ,  $48a^3b^5c$  y  $60a^4b^3m$ .

Descomponiendo en factores primos los coeficientes, tenemos:

$$\begin{aligned} 36a^2b^4 &= 2^2 \cdot 3^2 \cdot a^2b^4 \\ 48a^3b^5c &= 2^4 \cdot 3 \cdot a^3b^5c \\ 60a^4b^3m &= 2^2 \cdot 3 \cdot 5 \cdot a^4b^3m \end{aligned}$$

El m. c. d. de los coeficientes es  $2^2 \cdot 3$ . Las letras comunes son  $a$  y  $b$ . Tomamos  $a$  con su menor exponente:  $a^2$  y  $b$  con su menor exponente:  $b^3$ ;  $c$  y  $m$  no se toman porque no son comunes. Tendremos:

$$\text{m. c. d.} = 2^2 \cdot 3 \cdot a^2b^3 = 12a^2b^3. \text{ R.}$$

#### EJERCICIO 111

Hallar el m. c. d. de:

- $a^2x$ ,  $ax^2$ .
- $ab^2c$ ,  $a^2bc$ .
- $2x^2y$ ,  $x^2y^3$ .
- $6a^2b^3$ ,  $15a^3b^4$ .
- $8am^3n$ ,  $20x^2m^2$ .
- $18mn^2$ ,  $27a^2m^3n^4$ .
- $15a^2b^3c$ ,  $24ab^2x$ ,  $36b^4x^2$ .
- $12x^2yz^3$ ,  $18xy^2z$ ,  $24x^3yz^2$ .
- $28a^2b^3c^4$ ,  $35a^3b^4c^5$ ,  $42a^4b^5c^6$ .
- $72x^3y^4z^5$ ,  $96x^2y^3z^4$ ,  $120x^4y^5z^6$ .
- $42am^2n$ ,  $56m^3n^2x$ ,  $70m^4n^3y$ .
- $75a^4b^3c^2$ ,  $150a^5b^4x^2$ ,  $225a^3b^5y^2$ .
- $4a^2b$ ,  $8a^3b^2$ ,  $2a^2bc$ ,  $10ab^3c^2$ .
- $38a^2x^4y^4$ ,  $76mx^4y^7$ ,  $95x^6y^6$ .

### II. M. C. D. DE POLINOMIOS

Al hallar el m. c. d. de dos o más polinomios puede ocurrir que los polinomios puedan factorarse fácilmente o que su descomposición no sea sencilla. En el primer caso se halla el m. c. d. factorando los polinomios dados; en el segundo caso se halla el m. c. d. por divisiones sucesivas.



## 164 M. C. D. DE POLINOMIOS POR DESCOMPOSICION EN FACTORES

### REGLA

Se descomponen los polinomios dados en sus factores primos. El m. c. d. es el producto de los factores comunes con su menor exponente.

### Ejemplos

- (1) Hallar el m. c. d. de  $4a^2 + 4ab$  y  $2a^4 - 2a^2b^2$ .

Factorando estas expresiones:  $4a^2 + 4ab = 4a(a+b)$ ,  $2a^4 - 2a^2b^2 = 2a^2(a^2 - b^2) = 2a^2(a+b)(a-b)$

Los factores comunes son 2,  $a$  y  $(a+b)$ , luego:

$$\text{m. c. d.} = 2a(a+b). \quad \text{R.}$$

- (2) Hallar el m. c. d. de  $x^2 - 4$ ,  $x^2 - x - 6$  y  $x^2 + 4x + 4$ .

Factorando:  $x^2 - 4 = (x+2)(x-2)$   
 $x^2 - x - 6 = (x-3)(x+2)$   
 $x^2 + 4x + 4 = (x+2)^2$

El factor común es  $(x+2)$  y se toma con su menor exponente, luego:

$$\text{m. c. d.} = x+2. \quad \text{R.}$$

- (3) Hallar el m. c. d. de  $9a^3x^2 + 9x^2$ ,  $6a^3x^2 - 12a^2x^2 - 18ax^2$ ,  $6a^3x + 21a^2x + 15a^2x$ .

$9a^3x^2 + 9x^2 = 9x^2(a^3 + 1) = 3^2x^2(a+1)(a^2 - a + 1)$   
 $6a^3x^2 - 12a^2x^2 - 18ax^2 = 6ax^2(a^2 - 2a - 3) = 2 \cdot 3ax^2(a-3)(a+1)$   
 $6a^3x + 21a^2x + 15a^2x = 3a^2x(2a^2 + 7a + 5) = 3a^2x(2a+5)(a+1)$

Los factores comunes son 3,  $x$  y  $(a+1)$ , luego:

$$\text{m. c. d.} = 3x(a+1). \quad \text{R.}$$

- (4) Hallar el m. c. d. de  $x^6 - x^2$ ,  $x^5 - x^4 + x^3 - x^2$  y  $2x^6 + 2x^4 - 2x^2 - 2x$ .

$x^6 - x^2 = x^2(x^4 - 1) = x^2(x^2+1)(x+1)(x-1)$   
 $x^5 - x^4 + x^3 - x^2 = x^2(x^3 - x^2 + x - 1) = x^2(x^2+1)(x-1)$   
 $2x^6 + 2x^4 - 2x^2 - 2x = 2x(x^5 + x^3 - x^2 - 1) = 2x(x^2+1)(x-1)(x^2+x+1)$

$$\text{m. c. d.} = x(x^2+1)(x-1). \quad \text{R.}$$

### EJERCICIO 112

Hallar, por descomposición en factores, el m. c. d. de:

- $2a^2 + 2ab$ ,  $4a^2 - 4ab$ .
- $6x^3y - 6x^2y$ ,  $9x^2y^2 + 18x^2y^2$ .
- $12a^2b^3$ ,  $4a^3b^2 - 8a^2b^3$ .
- $ab + b$ ,  $a^2 + a$ .
- $x^2 - x$ ,  $x^3 - x^2$ .
- $30ax^2 - 15x^3$ ,  $10axy^2 - 20x^2y^2$ .
- $18a^2x^2y^4$ ,  $6a^2x^2y^4 - 18a^2xy^4$ .
- $5a^2 - 15a$ ,  $a^3 - 3a^2$ .
- $3x^3 + 15x^2$ ,  $ax^2 + 5ax$ .
- $a^2 - b^2$ ,  $a^2 - 2ab + b^2$ .
- $m^3 + n^3$ ,  $3am + 3an$ .
- $x^2 - 4$ ,  $x^3 - 8$ .
- $2ax^2 + 4ax$ ,  $x^2 - x^2 - 6x$ .
- $9x^2 - 1$ ,  $9x^2 - 6x + 1$ .
- $4a^2 + 4ab + b^2$ ,  $2a^2 - 2ab + ab - b^2$ .
- $3x^2 + 3x - 60$ ,  $6x^2 - 18x - 24$ .

- $8x^3 + y^3$ ,  $4ax^2 - ay^2$ .
- $2a^3 - 12a^2b + 18ab^2$ ,  $a^3x - 9ab^2x$ .
- $ac + ad - 2bc - 2bd$ ,  $2c^2 + 4cd + 2d^2$ .
- $3a^2m^2 + 6a^2m - 45a^2$ ,  $6am^2x + 24amx - 30ax$ .
- $4x^4 - y^2$ ,  $(2x^2 - y)^2$ .
- $3x^3 - 3x$ ,  $9x^3 - 9x$ .
- $a^2 + ab$ ,  $ab + b^2$ ,  $a^3 + a^2b$ .
- $2x^3 - 2x^2$ ,  $3x^2 - 3x$ ,  $4x^3 - 4x^2$ .
- $x^4 - 9x^2$ ,  $x^4 - 5x^3 + 6x^2$ ,  $x^4 - 6x^3 + 9x^2$ .
- $a^3b + 2a^2b^2 + ab^3$ ,  $a^4b - a^2b^3$ .
- $2x^2 + 2x - 4$ ,  $2x^2 - 8x + 6$ ,  $2x^3 - 2$ .
- $ax^3 - 2ax^2 - 8ax$ ,  $ax^2 - ax - 6a$ ,  $a^2x^3 - 3a^2x^2 - 10a^2x$ .
- $2an^4 - 16an^3 + 32a$ ,  $2an^3 - 8an$ ,  $2a^2n^3 + 16a^2$ .
- $4a^2 + 8a - 12$ ,  $2a^2 - 6a + 4$ ,  $6a^2 + 18a - 24$ .
- $4a^2 - b^2$ ,  $8a^3 + b^3$ ,  $4a^2 + 4ab + b^2$ .
- $x^2 - 2x - 8$ ,  $x^2 - x - 12$ ,  $x^3 - 9x^2 + 20x$ .
- $a^2 + a$ ,  $a^3 - 6a^2 - 7a$ ,  $a^4 + a$ .
- $x^2 + 27$ ,  $2x^2 - 6x + 18$ ,  $x^4 - 3x^3 + 9x^2$ .
- $x^2 + ax - 6a^2$ ,  $x^2 + 2ax - 3a^2$ ,  $x^2 + 6ax + 9a^2$ .
- $54x^3 + 250$ ,  $18ax^2 - 50a$ ,  $50 + 60x + 18x^2$ .
- $(x^2 - 1)^2$ ,  $x^2 - 4x - 5$ ,  $x^4 - 1$ .
- $4ax^2 - 28ax$ ,  $a^2x^3 - 8a^2x^2 + 7a^2x$ ,  $ax^4 - 15ax^3 + 56ax^2$ .
- $3a^2 - 6a$ ,  $a^3 - 4a$ ,  $a^2b - 2ab$ ,  $a^2 - a - 2$ .
- $3x^2 - x$ ,  $27x^3 - 1$ ,  $9x^2 - 6x + 1$ ,  $3ax - a + 6x - 2$ .
- $a^4 - 1$ ,  $a^3 + a^2 + a + 1$ ,  $a^3x + a^2x + ax + x$ ,  $a^3 + a^2 + a + 1$ .
- $2m^2 + 4mn + 2n^2$ ,  $m^3 + m^2n + mn^2 + n^3$ ,  $m^3 + n^3$ ,  $m^3 - mn^2$ .
- $a^3 - 3a^2 + 3a - 1$ ,  $a^2 - 2a + 1$ ,  $a^3 - a$ ,  $a^2 - 4a + 3$ .
- $16a^3x + 54x$ ,  $12a^3x^2 - 42ax^2 - 90x^2$ ,  $32a^3x + 24a^2x - 36ax$ ,  $32a^4x - 144a^2x + 162x$ .
- $(xy + y^2)^2$ ,  $x^2y - 2xy^2 - 3y^3$ ,  $ax^3y + ay^4$ ,  $x^2y - y^3$ .
- $2a^2 - am + 4a - 2m$ ,  $3am^2 - m^3$ ,  $6a^2 + 5am - 4m^2$ ,  $16a^2 + 72am - 40m^2$ .
- $12ax - 6ay + 24bx - 12by$ ,  $3a^5 + 24b^3$ ,  $9a^2 + 9ab - 18b^2$ ,  $12a^2 + 24ab$ .
- $5a^2 + 5ax + 5ay + 5xy$ ,  $15a^3 - 15ax^2 + 15a^2y - 15x^2y$ ,  $20a^3 - 20ay^2 + 20a^2x - 20xy^2$ ,  $5a^6 + 5a^4x + 5a^2y^2 + 5axy^3$ .

## 165 M. C. D. DE DOS POLINOMIOS POR DIVISIONES SUCESIVAS

Cuando se quiere hallar el m. c. d. de dos polinomios que no pueden descomponerse en factores fácilmente, se emplea el método de divisiones sucesivas, de acuerdo con la siguiente:

### REGLA

Se ordenan ambos polinomios con relación a una misma letra y se divide el polinomio de mayor grado entre el de grado menor. Si ambos son del mismo grado, cualquiera puede tomarse como dividendo. Si la divi-



si es exacta, el divisor es el m. c. d.; si no es exacta, se divide el divisor por el primer residuo, éste por el segundo residuo y así sucesivamente hasta llegar a una división exacta. El último divisor es el m. c. d. buscado.

Todas las divisiones deben continuarse hasta que el primer término del residuo sea de grado inferior al primer término del divisor.

### Ejemplo

Hallar por divisiones sucesivas el m. c. d. de  $16x^3 + 36x^2 - 12x - 18$  y  $8x^2 - 2x - 3$ .

Ambos polinomios están ordenados con relación a  $x$ . Dividimos el primero, que es de tercer grado, entre el segundo que es de segundo grado:

$$\begin{array}{r} 16x^3 + 36x^2 - 12x - 18 \quad | \quad 8x^2 - 2x - 3 \\ - 16x^3 + 4x^2 + 6x \quad \quad \quad 2x + 5 \\ \hline 40x^2 - 6x - 18 \\ - 40x^2 + 10x + 15 \\ \hline 4x - 3 \end{array}$$

Aquí detenemos la división porque el primer término del residuo,  $4x$ , es de grado inferior al primer término del divisor  $8x^2$ .

Ahora dividimos el divisor  $8x^2 - 2x - 3$  entre el residuo  $4x - 3$ :

$$\begin{array}{r} 8x^2 - 2x - 3 \quad | \quad 4x - 3 \\ - 8x^2 + 6x \quad \quad \quad 2x + 1 \\ \hline 4x - 3 \\ - 4x + 3 \\ \hline 0 \end{array}$$

Como esta división es exacta, el divisor  $4x - 3$  es el m. c. d. buscado. R.

### 166 REGLAS ESPECIALES

En la práctica de este método hay que tener muy en cuenta las siguientes reglas:

1) Cualquiera de los polinomios dados se puede dividir por un factor que no divida al otro polinomio. Ese factor, por no ser factor común de ambos polinomios, no forma parte del m. c. d.

2) El residuo de cualquier división se puede dividir por un factor que no divida a los dos polinomios dados.

3) Si el primer término de cualquier residuo es negativo, puede cambiarse el signo a todos los términos de dicho residuo.

4) Si el primer término del dividendo o el primer término de algún residuo no es divisible por el primer término del divisor, se multiplican todos los términos del dividendo o del residuo por la cantidad necesaria para hacerlo divisible.

### Ejemplos

(1) Hallar, por divisiones sucesivas, el m. c. d. de  $12x^3 - 26x^2 + 20x - 12$  y  $2x^2 - x - 3$ .

Dividiendo el primer polinomio por 2 y el segundo por  $x$  queda:

$$6x^3 - 13x^2 + 10x - 6 \quad \text{y} \quad 2x^2 - x - 3.$$

Dividiendo:

$$\begin{array}{r} 6x^3 - 13x^2 + 10x - 6 \quad | \quad 2x^2 - x - 3 \\ - 6x^3 + 3x^2 + 9x \quad \quad \quad 3x - 5 \\ \hline - 10x^2 + 19x - 6 \\ 10x^2 - 5x - 15 \\ \hline 14x - 21 \end{array}$$

Dividiendo el residuo  $14x - 21$  entre 7 queda  $2x - 3$ .

Ahora dividimos el divisor  $2x^2 - x - 3$  entre el residuo  $2x - 3$ :

$$\begin{array}{r} 2x^2 - x - 3 \quad | \quad 2x - 3 \\ - 2x^2 + 3x \quad \quad \quad x + 1 \\ \hline 2x - 3 \\ - 2x + 3 \\ \hline 0 \end{array}$$

Como esta división es exacta, el divisor  $2x - 3$  es el m. c. d. R.

(2) Hallar, por divisiones sucesivas, el m. c. d. de  $3x^3 - 13x^2 + 5x - 4$  y  $2x^2 - 7x - 4$ .

Como  $3x^3$  no es divisible entre  $2x^2$ , multiplicamos el primer polinomio por 2 para hacerlo divisible y quedará:

$$6x^3 - 26x^2 + 10x - 8 \quad \text{y} \quad 2x^2 - 7x - 4.$$

Dividiendo:

$$\begin{array}{r} 6x^3 - 26x^2 + 10x - 8 \quad | \quad 2x^2 - 7x - 4 \\ - 6x^3 + 21x^2 + 12x \quad \quad \quad 3x \\ \hline - 5x^2 + 22x - 8 \end{array}$$

$-5x^2$  no es divisible por  $2x^2$ . Cambiando el signo al residuo tenemos:  $5x^2 - 22x + 8$  y multiplicando este residuo por 2, para que su primer término sea divisible por  $2x^2$ , queda  $10x^2 - 44x + 16$ . [Ambas operaciones equivalen a multiplicar el residuo por  $-2$ ]. Esta expresión la dividimos entre  $2x^2 - 7x - 4$ :

$$\begin{array}{r} 10x^2 - 44x + 16 \quad | \quad 2x^2 - 7x - 4 \\ - 10x^2 + 35x + 20 \quad \quad \quad 5 \\ \hline - 9x + 36 \end{array}$$

Cambiando el signo al residuo:  $9x - 36$ ; dividiendo por 9:  $x - 4$ . (Ambas operaciones equivalen a dividir por  $-9$ ).

Ahora dividimos  $2x^2 - 7x - 4$  entre  $x - 4$ :

$$\begin{array}{r} 2x^2 - 7x - 4 \quad | \quad x - 4 \\ - 2x^2 + 8x \quad \quad \quad 2x + 1 \\ \hline x - 4 \\ - x + 4 \\ \hline 0 \end{array}$$

Como esta división es exacta, el m. c. d. es  $x - 4$ . R.



- (3) Hallar, por divisiones sucesivas, el m. c. d. de  $6x^5 - 3x^4 + 8x^3 - x^2 + 2x$  y  $3x^5 - 6x^4 + 10x^3 - 2x^2 + 3x$ .

Cuando los polinomios dados tienen un mismo factor común, debe sacarse este factor común, que será un factor del m. c. d. buscado. Se halla el m. c. d. de las expresiones que quedan después de sacar el factor común y este m. c. d. multiplicado por el factor común será el m. c. d. de las expresiones dadas. Así, en este caso, ambos polinomios tienen el factor común  $x$ . Sacando este factor en cada polinomio, queda:

$$6x^4 - 3x^3 + 8x^2 - x + 2 \text{ y } 3x^4 - 6x^3 + 10x^2 - 2x + 3.$$

$$\begin{array}{r} \text{Dividiendo: } 6x^4 - 3x^3 + 8x^2 - x + 2 \quad | \quad 3x^4 - 6x^3 + 10x^2 - 2x + 3 \\ \underline{-6x^4 + 12x^3 - 20x^2 + 4x - 6} \quad 2 \\ 9x^3 - 12x^2 + 3x - 4 \end{array}$$

Ahora dividimos el divisor entre el residuo, pero como  $3x^4$  no es divisible por  $9x^3$  hay que multiplicar el divisor por 3 y tendremos:

$$\begin{array}{r} 9x^3 - 18x^2 + 30x^2 - 6x + 9 \quad | \quad 9x^3 - 12x^2 + 3x - 4 \\ \underline{-9x^3 + 12x^2 - 3x^2 + 4x} \quad x \\ -6x^2 + 27x^2 - 2x + 9 \end{array}$$

Como  $6x^3$  no es divisible por  $9x^3$ , multiplicamos el residuo por  $-3$  y tendremos:

$$\begin{array}{r} 18x^3 - 81x^2 + 6x - 27 \quad | \quad 9x^3 - 12x^2 + 3x - 4 \\ \underline{-18x^3 + 24x^2 - 6x + 8} \quad 2 \\ -57x^2 - 19 \end{array}$$

Dividiendo el residuo por  $-19$  queda  $3x^2 + 1$ .

$$\begin{array}{r} 9x^3 - 12x^2 + 3x - 4 \quad | \quad 3x^2 + 1 \\ \underline{-9x^3} \quad -3x \\ -12x^2 - 4 \\ \underline{12x^2} \quad +4 \end{array}$$

Ahora dividimos el divisor entre el residuo.

$3x^2 + 1$  es el m. c. d. de las expresiones que quedaron después de sacar el factor común  $x$ . Entonces, hay que multiplicar  $3x^2 + 1$  por  $x$  y el m. c. d. de las expresiones dadas será:

$$\text{m. c. d.} = x(3x^2 + 1). \quad R.$$

### EJERCICIO 113

Hallar, por divisiones sucesivas, el m. c. d. de:

- $12x^2 + 8x + 1$  y  $2x^2 - 5x - 3$ .
- $6a^2 - 2a - 20$  y  $2a^3 - a^2 - 6a$ .
- $5a^3 - 6a^2x + ax^2$  y  $3a^3 - 4a^2x + ax^2$ .
- $2x^3 + 4x^2 - 4x + 6$  y  $x^3 + x^2 - x + 2$ .
- $8a^4 - 6a^3x + 7a^2x^2 - 3ax^3$  y  $2a^4 + 3a^3x - 2ax^2$ .
- $12ax^4 - 3ax^3 + 26ax^2 - 5ax + 10a$  y  $3x^4 + 3x^3 - 4x^2 + 5x - 15$ .
- $3x^3 - 2x^2y + 9xy^2 - 6y^3$  y  $6x^4 - 4x^3y - 3x^2y^2 + 5xy^3 - 2y^4$ .
- $ax^4 + 3ax^3 - 2ax^2 + 6ax - 8a$  y  $x^4 + 4x^3 - x^2 - 4x$ .
- $2m^4 - 4m^3 - m^2 + 6m - 3$  y  $3m^5 - 6m^4 + 8m^3 - 10m^2 + 5m$ .

- $3a^5 - 6a^4 + 16a^3 - 2a^2 + 5a$  y  $7a^5 - 14a^4 + 33a^3 + 4a^2 - 10a$ .
- $45ax^3 + 75ax^2 - 18ax - 30a$  y  $24ax^3 + 40ax^2 - 30ax - 50a$ .
- $2x^3 + 2a^2x + 2ax^2 + 2a^3$  y  $10x^3 + 4ax^2 + 10a^2x + 4a^3$ .
- $9x^3 + 15ax^2 + 3a^2x - 3a^3$  y  $12x^3 + 21ax^2 + 6a^2x - 3a^3$ .
- $8a^4b + 4a^3b^2 + 4ab^4$  y  $12a^4b - 18a^3b^2 + 12a^2b^3 - 6ab^4$ .
- $9a^5n^2 - 33a^4n^3 + 27a^3n^4 - 6a^2n^5$  y  $9a^5n^2 + 12a^4n^3 - 21a^3n^4 + 6a^2n^5$ .
- $a^3 - 2a^4 + a^3 + a - 1$  y  $a^7 - a^6 + a^4 + 1$ .
- $6ax^4 - 4ax^3 + 6ax^2 - 10ax + 4a$  y  $36ax^4 - 24ax^3 - 18ax^2 + 48ax - 24a$ .

### 167 M. C. D. DE TRES O MAS POLINOMIOS POR DIVISIONES SUCCESIVAS

En este caso, igual que en Aritmética, hallamos el m. c. d. de dos de los polinomios dados; luego el m. c. d. de otro de los polinomios dados y el m. c. d. hallado anteriormente, y así sucesivamente. El último m. c. d. es el m. c. d. de las expresiones dadas.

#### Ejemplo

Hallar, por divisiones sucesivas, el m. c. d. de  $2x^3 - 11x^2 + 10x + 8$ ,  $2x^3 + x^2 - 8x - 4$  y  $6ax^2 + 11ax + 4a$ .

$$\begin{array}{r} \text{Hallamos el m. c. d. de las dos} \quad 2x^3 - 11x^2 + 10x + 8 \quad | \quad 2x^3 + x^2 - 8x - 4 \\ \text{primeras expresiones: } \underline{-2x^3 - x^2 + 8x + 4} \quad 1 \\ -12x^2 + 18x + 12 \end{array}$$

$$\begin{array}{r} \text{Dividiendo el residuo por } -6 \text{ queda} \quad 2x^3 + x^2 - 8x - 4 \quad | \quad 2x^2 - 3x - 2 \\ 2x^2 - 3x - 2. \text{ Dividiendo el divisor por} \quad \underline{-2x^3 + 3x^2 + 2x} \quad x + 2 \\ \text{esta expresión: } \underline{4x^2 - 6x - 4} \\ -4x^2 + 6x + 4 \end{array}$$

El m. c. d. de las dos primeras expresiones es  $2x^2 - 3x - 2$ . Ahora hallamos el m. c. d. del tercer polinomio dado  $6ax^2 + 11ax + 4a$  y de este m. c. d.

$$\begin{array}{r} \text{Dividiendo } 6ax^2 + 11ax + 4a \text{ entre } a \text{ queda} \quad 6x^2 + 11x + 4 \quad | \quad 2x^2 - 3x - 2 \\ 6x^2 + 11x + 4. \text{ Tendremos: } \underline{-6x^2 + 9x + 6} \quad 3 \\ 20x + 10 \end{array}$$

$$\begin{array}{r} \text{Dividiendo el residuo por } 10 \text{ queda } 2x + 1: \quad 2x^2 - 3x - 2 \quad | \quad 2x + 1 \\ \underline{-2x^2 - x} \quad x - 2 \\ -4x - 2 \\ \underline{4x + 2} \end{array}$$

El m. c. d. de las tres expresiones dadas es  $2x + 1$ . R.

### EJERCICIO 114

Hallar, por divisiones sucesivas, el m. d. c. de:

- $x^3 - 2x^2 - 5x + 6$ ,  $2x^3 - 5x^2 - 6x + 9$  y  $2x^2 - 5x - 3$ .
- $2x^3 - x^2y - 2xy^2 + y^3$ ,  $8x^3 + 6x^2y - 3xy^2 - y^3$  y  $6x^2 - xy - y^2$ .
- $x^4 + x^3 - x^2 - x$ ,  $2x^3 + 2x^2 - 2x - 2$  y  $5x^3 - 5x^2 + 2x - 2$ .
- $3a^4 + 9a^3x + 4a^2x^2 - 3ax^3 + 2x^4$ ,  $a^4 + 3a^3x + a^2x^2 - 3ax^3 - 2x^4$  y  $4a^3 + 8a^2x - ax^2 - 2x^3$ .
- $2x^5 + 2x^4 - 2x^3 - 2x$ ,  $3x^5 - 4x^4 - 3x^3 + 4x$  y  $4x^4 - 4x^3 + 3x^2 - 3x$ .





**ESCUELA DE BAGDAD (Siglos IX al XII)** Los fueron los verdaderos sistematizadores del Algebra. A fines del Siglo VIII floreció la Escuela de Bagdad a la que pertenecían Al Juarismi, Al Batani y Omar Khayyan. Al Juarismi, persa del siglo IX, es-

cribió el primer libro de Algebra, y le dio nombre a esta ciencia. Al Batani, sirio (858-929), aplicó el Algebra a problemas astronómicos. Y Omar Khayyan, persa del siglo XII, conocido por sus poemas escritos en "rubayat", escribió un Tratado de Algebra.

## MINIMO COMUN MULTIPLO

## CAPITULO XII

**168 COMUN MULTIPLO** de dos o más expresiones algebraicas es toda expresión algebraica que es divisible exactamente por cada una de las expresiones dadas.

Así,  $8a^3b^2$  es común múltiplo de  $2a^2$  y  $4a^3b$  porque  $8a^3b^2$  es divisible exactamente por  $2a^2$  y por  $4a^3b$ ;  $3x^2 - 9x + 6$  es común múltiplo de  $x - 2$  y de  $x^2 - 3x + 2$  porque  $3x^2 - 9x + 6$  es divisible exactamente por  $x - 2$  y por  $x^2 - 3x + 2$ .

**169 MINIMO COMUN MULTIPLO** de dos o más expresiones algebraicas es la expresión algebraica de menor coeficiente numérico y de menor grado que es divisible exactamente por cada una de las expresiones dadas.

Así, el m.c.m. de  $4a$  y  $6a^2$  es  $12a^2$ ; el m.c.m. de  $2x^2$ ,  $6x^3$  y  $9x^4$  es  $18x^4$ . La teoría del m.c.m. es de suma importancia para las fracciones y ecuaciones.

### I. M. C. M. DE MONOMIOS

#### 170 REGLA

Se halla el m.c.m. de los coeficientes y a continuación de éste se escriben todas las letras distintas, sean o no comunes, dando a cada letra el mayor exponente que tenga en las expresiones dadas.

### Ejemplos

(1) Hallar el m. c. m. de  $ax^2$  y  $a^3x$ .

Tomamos  $a$  con su mayor exponente  $a^3$  y  $x$  con su mayor exponente  $x^2$  y tendremos: m. c. m. =  $a^3x^2$ . R.

(2) Hallar el m. c. m. de  $8ab^2c$  y  $12a^3b^2$ .  $\rightarrow$   $8ab^2c = 2^3ab^2c$   
 $12a^3b^2 = 2^2 \cdot 3a^3b^2$

El m. c. m. de los coeficientes es  $2^3 \cdot 3$ . A continuación escribimos  $a$  con su mayor exponente  $a^3$ ,  $b$  con su mayor exponente  $b^2$  y  $c$ , luego:

$$\text{m. c. m.} = 2^3 \cdot 3a^3b^2c = 24a^3b^2c. \text{ R.}$$

(3) Hallar el m. c. m. de  $10a^3x$ ,  $36a^2mx^2$  y  $24b^2m^4$ .  
 $10a^3x = 2 \cdot 5a^3x$   
 $36a^2mx^2 = 2^2 \cdot 3^2a^2mx^2$   
 $24b^2m^4 = 2^3 \cdot 3b^2m^4$   
m. c. m. =  $2^3 \cdot 3^2 \cdot 5a^3b^2m^4x^2 = 360a^3b^2m^4x^2$ . R.

### EJERCICIO 115

Hallar el m. c. m. de:

- |                                    |  |
|------------------------------------|--|
| 1. $a^2, ab^2$ .                   | 14. $ax^2y^2, a^2xy, a^2x^2y^3$ .              |
| 2. $x^2y, xy^2$ .                  | 15. $4ab, 6a^2, 3b^2$ .                        |
| 3. $ab^2c, a^2bc$ .                | 16. $3x^3, 6x^2, 9x^4y^2$ .                    |
| 4. $a^2x^3, a^3bx^2$ .             | 17. $9a^2bx, 12ab^2x^2, 18a^3b^3x$ .           |
| 5. $6m^2n, 4m^3$ .                 | 18. $10m^2, 15mn^2, 20n^3$ .                   |
| 6. $9ax^2y^3, 15x^2y^5$ .          | 19. $18a^3, 24b^2, 36ab^3$ .                   |
| 7. $a^3, ab^2, a^2b$ .             | 20. $20m^2n^3, 24m^3n, 30mn^2$ .               |
| 8. $x^2y, xy^2, xy^3z$ .           | 21. $ab^2, bc^2, a^2c^3, b^3c^3$ .             |
| 9. $2ab^2, 4a^2b, 8a^3$ .          | 22. $2x^2y, 8xy^3, 4a^2x^3, 12a^3$ .           |
| 10. $3x^2y^3z, 4x^3y^3z^2, 6x^4$ . | 23. $6a^2, 9x, 12ay^2, 18x^3y$ .               |
| 11. $6mn^2, 9m^2n^3, 12m^3n$ .     | 24. $15mn^2, 10m^2, 20n^3, 25mn^4$ .           |
| 12. $3a^2, 4b^2, 8x^3$ .           | 25. $24a^2x^3, 36a^2y^4, 40x^2y^5, 60a^3y^6$ . |
| 13. $5x^2, 10xy, 15xy^2$ .         | 26. $3a^3, 8ab, 10b^2, 12a^2b^3, 16a^2b^2$ .   |

### II. M. C. M. DE MONOMIOS Y POLINOMIOS

#### 171 REGLA

Se descomponen las expresiones dadas en sus factores primos. El m. c. m. es el producto de los factores primos, comunes y no comunes, con su mayor exponente.

### Ejemplos

(1) Hallar el m. c. m. de  $6$  y  $3x - 3$ .

Descomponiendo:  $6 = 2 \cdot 3$   
 $3x - 3 = 3(x - 1)$

$$\text{m. c. m.} = 2 \cdot 3(x - 1) = 6(x - 1). \text{ R.}$$

(2) Hallar el m. c. m. de  $14a^2$  y  $7x - 21$ .

Descomponiendo:  $14a^2 = 2 \cdot 7a^2$   
 $7x - 21 = 7(x - 3)$

$$\text{m. c. m.} = 2 \cdot 7a^2(x - 3) = 14a^2(x - 3). \text{ R.}$$



- (3) Hallar el m. c. m. de
- $15x^2$
- ,
- $10x^2 + 5x$
- ,
- $45x^3$
- .

Como  $15x^2$  está contenido en  $45x^3$ , prescindimos de  $15x^2$ .Descomponiendo:  $10x^2 + 5x = 5x(2x + 1)$ 

$$45x = 3^2 \cdot 5 \cdot x$$

$$\text{m. c. m.} = 3^2 \cdot 5 \cdot x^2(2x + 1) = 45x^2(2x + 1). \quad \text{R.}$$

- (4) Hallar el m. c. m. de
- $8a^2b$
- ,
- $4a^3 - 4a$
- ,
- $6a^2 - 12a + 6$
- .

Descomponiendo:  $8a^2b = 2^3 \cdot a^2b$ 

$$4a^3 - 4a = 4a(a^2 - 1) = 2^2 \cdot a(a + 1)(a - 1)$$

$$6a^2 - 12a + 6 = 6(a^2 - 2a + 1) = 2 \cdot 3(a - 1)^2$$

$$\text{m. c. m.} = 2^3 \cdot 3 \cdot a^2b(a - 1)^2(a + 1) = 24a^2b(a - 1)^2(a + 1). \quad \text{R.}$$

- (5) Hallar el m. c. m. de
- $24a^2x$
- ,
- $18xy^2$
- ,
- $2x^3 + 2x^2 - 40x$
- ,
- $8x^4 - 200x^2$
- .

$$24a^2x = 2^3 \cdot 3a^2x$$

$$18xy^2 = 2 \cdot 3^2xy^2$$

$$2x^3 + 2x^2 - 40x = 2x(x^2 + x - 20) = 2x(x + 5)(x - 4)$$

$$8x^4 - 200x^2 = 8x^2(x^2 - 25) = 2^3 \cdot x^2(x + 5)(x - 5)$$

$$\text{m. c. m.} = 2^3 \cdot 3^2 \cdot a^2x^2y^2(x + 5)(x - 5)(x - 4)$$

$$= 72a^2x^2y^2(x^2 - 25)(x - 4). \quad \text{R.}$$

**EJERCICIO 116**

Hallar el m. c. m. de:

1.  $2a$ ,  $4x - 8$ .

2.  $3b^2$ ,  $ab - b^2$ .

3.  $x^2y$ ,  $x^2y + xy^2$ .

4.  $8$ ,  $4 + 8a$ .

5.  $6a^2b$ ,  $3a^2b^2 + 6ab^3$ .

6.  $14x^2$ ,  $6x^2 + 4xy$ .

7.  $9m$ ,  $6mn^2 - 13mn$ .

8.  $15$ ,  $3x + 6$ .

9.  $10$ ,  $5 - 15b$ .

10.  $36a^2$ ,  $4ax - 12ay$ .

11.  $12xy^2$ ,  $2ax^2y^2 + 5x^2y^3$ .

12.  $mn$ ,  $m^2$ ,  $mn^2 - mn^3$ .

13.  $2a^2$ ,  $6ab$ ,  $3a^2 - 6ab$ .

14.  $xy^2$ ,  $x^2y^3$ ,  $5x^5 - 5x^4$ .

15.  $9a^2$ ,  $18b^2$ ,  $27a^4b + 81a^5b^2$ .

16.  $10$ ,  $6x^2$ ,  $9x^2y + 9xy^2$ .

17.  $4x$ ,  $x^3 + x^2$ ,  $x^2y - xy$ .

18.  $24$ ,  $6m^2 + 18m$ ,  $8m - 24$ .

19.  $2a^2b^2$ ,  $3ax + 3a$ ,  $6x - 18$ .

20.  $x^2$ ,  $x^3 + x^2 - 2x$ ,  $x^2 + 4x + 4$ .

21.  $6ab$ ,  $x^2 - 4xy + 4y^2$ ,  $9a^2x - 18a^2y$ .

22.  $6x^3$ ,  $3x^3 - 3x^2 - 18x$ ,  $9x^4 - 36x^2$ .

23.  $a^2x^2$ ,  $4x^3 - 12x^2y + 9xy^2$ ,  $2x^4 - 3x^3y$ .

24.  $8x^3$ ,  $12x^2y^2$ ,  $9x^2 - 45x$ .

25.  $an^3$ ,  $2n$ ,  $n^2x^2 + n^2y^2$ ,  $nx^2 + 2nxy + ny^2$ .

26.  $8x^2$ ,  $x^3 + x^2 - 6x$ ,  $2x^3 - 8x^2 + 8x$ ,  $4x^3 + 24x^2 + 36x$ .

27.  $3x^3$ ,  $x^3 + 1$ ,  $2x^2 - 2x + 2$ ,  $6x^3 + 6x^2$ .

28.  $4xy^2$ ,  $3x^3 - 3x^2$ ,  $a^2 + 2ab + b^2$ ,  $ax - a + bx - b$ .

29.  $2a$ ,  $4b$ ,  $6a^2b$ ,  $12a^2 - 24ab + 12b^2$ ,  $5ab^3 - 5b^4$ .

30.  $28x$ ,  $x^2 + 2x + 1$ ,  $x^2 + 1$ ,  $7x^2 + 7$ ,  $14x + 14$ .

**III. M. C. M. DE POLINOMIOS**

- 172**
- La regla es la misma del caso anterior.

**Ejemplos**

- (1) Hallar el m. c. m. de
- $4ax^2 - 8axy + 4ay^2$
- ,
- $6b^2x - 6b^2y$
- .

Descomponiendo:

$$4ax^2 - 8axy + 4ay^2 = 4a(x^2 - 2xy + y^2) = 2^2 \cdot a(x - y)^2$$

$$6b^2x - 6b^2y = 6b^2(x - y) = 2 \cdot 3b^2(x - y)$$

$$\text{m. c. m.} = 2^3 \cdot 3 \cdot ab^2(x - y)^2 = 12ab^2(x - y)^2. \quad \text{R.}$$

- (2) Hallar el m. c. m. de
- $x^3 + 2bx^2$
- ,
- $x^3y - 4b^2xy$
- ,
- $x^2y^2 + 4bxy^2 + 4b^2y^2$
- .

$$x^3 + 2bx^2 = x^2(x + 2b)$$

$$x^3y - 4b^2xy = xy(x^2 - 4b^2)$$

$$= xy(x + 2b)(x - 2b)$$

$$x^2y^2 + 4bxy^2 + 4b^2y^2 = y^2(x^2 + 4bx + 4b^2) = y^2(x + 2b)^2$$

$$\text{m. c. m.} = x^2y^2(x + 2b)^2(x - 2b). \quad \text{R.}$$

- (3) Hallar el m. c. m. de
- $m^3 - mn$
- ,
- $mn + n^2$
- ,
- $m^2 - n^2$
- .

$$m^3 - mn = m(m - n)$$

$$mn + n^2 = n(m + n)$$

$$m^2 - n^2 = (m + n)(m - n)$$

$$\text{m. c. m.} = mn(m + n)(m - n) = mn(m^2 - n^2). \quad \text{R.}$$

- (4) Hallar el m. c. m. de
- $(a - b)^2$
- ,
- $a^2 - b^2$
- ,
- $(a + b)^2$
- ,
- $a^2 + b^2$
- .

El alumno debe notar que no es lo mismo cuadrado de una diferencia que diferencia de cuadrados ni es lo mismo cuadrado de una suma que suma de cuadrados. En efecto:

$$(a - b)^2 = (a - b)^2$$

$$a^2 - b^2 = (a + b)(a - b)$$

$$(a + b)^2 = (a + b)^2$$

$$a^2 + b^2 = (a^2 + b^2)$$

$$\text{m. c. m.} = (a + b)^2(a - b)^2(a^2 + b^2). \quad \text{R.}$$

- (5) Hallar el m. c. m. de
- $(x + 1)^2$
- ,
- $x^3 + 1$
- ,
- $x^2 - 2x - 3$
- .

El alumno debe notar que no es lo mismo suma de cubos que cubo de una suma. En efecto:

$$(x + 1)^3 = (x + 1)^3$$

$$x^3 + 1 = (x + 1)(x^2 - x + 1)$$

$$x^2 - 2x - 3 = (x - 3)(x + 1)$$

$$\text{m. c. m.} = (x + 1)^2(x - 3)(x^2 - x + 1). \quad \text{R.}$$

- (6) Hallar el m. c. m. de
- $(x - y)^2$
- ,
- $x^3 - y^3$
- ,
- $x^3 - xy^2 + x^2y - y^3$
- ,
- $3a^2x + 3a^2y$
- .

El alumno debe notar que no es lo mismo cubo de una diferencia que diferencia de cubos.

$$(x - y)^3 = (x - y)^3$$

$$x^3 - y^3 = (x - y)(x^2 + xy + y^2)$$

$$x^3 - xy^2 + x^2y - y^3 = x(x^2 - y^2) + y(x^2 - y^2) = (x^2 - y^2)(x + y)$$

$$= (x + y)^2(x - y)$$

$$3a^2x + 3a^2y = 3a^2(x + y)$$

$$\text{m. c. m.} = 3a^2(x + y)^2(x - y)^2(x^2 + xy + y^2). \quad \text{R.}$$

- (7) Hallar el m. c. m. de
- $15x^3 + 20x^2 + 5x$
- ,
- $3x^3 - 3x + x^2 - 1$
- ,
- $27x^4 + 18x^3 + 3x^2$
- .

$$15x^3 + 20x^2 + 5x = 5x(3x^2 + 4x + 1) = 5x(3x + 1)(x + 1)$$

$$3x^3 - 3x + x^2 - 1 = 3x(x^2 - 1) + (x^2 - 1) = (x^2 - 1)(3x + 1)$$

$$= (x + 1)(x - 1)(3x + 1)$$

$$27x^4 + 18x^3 + 3x^2 = 3x^2(9x^2 + 6x + 1) = 3x^2(3x + 1)^2$$

$$\text{m. c. m.} = 15x^2(3x + 1)^2(x + 1)(x - 1)$$

$$= 15x^2(3x + 1)^2(x^2 - 1). \quad \text{R.}$$



- (8) Hallar el m.c.m. de  $2x^3 - 8x$ ,  $3x^4 + 3x^3 - 18x^2$ ,  $2x^5 + 10x^4 + 12x^3$ ,  $6x^2 - 24x + 24$ .

$$\begin{aligned} 2x^3 - 8x &= 2x(x^2 - 4) = 2x(x+2)(x-2) \\ 3x^4 + 3x^3 - 18x^2 &= 3x^2(x^2 + x - 6) = 3x^2(x+3)(x-2) \\ 2x^5 + 10x^4 + 12x^3 &= 2x^3(x^2 + 5x + 6) = 2x^3(x+3)(x+2) \\ 6x^2 - 24x + 24 &= 6(x^2 - 4x + 4) = 6(x-2)^2 \end{aligned}$$

$$\text{m. c. m.} = 6x^3(x+2)(x-2)^2(x+3). \text{ R.}$$

o lo que es igual

$$\text{m. c. m.} = 6x^3(x^2 - 4)(x-2)(x+3). \text{ R.}$$

## EJERCICIO 117

Hallar el m. c. m. de:

1.  $3x+3$ ,  $6x-6$ .
2.  $5x+10$ ,  $10x^2-40$ .
3.  $x^3+2x^2y$ ,  $x^2-4y^2$ .
4.  $3a^2x-9a^2$ ,  $x^2-6x+9$ .
5.  $4a^2-9b^2$ ,  $4a^2-12ab+9b^2$ .
6.  $a^3+a^2b$ ,  $a^3+2a^2b+ab^2$ .
7.  $3ax+12a$ ,  $2bx^2+6bx-8b$ .
8.  $x^5-25x$ ,  $x^2+2x-15$ .
9.  $(x-1)^2$ ,  $x^2-1$ .
10.  $(x+1)^2$ ,  $x^2+1$ .
11.  $x^3+y^3$ ,  $(x+y)^3$ .
12.  $x^3-y^3$ ,  $(x-y)^3$ .
13.  $x^2+3x-10$ ,  $4x^2-7x-2$ .
14.  $a^2+a-30$ ,  $a^2+3a-18$ .
15.  $x^3-9x+5x^2-15$ ,  $x^4+2x^3-15x^2$ .
16.  $x^6-4x^5-32$ ,  $ax^4+2ax^3+4ax^2$ .
17.  $8(x-y)^2$ ,  $12(x^2-y^2)$ .
18.  $5(x+y)^2$ ,  $10(x^2+y^2)$ .
19.  $6a(m+n)^3$ ,  $4a^2b(m^3+n^3)$ .
20.  $ax(m-n)^3$ ,  $x^3(m^3-n^3)$ .
21.  $2a^2+2a$ ,  $3a^2-3a$ ,  $a^4-a^2$ .
22.  $x^3+2x$ ,  $x^5-2x^3$ ,  $x^2-4$ .

23.  $x^2+x-2$ ,  $x^2-4x+3$ ,  $x^2-x-6$ .
24.  $6a^2+13a+6$ ,  $3a^2+14a+8$ ,  $4+12a+9a^2$ .
25.  $10x^2+10$ ,  $15x+15$ ,  $5x^2-5$ .
26.  $ax-2bx+ay-2by$ ,  $x^2+xy$ ,  $x^2-xy$ .
27.  $4a^2b+4ab^2$ ,  $6a-6b$ ,  $15a^2-15b^2$ .
28.  $x^2-25$ ,  $x^3-125$ ,  $2x+10$ .
29.  $a^2-2ab-3b^2$ ,  $a^3b-6a^2b^2+9ab^3$ ,  $ab^2+b^3$ .
30.  $2m^2+2mn$ ,  $4mn-4n^2$ ,  $6m^3n-6mn^3$ .
31.  $20(x^2-y^2)$ ,  $15(x-y)^2$ ,  $12(x+y)^2$ .
32.  $ax^2+5ax-14a$ ,  $x^3+14x^2+49x$ ,  $x^4+7x^3-18x^2$ .
33.  $2x^5-12x^3+18x$ ,  $3x^4-27x^2$ ,  $5x^3+30x^2+45x$ .
34.  $3-3a^2$ ,  $6+6a$ ,  $9-9a$ ,  $12+12a^2$ .
35.  $2(3n-2)^2$ ,  $135n^3-40$ ,  $12n-8$ .
36.  $12mn+8m-3n-2$ ,  $48m^2n-3n+32m^2-2$ ,  $6n^2-5n-6$ .
37.  $18x^3+60x^2+50x$ ,  $12ax^3+20ax^2$ ,  $15a^2x^5+16a^2x^4-15a^2x^3$ .
38.  $16-x^4$ ,  $16+8x^2+x^4$ ,  $16-8x^2+x^4$ .
39.  $1+a^2$ ,  $(1+a)^2$ ,  $1+a^3$ .
40.  $8n^2-10n-3$ ,  $20n^2+13n+2$ ,  $10n^2-11n-6$ .
41.  $6a^2+ab-2b^2$ ,  $15a^2+22ab+8b^2$ ,  $10a^2+3ab-4b^2$ .
42.  $12x^2+5xy-2y^2$ ,  $15x^2+13xy+2y^2$ ,  $20x^2-xy-y^2$ .
43.  $6b^2x^2+6b^2x^3$ ,  $3a^2x-3a^2x^2$ ,  $1-x^4$ .
44.  $x^4+8x-4x^3-32$ ,  $a^2x^4-2a^2x^3-8a^2x^2$ ,  $2x^4-4x^3+8x^2$ .
45.  $x^3-9x+x^2-9$ ,  $x^4-10x^2+9$ ,  $x^2+4x+3$ ,  $x^2-4x+3$ .
46.  $1-a^3$ ,  $1-a$ ,  $1-a^2$ ,  $1-2a+a^2$ .
47.  $a^2b-ab^2$ ,  $a^4b^2-a^2b^4$ ,  $a(ab-b^2)^2$ ,  $b(a^2+ab)^2$ .
48.  $m^5-27n^5$ ,  $m^2-9n^2$ ,  $m^2-6mn+9n^2$ ,  $m^2+3mn+9n^2$ .



**LAS MATEMATICAS EN LAS UNIVERSIDADES HISPANO-ARABES** (Siglos VIII al XV). La cultura árabe alcanza elevado desarrollo en ciudades como Sevilla, Córdoba y Toledo. De las universidades hispano-árabes fluye la cultura musulmana hacia Europa.

Tres nombres pueden señalarse como representantes de la cultura árabe en España: Geber Ibn-Aphla, (Sivilla, siglo XI), que rectificó las Tablas de Ptolomeo; Arzaquel, (Toledo, 1080), autor de unas famosas Tablas; y Ben Ezra, (Calahorra, 1089), rabino de Toledo.

## CAPITULO XII

### FRACCIONES ALGEBRAICAS. REDUCCION DE FRACCIONES

- 173** **FRACCION ALGEBRAICA** es el cociente indicado de dos expresiones algebraicas.

Así,  $\frac{a}{b}$  es una fracción algebraica porque es el cociente indicado de la expresión  $a$  (dividendo) entre la expresión  $b$  (divisor).

El dividendo  $a$  se llama numerador de la fracción algebraica, y el divisor  $b$ , denominador. El numerador y el denominador son los términos de la fracción.

- 174** **Expresión algebraica entera** es la que no tiene denominador literal.

Así,  $a$ ,  $x+y$ ,  $m-n$ ,  $\frac{1}{2}a + \frac{2}{3}b$  son expresiones enteras.

Una expresión entera puede considerarse como una fracción de denominador 1.

$$\text{Así, } a = \frac{a}{1}; \quad x+y = \frac{x+y}{1}.$$

- 175** **Expresión algebraica mixta** es la que consta de parte entera y parte fraccionaria.

Así,  $a + \frac{b}{c}$  y  $x - \frac{3}{x-a}$  son expresiones mixtas.



**176 PRINCIPIOS FUNDAMENTALES DE LAS FRACCIONES**

Los siguientes principios demostrados en Aritmética se aplican igualmente a las fracciones algebraicas y son de capital importancia:

1) Si el numerador de una fracción algebraica se multiplica o divide por una cantidad, la fracción queda multiplicada en el primer caso y dividida en el segundo por dicha cantidad.

2) Si el denominador de una fracción algebraica se multiplica o divide por una cantidad, la fracción queda dividida en el primer caso y multiplicada en el segundo por dicha cantidad.

3) Si el numerador y el denominador de una fracción algebraica se multiplican o dividen por una misma cantidad, la fracción no se altera.

**177 SIGNO DE LA FRACCION Y DE SUS TERMINOS**

En una fracción algebraica hay que considerar tres signos: El signo de la fracción, el signo del numerador y el signo del denominador.

El signo de la fracción es el signo  $+$  o  $-$  escrito delante de la raya de la fracción. Cuando delante de la raya no hay ningún signo, se sobreentiende que el signo de la fracción es  $+$ .

Así, en la fracción  $\frac{a}{b}$  el signo de la fracción es  $+$ ; el signo del numerador es  $+$  y el signo del denominador  $+$ .

En la fracción  $-\frac{a}{b}$  el signo de la fracción es  $-$ , el signo del numerador  $-$  y el signo del denominador  $+$ .

**178 CAMBIOS QUE PUEDEN HACERSE EN LOS SIGNOS DE UNA FRACCION SIN QUE LA FRACCION SE ALTERE**

Designando por  $m$  el cociente de dividir  $a$  entre  $b$  se tendrá según la Ley de los Signos de la división:

$$\frac{a}{b} = m \quad (1) \quad \frac{-a}{-b} = m \quad (2)$$

y por tanto,  $\frac{-a}{b} = -m$  y  $\frac{a}{-b} = -m$ .

Cambiando el signo a los dos miembros de estas dos últimas igualdades, tenemos:  $\frac{a}{b} = m \quad (3)$  y  $\frac{-a}{-b} = m \quad (4)$

Como (1), (2), (3) y (4) tienen el segundo miembro igual, los primeros miembros son iguales y tenemos:

$$\frac{a}{b} = \frac{-a}{-b} = -\frac{-a}{b} = -\frac{a}{-b}$$

**179** Lo anterior nos dice que:

1) Si se cambia el signo del numerador y el signo del denominador de una fracción, la fracción no se altera.

2) Si se cambia el signo del numerador y el signo de la fracción, la fracción no se altera.

3) Si se cambia el signo del denominador y el signo de la fracción, la fracción no se altera.

En resumen: Se pueden cambiar dos de los tres signos que hay que considerar en una fracción, sin que ésta se altere.

**180 CAMBIO DE SIGNOS CUANDO LOS TERMINOS DE LA FRACCION SON POLINOMIOS**

Cuando el numerador o denominador de la fracción es un polinomio, para cambiar el signo al numerador o al denominador hay que cambiar el signo a cada uno de los términos del polinomio.

Así, si en la fracción  $\frac{m-n}{x-y}$  cambiamos el signo al numerador y al denominador la fracción no varía, pero para cambiar el signo a  $m-n$  hay que cambiar el signo de  $m$  y de  $-n$  y quedará  $-m+n = n-m$ , y para cambiar el signo a  $x-y$  hay que cambiar el signo de  $x$  y de  $-y$  y quedará  $-x+y = y-x$  y tendremos:

$$\frac{m-n}{x-y} = \frac{-m+n}{-x+y} = \frac{n-m}{y-x}$$

Si en la fracción  $\frac{x-3}{x+2}$  cambiamos el signo del numerador y de la fracción, ésta no se altera y tendremos:

$$\frac{x-3}{x+2} = -\frac{-x+3}{x+2} = -\frac{3-x}{x+2}$$

Del propio modo, si en la fracción  $\frac{3x}{1-x^2}$  cambiamos el signo al denominador y a la fracción, ésta no varía y tendremos:

$$\frac{3x}{1-x^2} = -\frac{3x}{-1+x^2} = -\frac{3x}{x^2-1}$$

(En la práctica, el paso intermedio se suprime).

De acuerdo con lo anterior, la fracción  $\frac{x-2}{x-3}$  puede escribirse de los cuatro modos siguientes:

$$\frac{x-2}{x-3} = \frac{2-x}{3-x} = -\frac{2-x}{x-3} = -\frac{x-2}{3-x}$$

**181 CAMBIO DE SIGNOS CUANDO EL NUMERADOR O DENOMINADOR SON PRODUCTOS INDICADOS**

Cuando uno o ambos términos de una fracción son productos indicados, se pueden hacer los siguientes cambios de signos, de acuerdo con las reglas anteriores, sin que la fracción se altere:

1) Se puede cambiar el signo a un número par de factores sin cambiar el signo de la fracción.



Así, dada la fracción  $\frac{ab}{xy}$  podemos escribir:

$$\frac{ab}{xy} = \frac{(-a)b}{(-x)y}$$

$$\frac{ab}{xy} = \frac{(-a)b}{x(-y)}$$

$$\frac{ab}{xy} = \frac{(-a)(-b)}{xy}$$

$$\frac{ab}{xy} = \frac{ab}{(-x)(-y)}$$

$$\frac{ab}{xy} = \frac{(-a)(-b)}{(-x)(-y)}$$

En los cuatro primeros ejemplos cambiamos el signo a dos factores; en el último, a cuatro factores, número par en todos los casos, y el signo de la fracción no se ha cambiado.

2) Se puede cambiar el signo a un número impar de factores cambiando el signo de la fracción.

Así, dada la fracción  $\frac{ab}{xy}$  podemos escribir:

$$\frac{ab}{xy} = -\frac{(-a)b}{xy}$$

$$\frac{ab}{xy} = -\frac{ab}{x(-y)}$$

$$\frac{ab}{xy} = -\frac{(-a)(-b)}{xy}$$

$$\frac{ab}{xy} = -\frac{ab}{(-x)(-y)}$$

En los dos primeros ejemplos cambiamos el signo a un factor; en los dos últimos ejemplos cambiamos el signo a tres factores, número impar en todos los casos, y en todos los casos cambiamos el signo de la fracción.

**182** Apliquemos los principios anteriores a la fracción  $\frac{(a-1)(a-2)}{(x-3)(x-4)}$ .

Como estos factores son binomios, para cambiar el signo de cualquiera de ellos hay que cambiar el signo a sus dos términos.

Tendremos:

$$\frac{(a-1)(a-2)}{(x-3)(x-4)} = \frac{(1-a)(a-2)}{(3-x)(x-4)}; \quad \frac{(a-1)(a-2)}{(x-3)(x-4)} = \frac{(1-a)(2-a)}{(x-3)(x-4)}$$

$$\frac{(a-1)(a-2)}{(x-3)(x-4)} = -\frac{(1-a)(a-2)}{(x-3)(x-4)}; \quad \frac{(a-1)(a-2)}{(x-3)(x-4)} = -\frac{(a-1)(2-a)}{(3-x)(4-x)}$$

Estos principios son de suma importancia para simplificar fracciones y efectuar operaciones con ellas.

## REDUCCION DE FRACCIONES

**183** REDUCIR UNA FRACCION ALGEBRAICA es cambiar su forma sin cambiar su valor.

### I. SIMPLIFICACION DE FRACCIONES

**184** SIMPLIFICAR UNA FRACCION ALGEBRAICA es convertirla en una fracción equivalente cuyos términos sean primos entre sí.

Cuando los términos de una fracción son primos entre sí, la fracción es irreducible y entonces la fracción está reducida a su más simple expresión o a su mínima expresión.

**185** SIMPLIFICACION DE FRACCIONES CUYOS TERMINOS SEAN MONOMIOS

#### REGLA

Se dividen el numerador y el denominador por sus factores comunes hasta que sean primos entre sí.

#### Ejemplos

(1) Simplificar  $\frac{4a^2b^5}{6a^3b^3m}$ .

$$\text{Tendremos: } \frac{4a^2b^5}{6a^3b^3m} = \frac{2 \cdot 1 \cdot b^2}{3 \cdot a \cdot 1 \cdot m} = \frac{2b^2}{3am} \quad R.$$

Hemos dividido 4 y 6 entre 2 y obtuvimos 2 y 3;  $a^2$  y  $a^3$  entre  $a^2$  y obtuvimos los cocientes 1 y  $a$ ;  $b^5$  y  $b^3$  entre  $b^3$  y obtuvimos los cocientes  $b^2$  y 1. Como  $2b^2$  y  $3am$  no tienen ningún factor común, esta fracción que resulta es irreducible.

(2) Simplificar  $\frac{9x^3y^8}{36x^5y^9}$ .

$$\frac{9x^3y^8}{36x^5y^9} = \frac{1 \cdot 1 \cdot 1}{4 \cdot x^2 \cdot y} = \frac{1}{4x^2y} \quad R.$$

Dividimos 9 y 36 entre 9;  $x^3$  y  $x^5$  entre  $x^3$ ;  $y^8$  y  $y^9$  entre  $y^8$ .

Obsérvese que cuando al simplificar desaparecen todos los factores del numerador, queda en el numerador 1, que no puede suprimirse. Si desaparecen todos los factores del denominador, queda en éste 1, que puede suprimirse. El resultado es una expresión entera.

#### EJERCICIO 118

Simplificar o reducir a su más simple expresión:

1.  $\frac{a^2}{ab}$

2.  $\frac{2a}{8a^2b}$

3.  $\frac{x^2y^2}{x^3y^3}$

4.  $\frac{ax^3}{4x^2y}$

5.  $\frac{6m^2n^3}{3m}$

6.  $\frac{9x^2y^3}{24a^2x^3y^4}$



7.  $\frac{8m^4n^3x^2}{24mn^2x^2}$  10.  $\frac{21mn^3x^6}{28m^4n^2x^2}$  13.  $\frac{30x^6y^2}{45a^3x^4z^3}$  16.  $\frac{54x^9y^{11}z^{13}}{63x^{10}y^{12}z^{15}}$
8.  $\frac{12x^3y^4z^5}{32xy^2z}$  11.  $\frac{42a^2c^2n}{26a^4c^6m}$  14.  $\frac{a^5b^2}{3a^4b^6c}$  17.  $\frac{15a^{12}b^{15}c^{20}}{75a^{11}b^{16}c^{22}}$
9.  $\frac{12a^2b^3}{60a^3b^5x^4}$  12.  $\frac{17x^3y^4z^6}{34x^7y^8z^{10}}$  15.  $\frac{21a^8b^{10}c^{12}}{63a^4b^6c^2}$  18.  $\frac{75a^7m^5}{100a^3m^{12}n^8}$

## 186 SIMPLIFICACION DE FRACCIONES CUYOS TERMINOS SEAN POLINOMIOS

### REGLA

Se descomponen en factores los polinomios todo lo posible y se suprimen los factores comunes al numerador y denominador.

### Ejemplos

(1) Simplificar  $\frac{2a^2}{4a^2 - 4ab}$ .

Factorando el denominador, se tiene:

$$\frac{2a^2}{4a^2 - 4ab} = \frac{2a^2}{4a(a-b)} = \frac{a}{2(a-b)} \quad R.$$

Hemos dividido 2 y 4 entre 2 y  $a^2$  y  $a$  entre  $a$ .

(2) Simplificar  $\frac{4x^2y^3}{24x^3y^3 - 36x^2y^4}$ .

Factorando:

$$\frac{4x^2y^3}{24x^3y^3 - 36x^2y^4} = \frac{4x^2y^3}{12x^2y^3(2-3y)} = \frac{1}{3x(2-3y)} \quad R.$$

(3) Simplificar  $\frac{x^2 - 5x + 6}{2ax - 6a}$ .

$$\frac{x^2 - 5x + 6}{2ax - 6a} = \frac{(x-2)(x-3)}{2a(x-3)} = \frac{x-2}{2a} \quad R.$$

(4) Simplificar  $\frac{8a^3 + 27}{4a^3 + 12a + 9}$ .

$$\frac{8a^3 + 27}{4a^3 + 12a + 9} = \frac{(2a+3)(4a^2-6a+9)}{(2a+3)^2} = \frac{4a^2-6a+9}{2a+3} \quad R.$$

(5) Simplificar  $\frac{a^3 - 25a}{2a^3 + 8a^2 - 10a}$ .

$$\frac{a^3 - 25a}{2a^3 + 8a^2 - 10a} = \frac{a(a^2 - 25)}{2a(a^2 + 4a - 5)} = \frac{a(a+5)(a-5)}{2a(a+5)(a-1)} = \frac{a-5}{2(a-1)} \quad R.$$

(6) Simplificar  $\frac{2xy - 2x + 3 - 3y}{18x^3 + 15x^2 - 63x}$ .

$$\frac{2xy - 2x + 3 - 3y}{18x^3 + 15x^2 - 63x} = \frac{2x(y-1) + 3(1-y)}{3x(6x^2 + 5x - 21)} = \frac{(y-1)(2x-3)}{3x(3x+7)(2x-3)} = \frac{y-1}{3x(3x+7)} \quad R.$$

(7) Simplificar  $\frac{3x^3 - 12x - x^2y + 4y}{x^4 - 5x^3 - 14x^2}$ .

$$\frac{3x^3 - 12x - x^2y + 4y}{x^4 - 5x^3 - 14x^2} = \frac{(x^2-4)(3x-y)}{x^2(x^2-5x-14)} = \frac{(x+2)(x-2)(3x-y)}{x^2(x-7)(x+2)} = \frac{(x-2)(3x-y)}{x^2(x-7)} \quad R.$$

(8) Simplificar  $\frac{(a^2-1)(a^2+2a-3)}{(a^2-2a+1)(a^2+4a+3)}$ .

$$\frac{(a^2-1)(a^2+2a-3)}{(a^2-2a+1)(a^2+4a+3)} = \frac{(a+1)(a-1)(a+3)(a-1)}{(a-1)^2(a+3)(a+1)} = 1 \quad R.$$

(9) Simplificar  $\frac{x^3 + x^2 - 5x + 3}{x^4 + x^3 - 2x^2 + 9x - 9}$ .

Descomponiendo por evaluación se tiene:

$$\frac{x^3 + x^2 - 5x + 3}{x^4 + x^3 - 2x^2 + 9x - 9} = \frac{(x-1)(x-1)(x+3)}{(x-1)(x+3)(x^2-x+3)} = \frac{x-1}{x^2-x+3} \quad R.$$

## EJERCICIO 119

Simplificar o reducir a su más simple expresión:

1.  $\frac{3ab}{2a^2x+2a^2}$

8.  $\frac{15a^2bn-45a^2bm}{10a^2b^2n-30a^2b^2m}$

15.  $\frac{2ax+ay-4bx-2by}{ax-4a-2bx+8b}$

2.  $\frac{xy}{3x^2y-3xy^2}$

9.  $\frac{x^2-y^2}{x^2+2xy+y^2}$

16.  $\frac{a^2-ab-6b^2}{a^3x-6a^2bx+9ab^2x}$

3.  $\frac{2ax+4bx}{3ay+6by}$

10.  $\frac{3x^2y+15xy}{x^2-25}$

17.  $\frac{m^2+n^2}{m^4-n^4}$

4.  $\frac{x^2-2x-3}{x-3}$

11.  $\frac{a^2-4ab+4b^2}{a^3-8b^3}$

18.  $\frac{x^3+y^3}{(x+y)^3}$

5.  $\frac{10a^2b^3c}{80(a^3-a^2b)}$

12.  $\frac{x^3+4x^2-21x}{x^3-9x}$

19.  $\frac{(m-n)^2}{m^2-n^2}$

6.  $\frac{x^2-4}{5ax+10a}$

13.  $\frac{6x^2+5x-6}{15x^2-7x-2}$

20.  $\frac{(a-x)^3}{a^3-x^3}$

7.  $\frac{3x^3-4x-15}{x^2-5x+6}$

14.  $\frac{a^3+1}{a^4-a^3+a-1}$

21.  $\frac{a^2-a-20}{a^2-7a+10}$



22.  $\frac{(1-a^2)^2}{a^2+2a+1}$
23.  $\frac{a^4b^2-a^2b^4}{a^4-b^4}$
24.  $\frac{x^2-y^2}{x^2-y^2}$
25.  $\frac{24a^3b+8a^2b^2}{36a^4+24a^3b+4a^2b^2}$
26.  $\frac{n^3-n}{n^2-5n-6}$
27.  $\frac{8n^3+1}{8n^2-4n+2n}$
28.  $\frac{a^2-(b-c)^2}{(a+b)^2-c^2}$
29.  $\frac{(a+b)^2-(c-d)^2}{(a+c)^2-(b-d)^2}$
30.  $\frac{3x^3+9x^2}{x^2+6x+9}$
31.  $\frac{10a^2(a^3+b^3)}{6a^4-6a^3b+6a^2b^2}$
32.  $\frac{a(4a^2-8ab)}{x(3a^2-6ab)}$
33.  $\frac{x^3-6x^2}{x^2-12x+36}$
34.  $\frac{(x-4y)^2}{x^5-64x^2y^3}$
35.  $\frac{x^3-3xy^2}{x^4-6x^2y^2+9y^4}$
36.  $\frac{m^3n+3m^2n+9mn}{m^3-27}$
37.  $\frac{x^4-8x^2+15}{x^4-9}$
38.  $\frac{a^4+6a^2-7}{a^4+8a^2-9}$
39.  $\frac{3x^2+19x+20}{6x^2+17x+12}$
40.  $\frac{4a^4-15a^2-4}{a^2-8a-20}$
41.  $\frac{125a+a^4}{2a^3+20a^2+50a}$
42.  $\frac{a^2n^2-36a^2}{an^2+an-30a}$
43.  $\frac{3m^2+5mn-8n^2}{m^3-n^3}$
44.  $\frac{15a^3b-18a^2b}{20a^2b^2-24ab^2}$
45.  $\frac{9x^2-24x+16}{9x^4-16x^2}$
46.  $\frac{16a^2x-25x}{12a^3-7a^2-10a}$
47.  $\frac{8x^4-xy^3}{4x^4-4x^2y+x^2y^2}$
48.  $\frac{3an-4a-6bn+8b}{6n^2-5n-4}$
49.  $\frac{x^4-49x^2}{x^3+2x^2-63x}$
50.  $\frac{x^4+x-x^2y-y}{x^3-x-x^2y+y}$
51.  $\frac{2x^3+6x^2-x-3}{x^3+3x^2+x+3}$
52.  $\frac{a^3m-4am+a^2n-4an}{a^4-4a^3-12a^2}$
53.  $\frac{4a^2-(x-3)^2}{(2a+x)^2-9}$
54.  $\frac{m-am+n-an}{1-3a+3a^2-a^3}$
55.  $\frac{6x^2+3}{42x^5-9x^3-15x}$
56.  $\frac{a^2-a^2-1+a}{a^2+1-a^3-a}$
57.  $\frac{8x^2+12x^2y+6xy^2+y^3}{6x^2+xy-y^2}$
58.  $\frac{8n^3-125}{25-20n+4n^2}$
59.  $\frac{6-x-x^2}{15+2x-x^2}$
60.  $\frac{3+2x-8x^2}{4+5x-6x^2}$
61.  $\frac{m^2n^2+3mn-10}{4-4mn+m^2n^2}$
62.  $\frac{x^6+x^2y-4b^2x-4b^2y}{4b^2-4bx+x^2}$
63.  $\frac{x^6+x^3-2}{x^4-x^2y-x+y}$
64.  $\frac{(x^2-x-2)(x^2-9)}{(x^2-2x-3)(x^2+x-6)}$
65.  $\frac{(a^2-4a+4)(4a^2-4a+1)}{(a^2+a-6)(2a^2-5a+2)}$
66.  $\frac{(x^2-3x)(x^2-1)}{(x^4+x^3+x^2)(x^2-1)}$
67.  $\frac{(4n^2+4n-3)(n^2+7n-30)}{(2n^2-7n+3)(4n^2+12n+9)}$
68.  $\frac{(x^4-y^4)(x+y)}{(x^3-y^3)(x^3+x^2y+xy^2+y^3)}$
69.  $\frac{x^3+3x^2-4}{x^5+x^2-8x-12}$
70.  $\frac{x^3-x^2-8x+12}{x^4-2x^3-7x^2+20x-12}$
71.  $\frac{x^4-7x^2-2x+8}{x^4-2x^3-9x^2+10x+24}$
72.  $\frac{a^5-a^3-a^2+1}{a^5-2a^4-6a^3+8a^2+5a-6}$

# 187 SIMPLIFICACION DE FRACCIONES. CASO EN QUE HAY QUE CAMBIAR EL SIGNO A UNO O MAS FACTORES

## Ejemplos

(1) Simplificar  $\frac{2a-2b}{3b-3a}$

Descomponiendo:  $\frac{2a-2b}{3b-3a} = \frac{2(a-b)}{3(b-a)} = -\frac{2(a-b)}{3(a-b)} = -\frac{2}{3}$  R.

Al descomponer vemos que no hay simplificación porque el factor  $(a-b)$  del numerador es distinto del factor  $(b-a)$  del denominador, pero cambiando el signo a  $(b-a)$  se convierte en  $(a-b)$  y este factor se cancela con el  $(a-b)$  del numerador, pero como le hemos cambiado el signo a un factor (número impar) hay que cambiar el signo de la fracción, para que ésta no varíe y por eso ponemos  $-$  delante de la fracción.

(2) Simplificar  $\frac{ax^2-9a}{3x-3y-x^2+xy}$

$\frac{ax^2-9a}{3x-3y-x^2+xy} = \frac{a(x+3)(x-3)}{(x-y)(3-x)} = \frac{a(x+3)(x-3)}{(x-y)(x-3)} = \frac{a(x+3)}{y-x}$  R.

Le cambiamos el signo al factor  $(3-x)$  convirtiéndolo en  $(x-3)$  que se cancela con el  $(x-3)$  del numerador, y también le cambiamos el signo al factor  $(x-y)$  que se convierte en  $(y-x)$ . Como le hemos cambiado el signo a dos factores (número par) el signo de la fracción no se cambia.

Si le cambiamos el signo solamente a  $(3-x)$  hay que cambiarle el signo a la fracción, y tendremos:

$\frac{ax^2-9a}{3x-3y-x^2+xy} = \frac{a(x+3)(x-3)}{(x-y)(3-x)} = -\frac{a(x+3)(x-3)}{(x-y)(x-3)} = -\frac{a(x+3)}{x-y}$  R.

Ambas soluciones son legítimas.

(3) Simplificar  $\frac{2a^2+a-3}{1-a^3}$

$\frac{2a^2+a-3}{1-a^3} = \frac{(2a+3)(a-1)}{(1-a)(1+a+a^2)} = -\frac{(2a+3)(a-1)}{(a-1)(1+a+a^2)} = -\frac{2a+3}{1+a+a^2}$  R.

(4) Simplificar  $\frac{x^2-4x+4}{4x^2-x^4}$

$\frac{x^2-4x+4}{4x^2-x^4} = \frac{(x-2)^2}{x^2(4-x^2)} = \frac{(x-2)^2}{x^2(2+x)(2-x)} = -\frac{(x-2)^2}{x^2(2+x)(x-2)} = -\frac{x-2}{x^2(x+2)}$

Aquí le cambiamos el signo al factor  $(2-x)$  y a la fracción. También, como la descomposición del trinomio cuadrado perfecto  $x^2-4x+4$  puede escribirse  $(x-2)^2$  o  $(2-x)^2$ , usando esta última forma, tendremos:

$\frac{x^2-4x+4}{4x^2-x^4} = \frac{(2-x)^2}{x^2(2+x)(2-x)} = \frac{2-x}{x^2(2+x)}$  R.



## EJERCICIO 120

Simplificar o reducir a su más simple expresión:

1.  $\frac{4-4x}{6x-6}$
2.  $\frac{a^2-b^2}{b^2-a^2}$
3.  $\frac{m^2-n^2}{(n-m)^2}$
4.  $\frac{x^2-x-12}{16-x^2}$
5.  $\frac{3y-6x}{2mx-my-2nx+ny}$
6.  $\frac{2x^2-9x-5}{10+3x-x^2}$
7.  $\frac{8-a^8}{a^2+2a-8}$
8.  $\frac{a^2+a-2}{n-an-m+am}$
9.  $\frac{4x^2-4xy+y^2}{5y-10x}$
10.  $\frac{3mx-nx-3my+ny}{ny^2-nx^2-3my^2+3mx^2}$
11.  $\frac{9-6x+x^2}{x^2-7x+12}$
12.  $\frac{a^2-b^2}{b^3-a^3}$
13.  $\frac{3ax-3bx-6a+6b}{2b-2a-bx+ax}$
14.  $\frac{a^2-x^2}{x^2-ax-3x+3a}$
15.  $\frac{3bx-6x}{8-b^3}$
16.  $\frac{(1-a)^8}{a-1}$
17.  $\frac{2x^3-2x^2y-2xy^2}{3y^3+3xy^2-3x^2y}$
18.  $\frac{(a-b)^8}{(b-a)^2}$
19.  $\frac{2x^2-22x+60}{75-3x^2}$
20.  $\frac{6an^2-3b^2n^2}{b^4-4ab^2+4a^2}$
21.  $\frac{(x-y)^2-z^2}{(y+z)^2-x^2}$
22.  $\frac{3a^2-3ab}{bd-ad-bc+ac}$
23.  $\frac{(x-5)^3}{125-x^3}$
24.  $\frac{13x-6-6x^2}{6x^2-13x+6}$
25.  $\frac{2x^8-2xy^2+x^2-y^2}{2xy^2+y^2-2x^3-x^2}$
26.  $\frac{30x^2y-45xy^2-20x^3}{8x^3+27y^3}$
27.  $\frac{n+1-n^3-n^2}{n^3-n-2n^2+2}$
28.  $\frac{(x-2)^2(x^2+x-12)}{(2-x)(3-x)^2}$
29.  $\frac{5x^3-15x^2y}{90x^3y^2-10x^5}$
30.  $\frac{(x^2-1)(x^2-8x+16)}{(x^2-4x)(1-x^2)}$

## 188 SIMPLIFICACION DE FRACCIONES CUYOS TERMINOS NO PUEDEN FACTORIZARSE FACILMENTE

## REGLA

Hállese el m. c. d. del numerador y denominador por divisiones sucesivas y divídanse numerador y denominador por su m. c. d.

## Ejemplo

Simplificar  $\frac{x^6-2x^5+5x^4-x^3+2x^2-5x}{x^5-2x^4+6x^3-2x^2+5x}$

Hallando el m. c. d. del numerador y denominador por divisiones sucesivas se halla que el m. c. d. es  $x(x^2-2x+5) = x^3-2x^2+5x$ .

Ahora dividimos los dos términos de la fracción por su m. c. d.  $x^3-2x^2+5x$  y tendremos:

$$\frac{x^6-2x^5+5x^4-x^3+2x^2-5x}{x^5-2x^4+6x^3-2x^2+5x} = \frac{(x^6-2x^5+5x^4-x^3+2x^2-5x) \div (x^3-2x^2+5x)}{(x^5-2x^4+6x^3-2x^2+5x) \div (x^3-2x^2+5x)} = \frac{x^3-1}{x^2+1} \text{ R.}$$

## EJERCICIO 121

Simplificar las fracciones siguientes hallando el m. c. d. de los dos términos:

1.  $\frac{a^4-a^3x+a^2x^2-ax^3}{a^4-a^3x-2a^2x^2+2ax^3}$
2.  $\frac{x^4+3x^3+4x^2-3x-5}{x^4+3x^3+6x^2+3x+5}$
3.  $\frac{2ax^4-ax^3-ax^2-2ax+2a}{3ax^4-4ax^3+ax^2+3ax-3a}$
4.  $\frac{6x^3-13x^2+18x-8}{10x^3-9x^2+11x+12}$
5.  $\frac{x^4-2x^3y+2x^2y^2-xy^3}{2x^4-5x^3y+4x^2y^2-xy^3}$
6.  $\frac{2a^5-a^4+2a^3+2a^2+3}{3a^5-a^4+3a^3+4a^2+5}$
7.  $\frac{1-x-x^2+x^4}{1-2x-x^2-2x^3+x^4}$
8.  $\frac{2m^3+2m^2n-mn^2-n^3}{3m^3+3m^2n+mn^2+n^3}$
9.  $\frac{6a^3+3a^4-4a^3-2a^2+10a+5}{3a^3+7a^4-a^2+15}$
10.  $\frac{5x^3-10x^2+21x^3-2x+4}{3x^5-6x^4+11x^3+2x-4}$
11.  $\frac{n^6-3n^5-n^4+3n^3+7n^2-21n}{n^6+2n^5-n^4-2n^3+7n^2+14n}$
12.  $\frac{a^7+2a^6-5a^5+8a^4+a^3+2a^2-5a+8}{a^6+2a^5-5a^4+10a^3+4a^2-10a+16}$

## II. REDUCIR UNA FRACCION A TERMINOS MAYORES

189 Se trata de convertir una fracción en otra fracción equivalente de numerador o denominador dado, siendo el nuevo numerador o denominador múltiplo del numerador o denominador de la fracción dada.

## Ejemplos

(1) Reducir  $\frac{2a}{3b}$  a fracción equivalente de numerador  $6a^2$ .

$$\frac{2a}{3b} = \frac{6a^2}{3b}$$

Para que  $2a$  se convierta en  $6a^2$  hay que multiplicarlo por  $6a^2 \div 2a = 3a$ , luego para que la fracción no varíe hay que multiplicar el denominador por  $3a$ :  $3b \times 3a = 9ab$ , luego

$$\frac{2a}{3b} = \frac{6a^2}{9ab} \text{ R.}$$

La fracción obtenida es equivalente a la fracción dada porque una fracción no varía si sus dos términos se multiplican por una misma cantidad.

(2) Convertir  $\frac{5}{4y^3}$  en fracción equivalente de denominador  $20a^2y^4$ .

$$\frac{5}{4y^3} = \frac{5}{20a^2y^4}$$

Para que  $4y^3$  se convierta en  $20a^2y^4$  hay que multiplicarlo por  $20a^2y^4 \div 4y^3 = 5a^2y$ , luego para que la fracción no varíe hay que multiplicar el numerador por  $5a^2y$ :  $5 \times 5a^2y = 25a^2y$ , luego

$$\frac{5}{4y^3} = \frac{25a^2y}{20a^2y^4} \text{ R.}$$



- (3) Reducir  $\frac{x-2}{x-3}$  a fracción equivalente de denominador  $x^2-x-6$ .

$$\frac{x-2}{x-3} = \frac{x-2}{x^2-x-6}$$

Para que  $x-3$  se convierta en  $x^2-x-6$  hay que multiplicarlo por  $(x^2-x-6) \div (x-3) = x+2$ , luego el numerador hay que multiplicarlo por  $x+2$ , y tendremos:

$$\frac{x-2}{x-3} = \frac{(x-2)(x+2)}{x^2-x-6} = \frac{x^2-4}{x^2-x-6} \quad R.$$

### EJERCICIO 122

Completar:

- |   |   |  |
|---|---|--|
| 1. $\frac{3}{2a} = \frac{\quad}{4a^2}$      | 8. $\frac{a^2}{a+2} = \frac{2a^3}{\quad}$       | 15. $\frac{5x}{2x+y} = \frac{\quad}{4x^2+4xy+y^2}$ |
| 2. $\frac{5}{9x^2} = \frac{20a}{\quad}$     | 9. $\frac{3a}{a+b} = \frac{\quad}{a^2+2ab+b^2}$ | 16. $\frac{x+3}{x+1} = \frac{x^2-9}{\quad}$        |
| 3. $\frac{m}{ab^2} = \frac{\quad}{2a^2b^2}$ | 10. $\frac{x-4}{x+3} = \frac{\quad}{x^2+5x+6}$  | 17. $\frac{2}{a+1} = \frac{\quad}{a^3+1}$          |
| 4. $\frac{3x}{8y} = \frac{9x^2y^2}{\quad}$  | 11. $\frac{2a}{x+a} = \frac{2a^3}{\quad}$       | 18. $\frac{x-2y}{3x} = \frac{\quad}{9x^2y}$        |
| 5. $\frac{4m}{5n^2} = \frac{\quad}{5n^3}$   | 12. $\frac{x-y}{6} = \frac{\quad}{12}$          | 19. $\frac{x-1}{x+1} = \frac{x^2-1}{\quad}$        |
| 6. $\frac{2x+7}{5} = \frac{\quad}{15}$      | 13. $\frac{5x}{a-b} = \frac{\quad}{a^2-b^2}$    | 20. $\frac{a-b}{7a^2} = \frac{\quad}{63a^3b}$      |
| 7. $\frac{2x}{x-1} = \frac{\quad}{x^2-x}$   | 14. $\frac{x-5}{a} = \frac{3x^2-15x}{\quad}$    | 21. $\frac{x+1}{x+5} = \frac{\quad}{x^2+3x-10}$    |

### III. REDUCIR UNA FRACCIÓN A EXPRESIÓN ENTERA O MIXTA

- 190 Como una fracción representa la división indicada del numerador entre el denominador, para reducir una fracción a expresión entera o mixta aplicamos la siguiente:

#### REGLA

Se divide el numerador entre el denominador.

Si la división es exacta, la fracción equivale a una expresión entera.

Si la división no es exacta, se continúa hasta que el primer término del residuo no sea divisible por el primer término del divisor y se añade

al cociente una fracción cuyo numerador es el residuo y cuyo denominador es el divisor.

### Ejemplos

- (1) Reducir a expresión entera  $\frac{4x^3-2x^2}{2x}$ .

Dividiendo cada término del numerador por el denominador, se tiene:

$$\frac{4x^3-2x^2}{2x} = \frac{4x^3}{2x} - \frac{2x^2}{2x} = 2x^2 - x \quad R.$$

- (2) Reducir a expresión mixta  $\frac{3a^3-12a^2-4}{3a}$ .

Dividiendo el numerador por el denominador:

$$\begin{array}{r} 3a^3-12a^2-4 \quad | \quad 3a \\ -3a^3 \phantom{-12a^2-4} \\ \hline -12a^2-4 \\ -12a^2 \phantom{-4} \\ \hline -4 \end{array}$$

$$3a^3-12a^2-4 = a^2-4a + \frac{-4}{3a}$$

Cambiando el signo al numerador  $-4$  y cambiando el signo a la fracción, tendremos:

$$3a^3-12a^2-4 = a^2-4a - \frac{4}{3a} \quad R.$$

- (3) Reducir a expresión mixta  $\frac{6x^3-3x^2-5x+3}{3x^2-2}$ .

$$\begin{array}{r} 6x^3-3x^2-5x+3 \quad | \quad 3x^2-2 \\ -6x^3 \phantom{-3x^2-5x+3} \\ \hline -3x^2-5x+3 \\ -3x^2 \phantom{-5x+3} \\ \hline -x+3 \\ -x \phantom{+3} \\ \hline -2 \end{array}$$

$$\text{Tendremos: } \frac{6x^3-3x^2-5x+3}{3x^2-2} = 2x-1 + \frac{-x+1}{3x^2-2}$$

Cambiando el signo al numerador (a cada uno de sus términos) y a la fracción, tendremos:

$$\frac{6x^3-3x^2-5x+3}{3x^2-2} = 2x-1 - \frac{x-1}{3x^2-2} \quad R.$$

### EJERCICIO 123

Reducir a expresión entera o mixta:

- |                            |                                      |                      |                             |
|----------------------------|--------------------------------------|----------------------|-----------------------------|
| 1. $\frac{6a^3-10a^2}{2a}$ | 2. $\frac{9x^3y-6x^2y^2+3xy^3}{3xy}$ | 3. $\frac{x^2+3}{x}$ | 4. $\frac{10a^2+15a-2}{5a}$ |
|----------------------------|--------------------------------------|----------------------|-----------------------------|



$$\begin{array}{lll}
 5. \frac{9x^2-6x^2+3x-5}{3x} & 9. \frac{x^3-x^2-6x+1}{x^2-3} & 13. \frac{x^4-4x^2-3x}{x^2-2} \\
 6. \frac{x^2-5x-16}{x+2} & 10. \frac{3x^3+4x^2y+2xy^2-6y^3}{3x-2y} & 14. \frac{10n^3-18n^2-5n+3}{2n^3-3n+1} \\
 7. \frac{12x^2-6x-2}{4x-1} & 11. \frac{2x^3-7x^2+6x-8}{2x^2-x+1} & 15. \frac{8x^4}{4x^2+5x+6} \\
 8. \frac{a^3+3b^3}{a+2b} & 12. \frac{2a^4-3a^3+a^2}{a^2-a+1} & 16. \frac{6m^5+3m^4n}{3m^3-mn^2+n^3}
 \end{array}$$

#### IV. REDUCIR UNA EXPRESION MIXTA A FRACCIONARIA

##### 191 REGLA

Se multiplica la parte entera por el denominador; a este producto se le suma o resta el numerador, según que el signo que haya delante de la fracción sea + o -, y se parte todo por el denominador.

La fracción que resulta se simplifica, si es posible.

##### Ejemplos

(1) Reducir  $x-2+\frac{3}{x-1}$  a fracción.

$$x-2+\frac{3}{x-1} = \frac{[x-2](x-1)+3}{x-1} = \frac{x^2-3x+2+3}{x-1} = \frac{x^2-3x+5}{x-1} \quad R.$$

(2) Reducir  $a+b-\frac{a^2+b^2}{a-b}$  a fracción.

$$a+b-\frac{a^2+b^2}{a-b} = \frac{[a+b](a-b)-[a^2+b^2]}{a-b} = \frac{a^2-b^2-a^2-b^2}{a-b} = -\frac{2b^2}{a-b} \quad R.$$

##### IMPORTANTE

Observese que como la fracción tiene signo - delante, para restar el numerador  $a^2+b^2$  hay que cambiarle el signo a cada uno de sus términos y esto se indica incluyendo  $a^2+b^2$  en un paréntesis precedido del signo -.

(3) Reducir  $x+1-\frac{x^3+5x^2-18}{x^2+5x+6}$  a fracción

$$\begin{aligned}
 x+1-\frac{x^3+5x^2-18}{x^2+5x+6} &= \frac{[x+1](x^2+5x+6)-(x^3+5x^2-18)}{x^2+5x+6} \\
 &= \frac{x^3+6x^2+11x+6-x^3-5x^2+18}{x^2+5x+6} = \frac{x^2+11x+24}{x^2+5x+6} = \frac{(x+8)(x+3)}{(x+3)(x+2)} = \frac{x+8}{x+2} \quad R.
 \end{aligned}$$

#### EJERCICIO 124

Reducir a fracción:

$$\begin{array}{lll}
 1. a+\frac{4a}{a+2} & 8. x+2-\frac{3}{x-1} & 15. a^2+3ab-b^2+\frac{7ab^2-b^3}{2a-b} \\
 2. m-n-\frac{n^2}{m} & 9. x^2-3x-\frac{x^2-6x}{x+2} & 16. \frac{x^3+2}{x^2-x+1}-(x+1) \\
 3. x+5-\frac{3}{x-2} & 10. x+y+\frac{x^2-y^2}{x-y} & 17. x+3-\frac{x^3-2x^2+1}{x^2-4x+3} \\
 4. a+\frac{ab}{a+b} & 11. \frac{3mn}{m-n}+m-2n & 18. 3a+\frac{3a^2b+3ab^2}{a^2-b^2} \\
 5. \frac{1-a^2}{a}+a-3 & 12. 2a-3x-\frac{5ax-6x^2}{a+2x} & 19. x-3-\frac{x^3-27}{x^2-6x+9} \\
 6. 1-\frac{a+x}{a-x} & 13. m^2-2m+4-\frac{m^3}{m+2} & 20. a^2-3a+5+\frac{2a^3-11a+9}{a^2+a-2} \\
 7. \frac{2a+x}{a+x}-1 & 14. x^2-5x-\frac{3x(x+2)}{x-2} &
 \end{array}$$

#### V. REDUCCION DE FRACCIONES AL MINIMO COMUN DENOMINADOR

**192 REDUCIR FRACCIONES AL MINIMO COMUN DENOMINADOR** es convertirlas en fracciones equivalentes que tengan el mismo denominador y que éste sea el menor posible.

Para reducir fracciones al mínimo común denominador se sigue la siguiente regla, idéntica a la que empleamos en Aritmética:

##### REGLA

- 1) Se simplifican las fracciones dadas, si es posible.
- 2) Se halla el mínimo común múltiplo de los denominadores, que será el denominador común.
- 3) Para hallar los numeradores, se divide el m. c. m. de los denominadores entre cada denominador, y el cociente se multiplica por el numerador respectivo.

##### Ejemplos

(1) Reducir  $\frac{2}{a}$ ,  $\frac{3}{2a^2}$ ,  $\frac{5}{4x^2}$  al mínimo común denominador.

Hallamos el m. c. m. de  $a$ ,  $2a^2$  y  $4x^2$  que es  $4a^2x^2$ . Este es el denominador común. Ahora dividimos  $4a^2x^2$  entre los denominadores  $a$ ,  $2a^2$  y  $4x^2$  y cada cociente lo multiplicamos por su numerador respectivo, y tendremos:

$$4a^2x^2 \div a = 4ax^2 \quad \frac{2}{a} = \frac{2 \times 4ax^2}{4a^2x^2} = \frac{8ax^2}{4a^2x^2}$$



$$4a^2x^2 \div 2a^2 = 2x^2 \quad \frac{3}{2a^2} = \frac{3 \times 2x^2}{4a^2x^2} = \frac{6x^2}{4a^2x^2}$$

$$4a^2x^2 \div 4x^2 = a^2 \quad \frac{5}{4x^2} = \frac{5 \times a^2}{4a^2x^2} = \frac{5a^2}{4a^2x^2}$$

Las fracciones, reducidas al mínimo común denominador, quedan:

$$\frac{8a^2x^2}{4a^2x^2}, \frac{6x^2}{4a^2x^2}, \frac{5a^2}{4a^2x^2} \quad \text{R.}$$

Estas fracciones son equivalentes a las fracciones dadas porque no hemos hecho más que multiplicar los dos términos de cada fracción por el cociente de dividir el m. c. m. entre su denominador respectivo, con lo cual las fracciones no se alteran (176).

(2) Reducir  $\frac{1}{3x^2}, \frac{x-1}{6x}, \frac{2x-3}{9x^2}$  al mínimo común denominador.

El m. c. m. de  $3x^2, 6x$  y  $9x^2$  es  $18x^2$ . Este es el denominador común.

Tendremos:  $18x^2 \div 3x^2 = 6x \quad \frac{1}{3x^2} = \frac{1 \times 6x}{18x^2} = \frac{6x}{18x^2}$

$$18x^2 \div 6x = 3x^2 \quad \frac{x-1}{6x} = \frac{3x^2(x-1)}{18x^3} = \frac{3x^3-3x^2}{18x^3}$$

$$18x^2 \div 9x^2 = 2 \quad \frac{2x-3}{9x^2} = \frac{2(2x-3)}{18x^2} = \frac{4x-6}{18x^2}$$

$$\frac{6x}{18x^2}, \frac{3x^3-3x^2}{18x^3}, \frac{4x-6}{18x^2} \quad \text{R.}$$

(3) Reducir  $\frac{a-b}{ab}, \frac{2a}{ab+b^2}, \frac{3b}{a^2+ab}$  al mínimo común denominador.

Halleamos el m. c. m. de los denominadores, factorando los binomios:

$$\begin{aligned} ab &= ab \\ ab+b^2 &= b(a+b) \\ a^2+ab &= a(a+b) \end{aligned} \quad \text{m. c. m.} = ab(a+b).$$

Ahora dividimos el m. c. m.  $ab(a+b)$  entre cada denominador o lo que es lo mismo, entre la descomposición de cada denominador:

$$\frac{ab(a+b)}{ab} = a+b \quad \frac{a-b}{ab} = \frac{(a-b)(a+b)}{ab(a+b)} = \frac{a^2-b^2}{ab(a+b)}$$

$$\frac{ab(a+b)}{b(a+b)} = a \quad \frac{2a}{ab+b^2} = \frac{2a \times a}{ab(a+b)} = \frac{2a^2}{ab(a+b)}$$

$$\frac{ab(a+b)}{a(a+b)} = b \quad \frac{3b}{a^2+ab} = \frac{3b \times b}{ab(a+b)} = \frac{3b^2}{ab(a+b)}$$

(4) Reducir  $\frac{x+3}{x^2-1}, \frac{2x}{x^2+3x+2}, \frac{x+4}{x^2+x-2}$  al mínimo común denominador.

Halleamos el m. c. m. factorando los denominadores:

$$\begin{aligned} x^2-1 &= (x+1)(x-1) \\ x^2+3x+2 &= (x+2)(x+1) \\ x^2+x-2 &= (x+2)(x-1) \end{aligned} \quad \text{m. c. m.} = (x+1)(x-1)(x+2).$$

Dividiendo el m. c. m.  $(x+1)(x-1)(x+2)$  entre la descomposición de cada denominador, tendremos:

$$\frac{(x+1)(x-1)(x+2)}{(x+1)(x-1)} = x+2 \quad \frac{x+3}{x^2-1} = \frac{(x+3)(x+2)}{(x+1)(x-1)(x+2)} = \frac{x^2+5x+6}{(x+1)(x-1)(x+2)}$$

$$\frac{(x+1)(x-1)(x+2)}{(x+2)(x+1)} = x-1 \quad \frac{2x}{x^2+3x+2} = \frac{2x(x-1)}{(x+1)(x-1)(x+2)} = \frac{2x^2-2x}{(x+1)(x-1)(x+2)}$$

$$\frac{(x+1)(x-1)(x+2)}{(x+2)(x-1)} = x+1 \quad \frac{x+4}{x^2+x-2} = \frac{(x+4)(x+1)}{(x+1)(x-1)(x+2)} = \frac{x^2+5x+4}{(x+1)(x-1)(x+2)}$$

## EJERCICIO 125

Reducir al mínimo común denominador:

1.  $\frac{a}{b}, \frac{1}{ab}$

2.  $\frac{x}{2a}, \frac{4}{3a^2x}$

3.  $\frac{1}{2x^2}, \frac{3}{4x}, \frac{5}{8x^3}$

4.  $\frac{3x}{ab^2}, \frac{x}{a^2b}, \frac{3}{a^3}$

5.  $\frac{7y}{6x^2}, \frac{1}{9xy}, \frac{5x}{12y^2}$

6.  $\frac{a-1}{3a}, \frac{5}{6a}, \frac{a+2}{a^2}$

7.  $\frac{x-y}{x^2y}, \frac{x+y}{3xy^2}, 5$

8.  $\frac{m+n}{2m}, \frac{m-n}{5m^2n}, \frac{1}{10n^2}$

9.  $\frac{a+b}{6}, \frac{a-b}{2a}, \frac{a^2+b^2}{3b^2}$

10.  $\frac{2a-b}{3a^3}, \frac{3b-a}{4b^3}, \frac{a-3b}{2}$

11.  $\frac{2}{5}, \frac{3}{x+1}$

12.  $\frac{a}{a+b}, \frac{b}{a^2-b^2}$

13.  $\frac{x}{x^2-1}, \frac{1}{x^2-x-2}$

14.  $\frac{a-3}{4(a+5)}, \frac{3a}{8}$

15.  $\frac{x^2}{3(a-x)}, \frac{x}{6}$

16.  $\frac{3}{x^2}, \frac{2}{x}, \frac{x+3}{x^2-x}$

17.  $\frac{1}{2a+2b}, \frac{a}{4a-4b}, \frac{b}{8}$

18.  $\frac{x}{xy}, \frac{y}{x^2+xy}, \frac{3}{xy+y^2}$

19.  $\frac{2}{a^2-b^2}, \frac{1}{a^2+ab}, \frac{a}{a^2-ab}$

20.  $\frac{3x}{x+1}, \frac{x^2}{x-1}, \frac{x^3}{x^2-1}$

21.  $\frac{1}{m^2-n^2}, \frac{m}{m^2+mn}, \frac{n}{m^2-mn}$

22.  $\frac{n+1}{n-1}, \frac{n-1}{n+1}, \frac{n^2+1}{n^2-1}$

23.  $\frac{a^2-b^2}{a^2+b^2}, \frac{a^2+b^2}{a^2-b^2}, \frac{a^4+b^4}{a^4-b^4}$

24.  $\frac{3x}{x-1}, \frac{x-1}{x+2}, \frac{1}{x^2+x-2}$

25.  $\frac{x}{2}, \frac{x}{5x+15}, \frac{x-1}{10x+30}$

26.  $\frac{2x-1}{x+4}, \frac{3x+1}{3x+12}, \frac{4x+3}{6x+24}$

27.  $\frac{3}{a+4}, \frac{2}{9a^2-25}, \frac{5}{3a-5}$

28.  $\frac{x+1}{x^2-4}, \frac{x+2}{x^2+x-6}, \frac{3x}{x^2+5x}$

29.  $\frac{a+3}{a^2+a-20}, \frac{5a}{a^2-7a+12}$

30.  $\frac{a+1}{a^2-1}, \frac{2a}{a^2+a+1}, \frac{1}{a-1}$

31.  $\frac{1}{x-1}, \frac{1}{x^3-1}, \frac{2}{3}$

32.  $\frac{3}{2a^2+2ab}, \frac{b}{a^2x+abx}$

33.  $\frac{1}{a-1}, \frac{a+1}{(a-1)^2}, \frac{3(a+1)}{(a-1)^3}$

34.  $\frac{2x-3}{6x^2+7x+2}, \frac{3}{2x+1}, \frac{2x-1}{6x-1}$





**TRANSMISORES EUROPEOS DE LA MATEMÁTICA ARÁBICA (Siglo XIII)** La matemática árabe se introdujo en Europa a través de las obras de los matemáticos eruditos que se fueron a las universidades árabes de Córdoba,

Sevilla, Toledo, etc. Se destacaron como traductores: Juan de España, que puso en latín las obras de Al Juarismi; Juan de Sacrobosco o Hollywood, que tradujo diversos tratados; y Adelardo de Bath, el más distinguido de éstos, que dio una versión latina de Euclides.

## CAPÍTULO XIV

### OPERACIONES CON FRACCIONES

#### I. SUMA

#### 193 REGLA GENERAL PARA SUMAR FRACCIONES

- 1) Se simplifican las fracciones dadas si es posible.
- 2) Se reducen las fracciones dadas al mínimo común denominador, si son de distinto denominador.
- 3) Se efectúan las multiplicaciones indicadas.
- 4) Se suman los numeradores de las fracciones que resulten y se parte esta suma por el denominador común.
- 5) Se reducen términos semejantes en el numerador.
- 6) Se simplifica la fracción que resulte, si es posible.

#### 194 SUMA DE FRACCIONES CON DENOMINADORES MONOMIOS

##### Ejemplos

(1) Sumar  $\frac{3}{2a} + \frac{a-2}{6a^2}$ .

Hay que reducir las fracciones al mínimo común denominador.

El m. c. m. de los denominadores es  $6a^2$ . Dividiendo  $6a^2$  entre los denominadores, tenemos:  $6a^2 \div 2a = 3a$  y  $6a^2 \div 6a^2 = 1$ . Estos cocientes los multiplicamos por los numeradores respectivos y tendremos:

$$\frac{3}{2a} + \frac{a-2}{6a^2} = \frac{3(3a)}{6a^2} + \frac{a-2}{6a^2} = \frac{9a}{6a^2} + \frac{a-2}{6a^2}$$

$$(\text{sumando los numeradores}) = \frac{9a + a - 2}{6a^2} = \frac{10a - 2}{6a^2}$$

$$[\text{simplificando}] = \frac{2(5a - 1)}{6a^2} = \frac{5a - 1}{3a^2} \quad R.$$

(2) Simplificar  $\frac{x-4a}{2ax} + \frac{x-2}{5x^2} + \frac{1}{10x}$ .

El m. c. m. de los denominadores es  $10ax^2$ . Dividiendo  $10ax^2$  entre cada denominador y multiplicando los cocientes por el numerador respectivo, tenemos:

$$\frac{x-4a}{2ax} + \frac{x-2}{5x^2} + \frac{1}{10x} = \frac{5x(x-4a) + 2a(x-2) + ax}{10ax^2}$$

$$[\text{multiplicando}] = \frac{5x^2 - 20ax + 2ax - 4a + ax}{10ax^2}$$

$$[\text{reduciendo términos semejantes}] = \frac{5x^2 - 17ax - 4a}{10ax^2} \quad R.$$

#### EJERCICIO 126

Simplificar:

1.  $\frac{x-2}{4} + \frac{3x+2}{6}$

2.  $\frac{2}{5a^2} + \frac{1}{3ab}$

3.  $\frac{a-2b}{15a} + \frac{b-a}{20b}$

4.  $\frac{a+3b}{3ab} + \frac{a^2b-4ab^2}{5a^2b^2}$

5.  $\frac{a-1}{3} + \frac{2a}{6} + \frac{3a+4}{12}$

6.  $\frac{n}{m^2} + \frac{3}{mn} + \frac{2}{m}$

7.  $\frac{1-x}{2x} + \frac{x+2}{x^2} + \frac{1}{3ax^2}$

8.  $\frac{2a-3}{3a} + \frac{3x+2}{10x} + \frac{x-a}{5ax}$

9.  $\frac{3}{5} + \frac{x+2}{2x} + \frac{x^2+2}{6x^2}$

10.  $\frac{x-y}{12} + \frac{2x+y}{15} + \frac{y-4x}{30}$

11.  $\frac{m-n}{mn} + \frac{n-a}{na} + \frac{2a}{am}$

12.  $\frac{x+2}{3x} + \frac{x^2-2}{5x^2} + \frac{2-x}{9a}$

13.  $\frac{1}{ab} + \frac{b^2-a^2}{ab^3} + \frac{ab+b^2}{a^3b^3}$

14.  $\frac{a+3b}{ab} + \frac{2a-3m}{am} + \frac{m}{bm}$

#### 195 SUMA DE FRACCIONES CON DENOMINADORES COMPUESTOS

##### Ejemplos

(1) Simplificar  $\frac{1}{3x+3} + \frac{1}{2x-2} + \frac{1}{x^2-1}$ .



Halleamos el m. c. m. de los denominadores, factorando los binomios:

$$\begin{aligned} 3x+3 &= 3(x+1) \\ 2x-2 &= 2(x-1) \\ x^2-1 &= (x+1)(x-1) \end{aligned}$$

m. c. m.:  $6(x+1)(x-1)$ .

Dividiendo el denominador común  $6(x+1)(x-1)$  entre cada denominador, o lo que es lo mismo, entre la descomposición de cada denominador, y multiplicando cada cociente por el numerador respectivo, tendremos:

$$\frac{1}{3x+3} + \frac{1}{2x-2} + \frac{1}{x^2-1} = \frac{2(x-1) + 3(x+1) + 6}{6(x+1)(x-1)}$$

$$(\text{multiplicando}) = \frac{2x-2+3x+3+6}{6(x+1)(x-1)}$$

$$(\text{reduciendo términos semejantes}) = \frac{5x+7}{6(x+1)(x-1)} \quad R.$$

(2) Simplificar  $\frac{a-1}{a^2-4} + \frac{a-2}{a^2-a-6} + \frac{a+6}{a^2-5a+6}$

Halleamos el m. c. m. de los denominadores:

$$\begin{aligned} a^2-4 &= (a+2)(a-2) \\ a^2-a-6 &= (a-3)(a+2) \\ a^2-5a+6 &= (a-3)(a-2) \end{aligned}$$

m. c. m.:  $(a+2)(a-2)(a-3)$ .

Dividiendo el denominador común  $(a+2)(a-2)(a-3)$  entre la descomposición de cada denominador, y multiplicando los cocientes por los numeradores respectivos, tendremos:

$$\frac{a-1}{a^2-4} + \frac{a-2}{a^2-a-6} + \frac{a+6}{a^2-5a+6} = \frac{(a-1)(a-3) + (a-2)^2 + (a+2)(a-6)}{(a+2)(a-2)(a-3)}$$

$$(\text{multiplicando}) = \frac{a^2-4a+3+a^2-4a+4+a^2+8a+12}{(a+2)(a-2)(a-3)}$$

$$(\text{reduciendo términos semejantes}) = \frac{3a^2+19}{(a^2-4)(a-3)} \quad R.$$

## EJERCICIO 127

Simplificar:

1.  $\frac{1}{a+1} + \frac{1}{a-1}$

5.  $\frac{m+3}{m-3} + \frac{m+2}{m-2}$

9.  $\frac{1}{3x-2y} + \frac{x-y}{9x^2-4y^2}$

2.  $\frac{2}{x+4} + \frac{1}{x-3}$

6.  $\frac{x+y}{x-y} + \frac{x-y}{x+y}$

10.  $\frac{x+a}{x+3a} + \frac{3a^2-x^2}{x^2-9a^2}$

3.  $\frac{3}{1-x} + \frac{6}{2x+5}$

7.  $\frac{x}{x^2-1} + \frac{x+1}{(x-1)^2}$

11.  $\frac{a}{1-a^2} + \frac{a}{1+a^2}$

4.  $\frac{x}{x-y} + \frac{x}{x+y}$

8.  $\frac{2}{x-5} + \frac{3x}{x^2-25}$

12.  $\frac{2}{a^2-ab} + \frac{2}{ab+b^2}$

13.  $\frac{ab}{9a^2-b^2} + \frac{a}{3a+b}$

14.  $\frac{1}{a^2-b^2} + \frac{1}{(a-b)^2}$

15.  $\frac{3}{x^2+y^2} + \frac{2}{(x+y)^2}$

16.  $\frac{x}{a^2-ax} + \frac{a+x}{ax} + \frac{a}{ax-x^2}$

17.  $\frac{3}{2x+4} + \frac{x-1}{2x-4} + \frac{x+8}{x^2-4}$

18.  $\frac{1}{x+x^2} + \frac{1}{x-x^2} + \frac{x+3}{1-x^2}$

19.  $\frac{x-y}{x+y} + \frac{x+y}{x-y} + \frac{4xy}{x^2-y^2}$

20.  $\frac{1}{a-5} + \frac{a}{a^2-4a-5} + \frac{a+5}{a^2+2a+1}$

21.  $\frac{3}{a} + \frac{2}{5a-3} + \frac{1-85a}{25a^2-9}$

22.  $\frac{x+1}{10} + \frac{x-3}{5x-10} + \frac{x-2}{2}$

23.  $\frac{x+5}{x^2+x-12} + \frac{x+4}{x^2+2x-15} + \frac{x-3}{x^2+9x+20}$

24.  $\frac{1}{x-2} + \frac{1-2x^2}{x^2-8} + \frac{x}{x^2+2x+4}$

25.  $\frac{2}{a+1} + \frac{a}{(a+1)^2} + \frac{a+1}{(a+1)^3}$

26.  $\frac{2x}{3x^2+11x+6} + \frac{x+1}{x^2-9} + \frac{1}{3x+2}$

27.  $\frac{x^2-4}{x^3+1} + \frac{1}{x+1} + \frac{3}{x^2-x+1}$

28.  $\frac{1}{x-1} + \frac{1}{(x-1)(x+2)} + \frac{x+1}{(x-1)(x+2)(x+3)}$

29.  $\frac{x-2}{2x^2-5x-3} + \frac{x-3}{2x^2-3x-2} + \frac{2x-1}{x^2-5x+6}$

30.  $\frac{a-2}{a-1} + \frac{a+3}{a+2} + \frac{a+1}{a-3}$

## II. RESTA

### 196 REGLA GENERAL PARA RESTAR FRACCIONES

- 1) Se simplifican las fracciones dadas si es posible.
- 2) Se reducen las fracciones dadas al mínimo común denominador, si tienen distinto denominador.
- 3) Se efectúan las multiplicaciones indicadas.
- 4) Se restan los numeradores y la diferencia se parte por el denominador común.
- 5) Se reducen términos semejantes en el numerador.
- 6) Se simplifica el resultado si es posible.

### 197 RESTA DE FRACCIONES CON DENOMINADORES MONOMIOS

#### Ejemplos

(1) De  $\frac{a+2b}{3a}$  restar  $\frac{4ab^2-3}{6a^2b}$ .

El m. c. m. de los denominadores es  $6a^2b$ . Dividiendo  $6a^2b$  entre cada denominador y multiplicando cada cociente por el numerador respectivo, tenemos:

$$\frac{a+2b}{3a} - \frac{4ab^2-3}{6a^2b} = \frac{2ab(a+2b)}{6a^2b} - \frac{4ab^2-3}{6a^2b}$$



$$\begin{aligned}
 (\text{multiplicando}) &= \frac{2a^2b + 4ab^2}{6a^2b} - \frac{4ab^2 - 3}{6a^2b} \\
 (\text{restando los numeradores}) &= \frac{2a^2b + 4ab^2 - (4ab^2 - 3)}{6a^2b} \\
 (\text{quitando el paréntesis}) &= \frac{2a^2b + 4ab^2 - 4ab^2 + 3}{6a^2b} \\
 (\text{reduciendo}) &= \frac{2a^2b + 3}{6a^2b} \quad R.
 \end{aligned}$$

**IMPORTANTE**

Obsérvese que para restar  $4ab^2 - 3$  del primer numerador hay que cambiar el signo a cada uno de sus términos y esta operación la indicamos incluyendo  $4ab^2 - 3$  en un paréntesis precedido del signo  $-$ .

(2) Restar  $\frac{x+2}{x^2}$  de  $\frac{x-1}{3x}$ .

El m. c. m. de los denominadores es  $3x^2$ , que será el denominador común.

$$\begin{aligned}
 \text{Tendremos: } \frac{x-1}{3x} - \frac{x+2}{x^2} &= \frac{x(x-1)}{3x^2} - \frac{3(x+2)}{3x^2} \\
 (\text{multiplicando}) &= \frac{x^2 - x}{3x^2} - \frac{3x + 6}{3x^2} \\
 (\text{restando los numeradores}) &= \frac{x^2 - x - (3x + 6)}{3x^2} \\
 (\text{quitando el paréntesis}) &= \frac{x^2 - x - 3x - 6}{3x^2} \\
 (\text{reduciendo}) &= \frac{x^2 - 4x - 6}{3x^2} \quad R.
 \end{aligned}$$

(3) Simplificar  $\frac{x^2 + 3x - 2}{2x^2} - \frac{2x + 5}{4x}$ .

En la práctica suelen abreviarse algo los pasos anteriores, como indicamos a continuación.

El m. c. m. es  $4x^2$ .

$$\begin{aligned}
 \frac{x^2 + 3x - 2}{2x^2} - \frac{2x + 5}{4x} &= \frac{2(x^2 + 3x - 2) - x(2x + 5)}{4x^2} \\
 (\text{multiplicando}) &= \frac{2x^2 + 6x - 4 - 2x^2 - 5x}{4x^2} \\
 (\text{reduciendo}) &= \frac{x - 4}{4x^2} \quad R.
 \end{aligned}$$

Obsérvese que al efectuar el producto  $-x(2x + 5)$  hay que fijarse en el signo  $-$  de la  $x$  y decimos:  $-x(2x) = -2x^2$ ;  $-x(5) = -5x$ .

**EJERCICIO 128**

Simplificar:

1.  $\frac{x-3}{4} - \frac{x+2}{8}$

2.  $\frac{a+5b}{a^2} - \frac{b-3}{ab}$

3.  $\frac{2}{3mn^2} - \frac{1}{2m^2n}$

4.  $\frac{a-3}{5ab} - \frac{4-3ab^2}{3a^2b^3}$

5.  $\frac{2a+3}{4a} - \frac{a-2}{8a}$

6.  $\frac{y-2x}{20x} - \frac{x-3y}{24y}$

7.  $\frac{x-1}{3} - \frac{x-2}{4} - \frac{x+3}{6}$

8.  $\frac{3}{5} - \frac{2a+1}{10a} - \frac{4a^2+1}{20a^2}$

9.  $\frac{3}{5x} - \frac{x-1}{3x^2} - \frac{x^2+2x+3}{15x^3}$

10.  $\frac{1}{2a} - \frac{2+b}{3ab} - \frac{5}{6a^2b^3}$

**198 RESTA DE FRACCIONES CON DENOMINADORES COMPUESTOS****Ejemplos**

(1) Simplificar  $\frac{a}{ab-b^2} - \frac{1}{b}$ .

Hallamos el m. c. m. de los denominadores:

$$\begin{aligned}
 ab - b^2 &= b(a - b) \\
 b &= b
 \end{aligned}$$

m. c. m.:  $b(a - b)$ .

Dividiendo  $b(a - b)$  entre la descomposición de cada denominador y multiplicando cada cociente por el numerador respectivo, tenemos:

$$\frac{a}{ab-b^2} - \frac{1}{b} = \frac{a - (a - b)}{b(a - b)} = \frac{a - a + b}{b(a - b)} = \frac{b}{b(a - b)} = \frac{1}{a - b} \quad R.$$

(2) Simplificar  $\frac{2}{x+x^2} - \frac{1}{x-x^2} - \frac{1-3x}{x-x^3}$ .

Hallamos el denominador común:

$$\begin{aligned}
 x + x^2 &= x(1 + x) \\
 x - x^2 &= x(1 - x) \\
 x - x^3 &= x(1 - x^2) = x(1 + x)(1 - x)
 \end{aligned}$$

m. c. m.:  $x(1 + x)(1 - x)$

Dividiendo  $x(1 + x)(1 - x)$  entre la descomposición de cada denominador, tenemos:

$$\begin{aligned}
 \frac{2}{x+x^2} - \frac{1}{x-x^2} - \frac{1-3x}{x-x^3} &= \frac{2(1-x) - (1+x) - (1-3x)}{x(1+x)(1-x)} \\
 &= \frac{2 - 2x - 1 - x - 1 + 3x}{x(1+x)(1-x)} = \frac{0}{x(1+x)(1-x)} = 0 \quad R.
 \end{aligned}$$

Al reducir los términos semejantes en el numerador, se anulan todos los términos, luego queda cero en el numerador y cero partido por cualquier cantidad equivale a cero.



(3) Simplificar  $\frac{4x^2-1}{2x^3-8} - \frac{(x+1)^2}{x^2+4x+4} - \frac{x+3}{x-2}$ .

Halleamos el denominador común:

$$2x^3-8=2(x^3-4)=2(x+2)(x-2)$$

$$x^2+4x+4=(x+2)^2$$

$$x-2=(x-2)$$

Dividiendo  $2(x+2)^2(x-2)$  entre la descomposición de cada denominador, tenemos:

$$\frac{4x^2-1}{2x^3-8} - \frac{(x+1)^2}{x^2+4x+4} - \frac{x+3}{x-2} = \frac{(x+2)(4x^2-1)-2(x-2)(x+1)^2-2(x+2)^2(x+3)}{2(x+2)^2(x-2)}$$

$$= \frac{(x+2)(4x^2-1)-2(x-2)(x^2+2x+1)-2(x^2+4x+4)(x+3)}{2(x+2)^2(x-2)}$$

$$= \frac{4x^3+8x^2-x-2-2(x^3-3x-2)-2(x^3+7x^2+16x+12)}{2(x+2)^2(x-2)}$$

$$= \frac{4x^3+8x^2-x-2-2x^3+6x+4-2x^3-14x^2-32x-24}{2(x+2)^2(x-2)}$$

$$[\text{reduciendo}] = \frac{-6x^2-27x-22}{2(x+2)^2(x-2)} = \frac{6x^2+27x+22}{2(x+2)^2(2-x)} \quad R.$$

m. c. m.:  $2(x+2)^2(x-2)$ .

### ■ EJERCICIO 129

1. De  $\frac{1}{x-4}$  restar  $\frac{1}{x-3}$ .

2. De  $\frac{m-n}{m+n}$  restar  $\frac{m+n}{m-n}$ .

3. De  $\frac{1-x}{1+x}$  restar  $\frac{1+x}{1-x}$ .

4. De  $\frac{a+b}{a^2+ab}$  restar  $\frac{b-a}{ab+b^2}$ .

5. De  $\frac{m+n}{m-n}$  restar  $\frac{m^2+n^2}{m^2-n^2}$ .

6. Restar  $\frac{1}{x-x^2}$  de  $\frac{1}{x+x^2}$ .

7. Restar  $\frac{x}{a^2-x^2}$  de  $\frac{a+x}{(a-x)^2}$ .

8. Restar  $\frac{1}{12a+6}$  de  $\frac{a+1}{6a+3}$ .

9. Restar  $\frac{a+3}{a^2+a-12}$  de  $\frac{a-4}{a^2-6a+9}$ .

10. Restar  $\frac{b}{a+3b}$  de  $\frac{a^2+4ab-3b^2}{a^2-9b^2}$ .

Simplificar:

$$\frac{x}{x^2-1} - \frac{x+1}{(x-1)^2}$$

$$\frac{1}{1-b^3} - \frac{1}{(a-b)^3}$$

$$\frac{x+3}{x^2+x-2} - \frac{1}{4x^2-4x+1}$$

14.  $\frac{x-1}{4x+4} - \frac{x+2}{8x-8}$

15.  $\frac{x}{xy-y^2} - \frac{1}{y}$

16.  $\frac{b}{a^2-b^3} - \frac{b}{a^2+ab}$

17.  $\frac{2a-3}{6a+9} - \frac{a-1}{4a^2+12a+9}$

18.  $\frac{x+1}{x^2+x+1} - \frac{x-1}{x^2-x+1}$

19.  $\frac{a-1}{a^2+a} - \frac{1}{2a-2} - \frac{1}{2a+2}$

20.  $\frac{1}{4a+4} - \frac{1}{8a-8} - \frac{1}{12a^2+12}$

21.  $\frac{y}{x^2-xy} - \frac{1}{x} - \frac{1}{x-y}$

22.  $\frac{a}{a^2+ab} - \frac{1}{a} - \frac{1}{a+b}$

23.  $\frac{1}{x^2-xy} - \frac{1}{x^2+xy} - \frac{2y}{x^3-xy^3}$

24.  $\frac{x}{x^3+x-2} - \frac{3}{x^3+2x-3} - \frac{x}{x^2+5x+6}$

25.  $\frac{3}{x^2+x+1} - \frac{x+2}{(x-1)^2} - \frac{1-9x}{(x^3-1)(x-1)}$

26.  $\frac{a^2+b^2}{a^3-b^3} - \frac{a+b}{2a^2+2ab+2b^2} - \frac{1}{2a-2b}$

27.  $\frac{3a}{2a^2-2a-4} - \frac{a-1}{4a^2+8a-32} - \frac{10a-1}{8a^3+4(4a+3)}$

28.  $\frac{1}{4a-12x} - \frac{a^2+9x^2}{a^3-27x^3} - \frac{a}{2(a^2+3ax+9x^2)}$

29.  $\frac{2a^2-3}{10a+10} - \frac{a+1}{50} - \frac{9a^2-14}{50a+50}$

### III. SUMA Y RESTA COMBINADAS DE FRACCIONES

#### Ejemplos

(1) Simplificar  $\frac{1}{a^2-ab} + \frac{1}{ab} - \frac{a^2+b^2}{a^3b-ab^3}$ .

Halleamos el común denominador:

$$a^2-ab=a(a-b)$$

$$ab=ab$$

m. c. m.:  $ab(a+b)(a-b)$ .

$$a^3b-ab^3=ab(a^2-b^2)=ab(a+b)(a-b).$$

Tendremos:

$$\frac{1}{a^2-ab} + \frac{1}{ab} - \frac{a^2+b^2}{a^3b-ab^3} = \frac{b(a+b)+(a+b)(a-b)-(a^2+b^2)}{ab(a+b)(a-b)}$$

$$[\text{multiplicando}] = \frac{ab+b^2+a^2-b^2-a^2-b^2}{ab(a+b)(a-b)}$$

$$[\text{reduciendo}] = \frac{ab-b^2}{ab(a+b)(a-b)}$$

$$[\text{simplificando}] = \frac{b(a-b)}{ab(a+b)(a-b)} = \frac{1}{a(a+b)} \quad R.$$

(2) Simplificar  $\frac{x-2}{x^2-x} - \frac{x+3}{x^2+3x-4} + \frac{x^2+12x+16}{x^4+3x^3-4x^2}$

Halleamos el denominador común:

$$x^2-x=x(x-1)$$

$$x^2+3x-4=(x+4)(x-1)$$

$$x^4+3x^3-4x^2=x^2(x^2+3x-4)=x^2(x+4)(x-1)$$

m. c. m.:  $x^3(x-1)(x+4)$ .



Tendremos:

$$\frac{x-2}{x^2-x} - \frac{x+3}{x^2+3x-4} + \frac{x^2+12x+16}{x^4+3x^3-4x^2} = \frac{x(x+4)(x-2) - x^2(x+3) + x^2+12x+16}{x^2(x-1)(x+4)}$$

$$(\text{multiplicando}) = \frac{x^3+2x^2-8x-x^3-3x^2+x^2+12x+16}{x^2(x-1)(x+4)}$$

$$(\text{reduciendo}) = \frac{4x+16}{x^2(x-1)(x+4)}$$

$$(\text{simplificando}) = \frac{4(x+4)}{x^2(x-1)(x+4)} = \frac{4}{x^2(x-1)} \quad R.$$

## EJERCICIO 130

Simplificar:

$$1. \frac{2}{x-3} + \frac{3}{x+2} - \frac{4x-7}{x^2-x-6}$$

$$2. \frac{a}{3a+6} - \frac{1}{6a+12} + \frac{a+12}{12a+24}$$

$$3. \frac{x}{x^2+1} + \frac{1}{3x} - \frac{1}{x^2}$$

$$4. \frac{a+3}{a^2-1} + \frac{a-1}{2a+2} + \frac{a-4}{4a-4}$$

$$5. \frac{a-b}{a^2+ab} + \frac{a+b}{ab} - \frac{a}{ab+b^2}$$

$$6. \frac{x-y}{x+y} - \frac{x+y}{x-y} + \frac{4x^2}{x^2-y^2}$$

$$7. \frac{x}{a^2-ax} + \frac{1}{a} + \frac{1}{x}$$

$$8. \frac{x+1}{x^2-x-20} - \frac{x+4}{x^2-4x-5} + \frac{x+5}{x^2+5x+4}$$

$$9. \frac{2x+1}{12x+8} - \frac{x^2}{6x^2+x-2} + \frac{2x}{16x-8}$$

$$10. \frac{1}{ax} - \frac{1}{a^2+ax} + \frac{1}{a+x}$$

$$11. \frac{1}{x+y} - \frac{1}{x-y} + \frac{2y}{x^2+y^2}$$

$$12. \frac{a-1}{3a+3} - \frac{a-2}{6a-6} + \frac{a^2+2a-6}{9a^2-9}$$

$$13. \frac{1}{a^2+2a-24} + \frac{2}{a^2-2a-8} - \frac{3}{a^2+8a+12}$$

$$14. \frac{x+y}{xy} - \frac{x+2y}{xy+y^2} - \frac{y}{x^2+xy}$$

$$15. \frac{a^3}{a^3+1} + \frac{a+3}{a^2-a+1} - \frac{a-1}{a+1}$$

$$16. \frac{1}{x-1} + \frac{2x}{x^2-1} - \frac{3x^2}{x^3-1}$$

$$17. \frac{a+b}{a^2-ab+b^2} - \frac{1}{a+b} + \frac{3a^2}{a^3+b^3}$$

$$18. \frac{2}{x-2} + \frac{2x+3}{x^2+2x+4} - \frac{6x+12}{x^3-8}$$

$$19. \frac{3x+2}{x^2+3x-10} - \frac{5x+1}{x^2+4x-5} + \frac{4x-1}{x^2-3x+2}$$

$$20. \frac{1}{(n-1)^2} + \frac{1}{n-1} - \frac{1}{(n-1)^3} - \frac{1}{n}$$

$$21. \frac{1}{a^2+5} - \frac{a^2-5}{(a^2+5)^2} + \frac{a^2+5}{a^4-25}$$

$$22. \frac{1-x^2}{9-x^2} - \frac{x^2}{9+6x+x^2} - \frac{6x}{9-6x+x^2}$$

$$23. \frac{x}{2x+2} - \frac{x+1}{3x-3} + \frac{x-1}{6x+6} - \frac{5}{18x-18}$$

$$24. \frac{a+2}{2a+2} - \frac{7a}{8a^2-8} - \frac{a-3}{4a-4}$$

$$25. \frac{a-3}{20a+10} + \frac{2a+5}{40a+20} - \frac{4a-1}{60a+30}$$

$$26. \frac{2}{2x^2+5x+3} - \frac{1}{2x^2-x-6} + \frac{3}{x^2-x-2}$$

$$27. \frac{a-1}{a-2} - \frac{a-2}{a+3} + \frac{1}{a-1}$$

$$29. \frac{1}{5+5a} + \frac{1}{5-5a} - \frac{1}{10+10a^2}$$

$$28. \frac{2+3a}{2-3a} - \frac{2-3a}{2+3a} - \frac{a}{(2-3a)^2}$$

$$30. \frac{1}{3-3x} - \frac{1}{3+3x} + \frac{x}{6+6x^2} - \frac{x}{2-2x^2}$$

## 199 CAMBIOS DE SIGNOS EN LA SUMA Y RESTA DE FRACCIONES

Los cambios de signos en las fracciones se usan en la suma y resta de fracciones cuando los denominadores no están ordenados en el mismo orden.

## Ejemplos

$$(1) \text{ Simplificar } \frac{2}{x+1} + \frac{3}{x-1} - \frac{x+5}{1-x^2}$$

Cambiando el signo al denominador de la última fracción  $1-x^2$  queda  $x^2-1$ , pero para que ese cambio no altere el valor de la fracción hay que cambiar el signo de la fracción, y tendremos:

$$\frac{2}{x+1} + \frac{3}{x-1} + \frac{x+5}{x^2-1}$$

El m. c. m. es  $x^2-1 = (x+1)(x-1)$ . Tendremos:

$$\begin{aligned} \frac{2}{x+1} + \frac{3}{x-1} + \frac{x+5}{x^2-1} &= \frac{2(x-1) + 3(x+1) + x+5}{(x+1)(x-1)} \\ &= \frac{2x-2+3x+3+x+5}{(x+1)(x-1)} \\ &= \frac{6x+6}{(x+1)(x-1)} = \frac{6(x+1)}{(x+1)(x-1)} = \frac{6}{x-1} \quad R. \end{aligned}$$

$$(2) \text{ Simplificar } \frac{x}{x^2-5x+6} - \frac{1}{2-x} - \frac{2x}{(3-x)(1-x)}$$

Descomponiendo  $x^2-5x+6 = (x-3)(x-2)$ . Entonces le cambiamos el signo a  $2-x$  quedando  $x-2$ , cambiamos el signo de la fracción y cambiamos el signo de los dos factores del tercer denominador  $(3-x)(1-x)$  quedando  $(x-3)(x-1)$  y como son dos factores (número par de factores) no hay que cambiar el signo de la última fracción y tendremos:

$$\begin{aligned} \frac{x}{(x-3)(x-2)} + \frac{1}{x-2} - \frac{2x}{(x-3)(x-1)} &= \frac{x(x-1) + (x-1)(x-3) - 2x(x-2)}{(x-1)(x-2)(x-3)} \\ &= \frac{x^2-x+x^2-4x+3-2x^2+4x}{(x-1)(x-2)(x-3)} \\ &= \frac{-x+3}{(x-1)(x-2)(x-3)} \\ &= \frac{x-3}{(1-x)(x-2)(x-3)} = \frac{1}{(1-x)(x-2)} \quad R. \end{aligned}$$



## EJERCICIO 131

Simplificar:

1.  $\frac{1}{m-n} + \frac{m}{n^2-m^2}$

2.  $\frac{x^2}{x^2-xy} - \frac{2x}{y-x}$

3.  $\frac{1}{2x-x^2} + \frac{x}{x^2-4}$

4.  $\frac{a+b}{a^2-ab} + \frac{a}{b^2-a^2}$

5.  $\frac{x-4}{x^2-2x-3} - \frac{x}{6-2x}$

6.  $\frac{1}{x^2+2x-8} + \frac{1}{(2-x)(x+3)}$

7.  $\frac{1}{2x+2} + \frac{2}{1-x} + \frac{7}{4x-4}$

8.  $\frac{2a}{a+3} + \frac{3a}{a-3} + \frac{2a}{9-a^2}$

9.  $\frac{x+3y}{y+x} + \frac{3y^2}{x^2-y^2} - \frac{x}{y-x}$

10.  $\frac{x}{x^2+2x-3} + \frac{x-3}{(1-x)(x+2)} + \frac{1}{x+2}$

11.  $\frac{3}{2a+2} - \frac{1}{4a-4} - \frac{4}{8-8a^2}$

12.  $\frac{1}{a-3} + \frac{a+1}{(3-a)(a-2)} + \frac{2}{(2-a)(1-a)}$

13.  $\frac{2x}{x-1} + \frac{2x^3+2x^2}{1-x^3} + \frac{1}{x^2+x+1}$

14.  $\frac{x+2}{3x-1} + \frac{x+1}{3-2x} + \frac{4x^2+6x+3}{6x^2-11x+3}$

## IV. MULTIPLICACION DE FRACCIONES

## 200 REGLA GENERAL PARA MULTIPLICAR FRACCIONES

1) Se descomponen en factores, todo lo posible, los términos de las fracciones que se van a multiplicar.

2) Se simplifica, suprimiendo los factores comunes en los numeradores y denominadores.

3) Se multiplican entre sí las expresiones que queden en los numeradores después de simplificar, y este producto se parte por el producto de las expresiones que queden en los denominadores.

## Ejemplos

(1) Multiplicar  $\frac{2a}{3b^3} \cdot \frac{3b^2}{4x} \cdot \frac{x^2}{2a^2}$

$$\frac{2a}{3b^3} \times \frac{3b^2}{4x} \times \frac{x^2}{2a^2} = \frac{2 \times 3 \times a \times b^2 \times x^2}{3 \times 4 \times 2 \times a^2 \times b^3 \times x} \quad (\text{simplificando}) = \frac{x}{4ab} \quad R.$$

(2) Multiplicar  $\frac{3x-3}{2x+4}$  por  $\frac{x^2+4x+4}{x^2-x}$

Factorando, tendremos:

$$\frac{3x-3}{2x+4} \times \frac{x^2+4x+4}{x^2-x} = \frac{3(x-1)}{2(x+2)} \times \frac{(x+2)^2}{x(x-1)} = \frac{3(x+2)}{2x} = \frac{3x+6}{2x} \quad R.$$

Hemos simplificado  $(x-1)$  del primer numerador con  $(x-1)$  del segundo denominador y  $(x+2)^2$  del segundo numerador con  $(x+2)$  del primer denominador.

(3) Multiplicar  $\frac{a^2-1}{a^2+2a} \cdot \frac{a^2-a-6}{3a^2+7a+4} \cdot \frac{3a+4}{a^2-4a+3}$

Factorando, tendremos:  $\frac{a^2-1}{a^2+2a} \times \frac{a^2-a-6}{3a^2+7a+4} \times \frac{3a+4}{a^2-4a+3}$

$$= \frac{(a+1)(a-1)}{a(a+2)} \times \frac{(a-3)(a+2)}{(a+1)(3a+4)} \times \frac{3a+4}{(a-1)(a-3)} = \frac{1}{a} \quad R.$$

## EJERCICIO 132

Simplificar:

1.  $\frac{2a^2}{3b} \times \frac{6b^2}{4a}$

2.  $\frac{x^2y}{5} \times \frac{10a^3}{3m^2} \times \frac{9m}{x^3}$

3.  $\frac{5x^2}{7y^3} \times \frac{4y^2}{7m^3} \times \frac{14m}{5x^4}$

4.  $\frac{5}{a} \times \frac{2a}{b^2} \times \frac{3b}{10}$

5.  $\frac{2x^3}{15a^3} \times \frac{3a^2}{y} \times \frac{5x^2}{7xy^2}$

6.  $\frac{7a}{6m^2} \times \frac{3m}{10n^2} \times \frac{5n^4}{14ax}$

7.  $\frac{2x^2+x}{6} \times \frac{8}{4x+2}$

8.  $\frac{5x+25}{14} \times \frac{7x+7}{10x+50}$

9.  $\frac{m+n}{mn-n^2} \times \frac{n^2}{m^2-n^2}$

10.  $\frac{xy-2y^2}{x^2+xy} \times \frac{x^2+2xy+y^2}{x^2-2xy}$

11.  $\frac{x^2-4xy+4y^2}{x^2+2xy} \times \frac{x^2}{x^2-4y^2}$

12.  $\frac{2x^2+2x}{2x^2} \times \frac{x^2-3x}{x^2-2x-3}$

13.  $\frac{a^2-ab+a-b}{a^2+2a+1} \times \frac{3}{6a^2-6ab}$

14.  $\frac{(x-y)^3}{x^3-1} \times \frac{x^2+x+1}{(x-y)^2}$

15.  $\frac{2a-2}{2a^2-50} \times \frac{a^2-4a-5}{3a+3}$

16.  $\frac{2x^2-3x-2}{6x+3} \times \frac{3x+6}{x^2-4}$

17.  $\frac{y^2+9y+18}{y-5} \times \frac{5y-25}{5y+15}$

18.  $\frac{x^3+2x^2-3x}{4x^2+8x+3} \times \frac{2x^3+3x^2}{x^3-4}$

19.  $\frac{x^3-27}{a^3-1} \times \frac{a^2+a+1}{x^2+3x+9}$

20.  $\frac{a^2+4ab+4b^2}{3} \times \frac{2a+4}{(a+2)^2}$

21.  $\frac{1-x}{a+1} \times \frac{a^2+a}{x-x^2} \times \frac{x^2}{a}$

22.  $\frac{x^2+2x}{x^2-16} \times \frac{x^2-2x-8}{x^3+x^2} \times \frac{x^2+4x}{x^2+4x+4}$

23.  $\frac{(m+n)^2-x^2}{(m+x)^2-n^2} \times \frac{(m-n)^2-x^2}{m^2+mn-mx}$

24.  $\frac{2a^3+2ab^2}{2ax^2-2ax} \times \frac{x^3-x}{a^2x+b^2x} \times \frac{x}{x+1}$

25.  $\frac{a^2-5a+6}{3a-15} \times \frac{6a}{a^2-a-30} \times \frac{a^2-25}{2a-4}$

26.  $\frac{x^2-3xy-10y^2}{x^2-2xy-8y^2} \times \frac{x^2-16y^2}{x^2+4xy} \times \frac{x^2-6xy}{x+2y}$

27.  $\frac{x^2+4ax+4a^2}{3ax-6a^2} \times \frac{2ax-4a^2}{ax+a} \times \frac{6a+6x}{x^2+3ax+2a^2}$

28.  $\frac{a^2-81}{2a^2+10a} \times \frac{a+11}{a^2-36} \times \frac{2a-12}{2a+18} \times \frac{a^3+5a^2}{2a+22}$

29.  $\frac{a^2+7a+10}{a^2-6a-7} \times \frac{a^2-3a-4}{a^2+2a-15} \times \frac{a^3-2a^2-3a}{a^2-2a-8}$

30.  $\frac{x^4+27x}{x^3-x^2+x} \times \frac{x^4+x}{x^4-3x^3+9x^2} \times \frac{1}{x(x+3)^2} \times \frac{x^3}{x-3}$



## 201 MULTIPLICACION DE EXPRESIONES MIXTAS

## REGLA

Se reducen las expresiones mixtas a fracciones y se multiplican estas fracciones.

## Ejemplo

Multiplicar  $a + 3 - \frac{5}{a-1}$  por  $a - 2 + \frac{5}{a+4}$ .

Reduciendo las expresiones mixtas a fracciones, tendremos:

$$a + 3 - \frac{5}{a-1} = \frac{(a+3)(a-1) - 5}{a-1} = \frac{a^2 + 2a - 3 - 5}{a-1} = \frac{a^2 + 2a - 8}{a-1}$$

$$a - 2 + \frac{5}{a+4} = \frac{(a-2)(a+4) + 5}{a+4} = \frac{a^2 + 2a - 8 + 5}{a+4} = \frac{a^2 + 2a - 3}{a+4}$$

Ahora multiplicamos las fracciones que hemos obtenido:

$$\begin{aligned} \left(a + 3 - \frac{5}{a-1}\right) \left(a - 2 + \frac{5}{a+4}\right) &= \frac{a^2 + 2a - 8}{a-1} \times \frac{a^2 + 2a - 3}{a+4} \\ &= \frac{(a+4)(a-2)}{a-1} \times \frac{(a+3)(a-1)}{a+4} \\ &= (a-2)(a+3) = a^2 + a - 6. \quad R. \end{aligned}$$

## EJERCICIO 133

Simplificar:

1.  $\left(a + \frac{a}{b}\right) \left(a - \frac{a}{b+1}\right)$

2.  $\left(x - \frac{2}{x+1}\right) \left(x + \frac{1}{x+2}\right)$

3.  $\left(1 - \frac{x}{a+x}\right) \left(1 + \frac{x}{a}\right)$

4.  $\left(a + \frac{ab}{a-b}\right) \left(1 - \frac{b^2}{a^2}\right)$

5.  $\left(x + 2 - \frac{12}{x+1}\right) \left(x - 2 + \frac{10-3x}{x+5}\right)$

6.  $\left(1 + \frac{x}{y}\right) \left(x - \frac{x^2}{x+y}\right)$

7.  $\left(a+x - \frac{ax+x^2}{a+2x}\right) \left(1 + \frac{x}{a+x}\right)$

8.  $\left(x - \frac{x^3-6x}{x^2-25}\right) \left(x+1 - \frac{8}{x+3}\right)$

9.  $\left(m - \frac{mn}{m+n}\right) \left(1 + \frac{n^3}{m^3}\right)$

10.  $\left(a+2x - \frac{14x^2}{2a+x}\right) \left(a-x + \frac{a^2+5x^2}{a+4x}\right)$

11.  $\left(1 + \frac{a}{b}\right) \left(1 - \frac{b}{a}\right) \left(1 + \frac{b^2}{a^2-b^2}\right)$

12.  $\left(2 + \frac{2}{x+1}\right) \left(3 - \frac{6}{x+2}\right) \left(1 + \frac{1}{x}\right)$

## V. DIVISION DE FRACCIONES

## 202 REGLA

Se multiplica el dividendo por el divisor invertido.

## Ejemplos

(1) Dividir  $\frac{4a^2}{3b^2}$  entre  $\frac{2ax}{9b^3}$ .

$$\frac{4a^2}{3b^2} \div \frac{2ax}{9b^3} = \frac{4a^2}{3b^2} \times \frac{9b^3}{2ax} = \frac{6ab}{x} \quad R.$$

(2) Dividir  $\frac{x^2+4x}{8}$  entre  $\frac{x^2-16}{4}$ .

$$\frac{x^2+4x}{8} \div \frac{x^2-16}{4} = \frac{x^2+4x}{8} \times \frac{4}{x^2-16} = \frac{x(x+4)}{8} \times \frac{4}{(x+4)(x-4)} = \frac{x}{2(x-4)} \quad R.$$

## EJERCICIO 134

Simplificar:

1.  $\frac{x^2}{3y^2} \div \frac{2x}{y^3}$

2.  $\frac{3a^2b}{5x^2} \div a^2b^3$

3.  $\frac{5m^2}{7n^3} \div \frac{10m^4}{14an^4}$

4.  $6a^2x^3 \div \frac{a^2x}{5}$

5.  $\frac{15m^2}{19ax^3} \div \frac{20y^2}{38a^3x^4}$

6.  $\frac{11x^2y^3}{7m^2} \div 22y^4$

7.  $\frac{x-1}{3} \div \frac{2x-2}{6}$

8.  $\frac{3a^2}{a^2+6ab+9b^2} \div \frac{5a^2}{a^2b+3ab^2}$

9.  $\frac{x^3-x}{2x^2+6x} \div \frac{5x^2-5x}{2x+6}$

10.  $\frac{1}{a^2-a-30} \div \frac{2}{a^2+a-42}$

11.  $\frac{20x^2-30x}{15x^3+15x^2} \div \frac{4x-6}{x+1}$

12.  $\frac{a^2-6a+5}{a^2-15a+56} \div \frac{a^2+2a-35}{a^2-5a-24}$

13.  $\frac{8x^2+26x+15}{16x^2-9} \div \frac{6x^2+13x-5}{9x^2-1}$

14.  $\frac{x^3-121x}{x^2-49} \div \frac{x^2-11x}{x+7}$

15.  $\frac{ax^2+5}{4a^2-1} \div \frac{a^2x^2+5a^2}{2a-1}$

16.  $\frac{a^4-1}{a^3+a^2} \div \frac{a^4+4a^2+3}{3a^3+9a}$

17.  $\frac{x^3+125}{x^2-64} \div \frac{x^3-5x^2+25x}{x^2+x-56}$

18.  $\frac{16x^2-24xy+9y^2}{16x-12y} \div \frac{64x^3-27y^3}{32x^2+24xy+18y^2}$

19.  $\frac{a^2-6a}{a^3+3a^2} \div \frac{a^2+3a-54}{a^2+9a}$

20.  $\frac{15x^2+7x-2}{25x^3-x} \div \frac{6x^2+13x+6}{25x^2+10x+1}$



$$21. \frac{x^3-1}{2x^2-2x+2} \div \frac{7x^2+7x+7}{7x^3+7}$$

$$22. \frac{2mx-2my+nx-ny}{3x-3y} \div 8m+4n$$

$$23. \frac{x^2-6x+9}{4x^2-1} \div \frac{x^2+5x-24}{2x^2+17x+8}$$

$$24. \frac{2a^2+7ab-15b^2}{a^3+4a^2b} \div \frac{a^2-3ab-40b^2}{a^3-4ab-32b^2}$$

### 203 DIVISION DE EXPRESIONES MIXTAS

#### REGLA

Se reducen a fracciones y se dividen como tales.

#### Ejemplo

Dividir  $1 + \frac{2xy}{x^2+y^2}$  entre  $1 + \frac{x}{y}$ .

Reduciendo estas expresiones a fracciones, tenemos:

$$1 + \frac{2xy}{x^2+y^2} = \frac{x^2+y^2+2xy}{x^2+y^2} = \frac{x^2+2xy+y^2}{x^2+y^2}$$

$$1 + \frac{x}{y} = \frac{y+x}{y} = \frac{x+y}{y}$$

Tendremos:

$$\begin{aligned} \left(1 + \frac{2xy}{x^2+y^2}\right) \div \left(1 + \frac{x}{y}\right) &= \frac{x^2+2xy+y^2}{x^2+y^2} \div \frac{x+y}{y} \\ &= \frac{(x+y)^2}{x^2+y^2} \times \frac{y}{x+y} = \frac{xy+y^2}{x^2+y^2} \quad R. \end{aligned}$$

### EJERCICIO 135

Simplificar:

$$1. \left(1 + \frac{a}{a+b}\right) \div \left(1 + \frac{2a}{b}\right)$$

$$2. \left(x - \frac{2}{x+1}\right) \div \left(x - \frac{x}{x+1}\right)$$

$$3. \left(1 - a + \frac{a^2}{1+a}\right) \div \left(1 + \frac{2}{a^2-1}\right)$$

$$4. \left(x + \frac{2}{x+3}\right) \div \left(x + \frac{3}{x+4}\right)$$

$$5. \left(a + b + \frac{b^2}{a-b}\right) \div \left(1 - \frac{b}{a+b}\right)$$

$$6. \left(1 - \frac{1}{x^2+2}\right) \div \left(x + \frac{1}{x-1}\right)$$

$$7. \left(x + \frac{1}{x+2}\right) \div \left(1 + \frac{3}{x^2-4}\right)$$

$$8. \left(n - \frac{2n-1}{n^2+2}\right) \div \left(n^2+1 - \frac{n-1}{n}\right)$$

### VI. MULTIPLICACION Y DIVISION COMBINADAS

**204** Cuando haya que efectuar operaciones en las que se combinen multiplicaciones y divisiones se procederá a convertir los divisores en factores, invirtiéndolos, y procediendo según la regla de la multiplicación.

#### Ejemplo

$$\text{Simplificar } \frac{a-3}{4a-4} \times \frac{a^2+9a+20}{a^2-6a+9} \div \frac{a^2-16}{2a^2-2a}$$

Convertimos la división en multiplicación invirtiendo el divisor y tendremos:

$$\frac{a-3}{4a-4} \times \frac{a^2+9a+20}{a^2-6a+9} \div \frac{a^2-16}{2a^2-2a} = \frac{a-3}{4a-4} \times \frac{a^2+9a+20}{a^2-6a+9} \times \frac{2a^2-2a}{a^2-16}$$

$$= \frac{a-3}{4(a-1)} \times \frac{(a+5)(a+4)}{(a-3)^2} \times \frac{2a(a-1)}{(a+4)(a-4)} = \frac{a(a+5)}{2(a-3)(a-4)}$$

$$= \frac{a^2+5a}{2a^2-14a+24} \quad R.$$

### EJERCICIO 136

Simplificar:

$$1. \frac{3x}{4y} \times \frac{8y}{9x} \div \frac{z^2}{3x^2}$$

$$2. \frac{5a}{b} \div \left(\frac{2a}{b^2} \times \frac{5x}{4a^2}\right)$$

$$3. \frac{a+1}{a-1} \times \frac{3a-3}{2a+2} \div \frac{a^2+a}{a^2+a-2}$$

$$4. \frac{64a^2-81b^2}{x^2-81} \times \frac{(x-9)^2}{8a-9b} \div \frac{8a^2+9ab}{(x+9)^2}$$

$$5. \frac{x^2-x-12}{x^2-49} \times \frac{x^2-x-56}{x^2+x-20} \div \frac{x^2-5x-24}{x+5}$$

$$6. \frac{a^2-8a+7}{a^2-11a+30} \times \frac{a^2-36}{a^2-1} \div \frac{a^2-a-42}{a^2-4a-5}$$

$$7. \frac{x^4-27x}{x^2+7x-30} \times \frac{x^2+20x+100}{x^3+3x^2+9x} \div \frac{x^3-100}{x-3}$$

$$8. \frac{a^2+1}{3a-6} \div \left(\frac{a^3+a}{6a-12} \times \frac{4x+8}{x-3}\right)$$

$$9. \frac{8x^2-10x-3}{6x^2+13x+6} \times \frac{4x^2-9}{3x^2+2x} \div \frac{8x^2+14x+3}{9x^2+12x+4}$$

$$10. \frac{(a+b)^2-c^2}{(a-b)^2-c^2} \times \frac{(a+c)^2-b^2}{a^2+ab-ac} \div \frac{a+b+c}{a^3}$$

$$11. \frac{a^2-5a}{b+b^2} \div \left(\frac{a^2+6a-55}{b^2-1} \times \frac{ax+3a}{ab^2+11b^2}\right)$$

$$12. \frac{m^3+6m^2n+9mn^2}{2m^5n+7mn^2+3n^3} \times \frac{4m^2-n^2}{8m^2-2mn-n^2} \div \frac{m^3+27n^3}{16m^2+8mn+n^2}$$

$$13. \frac{(a^2-ax)^2}{a^2+x^2} \times \frac{1}{a^3+a^2x} \div \left(\frac{a^3-a^2x}{a^2+2ax+x^2} \times \frac{a^2-x^2}{a^3+ax^2}\right)$$

$$14. \frac{(a^2-3a)^2}{9-a^2} \times \frac{27-a^3}{(a+3)^2-3a} \div \frac{a^4-9a^2}{(a^2+3a)^2}$$

### VII. FRACCIONES COMPLEJAS

**205** **FRACCION COMPLEJA** es una fracción en la cual el numerador o el denominador, o ambos, son fracciones algebraicas o expresiones mixtas, como

$$\frac{\frac{a}{x} - \frac{x}{a}}{1 + \frac{a}{x}}$$



Una fracción compleja no es más que una división indicada; la raya de la fracción equivale al signo de dividir y ella indica que hay que dividir lo que está encima de la raya por lo que está debajo de ella.

Así, la fracción anterior  $\frac{\frac{a-x}{x} - \frac{a}{a}}{1 + \frac{a}{x}}$  equivale a  $\left(\frac{a-x}{x} - \frac{a}{a}\right) \div \left(1 + \frac{a}{x}\right)$

## 206 SIMPLIFICACION DE FRACCIONES COMPLEJAS

### REGLA

1) Se efectúan las operaciones indicadas en el numerador y denominador de la fracción compleja.

2) Se divide el resultado que se obtenga en el numerador entre el resultado que se obtenga en el denominador.

### Ejemplos

(1) Simplificar  $\frac{\frac{a-x}{x} - \frac{a}{a}}{1 + \frac{a}{x}}$

Efectuando el numerador:  $\frac{a-x}{x} - \frac{a}{a} = \frac{a^2-x^2}{ax}$

Efectuando el denominador:  $1 + \frac{a}{x} = \frac{a+x}{x}$

Tendremos:  $\frac{\frac{a-x}{x} - \frac{a}{a}}{1 + \frac{a}{x}} = \frac{\frac{a^2-x^2}{ax}}{\frac{a+x}{x}}$

[dividiendo el numerador entre el denominador]  $= \frac{a^2-x^2}{ax} \times \frac{x}{a+x} = \frac{(a+x)(a-x)}{ax} \times \frac{x}{a+x} = \frac{a-x}{a}$  R.

(2) Simplificar  $\frac{x-1-\frac{12}{x-2}}{x+6+\frac{16}{x-2}}$

Numerador:

$$x-1-\frac{12}{x-2} = \frac{(x-1)(x-2)-12}{x-2} = \frac{x^2-3x+2-12}{x-2} = \frac{x^2-3x-10}{x-2}$$

Denominador:

$$x+6+\frac{16}{x-2} = \frac{(x+6)(x-2)+16}{x-2} = \frac{x^2+4x-12+16}{x-2} = \frac{x^2+4x+4}{x-2}$$

Tendremos:

$$\frac{x-1-\frac{12}{x-2}}{x+6+\frac{16}{x-2}} = \frac{\frac{x^2-3x-10}{x-2}}{\frac{x^2+4x+4}{x-2}} = \frac{x^2-3x-10}{x^2+4x+4} = \frac{(x-5)(x+2)}{(x+2)^2} = \frac{x-5}{x+2} \text{ R.}$$

Obsérvese que como la fracción del numerador y la fracción del denominador tenían el mismo denominador  $x-2$  lo hemos suprimido porque al dividir o sea al multiplicar el numerador por el denominador invertido, tendríamos:

$$\frac{x^2-3x-10}{x-2} \times \frac{x-2}{x^2+4x+4} = \frac{x^2-3x-10}{x^2+4x+4}$$

donde vemos que se cancela el factor  $x-2$ .

## ● EJERCICIO 137

Simplificar:

1.  $\frac{a-\frac{a}{b}}{b-\frac{1}{b}}$

2.  $\frac{x^2-\frac{1}{x}}{1-\frac{1}{x}}$

3.  $\frac{\frac{a}{b}-\frac{b}{a}}{1+\frac{b}{a}}$

4.  $\frac{\frac{1}{m}+\frac{1}{n}}{\frac{1}{m}-\frac{1}{n}}$

5.  $\frac{x+\frac{x}{2}}{x-\frac{x}{4}}$

6.  $\frac{\frac{x}{y}-\frac{y}{x}}{1+\frac{y}{x}}$

7.  $\frac{x+4+\frac{3}{x}}{x-4-\frac{5}{x}}$

8.  $\frac{a-4+\frac{4}{a}}{1-\frac{2}{a}}$

9.  $\frac{\frac{2a^2-b^2}{a}-b}{\frac{4a^2+b^2}{4ab}+1}$

10.  $\frac{2+\frac{3a}{5b}}{a+\frac{10b}{3}}$

11.  $\frac{a-x+\frac{x^2}{a+x}}{a^2-\frac{a^2}{a+x}}$

12.  $\frac{a+5-\frac{14}{a}}{1+\frac{8}{a}+\frac{7}{a^2}}$

13.  $\frac{\frac{1}{a}-\frac{9}{a^2}+\frac{20}{a^3}}{\frac{16}{a}-a}$

14.  $\frac{\frac{20x^2+7x-6}{x}}{\frac{4}{x^2}-25}$

15.  $\frac{1+\frac{1}{x-1}}{1+\frac{1}{x^2-1}}$

16.  $\frac{a-\frac{ab}{a+b}}{a+\frac{ab}{a-b}}$

17.  $\frac{x-1-\frac{5}{x+3}}{x+5-\frac{35}{x+3}}$

18.  $\frac{a+2-\frac{7a+9}{a+3}}{a-4+\frac{5a-11}{a+1}}$



207 Ahora trabajaremos fracciones complejas más complicadas.

3) Simplificar  $\frac{\frac{1}{x-1} - \frac{1}{x+1}}{\frac{x}{x-1} - \frac{1}{x+1}}$ .

Numerador:

$$\frac{1}{x-1} - \frac{1}{x+1} = \frac{x+1-(x-1)}{(x+1)(x-1)} = \frac{x+1-x+1}{(x+1)(x-1)} = \frac{2}{(x+1)(x-1)}$$

Denominador:

$$\frac{x}{x-1} - \frac{1}{x+1} = \frac{x(x+1)-(x-1)}{(x+1)(x-1)} = \frac{x^2+x-x+1}{(x+1)(x-1)} = \frac{x^2+1}{(x+1)(x-1)}$$

Tendremos:

$$\frac{\frac{1}{x-1} - \frac{1}{x+1}}{\frac{x}{x-1} - \frac{1}{x+1}} = \frac{\frac{2}{(x+1)(x-1)}}{\frac{x^2+1}{(x+1)(x-1)}} = \frac{2}{x^2+1} \quad \text{R.}$$

4) Simplificar  $\frac{\frac{a+2b}{a-b} - \frac{a+b}{a}}{\frac{b}{a-b} + \frac{2a-b}{4a-b}}$ .

Numerador:

$$\begin{aligned} \frac{a+2b}{a-b} - \frac{a+b}{a} &= \frac{a(a+2b)-(a+b)(a-b)}{a(a-b)} = \frac{a^2+2ab-(a^2-b^2)}{a(a-b)} \\ &= \frac{a^2+2ab-a^2+b^2}{a(a-b)} = \frac{2ab+b^2}{a(a-b)} \end{aligned}$$

Denominador:

$$\begin{aligned} \frac{b}{a-b} + \frac{2a-b}{4a-b} &= \frac{b(4a-b)+(a-b)(2a-b)}{(a-b)(4a-b)} = \frac{4ab-b^2+2a^2-3ab+b^2}{(a-b)(4a-b)} \\ &= \frac{2a^2+ab}{(a-b)(4a-b)} \end{aligned}$$

Tendremos:

$$\begin{aligned} \frac{\frac{a+2b}{a-b} - \frac{a+b}{a}}{\frac{b}{a-b} + \frac{2a-b}{4a-b}} &= \frac{\frac{2ab+b^2}{a(a-b)}}{\frac{2a^2+ab}{(a-b)(4a-b)}} = \frac{2ab+b^2}{a(a-b)} \times \frac{(a-b)(4a-b)}{2a^2+ab} \\ &= \frac{b(2a+b)}{a(a-b)} \times \frac{(a-b)(4a-b)}{a(2a+b)} = \frac{b(4a-b)}{a^2} = \frac{4ab-b^2}{a^2} \quad \text{R.} \end{aligned}$$

5) Simplificar  $\frac{x-2}{x - \frac{1}{1 - \frac{2}{x+2}}}$ .

Las fracciones de esta forma se llaman **continuas** y se simplifican efectuando las operaciones indicadas empezando de abajo hacia arriba. Así, en este caso, tendremos:

$$\begin{aligned} \frac{x-2}{x - \frac{1}{1 - \frac{2}{x+2}}} &= \frac{x-2}{x - \frac{1}{\frac{x}{x+2}}} = \frac{x-2}{x - \frac{x+2}{x}} = \frac{x-2}{\frac{x^2-x-2}{x}} \\ &= \frac{x-2}{1} \times \frac{x}{x^2-x-2} = \frac{x-2}{1} \times \frac{x}{(x-2)(x+1)} = \frac{x}{x+1} \quad \text{R.} \end{aligned}$$

### ► EJERCICIO 138

Simplificar:

1. $\frac{1 + \frac{x+1}{x-1}}{\frac{1}{x-1} - \frac{1}{x+1}}$	4. $\frac{\frac{x+3}{x+4} - \frac{x+1}{x+2}}{\frac{x-1}{x+2} - \frac{x-3}{x+4}}$	7. $\frac{1 + \frac{2x}{1+x^2}}{2x + \frac{2x^5+2}{1-x^4}}$	10. $\frac{\frac{a}{a+x} - \frac{a}{2a+2x}}{\frac{a}{a-x} + \frac{a}{a+x}}$
2. $\frac{\frac{1}{x-1} + \frac{2}{x+1}}{\frac{x-2}{x} + \frac{2x+6}{x+1}}$	5. $\frac{\frac{m^2}{n} - \frac{m^2-n^2}{m+n}}{\frac{m-n}{n} + \frac{n}{m}}$	8. $\frac{\frac{x+y}{x-y} - \frac{x-y}{x+y}}{\frac{x+y}{x} - \frac{x+2y}{x+y}}$	11. $\frac{\frac{a+2b}{a-b} + \frac{b}{a}}{\frac{a+b}{a} + \frac{3b}{a-b}}$
3. $\frac{\frac{a}{a-b} - \frac{b}{a+b}}{\frac{a+b}{a-b} + \frac{a}{b}}$	6. $\frac{\frac{a^2}{b^3} + \frac{1}{a}}{\frac{a}{b} - \frac{b-a}{a-b}}$	9. $\frac{\frac{a+x}{a-x} - \frac{b+x}{b-x}}{\frac{2}{a-x} - \frac{2}{b-x}}$	12. $\frac{1 - \frac{7}{x} + \frac{12}{x^2}}{x - \frac{16}{x}}$



$$13. \frac{\frac{a^2}{b} - \frac{b^2}{a}}{\frac{1}{b} + \frac{1}{a} + \frac{b}{a^2}}$$

$$14. \frac{x-2y - \frac{4y^2}{x+y}}{x-3y - \frac{5y^2}{x+y}}$$

$$15. \frac{\frac{2}{1-a} + \frac{2}{1+a}}{\frac{2}{1+a} - \frac{2}{1-a}}$$

$$18. \frac{\frac{1}{x+y+z} - \frac{1}{x-y+z}}{\frac{1}{x-y+z} - \frac{1}{x+y+z}}$$

$$25. \frac{1}{a+2 - \frac{a+1}{a - \frac{1}{a}}}$$

$$17. \frac{1 + \frac{2b+c}{a-b-c}}{1 - \frac{c-2b}{a-b+c}}$$

$$18. \frac{\frac{a}{1-a} + \frac{1-a}{a}}{\frac{1-a}{a} - \frac{a}{1-a}}$$

$$19. \frac{x+1 - \frac{6x+12}{x+2}}{x-4 + \frac{11x-22}{x-2}}$$

$$30. \frac{1}{1 + \frac{1}{x}}$$

$$26. \frac{x-1}{x+2 - \frac{x^2+2}{x - \frac{x-2}{x+1}}}$$

$$21. \frac{1}{1 + \frac{1}{1 - \frac{1}{x}}}$$

$$22. 1 - \frac{1}{2 + \frac{1}{\frac{x}{3} - 1}}$$

$$23. \frac{2}{1 + \frac{2}{1 + \frac{2}{x}}}$$

$$24. \frac{1}{x - \frac{x}{x - \frac{x^2}{x+1}}}$$

## 209 INTERPRETACION DE LA FORMA $\frac{a}{0}$

Sea la fracción  $\frac{a}{x}$ , en que  $a$  es una cantidad constante y  $x$  es una variable. Cuanto menor sea  $x$ , mayor es el valor de la fracción. En efecto:

$$\text{Para } x = 1, \quad \frac{a}{x} = \frac{a}{1} = a$$

$$\text{Para } x = \frac{1}{10}, \quad \frac{a}{x} = \frac{a}{\frac{1}{10}} = 10a$$

$$\text{Para } x = \frac{1}{100}, \quad \frac{a}{x} = \frac{a}{\frac{1}{100}} = 100a$$

$$\text{Para } x = \frac{1}{1000}, \quad \frac{a}{x} = \frac{a}{\frac{1}{1000}} = 1000a, \text{ etc.}$$

Vemos, pues, que haciendo al denominador  $x$  suficientemente pequeño, el valor de la fracción  $\frac{a}{x}$  será tan grande como queramos, o sea, que siendo  $a$  constante, a medida que el denominador  $x$  se aproxima al límite 0 el valor de la fracción **aumenta indefinidamente**.

Este principio se expresa de este modo:

El símbolo  $\infty$  se llama infinito y no tiene un valor determinado:  $\infty$  no es una cantidad, sino el símbolo que usamos para expresar, abreviadamente el principio anterior.

Entiéndase que la expresión  $\frac{a}{0} = \infty$  no puede tomarse en un sentido aritmético literal, porque siendo 0 la ausencia de cantidad, la división de  $a$  entre 0 es inconcebible, sino como la expresión del principio de que si el numerador de una fracción es una cantidad constante, a medida que el denominador disminuye indefinidamente, acercándose al límite 0 pero sin llegar a valer 0, el valor de la fracción aumenta sin límite.

### Ejemplo

Hallar el valor de  $\frac{x+4}{x^2-3x+2}$  para  $x=2$ .

Sustituyendo  $x$  por 2, tendremos:

$$\frac{x+4}{x^2-3x+2} = \frac{2+4}{2^2-3(2)+2} = \frac{6}{4-6+2} = \frac{6}{0} = \infty$$

## VIII. EVALUACION DE FRACCIONES

### 208 INTERPRETACION DE LA FORMA $\frac{0}{a}$

La forma  $\frac{0}{a}$ , que representa una fracción cuyo numerador es cero y cuyo denominador  $a$  es una cantidad finita cualquiera, se interpreta así:

En efecto: Sabemos que toda fracción representa el cociente de la división de su numerador entre su denominador; luego,  $\frac{0}{a}$  representa el cociente de la división de 0 (dividendo) entre  $a$  (divisor) y el cociente de esta división tiene que ser una cantidad tal que multiplicada por el divisor  $a$  reproduzca el dividendo 0; luego, el cociente o sea el valor de la fracción será 0 porque  $0 \times a = 0$ .

### Ejemplo

Hallar el valor de  $\frac{x^2-9}{x^2+2x-14}$  para  $x=3$ .

Sustituyendo  $x$  por 3, tendremos:

$$\frac{x^2-9}{x^2+2x-14} = \frac{3^2-9}{3^2+2(3)-14} = \frac{9-9}{9+6-14} = \frac{0}{1} = 0. \quad R.$$



210 INTERPRETACION DE LA FORMA  $\frac{a}{x}$ 

Consideremos la fracción  $\frac{a}{x}$ , en que  $a$  es constante y  $x$  variable. Cuanto mayor sea  $x$ , menor será el valor de la fracción.

En efecto:

Para  $x = 1$ ,  $\frac{a}{x} = \frac{a}{1} = a$

Para  $x = 10$ ,  $\frac{a}{x} = \frac{a}{10} = \frac{1}{10}a$

Para  $x = 100$ ,  $\frac{a}{x} = \frac{a}{100} = \frac{1}{100}a$ , etc.

Vemos, pues, que haciendo al denominador  $x$  suficientemente grande, el valor de la fracción  $\frac{a}{x}$  será tan pequeño como queramos, o sea que a medida que el denominador aumenta indefinidamente, el valor de la fracción disminuye indefinidamente, acercándose al límite 0, pero sin llegar a valer 0.

Este principio se expresa:

$$\frac{a}{\infty} = 0.$$

Este resultado no debe tomarse tampoco en un sentido literal, sino como la expresión del principio anterior.

**Ejemplo**

Hallar el valor de  $\frac{x-1}{x-3}$  para  $x = 3$ .

Sustituyendo  $x$  por 3, tenemos:  $\frac{x-1}{x-3} = \frac{3-1}{3-3} = \frac{2}{0} = \frac{2}{\infty} = 0$ . R.

211 INTERPRETACION DE LA FORMA  $\frac{0}{0}$ 

Considerando esta forma como el cociente de la división de 0 (dividendo) entre 0 (divisor), tendremos que el cociente de esta división tiene que ser una cantidad tal que multiplicada por el divisor 0 reproduzca el dividendo 0, pero cualquier cantidad multiplicada por cero da cero; luego,  $\frac{0}{0}$  puede ser igual a cualquier cantidad. Así, pues, el símbolo

$$\frac{0}{0} = \text{valor indeterminado.}$$

## 212 VERDADERO VALOR DE LAS FORMAS INDETERMINADAS

**Ejemplos**

(1) Hallar el verdadero valor de  $\frac{x^2-4}{x^2+x-6}$  para  $x = 2$ .

Sustituyendo  $x$  por 2, se tiene:

$$\frac{x^2-4}{x^2+x-6} = \frac{2^2-4}{2^2+2-6} = \frac{4-4}{4+2-6} = \frac{0}{0} = \text{valor indeterminado.}$$

La indeterminación del valor de esta fracción es aparente y es debida a la presencia de un factor común al numerador y denominador, que los anula. Para suprimir este factor, se simplifica la fracción dada y tendremos:

$$\frac{x^2-4}{x^2+x-6} = \frac{(x+2)(x-2)}{(x+3)(x-2)} = \frac{x+2}{x+3}.$$

Entonces:  $\frac{x^2-4}{x^2+x-6} = \frac{x+2}{x+3}$

Haciendo  $x = 2$  en el segundo miembro de esta igualdad, se tendrá:

$$\frac{x^2-4}{x^2+x-6} = \frac{2+2}{2+3} = \frac{4}{5}.$$

Luego el verdadero valor de  $\frac{x^2-4}{x^2+x-6}$  para  $x = 2$  es  $\frac{4}{5}$ . R.

(2) Hallar el verdadero valor de  $\frac{3x^2-2x-1}{x^3+x^2-5x+3}$  para  $x = 1$ .

Sustituyendo  $x$  por 1, se tiene:

$$\frac{3x^2-2x-1}{x^3+x^2-5x+3} = \frac{3(1^2)-2(1)-1}{1^3+1^2-5(1)+3} = \frac{3-2-1}{1+1-5+3} = \frac{0}{0} = \text{V. indeterminado.}$$

Esta indeterminación es aparente. Ella desaparece suprimiendo el factor común al numerador y denominador que los anula.

Simplificando la fracción [el denominador se factora por evaluación] se tiene:

$$\frac{3x^2-2x-1}{x^3+x^2-5x+3} = \frac{(x-1)(3x+1)}{(x-1)(x-1)(x+3)} = \frac{3x+1}{(x-1)(x+3)}$$

Entonces, haciendo  $x = 1$  en la última fracción, se tendrá:

$$\frac{3x+1}{(x-1)(x+3)} = \frac{3(1)+1}{(1-1)(1+3)} = \frac{3+1}{0 \times 4} = \frac{4}{0} = \infty.$$

Luego el verdadero valor de la fracción dada para  $x = 1$  es  $\infty$ . R.

**EJERCICIO 139**

Hallar el verdadero valor de:

1.  $\frac{x-2}{x+3}$  para  $x = 2$ .    2.  $\frac{x-2}{x-3}$  para  $x = 3$ .    3.  $\frac{x^2-a^2}{x^2+a^2}$  para  $x = a$ .



$$4. \frac{x^2+y^2}{x^2-y^2} \text{ para } x=y.$$

$$5. \frac{x-1}{3} \text{ para } x=2.$$

$$6. \frac{x^2-9}{x^2+x-12} \text{ para } x=3.$$

$$7. \frac{a^2-a-6}{a^2+2a-15} \text{ para } a=3.$$

$$8. \frac{x^2-7x+10}{x^3-2x^2-x+2} \text{ para } x=2.$$

$$9. \frac{x^2-2x+1}{x^3-2x^2-x+2} \text{ para } x=1.$$

$$10. \frac{a^3-8}{a^2+11a-26} \text{ para } a=2.$$

$$11. \frac{x^2-7x+6}{x^2-2x+1} \text{ para } x=1.$$

$$12. \frac{x^3-3x-2}{x^3-7x+6} \text{ para } x=2.$$

$$13. \frac{x^2-16}{x^3-4x^2-x+4} \text{ para } x=4.$$

$$14. \frac{4x^2-4x+1}{4x^2+8x-5} \text{ para } x=\frac{1}{2}.$$

$$15. \frac{8x^2-6x+1}{4x^3+12x^2-15x+4} \text{ para } x=\frac{1}{2}.$$

$$16. \frac{x^3-9x+10}{x^4-x^3-11x^2+9x+18} \text{ para } x=2.$$

### ● EJERCICIO 140

#### MISCELANEA SOBRE FRACCIONES

Simplificar:

$$1. \frac{12x^2+31x+20}{18x^2+21x-4}$$

$$2. \left(\frac{1}{a} + \frac{2}{a^2} + \frac{1}{a^3}\right) \div \left(a+2 - \frac{2a+1}{a}\right).$$

$$3. \frac{x^3+3x^2+9x}{x^5-27x^2}.$$

$$7. \text{Dividir } x^2+5x-4 - \frac{x^3-29}{x-5} \text{ entre } x+34 + \frac{170-x^2}{x-5}.$$

$$17. \frac{x^3-a^3}{x-a} \text{ para } x=a.$$

$$18. \frac{a^2-2ab+b^2}{a^2-ab} \text{ para } b=a.$$

$$19. \frac{x^2-y^2}{xy-y^2} \text{ para } y=x.$$

$$20. \frac{x^3-a^3}{a^2x-a^3} \text{ para } x=a.$$

$$21. \frac{x^3-3x+2}{2x^3-6x^2+6x-2} \text{ para } x=1.$$

$$22. \frac{x^4-x^3-7x^2+x+6}{x^4-3x^3-3x^2+11x-6} \text{ para } x=3.$$

$$23. \frac{3x^3-5x^2-4x+4}{x^4+2x^3-3x^2-8x-4} \text{ para } x=2.$$

$$24. \frac{x^2-5x+4}{x^3-2x^2-9x^2+2x+8} \text{ para } x=1.$$

$$25. \frac{x^3-4x^2+8x^2-32}{x^5-3x^3+10x^2-4x-40} \text{ para } x=2.$$

$$26. \frac{8x^2+6x-9}{12x^2-13x+3} \text{ para } x=\frac{3}{4}.$$

$$27. \frac{x^3+6x^2+12x+8}{x^4-8x^2+16} \text{ para } x=-2.$$

$$28. \frac{9x^3+3x^2+3x+1}{27x^3+1} \text{ para } x=-\frac{1}{3}.$$

$$29. \frac{1}{x-1} - \frac{3}{x^3-1} \text{ para } x=1.$$

$$30. (x^2+3x-10) \left(1 + \frac{1}{x-2}\right) \text{ para } x=2.$$

$$4. \frac{(x+y)^2}{y} - \frac{x(x-y)^2}{xy}$$

$$5. \frac{a^4-2b^3+a^2b(b-2)}{a^4-a^2b-2b^2}.$$

$$6. \text{Multiplicar } a + \frac{1+5a}{a^2-5} \text{ por } a - \frac{a+5}{a+1}.$$

Descomponer las expresiones siguientes en la suma o resta de tres fracciones simples irreducibles:

$$8. \frac{4x^2-5xy+y^2}{3x}.$$

$$9. \frac{m-n-x}{mnx}.$$

$$10. \text{Probar que } \frac{x^3-xy^2}{x-y} = x^2+xy.$$

$$11. \text{Probar que } x^2-2x+1 - \frac{9x-3x^2}{x-3} = \frac{x^3-1}{x-1}.$$

$$12. \text{Probar que } \frac{a^4-5a^2+4}{a^3+a^2-4a-4} = a-3 + \frac{2+4a}{2a+1}.$$

Simplificar:

$$13. \frac{1}{a-b} + \frac{1}{a+b} + \frac{2a}{a^2-ab+b^2}.$$

$$14. \left(\frac{a^2}{1-a^2} - \frac{a^4}{1-a^4}\right) \times \left(1-a + \frac{1+a^3}{a^2}\right).$$

$$15. \left(\frac{x^2-9}{x^2-x-12} \div \frac{x-3}{x^2+3x}\right) \times \frac{a^2x^2-16a^2}{2x^2+7x+3} \times \left(\frac{2}{a^2x} + \frac{1}{a^2x^2}\right).$$

$$16. \frac{3x^3-x^2-12x+4}{6x^4+x^3-25x^2-4x+4}.$$

$$17. \frac{16-81x^2}{72x^2-5x-12}.$$

$$18. \left(\frac{1}{x} - \frac{2}{x+2} + \frac{3}{x+3}\right) \div \left(\frac{x}{x+2} + \frac{x}{x+3} + \frac{6}{x^2+5x+6}\right).$$

$$19. \frac{\frac{b}{a}}{1-\frac{b^2}{a^2}} + \frac{1+\frac{b}{a-b}}{2-\frac{a-3b}{a-b}}.$$

$$22. \frac{\frac{x+1}{x-1} - \frac{x-1}{x+1}}{\frac{x-1}{x+1} + \frac{x+1}{x-1}} \times \frac{x^2+1}{2a^2-2b} + \frac{2x}{a^2-b}.$$

$$20. \frac{1}{3} \left(\frac{x^2-36}{x} + \frac{x}{x^2-4}\right) \times \frac{1}{x-\frac{36}{x}} \times \frac{1}{x-\frac{4}{x}}.$$

$$23. \frac{1}{3x-9} - \frac{1}{6x+12} - \frac{1}{2(x-3)^2} + \frac{1}{x-6+\frac{9}{x}}.$$

$$21. \frac{\frac{3a}{(a-2b)^2} + \frac{5}{a-5b} + \frac{1}{a-2b}}{\frac{3a^2-14ab+10b^2}{a^2-4ab+4b^2}}.$$

$$24. \frac{a-b+\frac{a^2+b^2}{a+b}}{a+b-\frac{a^2-2b^2}{a-b}} \times \frac{b+\frac{b^2}{a}}{a-b} \times \frac{1}{1+\frac{2a-b}{b}}.$$





**LEONARDO DE PISA (1175-1250)** Conocido por hijo de Bonaccio, no era un erudito, pero de sus continuos viajes por Europa y el Oriente, fue el que dio a conocer en Occidente los métodos matemáticos de los hindúes.

**RAIMUNDO LULIO (1235-1315)** Llamado el Doctor Iluminado por su dedicación a la propagación de la fe. Cultivó con excelente éxito las ciencias de su tiempo; fue el primero que se propuso construir una matemática universal. Publicó diversas obras.

## CAPITULO XV

### ECUACIONES NUMERICAS FRACCIONARIAS DE PRIMER GRADO CON UNA INCOGNITA

**213** Una ecuación es fraccionaria cuando algunos de sus términos o todos tienen denominadores, como  $\frac{x}{2} = 3x - \frac{3}{4}$ .

#### 214 SUPRESION DE DENOMINADORES

Esta es una operación importantísima que consiste en convertir una ecuación fraccionaria en una ecuación equivalente entera, es decir, sin denominadores.

La supresión de denominadores se funda en la propiedad, ya conocida, de las igualdades: Una igualdad no varía si sus dos miembros se multiplican por una misma cantidad.

##### REGLA

Para suprimir denominadores en una ecuación se multiplican todos los términos de la ecuación por el mínimo común múltiplo de los denominadores.

### Ejemplos

(1) Suprimir denominadores en la ecuación  $\frac{x}{2} = \frac{x}{6} - \frac{1}{4}$ .

El m. c. m. de los denominadores 2, 6 y 4 es 12. Multiplicamos todos los términos por 12 y tendremos:

$$\frac{12x}{2} = \frac{12x}{6} - \frac{12}{4}$$

$$6x = 2x - 3 \quad (1)$$

ecuación equivalente a la ecuación dada y entera que es lo que buscábamos, porque la resolución de ecuaciones enteras ya la hemos estudiado. Ahora bien, la operación que hemos efectuado, de multiplicar todos los términos de la ecuación por el m. c. m. de los denominadores equivale a dividir el m. c. m. de los denominadores entre cada denominador y multiplicar cada cociente por el numerador respectivo.

En efecto: En la ecuación anterior  $\frac{x}{2} = \frac{x}{6} - \frac{1}{4}$

el m. c. m. de los denominadores es 12. Dividiendo 12 entre 2, 6 y 4 y multiplicando cada cociente por su numerador respectivo, tenemos:

$$6x = 2x - 3$$

idéntica a la que obtuvimos antes en (1).

Podemos decir entonces que

**Para suprimir denominadores en una ecuación:**

- 1) Se halla el m. c. m. de los denominadores.
- 2) Se divide este m. c. m. entre cada denominador y cada cociente se multiplica por el numerador respectivo.

(2) Suprimir denominadores en  $2 - \frac{x-1}{40} = \frac{2x-1}{4} - \frac{4x-5}{8}$ .

El m. c. m. de 4, 8 y 40 es 40. El primer término 2 equivale a  $\frac{2}{1}$ . Entonces, divido  $40 \div 1 = 40$  y este cociente 40 lo multiplico por 2;  $40 \div 40 = 1$  y este cociente 1 lo multiplico por  $x-1$ ;  $40 \div 4 = 10$  y este cociente 10 lo multiplico por  $2x-1$ ;  $40 \div 8 = 5$  y este cociente 5 lo multiplico por  $4x-5$  y tendremos:

$$2(40) - (x-1) = 10(2x-1) - 5(4x-5)$$

Efectuando las multiplicaciones indicadas y quitando paréntesis, queda:

$$80 - x + 1 = 20x - 10 - 20x + 25$$

ecuación que ya es entera.

#### MUY IMPORTANTE

Cuando una fracción cuya numerador es un polinomio está precedida del signo  $-$  como  $-\frac{x-1}{40}$  y  $-\frac{4x-5}{8}$  en la ecuación anterior, hay que tener cuidado de cambiar el signo a cada uno de los términos de su numerador al quitar el denominador. Por eso hemos puesto  $x-1$  entre un paréntesis precedido del signo  $-$  o sea  $-(x-1)$  y al quitar este paréntesis queda  $-x+1$  y en cuanto a la última fracción, al efectuar el producto  $-5(4x-5)$  decimos:  $(-5)(4x) = -20x$  y  $(-5)(-5) = +25$ , quedando  $-20x+25$ .



# 215 RESOLUCION DE ECUACIONES FRACCIONARIAS CON DENOMINADORES MONOMIOS

## Ejemplos

(1) Resolver la ecuación  $3x - \frac{2x}{5} = \frac{x}{10} - \frac{7}{4}$ .

El m. c. m. de 5, 10 y 4 es 20. Dividimos 20 entre 1 (denominador de  $3x$ ), 5, 10 y 4 y multiplicamos cada cociente por el numerador respectivo. Tendremos:

$$60x - 8x = 2x - 35.$$

Trasponiendo:  $60x - 8x - 2x = -35$

$$50x = -35$$

$$x = -\frac{35}{50} = -\frac{7}{10}. \text{ R.}$$

## VERIFICACION

Sustitúyase  $x$  por  $-\frac{7}{10}$  en la ecuación dada y dará identidad.

(2) Resolver la ecuación  $\frac{2x-1}{3} - \frac{x+13}{24} = 3x + \frac{5(x+1)}{8}$ .

$$\begin{aligned} 8(2x-1) - (x+13) &= 24(3x) + 15(x+1) \\ 16x - 8 - x - 13 &= 72x + 15x + 15 \\ 16x - x - 72x - 15x &= 8 + 13 + 15 \\ -72x &= 36 \end{aligned}$$

$$x = -\frac{36}{72} = -\frac{1}{2}. \text{ R.}$$

El m. c. m. de 3, 24 y 8 es 24. Dividiendo 24 entre 3, 24, 1 y 8 y multiplicando los cocientes por el numerador respectivo, tendremos:

(3) Resolver la ecuación  $\frac{1}{5}(x-2) - (2x-3) = \frac{2}{3}(4x+1) - \frac{1}{6}(2x+7)$ .

Efectuando las multiplicaciones indicadas, tenemos:

$$\frac{x-2}{5} - (2x-3) = \frac{8x+2}{3} - \frac{2x+7}{6}$$

$$\begin{aligned} 6(x-2) - 30(2x-3) &= 10(8x+2) - 5(2x+7) \\ 6x - 12 - 60x + 90 &= 80x + 20 - 10x - 35 \\ 6x - 60x - 80x + 10x &= 12 - 90 + 20 - 35 \\ -124x &= -93 \\ 124x &= 93 \end{aligned}$$

El m. c. m. de 5, 3 y 6 es 30. Quitando denominadores:

$$x = \frac{93}{124} = \frac{3}{4}. \text{ R.}$$

## EJERCICIO 141

Resolver las siguientes ecuaciones:

1.  $\frac{x}{6} + 5 = \frac{1}{3} - x$
2.  $\frac{3x}{5} - \frac{2x}{3} + \frac{1}{5} = 0$
3.  $\frac{1}{2x} + \frac{1}{4} - \frac{1}{10x} = \frac{1}{5}$
4.  $\frac{x}{2} + 2 - \frac{x}{12} = \frac{x}{6} - \frac{5}{4}$
5.  $\frac{3x}{4} - \frac{1}{5} + 2x = \frac{5}{4} - \frac{3x}{20}$
6.  $\frac{2}{3x} - \frac{5}{x} = \frac{7}{10} - \frac{3}{2x} + 1$

7.  $\frac{x-4}{8} - 5 = 0$ .

8.  $x - \frac{x+2}{12} = \frac{5x}{2}$ .

9.  $x - \frac{5x-1}{8} = 4x - \frac{3}{5}$ .

10.  $10x - \frac{8x-3}{4} = 2(x-3)$ .

11.  $\frac{x-2}{8} - \frac{x-3}{4} = \frac{x-4}{5}$ .

12.  $\frac{x-1}{2} - \frac{x-2}{3} - \frac{x-3}{4} = -\frac{x-5}{5}$ .

13.  $x - (5x-1) - \frac{7-5x}{10} = 1$ .

14.  $2x - \frac{5x-6}{4} + \frac{1}{3}(x-5) = -5x$ .

15.  $4 - \frac{10x+1}{6} = 4x - \frac{16x+3}{4}$ .

16.  $\frac{1}{2}(x-1) - (x-3) = \frac{1}{3}(x+3) + \frac{1}{6}$ .

17.  $\frac{6x+1}{3} - \frac{11x-2}{9} - \frac{1}{4}(5x-2) = \frac{5}{6}(6x+1)$ .

18.  $\frac{4x+1}{3} = \frac{1}{3}(4x-1) - \frac{13+2x}{6} - \frac{1}{2}(x-3)$ .

19.  $\frac{2}{5}(5x-1) + \frac{3}{10}(10x-3) = -\frac{1}{2}(x-2) - \frac{6}{5}$ .

20.  $\frac{3x-1}{2} - \frac{5x+4}{3} - \frac{x+2}{8} = \frac{2x-3}{5} - \frac{1}{10}$ .

21.  $\frac{7x-1}{3} - \frac{5-2x}{2x} = \frac{4x-3}{4} + \frac{1+4x^2}{3x}$ .

22.  $\frac{2x+7}{3} - \frac{2(x^2-4)}{5x} - \frac{4x^2-6}{15x} = \frac{7x^2+6}{3x^2}$ .

23.  $\frac{2}{3}\left(\frac{x+1}{5}\right) = \frac{3}{4}\left(\frac{x-6}{3}\right)$ .

24.  $\frac{3}{5}\left(\frac{2x-1}{6}\right) - \frac{4}{3}\left(\frac{3x+2}{4}\right) - \frac{1}{5}\left(\frac{x-2}{3}\right) + \frac{1}{5} = 0$ .

25.  $10 - \frac{3x+5}{6} = 3\frac{11}{12} - \frac{x}{4}$ .

26.  $9x - 2 - 7x\left(\frac{1}{x} - \frac{1}{2}\right) = \frac{1+\frac{x}{2}}{2} + 2\frac{3}{4}$ .

27.  $\frac{3x}{8} - \frac{7}{10} - \frac{12x-5}{16} - \frac{2x-3}{20} + \frac{4x+9}{4} + \frac{7}{50} = 0$ .

28.  $\frac{5x}{4} - \frac{3}{17}(x-20) - (2x-1) = \frac{x+24}{34}$ .

29.  $5 + \frac{x}{4} = \frac{1}{3}\left(2 - \frac{x}{2}\right) - \frac{2}{3} + \frac{1}{4}\left(10 - \frac{5x}{3}\right)$ .

30.  $\frac{5(x+2)}{12} + \frac{4}{9} - \frac{22-x}{36} = 3x - 20 - \frac{8-x}{12} - \frac{20-3x}{18}$ .

31.  $\left(3 - \frac{x}{2}\right) - \left(1 - \frac{x}{3}\right) = 7 - \left(x - \frac{x}{2}\right)$ .

32.  $(x+3)(x-3) - x^2 - \frac{5}{4} = \left(x - \frac{x}{5}\right) - \left(3x - \frac{3}{4}\right)$ .

33.  $2x - \left(2x - \frac{3x-1}{8}\right) = \frac{2}{3}\left(\frac{x+2}{6}\right) - \frac{1}{4}$ .



# 216 RESOLUCION DE ECUACIONES DE PRIMER GRADO CON DENOMINADORES COMPUESTOS

## Ejemplos

(1) Resolver  $\frac{3}{2x+1} - \frac{2}{2x-1} - \frac{x+3}{4x^2-1} = 0$ .

El m. c. m. de los denominadores es  $4x^2 - 1$  porque  $4x^2 - 1 = (2x+1)(2x-1)$  y aquí vemos que contiene a los otros dos denominadores. Dividiendo  $(2x+1)$ ,  $(2x-1)$  entre cada denominador y multiplicando cada cociente por el numerador respectivo, tendremos:

$$\begin{aligned} 3(2x-1) - 2(2x+1) - (x+3) &= 0 \\ 6x-3-4x-2-x-3 &= 0 \\ 6x-4x-x &= 3+2+3 \\ x &= 8. \text{ R.} \end{aligned}$$

(2) Resolver  $\frac{6x+5}{15} - \frac{5x+2}{3x+4} = \frac{2x+3}{5} - 1$ .

Como 5 está contenido en 15, el m. c. m. de los denominadores es  $15(3x+4)$ .

Dividiendo:

$$\frac{15(3x+4)}{15} = 3x+4; \text{ este cociente lo multiplico por } 6x+5.$$

$$\frac{15(3x+4)}{3x+4} = 15; \text{ este cociente lo multiplico por } 5x+2.$$

$$\frac{15(3x+4)}{5} = 3(3x+4); \text{ este cociente lo multiplico por } 2x+3.$$

$$\frac{15(3x+4)}{1} = 15(3x+4); \text{ este cociente lo multiplico por } 1.$$

Tendremos:  $(3x+4)(6x+5) - 15(5x+2) = 3(3x+4)(2x+3) - 15(3x+4)$ .

Efectuando:  $18x^2 + 39x + 20 - 75x - 30 = 18x^2 + 51x + 36 - 45x - 60$ .

$$\begin{aligned} 39x - 75x - 51x + 45x &= -20 + 30 + 36 - 60 \\ -42x &= -14 \\ x &= \frac{14}{42} = \frac{1}{3}. \text{ R.} \end{aligned}$$

Suprimiendo  $18x^2$  en ambos miembros y transponiendo:

(3) Resolver  $\frac{2x-5}{2x-6} + \frac{2(x-1)}{x-3} = \frac{3}{8} + \frac{3(2x-15)}{4x-12}$ .

Hallemos el m. c. m. de los denominadores:

$$\begin{aligned} 2x-6 &= 2(x-3) \\ x-3 &= (x-3) \\ 8 &= 8 \\ 4x-12 &= 4(x-3) \end{aligned} \quad \text{m. c. m.: } 8(x-3).$$

Dividiendo  $8(x-3)$  entre la descomposición de cada denominador y multiplicando los cocientes por los numeradores, tendremos:

$$\begin{aligned} 4(2x-5) + 16(x-1) &= 3(x-3) + 6(2x-15) \\ 8x-20+16x-16 &= 3x-9+12x-90 \\ 8x+16x-3x-12x &= 20+16-9-90 \\ 9x &= -63 \\ x &= -7. \text{ R.} \end{aligned}$$

(4) Resolver  $\frac{x-2}{x^2+2x-3} - \frac{x+1}{x^2-9} = \frac{4}{x^2-4x+3}$ .

Hallemos el m. c. m. de los denominadores:

$$\begin{aligned} x^2+2x-3 &= (x+3)(x-1) \\ x^2-9 &= (x+3)(x-3) \text{ m. c. m.: } (x-1)(x+3)(x-3) \\ x^2-4x+3 &= (x-3)(x-1) \end{aligned}$$

Dividiendo  $(x-1)(x+3)(x-3)$  entre la descomposición de cada denominador y multiplicando cada cociente por el numerador respectivo, tendremos:

$$\begin{aligned} (x-2)(x-3) - (x+1)(x-1) &= 4(x-3)(x-1) \\ x^2-5x+6 - (x^2-1) &= 4x-4 \\ x^2-5x+6-x^2+1 &= 4x-4 \end{aligned}$$

$$\begin{aligned} -5x-4x &= -6-1+12 \\ -9x &= 5 \\ x &= -\frac{5}{9}. \text{ R.} \end{aligned}$$

Suprimiendo las  $x^2$  y transponiendo: →

## ERJERCICIO 142

Resolver las siguientes ecuaciones:

1.  $\frac{3}{5} + \frac{3}{2x-1} = 0$ .

2.  $\frac{2}{4x-1} = \frac{3}{4x+1}$ .

3.  $\frac{5}{x^2-1} = \frac{1}{x-1}$ .

4.  $\frac{3}{x+1} - \frac{1}{x^2-1} = 0$ .

5.  $\frac{5x+8}{3x+4} = \frac{5x+2}{3x-4}$ .

6.  $\frac{10x^2-5x+8}{5x^2+9x-19} = 2$ .

7.  $\frac{1}{3x-3} + \frac{1}{4x+4} = \frac{1}{12x-12}$ .

8.  $\frac{x}{4} - \frac{x^2-8x}{4x-5} = \frac{7}{4}$ .

9.  $\frac{2x-9}{10} + \frac{2x-3}{2x-1} = \frac{x}{5}$ .

10.  $\frac{(3x-1)^2}{x-1} = \frac{18x-1}{2}$ .

11.  $\frac{2x+7}{5x+2} - \frac{2x-1}{5x-4} = 0$ .

12.  $\frac{(5x-2)(7x+3)}{7x(5x-1)} - 1 = 0$ .

13.  $\frac{3}{x-4} = \frac{2}{x-3} + \frac{8}{x^2-7x+12}$ .

14.  $\frac{6x-1}{18} - \frac{3(x+2)}{5x-6} = \frac{1+3x}{9}$ .

15.  $\frac{5}{1+x} - \frac{3}{1-x} - \frac{6}{1-x^2} = 0$ .

16.  $\frac{1+2x}{1+3x} - \frac{1-2x}{1-3x} = \frac{3x-14}{1-9x^2}$ .

17.  $\frac{3x-1}{x^2+7x+12} = \frac{1}{2x+6} + \frac{7}{6x+24}$ .

18.  $\frac{1}{(x-1)^2} - \frac{3}{2x-2} = -\frac{3}{2x+2}$ .

19.  $\frac{5x+13}{15} - \frac{4x+5}{5x-15} = \frac{x}{3}$ .

20.  $\frac{2x-1}{2x+1} - \frac{x-4}{3x-2} = \frac{2}{3}$ .

21.  $\frac{4x+3}{2x-5} - \frac{3x+8}{3x-7} = 1$ .

22.  $\frac{10x-7}{15x+3} = \frac{3x+8}{12} - \frac{5x^2-4}{20x+4}$ .

23.  $\frac{4x-1}{5} + \frac{x-2}{2x-7} = \frac{8x-3}{10} - \frac{1}{10}$ .

24.  $\frac{1}{x-1} - \frac{2}{x-2} = \frac{3}{2x-2} - \frac{2}{2x-4}$ .



$$25. \frac{1}{x+3} - \frac{2}{5x-20} = \frac{14}{3x-12} - \frac{2}{x+3}$$

$$26. \frac{1}{6-2x} - \frac{4}{5-5x} = \frac{10}{12-4x} - \frac{3}{10-10x}$$

$$27. \frac{2}{3} - \frac{6x^2}{9x^2-1} = \frac{2}{3x-1}$$

$$31. 2\left(\frac{x+2}{x-2}\right) - 3\left(\frac{x-2}{2x+3}\right) = \frac{x^2+78}{2x^2-x-6}$$

$$32. \frac{1}{x^2+3x-28} - \frac{1}{x^2+12x+35} = \frac{3}{x^2+x-20}$$

$$33. \frac{x-2}{x^2+8x+7} = \frac{2x-5}{x^2-49} - \frac{x-2}{x^2-6x-7}$$

$$34. \frac{4x+5}{15x^2+7x-2} - \frac{2x+3}{12x^2-7x-10} - \frac{2x-5}{20x^2-29x+5} = 0$$

$$35. \frac{7}{2x+1} - \frac{3}{x+4} = \frac{2}{x+1} - \frac{3(x+1)}{2x^2+9x+4}$$

$$36. \frac{(x+3)^2}{(x-3)^2} = \frac{x-1}{x^2+1} + \frac{2(7x+1)}{x^2-2x-3}$$

$$37. \frac{x-4}{x+5} - \frac{x+1}{x-2} = -\frac{12(x+3)}{(x+5)^2}$$

$$38. \frac{x-3}{x-4} - \frac{x-2}{x-3} = \frac{x+2}{x+1} - \frac{x+3}{x+2}$$

$$39. \frac{x+6}{x+2} - \frac{x+1}{x-3} = \frac{x-5}{x-1} - \frac{x}{x+4}$$

$$28. \frac{5x^2-27x}{5x+3} - \frac{1}{x} = x-6$$

$$29. \frac{4x+1}{4x-1} - \frac{6}{16x^2-1} = \frac{4x-1}{4x+1}$$

$$30. 3\left(\frac{x-1}{x+1}\right) + 2\left(\frac{x+1}{x-4}\right) = \frac{5x(x-1)}{x^2-3x-4}$$



**NICOLAS DE TARTAGLIA (1499-1557)** Nacido en Brescia, fue uno de los más destacados matemáticos del siglo XVI. Sostuvo una polémica con Cardano sobre quién fue el primero en descubrir la solución de las ecuaciones cúbicas y cuárticas.

**JERONIMO CARDANO (1501-1576)** Natural de Pavia, era filósofo, médico y matemático. Los riadores le atribuyen el haberle arrebatado a Tartaglia la fórmula para resolver las ecuaciones cúbicas y cuárticas, pero esto no le resta mérito al

## CAPITULO XV

### ECUACIONES LITERALES DE PRIMER GRADO CON UNA INCOGNITA

**217 ECUACIONES LITERALES** son ecuaciones en las que algunos o todos los coeficientes de las incógnitas o las cantidades conocidas que figuran en la ecuación están representados por letras.

Estas letras suelen ser  $a, b, c, d, m$  y  $n$  según costumbre, representando  $x$  la incógnita.

Las ecuaciones literales de primer grado con una incógnita se resuelven aplicando las mismas reglas que hemos empleado en las ecuaciones numéricas.

### 218 RESOLUCION DE ECUACIONES LITERALES ENTERAS

#### Ejemplos

(1) Resolver la ecuación  $a(x+a) - x = a(a+1) + 1$ .

Efectuando las operaciones indicadas:  $ax + a^2 - x = a^2 + a + 1$

Transponiendo:  $ax - x = a^2 + a + 1 - a^2$

Reduciendo términos semejantes:  $ax - x = a + 1$

Factorando:  $x(a-1) = a+1$

Despejando  $x$ , para lo cual dividimos ambos miembros por  $(a-1)$ , queda:

$$x = \frac{a+1}{a-1} \quad R.$$



(2) Resolver la ecuación  $x(3-2b)-1=x(2-3b)-b^2$ .

Efectuando las operaciones indicadas:  $3x-2bx-1=2x-3bx-b^2$ .

Transponiendo:  $3x-2bx-2x+3bx=1-b^2$ .

Reduciendo términos semejantes:  $x+bx=1-b^2$ .

Factorando ambos miembros:  $x(1+b)=(1+b)(1-b)$ .

Dividiendo ambos miembros por  $(1+b)$ , queda:  $x=1-b$ . R.

### ● EJERCICIO 143

Resolver las siguientes ecuaciones:

1.  $x+1=1$ .
2.  $x-4=bx-2$ .
3.  $x+b^2=a^2-bx$ .
4.  $(2a-x)+ax=a^2+9$ .
5.  $(x+b)+x(b-a)=2b(2a-x)$ .
6.  $(x-a)^2-(x+a)^2=a(a-7x)$ .
7.  $x-a(a+b)=-x-(1+ab)$ .
8.  $(a-x)-b^2(x-b)=b^2(x-b)$ .
9.  $x+a(x-b)-(x+b)(x-2a)$ .
10.  $b(a-2)+3a$ .
11.  $m(n-x)-m(n-1)=m(mx-a)$ .
12.  $x-a+2=2ax-3(a+x)-2(a-5)$ .
13.  $a(x-a)-2bx=b(b-2a-x)$ .
14.  $ax+bx=(x+a-b)^2-(x-2b)(x+2a)$ .
15.  $x(a+b)-3-a(a-2)=2(x-1)-x(a-b)$ .
16.  $(m+4x)(3m+x)=(2x-m)^2+m(15x-m)$ .
17.  $a^2(a-x)-a^2(a+1)-b^2(b-x)-b(1-b^2)+a(1+a)=0$ .
18.  $(ax-b)^2=(bx-a)(a+x)-x^2(b-a^2)+a^2+b(1-2b)$ .
19.  $(x+b)^2-(x-a)^2-(a+b)^2=0$ .
20.  $(x+m)^2-12m^2=-(x-m)^2+2x^3$ .

### 219 RESOLUCION DE ECUACIONES LITERALES FRACCIONARIAS

#### Ejemplos

(1) Resolver la ecuación  $\frac{x}{2m}-\frac{3-3mx}{m^2}-\frac{2x}{m}=0$ .

Hay que suprimir denominadores. El m. c. m. de los denominadores es  $2m^2$ . Dividiendo  $2m^2$  entre cada denominador y multiplicando cada cociente por el numerador respectivo, tendremos:  $mx-2(3-3mx)-2m(2x)=0$ .

Efectuando las operaciones indicadas:  $mx-6+6mx-4mx=0$ .

Transponiendo:  $mx+6mx-4mx=6$

$$3mx=6$$

Dividiendo por 3:  $mx=2$

$$x=\frac{2}{m}$$

R.

(2) Resolver  $\frac{a-1}{x-a}-\frac{2a(a-1)}{x^2-a^2}=-\frac{2a}{x+a}$ .

El m. c. m. de los denominadores es  $x^2-a^2=(x+a)(x-a)$ . Dividiendo  $x^2-a^2$  entre cada denominador y multiplicando cada cociente por el numerador respectivo, tendremos:  $(a-1)(x+a)-2a(a-1)=-2a(x-a)$ .

Efectuando las operaciones indicadas:  $ax-x+a^2-a-2a^2+2a=-2ax+2a^2$ .

Transponiendo:  $ax-x+2ax=-a^2+a+2a^2-2a+2a^2$ .

Reduciendo:  $3ax-x=3a^2-a$ .

Factorando ambos miembros:  $x(3a-1)=a(3a-1)$ .

Dividiendo ambos miembros por  $(3a-1)$  queda, finalmente:


$$x=a. \text{ R.}$$

### ➤ EJERCICIO 144

Resolver las siguientes ecuaciones:

1.  $\frac{m}{x}-\frac{1}{m}=\frac{2}{m}$ .
2.  $\frac{a}{x}+\frac{b}{2}=\frac{4a}{x}$ .
3.  $\frac{x}{2a}-\frac{1-x}{a^2}=\frac{1}{2a}$ .
4.  $\frac{m}{x}+\frac{n}{m}=\frac{n}{x}+1$ .
5.  $\frac{a-1}{a}+\frac{1}{2}=\frac{3a-2}{x}$ .
6.  $\frac{a-x}{a}-\frac{b-x}{b}=\frac{2(a-b)}{ab}$ .
7.  $\frac{x-3a}{a^2}-\frac{2a-x}{ab}=-\frac{1}{a}$ .
8.  $\frac{x+m}{m}-\frac{x+n}{n}=\frac{m^2+n^2}{mn}-2$ .
9.  $\frac{x-b}{a}=2-\frac{x-a}{b}$ .
10.  $\frac{4x}{2a+b}-3=-\frac{3}{2}$ .
11.  $\frac{2a+3x}{x+a}=\frac{2(6x-a)}{4x+a}$ .
12.  $\frac{2(x-c)}{4x-b}=\frac{2x+c}{4(x-b)}$ .
13.  $\frac{1}{n}-\frac{m}{x}=\frac{1}{mn}-\frac{1}{x}$ .
14.  $\frac{(x-2b)(2x+a)}{(x-a)(a-2b+x)}=2$ .
15.  $\frac{x+m}{x-n}=\frac{n+x}{m+x}$ .
16.  $\frac{x(2x+3b)(x+b)}{x+3b}=2x^2-bx+b^2$ .
17.  $\frac{3}{4}\left(\frac{x}{b}+\frac{x}{a}\right)=\frac{1}{3}\left(\frac{x}{b}-\frac{x}{a}\right)+\frac{5a+13b}{12a}$ .
18.  $\frac{x+a}{3}=\frac{(x-b)^2}{3x-a}+\frac{3ab-3b^2}{9x-3a}$ .
19.  $\frac{5x+a}{3x+b}=\frac{5x-b}{3x-a}$ .
20.  $\frac{x+a}{x-a}-\frac{x-a}{x+a}=\frac{a(2x+ab)}{x^2-a^2}$ .
21.  $\frac{2x-3a}{x+4a}-2=\frac{11a}{x^2-16a^2}$ .
22.  $\frac{1}{x+a}+\frac{x^2}{a^2+ax}=\frac{x+a}{a}$ .
23.  $\frac{2(a+x)}{b}-\frac{3(b+x)}{a}=\frac{6(a^2-2b^2)}{ab}$ .
24.  $m(n-x)-(m-n)(m+x)=n^2-\frac{1}{n}(2mn^2-3m^3)$ .





**VIETE (1540-1603)** Este político y matemático tenía como pasatiempo favorito las matemáticas. Puede considerarse como el fundador del álgebra moderna. Logró la total liberación de esta de las limitaciones aritméticas, al introducir

la notación algebraica. Dio las fórmulas para la solución de las ecuaciones de sexto grado. Fue Consejero Privado de Enrique IV de Francia. Hizo del Álgebra una ciencia puramente simbólica, y completó el desarrollo de la Trigonometría de Ptolomeo.

## CAPITULO

## XVII

### PROBLEMAS SOBRE ECUACIONES FRACCIONARIAS DE PRIMER GRADO

**220** La suma de la tercera y la cuarta parte de un número equivale al duplo del número disminuido en 17. Hallar el número.

Sea  $x =$  el número.

Tendremos:  $\frac{x}{3} =$  la tercera parte del número.

$\frac{x}{4} =$  la cuarta parte del número.

$2x =$  duplo del número.

De acuerdo con las condiciones del problema, tendremos la ecuación:

$$\frac{x}{3} + \frac{x}{4} = 2x - 17.$$

Resolviendo:

$$4x + 3x = 24x - 204$$

$$4x + 3x - 24x = -204$$

$$-17x = -204$$

$$x = \frac{204}{17} = 12, \text{ el número buscado. R.}$$

### ■ EJERCICIO 145

- Hallar el número que disminuido en sus  $\frac{3}{5}$  equivale a su duplo disminuido en 11.
- Hallar el número que aumentado en sus  $\frac{5}{6}$  equivale a su triplo disminuido en 14.
- ¿Qué número hay que restar de 22 para que la diferencia equivalga a la mitad de 22 aumentada en los  $\frac{n}{6}$  del número que se resta?
- ¿Cuál es el número que tiene 30 de diferencia entre sus  $\frac{5}{4}$  y sus  $\frac{7}{8}$ ?
- El exceso de un número sobre 17 equivale a la diferencia entre los  $\frac{3}{5}$  y  $\frac{1}{6}$  del número. Hallar el número.
- La suma de la quinta parte de un número con los  $\frac{8}{9}$  del número excede en 49 al doble de la diferencia entre  $\frac{1}{6}$  y  $\frac{1}{12}$  del número. Hallar el número.
- La edad de B es los  $\frac{3}{5}$  de la de A, y si ambas edades se suman, la suma excede en 4 años al doble de la edad de B. Hallar ambas edades.
- B tiene los  $\frac{7}{8}$  de lo que tiene A. Si A recibe \$90, entonces tiene el doble de lo que tiene B ahora. ¿Cuánto tiene cada uno?
- Después de vender los  $\frac{n}{5}$  de una pieza de tela quedan 40 m. ¿Cuál era la longitud de la pieza?
- Después de gastar  $\frac{1}{3}$  y  $\frac{1}{8}$  de lo que tenía me quedan 39 bolívares. ¿Cuánto tenía?
- El triplo de un número excede en 48 al tercio del mismo número. Hallar el número.
- El cuádruplo de un número excede en 19 a la mitad del número aumentada en 30. Hallar el número.
- El exceso de 80 sobre la mitad de un número equivale al exceso del número sobre 10. Hallar el número.
- Hallar el número cuyos  $\frac{7}{8}$  excedan a sus  $\frac{4}{9}$  en 2.
- El largo de un buque que es 800 pies excede en 744 pies a los  $\frac{8}{9}$  del ancho. Hallar el ancho.

**221** Hallar tres números enteros consecutivos tales que la suma de los  $\frac{2}{11}$  del mayor con los  $\frac{2}{9}$  del número intermedio equivalga al número menor disminuido en 8.

Sea  $x =$  número menor.

Entonces  $x + 1 =$  número intermedio.

$x + 2 =$  número mayor.



Los  $\frac{2}{13}$  del número mayor serán  $\frac{2}{13}(x+2)$ .

Los  $\frac{2}{3}$  del número intermedio serán  $\frac{2}{3}(x+1)$ .

El menor disminuido en 8 será  $x-8$ .

De acuerdo con las condiciones del problema, tendremos la ecuación:  $\frac{2}{13}(x+2) + \frac{2}{3}(x+1) = x-8$ .

$$\begin{aligned}\text{Resolviendo: } \frac{2(x+2)}{13} + \frac{2(x+1)}{3} &= x-8 \\ 6(x+2) + 26(x+1) &= 39(x-8) \\ 6x + 12 + 26x + 26 &= 39x - 312 \\ 6x + 26x - 39x &= -12 - 26 - 312 \\ -7x &= -350 \\ x &= 50\end{aligned}$$

Si  $x = 50$ ,  $x+1 = 51$  y  $x+2 = 52$ ; luego, los números buscados son 50, 51 y 52. R.

#### EJERCICIO 146

1. Hallar dos números consecutivos tales que los  $\frac{4}{5}$  del mayor equivalgan al menor disminuido en 4.
2. Hallar dos números consecutivos tales que los  $\frac{7}{8}$  del menor excedan en 17 a los  $\frac{3}{5}$  del mayor.
3. Hallar dos números consecutivos tales que el menor exceda en 81 a la diferencia entre los  $\frac{3}{4}$  del menor y los  $\frac{2}{5}$  del mayor.
4. Se tienen dos números consecutivos tales que la suma de  $\frac{1}{5}$  del mayor con  $\frac{1}{33}$  del menor excede en 8 a los  $\frac{3}{20}$  del mayor. Hallar los números.
5. La diferencia de los cuadrados de dos números pares consecutivos es 324. Hallar los números.
6. A tiene \$1 más que B. Si B gastara \$8, tendría \$4 menos que los  $\frac{4}{5}$  de lo que tiene A. ¿Cuánto tiene cada uno?
7. Hoy gané \$1 más que ayer, y lo que he ganado en los dos días es \$25 más que los  $\frac{2}{5}$  de lo que gané ayer. ¿Cuánto gané hoy y cuánto ayer?
8. Hallar tres números consecutivos tales que si el menor se divide entre 20, el mediano entre 27 y el mayor entre 41 la suma de los cocientes es 9.
9. Hallar tres números consecutivos tales que la suma de los  $\frac{8}{5}$  del menor con los  $\frac{5}{6}$  del mayor exceda en 31 al del medio.

10. Se tienen tres números consecutivos tales que la diferencia entre los  $\frac{3}{7}$  del mediano y los  $\frac{3}{10}$  del menor excede en 1 a  $\frac{1}{11}$  del mayor. Hallar los números.
11. A tiene 2 años más que B y éste 2 años más que C. Si las edades de B y C se suman, esta suma excede en 12 años a los  $\frac{7}{8}$  de la edad de A. Hallar las edades respectivas.
12. A tiene 1 año menos que B y B 1 año menos que C. Si del cuadrado de la edad de C se resta el cuadrado de la edad de B la diferencia es 4 años menos que los  $\frac{17}{5}$  de la edad de A. Hallar las edades respectivas.

- 222 La suma de dos números es 77, y si el mayor se divide por el menor, el cociente es 2 y el residuo 8. Hallar los números.

Sea  $x = \text{el número mayor.}$

Entonces  $77 - x = \text{el número menor.}$

De acuerdo con las condiciones del problema, al dividir el mayor  $x$  entre el menor  $77 - x$  el cociente es 2 y el residuo 8, pero si al dividendo  $x$  le restamos el residuo 8, entonces la división de  $x-8$  entre  $77-x$  es exacta y da de cociente 2; luego, tendremos la ecuación:

$$\begin{aligned}\text{Resolviendo: } x-8 &= 2(77-x) \\ x-8 &= 154-2x \\ 3x &= 162 \\ x &= \frac{162}{3} = 54, \text{ número mayor}\end{aligned}$$

Si el número mayor es 54, el menor será  $77 - x = 77 - 54 = 23$ . Luego, los números buscados son 54 y 23. R.

#### EJERCICIO 147

1. La suma de dos números es 59, y si el mayor se divide por el menor, el cociente es 2 y el residuo 5. Hallar los números.
2. La suma de dos números es 436, y si el mayor se divide por el menor, el cociente es 2 y el residuo 73. Hallar los números.
3. La diferencia de dos números es 44, y si el mayor se divide por el menor, el cociente es 3 y el residuo 2. Hallar los números.
4. Un número excede a otro en 56. Si el mayor se divide por el menor, el cociente es 3 y el residuo 8. Hallar los números.
5. Dividir 260 en dos partes tales que el duplo de la mayor dividido entre el triplo de la menor dé 2 de cociente y 40 de residuo.
6. Repartir 196 soles entre A y B de modo que si los  $\frac{3}{8}$  de la parte de A se dividen entre el quinto de la de B se obtiene 1 de cociente y 16 de residuo.



**223** En tres días un hombre ganó 185 sucres. Si cada día ganó los  $\frac{3}{4}$  de lo que ganó el día anterior, ¿cuánto ganó en cada uno de los tres días?

Sea  $x =$  lo que ganó el 1<sup>er</sup> día.

El 2<sup>o</sup> día ganó los  $\frac{3}{4}$  de lo que ganó el 1<sup>er</sup> día, o sea los  $\frac{3}{4}$  de  $x$ ; luego  $\frac{3x}{4} =$  lo que ganó el 2<sup>o</sup> día.

El 3<sup>er</sup> día ganó los  $\frac{3}{4}$  de lo que ganó el 2<sup>o</sup> día, o sea los  $\frac{3}{4}$  de  $\frac{3x}{4} = \frac{9x}{16}$ ; luego  $\frac{9x}{16} =$  lo que ganó el 3<sup>er</sup> día.

Como entre los 3 días ganó 185 sucres, tendremos la ecuación:

$$x + \frac{3x}{4} + \frac{9x}{16} = 185.$$

Resolviendo:  $16x + 12x + 9x = 2960$

$$37x = 2960$$

$$x = \frac{2960}{37}$$

$= 80$  sucres, lo que ganó el primer día. R.

$$\text{El 2º día ganó: } \frac{3x}{4} = \frac{3 \times 80}{4} = 60 \text{ sucres. R.}$$

$$\text{El 3º día ganó: } \frac{9x}{16} = \frac{9 \times 80}{16} = 45 \text{ sucres. R.}$$

#### ● EJERCICIO 148

- En tres días un hombre ganó \$175. Si cada día ganó la mitad de lo que ganó el día anterior, ¿cuánto ganó cada día?
- El jueves perdí los  $\frac{5}{6}$  de lo que perdí el miércoles y el viernes los  $\frac{5}{6}$  de lo que perdí el jueves. Si en los tres días perdí \$252, ¿cuánto perdí cada día?
- B tiene  $\frac{2}{3}$  de lo que tiene A y C  $\frac{3}{5}$  de lo que tiene B. Si entre los tres tienen 248 sucres, ¿cuánto tiene cada uno?
- La edad de B es los  $\frac{3}{5}$  de la de A y la de C los  $\frac{3}{8}$  de la de B. Si las tres edades suman 73 años, hallar las edades respectivas.
- En 4 días un hombre recorrió 120 Km. Si cada día recorrió  $\frac{1}{9}$  de lo que recorrió el día anterior, ¿cuántos Km recorrió en cada día?
- En cuatro semanas un avión recorrió 4641 Km. Si cada semana recorrió los  $\frac{11}{10}$  de lo que recorrió la semana anterior, ¿cuántos Km recorrió en cada semana?

7. Una herencia de 330500 colones se ha repartido entre cinco personas. La segunda recibe la mitad de lo que recibe la primera; la tercera  $\frac{1}{4}$  de lo que recibe la segunda; la cuarta  $\frac{1}{2}$  de lo que recibe la tercera y la quinta  $\frac{1}{10}$  de lo que recibe la cuarta. ¿Cuánto recibió cada persona?

8. Un hombre viajó 9362 Km por barco, tren y avión. Por tren recorrió los  $\frac{4}{9}$  de lo que recorrió en barco y en avión los  $\frac{5}{8}$  de lo que recorrió en tren. ¿Cuántos Km recorrió de cada modo?

**224** A tenía cierta suma de dinero. Gastó \$30 en libros y los  $\frac{3}{4}$  de lo que le quedaba después del gasto anterior en ropa. Si le quedan \$30, ¿cuánto tenía al principio?

Sea  $x =$  lo que tenía al principio.

Después de gastar \$30 en libros, le quedaron  $\$(x - 30)$ .

En ropa gastó  $\frac{3}{4}$  de lo que le quedaba, o sea  $\frac{3}{4}(x - 30)$ .

Como aún le quedan \$30, la diferencia entre lo que le quedaba después del primer gasto,  $x - 30$ , y lo

que gastó en ropa,  $\frac{3}{4}(x - 30)$ , será igual a \$30; luego, tenemos la ecuación:

$$x - 30 - \frac{3}{4}(x - 30) = 30$$

$$\begin{aligned} \text{Resolviendo: } x - 30 - \frac{3(x - 30)}{4} &= 30 \\ 4x - 120 - 3(x - 30) &= 120 \\ 4x - 120 - 3x + 90 &= 120 \\ 4x - 3x &= 120 + 120 - 90 \\ x &= 150. \end{aligned}$$

Luego, A tenía al principio \$150. R.

#### ● EJERCICIO 149

- Tenía cierta suma de dinero. Gasté \$20 y presté los  $\frac{2}{3}$  de lo que me quedaba. Si ahora tengo \$10, ¿cuánto tenía al principio?
- Después de gastar la mitad de lo que tenía y de prestar la mitad de lo que me quedó, tengo 21 quetzales. ¿Cuánto tenía al principio?
- Tengo cierta suma de dinero. Si me pagan \$7 que me deben, puedo gastar los  $\frac{4}{5}$  de mi nuevo capital y me quedaran \$20. ¿Cuánto tengo ahora?
- Gasté los  $\frac{2}{3}$  de lo que tenía y presté los  $\frac{5}{6}$  de lo que me quedó. Si aún tengo 500 bolívares, ¿cuánto tenía al principio?
- Los  $\frac{4}{5}$  de las aves de una granja son palomas; los  $\frac{3}{4}$  del resto gallinas y las 4 aves restantes gallos. ¿Cuántas aves hay en la granja?



6. Gasté los  $\frac{4}{5}$  de lo que tenía; perdí los  $\frac{2}{3}$  de lo que me quedó; se me perdieron 8 soles y me quedé sin nada. ¿Cuánto tenía al principio?
7. Tenía cierta suma. Gasté  $\frac{5}{12}$  de lo que tenía; cobré \$42 que me debían y ahora tengo \$2 más que al principio. ¿Cuánto tenía al principio?
8. Después de gastar la mitad de lo que tenía y \$15 más, me quedan \$30. ¿Cuánto tenía al principio?
9. Gasté los  $\frac{3}{4}$  de lo que tenía y después recibí 1300 sucres. Si ahora tengo 100 sucres más que al principio, ¿cuánto tenía al principio?
10. Tenía cierta suma. Gasté los  $\frac{1}{4}$  en trajes y los  $\frac{2}{5}$  de lo que me quedó en libros. Si lo que tengo ahora es \$38 menos que los  $\frac{2}{5}$  de lo que tenía al principio, ¿cuánto tenía al principio?

**225** La edad actual de A es la mitad de la de B, y hace 10 años la edad de A era los  $\frac{3}{7}$  de la edad de B. Hallar las edades actuales.

Sea  $x = \text{edad actual de A.}$

Si la edad actual de A es la mitad de la de B, la edad actual de B es doble de la de A; luego,  $2x = \text{edad actual de B.}$

Hace 10 años, cada uno tenía  $x - 10 = \text{edad de A hace 10 años.}$   
 10 años menos que ahora; luego,  $2x - 10 = \text{edad de B hace 10 años.}$

Según las condiciones del problema, la edad de A hace 10 años,  $x - 10$ , era los  $\frac{3}{7}$  de la edad de B hace 10 años, o sea  $\frac{3}{7}$  de  $2x - 10$ ; luego, tendremos la ecuación:  $x - 10 = \frac{3}{7}(2x - 10).$

Resolviendo:  $7x - 70 = 6x - 30$

$$7x - 6x = 70 - 30$$

$$x = 40 \text{ años, edad actual de A. R.}$$

$$2x = 80 \text{ años, edad actual de B. R.}$$

**226** Hace 10 años la edad de A era los  $\frac{3}{5}$  de la edad que tendrá dentro de 20 años. Hallar la edad actual de A.

Sea  $x = \text{edad actual de A.}$

Hace 10 años la edad de A era  $x - 10$ .

Dentro de 20 años la edad de A será  $x + 20$ .

Según las condiciones, la edad de A hace 10 años,  $x - 10$ , era los  $\frac{3}{5}$  de la edad que tendrá dentro de 20 años, es decir, los  $\frac{3}{5}$  de  $x + 20$ ; luego, tenemos la ecuación  $x - 10 = \frac{3}{5}(x + 20)$

Resolviendo:  $5x - 50 = 3x + 60$

$$2x = 110$$

$$x = \frac{110}{2} = 55 \text{ años, edad actual de A. R.}$$

### ■ EJERCICIO 150

1. La edad de A es  $\frac{1}{3}$  de la de B y hace 15 años la edad de A era  $\frac{1}{6}$  de la de B. Hallar las edades actuales.
2. La edad de A es el triplo de la de B y dentro de 20 años será el doble. Hallar las edades actuales.
3. La edad de A hace 5 años era los  $\frac{2}{11}$  de la edad que tendrá dentro de 5 años. Hallar la edad actual de A.
4. Hace 6 años la edad de A era la mitad de la edad que tendrá dentro de 24 años. Hallar la edad actual de A.
5. La edad de un hijo es  $\frac{1}{3}$  de la edad de su padre y dentro de 16 años será la mitad. Hallar las edades actuales.
6. La edad de un hijo es los  $\frac{2}{3}$  de la de su padre y hace 8 años la edad del hijo era los  $\frac{2}{7}$  de la edad del padre. Hallar las edades actuales.
7. La suma de las edades actuales de A y B es 65 años y dentro de 10 años la edad de B será los  $\frac{5}{12}$  de la de A. Hallar las edades actuales.
8. La diferencia de las edades de un padre y su hijo es 25 años. Hace 15 años la edad del hijo era los  $\frac{3}{8}$  de la del padre. Hallar las edades actuales.
9. Hace 10 años la edad de un padre era doble que la de su hijo y dentro de 10 años la edad del padre será los  $\frac{3}{2}$  de la del hijo. Hallar las edades actuales.
10. A tiene 18 años más que B. Hace 18 años la edad de A era los  $\frac{5}{2}$  de la de B. Hallar las edades actuales.
11. La edad de A es el triplo de la de B y hace 4 años la suma de ambas edades era igual a la que tendrá B dentro de 16 años. Hallar las edades actuales.

**227** A tiene doble dinero que B. Si A le da a B 34 soles, A tendrá los  $\frac{5}{11}$  de lo que tenga B. ¿Cuánto tiene cada uno?

Sea  $x = \text{lo que tiene B.}$

Entonces  $2x = \text{lo que tiene A.}$

Si A le da a B 34 soles, A se queda con  $2x - 34$  soles y B tendrá entonces  $x + 34$  soles.



Según las condiciones del problema, cuando  $A$  le da a  $B$  34 soles, lo que le queda a  $A$ ,  $2x - 34$  soles, es los  $\frac{5}{11}$  de lo que tiene  $B$ , o sea, los  $\frac{5}{11}$  de  $x + 34$  soles; luego, tenemos la ecuación

$$2x - 34 = \frac{5}{11}(x + 34).$$

Resolviendo:

$$22x - 374 = 5x + 170$$

$$22x - 5x = 374 + 170$$

$$17x = 544$$

$$x = \frac{544}{17} = 32 \text{ soles, lo que tiene } B. \quad R.$$

$$2x = 64 \text{ soles, lo que tiene } A. \quad R.$$

### EJERCICIO 151

- $A$  tiene doble dinero que  $B$ . Si  $A$  le diera a  $B$  20 bolívares, tendría los  $\frac{4}{6}$  de lo que tendría  $B$ . ¿Cuánto tiene cada uno?
- $A$  tiene la mitad de lo que tiene  $B$ , pero si  $B$  le da a  $A$  24 colones, ambos tendrán lo mismo. ¿Cuánto tiene cada uno?
- $B$  tiene el doble de lo que tiene  $A$ , pero si  $B$  le da a  $A$  \$6,  $A$  tendrá los  $\frac{8}{5}$  de lo que le quede a  $B$ . ¿Cuánto tiene cada uno?
- $B$  tiene los  $\frac{3}{5}$  de lo que tiene  $A$ . Si  $B$  le gana a  $A$  \$30,  $B$  tendrá los  $\frac{9}{5}$  de lo que le quede a  $A$ . ¿Cuánto tiene cada uno?
- $A$  y  $B$  empiezan a jugar con igual suma de dinero. Cuando  $A$  ha perdido 30 sucres tiene la mitad de lo que tiene  $B$ . ¿Con cuánto empezó a jugar cada uno?
- $A$  y  $B$  empiezan a jugar teniendo  $B$  los  $\frac{2}{3}$  de lo que tiene  $A$ . Cuando  $B$  ha ganado \$22 tiene los  $\frac{7}{5}$  de lo que le queda a  $A$ . ¿Con cuánto empezó a jugar cada uno?
- $A$  tiene los  $\frac{4}{5}$  de lo que tiene  $B$ . Si  $A$  gana \$13 y  $B$  pierde \$5, ambos tendrían lo mismo. ¿Cuánto tiene cada uno?
- $B$  tiene la mitad de lo que tiene  $A$ . Si  $B$  le gana a  $A$  una suma igual a  $\frac{1}{3}$  de lo que tiene  $A$ ,  $B$  tendrá \$5 más que  $A$ . ¿Cuánto tiene cada uno?
- $A$  y  $B$  empiezan a jugar con igual suma de dinero. Cuando  $B$  ha perdido los  $\frac{3}{5}$  del dinero con que empezó a jugar,  $A$  ha ganado 24 balboas. ¿Con cuánto empezaron a jugar?
- $A$  y  $B$  empiezan a jugar con igual suma de dinero. Cuando  $B$  ha perdido los  $\frac{3}{4}$  del dinero con que empezó a jugar, lo que ha ganado  $A$  es 24 soles más que la tercera parte de lo que le queda a  $B$ . ¿Con cuánto empezaron a jugar?

- 228 Un padre tiene 40 años y su hijo 15. ¿Dentro de cuántos años la edad del hijo será los  $\frac{4}{9}$  de la del padre?

Sea  $x$  el número de años que tiene que pasar para que la edad del hijo sea los  $\frac{4}{9}$  de la del padre.

Dentro de  $x$  años, la edad del padre será  $40 + x$  años, y la del hijo,  $15 + x$  años.

Según las condiciones del problema, la edad del hijo dentro de  $x$  años,  $15 + x$ , será los  $\frac{4}{9}$  de la edad del padre dentro de  $x$  años, o sea los  $\frac{4}{9}$  de  $40 + x$ ; luego, tenemos la ecuación:

$$15 + x = \frac{4}{9}(40 + x)$$

Resolviendo:

$$135 + 9x = 160 + 4x$$

$$5x = 25$$

$$x = 5.$$

Dentro de 5 años.  $R.$

### EJERCICIO 152

- $A$  tiene 38 años y  $B$  28 años. ¿Dentro de cuántos años la edad de  $B$  será los  $\frac{5}{4}$  de la de  $A$ ?
- $B$  tiene 25 años y  $A$  30. ¿Dentro de cuántos años la edad de  $A$  será los  $\frac{7}{6}$  de la edad de  $B$ ?
- $A$  tiene 52 años y  $B$  48. ¿Cuántos años hace que la edad de  $B$  era los  $\frac{9}{10}$  de la de  $A$ ?
- Rosa tiene 27 años y María 18. ¿Cuántos años hace que la edad de María era  $\frac{1}{4}$  de la de Rosa?
- Enrique tiene \$60 y Ernesto \$22. Si ambos reciben una misma suma de dinero, Ernesto tiene los  $\frac{8}{5}$  de lo de Enrique. ¿Cuál es esa suma?
- Pedro tenía Q 90 y su hermano Q 50. Ambos gastaron igual suma y ahora el hermano de Pedro tiene los  $\frac{3}{11}$  de lo que tiene Pedro. ¿Cuánto gastó cada uno?
- Una persona tiene los  $\frac{3}{4}$  de la edad de su hermano. Dentro de un número de años igual a la edad actual del mayor, la suma de ambas edades será 75 años. Hallar las edades actuales.
- $A$  tenía \$54 y  $B$  \$32. Ambos ganaron una misma cantidad de dinero y la suma de lo que tienen ambos ahora excede en \$66 al cuádruplo de lo que ganó cada uno. ¿Cuánto ganó cada uno?
- $A$  tenía 153 bolívares y  $B$  12.  $A$  le dio a  $B$  cierta suma y ahora  $A$  tiene  $\frac{1}{4}$  de lo que tiene  $B$ . ¿Cuánto le dio  $A$  a  $B$ ?



- 229** La longitud de un rectángulo excede al ancho en 8 m. Si cada dimensión se aumenta en 3 metros, el área se aumentaría en 57 m<sup>2</sup>. Hallar las dimensiones del rectángulo.

Sea  $x = \text{ancho del rectángulo}$ .

Entonces  $x + 8 = \text{longitud del rectángulo}$ .

Como el área de un rectángulo se obtiene multiplicando su longitud por su ancho, tendremos:  $x(x + 8) = \text{área del rectángulo dado}$ .

Si cada dimensión se aumenta en 3 metros, el ancho será ahora  $x + 3$  metros y la longitud  $(x + 8) + 3 = x + 11$  metros.

El área será ahora  $(x + 3)(x + 11)$  m<sup>2</sup>.

Según las condiciones, esta nueva superficie  $(x + 3)(x + 11)$  m<sup>2</sup> tiene 57 m<sup>2</sup> más que la superficie del rectángulo dado  $x(x + 8)$ ; luego, se tiene la ecuación:  $(x + 3)(x + 11) - 57 = x(x + 8)$ .

Resolviendo:  $x^2 + 14x + 33 - 57 = x^2 + 8x$

$$14x - 8x = 57 - 33$$

$$6x = 24$$

$$x = 4 \text{ m, ancho del rectángulo dado R.}$$

$$x + 8 = 12 \text{ m, longitud del rectángulo dado. R.}$$

### ■ EJERCICIO 153

- La longitud de un rectángulo excede al ancho en 3 m. Si cada dimensión se aumenta en 1 m la superficie se aumenta en 22 m<sup>2</sup>. Hallar las dimensiones del rectángulo.
- Una de las dimensiones de una sala rectangular es el doble de la otra. Si cada dimensión se aumenta en 5 m el área se aumentaría en 160 m<sup>2</sup>. Hallar las dimensiones del rectángulo.
- Una dimensión de un rectángulo excede a la otra en 2 m. Si ambas dimensiones se disminuyen en 5 m el área se disminuye en 115 m<sup>2</sup>. Hallar las dimensiones del rectángulo.
- La longitud de un rectángulo excede en 24 m al lado del cuadrado equivalente al rectángulo y su ancho es 12 m menos que el lado de dicho cuadrado. Hallar las dimensiones del rectángulo.
- La longitud de un rectángulo es 7 m mayor y su ancho 6 m menor que el lado del cuadrado equivalente al rectángulo. Hallar las dimensiones del rectángulo.
- La longitud de un campo rectangular excede a su ancho en 30 m. Si la longitud se disminuye en 20 m y el ancho se aumenta en 15 m, el área se disminuye en 150 m<sup>2</sup>. Hallar las dimensiones del rectángulo.
- La longitud de una sala excede a su ancho en 10 m. Si la longitud se disminuye en 2 m y el ancho se aumenta en 1 m el área no varía. Hallar las dimensiones de la sala.

- 230** El denominador de una fracción excede al numerador en 5. Si el denominador se aumenta en 7, el valor de la fracción es  $\frac{1}{2}$ . Hallar la fracción.

Sea  $x = \text{numerador de la fracción}$ .

Como el denominador excede al numerador en 5:  $x + 5 = \text{denominador de la fracción}$ .

La fracción será, por lo tanto,  $\frac{x}{x + 5}$ .

Según las condiciones, si el denominador de esta fracción se aumenta en 7, la fracción equivale a  $\frac{1}{2}$ ; luego, tendremos la ecuación:  $\frac{x}{x + 5 + 7} = \frac{1}{2}$ .

Resolviendo:

$$\frac{x}{x + 12} = \frac{1}{2}$$

$$2x = x + 12$$

$$x = 12, \text{ numerador de la fracción.}$$

$$x + 5 = 17, \text{ denominador de la fracción.}$$

Luego, la fracción buscada es  $\frac{12}{17}$ . R.

### ■ EJERCICIO 154

- El numerador de una fracción excede al denominador en 2. Si el denominador se aumenta en 7 el valor de la fracción es  $\frac{1}{2}$ . Hallar la fracción.
- El denominador de una fracción excede al numerador en 1. Si el denominador se aumenta en 15, el valor de la fracción es  $\frac{1}{3}$ . Hallar la fracción.
- El numerador de una fracción es 8 unidades menor que el denominador. Si a los dos términos de la fracción se suma 1 el valor de la fracción es  $\frac{3}{4}$ . Hallar la fracción.
- El denominador de una fracción excede al duplo del numerador en 1. Si al numerador se resta 4, el valor de la fracción es  $\frac{1}{3}$ . Hallar la fracción.
- El denominador de una fracción excede al duplo del numerador en 6. Si el numerador se aumenta en 15 y el denominador se disminuye en 1, el valor de la fracción es  $\frac{4}{5}$ . Hallar la fracción.
- El denominador de una fracción excede al numerador en 1. Si al denominador se añade 4, la fracción que resulta es 2 unidades menor que el triplo de la fracción primitiva. Hallar la fracción.
- El denominador de una fracción es 1 menos que el triplo del numerador. Si el numerador se aumenta en 8 y el denominador en 4 el valor de la fracción es  $\frac{11}{12}$ . Hallar la fracción.
- El numerador de una fracción excede al denominador en 22. Si al numerador se resta 15, la diferencia entre la fracción primitiva y la nueva fracción es 3. Hallar la fracción primitiva.



- 231 La cifra de las decenas de un número de dos cifras excede en 3 a la cifra de las unidades, y si el número se divide por la suma de sus cifras, el cociente es 7. Hallar el número.

Sea  $x =$  la cifra de las unidades.

Entonces  $x + 3 =$  la cifra de las decenas.

El número se obtiene multiplicando por 10 la cifra de las decenas y sumándole la cifra de las unidades; luego:

$$10(x + 3) + x = 10x + 30 + x = 11x + 30 = \text{el número.}$$

Según las condiciones, el número  $11x + 30$  dividido por la suma de sus cifras, o sea por  $x + x + 3 = 2x + 3$ , da de cociente 7; luego, tenemos la ecuación:

$$\frac{11x + 30}{2x + 3} = 7.$$

Resolviendo:  $11x + 30 = 14x + 21$

$$11x - 14x = -30 + 21$$

$$-3x = -9$$

$$x = 3, \text{ la cifra de las unidades.}$$

$$x + 3 = 6, \text{ la cifra de las decenas.}$$

Luego, el número buscado es 63. R.

### ● EJERCICIO 155

- La cifra de las decenas de un número de dos cifras excede a la cifra de las unidades en 2. Si el número se divide entre la suma de sus cifras, el cociente es 7. Hallar el número.
- La cifra de las unidades de un número de dos cifras excede en 4 a la cifra de las decenas y si el número se divide por la suma de sus cifras el cociente es 4. Hallar el número.
- La cifra de las decenas de un número de dos cifras es el duplo de la cifra de las unidades y si el número, disminuido en 9, se divide por la suma de sus cifras el cociente es 6. Hallar el número.
- La cifra de las decenas de un número de dos cifras excede en 1 a la cifra de las unidades. Si el número se multiplica por 3 este producto equivale a 21 veces la suma de sus cifras. Hallar el número.
- La suma de la cifra de las decenas y la cifra de las unidades de un número de dos cifras es 7. Si el número, aumentado en 8, se divide por el duplo de la cifra de las decenas el cociente es 6. Hallar el número.
- La cifra de las decenas de un número de dos cifras excede en 2 a la cifra de las unidades y el número excede en 27 a 10 veces la cifra de las unidades. Hallar el número.
- La cifra de las decenas de un número de dos cifras es el duplo de la cifra de las unidades, y si el número disminuido en 4 se divide por la diferencia entre la cifra de las decenas y la cifra de las unidades el cociente es 20. Hallar el número.

- 232 A puede hacer una obra en 3 días y B en 5 días. ¿En cuánto tiempo pueden hacer la obra trabajando los dos juntos?

Sea  $x$  el número de días que tardarían en hacer la obra trabajando los dos juntos.

Si en  $x$  días los dos juntos hacen toda la obra, en 1 día harán  $\frac{1}{x}$  de la obra.

A, trabajando solo, hace la obra en 3 días; luego, en un día hace  $\frac{1}{3}$  de la obra.

B, trabajando solo, hace la obra en 5 días; luego, en un día hace  $\frac{1}{5}$  de la obra.

Los dos juntos harán en un día  $(\frac{1}{3} + \frac{1}{5})$  de la obra; pero como en un día los dos hacen  $\frac{1}{x}$  de la obra, tendremos:

$$\frac{1}{3} + \frac{1}{5} = \frac{1}{x}$$

Resolviendo:  $5x + 3x = 15$

$$8x = 15$$

$$x = \frac{15}{8} = 1\frac{7}{8} \text{ días. R.}$$

### ● EJERCICIO 156

- A puede hacer una obra en 3 días y B en 6 días. ¿En cuánto tiempo pueden hacer la obra los dos trabajando juntos?
- Una llave puede llenar un depósito en 10 minutos y otra en 20 minutos. ¿En cuánto tiempo pueden llenar el depósito las dos llaves juntas?
- A puede hacer una obra en 4 días, B en 6 días y C en 12 días. ¿En cuánto tiempo pueden hacer la obra los tres juntos?
- A puede hacer una obra en  $1\frac{1}{2}$  días, B en 6 días y C en  $2\frac{2}{5}$  días. ¿En cuánto tiempo harán la obra los tres juntos?
- Una llave puede llenar un depósito en 5 minutos, otra en 6 minutos y otra en 12 minutos. ¿En cuánto tiempo llenarán el depósito las tres llaves abiertas al mismo tiempo?
- Una llave puede llenar un depósito en 4 minutos, otra llave en 8 minutos y un desagüe puede vaciarlo, estando lleno, en 20 minutos. ¿En cuánto tiempo se llenará el depósito, si estando vacío y abierto el desagüe se abren las dos llaves?

- 233 ¿A qué hora entre las 4 y las 5 están opuestas las agujas del reloj?

En los problemas sobre el reloj, el alumno debe hacer siempre un gráfico como el adjunto.

En el gráfico está representada la posición del horario y el minuterio a las 4. Después representamos la posición de ambas agujas cuando están opuestas, el horario en C y el minuterio en D.



FIGURA 20



Mientras el minutero da una vuelta completa al reloj, 60 divisiones de minuto, el horario avanza de una hora a la siguiente, 5 divisiones de minuto, o sea  $\frac{1}{12}$  de lo que ha recorrido el minutero; luego, el horario avanza siempre  $\frac{1}{12}$  de las divisiones que avanza el minutero.

Sea  $x$  = el número de divisiones de 1 minuto del arco  $ABCD$  que ha recorrido el minutero hasta estar opuesto al horario.

Entonces  $\frac{x}{12}$  = número de divisiones de 1 minuto del arco  $BC$  que ha recorrido el horario.

En la figura 20 se ve que el arco  $ABCD = x$  equivale al arco  $AB = 20$  divisiones de 1 minuto, más el arco  $BC = \frac{x}{12}$ , más el arco  $CD = 30$  divisiones de 1 minuto; luego, tendremos la ecuación:

$$x = 20 + \frac{x}{12} + 30.$$

Resolviendo:

$$x = 50 + \frac{x}{12}$$

$$12x = 600 + x$$

$$11x = 600$$

$$x = \frac{600}{11} = 54\frac{6}{11} \text{ divisiones de 1 minuto.}$$

Luego, entre las 4 y las 5 las manecillas del reloj están opuestas a las 4 y  $54\frac{6}{11}$  minutos. R.

**234** ¿A qué hora, entre las 5 y las 6, las agujas del reloj forman ángulo recto?

Entre las 5 y las 6 las agujas están en ángulo recto en 2 posiciones: una, antes de que el minutero pase sobre el horario, y otra, después.

1) Antes de que el minutero pase sobre el horario.

A las 5 el horario está en  $C$  y el minutero en  $A$ . Representemos la posición en que forman ángulo recto antes de pasar el minutero sobre el horario: el minutero en  $B$  y el horario en  $D$  (figura 21).

Sea  $x$  = el arco  $AB$  que ha recorrido el minutero; entonces  $\frac{x}{12}$  = el arco  $CD$  que ha recorrido el horario.



FIGURA 21

En la figura adjunta se ve que: arco  $AB$  + arco  $BD$  = arco  $AC$  + arco  $CD$ , pero arco  $AB = x$ , arco  $BD = 15$ , arco  $AC = 25$  y arco  $CD = \frac{x}{12}$ ; luego:

$$x + 15 = 25 + \frac{x}{12}$$

Resolviendo:

$$12x + 180 = 300 + x$$

$$11x = 120$$

$$x = \frac{120}{11} = 10\frac{10}{11} \text{ divisiones de 1 minuto.}$$

Luego, estarán en ángulo recto por primera vez a las 5 y  $10\frac{10}{11}$  minutos. R.

2) Después que el minutero ha pasado sobre el horario.

A las 5 el horario está en  $B$  y el minutero en  $A$ . Después de pasar el minutero sobre el horario, cuando forman ángulo recto, el horario está en  $C$  y el minutero en  $D$ .

Sea  $x$  = el arco  $ABCD$  que ha recorrido el minutero;  $\frac{x}{12}$  = el arco  $BC$  que ha recorrido el horario.

En la figura se ve que: arco  $ABCD$  = arco  $AB$  + arco  $BC$  + arco  $CD$ , o sea,

$$x = 25 + \frac{x}{12} + 15.$$

Resolviendo:

$$12x = 300 + x + 180$$

$$11x = 480$$

$$x = \frac{480}{11} = 43\frac{7}{11} \text{ divisiones de 1 minuto.}$$

Luego, formarán ángulo recto por segunda vez a las 5 y  $43\frac{7}{11}$  minutos. R.



FIGURA 22

### ■ EJERCICIO 157

1. ¿A qué hora, entre la 1 y las 2, están opuestas las agujas del reloj?
2. ¿A qué horas, entre las 10 y las 11, las agujas del reloj forman ángulo recto?
3. ¿A qué hora, entre las 8 y las 9, están opuestas las agujas del reloj?
4. ¿A qué hora, entre las 12 y la 1, están opuestas las agujas del reloj?
5. ¿A qué hora, entre las 2 y las 3, forman ángulo recto las agujas del reloj?
6. ¿A qué hora, entre las 4 y las 5, coinciden las agujas del reloj?



7. ¿A qué horas, entre las 6 y las 7, las agujas del reloj forman ángulo recto?
8. ¿A qué hora, entre las 10 y las 11, coinciden las agujas del reloj?
9. ¿A qué hora, entre las 7 y las 7 y 30, están en ángulo recto las agujas del reloj?
10. ¿A qué hora, entre las 3 y las 4, el minutero dista exactamente 5 divisiones del horario, después de haberlo pasado?
11. ¿A qué horas, entre las 8 y las 9, el minutero dista exactamente del horario 10 divisiones?

### ■ EJERCICIO 158

#### MISCELANEA

#### SOBRE PROBLEMAS QUE SE RESUELVEN POR ECUACIONES DE 1.º GRADO

1. La diferencia de dos números es 6 y la mitad del mayor excede en 10 a los  $\frac{3}{8}$  del menor. Hallar los números.
2. A tenía \$120 y B \$90. Después que A le dio a B cierta suma, B tiene los  $\frac{11}{10}$  de lo que le queda a A. ¿Cuánto le dio A a B?
3. Un número se aumentó en 6 unidades; esta suma se dividió entre 8; al cociente se le sumó 5 y esta nueva suma se dividió entre 2, obteniendo 4 de cociente. Hallar el número.
4. Se ha repartido una herencia de 48000 soles entre dos personas de modo que la parte de la que recibió menos equivale a los  $\frac{5}{7}$  de la parte de la persona favorecida. Hallar la parte de cada uno.
5. Dividir 84 en dos partes tales que  $\frac{1}{10}$  de la parte mayor equivalga a  $\frac{1}{4}$  de la menor.
6. Dividir 120 en dos partes tales que la menor sea a la mayor como 3 es a 5.
7. Un hombre gasta la mitad de su sueldo mensual en el alquiler de la casa y alimentación de su familia y  $\frac{3}{8}$  del sueldo en otros gastos. Al cabo de 15 meses ha ahorrado \$300. ¿Cuál es su sueldo mensual?
8. Un hombre gastó  $\frac{1}{5}$  de lo que tenía en ropa;  $\frac{3}{8}$  en libros; prestó \$102 a un amigo y se quedó sin nada. ¿Cuánto gastó en ropa y cuánto en libros?
9. La edad de B es  $\frac{2}{5}$  de la de A y la de C  $\frac{3}{5}$  de la de B. Si entre los tres tienen 25 años, ¿cuál es la edad de cada uno?
10. Vendí un automóvil por 8000 bolívares más la tercera parte de lo que me había costado, y en esta operación gané 2000 bolívares. ¿Cuánto me había costado el auto?
11. Compré cierto número de libros a 2 por \$5 y los vendí a 2 por \$7, ganando en esta operación \$8. ¿Cuántos libros compré?
12. Compré cierto número de libros a 4 por \$3 y un número de libros igual a los  $\frac{3}{4}$  del número de libros anterior a 10 por \$7. Vendiéndolos todos a 2 por \$3 gané \$54. ¿Cuántos libros compré?

13. Dividir 150 en cuatro partes, tales que la segunda sea los  $\frac{6}{5}$  de la primera; la tercera los  $\frac{3}{5}$  de la segunda y la cuarta  $\frac{1}{9}$  de la tercera.
14. ¿A qué hora, entre las 9 y las 10 coinciden las agujas del reloj?
15. A es 10 años mayor que B y hace 15 años la edad de B era los  $\frac{3}{4}$  de la de A. Hallar las edades actuales.
16. A y B trabajando juntos hacen una obra en 6 días. B solo puede hacerla en 10 días. ¿En cuántos días puede hacerla A?
17. Dividir 650 en dos partes tales que si la mayor se divide entre 5 y la menor se disminuye en 50, los resultados son iguales.
18. La edad actual de A es  $\frac{1}{4}$  de la de B; hace 10 años era  $\frac{1}{10}$ . Hallar las edades actuales.
19. Hallar dos números consecutivos tales que la diferencia de sus cuadrados exceda en 43 a  $\frac{1}{11}$  del número menor.
20. Un capataz contrata un obrero ofreciéndole un sueldo anual de 3000 sucres y una sortija. Al cabo de 7 meses el obrero es despedido y recibe 1500 sucres y la sortija. ¿Cuál era el valor de la sortija?
21. Una suma de \$120 se reparte por partes iguales entre cierto número de personas. Si el número de personas hubiera sido  $\frac{1}{6}$  más de las que había, cada persona hubiera recibido \$2 menos. ¿Entre cuántas personas se repartió el dinero?
22. Un hombre compró cierto número de libros por \$400. Si hubiera comprado  $\frac{1}{4}$  más del número de libros que compró por el mismo dinero, cada libro le habría costado \$2 menos. ¿Cuántos libros compró y cuánto pagó por cada uno?
23. Se ha repartido cierta suma entre A, B y C. A recibió \$30 menos que la mitad de la suma; B \$20 más que los  $\frac{3}{7}$  de la suma y C el resto, que eran \$30. ¿Cuánto recibieron A y B?
24. Compré cierto número de libros a 5 libros por \$6. Me quedé con  $\frac{1}{4}$  de los libros y vendiendo el resto a 4 libros por \$9 gané \$9. ¿Cuántos libros compré?
25. Un hombre dejó la mitad de su fortuna a sus hijos;  $\frac{1}{4}$  a sus hermanos;  $\frac{1}{6}$  a un amigo y el resto, que eran 2500 colones, a un asilo. ¿Cuál era su fortuna?
26. Un padre de familia gasta los  $\frac{8}{5}$  de su sueldo anual en atenciones de su casa;  $\frac{1}{5}$  en ropa,  $\frac{1}{20}$  en pasajes y ahorra 810 balboas al año. ¿Cuál es su sueldo anual?
27. Un hombre gastó el año antepasado los  $\frac{3}{8}$  de sus ahorros; el año pasado  $\frac{5}{12}$  de sus ahorros iniciales; este año  $\frac{3}{6}$  de lo que le quedaba y aún tiene \$400. ¿A cuánto ascendían sus ahorros?



28. Dividir 350 en dos partes, tales que la diferencia entre la parte menor y los  $\frac{8}{5}$  de la mayor equivalga a la diferencia entre la parte mayor y los  $\frac{17}{10}$  de la menor.
29. Se ha repartido cierta suma entre  $A$ ,  $B$  y  $C$ .  $A$  recibió \$15;  $B$  tanto como  $A$  más los  $\frac{2}{3}$  de lo que recibió  $C$  y  $C$  tanto como  $A$  y  $B$  juntos? ¿Cuál fue la suma repartida?
30. Tengo \$9.60 en pesos, piezas de 20 centavos y 10 centavos respectivamente. El número de piezas de 20 centavos es los  $\frac{3}{4}$  del número de pesos y el número de piezas de 10 centavos es los  $\frac{2}{3}$  del número de piezas de 20 centavos. ¿Cuántas monedas de cada clase tengo?
31. Un comerciante perdió el primer año  $\frac{1}{5}$  de su capital; el segundo año ganó una cantidad igual a los  $\frac{3}{10}$  de lo que le quedaba; el tercer año ganó los  $\frac{3}{5}$  de lo que tenía al terminar el segundo año y entonces tiene 13312 quetzales. ¿Cuál era su capital primitivo?
32.  $A$  y  $B$  tienen la misma edad. Si  $A$  tuviera 10 años menos y  $B$  5 años más, la edad de  $A$  sería los  $\frac{2}{3}$  de la de  $B$ . Hallar la edad de  $A$ .
33. Un comandante dispone sus tropas formando un cuadrado y ve que le quedan fuera 36 hombres. Entonces pone un hombre más en cada lado del cuadrado y ve que le faltan 75 hombres para completar el cuadrado. ¿Cuántos hombres había en el lado del primer cuadrado y cuántos hombres hay en la tropa?
34. Gasté los  $\frac{5}{8}$  de lo que tenía y \$20 más y me quedé con la cuarta parte de lo que tenía y \$16 más. ¿Cuánto tenía?
35.  $A$  empieza a jugar con cierta suma. Primero ganó una cantidad igual a lo que tenía al empezar a jugar; después perdió 60 lempiras; más tarde perdió  $\frac{3}{10}$  de lo que le quedaba y perdiendo nuevamente una cantidad igual a los  $\frac{7}{8}$  del dinero con que empezó a jugar, se quedó sin nada. ¿Con cuánto empezó a jugar?
36. Un número de dos cifras excede en 18 a seis veces la suma de sus cifras. Si la cifra de las decenas excede en 5 a la cifra de las unidades, ¿cuál es el número?
37. La suma de las cifras de un número menor que 100 es 9. Si al número se le resta 27 las cifras se invierten. Hallar el número.
38. En un puesto de frutas había cierto número de mangos. Un cliente compró  $\frac{1}{3}$  de los mangos que había más 4 mangos; otro cliente compró  $\frac{1}{5}$  de los que quedaban y 6 más, un tercer cliente compró la mitad de los que quedaban y 9 más, y se acabaron los mangos. ¿Cuántos mangos había en el puesto?
39.  $A$  tenía \$80 y  $B$  \$50. Ambos ganaron igual suma de dinero y ahora  $B$  tiene los  $\frac{7}{10}$  de lo que tiene  $A$ . ¿Cuánto ganó cada uno?

40. Compré una pluma y un lapicero, pagando por éste los  $\frac{3}{5}$  de lo que pagué por la pluma. Si la pluma me hubiera costado 20 cts. menos y el lapicero 30 cts. más, el precio del lapicero habría sido los  $\frac{5}{6}$  del precio de la pluma. ¿Cuánto costó la pluma y cuánto el lapicero?
41. El lunes gasté la mitad de lo que tenía y \$2 más; el martes la mitad de lo que me quedaba y \$2 más; el miércoles la mitad de lo que me quedaba y \$2 más y me quedé sin nada. ¿Cuánto tenía el lunes antes de gastar nada?
42. Un hombre ganó el primer año de sus negocios una cantidad igual a la mitad del capital con que empezó sus negocios y gastó \$6000; el 2º año ganó una cantidad igual a la mitad de lo que tenía y separó \$6000 para gastos; el 3er. año ganó una cantidad igual a la mitad de lo que tenía y separó \$6000 para gastos. Si su capital es entonces de \$32250, ¿cuál era su capital primitivo?
43. Un hombre compró un bastón, un sombrero y un traje. Por el bastón pagó \$15. El sombrero y el bastón le costaron los  $\frac{3}{4}$  del precio del traje y el traje y el bastón \$5 más que el doble del sombrero. ¿Cuánto le costó cada cosa?
44. Un conejo es perseguido por un perro. El conejo lleva una ventaja inicial de 50 de sus saltos al perro. El conejo da 5 saltos mientras el perro da 2, pero el perro en 3 saltos avanza tanto como el conejo en 8 saltos. ¿Cuántos saltos debe dar el perro para alcanzar al conejo?
45. Una liebre lleva una ventaja inicial de 60 de sus saltos a un perro. La liebre da 4 saltos mientras el perro da 3, pero el perro en 5 saltos avanza tanto como la liebre en 8. ¿Cuántos saltos debe dar el perro para alcanzar a la liebre?
46. ¿A qué hora, entre las 10 y las 11, está el minutero exactamente a 6 minutos del horario?
47.  $A$  y  $B$  emprenden un negocio aportando  $B$  los  $\frac{3}{4}$  del capital que aporta  $A$ . El primer año  $A$  pierde  $\frac{1}{5}$  de su capital y  $B$  gana 3000 bolívares; el segundo año  $A$  gana 1600 bolívares y  $B$  pierde  $\frac{1}{9}$  de su capital. Si al final del segundo año ambos socios tienen el mismo dinero, ¿con cuánto emprendió cada uno el negocio?
48. Un padre tiene 60 años y sus dos hijos 16 y 14 años. ¿Dentro de cuántos años la edad del padre será igual a la suma de las edades de los hijos?
49. Un hombre que está en una ciudad dispone de 12 horas libres. ¿Qué distancia podrá recorrer hacia el campo en un auto que va a 50 Km por hora si el viaje de vuelta debe hacerlo en un caballo que anda 10 Km por hora?
50. Compré un caballo, un perro y un buey. El buey me costó \$80. El perro y el buey me costaron el doble que el caballo y el caballo y el buey me costaron  $6\frac{1}{2}$  veces lo que el perro. ¿Cuánto me costó el caballo y cuánto el perro?



## 235 PROBLEMA DE LOS MOVILES



FIGURA 23

Sean los móviles  $m$  y  $m'$  animados de movimiento uniforme, es decir, que la velocidad de cada uno es constante, los cuales se mueven en la misma dirección y en el mismo sentido, de izquierda a derecha, como indican las flechas.

Suponemos que el móvil  $m$  pasa por el punto  $A$  en el mismo instante en que el móvil  $m'$  pasa por el punto  $B$ . Designemos por  $a$  la distancia entre el punto  $A$  y el punto  $B$ .

Sea  $v$  la velocidad del móvil  $m$  y  $v'$  la velocidad del móvil  $m'$  y supongamos que  $v > v'$ .

Se trata de hallar a qué distancia del punto  $A$  el móvil  $m$  alcanzará al móvil  $m'$ .

Sea el punto  $E$  el punto de encuentro de los móviles. Llamemos  $x$  a la distancia del punto  $A$  al punto  $E$  (que es lo que se busca); entonces la distancia del punto  $B$  al punto  $E$  será  $x - a$ .

El móvil  $m$  pasa por  $A$  en el mismo instante en que  $m'$  pasa por  $B$  y  $m$  alcanza a  $m'$  en  $E$ ; luego, es evidente que el tiempo que emplea el móvil  $m$  en ir desde  $A$  hasta  $E$  es igual al tiempo que emplea el móvil  $m'$  en ir desde  $B$  hasta  $E$ . Como el movimiento de los móviles es uniforme, el tiempo es igual al espacio partido por la velocidad; luego:

El tiempo empleado por el móvil  $m$  en ir desde  $A$  hasta  $E$  será igual al espacio que tiene que recorrer  $x$  partido por su velocidad  $v$ , o sea  $\frac{x}{v}$ .

El tiempo empleado por el móvil  $m'$  en ir desde  $B$  hasta  $E$  será igual al espacio que tiene que recorrer  $x - a$  partido por su velocidad  $v'$ , o sea  $\frac{x-a}{v'}$ . Pero, según se dijo antes, estos tiempos son iguales; luego, tenemos la ecuación:

Resolviendo:

$$\begin{aligned} v'x &= v(x-a) \\ v'x &= vx - av \\ v'x - vx &= -av \end{aligned}$$

$$\frac{x}{v} = \frac{x-a}{v'}$$

Cambiando signos a todos los términos:  $vx - v'x = av$

$$x(v - v') = av$$

$$x = \frac{av}{v - v'}$$

fórmula que da la distancia del punto  $A$  al punto de encuentro  $E$  en función de  $a$ , la distancia entre  $A$  y  $B$ , cantidad conocida y de las velocidades  $v$  y  $v'$  de los móviles, también conocidas.

## DISCUSION

La discusión de esta fórmula  $x = \frac{av}{v - v'}$  consiste en saber qué valores toma  $x$  de acuerdo con los valores de  $a$ ,  $v$  y  $v'$  en cuya función viene dada  $x$ .

Consideraremos cinco casos, observando la figura:

1)  $V > V'$ . El numerador  $av$  es positivo y el denominador  $v - v'$  es positivo por ser el minuendo  $v$  mayor que el sustraendo  $v'$ ; luego,  $x$  es positiva, lo que significa que el móvil  $m$  alcanza al móvil  $m'$  en un punto situado a la derecha de  $B$ .

2)  $V < V'$ . El numerador  $av$  es positivo y el denominador  $v - v'$  es negativo por ser el minuendo  $v$  menor que el sustraendo  $v'$ ; luego,  $x$  es negativa, lo que significa que los móviles, si se encontraron, fué en un punto situado a la izquierda de  $A$ , y a partir de ese momento, como la velocidad de  $m$  es menor que la de  $m'$ , éste se apartó cada vez más de  $m$ , hallándose ahora a una distancia  $a$  de él, distancia que continuará aumentando.

3)  $V = V'$ . La fórmula  $x = \frac{av}{v - v'}$  se convierte en  $x = \frac{av}{0} = \infty$ , lo que significa que los móviles se encuentran en el infinito; así se expresa el hecho de mantenerse siempre a la misma distancia  $a$ , ya que la velocidad de  $m$  es igual a la velocidad de  $m'$ .

4)  $V = V'$  y  $a = 0$ . La fórmula se convierte en  $x = \frac{0 \times v}{v - v} = \frac{0}{0} = \text{valor indeterminado}$ , lo que significa que la distancia del punto  $A$  al punto de encuentro es cualquiera. En efecto, siendo  $a = 0$ , los puntos  $A$  y  $B$  coinciden; luego, los móviles están juntos y como sus velocidades son iguales, a cualquier distancia de  $A$  estarán juntos.

5)  $V'$  es negativa. (El móvil  $m'$  va de derecha a izquierda). La fórmula se convierte en  $x = \frac{av}{v - (-v')} = \frac{av}{v + v'}$ . El numerador es positivo y el denominador también; luego  $x$  es positiva, pero menor que  $a$ . En efecto: La fracción  $\frac{av}{v + v'}$ , que es el valor de  $x$ , puede escribirse  $a\left(\frac{v}{v + v'}\right)$ , donde el factor  $\frac{v}{v + v'}$  es una fracción menor que 1 por tener el numerador menor que el denominador y al multiplicar  $a$  por una



cantidad menor que 1, el producto será menor que  $a$ . Que  $x$  es positiva y menor que  $a$  significa que los móviles se encuentran en un punto situado a la derecha de  $A$  y que este punto dista de  $A$  una distancia menor que  $a$ , o sea, que el punto de encuentro se halla entre  $A$  y  $B$ .

Si en la hipótesis de que  $v'$  es negativa suponemos que  $v = v'$ , la fórmula se convierte en

$$x = \frac{av}{v - (-v)} = \frac{av}{v + v} = \frac{av}{2v} = \frac{a}{2}$$

o sea, que el punto de encuentro es precisamente el punto medio de la línea  $AB$ .

### 236 APLICACION PRACTICA DEL PROBLEMA DE LOS MOVILES

#### Ejemplos

- (1) Un auto que va a 60 Km por hora pasa por el punto  $A$  en el mismo instante en que otro auto que va a 40 Km por hora pasa por el punto  $B$ , situado a la derecha de  $A$  y que dista de  $A$  80 Km. Ambos siguen la misma dirección y van en el mismo sentido. ¿A qué distancia de  $A$  se encontrarán?

La fórmula es  $x = \frac{av}{v - v'}$ . En este caso

$a = 80$  Km,  $v = 60$  Km por hora,  $v' = 40$  Km por hora, luego:

$$x = \frac{80 \times 60}{60 - 40} = \frac{4800}{20} = 240 \text{ Km}$$

Luego se encontrarán en un punto situado a 240 Km a la derecha de  $A$ . R.

Para hallar el tiempo que tardan en encontrarse no hay más que dividir el espacio por la velocidad. Si el punto de encuentro está a 240 Km de  $A$  y el auto que consideramos en  $A$  iba a 60 Km por hora, para alcanzar al otro necesita:

$$\frac{240 \text{ Km}}{60 \text{ Km por hora}} = 4 \text{ horas.}$$

- (2) Un auto pasa por la ciudad  $A$  hacia la ciudad  $B$  a 40 Km por hora y en el mismo instante otro auto pasa por  $B$  hacia  $A$  a 35 Km por hora. La distancia entre  $A$  y  $B$  es 300 Km. ¿A qué distancia de  $A$  y  $B$  se encontrarán y cuánto tiempo después del instante de pasar por ellos? En este caso  $a = 300$  Km,  $v = 40$  Km por hora,  $v' = 35$  Km por hora y como van uno hacia el otro,  $v'$  es negativa, luego:

$$x = \frac{av}{v - (-v')} = \frac{av}{v + v'} = \frac{300 \times 40}{40 + 35} = \frac{12000}{75} = 160 \text{ Km}$$

Se encuentra a 160 Km de la ciudad  $A$ . R.

La distancia del punto de encuentro a la ciudad  $B$  será  $300 \text{ Km} - 160 \text{ Km} = 140 \text{ Km}$ . R.

El tiempo empleado en encontrarse ha sido  $\frac{160}{40} = 4$  horas. R.

### EJERCICIO 159

- Un corredor que parte de  $A$  da una ventaja de 30 m a otro que parte de  $B$ . El 1º hace 8 m por segundo y el 2º 5 m por seg. ¿A qué distancia de  $A$  se encontrarán?
- Dos autos parten de  $A$  y  $B$  distantes entre sí 160 Km y van uno hacia el otro. El que parte de  $A$  va a 50 Km por hora y el que parte de  $B$  a 30 Km por hora. ¿A qué distancia de  $A$  se encontrarán?
- Un tren que va a 90 Km por hora pasa por  $A$  en el mismo instante en que otro que va a 40 Km pasa por  $B$ , viniendo ambos hacia  $C$ . Distancia entre  $A$  y  $B$ : 200 Km. ¿A qué distancias de  $A$  y  $B$  se encontrarán?
- Un auto que va a 90 Km pasa por  $A$  en el mismo instante en que otro auto que va a 70 Km pasa por  $B$  y ambos van en el mismo sentido. ¿Qué tiempo tardarán en encontrarse si  $B$  dista de  $A$  80 Km?
- Un tren que va a 100 Km por hora pasa por  $A$  en el mismo instante que otro tren que va a 120 Km por hora pasa por  $B$  y van uno hacia el otro.  $A$  dista de  $B$  550 Km. ¿A qué distancia de  $A$  se encontrarán y a qué hora si los trenes pasan por  $A$  y  $B$  a las 8 a.m.?
- Dos personas,  $A$  y  $B$ , distantes entre sí 70 Km, parten en el mismo instante y van uno hacia el otro.  $A$  va a 9 Km. por hora y  $B$  a 5 Km por hora. ¿Qué distancia ha andado cada uno cuando se encuentran?
- Dos personas,  $A$  y  $B$ , distantes entre sí 29½ Km parten,  $B$ , media hora después que  $A$  y van uno hacia el otro.  $A$  va a 5 Km por hora y  $B$  a 4 Km por hora. ¿Qué distancia ha recorrido cada uno cuando se cruzan?
- Un tren de carga que va a 42 Km por hora es seguido 3 horas después por un tren de pasajeros que va a 60 Km por hora. ¿En cuántas horas el tren de pasajeros alcanzará al de carga y a qué distancia del punto de partida?
- Dos autos que llevan la misma velocidad pasan en el mismo instante por dos puntos,  $A$  y  $B$ , distantes entre sí 186 Km y van uno hacia el otro. ¿A qué distancia de  $A$  y  $B$  se encontrarán?





JOHN NEPER (1550-1617) Rico terrateniente escocés; era Barón de Merchiston. Logró convertirse en uno de los más geniales matemáticos ingleses, al darse en sus ratos de ocio al cultivo de los números. Introdujo el punto decimal para separar las cifras de-

cimales de las enteras. Al observar las relaciones entre las progresiones aritméticas y geométricas descubrió el principio que rige a los logaritmos. Entre Neper y Bürgi surgió una discusión acerca de quién había sido el primero en trabajar con los logaritmos.

## CAPITULO XVIII

### FORMULAS

**237 FORMULA** es la expresión de una ley o de un principio general por medio de símbolos o letras.

Así, la Geometría enseña que el área de un triángulo es igual a la mitad del producto de su base por su altura. Llamando  $A$  al área de un triángulo,  $b$  a la base y  $h$  a la altura, este principio general se expresa exacta y brevemente por la fórmula

$$A = \frac{b \times h}{2}$$

que nos sirve para hallar el área de cualquier triángulo con sólo sustituir  $b$  y  $h$  por sus valores concretos en el caso dado. Así, si la base de un triángulo es 8 m y su altura 3 m, su área será:

$$A = \frac{8 \times 3}{2} = 12 \text{ m}^2$$

**238 USO Y VENTAJA DE LAS FORMULAS ALGEBRAICAS**

Las fórmulas algebraicas son usadas en las ciencias, como Geometría, Física, Mecánica, etc., y son de enorme utilidad como apreciará el alumno en el curso de sus estudios.

La utilidad y ventaja de las fórmulas algebraicas es muy grande:

- 1) Porque expresan brevemente una ley o un principio general.
- 2) Porque son fáciles de recordar.
- 3) Porque su aplicación es muy fácil,

pues para resolver un problema por medio de la fórmula adecuada, basta sustituir las letras por sus valores en el caso dado. 4) Porque una fórmula nos dice la relación que existe entre las variables que en ella intervienen, pues según se ha probado en Aritmética, la variable cuyo valor se da por medio de una fórmula es directamente proporcional con las variables (factores) que se hallan en el numerador del segundo miembro e inversamente proporcional con las que se hallan en el denominador, si las demás permanecen constantes.

### 239 TRADUCCION DE UNA FORMULA DADA AL LENGUAJE VULGAR

Para traducir una fórmula al lenguaje vulgar, o sea, para dar la regla contenida en una fórmula, basta sustituir las letras por las magnitudes que ellas representan y expresar las relaciones que la fórmula nos dice existen entre ellas. Pondremos dos ejemplos:

1) Dar la regla contenida en la fórmula  $A = h \left( \frac{b + b'}{2} \right)$ , en que  $A$  representa el área de un trapecio,  $h$  su altura,  $b$  y  $b'$  sus bases.

La regla es: El área de un trapecio es igual al producto de su altura por la semisuma de sus bases.

2) Dar la regla contenida en la fórmula  $v = \frac{e}{t}$ , en que  $v$  representa la velocidad de un móvil que se mueve con movimiento uniforme y  $e$  el espacio recorrido en el tiempo  $t$ .

La regla es: La velocidad de un móvil que se mueve con movimiento uniforme es igual al espacio que ha recorrido dividido entre el tiempo empleado en recorrerlo.

En cuanto a la relación de  $v$  con  $e$  y  $t$ , la fórmula me dicta las dos leyes siguientes:

1) La velocidad es directamente proporcional al espacio (porque  $e$  está en el numerador) para un mismo tiempo.

2) La velocidad es inversamente proporcional al tiempo (porque  $t$  está en el denominador) para un mismo espacio.

### EJERCICIO 160

Dar la regla correspondiente a las fórmulas siguientes:

1.  $A = \frac{1}{2}bh$  siendo  $A$  el área de un triángulo,  $b$  su base y  $h$  su altura.
2.  $e = vt$ , siendo  $e$  el espacio recorrido por un móvil con movimiento uniforme,  $v$  su velocidad y  $t$  el tiempo.



- $t = \frac{s}{v}$ . Las letras tienen el significado del caso anterior.
- $T = Fe$ , siendo  $T$  trabajo,  $F$  fuerza y  $e$  camino recorrido.
- $A = \frac{D \times D'}{2}$  siendo  $A$  el área de un rombo y  $D$  y  $D'$  sus diagonales.
- $V = h \times B$ , siendo  $V$  el volumen de un prisma,  $h$  su altura y  $B$  el área de su base.
- $V = \frac{1}{3}h \times B$ , siendo  $V$  el volumen de una pirámide,  $h$  su altura y  $B$  el área de su base.
- $A = \pi r^2$ , siendo  $A$  el área de un círculo y  $r$  el radio. ( $\pi$  es una constante igual a 3.1416 o  $\frac{22}{7}$ ).
- $e = \frac{1}{2}gt^2$ , siendo  $e$  el espacio recorrido por un móvil que cae libremente desde cierta altura partiendo del reposo,  $g$  la aceleración de la gravedad (9.8 m. por seg.) y  $t$  el tiempo empleado en caer.
- $A = \frac{l^2}{4}\sqrt{3}$ , siendo  $A$  el área de un triángulo equilátero y  $l$  su lado.
- $F = \frac{mv^2}{r}$ , siendo  $F$  la fuerza centrífuga,  $m$  la masa del móvil,  $v$  su velocidad y  $r$  el radio de la circunferencia que describe.

#### 240 EXPRESAR POR MEDIO DE SIMBOLOS UNA LEY MATEMATICA O FISICA OBTENIDA COMO RESULTADO DE UNA INVESTIGACION

Cuando por la investigación se ha obtenido una ley matemática o física, para expresarla por medio de símbolos, o sea para escribir su fórmula, generalmente se designan las variables por las iniciales de sus nombres y se escribe con ellas una expresión en la que aparezcan las relaciones observadas entre las variables.

#### Ejemplos

- (1) Escribir una fórmula que exprese que la altura de un triángulo es igual al duplo de su área dividido entre la base.

Designando la altura por  $h$ , el área por  $A$  y la base por  $b$ , la fórmula será:

$$h = \frac{2A}{b}$$

- (2) Escribir una fórmula que exprese que la presión que ejerce un líquido sobre el fondo del recipiente que lo contiene es igual a la superficie del fondo multiplicada por la altura del líquido y por su densidad.

Designando la presión por  $P$ , la superficie del fondo del recipiente por  $S$ , la altura del líquido por  $h$  y su densidad por  $d$ , la fórmula será:  $P = Shd$ .

#### ➡ EJERCICIO 161

Designando las variables por la inicial de su nombre, escriba la fórmula que expresa:

- La suma de dos números multiplicada por su diferencia es igual a la diferencia de sus cuadrados.

- El cuadrado de la hipotenusa de un triángulo rectángulo es igual a la suma de los cuadrados de los catetos.
- La base de un triángulo es igual al duplo de su área dividido entre su altura.
- La densidad de un cuerpo es igual al peso dividido por el volumen.
- El peso de un cuerpo es igual al producto de su volumen por su densidad.
- El área de un cuadrado es igual al cuadrado del lado.
- El volumen de un cubo es igual al cubo de su arista.
- El radio de una circunferencia es igual a la longitud de la circunferencia dividida entre  $2\pi$ .
- El cuadrado de un cateto de un triángulo rectángulo es igual al cuadrado de la hipotenusa menos el cuadrado del otro cateto.
- El área de un cuadrado es la mitad del cuadrado de su diagonal.
- La fuerza de atracción entre dos cuerpos es igual al producto de una constante  $k$  por el cociente que resulta de dividir el producto de las masas de los cuerpos por el cuadrado de su distancia.
- El tiempo que emplea una piedra en caer libremente desde la boca al fondo de un pozo es igual a la raíz cuadrada del duplo de la profundidad del pozo dividido entre 9.8.
- El área de un polígono regular es igual a la mitad del producto de su apotema por el perímetro.
- La potencia de una máquina es igual al trabajo que realiza en 1 segundo.

#### 241 EMPLEO DE FORMULAS EN CASOS PRACTICOS

Basta sustituir las letras de la fórmula por sus valores.

#### Ejemplos

- (1) Hallar el área de un trapecio cuya altura mide 5 m y sus bases 6 y 8 m respectivamente.

La fórmula es  $A = h \left( \frac{b+b'}{2} \right)$

Aquí,  $h = 5$  m.,  $b = 6$  m.,  $b' = 8$  m.,  
luego substituyendo:

$$A = 5 \left( \frac{6+8}{2} \right) = 5 \times 7 = 35 \text{ m}^2$$

- (2) Hallar el volumen de una pirámide siendo su altura 12 m y el área de la base 36 m<sup>2</sup>.

La fórmula es  $V = \frac{1}{3}h \times B$ .

Aquí,  $h = 12$  m,  $B = 36$  m<sup>2</sup>, luego substituyendo:

$$V = \frac{1}{3} \times 12 \times 36 = 4 \times 36 = 144 \text{ m}^3. \text{ R.}$$



- (3) Una piedra dejada caer desde la azotea de un edificio tarda 4 segundos en llegar al suelo. Hallar la altura del edificio.  
La altura del edificio es el espacio que recorre la piedra.

La fórmula es:  $e = \frac{1}{2}gt^2$ .

g vale 9.8 m. y  $t = 4$  seg., luego sustituyendo:

$$e = \frac{1}{2} \times 9.8 \times 4^2 = \frac{1}{2} \times 9.8 \times 16 = 9.8 \times 8 = 78.4 \text{ m}$$

La altura del edificio es 78.4 m. R.

### ▶ EJERCICIO 162

- Hallar el área de un triángulo de 10 cm de base y 8 de altura.  $A = \frac{1}{2}bh$ .
- Hallar el área de un cuadrado cuya diagonal mide 8 m.  $A = \frac{d^2}{2}$ .
- ¿Qué distancia recorre un móvil en 15 seg. si se mueve con movimiento uniforme y lleva una velocidad de 9 m por seg?  $e = vt$ .
- ¿En qué tiempo el mismo móvil recorrerá 108 m?
- Hallar la hipotenusa  $a$  de un triángulo rectángulo siendo sus catetos  $b = 4$  m y  $c = 3$  m.  $a^2 = b^2 + c^2$ .
- La hipotenusa de un triángulo rectángulo mide 13 m y uno de los catetos 5 m. Hallar el otro cateto.  $b^2 = a^2 - c^2$ .
- Hallar el área de un círculo de 5 m de radio.  $A = \pi r^2$ ,  $\pi = \frac{22}{7}$ .
- Hallar la longitud de una circunferencia de 5 m de radio.  $C = 2\pi r$ .
- Hallar el volumen de un cono siendo su altura 9 m y el radio de la base 2 m.  $v = \frac{1}{3}\pi r^2 h$ .
- El volumen de un cuerpo es 8 cm<sup>3</sup>, y pesa 8.24 g. Hallar su densidad.  $D = \frac{P}{V}$ .
- Hallar el área de un triángulo equilátero cuyo lado mide 4 m.  $A = \frac{l^2}{4}\sqrt{3}$ .
- Hallar la suma de los ángulos interiores de un exágono regular.  $S = 180^\circ(N - 2)$ . ( $N$  es el número de lados del polígono).

### 242 CAMBIO DEL SUJETO DE UNA FÓRMULA

El sujeto de una fórmula es la variable cuyo valor se da por medio de la fórmula. Una fórmula es una ecuación literal y nosotros podemos despejar cualquiera de los elementos que entran en ella, considerándolo como incógnita, y con ello cambiamos el sujeto de la fórmula.

#### Ejemplos

- (1) Dada la fórmula  $e = \frac{1}{2}at^2$  hacer a  $t$  el sujeto de la fórmula.  
Hay que despejar  $t$  en esta ecuación literal;  $t$  es la incógnita.  
Suprimiendo denominadores, tenemos:

$$2e = at^2$$

Despejando  $t^2$ :

$$t^2 = \frac{2e}{a}$$

Extrayendo la raíz cuadrada a ambos miembros:  $t = \sqrt{\frac{2e}{a}}$  R.

- (2) Dada la fórmula  $S = 2R(N - 2)$  hacer a  $N$  el sujeto de la fórmula.

Hay que despejar  $N$ .  $N$  es la incógnita.

Efectuando el producto indicado:  $S = 2NR - 4R$ .

Transponiendo:  $S + 4R = 2NR$

$$N = \frac{S + 4R}{2R} \text{ R.}$$

- (3) En la fórmula  $\frac{1}{f} = \frac{1}{p} + \frac{1}{p'}$  despejar  $p'$ .

El m. c. m. de los denominadores es  $pp'$ . Quitando denominadores tendremos:

$$pp' = p'f + pf$$

La incógnita es  $p'$ . Transponiendo:  $pp' - p'f = pf$   
 $p'(p - f) = pf$

$$p' = \frac{pf}{p - f} \text{ R.}$$

- (4) Despejar  $a$  en  $v = \sqrt{2ae}$ .

Elevando al cuadrado ambos miembros para destruir el radical:

$$v^2 = 2ae$$

Despejando  $a$ :

$$a = \frac{v^2}{2e} \text{ R.}$$

Esta operación de cambiar el sujeto de una fórmula será de incalculable utilidad para el alumno al Matemática y Física.

### ▶ EJERCICIO 163

- En la fórmula  $e = vt$ , despejar  $v$  y  $t$ .
- En  $A = h\left(\frac{b+b'}{2}\right)$  hacer a  $h$  el sujeto de la fórmula.
- En  $e = \frac{1}{2}at^2$ , despejar  $a$ .
- En  $A = \frac{1}{2}aln$ , despejar  $a$ ,  $l$  y  $n$ .
- En  $A = \pi r^2$ , despejar  $r$ .
- En  $a^2 = b^2 + c^2 - 2b \times c$ , despejar  $x$ .
- En  $V = V_0 + at$ , despejar  $V_0$ ,  $a$  y  $t$ .
- En  $V = V_0 - at$ , despejar  $V_0$ ,  $a$  y  $t$ .
- En  $D = \frac{P}{V}$ , despejar  $V$  y  $P$ .
- En  $a^2 = b^2 + c^2$ , despejar  $b$  y  $c$ .
- En  $V = at$ , despejar  $a$  y  $t$ .
- En  $\frac{1}{f} = \frac{1}{p'} + \frac{1}{p}$ , despejar  $p'$  y  $p$ .
- En  $v = \sqrt{\frac{e}{d}}$ , despejar  $d$  y  $e$ .
- En  $e = V_0 t + \frac{1}{2}at^2$ , despejar  $V_0$ .
- En  $e = V_0 t - \frac{1}{2}at^2$ , despejar  $V_0$  y  $a$ .
- En  $V = \frac{1}{2}h\pi r^2$ , despejar  $h$  y  $r$ .
- En  $I = \frac{c \times t \times r}{100}$ , despejar  $c$ ,  $t$  y  $r$ .
- En  $E = IR$ , despejar  $R$  e  $I$ .
- En  $e = \frac{v^2}{2a}$ , despejar  $v$ .
- En  $u = a + (n-1)r$ , despejar  $a$ ,  $n$  y  $r$ .
- En  $u = ar^{n-1}$ , despejar  $a$  y  $r$ .
- En  $I = \frac{Q}{t}$ , despejar  $Q$  y  $t$ .





**DESCARTES (1596-1650)** Filósofo y matemático francés. Durante su juventud fue soldado y viajó por Hungría, Suiza e Italia. Después de participar en la batalla de La Rochelle, se acogió a la vida estudiantil. Cristina de Suecia lo invita a su corte, para

que le dé clases de matemáticas; Descartes va y allí muere. A Descartes se le considera el primer filósofo de la Edad Moderna, y es el que sistematiza el método científico. Fue el primero en aplicar el Álgebra a la Geometría, creando así la Geometría Analítica.

## CAPITULO XIX

### DESIGUALDADES. INECUACIONES

**243** Se dice que una cantidad  $a$  es mayor que otra cantidad  $b$  cuando la diferencia  $a - b$  es positiva. Así, 4 es mayor que -2 porque la diferencia  $4 - (-2) = 4 + 2 = 6$  es positiva; -1 es mayor que -3 porque  $-1 - (-3) = -1 + 3 = 2$  es una cantidad positiva.

Se dice que una cantidad  $a$  es menor que otra cantidad  $b$  cuando la diferencia  $a - b$  es negativa. Así, -1 es menor que 1 porque la diferencia  $-1 - 1 = -2$  es negativa; -4 es menor que -3 porque la diferencia  $-4 - (-3) = -4 + 3 = -1$  es negativa.

De acuerdo con lo anterior, cero es mayor que cualquier cantidad negativa.

Así, 0 es mayor que -1 porque  $0 - (-1) = 0 + 1 = 1$ , cantidad positiva.

**244** **DESIGUALDAD** es una expresión que indica que una cantidad es mayor o menor que otra.

Los signos de desigualdad son  $>$ , que se lee mayor que, y  $<$  que se lee menor que. Así  $5 > 3$  se lee 5 mayor que 3;  $-4 < -2$  se lee -4 menor que -2.

### 245 MIEMBROS

Se llama **primer miembro** de una desigualdad a la expresión que está a la izquierda y **segundo miembro** a la que está a la derecha del signo de desigualdad.

Así, en  $a + b > c - d$  el primer miembro es  $a + b$  y el segundo  $c - d$ .

**246** **TERMINOS** de una desigualdad son las cantidades que están separadas de otras por el signo  $+$  o  $-$  o la cantidad que está sola en un miembro. En la desigualdad anterior los términos son  $a$ ,  $b$ ,  $c$  y  $-d$ .

**247** Dos desigualdades son del mismo signo o subsisten en el mismo sentido cuando sus primeros miembros son mayores o menores, ambos, que los segundos.

Así,  $a > b$  y  $c > d$  son desigualdades del mismo sentido.

Dos desigualdades son de signo contrario o no subsisten en el mismo sentido cuando sus primeros miembros no son ambos mayores o menores que los segundos miembros. Así,  $5 > 3$  y  $1 < 2$  son desigualdades de sentido contrario.

### 248 PROPIEDADES DE LAS DESIGUALDADES

1) Si a los dos miembros de una desigualdad se suma o resta una misma cantidad, el signo de la desigualdad no varía.

Así, dada la desigualdad  $a > b$ , podemos escribir:  $a + c > b + c$  y  $a - c > b - c$ .

#### CONSECUENCIA

Un término cualquiera de una desigualdad se puede pasar de un miembro al otro cambiándole el signo.

Así, en la desigualdad  $a > b + c$  podemos pasar  $c$  al primer miembro con signo  $-$  y quedará  $a - c > b$ , porque equivale a restar  $c$  a los dos miembros.

En la desigualdad  $a - b > c$  podemos pasar  $b$  con signo  $+$  al segundo miembro y quedará  $a > b + c$ , porque equivale a sumar  $b$  a los dos miembros.

2) Si los dos miembros de una desigualdad se multiplican o dividen por una misma cantidad positiva, el signo de la desigualdad no varía.

Así, dada la desigualdad  $a > b$  y siendo  $c$  una cantidad positiva, podemos escribir:  $ac > bc$  y  $\frac{a}{c} > \frac{b}{c}$ .

#### CONSECUENCIA

Se pueden suprimir denominadores en una desigualdad, sin que varíe el signo de la desigualdad, porque ello equivale a multiplicar todos los tér-



menos de la desigualdad, o sea sus dos miembros, por el m. c. m. de los denominadores.

3) Si los dos miembros de una desigualdad se multiplican o dividen por una misma cantidad negativa, el signo de la desigualdad varía.

Así, si en la desigualdad  $a > b$  multiplicamos ambos miembros por  $-c$ , tendremos:  $-ac < -bc$ , y dividiéndolos por  $-c$ , o sea multiplicando por  $-\frac{1}{c}$ , tendremos:  $-\frac{a}{c} < -\frac{b}{c}$ .

#### CONSECUENCIA

Si se cambia el signo a todos los términos, o sea a los dos miembros de una desigualdad, el signo de la desigualdad varía porque equivale a multiplicar los dos miembros de la desigualdad por  $-1$ .

Así, si en la desigualdad  $a - b > -c$  cambiamos el signo a todos los términos, tendremos:  $b - a < c$ .

4) Si cambia el orden de los miembros, la desigualdad cambia de signo. Así, si  $a > b$  es evidente que  $b < a$ .

5) Si se invierten los dos miembros, la desigualdad cambia de signo. Así, siendo  $a > b$  se tiene que  $\frac{1}{a} < \frac{1}{b}$ .

6) Si los miembros de una desigualdad son positivos y se elevan a una misma potencia positiva, el signo de la desigualdad no cambia.

Así,  $5 > 3$ . Elevando al cuadrado:  $5^2 > 3^2$  o sea  $25 > 9$ .

7) Si los dos miembros o uno de ellos es negativo y se elevan a una potencia impar positiva, el signo de la desigualdad no cambia.

Así,  $-3 > -5$ . Elevando al cubo:  $(-3)^3 > (-5)^3$  o sea  $-27 > -125$ .

$2 > -2$ . Elevando al cubo:  $2^3 > (-2)^3$  o sea  $8 > -8$ .

8) Si los dos miembros son negativos y se elevan a una misma potencia par positiva, el signo de la desigualdad cambia.

Así,  $-3 > -5$ . Elevando al cuadrado:  $(-3)^2 = 9$  y  $(-5)^2 = 25$  y queda  $9 < 25$ .

9) Si un miembro es positivo y otro negativo y ambos se elevan a una misma potencia par positiva, el signo de la desigualdad puede cambiar.

Así,  $3 > -5$ . Elevando al cuadrado:  $3^2 = 9$  y  $(-5)^2 = 25$  y queda  $9 < 25$ . Cambia.

$8 > -2$ . Elevando al cuadrado:  $8^2 = 64$  y  $(-2)^2 = 4$  y queda  $64 > 4$ . No cambia.

10) Si los dos miembros de una desigualdad son positivos y se les extrae una misma raíz positiva, el signo de la desigualdad no cambia. Así, si  $a > b$  y  $n$  es positivo, tendremos:  $\sqrt[n]{a} > \sqrt[n]{b}$ .

11) Si dos o más desigualdades del mismo signo se suman o multiplican miembro a miembro, resulta una desigualdad del mismo signo.

Así, si  $a > b$  y  $c > d$ , tendremos:  $a + c > b + d$  y  $ac > bd$ .

12) Si dos desigualdades del mismo signo se restan o dividen miembro a miembro, el resultado no es necesariamente una desigualdad del mismo signo, pudiendo ser una igualdad.

Así,  $10 > 8$  y  $5 > 2$ . Restando miembro a miembro:  $10 - 5 = 5$  y  $8 - 2 = 6$ ; luego queda  $5 < 6$ ; cambia el signo.

Si dividimos miembro a miembro las desigualdades  $10 > 8$  y  $5 > 4$ , tenemos  $\frac{10}{5} = 2$  y  $\frac{8}{4} = 2$ ; luego queda  $2 = 2$ , igualdad.

#### INECUACIONES

249) **UNA INECUACION** es una desigualdad en la que hay una o más cantidades desconocidas (incógnitas) y que sólo se verifica para determinados valores de las incógnitas. Las inecuaciones se llaman también desigualdades de condición.

Así, la desigualdad  $2x - 3 > x + 5$  es una inecuación porque tiene la incógnita  $x$  y sólo se verifica para cualquier valor de  $x$  mayor que 8.

En efecto: Para  $x = 8$  se convertiría en igualdad y para  $x < 8$  se convertiría en una desigualdad de signo contrario.

250) **RESOLVER UNA INECUACION** es hallar los valores de las incógnitas que satisfacen la inecuación.

#### 251) PRINCIPIOS EN QUE SE FUNDA LA RESOLUCION DE LAS INECUACIONES

La resolución de las inecuaciones se funda en las propiedades de las desigualdades, expuestas anteriormente, y en las consecuencias que de las mismas se derivan.

#### 252) RESOLUCION DE INECUACIONES

##### Ejemplos

(1) Resolver la inecuación  $2x - 3 > x + 5$ .

Pasando  $x$  al primer miembro y 3 al segundo:

$$2x - x > 5 + 3.$$

Reduciendo:

$$x > 8. \quad R.$$

8 es el límite inferior de  $x$ , es decir que la desigualdad dada sólo se verifica para los valores de  $x$  mayores que 8.



- (2) Hallar el límite de  $x$  en  $7 - \frac{x}{2} > \frac{5x}{3} - 6$ .

Suprimiendo denominadores:  $42 - 3x > 10x - 36$ .

Transponiendo:  $-3x - 10x > -36 - 42$   
 $-13x > -78$

Cambiando el signo a los dos miembros, lo cual hace cambiar el signo de la desigualdad, se tiene:  $13x < 78$ .

Dividiendo por 13:  $x < \frac{78}{13}$  o sea  $x < 6$ . R.

6 es el límite superior de  $x$ , es decir, que la desigualdad dada sólo se verifica para los valores de  $x$  menores que 6.

- (3) Hallar el límite de  $x$  en  $|x+3| \cdot |x-1| < (x-1)^2 + 3x$ .

Efectuando las operaciones indicadas:  $x^2 + 2x - 3 < x^2 - 2x + 1 + 3x$ .

Suprimiendo  $x^2$  en ambos miembros y transponiendo:  $2x + 2x - 3x < 1 + 3$   
 $x < 4$ . R.

4 es el límite superior de  $x$ .

### ▶ EJERCICIO 164

Hallar el límite de  $x$  en las inecuaciones siguientes:

1.  $x-5 < 2x-6$ .
2.  $5x-12 > 3x-4$ .
3.  $x-6 > 21-8x$ .
4.  $3x-14 < 7x-2$ .
5.  $2x - \frac{5}{9} > \frac{x}{2} + 10$ .
6.  $3x-4 + \frac{x}{9} < \frac{6x}{2} + 2$ .
7.  $(x-1)^2 - 7 > (x-2)^2$ .
8.  $(x+2)(x-1) + 26 < (x+4)(x+5)$ .
9.  $3(x-2) + 2x(x+3) > (2x-1)(x+4)$ .
10.  $6(x^2+1) - (2x-4)(3x+2) < 3(5x+21)$ .
11.  $(x-4)(x+5) < (x-3)(x-2)$ .
12.  $(2x-3)^2 + 4x^2(x-7) < 4(x-2)^2$ .
13.  $\frac{2x+1}{3x-1} > \frac{2x+5}{3x+2}$ .
14.  $\frac{x+3}{3} - \frac{4}{x+2} > \frac{x}{3}$ .
15.  $\frac{5}{3x+1} - \frac{20}{9x^2-1} < \frac{2}{3x-1}$ .
16.  $\frac{1}{x^2+x} > \frac{1}{x^2-x} - \frac{1}{x^2-1}$ .

17. Hallar los números enteros cuyo tercio aumentado en 15 sea mayor que su mitad aumentada en 1.

### INECUACIONES SIMULTANEAS

**253** **INECUACIONES SIMULTANEAS** son inecuaciones que tienen soluciones comunes.

#### Ejemplos

- (1) Hallar qué valores de  $x$  satisfacen las inecuaciones:

$$\begin{aligned} 2x-4 &> 6 \\ 3x+5 &> 14. \end{aligned}$$

Resolviendo la primera:  $2x > 6 + 4$   
 $2x > 10$   
 $x > 5$ .

Resolviendo la segunda:  $3x > 14 - 5$   
 $3x > 9$   
 $x > 3$ .

La primera inecuación se satisface para  $x > 5$  y la segunda para  $x > 3$ , luego tomamos como solución general de ambas  $x > 5$ , ya que cualquier valor de  $x$  mayor que 5 será mayor que 3.

Luego el límite inferior de las soluciones comunes es 5. R.

- (2) Hallar el límite de las soluciones comunes a las inecuaciones:

$$\begin{aligned} 3x+4 &< 16 \\ -6-x &> -8. \end{aligned}$$

Resolviendo la primera:  $3x < 16 - 4$   
 $3x < 12$   
 $x < 4$ .

Resolviendo la segunda:  $-x > -8 + 6$   
 $-x > -2$   
 $x < 2$ .

La solución común es  $x < 2$ , ya que todo valor de  $x$  menor que 2 evidentemente es menor que 4.

Luego 2 es el límite superior de las soluciones comunes. R.

- (3) Hallar el límite superior o inferior de los valores de  $x$  que satisfacen las inecuaciones:

$$\begin{aligned} 5x-10 &> 3x-2 \\ 3x+1 &< 2x+6. \end{aligned}$$

Resolviendo la primera:  $5x - 3x > -2 + 10$   
 $2x > 8$   
 $x > 4$ .

Resolviendo la segunda:  $3x - 2x < 6 - 1$   
 $x < 5$ .

La primera se satisface para  $x > 4$  y la segunda para  $x < 5$ , luego todos los valores de  $x$  que sean a la vez mayores que 4 y menores que 5, satisfacen ambas inecuaciones.

Luego 4 es el límite inferior y 5 el límite superior de las soluciones comunes lo que se expresa  $4 < x < 5$ . R.

### ▶ EJERCICIO 165

Hallar el límite de las soluciones comunes a:

1.  $x-3 > 5$  y  $2x+5 > 17$ .
2.  $5-x > -6$  y  $2x+9 > 3x$ .
3.  $6x+5 > 4x+11$  y  $4-2x > 10-5x$ .
4.  $5x-4 > 7x-16$  y  $8-7x < 16-15x$ .
5.  $\frac{x}{2} - 3 > \frac{x}{4} + 2$  y  $2x + \frac{3}{5} < 6x - 23\frac{2}{5}$ .

Hallar el límite superior e inferior de las soluciones comunes a:

6.  $2x-3 < x+10$  y  $6x-4 > 5x+6$ .
7.  $\frac{x}{4} - 1 > \frac{x}{3} - 1\frac{1}{2}$  y  $2x - 3\frac{3}{5} > x + \frac{2}{5}$ .
8.  $(x-1)(x+2) < (x+2)(x-3)$  y  $(x+3)(x+5) > (x+4)(x+3)$ .
9.  $\frac{x+2}{x+8} > \frac{x-2}{x+3}$  y  $\frac{x-1}{x+4} < \frac{x-5}{x-1}$ .
10. Hallar los números enteros cuyo triplo menos 6 sea mayor que su mitad más 4 y cuyo cuádruplo aumentado en 8 sea menor que su triplo aumentado en 15.





**FERMAT (1601-1665)** Matemático francés. Pascal llamó "el primer cerebro del mundo". Considerado con Descartes como el más grande matemático del siglo XVII. Mientras sus contemporáneos se preocupaban por elaborar una ciencia aplicada,

Fermat profundizaba los maravillosos y extraordinarios caminos de la matemática pura. Trabajó incansablemente en la Teoría de los Números o Aritmética Superior, dejando varios teoremas que llevan su nombre; el más famoso es el llamado último Teorema de Fermat.

## CAPITULO XX

### FUNCIONES

#### 254 CONSTANTES Y VARIABLES

Las cantidades que intervienen en una cuestión matemática son **constantes** cuando tienen un valor fijo y determinado y son **variables** cuando toman diversos valores. Pondremos dos ejemplos.

1) Si un metro de tela cuesta \$2, el costo de una pieza de tela dependerá del **número de metros** que tenga la pieza. Si la pieza tiene 5 metros, el costo de la pieza será \$10; si tiene 8 metros, el costo será \$16, etc. Aquí, el costo de un metro que siempre es el mismo, \$2, es una **constante**, y el **número de metros** de la pieza y el **costo de la pieza**, que toman diversos valores, son **variables**.

¿De qué depende en este caso el costo de la pieza? Del **número de metros** que tenga. El **costo de la pieza** es la **variable dependiente** y el **número de metros** la **variable independiente**.

2) Si un móvil desarrolla una velocidad de 6 m por segundo, el **espacio** que recorra dependerá del **tiempo** que esté andando. Si anda durante 2 segundos, recorrerá un espacio de 12 m; si anda durante 3 segundos, recorrerá un espacio de 18 m. Aquí, la **velocidad** 6 m es **constante** y el **tiempo** y el **espacio recorrido**, que toman sucesivos valores, son **variables**.

¿De qué depende en este caso el **espacio recorrido**? Del **tiempo** que ha estado andando el móvil. El **tiempo** es la **variable independiente** y el **espacio recorrido** la **variable dependiente**.

#### 255 FUNCION

En el ejemplo 1) anterior el **costo de la pieza** depende del **número de metros** que tenga; el **costo de la pieza** es **función** del **número de metros**.

En el ejemplo 2) el **espacio recorrido** depende del **tiempo** que haya estado andando el móvil; el **espacio recorrido** es **función** del **tiempo**.

**Siempre que una cantidad variable depende de otra se dice que es función de esta última.**

La definición moderna de función debida a Cauchy es la siguiente: Se dice que  $y$  es **función** de  $x$  cuando a cada valor de la **variable  $x$**  corresponden uno o varios valores determinados de la **variable  $y$** .

La notación para expresar que  $y$  es función de  $x$  es  $y = f(x)$ .

#### 256 FUNCION DE UNA VARIABLE INDEPENDIENTE Y DE VARIAS VARIABLES

Cuando el valor de una variable  $y$  depende solamente del valor de otra variable  $x$  tenemos una **función de una sola variable independiente**, como en los ejemplos anteriores.

Cuando el valor de una variable  $y$  depende de los valores de dos o más variables tenemos una **función de varias variables independientes**.

Por ejemplo, el **área** de un triángulo depende de los valores de su **base** y de su **altura**; luego, el **área** de un triángulo es **función** de dos **variables independientes** que son su **base** y su **altura**. Designando por  $A$  el **área**, por  $b$  la **base** y por  $h$  la **altura**, escribimos:  $A = f(b, h)$ .

El **volumen** de una caja depende de la **longitud**, del **ancho** y de la **altura**; luego, el **volumen** es **función** de tres **variables independientes**.

Designando el **volumen** por  $v$ , la **longitud** por  $l$ , el **ancho** por  $a$  y la **altura** por  $h$ , podemos escribir:  $v = f(l, a, h)$ .

#### 257 LEY DE DEPENDENCIA

Siempre que los valores de una variable  $y$  dependen de los valores de otra variable  $x$ ,  $y$  es **función** de  $x$ ; la palabra **función** indica **dependencia**. Pero no basta con saber que  $y$  depende de  $x$ , interesa mucho saber **cómo** depende  $y$  de  $x$ , **de qué modo** varía y **cómo** varía  $x$ , la **relación** que liga a las variables, que es lo que se llama **ley de dependencia** entre las variables.

#### 258 EJEMPLOS DE FUNCIONES, PUEDA O NO ESTABLECERSE MATEMATICAMENTE LA LEY DE DEPENDENCIA

No en todas las funciones se conoce de un modo preciso la **relación matemática** o **analítica** que liga a la **variable independiente** con la **variable**



dependiente o función, es decir, no siempre se conoce la ley de dependencia.

En algunos casos sabemos que una cantidad depende de otra, pero no conocemos la relación que liga a las variables. De ahí la división de las funciones en analíticas y concretas.

#### FUNCIONES ANALÍTICAS

Cuando se conoce de un modo preciso la relación analítica que liga a las variables, esta relación puede establecerse matemáticamente por medio de una fórmula o ecuación que nos permite, para cualquier valor de la variable independiente, hallar el valor correspondiente de la función. Estas son **funciones analíticas**.

Como ejemplo de estas funciones podemos citar las siguientes:

El costo de una pieza de tela, función del número de metros de la pieza. Conocido el costo de un metro, puede calcularse el costo de cualquier número de metros.

El tiempo empleado en hacer una obra, función del número de obreros. Conocido el tiempo que emplea cierto número de obreros en hacer la obra, puede calcularse el tiempo que emplearía cualquier otro número de obreros en hacerla.

El espacio que recorre un cuerpo en su caída libre desde cierta altura, función del tiempo. Conocido el tiempo que emplea en caer un móvil, puede calcularse el espacio recorrido.

#### FUNCIONES CONCRETAS

Cuando por observación de los hechos sabemos que una cantidad depende de otra, pero no se ha podido determinar la relación analítica que liga a las variables, tenemos una **función concreta**. En este caso, la ley de dependencia, que no se conoce con precisión, no puede establecerse matemáticamente por medio de una fórmula o ecuación porque la relación funcional, aunque existe, no es siempre la misma.

Como ejemplo podemos citar la velocidad de un cuerpo que se desliza sobre otro, función del roce o frotamiento que hay entre los dos cuerpos. Al aumentar el roce, disminuye la velocidad, pero no se conoce de un modo preciso la relación analítica que liga a estas variables. Muchas leyes físicas, fuera de ciertos límites, son funciones de esta clase.

En los casos de funciones concretas suelen construirse tablas o gráficas en que figuren los casos observados, que nos permiten hallar aproximadamente el valor de la función que corresponde a un valor dado de la variable independiente.

#### 259 VARIACION DIRECTA

Se dice que  $A$  varía directamente a  $B$  o que  $A$  es directamente proporcional a  $B$  cuando multiplicando o dividiendo una de estas dos variables

por una cantidad, la otra queda multiplicada o dividida por esa misma cantidad.

#### Ejemplo

Si un móvil que se mueve con movimiento uniforme recorre 30 Km en 10 minutos, en 20 minutos recorrerá 60 Km y en 5 minutos recorrerá 15 Km, luego la variable espacio recorrido es directamente proporcional (o proporcional) a la variable tiempo y viceversa.

260 Si  $A$  es proporcional a  $B$ ,  $A$  es igual a  $B$  multiplicada por una constante.

En el ejemplo anterior, la **relación** entre el espacio y el tiempo es constante.

En efecto:

En 10 min el móvil recorre 30 Km; la relación es  $\frac{30}{10} = 3$ .

En 20 min el móvil recorre 60 Km; la relación es  $\frac{60}{20} = 3$ .

En 5 min el móvil recorre 15 Km; la relación es  $\frac{15}{5} = 3$ .

En general, si  $A$  es proporcional a  $B$ , la relación entre  $A$  y  $B$  es constante; luego, designando esta constante por  $k$ , tenemos:

$$\frac{A}{B} = k \text{ y de aquí } A = k \cdot B$$

#### 261 VARIACION INVERSA

Se dice que  $A$  varía inversamente a  $B$  o que  $A$  es inversamente proporcional a  $B$  cuando multiplicando o dividiendo una de estas variables por una cantidad, la otra queda dividida en el primer caso y multiplicada en el segundo por la misma cantidad.

#### Ejemplo

Si 10 hombres hacen una obra en 6 horas, 20 hombres la harán en 3 horas y 5 hombres en 12 horas, luego la variable tiempo empleado en hacer la obra es inversamente proporcional a la variable número de hombres y viceversa.

262 Si  $A$  es inversamente proporcional a  $B$ ,  $A$  es igual a una constante dividida entre  $B$ .

En el ejemplo anterior, el **producto** del número de hombres por el tiempo empleado en hacer la obra es constante. En efecto:

10 hombres emplean 6 horas; el producto  $10 \times 6 = 60$ .

20 hombres emplean 3 horas; el producto  $20 \times 3 = 60$ .

5 hombres emplean 12 horas; el producto  $5 \times 12 = 60$ .

En general, si  $A$  es inversamente proporcional a  $B$ , el producto  $AB$  es constante; luego, designando esta constante por  $k$ , tenemos:

$$AB = k \text{ y de aquí } A = \frac{k}{B}$$



**263 VARIACION CONJUNTA**

Si  $A$  es proporcional a  $B$  cuando  $C$  es constante y  $A$  es proporcional a  $C$  cuando  $B$  es constante,  $A$  es proporcional a  $BC$  cuando  $B$  y  $C$  varían, principio que se expresa:

$$A = kBC,$$

donde  $k$  es constante, lo que se puede expresar diciendo que si una cantidad es proporcional a otras varias, lo es a su producto.

**Ejemplo**

El área de un triángulo es proporcional a la altura, si la base es constante y es proporcional a la base si la altura es constante, luego si la base y la altura varían, el área es proporcional al producto de la base por la altura. Siendo  $A$  el área,  $b$  la base y  $h$  la altura, tenemos:

$$A = kbh$$

y la constante  $k = \frac{1}{2}$  (por Geometría) luego  $A = \frac{1}{2}bh$ .

**264 VARIACION DIRECTA E INVERSA A LA VEZ**

Se dice que  $A$  es proporcional a  $B$  e inversamente proporcional a  $C$  cuando  $A$  es proporcional a la relación  $\frac{B}{C}$ , lo que se expresa:

$$A = \frac{kB}{C}$$

**265 RESUMEN DE LAS VARIACIONES**

Si  $A$  es proporcional a  $B$ .....  $A = kB$ .

Si  $A$  es inversamente proporcional a  $B$ ...  $A = \frac{k}{B}$ .

Si  $A$  es proporcional a  $B$  y  $C$ .....  $A = kBC$ .

Si  $A$  es proporcional a  $B$  e inversamente proporcional a  $C$ .....  $A = \frac{kB}{C}$ .

**Ejemplos**

(1)  $A$  es proporcional a  $B$  y  $A = 20$  cuando  $B = 2$ .  
Hallar  $A$  cuando  $B = 6$ .

Siendo  $A$  proporcional a  $B$ , se tiene:  $A = kB$ .

Para hallar la constante  $k$ , como  $A = 20$  cuando  $B = 2$ , tendremos:

$$20 = k \times 2 \quad \therefore k = \frac{20}{2} = 10.$$

Si  $k = 10$ , cuando  $B = 6$ ,  $A$  valdrá:

$$A = kB = 10 \times 6 = 60. \quad \text{R.}$$

(2)  $A$  es inversamente proporcional a  $B$  y  $A = 5$  cuando  $B = 4$ .  
Hallar  $A$  cuando  $B = 10$ .

Como  $A$  es inversamente proporcional a  $B$ , se tiene:  $A = \frac{k}{B}$ .

Hallemos  $k$ , haciendo  $A = 5$  y  $B = 4$ :

$$5 = \frac{k}{4} \quad \therefore k = 20.$$

Siendo  $k = 20$ , cuando  $B = 10$ ,  $A$  valdrá:

$$A = \frac{k}{B} = \frac{20}{10} = 2. \quad \text{R.}$$

(3)  $A$  es proporcional a  $B$  y  $C$ ;  $A = 6$  cuando  $B = 2$  y  $C = 4$ .

Hallar  $B$  cuando  $A = 15$  y  $C = 5$ .

Siendo  $A$  proporcional a  $B$  y  $C$ , se tiene:  $A = kBC$ . (1).

Para hallar  $k$ :  $6 = k \times 2 \times 4 \quad 6 = k \times 8 \quad \therefore k = \frac{6}{8}$

Para hallar  $B$  la despejamos en (1):  $B = \frac{A}{kC}$ .

Sustituyendo  $A = 15$ ,  $k = \frac{6}{8}$ ,  $C = 5$ ,

tendremos:  $B = \frac{15}{\frac{6}{8} \times 5} = \frac{60}{15} = 4. \quad \text{R.}$

(4)  $x$  es proporcional a  $y$  e inversamente proporcional a  $z$ .

Si  $x = 4$  cuando  $y = 2$ ,  $z = 3$ , hallar  $x$  cuando  $y = 5$ ,  $z = 15$ .

Siendo  $x$  proporcional a  $y$  e inversamente proporcional a  $z$ , tendremos:

$$x = \frac{ky}{z}$$

Haciendo  $x = 4$ ,  $y = 2$ ,  $z = 3$ ,

se tiene:  $4 = \frac{k \times 2}{3} \quad \therefore k = \frac{12}{2} = 6.$

Haciendo en (1)  $k = 6$ ,  $y = 5$ ,  $z = 15$ ,

se tiene:  $x = \frac{ky}{z} = \frac{6 \times 5}{15} = 2. \quad \text{R.}$

**EJERCICIO 166**

- $x$  es proporcional a  $y$ . Si  $x = 9$  cuando  $y = 6$ , hallar  $x$  cuando  $y = 8$ .
- $x$  es proporcional a  $y$ . Si  $y = 3$  cuando  $x = 2$ , hallar  $y$  cuando  $x = 24$ .
- $A$  es proporcional a  $B$  y  $C$ . Si  $A = 30$  cuando  $B = 2$  y  $C = 5$ , hallar  $A$  cuando  $B = 7$ ,  $C = 4$ .
- $x$  es proporcional a  $y$  y a  $z$ . Si  $x = 4$  cuando  $y = 3$  y  $z = 6$ , hallar  $y$  cuando  $x = 10$ ,  $z = 9$ .
- $A$  es inversamente proporcional a  $B$ . Si  $A = 3$  cuando  $B = 5$ , hallar  $A$  cuando  $B = 7$ .
- $B$  es inversamente proporcional a  $A$ . Si  $A = \frac{1}{2}$  cuando  $B = \frac{1}{3}$ , hallar  $A$  cuando  $B = \frac{1}{12}$ .
- $A$  es proporcional a  $B$  e inversamente proporcional a  $C$ . Si  $A = 8$  cuando  $B = 12$ ,  $C = 3$ , hallar  $A$  cuando  $B = 7$ ,  $C = 14$ .
- $x$  es proporcional a  $y$  e inversamente proporcional a  $z$ . Si  $x = 3$  cuando  $y = 4$ ,  $z = 8$ , hallar  $z$  cuando  $y = 7$ ,  $x = 10$ .
- $x$  es proporcional a  $y^2 - 1$ . Si  $x = 48$  cuando  $y = 5$ , hallar  $x$  cuando  $y = 7$ .
- $x$  es inversamente proporcional a  $y^2 - 1$ . Si  $x = 9$  cuando  $y = 3$  hallar  $x$  cuando  $y = 5$ .
- El área de un cuadrado es proporcional al cuadrado de su diagonal. Si el área es  $18 \text{ m}^2$  cuando la diagonal es  $6 \text{ m}$ , hallar el área cuando la diagonal sea  $10 \text{ m}$ .
- El área lateral de una pirámide regular es proporcional a su apotema y al perímetro de la base. Si el área es  $480 \text{ m}^2$  cuando el apotema es  $12 \text{ m}$  y el perímetro de la base  $80 \text{ m}$ , hallar el área cuando el apotema es  $6 \text{ m}$  y el perímetro de la base  $40 \text{ m}$ .



13. El volumen de una pirámide es proporcional a su altura y al área de su base. Si el volumen de una pirámide, cuya altura es 8 m y el área de su base 36 m<sup>2</sup>, es 96 m<sup>3</sup>, ¿cuál será el volumen de una pirámide cuya altura es 12 m y el área de su base 64 m<sup>2</sup>?
14. El área de un círculo es proporcional al cuadrado del radio. Si el área de un círculo de 14 cm de radio es 616 cm<sup>2</sup>, ¿cuál será el área de un círculo de 7 cm. de radio?
15. La longitud de una circunferencia es proporcional al radio. Si una circunferencia de 7 cm de radio tiene una longitud de 44 cm, ¿cuál es el radio de una circunferencia de 66 cm de longitud?
16.  $x$  es inversamente proporcional al cuadrado de  $y$ . Cuando  $y = 6$ ,  $x = 4$ . Hallar  $y$  cuando  $x = 9$ .

## 266 FUNCIONES EXPRESABLES POR FORMULAS

En general, las funciones son expresables por fórmulas o ecuaciones cuando se conoce la relación matemática que liga a la variable dependiente o función con las variables independientes, o sea cuando se conoce la ley de dependencia.

En estos casos habrá una ecuación que será la expresión analítica de la función y que define la función.

Así,  $y = 2x + 1$ ,  $y = 2x^2$ ,  $y = x^3 + 2x - 1$

son funciones expresadas por ecuaciones o fórmulas.

$2x + 1$  es una función de primer grado;  $2x^2$ , de segundo grado;  $x^3 + 2x - 1$ , de tercer grado.

Los ejemplos anteriores son funciones de la variable  $x$  porque a cada valor de  $x$  corresponde un valor determinado de la función.

Para  $x = 0$ ,  $y = 2 \times 0 + 1 = 1$

$x = 1$ ,  $y = 2 \times 1 + 1 = 3$

$x = 2$ ,  $y = 2 \times 2 + 1 = 5$

Para  $x = -1$ ,  $y = 2(-1) + 1 = -1$

$x = -2$ ,  $y = 2(-2) + 1 = -3$ , etc.

En efecto: Considerando la función  $2x + 1$ , que representamos por  $y$ , tendremos:  $y = 2x + 1$ .

$x$  es la variable independiente e  $y$  la variable dependiente.

## 267 DETERMINACIÓN DE LA FÓRMULA CORRESPONDIENTE A FUNCIONES DADAS CUYA LEY DE DEPENDENCIA SEA SENCILLA

### Ejemplos

- (1) El costo de una pieza de tela es proporcional al número de metros. Determinar la fórmula de la función costo, sabiendo que una pieza de 10 metros cuesta \$30.

Designando por  $x$  la variable independiente número de metros y por  $y$  la función costo, tendremos, por ser  $y$  proporcional a  $x$ :

$$y = kx. \quad (1)$$

Hallemos la constante  $k$ , sustituyendo  $y = 30$ ,  $x = 10$ :  $30 = k \times 10 \therefore k = 3$ .

Entonces, como la constante es 3, sustituyendo este valor en (1), la función costo vendrá dada por la ecuación:  $y = 3x$ . R.

- (2) El área de un cuadrado es proporcional al cuadrado de su diagonal. Hallar la fórmula del área de un cuadrado en función de la diagonal, sabiendo que el área de un cuadrado cuya diagonal mide 8 m es 32 m<sup>2</sup>.

Designando por  $A$  el área y por  $D$  la diagonal, tendremos:

Hallemos  $k$  haciendo  $A = 32$  y  $D = 8$ :

$$A = kD^2.$$

$$32 = k \times 64 \therefore k = \frac{1}{2}$$

Sustituyendo  $k = \frac{1}{2}$  en (1), el área de un cuadrado en función de la diagonal, vendrá dada por la fórmula:

$$A = \frac{1}{2} D^2.$$

- (3) La altura de una pirámide es proporcional al volumen si el área de la base es constante y es inversamente proporcional al área de la base si el volumen es constante. Determinar la fórmula de la altura de una pirámide en función del volumen y el área de la base, sabiendo que una pirámide cuya altura es 15 m y el área de su base 16 m<sup>2</sup> tiene un volumen de 80 m<sup>3</sup>.

Designando la altura por  $h$ , el volumen por  $V$  y el área de la base por  $B$ , tendremos:

$$h = \frac{kV}{B}$$

(Obsérvese que la variable  $V$  directamente proporcional con  $h$  va en el numerador y la variable  $B$ , inversamente proporcional con  $h$ , va en el denominador).

$$15 = \frac{k \times 80}{16}$$

Hallemos la constante  $k$  haciendo  $h = 15$ ,  $V = 80$ ,  $B = 16$ :

$$15 \times 16 = 80k \\ 240 = 80k \\ k = \frac{240}{80} = 3.$$

Haciendo  $k = 3$  en (1), la altura de una pirámide en función del volumen y el área de la base vendrá dada por la fórmula:

$$h = \frac{3V}{B}$$

- (4) Determinar la fórmula correspondiente a una función sabiendo que para cada valor de la variable independiente corresponde un valor de la función que es igual al triple del valor de la variable independiente aumentado en 5.

Siendo  $y$  la función y  $x$  la variable independiente, tendremos:

$$y = 3x + 5$$

## EJERCICIO 167

- Si  $A$  es proporcional a  $B$  y  $A = 10$  cuando  $B = 5$ , escribir la fórmula que las relaciona.
- El espacio recorrido por un móvil (mov. uniforme) es proporcional al producto de la velocidad por el tiempo. Escriba la fórmula que expresa el espacio  $e$  en función de la velocidad  $v$  y del tiempo  $t$ . ( $k = 1$ )
- El área de un rombo es proporcional al producto de sus diagonales. Escribir la fórmula del área  $A$  de un rombo en función de sus diagonales  $D$  y  $D'$  sabiendo que cuando  $D = 8$  y  $D' = 6$  el área es 24 cm<sup>2</sup>.
- Sabiendo que  $A$  es proporcional a  $B$  e inversamente proporcional a  $C$ , escribir la fórmula de  $A$  en función de  $B$  y  $C$ . ( $k = 3$ ).



5. La longitud  $C$  de una circunferencia es proporcional al radio  $r$ . Una circunferencia de 21 cm de radio tiene una longitud de 132 cm. Hallar la fórmula que expresa la longitud de la circunferencia en función del radio.
6. El espacio recorrido por un cuerpo que cae desde cierta altura es proporcional al cuadrado del tiempo que emplea en caer. Escribir la fórmula del espacio  $e$  en función del tiempo  $t$  sabiendo que un cuerpo que cae desde una altura de 19.6 m emplea en su caída 2 seg.
7. La fuerza centrífuga  $F$  es proporcional al producto de la masa  $m$  por el cuadrado de la velocidad  $v$  de un cuerpo si el radio  $r$  del círculo que describe es constante y es inversamente proporcional al radio si la masa y la velocidad son constantes. Expresar esta relación por medio de una fórmula.
8. Escribir la fórmula de una función y sabiendo que para cada valor de la variable independiente  $x$  corresponde un valor de la función que es el duplo del valor de  $x$  aumentado en 3.
9. El lado de un cuadrado inscrito en un círculo es proporcional al radio del círculo. Expresar la fórmula del lado del cuadrado inscrito en función del radio. ( $k = \sqrt{2}$ ).
10. Escribir la fórmula de una función y sabiendo que para cada valor de la variable independiente  $x$  corresponde un valor de la función que es igual a la mitad del cuadrado del valor de  $x$  más 2.
11. Escribir la ecuación de una función y sabiendo que para cada valor de  $x$  corresponde un valor de  $y$  que es igual a la diferencia entre 5 y el duplo de  $x$ , dividida esta diferencia entre 3.
12. La fuerza de atracción entre dos cuerpos es proporcional al producto de las masas de los cuerpos  $m$  y  $m'$  si la distancia es constante y es inversamente proporcional al cuadrado de la distancia si las masas no varían. Expresar esta relación por medio de una fórmula.
13. La altura de un triángulo es proporcional al área del triángulo si la base es constante, y es inversamente proporcional a su base si el área es constante. Escribir la fórmula de la altura de un triángulo en función del área y de su base, sabiendo que cuando la base es 4 cm y la altura 10 cm, el área del triángulo es 20 cm<sup>2</sup>.
14. La energía cinética de un cuerpo  $W$  es proporcional al producto de la masa  $m$  por el cuadrado de la velocidad  $V$ . Expresar la fórmula de la energía cinética. ( $k = \frac{1}{2}$ ).
15. El área de la base de una pirámide es proporcional al volumen si la altura es constante y es inversamente proporcional a la altura si el volumen es constante. Escribir la fórmula del área de la base  $B$  de una pirámide en función del volumen  $V$  y de la altura  $h$  sabiendo que cuando  $h = 12$  y  $B = 100$ ,  $V = 400$ .
16.  $x$  es inversamente proporcional a  $y$ . Si  $x = 2$  cuando  $y = 5$ , hallar la fórmula de  $x$  en función de  $y$ .
17.  $x$  es inversamente proporcional al cuadrado de  $y$ . Si  $x = 3$  cuando  $y = 2$ , hallar la fórmula de  $x$  en función de  $y$ .
18.  $A$  es proporcional a  $B$  e inversamente proporcional a  $C$ . Cuando  $B = 24$  y  $C = 4$ ,  $A = 3$ . Hallar la fórmula que expresa  $A$  en función de  $B$  y  $C$ .



**BLAISE PASCAL (1623-1662)** Matemático y escritor francés. Es quizás más conocido por sus obras literarias como los "Pensées" y las "Lettres", que por sus contribuciones a las matemáticas. De naturaleza enfermiza, fue un verdadero niño prodigio. A los doce

años, dice su hermana Gilberte, había demostrado 32 proposiciones de Euclides. Al sostener correspondencia con Fermat, Pascal echó las bases de la Teoría de las Probabilidades. Entre sus trabajos figura el "sayo sobre las Cónicas", que escribió siendo un ni-

## CAPITULO XX

### REPRESENTACION GRAFICA DE LAS FUNCIONES

#### 268 SISTEMA RECTANGULAR DE COORDENADAS CARTESIANAS (1)

Dos líneas rectas que se cortan constituyen un sistema de ejes coordenados. Si las líneas son perpendiculares entre sí tenemos un sistema de ejes coordenados rectangulares; si no lo son, tenemos un sistema de ejes oblicuos. De los primeros nos ocuparemos en este Capítulo.

Tracemos dos líneas rectas  $XOX'$ ,  $YOY'$  que se cortan en el punto  $O$  formando ángulo recto. (Figura 24). Estas líneas constituyen un sistema de ejes coordenados rectangulares.

La línea  $XOX'$  se llama eje de las  $x$  o eje de las abscisas y la línea  $YOY'$  se llama eje de las  $y$  o eje de las ordenadas. El punto  $O$  se llama origen de coordenadas.

Los ejes dividen al plano del papel en cuatro partes llamadas cuadrantes.  $XOY$  es el

FIGURA 24



(1) Así llamadas en honor del célebre matemático francés DESCARTES (Cartesius), fundador de la Geometría Analítica.



primer cuadrante,  $YOX'$  el segundo cuadrante,  $X'OY'$  el tercer cuadrante,  $Y'OX$  el cuarto cuadrante.

El origen  $O$  divide a cada eje en dos semi-ejes, uno positivo y otro negativo.  $OX$  es el semi-eje positivo y  $OX'$  el semi-eje negativo del eje de las  $x$ ;  $OY$  es el semi-eje positivo y  $OY'$  el semi-eje negativo del eje de las  $y$ .

Cualquier distancia medida sobre el eje de las  $x$  de  $O$  hacia la derecha es positiva y de  $O$  hacia la izquierda es negativa.

Cualquier distancia medida sobre el eje de las  $y$  de  $O$  hacia arriba es positiva y de  $O$  hacia abajo es negativa.

## 269 ABCISCA Y ORDENADA DE UN PUNTO

La distancia de un punto al eje de las ordenadas se llama *abscisa* del punto y su distancia al eje de las abscisas se llama *ordenada* del punto. La abscisa y la ordenada de un punto son las coordenadas cartesianas del punto.

Así, (Fig. 25) la abscisa del punto  $P$  es  $BP=OA$  y su ordenada  $AP=OB$ .  $BP$  y  $AP$  son las coordenadas del punto  $P$ .

Las coordenadas de  $P_1$  son: abscisa  $BP_1=OC$  y ordenada  $CP_1=OB$ .

Las coordenadas de  $P_2$  son: abscisa  $DP_2=OC$  y ordenada  $CP_2=OD$ .

Las coordenadas de  $P_3$  son: abscisa  $DP_3=OA$  y ordenada  $AP_3=OD$ .

Las abscisas se representan por  $x$  y las ordenadas por  $y$ .

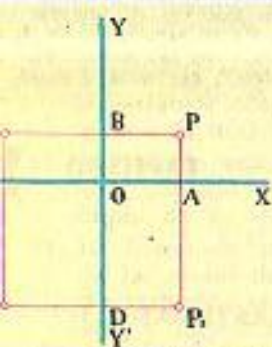


FIGURA 25

## 270 SIGNO DE LAS COORDENADAS

Las abscisas medidas del eje  $YY'$  hacia la derecha son positivas y hacia la izquierda, negativas. Así, en la figura anterior  $BP$  y  $DP_3$  son positivas;  $BP_1$  y  $DP_2$  son negativas.

Las ordenadas medidas del eje  $XX'$  hacia arriba son positivas y hacia abajo son negativas. Así, en la figura anterior,  $AP$  y  $CP_1$  son positivas,  $CP_2$  y  $AP_3$  son negativas.

## 271 DETERMINACION DE UN PUNTO POR SUS COORDENADAS

Las coordenadas de un punto determinan el punto. Conociendo las coordenadas de un punto se puede fijar el punto en el plano.

1) Determinar el punto cuyas coordenadas son 2 y 3.

Siempre, el número que se da primero es la abscisa y el segundo la ordenada. La notación empleada para indicar que la abscisa es 2 y la ordenada 3 es "punto (2, 3)".

Tomamos una medida, escogida arbitrariamente, como unidad de medida (Fig. 26). Como la abscisa es 2, positiva, tomamos la unidad escogida dos veces sobre  $OX$  de  $O$  hacia la derecha.

Como la ordenada 3 es positiva, levantamos en  $A$  una perpendicular a  $OX$  y sobre ella hacia arriba tomamos tres veces la unidad.

El punto  $P$  es el punto (2, 3), del primer cuadrante.

2) Determinar el punto (-3, 4).

Como la abscisa es negativa, -3, tomamos sobre  $OX'$  de  $O$  hacia la izquierda tres veces la unidad escogida; en  $B$  levantamos una perpendicular a  $OX'$  y sobre ella llevamos 4 veces la unidad hacia arriba porque la ordenada es positiva 4. El punto  $P_1$  es el punto (-3, 4), del segundo cuadrante.

3) Determinar el punto (-2, -4).

Llevamos la unidad dos veces sobre  $OX'$  de  $O$  hacia la izquierda porque la abscisa es -2 y sobre la perpendicular, hacia abajo porque la ordenada es -4, la tomamos 4 veces. El punto  $P_2$  es el punto (-2, -4), del tercer cuadrante.

4) Determinar el punto (4, -2).

De  $O$  hacia la derecha, porque la abscisa 4 es positiva llevamos la unidad 4 veces y perpendicularmente a  $OX$ , hacia abajo porque la ordenada es -2 la llevamos 2 veces. El punto  $P_3$  es el punto (4, -2), del cuarto cuadrante.

En estos casos se puede también marcar el valor de la ordenada sobre  $OY$  o sobre  $OY'$ , según que la ordenada sea positiva o negativa, y sobre  $OX$  u  $OX'$  el valor de la abscisa, según que la abscisa sea positiva o negativa. Entonces por la última división de la ordenada, trazar una paralela al eje de las abscisas y por última división de la abscisa trazar una paralela al eje de las ordenadas, y el punto en que se corten es el punto buscado. Es indiferente usar un procedimiento u otro.

Por lo expuesto anteriormente, se comprenderá fácilmente que:

- 1) Las coordenadas del origen son (0, 0).
- 2) La abscisa de cualquier punto situado en el eje de las  $y$  es 0.
- 3) La ordenada de cualquier punto situado en el eje de las  $x$  es 0.
- 4) Los signos de las coordenadas de un punto serán:

	Abscisa	Ordenada
En el 1er. cuadrante $XOY$	+	+
En el 2do. cuadrante $YOX'$	-	+
En el 3er. cuadrante $X'OY'$	-	-
En el 4to. cuadrante $Y'OX$	+	-

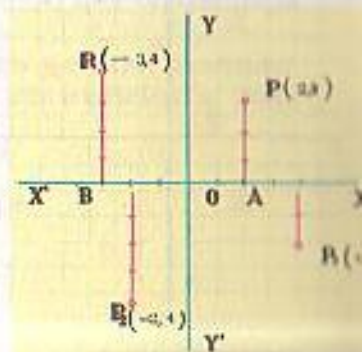


FIGURA 26



**272 PAPEL CUADRICULADO**

En todos los casos de gráficos suele usarse el papel dividido en pequeños cuadrados, llamado papel cuadrículado. Se refuerza con el lápiz una línea horizontal que será el eje  $XOX'$  y otra perpendicular a ella que será el eje  $YOY'$ . Tomando como unidad una de las divisiones del papel cuadrículado (pueden tomarse como unidad dos o más divisiones), la determinación de un punto por sus coordenadas es muy fácil, pues no hay más que contar un número de divisiones igual a las unidades que tenga la abscisa o la ordenada; y también dado el punto, se miden muy fácilmente sus coordenadas.

En la figura 27 están determinados los puntos  $P(4,2)$ ,  $P_1(-3,4)$ ,  $P_2(-3,-3)$ ,  $P_3(2,-5)$ ,  $P_4(0,3)$  y  $P_5(-2,0)$ .

FIGURA 27

**EJERCICIO 168**

Determinar gráficamente los puntos:

1.  $(1, 2)$ .      5.  $(3, -4)$ .      9.  $(-3, 0)$ .      13.  $(4, 0)$ .
  2.  $(-1, 2)$ .      6.  $(-5, 2)$ .      10.  $(5, -4)$ .      14.  $(-7, 10)$ .
  3.  $(-2, -1)$ .      7.  $(-3, -4)$ .      11.  $(-4, -3)$ .      15.  $(3, -1)$ .
  4.  $(2, -3)$ .      8.  $(0, 3)$ .      12.  $(0, -6)$ .
- Trazar la línea que pasa por los puntos:
16.  $(1, 2)$  y  $(3, 4)$ .      19.  $(2, -4)$  y  $(5, -2)$ .      22.  $(-4, 5)$  y  $(2, 0)$ .
  17.  $(-2, 1)$  y  $(-4, 4)$ .      20.  $(3, 0)$  y  $(0, 4)$ .      23.  $(-3, -6)$  y  $(0, 1)$ .
  18.  $(-3, -2)$  y  $(-1, -7)$ .      21.  $(-4, 0)$  y  $(0, -2)$ .      24.  $(-3, -2)$  y  $(3, 2)$ .
25. Dibujar el triángulo cuyos vértices son los puntos  $(0, 6)$ ,  $(3, 0)$  y  $(-3, 0)$ .
  26. Dibujar el triángulo cuyos vértices son los puntos  $(0, -5)$ ,  $(-4, 3)$  y  $(4, 3)$ .
  27. Dibujar el cuadrado cuyos vértices son  $(4, 4)$ ,  $(-4, 4)$ ,  $(-4, -4)$  y  $(4, -4)$ .
  28. Dibujar el cuadrado cuyos vértices son  $(-1, -1)$ ,  $(-4, -1)$ ,  $(-4, -4)$  y  $(-1, -4)$ .
  29. Dibujar el rectángulo cuyos vértices son  $(1, -1)$ ,  $(1, -3)$ ,  $(6, -1)$  y  $(6, -3)$ .
  30. Dibujar el rombo cuyos vértices son  $(1, 4)$ ,  $(3, 1)$ ,  $(5, 4)$  y  $(3, 7)$ .
  31. Dibujar la recta que pasa por  $(4, 0)$  y  $(0, 6)$  y la recta que pasa por  $(0, 1)$  y  $(4, 5)$  y hallar el punto de intersección de las dos rectas.
  32. Probar gráficamente que la serie de puntos  $(-3, 5)$ ,  $(-3, 1)$ ,  $(-3, -1)$ ,  $(-3, -4)$ , se hallan en una línea paralela a la línea que contiene a los puntos  $(2, -4)$ ,  $(2, 0)$ ,  $(2, 3)$ ,  $(2, 7)$ .
  33. Probar gráficamente que la línea que pasa por  $(-4, 0)$  y  $(0, -4)$  es perpendicular a la línea que pasa por  $(-1, -1)$  y  $(-4, -4)$ .

**273 GRAFICO DE UNA FUNCION**

Sea  $y = f(x)$ . Sabemos que para cada valor de  $x$  corresponden uno o varios valores de  $y$ . Tomando los valores de  $x$  como abscisas y los valores correspondientes de  $y$  como ordenadas, obtendremos una serie de puntos. El conjunto de todos estos puntos será una línea recta o curva, que es el gráfico de la función o el gráfico de la ecuación  $y = f(x)$  que representa la función.

En la práctica basta obtener unos cuantos puntos y unirlos convenientemente (interpolación) para obtener, con bastante aproximación, el gráfico de la función.

**274 REPRESENTACION GRAFICA DE LA FUNCION LINEAL DE PRIMER GRADO**

1) Representar gráficamente la función  $y = 2x$ .

Dando valores a  $x$  obtendremos una serie de valores correspondientes de  $y$ :

Para  $x = 0$ ,  $y = 0$ , el origen es un punto del gráfico,

$x = 1$ ,  $y = 2$

$x = 2$ ,  $y = 4$

$x = 3$ ,  $y = 6$ , etc.

Para  $x = -1$ ,  $y = -2$

$x = -2$ ,  $y = -4$

$x = -3$ ,  $y = -6$ , etc.

Representando los valores de  $x$  como abscisas y los valores correspondientes de  $y$  como ordenadas (Fig. 28), obtenemos la serie de puntos que aparecen en el gráfico. La línea recta  $MN$  que pasa por el origen es el gráfico de  $y = 2x$ .

2) Representar gráficamente la función  $y = x + 2$ .

Los valores de  $x$  y los correspondientes de  $y$  suelen disponerse en una tabla como se indica a continuación, escribiendo debajo de cada valor de  $x$  el valor correspondiente de  $y$ :

$x$	-3	-2	-1	0	1	2	3	....
$y$	-1	0	1	2	3	4	5	....

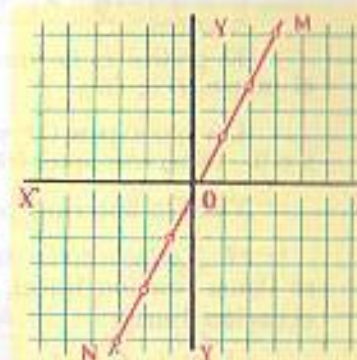


FIGURA 28



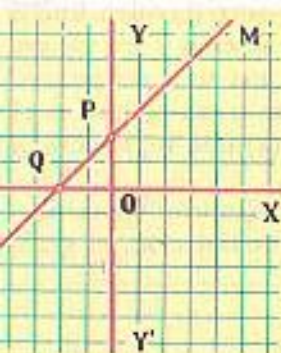


FIGURA 29

Representando los valores de  $x$  como abscisas y los valores correspondientes de  $y$  como ordenadas, según se ha hecho en la Fig. 29, se obtiene la línea recta  $MN$  que no pasa por el origen.  $MN$  es el gráfico de  $y = x + 2$ .

Obsérvese que el punto  $P$ , donde la recta corta el eje de las  $y$ , se obtiene haciendo  $x = 0$ , y el punto  $Q$ , donde la recta corta el eje de las  $x$ , se obtiene haciendo  $y = 0$ .  $OP$  se llama **intercepto** sobre el eje de las  $y$ , y  $OQ$  **intercepto** sobre el eje de las  $x$ . El segmento  $OP$  es la **ordenada en el origen** y el segmento  $OQ$  la **abscisa en el origen**.

Obsérvese también que  $OP = 2$ , igual que el término independiente de la función  $y = x + 2$ .

3) Representar gráficamente la función  $y = 3x$  y la función  $y = 2x + 4$ .

En la función  $y = 3x$ , se tiene:

$x$	-2	-1	0	1	2	...
$y$	-6	-3	0	3	6	...

El gráfico es la línea  $AB$  que pasa por el origen. (Fig. 30).

En la función  $y = 2x + 4$ , tendremos:

$x$	-2	-1	0	1	2	...
$y$	0	2	4	6	8	...

El gráfico es la línea  $CD$  que no pasa por el origen. (Fig. 30).

Los interceptos  $OP$  y  $OQ$  se obtienen,  $OP$  haciendo  $x = 0$  y  $OQ$  haciendo  $y = 0$ . Obsérvese que  $OP = 4$ , término independiente de  $y = 2x + 4$ .

Visto lo anterior, podemos establecer los siguientes principios:

1) Toda función de primer grado representa una línea recta y por eso se llama **función lineal**, y la ecuación que representa la función se llama **ecuación lineal**.

2) Si la función carece de término independiente, o sea si es de la forma  $y = ax$ , donde  $a$  es constante, la línea recta que ella representa pasa por el origen.

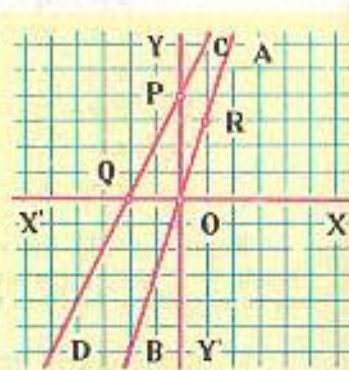


FIGURA 30

3) Si la función tiene término independiente, o sea si es de la forma  $y = ax + b$ , donde  $a$  y  $b$  son constantes, la línea recta que ella representa no pasa por el origen y su intercepto sobre el eje de las  $y$  es igual al término independiente  $b$ .

#### DOS PUNTOS DETERMINAN UNA RECTA

Por tanto, para obtener el gráfico de una función de primer grado, basta obtener dos puntos cualesquiera y unirlos por medio de una línea recta.

Si la función carece de término independiente, como uno de los puntos del gráfico es el origen, basta obtener un punto cualquiera y unirlo con el origen.

Si la función tiene término independiente, lo más cómodo es hallar los interceptos sobre los ejes haciendo  $x = 0$  e  $y = 0$ , y unir los dos puntos que se obtienen.

### Ejemplo

Representar gráficamente la función  $2x - y = 5$  donde  $y$  es la variable dependiente.

Cuando en una función la variable dependiente no está despejada, como en este caso, la función se llama **implícita** y cuando la variable dependiente está despejada, la función es **explícita**.

Despejando  $y$ , tendremos  $y = 2x - 5$ . Ahora la función es explícita.

Para hallar los interceptos sobre los ejes (Fig. 31), diremos:

$$\text{Para } x = 0, \quad y = -5.$$

$$\text{Para } y = 0, \text{ tendremos:}$$

$$0 = 2x - 5 \text{ luego } 5 = 2x \therefore x = 2.5.$$

El gráfico de  $y = 2x - 5$  es la línea recta  $AB$ .

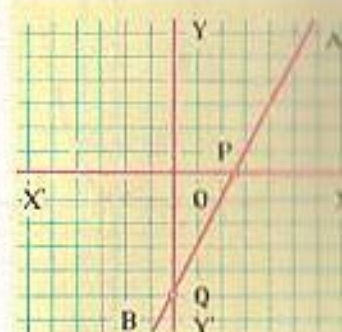


FIGURA 31

#### EJERCICIO 169

Representar gráficamente las funciones:

- |                   |                     |                           |                             |
|-------------------|---------------------|---------------------------|-----------------------------|
| 1. $y = x$ .      | 7. $y = 2x - 4$ .   | 13. $y = 8 - 3x$ .        | 16. $y = \frac{x-9}{3}$ .   |
| 2. $y = -2x$ .    | 8. $y = 3x + 6$ .   |                           |                             |
| 3. $y = x + 2$ .  | 9. $y = 4x + 5$ .   | 14. $y = \frac{5x}{4}$ .  | 17. $y = \frac{5x-4}{2}$ .  |
| 4. $y = x - 3$ .  | 10. $y = -2x + 4$ . |                           |                             |
| 5. $y = x + 4$ .  | 11. $y = -2x - 4$ . | 15. $y = \frac{x+6}{2}$ . | 18. $y = \frac{x}{2} + 4$ . |
| 6. $y = 3x + 3$ . | 12. $y = x - 3$ .   |                           |                             |

Representar las funciones siguientes siendo  $y$  la variable dependiente:

- |                   |                     |                    |                    |
|-------------------|---------------------|--------------------|--------------------|
| 19. $x + y = 0$ . | 21. $2x + y = 10$ . | 23. $4x + y = 8$ . | 25. $5x - y = 2$ . |
| 20. $2x = 3y$ .   | 22. $3y = 4x + 5$ . | 24. $y + 5 = x$ .  | 26. $2x = y - 1$ . |



# 275 GRAFICOS DE ALGUNAS FUNCIONES DE SEGUNDO GRADO

## 1) Gráfico de $y = x^2$ .

Formemos una tabla con los valores de  $x$  y los correspondientes de  $y$ :

$x$	-3	-2.5	-2	-1.5	-1	0	1	1.5	2	2.5	3	....
$y$	9	6.25	4	2.25	1	0	1	2.25	4	6.25	9	....

En el gráfico (Fig. 32) aparecen representados los valores de  $y$  correspondientes a los que hemos dado a  $x$ .

La posición de esos puntos nos indica la forma de la curva; es una parábola, curva ilimitada.

El trazado de la curva uniendo entre sí los puntos que hemos hallado de cada lado del eje de las  $y$  es aproximado. Cuantos más puntos se hallen, mayor aproximación se obtiene.

La operación de trazar la curva habiendo hallado sólo algunos puntos de ella se llama **interpolación**, pues hacemos pasar la curva por muchos otros puntos que no hemos hallado, pero que suponemos pertenecen a la curva.

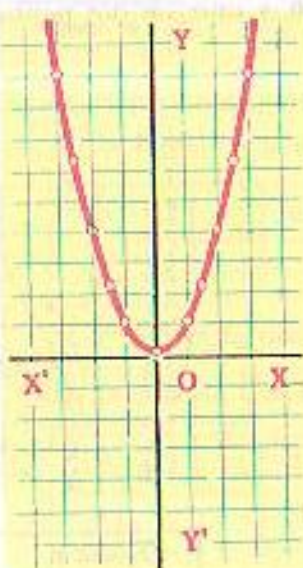


FIGURA 32

## 2) Gráfico de $x^2 + y^2 = 16$ .

Despejando  $y$  tendremos:

$$y^2 = 16 - x^2; \text{ luego, } y = \pm \sqrt{16 - x^2}.$$

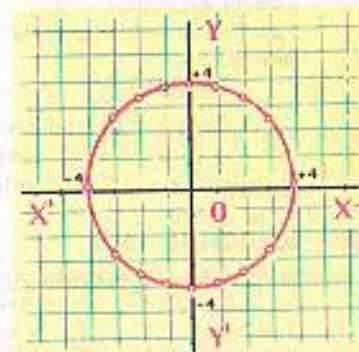


FIGURA 33

El signo  $\pm$  proviene de que la raíz cuadrada de una cantidad positiva tiene dos signos  $+$  y  $-$ . Por ejemplo,  $\sqrt{4} = \pm 2$  porque

$$(+2) \times (+2) = +4 \text{ y } (-2) \times (-2) = +4.$$

Por tanto, en este caso, a cada valor de  $x$  corresponderán dos valores de  $y$ , uno positivo y otro negativo.

Dando valores a  $x$ :

$x$	-4	-3	-2	-1	0	1	2	3	4
$y$	0	$\pm 2.6$	$\pm 3.4$	$\pm 3.8$	$\pm 4$	$\pm 3.8$	$\pm 3.4$	$\pm 2.6$	0

La curva (Fig. 33) es un círculo cuyo centro está en el origen.

Toda ecuación de la forma  $x^2 + y^2 = r^2$  representa un círculo cuyo radio es  $r$ . Así, en el caso anterior, el radio es 4, que es la raíz cuadrada de 16.

## 3) Gráfico de $9x^2 + 25y^2 = 225$ .

Vamos a despejar  $y$ . Tendremos:

$$25y^2 = 225 - 9x^2 \therefore y^2 = \frac{225 - 9x^2}{25}$$

$$y^2 = 9 - \frac{9x^2}{25} \therefore y = \pm \sqrt{9 - \frac{9x^2}{25}}$$

Dando valores a  $x$ , tendremos:

$x$	-5	-4	-3	-2	-1	0	1	2	3	4	5
$y$	0	$\pm 1.8$	$\pm 2.4$	$\pm 2.6$	$\pm 2.8$	$\pm 3$	$\pm 2.8$	$\pm 2.6$	$\pm 2.4$	$\pm 1.8$	0

En la fig. 34 aparecen representados los valores de  $y$  correspondientes a los que hemos dado a  $x$ . La curva que se obtiene es una elipse, curva cerrada.

Toda ecuación de la forma  $a^2x^2 + b^2y^2 = a^2b^2$ , o sea  $\frac{x^2}{b^2} + \frac{y^2}{a^2} = 1$ , representa una elipse.

## 4) Gráfico de $xy = 5$ o $y = \frac{5}{x}$ .

Dando a  $x$  valores positivos, tendremos:

$x$	0	$\frac{1}{2}$	1	2	3	4	5	6	7	8	....	$\pm \infty$
$y$	$\pm \infty$	10	5	2.5	1.6	1.25	1	0.8	0.7	0.6	....	0

Marcando cuidadosamente estos puntos obtenemos la curva situada en el 1.º cuadrante de la Fig. 35.

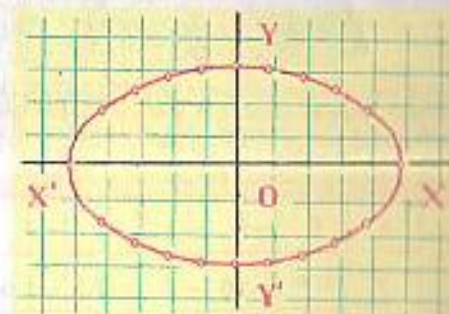


FIGURA 34



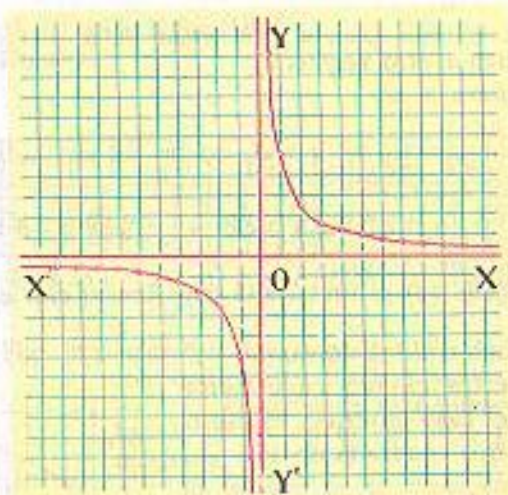


FIGURA 35

Dando a  $x$  valores negativos, tenemos:

$x$	0	$-\frac{1}{2}$	-1	-2	-3	-4	-5	-6	-7	-8	...	$\pm \infty$
$y$	$\pm \infty$	-10	-5	-2.5	-1.6	-1.25	-1	-0.8	-0.7	-0.6	...	0

Marcando cuidadosamente estos puntos obtenemos la curva situada en el 3er. cuadrante de la Fig. 35.

La curva se aproxima indefinidamente a los ejes sin llegar a tocarlos; *los toca en el infinito*.

La curva obtenida es una **hipérbola rectangular**. Toda ecuación de la forma  $xy = a$  o  $y = \frac{a}{x}$  donde  $a$  es constante, representa una hipérbola de esta clase.

La parábola, la elipse y la hipérbola se llaman secciones cónicas o simplemente cónicas. El círculo es un caso especial de la elipse.

Estas curvas son objeto de un detenido estudio en Geometría Analítica.

#### OBSERVACION


En los gráficos no es imprescindible que la unidad sea una división del papel cuadrículado. Puede tomarse como unidad dos divisiones, tres divisiones, etc. En muchos casos esto es muy conveniente.

La unidad para las ordenadas puede ser distinta que para las abscisas.

#### ■ EJERCICIO 170

Hallar el gráfico de:

- |                           |                             |                               |
|---------------------------|-----------------------------|-------------------------------|
| 1. $y = 2x^2$ .           | 6. $y = x^2 + 1$ .          | 11. $x^2 + y^2 = 49$ .        |
| 2. $y = \frac{x^2}{2}$ .  | 6. $y - x^2 = 2$ .          | 12. $y = x^2 - 3x$ .          |
| 3. $x^2 + y^2 = 25$ .     | 7. $xy = 4$ .               | 13. $xy = 6$ .                |
| 4. $9x^2 + 16y^2 = 144$ . | 8. $x^2 + y^2 = 36$ .       | 14. $y = x + \frac{x^2}{2}$ . |
|                           | 9. $y = x^2 + 2x$ .         |                               |
|                           | 10. $36x^2 + 25y^2 = 900$ . |                               |



ISAAC NEWTON (1642-1727). El más grande de los matemáticos ingleses. Su libro "Principia Mathematica", considerado como uno de los más grandes portentos de la mente humana, le bastaría para ocupar un lugar sobresaliente en la historia de las matemáti-

cas. Descubrió, casi simultáneamente con Leibniz, el Cálculo Diferencial y el Cálculo Integral. Basándose en los trabajos de Kepler, formuló la Ley de Gravitación Universal. Ya en el dominio elemental del Álgebra debemos el desarrollo del Binomio que lleva su nombre.

## CAPITULO XXI

### GRAFICAS. APLICACIONES PRACTICAS

#### 276 UTILIDAD DE LOS GRAFICOS

Es muy grande. En Matemáticas, en Física, Estadística, en la industria, en el comercio se emplean muchos los gráficos. Estudiaremos algunos casos prácticos.

277 Siempre que una cantidad sea proporcional a otra es igual a esta otra multiplicada por una constante (260). Así, si  $y$  es proporcional a  $x$ , podemos escribir  $y = ax$ , donde  $a$  es constante y sabemos que esta ecuación representa una línea recta que pasa por el origen (274).

Por tanto, las variaciones de una cantidad proporcional a otra estarán representadas por una línea recta que pasa por el origen.

Pertenecen a este caso el salario proporcional al tiempo de trabajo; el costo proporcional al número de cosas u objetos comprados; el espacio proporcional al tiempo, si la velocidad es constante, etc.



## Ejemplos

- (1) Un obrero gana \$2 por hora. Hallar la gráfica del salario en función del tiempo.

Sobre el eje de las  $x$  (fig. 36) señalamos el tiempo. Cuatro divisiones representan una hora y sobre el eje de las  $y$  el salario, cada división representa un peso.



FIGURA 36

En una hora el obrero gana \$2; determinamos el punto A que marca el valor del salario \$2 para una hora y como el salario es proporcional al tiempo, la gráfica tiene que ser una línea recta que pase por el origen. Unimos A con O y la recta OM es la gráfica del salario.

Esta tabla gráfica nos da el valor del salario para cualquier número de horas. Para saber el salario correspondiente a un tiempo dado no hay

más que leer el valor de la ordenada para ese valor de la abscisa. Así se ve que en 2 horas el salario es \$4; en 2 horas y cuarto \$4.50; en 3 horas, \$6; en 3 horas y 45 minutos o  $3\frac{3}{4}$  horas, \$7.50.

- (2) Sabiendo que 15 dólares equivalen a 225 sucres, formar una tabla que permita convertir dólares en sucres y viceversa.

Las abscisas serán dólares, (fig. 37), cada división es U. S. \$1.00; las ordenadas sucres, cada división 15 sucres. Hallamos el valor de la ordenada cuando la abscisa es U. S. \$15.00 y tenemos el punto A. Unimos este punto con O y tendremos la gráfica OM.

Dando suficiente extensión a los ejes, podemos saber cuántos sucres son cualquier número de dólares. En el gráfico se ve que U. S. \$1 equivale a 15 sucres, U. S. \$4.50 equivalen a 67.50 sucres, U. S. \$9 a 135 sucres y U. S. \$18 a 270 sucres.

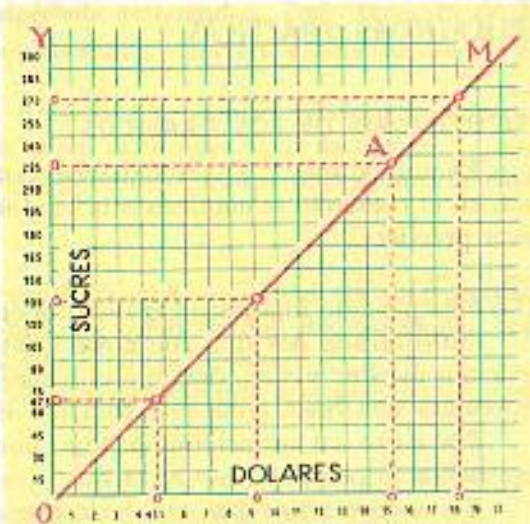


FIGURA 37

- (3) Un tren que va a 40 Km por hora sale de un punto O a las 7 a. m. Construir una gráfica que permita hallar a qué distancia se halla del punto de partida en cualquier momento y a qué hora llegará al punto P situado a 140 Km de O.



FIGURA 38

Las horas (fig. 38), son las abscisas; cada división es 10 minutos. Las distancias las ordenadas; cada división 20 Km.

Saliendo a las 7, a las 8 habrá andado ya 40 Km. Marcamos el punto A y lo unimos con O. La línea OM es la gráfica de la distancia.

Midiendo el valor de la ordenada, veremos que por ejemplo, a las 8 y 20 se halla a 53.3 Km del punto de partida; a las 9 y 15 a 90 Km. Al punto P situado a 140 Km llega a las 10 y 30 a.m.

- (4) Un hombre sale de O hacia M, situado a 20 Km de O a las 10 a. m. y va a 8 Km por hora. Cada vez que anda una hora, se detiene 20 minutos para descansar. Hallar gráficamente a qué hora llegará a M.

Cada división de OX (fig. 39), representa 10 minutos; cada división de OY representa 4 Km.



FIGURA 39



Como va a 8 Km por hora y sale a las 10 a. m. a las 11 habrá andado ya 8 Km; se halla en A.

El tiempo que descansa, de 11 a 11.20 se expresa con un segmento AB paralelo al eje de las horas, porque el tiempo sigue avanzando. A las 11 y 20 emprende de nuevo su marcha y en una hora, de 11.20 a 12.20 recorre otros 8 Km, luego se hallará en C que corresponde a la ordenada 16 Km. Descansa otros 20 minutos, de 12.20 a 12.40, (segmento CD) y a las 12.40 emprende otra vez la marcha. Ahora le faltan 4 Km para llegar a M. De D a M la ordenada aumenta 4 Km y al punto M corresponde en la abscisa la 1 y 10 p. m. R.

## EJERCICIO 171

ELIJA LAS UNIDADES ADECUADAS!

1. Construir una gráfica que permita hallar el costo de cualquier número de metros de tela (hasta 10 m) sabiendo que 3 m cuestan \$4.
2. Sabiendo que 5 m de tela cuestan \$6, hallar gráficamente cuánto cuestan 8 m, 9 m, 12 m y cuántos metros se pueden comprar con \$20.
3. Sabiendo que 1 dólar = 15 sucres, construir una gráfica que permita cambiar sucres por dólares y viceversa hasta 20 dólares. Halle gráficamente cuántos dólares son 37.50, 45 y 63 sucres, y cuántos sucres son 4.50 y 7 dólares.
4. Sabiendo que bs. 200 ganan bs. 16 al año, construya una gráfica que permita hallar el interés anual de cualquier cantidad hasta bs. 1000. Halle gráficamente el interés de bs. 450, bs. 700 y bs. 925 en un año.
5. Por 3 horas de trabajo un hombre recibe 18 soles. Halle gráficamente el salario de 4 horas, 5 horas y 7 horas.
6. Un tren va a 60 Km por hora. Hallar gráficamente la distancia recorrida al cabo de 1 hora y 20 minutos, 2 horas y cuarto, 3 horas y media.
7. Hallar la gráfica del movimiento uniforme de un móvil a razón de 8 m por segundo hasta 10 segundos. Halle gráficamente la distancia recorrida en  $5\frac{1}{2}$  seg., en  $7\frac{1}{2}$  seg.
8. Un hombre sale de O hacia M, situado a 60 Km de O, a las 6 a.m. y va a 10 Km por hora. Al cabo de 2 horas descansa 20 minutos y reanuda su marcha a la misma velocidad anterior. Hallar gráficamente a qué hora llega a M.
9. Un hombre sale de O hacia M, situado a 33 Km de O, a las 5 a.m. y va a 9 Km por hora. Cada vez que anda una hora, descansa 10 minutos. Hallar gráficamente a qué hora llega a M.
10. Un hombre sale de O hacia M, situado a 63 Km de O, a 10 Km por hora, a las 11 a.m. y otro sale de M hacia O, en el mismo instante, a 8 Km por hora. Determinar gráficamente el punto de encuentro y la hora a que se encuentran.
11. Un litro de un líquido pesa 800 g. Hallar gráficamente cuánto pesan 1.4 l, 2.8 l y 3.75 l.
12. 1 Kg = 2.2 lb. Hallar gráficamente cuántos Kg son 11 lb y cuántas libras son 5.28 Kg.
13. Si 6 yardas = 5.5 m, hallar gráficamente cuántas yardas son 22 m, 38.5 m.
14. Un auto sale de A hacia B, situado a 200 Km de A, a las 8 a.m. y regresa sin detenerse en B. A la ida va a 40 Km por hora y a la vuelta a 50 Km por hora. Hallar la gráfica del viaje de ida y vuelta y la hora a que llega al punto de partida.

## 278 ESTADÍSTICA

Las cuestiones de Estadística son de extraordinaria importancia para la industria, el comercio, la educación, la salud pública, etc. La Estadística es una ciencia que se estudia hoy en muchas Universidades.

Daremos una ligera idea acerca de estas cuestiones, aprovechando la oportunidad que nos ofrece la representación gráfica.

## 279 METODOS DE REPRESENTACION EN ESTADISTICA

El primer paso para hacer una estadística es conseguir todos los datos posibles acerca del asunto de que se trate.

Cuanto más datos se reúnan, más fiel será la estadística.

Una vez en posesión de estos datos y después de clasificarlos rigurosamente se procede a la representación de los mismos, lo cual puede hacerse por medio de tabulares y de gráficos.

## 280 TABULAR

Cuando los datos estadísticos se disponen en columnas que puedan ser leídas vertical y horizontalmente, tenemos un tabular.

En el título del tabular se debe indicar su objeto y el tiempo y lugar a que se refiere, todo con claridad. Los datos se disponen en columnas separadas unas de otras por rayas y encima de cada columna debe haber un título que explique lo que la columna representa. Las filas horizontales tienen también sus títulos.

Los totales de las columnas van al pie de las mismas y los totales de las filas horizontales en su extremo derecho, generalmente.

Los tabulares, según su índole, pueden ser de muy diversas formas y clases. A continuación ponemos un ejemplo de tabular:

### VENTAS DE LA AGENCIA DE MOTORES "P. R." - CARACAS

ENERO - JUNIO

CAMIONES Y AUTOMOVILES POR MESES

MESES	CAMIONES	AUTOMOVILES			TOTAL AUTOMOVILES Y CAMIONES
		CERRADOS	ABIERTOS	TOTAL	
ENERO	18	20	2	22	40
FEBRERO	24	30	5	35	59
MARZO	31	40	8	48	79
ABRIL	45	60	12	72	117
MAYO	25	32	7	39	64
JUNIO	15	20	3	23	38
TOTALES	158	202	37	239	397



## 281 GRAFICOS

Por medio de gráficos se puede representar toda clase de datos estadísticos. Gráficamente, los datos estadísticos se pueden representar por medio de barras, círculos, líneas rectas o curvas.

## 282 BARRAS

Cuando se quieren expresar simples comparaciones de medidas se emplean las barras, que pueden ser horizontales o verticales. Estos gráficos suelen llevar su escala. Cuando ocurre alguna anomalía, se aclara con una nota al pie.

Ejemplo de gráfico con barras horizontales.

PRODUCCION DE CAÑA DE LA COLONIA "K"  
POR AÑOS 1951 - 57  
MILLONES DE ARROBAS



SEQUIA

FIGURA 40

Ejemplo de gráfico con barras verticales.

CIRCULACION DE LA REVISTA "H"  
MILLARES DE EJEMPLARES  
POR MESES JULIO-DIC.

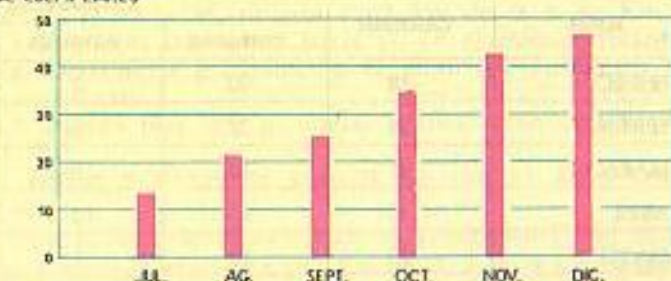


FIGURA 41

## 283 CIRCULOS

Algunas veces en la comparación de medidas se emplean círculos, de modo que sus diámetros o sus áreas sean proporcionales a las cantidades que se comparan.



En la figura 42-A se representan las ventas de una casa de comercio durante un año, \$40000 en la Capital y \$20000 en el interior, por medio de dos círculos, siendo el diámetro del que representa \$40000 doble del que representa \$20000. En la figura 42-B el área del círculo mayor es doble que la del menor.

Siempre es preferible usar el sistema de áreas proporcionales a las cantidades que se representan en vez del de diámetros.

Este sistema no es muy usado; es preferible el de las barras.

Los círculos se emplean también para comparar entre sí las partes que forman un todo, representando las partes por sectores circulares cuyas áreas sean proporcionales a las partes que se comparan.

Así, para indicar que de los \$30000 de venta de una casa de tejidos en 1958, el 20% se vendió al contado y el resto a plazos, se puede proceder así:





Es preferible el método de barras *B*, dada la dificultad de calcular claramente el área del sector circular.

Para expresar que de los \$120000 en mercancías que tiene en existencia un almacén, el 25% es azúcar, el 20% es café y el resto víveres, podemos proceder así:




FIGURA 44

Los gráficos anteriores en que las partes de un todo se representan por sectores circulares son llamados en inglés "pie charts", (gráficos de pastel) porque los sectores tienen semejanza con los cortes que se dan a un pastel.

## 284 LINEAS RECTAS O CURVAS. GRAFICOS POR EJES COORDENADOS

Cuando en Estadística se quieren expresar las variaciones de una cantidad en función del tiempo se emplea la representación gráfica por medio de ejes coordenados. Las abscisas representan los tiempos y las ordenadas la otra cantidad que se relaciona con el tiempo.

Cuando una cantidad  $y$  es proporcional al tiempo  $t$ , la ecuación que la liga con éste es de forma  $y = at$ , donde  $a$  es constante, luego el gráfico de sus variaciones será una línea recta a través del origen y si su relación con el tiempo es de la forma  $y = at + b$ , donde  $a$  y  $b$  son constantes, el gráfico será una línea recta que no pasa por el origen.

Así, la estadística gráfica de las ganancias de un almacén de 1954 a 1957, sabiendo que en 1954 ganó \$2000 y que en cada año posterior ganó \$2000 más que en el inmediato anterior, está representado por la línea recta  $OM$  en la fig. 45.

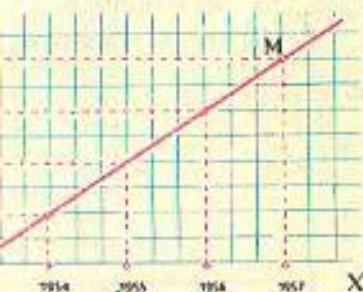


FIGURA 45

Pero esto no es lo más corriente. Lo usual es que las variaciones de la cantidad que representan las ordenadas sean más o menos irregulares y entonces el gráfico es una línea curva o quebrada.

La fig. 46 muestra las variaciones de la temperatura mínima en una ciudad del día 15 al 20 de diciembre. Se ve que el día 15 la mínima fue 17.5°; el día 16 de 10°, el día 17 de 15°, el 18 de 25°, el 19 de 22° y el 20 de 15°. La línea quebrada que se obtiene es la gráfica de las variaciones de la temperatura.



FIGURA 46

En la fig. 47 se representa la producción de una fábrica de automóviles durante los 12 meses del año en los años 1954, 1955, 1956 y 1957.

El valor de la ordenada correspondiente a cada mes da la producción en ese mes.

El gráfico exhibe los meses de mínima y máxima producción en cada año.



FIGURA 47

En la fig. 48 se exhibe el aumento de la población de una ciudad, desde 1935 hasta 1960. Se ve que en 1935 la población era de 5000 almas; el aumento de 1935 a 1940 es de 2000 almas; de 1940 a 1945 de 6000 almas; etc. La población en 1955 es de 30000 almas y en 1960 de 47000 almas.



FIGURA 48

## ■ EJERCICIO 172

1. Expresé por medio de barras horizontales o verticales que en 1962 las colonias del Central X produjeron: La colonia A, 2 millones de arrobas; la colonia B, 3 millones y medio; la colonia C, un millón y cuarto y la colonia D, 4½ millones.
2. Expresé por barras que de los 200 alumnos de un colegio, hay 50 de 10 años, 40 de 11 años, 30 de 13 años, 60 de 14 años y 20 de 15 años.
3. Expresé por medio de sectores circulares y de barras que de los 80000 sacos de mercancías que tiene un almacén, el 40% son de azúcar y el resto de arroz.



4. Expresé por medio de sectores circulares y de barras que de los 200000 autos que produjo una fábrica en 1962 100000 fueron camiones, 40000 autos abiertos y el resto cerrados.
5. Expresé por barras horizontales que el ejército del país A tiene 3 millones de hombres, el de B un millón 800000 hombres y el de C 600000 hombres.
6. Expresé por medio de barras verticales que la circulación de una revista de marzo a julio de 1962 ha sido: marzo, 10000 ejemplares; abril, 14000; mayo, 22000; junio, 25000 y julio, 30000.
7. Indique por medio de barras que un almacén ganó en 1956 \$3000 y después cada año hasta 1962, ganó \$1500 más que el año anterior.
8. Expresé por medio de barras que un hombre tiene invertido en casas bs. 540000; en valores bs. 400000 y en un Banco bs. 120000.
9. Expresé por medio de barras que un país exportó mercancías por los siguientes valores: en 1957, 14 millones de pesos; en 1958, 17 millones; en 1959, 22 millones; en 1960 30 millones; en 1962 25 millones y en 1962 40 millones.
10. Haga un gráfico que exprese las temperaturas máximas siguientes: Día 14, 32°; día 15, 35°; día 16, 38°; día 17, 22°; día 18, 15°; día 19, 25°.
11. Haga un gráfico que exprese las siguientes temperaturas de un enfermo: Día 20: a las 12 de la noche, 39°; a las 6 a.m., 39.5°; a las 12 del día 40°; a las 6 p.m., 38.5°. Día 21: a las 12 de la noche, 38°; a las 6 a.m., 37°; a las 12 del día, 37.4°; a las 6 p.m., 36°.
12. Las cotizaciones del dólar han sido: Día 10, 18.20 soles; día 11, 18.40; día 12, 19.00; día 13, 18.80; día 14, 18.60. Expresé gráficamente esta cotización.
13. Un alumno se examina de Algebra todos los meses. En octubre obtuvo 55 puntos y en cada mes posterior hasta mayo obtuvo 5 puntos más que en el mes anterior. Hallar la gráfica de sus calificaciones.
14. Las calificaciones de un alumno en Algebra han sido: octubre 15, 90 puntos; oct. 30, 60 puntos; nov. 15, 72 puntos; nov. 30, 85 puntos; dic. 15, 95 puntos. Hallar la gráfica de sus calificaciones.
15. La población de una ciudad fue en 1930, 5000 almas; en 1940, 10000 almas; en 1950, 20000 almas; en 1960, 40000. Hallar la gráfica del aumento de población.
16. Las ventas de un almacén han sido: 1957, \$40000; 1958, \$60000; 1959, \$35000; 1960 \$20000; 1961 \$5000; 1962, \$12500. Hallar la gráfica de las ventas.
17. Las importaciones de un almacén de febrero a noviembre de 1962 han sido: febrero, \$56000; marzo, \$80000; abril, \$90000; mayo, \$100000; junio, \$82000; julio, \$74000; agosto, \$60000; septiembre, \$94000; octubre, \$75000 y noviembre, \$63000. Hallar la gráfica.
18. Las cantidades empleadas por una compañía en salarios de sus obreros de julio a diciembre de 1962 fueron: julio \$25000; agosto, \$30000; sept., \$40000; oct., \$20000; nov., \$12000; dic., \$23000. Hallar la gráfica de los salarios.
19. Recomendamos a todo alumno como ejercicio muy interesante que lleve una estadística gráfica de sus calificaciones de todo el curso en esta asignatura.



GOTTFRIED WILHELM LEIBNITZ (1646-1716) Filósofo y matemático alemán. La mente más universal de su época. Dominó toda la filosofía y toda la ciencia de su tiempo. Descubrió simultáneamente con Newton el Cálculo Diferencial. Desarrolló notablemente el

Análisis Combinatorio. Mantuvo durante toda su vida la idea de una matemática simbólica universal. Grassman comenzó a lograr al desarrollar el Álgebra de Hamilton. Murió cuando escribía la historia de la familia Brunswick en la Biblioteca de Hannover.

## ECUACIONES INDETERMINADAS

### 285 ECUACIONES DE PRIMER GRADO CON DOS VARIABLES

Consideremos la ecuación  $2x + 3y = 12$ , que tiene dos variables o incógnitas. Despejando  $y$ , tendremos:

$$3y = 12 - 2x \quad \therefore y = \frac{12 - 2x}{3}$$

Para cada valor que demos a  $x$  obtenemos un valor para  $y$ . Así, para

$$\begin{array}{ll} x=0, & y=4 \\ x=1, & y=3\frac{1}{3} \end{array} \quad \begin{array}{ll} x=2, & y=2\frac{2}{3} \\ x=3, & y=2, \text{ etc.} \end{array}$$

Todos estos pares de valores, sustituidos en la ecuación dada, la convierten en identidad, o sea que satisfacen la ecuación. Dando valores a  $x$  podemos obtener infinitos pares de valores que satisfacen la ecuación. Esta es una ecuación indeterminada. Entonces, toda ecuación de primer grado con dos variables es una ecuación indeterminada.

### 286 RESOLUCIÓN DE UNA ECUACIÓN DE PRIMER GRADO CON DOS INCOGNITAS. SOLUCIONES ENTERAS Y POSITIVAS

Hemos visto que toda ecuación de primer grado con dos incógnitas es indeterminada, tiene infinitas soluciones; pero si fijamos la condición de



que las soluciones sean enteras y positivas, el número de soluciones puede ser limitado en algunos casos.

## Ejemplos

- (1) Resolver  $x + y = 4$ , para valores enteros y positivos.

Despejando  $y$ , tenemos:  $y = 4 - x$ .

El valor de  $y$  depende del valor de  $x$ ;  $x$  tiene que ser entero y positiva según la condición fijada, y para que  $y$  sea entera y positiva, el mayor valor que podemos dar a  $x$  es 3, porque si  $x = 4$ , entonces  $y = 4 - x = 4 - 4 = 0$ , y si  $x$  es 5 ya se tendría  $y = 4 - 5 = -1$ , negativa. Por tanto, las soluciones enteras y positivas de la ecuación, son:

$$\begin{array}{ll} x=1 & y=3 \\ x=2 & y=2 \\ x=3 & y=1 \end{array} \quad \text{R.}$$

- (2) Resolver  $5x + 7y = 128$  para valores enteros y positivos.

Despejando  $x$  que tiene el menor coeficiente, tendremos:

$$5x = 128 - 7y \quad \therefore x = \frac{128 - 7y}{5}$$

Ahora descomponemos  $128 - 7y$  en dos sumandos uno de los cuales sea el mayor múltiplo de 5 que contiene cada uno, y tendremos:

$$x = \frac{125 + 3 - 5y - 2y}{5} = \frac{125}{5} - \frac{5y}{5} + \frac{3 - 2y}{5} = 25 - y + \frac{3 - 2y}{5}$$

luego queda:  $x = 25 - y + \frac{3 - 2y}{5}$  y de aquí  $x - 25 + y = \frac{3 - 2y}{5}$

Siendo  $x$  e  $y$  enteros, (condición fijada) el primer miembro de esta igualdad tiene que ser entero, luego el segundo miembro será entero y tendremos:

$$\frac{3 - 2y}{5} = \text{entero.}$$

Ahora multiplicamos el numerador por un número tal que al dividir el coeficiente de  $y$  entre 5 nos dé de residuo 1, en este caso por 3, y tendremos:

$$\frac{9 - 6y}{5} = \text{entero}$$

$$\text{o sea } \frac{9 - 6y}{5} = \frac{5 + 4 - 5y - y}{5} = \frac{5}{5} - \frac{5y}{5} + \frac{4 - y}{5} = 1 - y + \frac{4 - y}{5} = \text{entero}$$

luego nos queda  $1 - y + \frac{4 - y}{5} = \text{entero.}$

Para que  $1 - y + \frac{4 - y}{5}$  sea entero es necesario que  $\frac{4 - y}{5} = \text{entero.}$  Llamemos  $m$  a este entero:  $\frac{4 - y}{5} = m.$

$$\frac{4 - y}{5} = m.$$

$$\begin{aligned} \text{Despejando } y: \quad 4 - y &= 5m \\ -y &= 5m - 4 \\ y &= 4 - 5m. \end{aligned} \quad (1)$$

Sustituyendo este valor de  $y$  en la ecuación dada  $5x + 7y = 128$ , tenemos:

$$\begin{aligned} 5x + 7(4 - 5m) &= 128 \\ 5x + 28 - 35m &= 128 \\ 5x &= 100 + 35m \\ x &= \frac{100 + 35m}{5} \end{aligned}$$

$$x = 20 + 7m. \quad (2)$$

Reuniendo los resultados (1) y (2), tenemos:

$$\begin{cases} x = 20 + 7m \\ y = 4 - 5m \end{cases} \text{ donde } m \text{ es entero.}$$

Ahora, dando valores a  $m$  obtendremos valores para  $x$  e  $y$ . Si algún valor es negativo, se desecha la solución.

$$\begin{array}{lll} \text{Así: Para } m=0 & x=20, & y=4 \\ m=1 & x=27, & y=-1 \text{ se desecha.} \end{array}$$

No se prueban más valores positivos de  $m$  porque darían la  $y$  negativa.

$$\begin{array}{lll} \text{Para } m=-1 & x=13, & y=9 \\ m=-2 & x=6, & y=14 \\ m=-3 & x=-1, & \text{se desecha.} \end{array}$$

No se prueban más valores negativos de  $m$  porque darían la  $x$  negativa. Por tanto, las soluciones enteras y positivas de la ecuación, son:

$$\begin{array}{ll} x=20 & y=4 \\ x=13 & y=9 \\ x=6 & y=14 \end{array} \quad \text{R.}$$

Los resultados (1) y (2) son la solución general de la ecuación.

- 3) Resolver  $7x - 12y = 17$  para valores enteros y positivos.

$$\text{Despejando } x: 7x = 17 + 12y \quad \therefore x = \frac{17 + 12y}{7}$$

$$\text{o sea } x = \frac{14 + 3 + 7y + 5y}{7} = \frac{14}{7} + \frac{7y}{7} + \frac{3 + 5y}{7} = 2 + y + \frac{3 + 5y}{7}$$

$$\text{luego queda } x = 2 + y + \frac{3 + 5y}{7}$$

$$\text{o sea } x - 2 - y = \frac{3 + 5y}{7}$$

Siendo  $x$  e  $y$  enteros,  $x - 2 - y$  es entero, luego

$$\frac{3 + 5y}{7} = \text{entero.}$$



Multiplicando el numerador por 3 (porque  $3 \times 5 = 15$  dividido entre 7 da residuo 1) tendremos:

$$\frac{9+15y}{7} = \text{entero}$$

$$\text{o sea } \frac{9+15y}{7} = \frac{7+2+14y+y}{7} = \frac{7}{7} + \frac{14y}{7} + \frac{y+2}{7} = 1 + 2y + \frac{y+2}{7} = \text{entero}$$

luego queda:  $1 + 2y + \frac{y+2}{7} = \text{entero}.$

Para que esta expresión sea un número entero, es necesario que  $\frac{y+2}{7} = \text{entero}.$

Llamemos  $m$  a este entero:  $\frac{y+2}{7} = m.$

Despejando  $y$ :  $y+2=7m$   
 $y=7m-2.$  (1)

Sustituyendo este valor de  $y$  en la ecuación dada  $7x-12y=17$ , se tiene:

$$7x - 12(7m - 2) = 17$$

$$7x - 84m + 24 = 17$$

$$7x = 84m - 7$$

$$x = \frac{84m - 7}{7}$$

$$x = 12m - 1. \quad (2)$$

La solución general es:  $\begin{cases} x = 12m - 1 \\ y = 7m - 2 \end{cases}$  donde  $m$  es entero.

Si  $m$  es cero o negativo,  $x$  e  $y$  serían negativas; se desechan esas soluciones. Para cualquier valor positivo de  $m$ ,  $x$  e  $y$  son positivas, y tendremos:

Para	$m=1$	$x=11$	$y=5$
	$m=2$	$x=23$	$y=12$
	$m=3$	$x=35$	$y=19$
	$m=4$	$x=47$	$y=26$

y así sucesivamente, luego el número de soluciones enteras y positivas es ilimitado.

#### OBSERVACION

Si en la ecuación dada el término que contiene la  $x$  está conectado con el término que contiene la  $y$  por medio del signo  $+$  el número de soluciones enteras y positivas es limitado y si está conectado por el signo  $-$  es ilimitado.

#### EJERCICIO 173

Hallar todas las soluciones enteras y positivas de:

- |                 |                   |                    |                    |
|-----------------|-------------------|--------------------|--------------------|
| 1. $x+y=5.$     | 6. $15x+7y=136.$  | 11. $7x+5y=104.$   | 16. $10x+13y=294.$ |
| 2. $2x+3y=37.$  | 7. $x+5y=24.$     | 12. $10x+y=32.$    | 17. $11x+8y=300.$  |
| 3. $3x+5y=43.$  | 8. $9x+11y=203.$  | 13. $9x+4y=86.$    | 18. $21x+25y=705.$ |
| 4. $x+3y=9.$    | 9. $5x+2y=73.$    | 14. $9x+11y=207.$  |                    |
| 5. $7x+8y=115.$ | 10. $8x+13y=162.$ | 15. $11x+12y=354.$ |                    |

Hallar la solución general y los tres menores pares de valores enteros y positivos de  $x$  e  $y$  que satisfacen las ecuaciones siguientes:

- |                  |                   |                    |
|------------------|-------------------|--------------------|
| 19. $3x-4y=5.$   | 22. $11x-12y=0.$  | 25. $8x-13y=407.$  |
| 20. $5x-8y=1.$   | 23. $14x-17y=32.$ | 26. $20y-23x=411.$ |
| 21. $7x-13y=43.$ | 24. $7x-11y=83.$  | 27. $5y-7x=312.$   |

#### PROBLEMAS SOBRE ECUACIONES INDETERMINADAS

**287** Un comerciante emplea Q. 64 en comprar lapiceros a Q. 3 cada uno y plumas-fuentes a Q. 5 cada una. ¿Cuántos lapiceros y cuántas plumas-fuentes puede comprar?

Sea  $x$  = número de lapiceros.  
 $y$  = número de plumas-fuentes.

Como cada lapicero cuesta Q. 3, los  $x$  lapiceros costarán Q.  $3x$  y como cada pluma cuesta Q. 5, las  $y$  plumas costarán Q.  $5y$ . Por todo se paga Q. 64; luego, tenemos la ecuación:

$$3x + 5y = 64$$

Resolviendo esta ecuación para valores enteros y positivos, se obtienen las soluciones siguientes:

$x=18, y=2$	$x=8, y=8$
$x=13, y=5$	$x=3, y=11$

luego, por Q. 64 puede comprar 18 lapiceros y 2 plumas o 13 lapiceros y 5 plumas u 8 lapiceros y 8 plumas o 3 lapiceros y 11 plumas. R.

#### EJERCICIO 174

- ¿De cuántos modos se pueden tener \$42 en billetes de \$2 y de \$5?
- ¿De cuántos modos se pueden pagar \$45 en monedas de \$5 y de \$10?
- Hallar dos números tales que si uno se multiplica por 5 y el otro por 3, la suma de sus productos sea 62.
- Un hombre pagó 340 bolígrafos por sombreros a Bs. 8 y pares de zapatos a Bs. 15. ¿Cuántos sombreros y cuántos pares de zapatos compró?
- Un hombre pagó \$42 por tela de lana a \$1.50 el metro y de seda a \$2.50 el metro. ¿Cuántos metros de lana y cuántos de seda compró?
- En una excursión cada niño pagaba 45 cts. y cada adulto \$1. Si el gasto total fue de \$17, ¿cuántos adultos y niños iban?
- Un ganadero compró caballos y vacas por 41000 sucres. Cada caballo le costó 460 sucres y cada vaca 440 sucres. ¿Cuántos caballos y vacas compró?
- El triplo de un número aumentado en 3 equivale al quíntuplo de otro aumentado en 5. Hallar los menores números positivos que cumplen esta condición.
- ¿De cuántos modos se pueden pagar \$2.10 con monedas de 25 cts. y de 10 cts.?



**288 REPRESENTACION GRAFICA DE UNA ECUACION LINEAL**

Las ecuaciones de primer grado con dos variables se llaman ecuaciones lineales porque representan líneas rectas. En efecto:

Si en la ecuación  $2x - 3y = 0$ , despejamos  $y$ , tenemos:

$$-3y = -2x, \text{ o sea, } 3y = 2x \therefore y = \frac{2}{3}x$$

y aquí vemos que  $y$  es función de primer grado de  $x$  sin término independiente, y sabemos (274) que toda función de primer grado sin término independiente representa una línea recta que pasa por el origen.

Si en la ecuación  $4x - 5y = 10$  despejamos  $y$ , tenemos:

$$-5y = 10 - 4x \text{ o sea } 5y = 4x - 10 \therefore y = \frac{4x - 10}{5} \text{ o sea } y = \frac{4}{5}x - 2$$

y aquí vemos que  $y$  es función de primer grado de  $x$  con término independiente, y sabemos que toda función de primer grado con término independiente representa una línea recta que no pasa por el origen (274). Por tanto:

Toda ecuación de primer grado con dos variables representa una línea recta.

Si la ecuación carece de término independiente, la línea recta que ella representa pasa por el origen.

Si la ecuación tiene término independiente, la línea recta que ella representa no pasa por el origen.

**Ejemplos****(1) Representar gráficamente la ecuación  $5x - 3y = 0$ .**

Como la ecuación carece de término independiente el origen es un punto de la recta. (Fig. 49). Basta hallar otro punto cualquiera y unirlo con el origen. Despejando  $y$ :

$$-3y = -5x \text{ o sea } 3y = 5x \therefore y = \frac{5}{3}x$$

Hallamos el valor de  $y$  para un valor cualquiera de  $x$ , por ejemplo:

Para  $x = 3$ ,  $y = 5$ .

El punto  $(3, 5)$  es un punto de la recta, que unido con el origen determina la recta  $5x - 3y = 0$ .

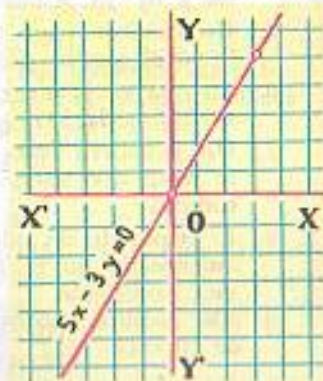


FIGURA 49

**(2) Gráfico de  $3x + 4y = 15$ .**

Como la ecuación tiene término independiente la línea recta que ella representa no pasa por el origen. En este caso, lo más cómodo es hallar los interceptos sobre los ejes. El intercepto sobre el eje de las  $x$  se obtiene haciendo  $y = 0$  y el intercepto sobre el eje de las  $y$  se obtiene haciendo  $x = 0$ .

Tenemos:

$$\begin{aligned} \text{Para } y = 0, \quad x &= 5 \\ x = 0, \quad y &= 3\frac{3}{4}. \end{aligned}$$

Marcando los puntos  $(5, 0)$  y  $(0, 3\frac{3}{4})$ , (Fig. 50), y uniéndolos entre sí queda representada la recta que representa la ecuación  $3x + 4y = 15$ .



FIGURA 50

**(3) Gráfico de  $x - 3 = 0$ .**

Despejando  $x$ , se tiene  $x = 3$ .

Esta ecuación equivale a  $0y + x = 3$ .

Para cualquier valor de  $y$ , el término  $0y = 0$ . Para  $y = 0$ ,  $x = 3$ ; para  $y = 1$ ,  $x = 3$ ; para  $y = 2$ ,  $x = 3$ , etc., luego la ecuación  $x = 3$  es el lugar geométrico de todos los puntos cuya abscisa es 3, o sea que  $x - 3 = 0$  ó  $x = 3$  representa una línea recta paralela al eje de las  $y$  que pasa por el punto  $(3,0)$ . (Fig. 51).

Del propio modo,  $x + 2 = 0$  ó  $x = -2$  representa una línea recta paralela al eje de las  $y$  que pasa por el punto  $(-2, 0)$ . (Fig. 51).

La ecuación  $x = 0$ , representa el eje de las ordenadas.



FIGURA 51

**(4) Gráfico de  $y - 2 = 0$ .**

Despejando  $y$  se tiene  $y = 2$ .

Esta ecuación equivale a  $0x + y = 2$ , o sea que para cualquier valor de  $x$ ,  $y = 2$ , luego  $y - 2 = 0$  o  $y = 2$  es el lugar geométrico de todos los puntos cuya ordenada es 2, luego  $y = 2$  representa una línea recta paralela al eje de las  $x$  que pasa por el punto  $(0, 2)$ . (Fig. 52).

Del propio modo,  $y + 4 = 0$  ó  $y = -4$  representa una línea recta paralela al eje de las  $x$  que pasa por el punto  $(0, -4)$ . (Fig. 52).

La ecuación  $y = 0$  representa el eje de las abscisas.

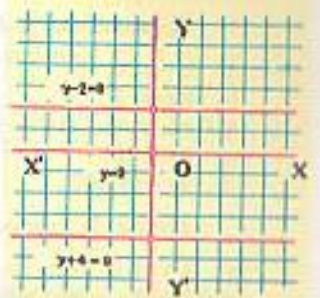


FIGURA 52



- (5) Hallar la intersección de
- $3x + 4y = 10$
- con
- $2x + y = 0$
- .

Representemos ambas líneas. [Fig. 53].

En  $3x + 4y = 10$ , se tiene:

$$\begin{aligned} \text{Para } x=0, & \quad y=2\frac{1}{2} \\ y=0, & \quad x=3\frac{1}{3}, \end{aligned}$$

Marcando los puntos  $(0, 2\frac{1}{2})$  y  $(3\frac{1}{3}, 0)$  y uniéndolos queda representada  $3x + 4y = 10$ .En  $2x + y = 0$  se tiene:

$$\text{Para } x=1, \quad y=-2.$$

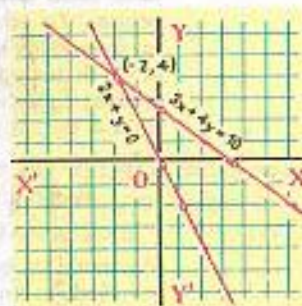
Uniendo el punto  $(1, -2)$  con el origen [la ecuación carece de término independiente] queda representada  $2x + y = 0$ .En el gráfico se ve que las coordenadas del punto de intersección de las dos rectas son  $x = -2$ ,  $y = 4$ , luego el punto de intersección es  $(-2, 4)$ .

FIGURA 53

- (6) Hallar la intersección de
- $2x + 5y = 4$
- con
- $3x + 2y = -5$
- .

En  $2x + 5y = 4$ , se tiene:

$$\begin{aligned} \text{Para } x=0, & \quad y=\frac{4}{5} \\ y=0, & \quad x=2. \end{aligned}$$

Marcando estos puntos [Fig. 54] y uniéndolos queda representada la ecuación  $2x + 5y = 4$ .En  $3x + 2y = -5$ , se tiene:

$$\begin{aligned} \text{Para } x=0, & \quad y=-2\frac{1}{2} \\ y=0, & \quad x=-1\frac{2}{3}. \end{aligned}$$

Marcando estos puntos y uniéndolos queda representada la ecuación  $3x + 2y = -5$ .La intersección de las dos rectas es el punto  $(-3, 2)$ . R.

FIGURA 54


**EJERCICIO 175**

Representar gráficamente las ecuaciones:

- |                    |                       |                       |                          |
|--------------------|-----------------------|-----------------------|--------------------------|
| 1. $x - y = 0$ .   | 6. $8x = 3y$ .        | 11. $5x - 4y = 8$ .   | 16. $10x - 3y = 0$ .     |
| 2. $x + y = 5$ .   | 7. $x - y = -4$ .     | 12. $2x + 5y = 30$ .  | 17. $9x + 2y = -12$ .    |
| 3. $x - 1 = 0$ .   | 8. $x + 6 = 0$ .      | 13. $4x + 5y = -20$ . | 18. $7x - 2y - 14 = 0$ . |
| 4. $y + 5 = 0$ .   | 9. $y - 7 = 0$ .      | 14. $7x - 12y = 84$ . | 19. $3x - 4y - 6 = 0$ .  |
| 5. $5x + 2y = 0$ . | 10. $2x + 3y = -20$ . | 15. $2y - 3x = 9$ .   | 20. $8y - 15x = 40$ .    |

Hallar la intersección de:

- |   |   |
|---|---|
| 21. $x + 1 = 0$ con $y - 4 = 0$ .       | 26. $x + 5 = 0$ con $6x - 7y = -9$ .            |
| 22. $3x = 2y$ con $x + y = 5$ .         | 27. $3x + 8y = 28$ con $5x - 2y = -30$ .        |
| 23. $x - y = 2$ con $3x + y = 18$ .     | 28. $y - 4 = 0$ con $7x + 2y = 22$ .            |
| 24. $2x - y = 0$ con $5x + 4y = -26$ .  | 29. $6x = -5y$ con $4x - 3y = -38$ .            |
| 25. $5x + 6y = -9$ con $4x - 3y = 24$ . | 30. $5x - 2y + 14 = 0$ con $8x - 5y + 17 = 0$ . |



**BROOK TAYLOR (1685-1731)** Matemático y hombre de ciencia inglés. Cultivó la física, la música y la pintura. Pertenecía a un círculo de discípulos de Newton, y se dio a conocer en 1708 al presentar en la "Royal Society" un trabajo acerca de los centros

de oscilación. Su obra fundamental, "Método de los incrementos directos e inversos", contiene los principios básicos del cálculo de las diferencias finitas. En el Álgebra elemental conocemos el Teorema de Taylor, cuya consecuencia es el Teorema de Maclaurin.

**CAPÍTULO XXIV****ECUACIONES SIMULTANEAS DE PRIMER GRADO CON DOS INCOGNITAS****289 ECUACIONES SIMULTANEAS**

Dos o más ecuaciones con dos o más incógnitas son **simultáneas** cuando se satisfacen para iguales valores de las incógnitas.

Así, las ecuaciones

$$x + y = 5$$

$$x - y = 1$$

son simultáneas porque  $x = 3$ ,  $y = 2$  satisfacen ambas ecuaciones.

**290 ECUACIONES EQUIVALENTES** son las que se obtienen una de la otra.

Así,

$$x + y = 4$$

$$2x + 2y = 8$$

son equivalentes porque dividiendo por 2 la segunda ecuación se obtiene la primera.

Las ecuaciones equivalentes tienen infinitas soluciones comunes.

Ecuaciones independientes son las que no se obtienen una de la otra.



Cuando las ecuaciones independientes tienen una sola solución común son **simultáneas**.

Así, las ecuaciones  $x + y = 5$  y  $x - y = 1$  son independientes porque no se obtienen una de la otra y simultáneas porque el único par de valores que satisface ambas ecuaciones es  $x = 3$ ,  $y = 2$ .

Ecuaciones **incompatibles** son ecuaciones independientes que no tienen solución común.

Así, las ecuaciones

$$\begin{aligned} x + 2y &= 10 \\ 2x + 4y &= 5 \end{aligned}$$

son incompatibles porque no hay ningún par de valores de  $x$  e  $y$  que verifique ambas ecuaciones.

**291 SISTEMA DE ECUACIONES** es la reunión de dos o más ecuaciones con dos o más incógnitas.

Así,

$$\begin{aligned} 2x + 3y &= 13 \\ 4x - y &= 5 \end{aligned}$$

es un sistema de dos ecuaciones de primer grado con dos incógnitas.

**Solución** de un sistema de ecuaciones es un grupo de valores de las incógnitas que satisface todas las ecuaciones del sistema. La solución del sistema anterior es  $x = 2$ ,  $y = 3$ .

Un sistema de ecuaciones es **posible** o **compatible** cuando tiene solución y es **imposible** o **incompatible** cuando no tiene solución.

Un sistema compatible es **determinado** cuando tiene una sola solución e **indeterminado** cuando tiene infinitas soluciones.

## SISTEMAS DE DOS ECUACIONES SIMULTANEAS DE PRIMER GRADO CON DOS INCOGNITAS

### 292 RESOLUCION

Para resolver un sistema de esta clase es necesario obtener de las dos ecuaciones dadas una sola ecuación con una incógnita. Esta operación se llama **Eliminación**.

### 293 METODOS DE ELIMINACION MAS USUALES

Son tres: Método de **igualación**, de **comparación** y de **reducción**, también llamado este último de **suma o resta**.

## I. ELIMINACION POR IGUALACION

**294** Resolver el sistema  $\begin{cases} 7x + 4y = 13. & (1) \\ 5x - 2y = 19. & (2) \end{cases}$

Despejemos una cualquiera de las incógnitas; por ejemplo  $x$ , en ambas ecuaciones.

$$\text{Despejando } x \text{ en (1): } 7x = 13 - 4y \therefore x = \frac{13 - 4y}{7}$$

$$\text{Despejando } x \text{ en (2): } 5x = 19 + 2y \therefore x = \frac{19 + 2y}{5}$$

Ahora se **igualan** entre sí los dos valores de  $x$  que hemos obtenido:

$$\frac{13 - 4y}{7} = \frac{19 + 2y}{5}$$

y ya tenemos una sola ecuación con una incógnita; hemos eliminado la  $x$ . Resolviendo esta ecuación:

$$\begin{aligned} 5(13 - 4y) &= 7(19 + 2y) \\ 65 - 20y &= 133 + 14y \\ -20y - 14y &= 133 - 65 \\ -34y &= 68 \\ y &= -2. \end{aligned}$$

Sustituyendo este valor de  $y$  en cualquiera de las ecuaciones dadas, por ejemplo en (1) (generalmente se sustituye en la más sencilla), se tiene:

$$\begin{aligned} 7x + 4(-2) &= 13 \\ 7x - 8 &= 13 \\ 7x &= 21 \\ x &= 3. \end{aligned}$$

$$R. \begin{cases} x = 3. \\ y = -2. \end{cases}$$

### VERIFICACION

Sustituyendo  $x = 3$ ,  $y = -2$  en las dos ecuaciones dadas, ambas se convierten en identidad.

### EJERCICIO 176

Resolver por el método de igualación:

$$1. \begin{cases} x + 6y = 27. \\ 7x - 3y = 9. \end{cases}$$

$$4. \begin{cases} 7x - 4y = 5. \\ 9x + 8y = 13. \end{cases}$$

$$7. \begin{cases} 15x - 11y = -87. \\ -12x - 5y = -27. \end{cases}$$

$$2. \begin{cases} 3x - 2y = -2. \\ 5x + 8y = -60. \end{cases}$$

$$5. \begin{cases} 9x + 16y = 7. \\ 4y - 3x = 0. \end{cases}$$

$$8. \begin{cases} 7x + 9y = 42. \\ 12x + 10y = -4. \end{cases}$$

$$3. \begin{cases} 3x + 5y = 7. \\ 2x - y = -4. \end{cases}$$

$$6. \begin{cases} 14x - 11y = -29. \\ 13y - 8x = 30. \end{cases}$$

$$9. \begin{cases} 6x - 18y = -85. \\ 24x - 5y = -5. \end{cases}$$



## II. ELIMINACION POR SUSTITUCION

295 Resolver el sistema  $\begin{cases} 2x + 5y = -24. & (1) \\ 8x - 3y = 19. & (2) \end{cases}$

Despejemos una cualquiera de las incógnitas, por ejemplo  $x$  en una de las ecuaciones. Vamos a despejarla en la ecuación (1). Tendremos:

$$2x = -24 - 5y \quad \therefore x = \frac{-24 - 5y}{2}$$

Este valor de  $x$  se sustituye en la ecuación (2)

$$8\left(\frac{-24 - 5y}{2}\right) - 3y = 19$$

y ya tenemos una ecuación con una incógnita; hemos eliminado la  $x$ .

Resolvamos esta ecuación. Simplificando 8 y 2, queda:

$$\begin{aligned} 4(-24 - 5y) - 3y &= 19 \\ -96 - 20y - 3y &= 19 \\ -20y - 3y &= 19 + 96 \\ -23y &= 115 \\ y &= -5. \end{aligned}$$

Sustituyendo  $y = -5$  en cualquiera de las ecuaciones dadas, por ejemplo en (1) se tiene:

$$\begin{aligned} 2x + 5(-5) &= -24 \\ 2x - 25 &= -24 \\ 2x &= 1 \\ x &= \frac{1}{2} \end{aligned} \quad \text{R. } \begin{cases} x = \frac{1}{2} \\ y = -5. \end{cases}$$

## VERIFICACION

Haciendo  $x = \frac{1}{2}$ ,  $y = -5$  en las dos ecuaciones dadas, ambas se convierten en identidad.

## EJERCICIO 177

Resolver por sustitución:

- |   |   |   |
|---|---|---|
| 1. $\begin{cases} x + 3y = 6. \\ 5x - 2y = 13. \end{cases}$     | 4. $\begin{cases} x - 5y = 8. \\ -7x + 8y = 25. \end{cases}$      | 7. $\begin{cases} 4x + 5y = 5. \\ -10y - 4x = -7. \end{cases}$      |
| 2. $\begin{cases} 5x + 7y = -1. \\ -3x + 4y = -24. \end{cases}$ | 5. $\begin{cases} 15x + 11y = 32. \\ 7y - 9x = 8. \end{cases}$    | 8. $\begin{cases} 32x - 25y = 13. \\ 16x + 15y = 1. \end{cases}$    |
| 3. $\begin{cases} 4y + 3x = 8. \\ 8x - 9y = -77. \end{cases}$   | 6. $\begin{cases} 10x + 18y = -11. \\ 16x - 9y = -5. \end{cases}$ | 9. $\begin{cases} -13y + 11x = -163. \\ -8x + 7y = 94. \end{cases}$ |

## III. METODO DE REDUCCION

296 Resolver el sistema  $\begin{cases} 5x + 6y = 20. & (1) \\ 4x - 3y = -23. & (2) \end{cases}$

En este método se hacen iguales los coeficientes de una de las incógnitas.

Vamos a igualar los coeficientes de  $y$  en ambas ecuaciones, porque es lo más sencillo.

El m. c. m. de los coeficientes de  $y$ , 6 y 3, es 6. Multiplicamos la segunda ecuación por 2 porque  $2 \times 3 = 6$ , y tendremos:

$$\begin{aligned} 5x + 6y &= 20 \\ 8x - 6y &= -46 \end{aligned}$$

Como los coeficientes de  $y$  que hemos igualado tienen signos distintos, se suman estas ecuaciones porque con ello se elimina la  $y$ :

$$\begin{aligned} 5x + 6y &= 20 \\ 8x - 6y &= -46 \\ \hline 13x &= -26 \\ x &= -\frac{26}{13} = -2. \end{aligned}$$

Sustituyendo  $x = -2$  en cualquiera de las ecuaciones dadas, por ejemplo en (1), se tiene:

$$\begin{aligned} 5(-2) + 6y &= 20 \\ -10 + 6y &= 20 \\ 6y &= 30 \\ y &= 5. \end{aligned} \quad \text{R. } \begin{cases} x = -2 \\ y = 5. \end{cases}$$

297 Resolver el sistema  $\begin{cases} 10x + 9y = 8. & (1) \\ 8x - 15y = -1. & (2) \end{cases}$

Vamos a igualar los coeficientes de  $x$ . El m. c. m. de 10 y 8 es 40; multiplico la primera ecuación por 4 porque  $4 \times 10 = 40$  y la segunda por 5 porque  $5 \times 8 = 40$ , y tendremos:

$$\begin{aligned} 40x + 36y &= 32 \\ 40x - 75y &= -5 \end{aligned}$$

Como los coeficientes que hemos igualado tienen signos iguales, se restan ambas ecuaciones y de ese modo se elimina la  $x$ . Cambiando los signos a una cualquiera de ellas, por ejemplo a la segunda, tenemos:

$$\begin{aligned} 40x + 36y &= 32 \\ -40x + 75y &= 5 \\ \hline 111y &= 37 \\ y &= \frac{37}{111} = \frac{1}{3}. \end{aligned}$$

Sustituyendo  $y = \frac{1}{3}$  en (2), tenemos:

$$\begin{aligned} 8x - 15\left(\frac{1}{3}\right) &= -1 \\ 8x - 5 &= -1 \\ 8x &= 4 \\ x &= \frac{4}{8} = \frac{1}{2} \end{aligned} \quad \text{R. } \begin{cases} x = \frac{1}{2} \\ y = \frac{1}{3} \end{cases}$$



El método expuesto, que es el más expedito, se llama también de suma o resta porque según se ha visto en los ejemplos anteriores, si los coeficientes que se igualan tienen signos distintos se suman las dos ecuaciones y si tienen signos iguales, se restan.

Es indiferente igualar los coeficientes de  $x$  o de  $y$ . Generalmente se igualan aquellos en que la operación sea más sencilla.

### ➡ EJERCICIO 178

Resolver por suma o resta:

- |  |   |  |
|--|---|--|
| 1. $\begin{cases} 6x-5y=-9. \\ 4x+3y=13. \end{cases}$    | 5. $\begin{cases} 10x-3y=36. \\ 2x+5y=-4. \end{cases}$    | 9. $\begin{cases} 12x-14y=20. \\ 13y-14x=-19. \end{cases}$   |
| 2. $\begin{cases} 7x-15y=1. \\ -x-6y=8. \end{cases}$     | 6. $\begin{cases} 11x-9y=2. \\ 13x-15y=-2. \end{cases}$   | 10. $\begin{cases} 15x-y=40. \\ 19x+8y=236. \end{cases}$     |
| 3. $\begin{cases} 3x-4y=41. \\ 11x+6y=47. \end{cases}$   | 7. $\begin{cases} 18x+5y=-11. \\ 12x+11y=31. \end{cases}$ | 11. $\begin{cases} 36x-11y=-14. \\ 24x-17y=10. \end{cases}$  |
| 4. $\begin{cases} 9x+11y=-14. \\ 6x-5y=-34. \end{cases}$ | 8. $\begin{cases} 9x+7y=-4. \\ 11x-13y=-48. \end{cases}$  | 12. $\begin{cases} 12x-17y=104. \\ 15x+19y=-31. \end{cases}$ |

### 298 RESOLUCION DE SISTEMAS NUMERICOS DE DOS ECUACIONES ENTERAS CON DOS INCOGNITAS

Conocidos los métodos de eliminación, resolveremos sistemas en que antes de eliminar hay que simplificar las ecuaciones.

1. Resolver el sistema

$$\begin{cases} 3x-(4y+6)=2y-(x+18). \\ 2x-? = x-y+4. \end{cases}$$

Suprimiendo los signos de agrupación:

$$\begin{cases} 3x-4y-6=2y-x-18 \\ 2x-3 = x-y+4 \end{cases}$$

Transponiendo:

$$\begin{cases} 3x-4y-2y+x=-18+6 \\ 2x-x+y=4+3 \end{cases}$$

Reduciendo términos semejantes:

$$\begin{cases} 4x-6y=-12 \\ x+y=7 \end{cases}$$

Dividiendo la 1a. ecuación por 2:

$$\begin{cases} 2x-3y=-6 \\ x+y=7 \end{cases} \quad (1)$$

Vamos a igualar los coeficientes de  $y$ . Multiplicamos la segunda ecuación por 3 y sumamos:

$$\begin{array}{r} 2x-3y=-6 \\ 3x+3y=21 \\ \hline 5x = 15 \\ x = 3. \end{array}$$

Sustituyendo  $x=3$  en (1), se tiene:

$$\begin{aligned} 3+y &= 7 \\ y &= 4. \end{aligned}$$

$$R. \begin{cases} x=3. \\ y=4. \end{cases}$$

2. Resolver el sistema

$$\begin{cases} 3(2x+y)-2(y-x)=-4(y+7). \\ 3(2y+3x)-20=-53. \end{cases}$$

Efectuando las operaciones indicadas:

$$\begin{cases} 6x+3y-2y+2x=-4y-28 \\ 6y+9x-20=-53 \end{cases}$$

Transponiendo:

$$\begin{cases} 6x+3y-2y+2x+4y=-28 \\ 9x+6y=-53+20 \end{cases}$$

Reduciendo:

$$\begin{cases} 8x+5y=-28 \\ 9x+6y=-33 \end{cases}$$

Dividiendo por 3 la 2a. ecuación:

$$\begin{cases} 8x+5y=-28 \\ 3x+2y=-11 \end{cases} \quad (1)$$

Multiplicando la 1a. ecuación por 3 y la 2a. por 8:

$$\begin{cases} 24x+15y=-84 \\ 24x+16y=-88 \end{cases}$$

Cambiando signos a la 1a. ecuación:

$$\begin{array}{r} -24x-15y = -84 \\ 24x+16y = -88 \\ \hline y = -4. \end{array}$$

Sustituyendo  $y=-4$  en (1):

$$\begin{aligned} 3x+2(-4) &= -11 \\ 3x-8 &= -11 \\ 3x &= -3 \\ x &= -1. \end{aligned}$$

$$R. \begin{cases} x=-1. \\ y=-4. \end{cases}$$

### ➡ EJERCICIO 179

Resolver los siguientes sistemas:

- |  |  |
|--|--|
| 1. $\begin{cases} 8x-5=7y-9. \\ 6x=3y+6. \end{cases}$                    | 7. $\begin{cases} (x-y)-(6x+8y)=-(10x+5y+3). \\ (x+y)-(9y-11x)=2y-2x. \end{cases}$ |
| 2. $\begin{cases} x-1=y+1. \\ x-3=3y-7. \end{cases}$                     | 8. $\begin{cases} 5(x+3y)-(7x+8y)=-6. \\ 7x-9y-2(x-18y)=0. \end{cases}$            |
| 3. $\begin{cases} 3(x+2)=2y. \\ 2(y+5)=7x. \end{cases}$                  | 9. $\begin{cases} 2(x+5)=4(y-4x). \\ 10(y-x)=11y-12x. \end{cases}$                 |
| 4. $\begin{cases} x-1=2(y+6). \\ x+6=3(1-2y). \end{cases}$               | 10. $\begin{cases} 3x-4y-2(2x-7)=0. \\ 5(x-1)-(2y-1)=0. \end{cases}$               |
| 5. $\begin{cases} 30-(8-x)=2y+30. \\ 5x-29=x-(5-4y). \end{cases}$        | 11. $\begin{cases} 12(x+2y)-8(2x+y)=2(5x-6y). \\ 20(x-4y)=-10. \end{cases}$        |
| 6. $\begin{cases} 3x-(9x+y)=5y-(2x+9y). \\ 4x-(3y+7)=5y-47. \end{cases}$ | 12. $\begin{cases} x(y-2)-y(x-3)=-14. \\ y(x-6)-x(y+9)=54. \end{cases}$            |



# 299 RESOLUCION DE SISTEMAS NUMERICOS DE DOS ECUACIONES FRACCIONARIAS CON DOS INCOGNITAS

1. Resolver el sistema

$$\begin{cases} x - \frac{3x+4}{7} = \frac{y+2}{3} \\ 2y - \frac{5x+4}{11} = \frac{x+24}{2} \end{cases}$$

Suprimiendo denominadores:

$$\begin{cases} 21x - 3(3x+4) = 7(y+2) \\ 44y - 2(5x+4) = 11(x+24) \end{cases}$$

Efectuando operaciones:

$$\begin{cases} 21x - 9x - 12 = 7y + 14 \\ 44y - 10x - 8 = 11x + 264 \end{cases}$$

Transponiendo:

$$\begin{cases} 21x - 9x - 7y = 14 + 12 \\ -10x - 11x + 44y = 264 + 8 \end{cases}$$

Reduciendo:

$$\begin{cases} 12x - 7y = 26 \quad (1) \\ -21x + 44y = 272 \end{cases}$$

Multiplicando la 1a. ecuación por 7 y la 2a. por 4:

$$\begin{cases} 84x - 49y = 182 \\ -84x + 176y = 1088 \end{cases}$$

$$\begin{aligned} 127y &= 1270 \\ y &= 10. \end{aligned}$$

Sustituyendo  $y=10$  en (1):

$$\begin{aligned} 12x - 70 &= 26 \\ 12x &= 96 \\ x &= 8. \end{aligned}$$

R.  $\begin{cases} x=8. \\ y=10. \end{cases}$

2. Resolver el sistema

$$\begin{cases} \frac{x+y}{x-y} = -\frac{2}{7} \\ \frac{8x+y-1}{x-y-2} = 2. \end{cases}$$

Suprimiendo denominadores:

$$\begin{cases} 7(x+y) = -2(x-y) \\ 8x+y-1 = 2(x-y-2) \end{cases}$$

Efectuando operaciones:

$$\begin{cases} 7x+7y = -2x+2y \\ 8x+y-1 = 2x-2y-4 \end{cases}$$

Transponiendo:

$$\begin{cases} 7x+7y+2x-2y = 0 \\ 8x+y-2x+2y = -4+1 \end{cases}$$

Reduciendo:

$$\begin{cases} 9x+5y = 0 \quad (1) \\ 6x+3y = -3 \end{cases}$$

Dividiendo por 3 la 2a. ecuación:

$$\begin{cases} 9x+5y = 0 \\ 2x+y = -1 \end{cases}$$

Multiplicando por  $-5$  la 2a. ecuación:

$$\begin{cases} 9x+5y = 0 \\ -10x-5y = 5 \end{cases}$$

$$\begin{aligned} -x &= 5 \\ x &= -5. \end{aligned}$$

Sustituyendo  $x=-5$  en (1):

$$\begin{aligned} 9(-5)+5y &= 0 \\ -45+5y &= 0 \\ 5y &= 45 \\ y &= 9. \end{aligned}$$

R.  $\begin{cases} x=-5. \\ y=9. \end{cases}$

## EJERCICIO 180

Resolver los siguientes sistemas:

1.  $\begin{cases} \frac{3x}{2} + y = 11. \\ x + \frac{y}{2} = 7. \end{cases}$

2.  $\begin{cases} \frac{5x}{12} - y = 9. \\ x - \frac{3y}{4} = 15. \end{cases}$

3.  $\begin{cases} \frac{x}{7} + \frac{y}{3} = 5. \\ 3y - \frac{x}{14} = 26. \end{cases}$

4.  $\begin{cases} \frac{x}{5} = \frac{y}{4} \\ \frac{y}{3} = \frac{x}{3} - 1. \end{cases}$

5.  $\begin{cases} \frac{3}{5}x - \frac{1}{4}y = 2. \\ 2x = \frac{5}{2}y. \end{cases}$

6.  $\begin{cases} \frac{2}{3}x - \frac{3}{4}y = 1. \\ \frac{1}{8}y - \frac{5}{6}x = 2. \end{cases}$

7.  $\begin{cases} \frac{x}{8} - \frac{y}{5} = -1\frac{1}{10} \\ \frac{x}{5} + \frac{y}{4} = -1\frac{19}{40} \end{cases}$

8.  $\begin{cases} \frac{x}{7} + \frac{y}{8} = 0. \\ \frac{1}{7}x - \frac{3}{4}y = 7. \end{cases}$

9.  $\begin{cases} \frac{2x+1}{5} = \frac{y}{4} \\ 2x-3y = -8. \end{cases}$

10.  $\begin{cases} 12x+5y+6=0. \\ \frac{5x}{3} - \frac{7y}{6} = -12. \end{cases}$

11.  $\begin{cases} \frac{x}{5} = 3(y+2). \\ \frac{y}{5} + 3x = 44\frac{4}{5} \end{cases}$

12.  $\begin{cases} \frac{x}{5} - \frac{y}{6} = -\frac{1}{30} \\ \frac{x}{3} - \frac{y}{20} = 1\frac{1}{12} \end{cases}$

13.  $\begin{cases} \frac{x-3}{3} - \frac{y-4}{4} = 0. \\ \frac{x-4}{2} + \frac{y+2}{5} = 3. \end{cases}$

14.  $\begin{cases} \frac{x-1}{2} - \frac{y-1}{3} = -\frac{13}{6} \\ \frac{x+1}{3} - \frac{y+1}{2} = -\frac{2}{3} \end{cases}$

15.  $\begin{cases} \frac{x+1}{10} = \frac{y-4}{5} \\ \frac{x-4}{5} = \frac{y-2}{10} \end{cases}$

16.  $\begin{cases} x = -\frac{3y+3}{4} \\ y = -\frac{1+5x}{4} \end{cases}$

17.  $\begin{cases} \frac{x+y}{6} = \frac{x-y}{12} \\ \frac{2x}{3} = y+3. \end{cases}$

18.  $\begin{cases} 3x - \frac{y-3}{5} = 6. \\ 3y - \frac{x-2}{7} = 9. \end{cases}$



$$\frac{x+y}{6} - \frac{y-x}{3} = \frac{7}{24}$$

$$\frac{x}{2} + \frac{x-y}{6} = \frac{5}{12}$$

$$\frac{x-2}{4} - \frac{y-x}{2} = x-7$$

$$\frac{3x-y}{8} - \frac{3y-x}{6} = y-13$$

$$12 - \frac{3x-2y}{6} = 3y+2$$

$$\frac{5y-3x}{3} = x-y$$

$$y(x-4) = x(y-6)$$

$$\frac{5}{x-3} - \frac{11}{y-1} = 0$$

$$\frac{3(x+3y)}{5x+6y} = \frac{21}{17}$$

$$\frac{4x-7y}{2y+1} = -2$$

$$24. \begin{cases} \frac{7}{2x-3y+6} = -\frac{7}{3x-2y-1} \\ \frac{6}{x-y+4} = \frac{10}{y+2} \end{cases}$$

$$25. \begin{cases} \frac{x+y}{x-y} = -7 \\ \frac{x+y+1}{x+y-1} = \frac{3}{4} \end{cases}$$

$$26. \begin{cases} \frac{x}{4} - 8 = \frac{3y}{2} - 8\frac{1}{4} \\ \frac{y-x}{3} - \frac{2x+y}{2} = -\frac{17}{24} \end{cases}$$

$$27. \begin{cases} \frac{x-2}{x+2} = \frac{y-7}{y-5} \\ \frac{x+1}{x-1} = \frac{y-3}{y-5} \end{cases}$$

$$28. \begin{cases} \frac{x-y-1}{x+y+1} = -\frac{3}{17} \\ \frac{x+y-1}{x-y+1} = -15 \end{cases}$$

$$29. \begin{cases} \frac{6x+9y-4}{4x-6y+5} = \frac{2}{5} \\ \frac{2x+3y-3}{3x+2y-4} = \frac{6}{11} \end{cases}$$

$$30. \begin{cases} \frac{3x+2y}{x+y-15} = -9 \\ \frac{4x}{3} - \frac{5(y-1)}{8} = -1 \end{cases}$$

$$31. \begin{cases} \frac{2x+5}{17} - (5-y) = -60 \\ \frac{y+62}{2} - (1-x) = 40 \end{cases}$$

$$32. \begin{cases} \frac{3x+4y}{x-6y} = -\frac{30}{23} \\ \frac{9x-y}{3+x-y} = -\frac{63}{37} \end{cases}$$

$$33. \begin{cases} x - \frac{4x+1}{9} = \frac{2y-5}{3} \\ y - \frac{3y+2}{7} = \frac{x+18}{10} \end{cases}$$

### 300 SISTEMAS LITERALES DE DOS ECUACIONES CON DOS INCOGNITAS

#### Ejemplos

(1) Resolver el sistema

$$\begin{cases} ax+by=a^2+b^2 & (1) \\ bx+ay=2ab & (2) \end{cases}$$

Vamos a igualar los coeficientes de la  $x$ . Multiplicando la primera ecuación por  $b$  y la segunda por  $a$ , tenemos:

$$\begin{cases} abx+b^2y=a^2b+b^3 \\ abx+a^2y=2a^2b \end{cases}$$

Restando la 2a. ecuación de la primera:

$$\begin{cases} abx+b^2y=a^2b+b^3 \\ -abx-a^2y=-2a^2b \\ \hline b^2y-a^2y=a^2b+b^3-2a^2b \end{cases}$$

Reduciendo términos semejantes:  $b^2y - a^2y = b^3 - a^2b$

Sacando el factor común  $y$  en el primer miembro y el factor común  $b$  en el segundo:  $y(b^2 - a^2) = b(b^2 - a^2)$

Dividiendo por  $(b^2 - a^2)$  ambos miembros:  $y = b$

Sustituyendo  $y = b$  en (2), tenemos:

Transponiendo:  $\begin{cases} bx+ab=2ab \\ bx=ab \end{cases}$  R.  $\begin{cases} x=a \\ y=b \end{cases}$

Dividiendo por  $b$ ,  $x = a$

(2) Resolver el sistema

$$\begin{cases} \frac{x}{a} - \frac{y}{b} = \frac{b}{a} & (1) \\ x - y = a & (2) \end{cases}$$

Quitando denominadores en (1), nos queda:

$$\begin{cases} bx - ay = b^2 \\ x - y = a \end{cases}$$

Multiplicando por  $b$  la 2a. ecuación y cambiándole el signo:

$$\begin{cases} bx - ay = b^2 \\ -bx + by = -ab \\ \hline by - ay = b^2 - ab \end{cases}$$

Sacando factor común  $y$  en el primer miembro y  $b$  en el segundo:

$$y(b-a) = b(b-a)$$

Dividiendo por  $(b-a)$ :  $y = b$

Sustituyendo en (2) este valor de  $y$ , tenemos:

$$\begin{cases} x - b = a \\ x = a + b \end{cases}$$
 R.  $\begin{cases} x = a + b \\ y = b \end{cases}$

(3) Resolver el sistema

$$\begin{cases} x + y = \frac{a^2 + b^2}{ab} \\ ax - by = 2b \end{cases}$$

Quitando denominadores:

$$\begin{cases} abx + aby = a^2 + b^2 & (1) \\ ax - by = 2b & (2) \end{cases}$$

Multiplicando la 2a. ecuación por  $a$  y sumando:

$$\begin{cases} abx + aby = a^2 + b^2 \\ a^2x - aby = 2ab \\ \hline a^2x + abx = a^2 + 2ab + b^2 \end{cases}$$

Factorando ambos miembros:

$$ax(a+b) = (a+b)^2$$

Dividiendo por  $(a+b)$ :

$$\begin{cases} ax = a+b \\ a+b \\ \hline x = \frac{a+b}{a} \end{cases}$$



Este valor de  $x$  puede sustituirse en cualquier ecuación para hallar  $y$ , pero no vamos a hacerlo así, sino que vamos a hallar  $y$  eliminando la  $x$ . Para eso, tomamos otra vez el sistema (1) y (2):

$$\begin{cases} abx + aby = a^2 + b^2 & (1) \\ ax - by = 2b & (2) \end{cases}$$

Multiplicando (2) por  $b$  y cambiándole el signo:

$$\begin{cases} abx + aby = a^2 + b^2 \\ -abx + b^2y = -2b^2 \\ \hline aby + b^2y = a^2 - b^2 \end{cases}$$

Factorando ambos miembros:  $by(a+b) = (a+b)(a-b)$

$$by = a - b$$

$$y = \frac{a-b}{b}$$

R.

$$\begin{cases} x = \frac{a+b}{a} \\ y = \frac{a-b}{b} \end{cases}$$

## NOTA

El sistema que hemos empleado (de hallar la segunda incógnita eliminando la primera, es muchas veces más sencillo que el de sustituir.

## EJERCICIO 181

Resolver los sistemas:

$$x+y=a+b.$$

$$x-y=a-b.$$

$$x+y=b+2.$$

$$x-y=0.$$

$$x-y=3a.$$

$$2y=0.$$

$$x-y=1-a.$$

$$x+y=1+a.$$

$$x+y=2b.$$

$$x-y=a-b.$$

$$x+y=2.$$

$$x+y=\frac{a^2+b^2}{ab}.$$

$$x+y=a+b.$$

$$x+y=a^2+b^2.$$

$$8. \begin{cases} ax-by=0. \\ x+y=\frac{a+b}{ab}. \end{cases}$$

$$9. \begin{cases} mx-ny=m^2+n^2. \\ nx+my=m^2+n^2. \end{cases}$$

$$10. \begin{cases} \frac{x}{m} + \frac{y}{n} = 2m. \\ mx-ny=m^3-mn^2. \end{cases}$$

$$11. \begin{cases} x+y=a. \\ ax-by=a(a+b)+b^2. \end{cases}$$

$$12. \begin{cases} x-y=m-n. \\ mx-ny=m^2-n^2. \end{cases}$$

$$13. \begin{cases} \frac{x}{a} + \frac{y}{b} = 0. \\ \frac{x}{b} + \frac{2y}{a} = \frac{2b^2-a^2}{ab} \end{cases}$$

$$14. \begin{cases} x+y=2c. \\ a^2(x-y)=2a^3. \end{cases}$$

$$15. \begin{cases} ax-by=0. \\ ay-bx=\frac{a^2-b^2}{ab}. \end{cases}$$

$$16. \begin{cases} \frac{x}{b^2} + \frac{y}{a^2} = a+b. \\ x-y=ab(b-a). \end{cases}$$

$$17. \begin{cases} nx+my=m+n. \\ mx-ny=\frac{m^3-n^3}{mn}. \end{cases}$$

$$18. \begin{cases} (a-b)x-(a+b)y=b^2-3ab. \\ (a+b)x-(a-b)y=ab-b^2. \end{cases}$$

$$19. \begin{cases} \frac{x+b}{a} + \frac{y-b}{b} = \frac{a+b}{b}. \\ \frac{x-a}{b} - \frac{y-a}{a} = -\frac{a+b}{a} \end{cases}$$

$$20. \begin{cases} \frac{x}{a+b} + \frac{y}{a+b} = \frac{1}{ab}. \\ \frac{x}{b} + \frac{y}{a} = \frac{a^2+b^2}{a^2b^2}. \end{cases}$$

## 301 ECUACIONES SIMULTÁNEAS CON INCÓGNITAS EN LOS DENOMINADORES

En ciertos casos, cuando las incógnitas están en los denominadores, el sistema puede resolverse por un método especial, en que no se suprimen los denominadores. A continuación resolvemos dos ejemplos usando este método.

## Ejemplos

(1) Resolver el sistema

$$\frac{10}{x} + \frac{9}{y} = 2. \quad (1)$$

$$\frac{7}{x} - \frac{6}{y} = \frac{11}{2}. \quad (2)$$

Vamos a eliminar la  $y$ . Multiplicando la primera ecuación por 2 y la segunda por 3, tenemos:

$$\begin{cases} \frac{20}{x} + \frac{18}{y} = 4 \\ \frac{21}{x} - \frac{18}{y} = \frac{33}{2} \end{cases}$$

Sumando:

$$\frac{41}{x} = \frac{41}{2}$$

Quitando denominadores:

$$82 = 41x$$

$$x = \frac{82}{41} = 2.$$

Sustituyendo  $x=2$  en (1):

$$\frac{10}{2} + \frac{9}{y} = 2$$

$$10y + 18 = 4y$$

$$6y = -18$$

$$y = -3.$$

$$R. \begin{cases} x = 2 \\ y = -3 \end{cases}$$

(2) Resolver el sistema

$$\frac{2}{x} + \frac{7}{3y} = 11. \quad (1)$$

$$\frac{3}{4x} + \frac{5}{2y} = 9. \quad (2)$$



Vamos a eliminar la  $x$ . Multiplicando la primera ecuación por 3 y la segunda por 2, tenemos:

$$\begin{cases} \frac{6}{4x} + \frac{21}{12y} = \frac{33}{4} \\ \frac{6}{4x} + \frac{10}{2y} = 18 \\ \frac{3}{2x} + \frac{7}{4y} = \frac{33}{4} \\ \frac{3}{2x} + \frac{5}{y} = -18 \\ -\frac{13}{4y} = -\frac{39}{4} \end{cases}$$

Simplificando y restando:

o sea

$$\frac{13}{4y} = \frac{39}{4}$$

Quitando denominadores:

$$13 = 39y$$

$$y = \frac{13}{39} = \frac{1}{3}$$

Sustituyendo  $y = \frac{1}{3}$  en (1):

$$\frac{2}{x} + \frac{7}{3(\frac{1}{3})} = 11$$

$$\frac{2}{x} + 7 = 11$$

$$2 + 7x = 11x$$

$$2 = 4x$$

$$x = \frac{2}{4} = \frac{1}{2}$$

$$R. \begin{cases} x = \frac{1}{2} \\ y = \frac{1}{3} \end{cases}$$

### EJERCICIO 182

Resolver los sistemas:

$$\begin{aligned} & \frac{2}{y} = \frac{7}{6} \\ & \frac{1}{y} = \frac{4}{3} \\ & \frac{2}{y} = \frac{1}{2} \\ & \frac{5}{y} = \frac{23}{12} \end{aligned} \quad \begin{aligned} 3. \quad & \begin{cases} \frac{5}{x} + \frac{4}{y} = 7 \\ \frac{7}{x} - \frac{6}{y} = 4 \end{cases} \\ 4. \quad & \begin{cases} \frac{12}{x} + \frac{5}{y} = -\frac{13}{2} \\ \frac{18}{x} + \frac{7}{y} = -\frac{19}{2} \end{cases} \end{aligned} \quad \begin{aligned} 5. \quad & \begin{cases} \frac{9}{x} + \frac{3}{y} = 27 \\ \frac{5}{x} + \frac{4}{y} = 22 \end{cases} \\ 6. \quad & \begin{cases} \frac{6}{x} - \frac{8}{y} = -23 \\ \frac{4}{x} + \frac{11}{y} = 50 \end{cases} \end{aligned} \quad \begin{aligned} 7. \quad & \begin{cases} \frac{9}{x} + \frac{10}{y} = -11 \\ \frac{7}{x} - \frac{15}{y} = -4 \end{cases} \\ 8. \quad & \begin{cases} \frac{1}{2x} - \frac{3}{y} = \frac{3}{4} \\ \frac{1}{x} + \frac{5}{2y} = -\frac{4}{3} \end{cases} \end{aligned}$$

$$\begin{aligned} 9. \quad & \begin{cases} \frac{2}{5x} - \frac{1}{3y} = -\frac{11}{45} \\ \frac{1}{10x} - \frac{3}{5y} = \frac{4}{5} \end{cases} & 10. \quad & \begin{cases} \frac{3}{x} - \frac{7}{3y} = \frac{2}{3} \\ \frac{1}{4x} + \frac{8}{y} = \frac{103}{84} \end{cases} & 11. \quad & \begin{cases} \frac{3}{10x} + \frac{1}{3y} = 1\frac{47}{60} \\ \frac{6}{5x} + \frac{1}{4y} = 2\frac{4}{5} \end{cases} \\ 12. \quad & \begin{cases} \frac{1}{x} + \frac{1}{y} = a \\ \frac{1}{x} - \frac{1}{y} = b \end{cases} & 13. \quad & \begin{cases} \frac{a}{x} + \frac{b}{y} = 2 \\ \frac{2}{x} - \frac{3b}{y} = \frac{2-3a}{a} \end{cases} & 14. \quad & \begin{cases} \frac{2}{x} + \frac{2}{y} = \frac{m+n}{mn} \\ \frac{m}{x} - \frac{n}{y} = 0 \end{cases} \end{aligned}$$

(1)

### 302 DETERMINANTE

Si del producto  $ab$  restamos el producto  $cd$ , tendremos la expresión  $ab - cd$ .

Esta expresión puede escribirse con la siguiente notación:

$$ab - cd = \begin{vmatrix} a & d \\ c & b \end{vmatrix}$$

La expresión  $\begin{vmatrix} a & d \\ c & b \end{vmatrix}$  es una determinante.

Las columnas de una determinante están constituidas por las cantidades que están en una misma línea vertical. En el ejemplo anterior  $a$  es la primera columna y  $d$  la segunda columna.

Las filas están constituidas por las cantidades que están en una misma línea horizontal. En el ejemplo dado,  $a$  y  $c$  es la primera fila y  $d$  y  $b$  la segunda fila.

Una determinante es cuadrada cuando tiene el mismo número de columnas que de filas. Así,  $\begin{vmatrix} a & d \\ c & b \end{vmatrix}$  es una determinante cuadrada porque tiene dos columnas y dos filas.

El orden de una determinante cuadrada es el número de elementos de cada fila o columna. Así,  $\begin{vmatrix} a & d \\ c & b \end{vmatrix}$  y  $\begin{vmatrix} 1 & 2 \\ 3 & 4 \end{vmatrix}$  son determinantes de segundo orden.

En la determinante  $\begin{vmatrix} a & d \\ c & b \end{vmatrix}$  la línea que une  $a$  con  $b$  es la diagonal principal y la línea que une  $c$  con  $d$  es la diagonal secundaria.

Los elementos de esta determinante son los productos  $ab$  y  $cd$ , a cuya diferencia equivale esta determinante.

(1) Nos concretamos a responder a este título del Programa Oficial, prescindiendo de la teoría de esta interesante materia, que haría demasiado extensos estos elementos.



### 303 DESARROLLO DE UNA DETERMINANTE DE SEGUNDO ORDEN

Una determinante de segundo orden equivale al producto de los términos que pertenecen a la diagonal principal, menos el producto de los términos que pertenecen a la diagonal secundaria.

#### Ejemplos

$$(1) \begin{vmatrix} a & p \\ m & b \end{vmatrix} = ab - mp.$$

$$(2) \begin{vmatrix} a & -n \\ m & b \end{vmatrix} = ab - m(-n) = ab + mn.$$

$$(3) \begin{vmatrix} 3 & 2 \\ 5 & 4 \end{vmatrix} = 3 \times 4 - 5 \times 2 = 12 - 10 = 2.$$

$$(4) \begin{vmatrix} 3 & -5 \\ 1 & -2 \end{vmatrix} = 3(-2) - 1(-5) = -6 + 5 = -1.$$

$$(5) \begin{vmatrix} -2 & -5 \\ -3 & -9 \end{vmatrix} = |-2|(-9) - |-5|(-3) = 18 - 15 = 3.$$

#### ■ EJERCICIO 183

Desarrollar las determinantes:

1. $\begin{vmatrix} 4 & 5 \\ 2 & 3 \end{vmatrix}$	4. $\begin{vmatrix} 7 & 9 \\ 5 & -2 \end{vmatrix}$	7. $\begin{vmatrix} -15 & -1 \\ 13 & 2 \end{vmatrix}$	10. $\begin{vmatrix} -5 & -8 \\ -19 & -21 \end{vmatrix}$
2. $\begin{vmatrix} 2 & 7 \\ 3 & 5 \end{vmatrix}$	5. $\begin{vmatrix} 5 & -3 \\ -2 & -8 \end{vmatrix}$	8. $\begin{vmatrix} 12 & -1 \\ 13 & -9 \end{vmatrix}$	11. $\begin{vmatrix} 8 & 2 \\ -3 & 0 \end{vmatrix}$
3. $\begin{vmatrix} -2 & 5 \\ 4 & 3 \end{vmatrix}$	6. $\begin{vmatrix} 9 & -11 \\ -3 & 7 \end{vmatrix}$	9. $\begin{vmatrix} 10 & 3 \\ 17 & 13 \end{vmatrix}$	12. $\begin{vmatrix} 31 & -85 \\ -20 & 43 \end{vmatrix}$

### 304 RESOLUCION POR DETERMINANTES DE UN SISTEMA DE DOS ECUACIONES CON DOS INCOGNITAS

Sea el sistema  $\begin{cases} a_1x + b_1y = c_1 & (1) \\ a_2x + b_2y = c_2 & (2) \end{cases}$

Resolviendo este sistema por el método general estudiado antes, se tiene:

$$x = \frac{c_1b_2 - c_2b_1}{a_1b_2 - a_2b_1} \quad (3) \quad y = \frac{a_1c_2 - a_2c_1}{a_1b_2 - a_2b_1} \quad (4)$$

Véase que ambas fracciones tienen el mismo denominador  $a_1b_2 - a_2b_1$  y esta expresión es el desarrollo de la determinante

$$\begin{vmatrix} a_1 & b_1 \\ a_2 & b_2 \end{vmatrix} \quad (5)$$

formada con los coeficientes de las incógnitas en las ecuaciones (1) y (2).

Esta es la determinante del sistema.

El numerador de  $x$ ,  $c_1b_2 - c_2b_1$ , es el desarrollo de la determinante

$$\begin{vmatrix} c_1 & b_1 \\ c_2 & b_2 \end{vmatrix}$$

que se obtiene de la determinante del sistema (5) con sólo sustituir en ella la columna de los coeficientes de  $x$  por la columna de los términos independientes  $\begin{vmatrix} c_1 \\ c_2 \end{vmatrix}$  de las ecuaciones (1) y (2).

El numerador de  $y$ ,  $a_1c_2 - a_2c_1$ , es el desarrollo de la determinante

$$\begin{vmatrix} a_1 & c_1 \\ a_2 & c_2 \end{vmatrix}$$

que se obtiene de la determinante del sistema (5) con sólo sustituir en ella la columna de los coeficientes de  $y$  por la columna de los términos independientes  $\begin{vmatrix} c_1 \\ c_2 \end{vmatrix}$  de las ecuaciones dadas.

Por tanto, los valores de  $x$  e  $y$ , igualdades (3) y (4), pueden escribirse:

$$x = \frac{\begin{vmatrix} c_1 & b_1 \\ c_2 & b_2 \end{vmatrix}}{\begin{vmatrix} a_1 & b_1 \\ a_2 & b_2 \end{vmatrix}} \quad y = \frac{\begin{vmatrix} a_1 & c_1 \\ a_2 & c_2 \end{vmatrix}}{\begin{vmatrix} a_1 & b_1 \\ a_2 & b_2 \end{vmatrix}}$$

Visto lo anterior, podemos decir que para resolver un sistema de dos ecuaciones con dos incógnitas por determinantes:

1) El valor de  $x$  es una fracción cuyo denominador es la determinante formada con los coeficientes de  $x$  e  $y$  (determinante del sistema) y cuyo numerador es la determinante que se obtiene sustituyendo en la determinante del sistema la columna de los coeficientes de  $x$  por la columna de los términos independientes de las ecuaciones dadas.

2) El valor de  $y$  es una fracción cuyo denominador es la determinante del sistema y cuyo numerador es la determinante que se obtiene susti-



tuyendo en la determinante del sistema la columna de los coeficientes de  $y$  por la columna de los términos independientes de las ecuaciones dadas.

## Ejemplos

- (1) Resolver por determinantes  $\begin{cases} 5x + 3y = 5 \\ 4x + 7y = 27 \end{cases}$

$$x = \frac{\begin{vmatrix} 5 & 3 \\ 27 & 7 \end{vmatrix}}{\begin{vmatrix} 5 & 3 \\ 4 & 7 \end{vmatrix}} = \frac{35 - 81}{35 - 12} = \frac{-46}{23} = -2.$$

$$y = \frac{\begin{vmatrix} 5 & 5 \\ 4 & 27 \end{vmatrix}}{\begin{vmatrix} 5 & 3 \\ 4 & 7 \end{vmatrix}} = \frac{135 - 20}{23} = \frac{115}{23} = 5.$$

$$R. \begin{cases} x = -2 \\ y = 5 \end{cases}$$

- (2) Resolver por determinantes  $\begin{cases} 9x + 8y = 12 \\ 24x - 60y = -29 \end{cases}$

$$x = \frac{\begin{vmatrix} 12 & 8 \\ -29 & -60 \end{vmatrix}}{\begin{vmatrix} 9 & 8 \\ 24 & -60 \end{vmatrix}} = \frac{-720 + 232}{-540 - 192} = \frac{-488}{-732} = \frac{2}{3}$$

$$y = \frac{\begin{vmatrix} 9 & 12 \\ 24 & -29 \end{vmatrix}}{\begin{vmatrix} 9 & 8 \\ 24 & -60 \end{vmatrix}} = \frac{-261 - 288}{-732} = \frac{-549}{-732} = \frac{3}{4}$$

$$R. \begin{cases} x = \frac{2}{3} \\ y = \frac{3}{4} \end{cases}$$

- (3) Resolver por determinantes  $\begin{cases} \frac{x+1}{5} = \frac{y-2}{7} \\ \frac{x+4}{3} - \frac{y-9}{6} = \frac{8}{3} \end{cases}$

Quitando denominadores:  $\begin{cases} 7x + 7 = 5y - 10 \\ 2x + 8 - y + 9 = 16 \end{cases}$

Transponiendo y reduciendo:  $\begin{cases} 7x - 5y = -17 \\ 2x - y = -1 \end{cases}$

Tendremos:

$$x = \frac{\begin{vmatrix} -17 & -5 \\ -1 & -1 \end{vmatrix}}{\begin{vmatrix} 7 & -5 \\ 2 & -1 \end{vmatrix}} = \frac{17 - 5}{-7 + 10} = \frac{12}{3} = 4.$$

$$y = \frac{\begin{vmatrix} 7 & -17 \\ 2 & -1 \end{vmatrix}}{\begin{vmatrix} 7 & -5 \\ 2 & -1 \end{vmatrix}} = \frac{-7 + 34}{3} = \frac{27}{3} = 9.$$

$$R. \begin{cases} x = 4 \\ y = 9 \end{cases}$$

## EJERCICIO 184

Resolver por determinantes:

1.  $\begin{cases} 7x + 8y = 29 \\ 5x + 11y = 26 \end{cases}$

2.  $\begin{cases} 3x - 4y = 13 \\ 8x - 5y = -5 \end{cases}$

3.  $\begin{cases} 13x - 31y = -326 \\ 25x + 37y = 146 \end{cases}$

4.  $\begin{cases} 15x - 44y = -6 \\ 32y - 27x = -1 \end{cases}$

5.  $\begin{cases} 8x = -9y \\ 2x + 5 + 3y = 3\frac{1}{2} \end{cases}$

6.  $\begin{cases} ax - by = -1 \\ ax + by = 7 \end{cases}$

7.  $\begin{cases} 3x - (y+2) = 2y+1 \\ 5y - (x+3) = 3x+1 \end{cases}$

8.  $\begin{cases} ax + 2y = 2 \\ \frac{ax}{2} - 3y = -1 \end{cases}$

9.  $\begin{cases} \frac{x}{4} + \frac{y}{6} = -4 \\ \frac{x}{8} - \frac{y}{12} = 0 \end{cases}$

10.  $\begin{cases} 3x + ay = 3a+1 \\ \frac{x}{a} + ay = 2 \end{cases}$

11.  $\begin{cases} \frac{x+2}{3} - \frac{y-3}{8} = \frac{5}{6} \\ \frac{y-5}{6} - \frac{2x-3}{5} = 0 \end{cases}$

12.  $\begin{cases} 3x - 2y = 5 \\ mx + 4y = 2(m+1) \end{cases}$

13.  $\begin{cases} 2x - \frac{2y+3}{17} = y+2 \\ 3y - \frac{4x+1}{21} = 3x+5 \end{cases}$

14.  $\begin{cases} \frac{x+y}{x-y} = 4 \\ \frac{x-y-1}{x+y+1} = \frac{1}{9} \end{cases}$

15.  $\begin{cases} x - y = 2b \\ \frac{x}{a+b} + \frac{y}{a-b} = 2 \end{cases}$

16.  $\begin{cases} \frac{x+9}{x-9} = \frac{y+21}{y+39} \\ \frac{x+8}{x-8} = \frac{y+19}{y+11} \end{cases}$

## 305 RESOLUCION GRAFICA DE UN SISTEMA DE DOS ECUACIONES CON DOS INCOGNITAS

Si una recta pasa por un punto, las coordenadas de este punto satisfacen la ecuación de la recta. Así, para saber si la recta  $2x + 5y = 19$  pasa por el punto  $(2, 3)$ , hacemos  $x = 2$ ,  $y = 3$  en la ecuación de la recta y tenemos:

$$2(2) + 5(3) = 19, \text{ o sea, } 19 = 19;$$

luego, la recta  $2x + 5y = 19$  pasa por el punto  $(2, 3)$ .

Recíprocamente, si las coordenadas de un punto satisfacen la ecuación de una recta, dicho punto pertenece a la recta.

Sea el sistema  $\begin{cases} 2x + 3y = 18 \\ 3x + 4y = 25 \end{cases}$ . Resolviendo este sistema se encuentra  $x = 3$ ,  $y = 4$ , valores que satisfacen ambas ecuaciones.

Esta solución  $x = 3$ ,  $y = 4$  representa un punto del plano, el punto  $(3, 4)$ .

Ahora bien,  $x = 3$ ,  $y = 4$  satisfacen la ecuación  $2x + 3y = 18$ ; luego, el punto  $(3, 4)$  pertenece a la recta que representa esta ecuación, y como  $x = 3$ ,  $y = 4$  satisfacen también la ecuación  $3x + 4y = 25$ , el punto  $(3, 4)$  pertenece a ambas rectas; luego, necesariamente el punto  $(3, 4)$  es la intersección de las dos rectas.



Por tanto, la solución de un sistema de dos ecuaciones con dos incógnitas representa las **coordenadas del punto de intersección** de las dos rectas que representan las ecuaciones; luego, resolver gráficamente un sistema de dos ecuaciones con dos incógnitas consiste en hallar el punto de intersección de las dos rectas.

## Ejemplos

- (1) Resolver gráficamente el sistema  $\begin{cases} x + y = 6 \\ 5x - 4y = 12 \end{cases}$

Hay que hallar la intersección de estas dos rectas. Representemos ambas ecuaciones. (Fig. 55).

En  $x + y = 6$ , tenemos:

Para  $x = 0$ ,  $y = 6$ .

$y = 0$ ,  $x = 6$ .

En  $5x - 4y = 12$ , tenemos:

Para  $x = 0$ ,  $y = -3$ .

$y = 0$ ,  $x = 2\frac{3}{5}$ .

La intersección es el punto  $(4, 2)$  luego la solución del sistema es  $x = 4$ ,  $y = 2$ . R.

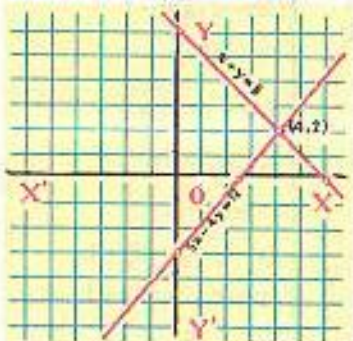


FIGURA 55

- (2) Resolver gráficamente el sistema  $\begin{cases} 4x + 5y = -32 \\ 3x - 5y = 11 \end{cases}$

Hallamos la intersección de estas rectas. (Fig. 56).

En  $4x + 5y = -32$ , se tiene:

Para  $x = 0$ ,  $y = -6\frac{4}{5}$ .

$y = 0$ ,  $x = -8$ .

En  $3x - 5y = 11$ , se tiene:

Para  $x = 0$ ,  $y = -2\frac{1}{5}$ .

$y = 0$ ,  $x = 3\frac{1}{3}$ .

El punto de intersección es  $(-3, -4)$  luego la solución del sistema es  $x = -3$ ,  $y = -4$ . R.

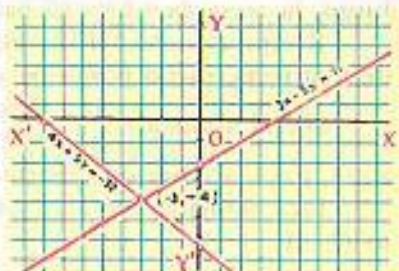


FIGURA 56

- (3) Resolver gráficamente  $\begin{cases} x - 2y = 6 \\ 2x - 4y = 5 \end{cases}$

Representemos ambas ecuaciones. (Figura 57)

En  $x - 2y = 6$  se tiene:

Para  $x = 0$ ,  $y = -3$ .

$y = 0$ ,  $x = 6$ .

En  $2x - 4y = 5$  se tiene:

Para  $x = 0$ ,  $y = -1\frac{1}{4}$ .

$y = 0$ ,  $x = 2\frac{1}{2}$ .

Las líneas son paralelas, no hay puntos de intersección, luego el sistema no tiene solución; las ecuaciones son incompatibles.

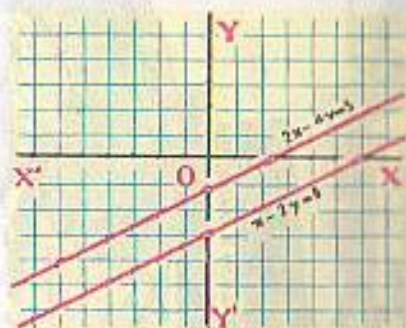


FIGURA 57

- (4) Resolver gráficamente  $\begin{cases} x - 2y = 5 \\ 2x - 4y = 10 \end{cases}$

Representemos ambas ecuaciones. (Figura 58).

En  $x - 2y = 5$ , se tiene:

Para  $x = 0$ ,  $y = -2\frac{1}{2}$ .

$y = 0$ ,  $x = 5$ .

En  $2x - 4y = 10$ , se tiene:

Para  $x = 0$ ,  $y = -2\frac{1}{2}$ .

$y = 0$ ,  $x = 5$ .

Vemos que ambas rectas coinciden, tienen infinitos puntos comunes. Las dos ecuaciones representan la misma línea, las ecuaciones son equivalentes.



FIGURA 58

## EJERCICIO 185

Resolver gráficamente:

1.  $\begin{cases} x - y = 1 \\ x + y = 7 \end{cases}$

4.  $\begin{cases} 3x = -4y \\ 5x - 6y = 38 \end{cases}$

7.  $\begin{cases} x + 5 = y + 2 \\ y - 4 = x + 2 \end{cases}$

10.  $\begin{cases} x + 3y = 6 \\ 3x + 9y = 10 \end{cases}$

2.  $\begin{cases} x - 2y = 10 \\ 2x + 3y = -8 \end{cases}$

5.  $\begin{cases} 3x + 4y = 15 \\ 2x + y = 5 \end{cases}$

8.  $\begin{cases} \frac{3x}{5} + \frac{y}{4} = 2 \\ x - 5y = 25 \end{cases}$

11.  $\begin{cases} 2x + 3y = -13 \\ 6x + 9y = -39 \end{cases}$

3.  $\begin{cases} 5x - 3y = 0 \\ 7x - y = -16 \end{cases}$

6.  $\begin{cases} 5x + 2y = 16 \\ 4x + 3y = 10 \end{cases}$

9.  $\begin{cases} \frac{x}{2} - \frac{y}{3} = -\frac{1}{6} \\ \frac{x}{3} + \frac{y}{4} = -\frac{7}{12} \end{cases}$

12.  $\begin{cases} \frac{x-2}{2} - \frac{y-3}{3} = 4 \\ \frac{y-2}{2} + \frac{x-3}{3} = - \end{cases}$

Hallar gráficamente el par de valores de  $x$  e  $y$  que satisfacen cada uno de los grupos de ecuaciones siguientes:


13.  $\begin{cases} x + y = 9 \\ x - y = -1 \\ x - 2y = -6 \end{cases}$

14.  $\begin{cases} x + y = 5 \\ 3x + 4y = 18 \\ 2x + 3y = 13 \end{cases}$

15.  $\begin{cases} 2x + y = -1 \\ x - 2y = -13 \\ 3x - 2y = -19 \end{cases}$

16.  $\begin{cases} x - y = 1 \\ 2y - x = -4 \\ 4x - 5y = 7 \end{cases}$





**EULER (1707-1783)** Matemático suizo, Basilea. Fue alumno de Johannes Bernoulli. Ocho años ganó el premio que anualmente la Academia de París sobre diversos temas. Federico el Grande lo llamó a Berlín; Ca-

talina de Rusia lo lleva a San Petersburgo, donde trabaja incesantemente. Por su "Tratado sobre Mecánica" puede considerarse el fundador de la ciencia moderna. Su obra fue copiosísima, a pesar de que los últimos diecisiete años de su vida estuvo totalmente ciego.

## CAPITULO XXV

### ECUACIONES SIMULTANEAS DE PRIMER GRADO CON TRES O MAS INCOGNITAS

#### RESOLUCION DE UN SISTEMA DE TRES ECUACIONES CON TRES INCOGNITAS

Para resolver un sistema de tres ecuaciones con tres incógnitas se procede de este modo:

- 1) Se combinan dos de las ecuaciones dadas y se elimina una de las incógnitas (lo más sencillo es eliminarla por suma o resta) y con ello se obtiene una ecuación con dos incógnitas.
- 2) Se combina la tercera ecuación con cualquiera de las otras dos ecuaciones dadas y se elimina entre ellas la misma incógnita que se eliminó antes, obteniéndose otra ecuación con dos incógnitas.
- 3) Se resuelve el sistema formado por las dos ecuaciones con dos incógnitas que se han obtenido, hallando de este modo dos de las incógnitas.
- 4) Los valores de las incógnitas obtenidos se sustituyen en una de las ecuaciones dadas de tres incógnitas, con lo cual se halla la tercera incógnita.

### Ejemplos

(1) Resolver el sistema

$$\begin{cases} x + 4y - z = 6. & (1) \\ 2x + 5y - 7z = -9. & (2) \\ 3x - 2y + z = 2. & (3) \end{cases}$$

Combinamos las ecuaciones (1) y (2) y vamos a eliminar la  $x$ . Multiplicando la ecuación (1) por 2, se tiene:

$$\begin{cases} 2x + 8y - 2z = 12 \\ -2x - 5y + 7z = 9 \end{cases}$$

Restando:  $3y + 5z = 21 \quad (4)$

Combinamos la tercera ecuación (3) con cualquiera de las otras dos ecuaciones dadas. Vamos a combinarla con (1) para eliminar la  $x$ . Multiplicando (1) por 3 tenemos:

$$\begin{cases} 3x + 12y - 3z = 18 \\ -3x + 2y - z = -2 \end{cases}$$

Restando:  $14y - 4z = 16$

Dividiendo entre 2:  $7y - 2z = 8 \quad (5)$

Ahora tomamos las dos ecuaciones con dos incógnitas que hemos obtenido (4) y (5), y formamos un sistema:

$$3y + 5z = 21. \quad (4)$$

$$7y - 2z = 8. \quad (5)$$

Resolvamos este sistema. Vamos a eliminar la  $z$  multiplicando (4) por 2 y (5) por 5:

$$6y + 10z = 42$$

$$35y - 10z = 40$$

$$41y = 82$$

$$y = 2$$

Sustituyendo  $y = 2$  en (5) se tiene:

$$7(2) - 2z = 8$$

$$14 - 2z = 8$$

$$-2z = -6$$

$$z = 3$$

Sustituyendo  $y = 2$ ,  $z = 3$  en cualquiera de las tres ecuaciones dadas, por ejemplo en (1), se tiene:

$$x + 4(2) - 3 = 6$$

$$x + 8 - 3 = 6$$

$$x = 1.$$

$$R. \quad \begin{cases} x = 1. \\ y = 2. \\ z = 3. \end{cases}$$

#### VERIFICACION

Los valores  $x = 1$ ,  $y = 2$ ,  $z = 3$  tienen que satisfacer las tres ecuaciones dadas. Hágase la sustitución y se verá que las tres ecuaciones dadas se convierten en identidad.



(2) Resolver el sistema

$$\begin{cases} z - 4 + \frac{6x - 19}{5} = -y, \\ 10 - \frac{x - 2z}{8} = 2y - 1, \\ 4z + 3y = 3x - y. \end{cases}$$

Quitando denominadores:

$$\begin{cases} 5z - 20 + 6x - 19 = -5y \\ 80 - x + 2z = 16y - 8 \\ 4z + 3y = 3x - y \end{cases}$$

Transponiendo y reduciendo:

$$\begin{cases} 6x + 5y + 5z = 39 & (1) \\ -x - 16y + 2z = -88 & (2) \\ -3x + 4y + 4z = 0 & (3) \end{cases}$$

Vamos a eliminar  $x$ . Combinamos (1) y (2) y multiplicamos (2) por 6:

$$\begin{aligned} 6x + 5y + 5z &= 39 \\ -6x - 96y + 12z &= -528 \\ \hline \text{Sumando:} & -91y + 17z = -489 & (4) \end{aligned}$$

Combinamos (2) y (3):

$$\begin{aligned} \text{Multiplicando (2) por 3 y} & \\ \text{cambiándole el signo:} & \begin{cases} 3x + 48y - 6z = 264 \\ -3x + 4y + 4z = 0 \\ \hline 52y - 2z = 264 \end{cases} \end{aligned}$$

Dividiendo por 2:

$$26y - z = 132 \quad (5)$$

Combinamos (4) y (5):

$$\begin{aligned} \text{Combinamos (4) y (5):} & \begin{cases} -91y + 17z = -489 & (4) \\ 26y - z = 132 & (5) \end{cases} \end{aligned}$$

Multiplicando (4) por 2 y

$$\begin{aligned} \text{(5) por 7:} & \begin{cases} -182y + 34z = -978 \\ 182y - 7z = 924 \\ \hline \text{Sumando:} & 27z = -54 \end{cases} \end{aligned}$$

$$z = -2$$

Sustituyendo  $z = -2$  en (5):

$$\begin{aligned} 26y - (-2) &= 132 \\ 26y + 2 &= 132 \\ 26y &= 130 \\ y &= 5. \end{aligned}$$

Sustituyendo  $y = 5$ ,  $z = -2$  en (3):

$$\begin{aligned} -3x + 4(5) + 4(-2) &= 0 \\ -3x + 20 - 8 &= 0 \\ -3x + 12 &= 0 \\ -3x &= -12 \\ x &= 4. \end{aligned} \quad \text{R. } \begin{cases} x = 4, \\ y = 5, \\ z = -2. \end{cases}$$

(3) Resolver el sistema

$$\begin{cases} 2x - 5y = 13, & (1) \\ 4y + z = -8, & (2) \\ x - y - z = -2. & (3) \end{cases}$$

En algunos casos, no hay reglas fijas para resolver el sistema y depende de la habilidad del alumno encontrar el modo más expedito de resolverlo. Este ejemplo puede resolverse así:

La ecuación (1) tiene  $x$  e  $y$ . Entonces tengo que buscar otra ecuación de las incógnitas que tenga  $x$  e  $y$  para formar con (1) un sistema de dos ecuaciones que tengan ambas  $x$  e  $y$ .

Reuniendo (2) y (3):

$$\begin{cases} 4y + z = -8 \\ x - y - z = -2 \end{cases}$$

Sumando:

$$x + 3y = -10 \quad (4)$$

Ya tengo la ecuación que buscaba. Ahora, formamos un sistema con (1) y (4):

$$\begin{cases} 2x - 5y = 13, \\ x + 3y = -10. \end{cases}$$

Multiplicando esta última ecuación por 2 y restando:

$$\begin{aligned} \begin{cases} 2x - 5y = 13 \\ -2x - 6y = 20 \\ \hline -11y = 33 \end{cases} \\ y = -3. \end{aligned}$$

Sustituyendo  $y = -3$  en (1):

$$\begin{aligned} 2x - 5(-3) &= 13 \\ 2x + 15 &= 13 \\ 2x &= -2 \\ x &= -1. \end{aligned}$$

Sustituyendo  $x = -1$ ,  $y = -3$  en (3):

$$\begin{aligned} -1 - (-3) - z &= -2 \\ -1 + 3 - z &= -2 \\ -z &= -4 \\ z &= 4. \end{aligned}$$

$$\text{R. } \begin{cases} x = -1, \\ y = -3, \\ z = 4. \end{cases}$$

## EJERCICIO 186

Resolver los sistemas:

$$1. \begin{cases} x + y + z = 6, \\ x - y + 2z = 5, \\ x - y - 3z = -10. \end{cases}$$

$$2. \begin{cases} x + y + z = 12, \\ 2x - y + z = 7, \\ x + 2y - z = 6. \end{cases}$$

$$3. \begin{cases} x - y + z = 2, \\ x + y + z = 4, \\ 2x + 2y - z = -4. \end{cases}$$

$$4. \begin{cases} 2x + y - 3z = -1, \\ x - 3y - 2z = -12, \\ 3x - 2y - z = -5. \end{cases}$$

$$5. \begin{cases} 2x + 3y + z = 1, \\ 6x - 2y - z = -14, \\ 3x + y - z = 1. \end{cases}$$

$$6. \begin{cases} 5x - 2y + z = 24, \\ 2x + 3y - 2z = -14, \\ x - 4y + 3z = 26. \end{cases}$$

$$7. \begin{cases} 4x + 2y + 3z = 8, \\ 3x + 4y + 2z = -1, \\ 2x - y + 5z = 3. \end{cases}$$

$$8. \begin{cases} 6x + 3y + 2z = 12, \\ 9x - y + 4z = 37, \\ 10x + 5y + 3z = 21. \end{cases}$$

$$9. \begin{cases} 2x + 4y + 3z = 3, \\ 10x - 8y - 9z = 0, \\ 4x + 4y - 3z = 2. \end{cases}$$

$$10. \begin{cases} 3x + y + z = 1, \\ x + 2y - z = 1, \\ x + y + 2z = -17. \end{cases}$$

$$11. \begin{cases} 7x + 3y - 4z = -35, \\ 3x - 2y + 5z = 38, \\ x + y - 6z = -27. \end{cases}$$

$$12. \begin{cases} 4x - y + 5z = -6, \\ 3x + 3y - 4z = 30, \\ 6x + 2y - 3z = 33. \end{cases}$$



$$13. \begin{cases} 9x+4y-10z=6. \\ 6x-8y+5z=-1. \\ 12x+12y-15z=10. \end{cases}$$

$$14. \begin{cases} 5x+3y-z=-11. \\ 10x-y+z=10. \\ 15x+2y-z=-7. \end{cases}$$

$$15. \begin{cases} x+y=1. \\ y+z=-1. \\ z+x=-6. \end{cases}$$

$$16. \begin{cases} x+2y=-1. \\ 2y+z=0. \\ x+2z=11. \end{cases}$$

$$17. \begin{cases} y+z=-8. \\ 2x+z=9. \\ 3y+2z=-3. \end{cases}$$

$$18. \begin{cases} 3x-2y=0. \\ 3y-4z=25. \\ z-5x=-14. \end{cases}$$

$$19. \begin{cases} 3x-5y=10. \\ 5x-3y=-7. \\ 3y-5z=-13. \end{cases}$$

$$20. \begin{cases} x-2y=0. \\ y-2z=5. \\ x+y+z=8. \end{cases}$$

$$21. \begin{cases} 5x-3z=2. \\ 2x-y=-5. \\ x+2y-4z=8. \end{cases}$$

$$22. \begin{cases} 2x-z=14. \\ 4x+y-z=41. \\ 3x-y+5z=53. \end{cases}$$

$$23. \begin{cases} x+y-z=1. \\ z+x-y=3. \\ z-x+y=7. \end{cases}$$

$$24. \begin{cases} \frac{x}{2} + \frac{y}{2} - \frac{z}{3} = 3. \\ \frac{x}{3} + \frac{y}{6} - \frac{z}{2} = -5. \\ \frac{x}{6} - \frac{y}{3} + \frac{z}{6} = 0. \end{cases}$$

$$25. \begin{cases} \frac{x}{3} + \frac{y}{4} + \frac{z}{3} = 21. \\ \frac{x}{5} + \frac{y}{6} - \frac{z}{3} = 0. \\ \frac{x}{10} + \frac{y}{3} - \frac{z}{6} = 3. \end{cases}$$

$$26. \begin{cases} x - \frac{y+z}{3} = 4. \\ y - \frac{x+z}{8} = 10. \\ z - \frac{y-x}{2} = 5. \end{cases}$$

$$27. \begin{cases} \frac{x+y}{7} = \frac{y+4}{5} \\ \frac{x-z}{5} = \frac{y-4}{2} \\ \frac{y-z}{3} = \frac{x+2}{10} \end{cases}$$

$$28. \begin{cases} x - \frac{y+2}{5} = z+4. \\ y - \frac{z+4}{2} = x-6. \\ z - \frac{x-7}{3} = y-5. \end{cases}$$

$$29. \begin{cases} x-y + \frac{y-z}{2} = 3. \\ \frac{x-y}{2} - \frac{x-z}{4} = 0. \\ \frac{y-z}{2} - x = -5. \end{cases}$$

$$30. \begin{cases} \frac{1}{x} + \frac{1}{y} = 5. \\ \frac{1}{x} + \frac{1}{z} = 6. \\ \frac{1}{y} + \frac{1}{z} = 7. \end{cases}$$

$$31. \begin{cases} \frac{3}{x} + \frac{2}{y} = 2. \\ \frac{2}{y} + \frac{2}{z} = \frac{3}{2} \\ \frac{1}{x} + \frac{4}{z} = \frac{4}{3} \end{cases}$$

$$32. \begin{cases} \frac{1}{x} + \frac{4}{y} + \frac{2}{z} = -6. \\ \frac{3}{x} + \frac{2}{y} + \frac{4}{z} = 3. \\ \frac{6}{x} - \frac{5}{y} - \frac{6}{z} = 31. \end{cases}$$

### EMPLEO DE LAS DETERMINANTES EN LA RESOLUCION DE UN SISTEMA DE TRES ECUACIONES CON TRES INCOGNITAS

#### 307 DETERMINANTE DE TERCER ORDEN

Una determinante como

$$\begin{vmatrix} a_1 & b_1 & c_1 \\ a_2 & b_2 & c_2 \\ a_3 & b_3 & c_3 \end{vmatrix}$$

que consta de tres filas y tres columnas, es una determinante de tercer orden.

#### 308 HALLAR EL VALOR DE UNA DETERMINANTE DE TERCER ORDEN

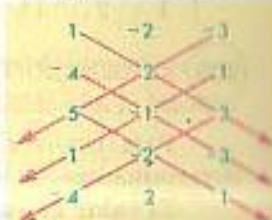
El modo más sencillo y que creemos al alcance de los alumnos, de hallar el valor de una determinante de tercer orden es aplicando la Regla de Sarrus. Explicaremos esta sencilla regla práctica con dos ejemplos.

$$1) \text{ Resolver } \begin{vmatrix} 1 & -2 & -3 \\ -4 & 2 & 1 \\ 5 & -1 & 3 \end{vmatrix} \text{ por la Regla de Sarrus.}$$

Debajo de la tercera fila horizontal se repiten las dos primeras filas horizontales y tenemos:

$$\begin{vmatrix} 1 & -2 & -3 \\ -4 & 2 & 1 \\ 5 & -1 & 3 \\ 1 & -2 & -3 \\ -4 & 2 & 1 \end{vmatrix}$$

Ahora trazamos 3 diagonales de derecha a izquierda y 3 de izquierda a derecha, como se indica a continuación:



Ahora se multiplican entre sí los tres números por que pasa cada diagonal.

Los productos de los números que hay en las diagonales trazadas de izquierda a derecha se escriben con su propio signo y los productos de los números que hay en las diagonales trazadas de derecha a izquierda con el signo cambiado. Así, en este caso, tenemos:

$$6 - 12 - 10 + 30 + 1 - 24 = -9$$

valor de la determinante dada.

#### DETALLE DE LOS PRODUCTOS

De izquierda a derecha:

$$1 \times 2 \times 3 = 6 \quad (-4) \times (-1) \times (-3) = -12 \quad 5 \times (-2) \times 1 = -10.$$

De derecha a izquierda:

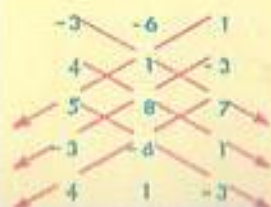
$$(-3) \times 2 \times 5 = -30 \text{ cambiándole el signo } +30.$$

$$1 \times (-1) \times 1 = -1 \text{ cambiándole el signo } +1.$$

$$3 \times (-2) \times (-4) = 24 \text{ cambiándole el signo } -24.$$

$$2) \text{ Resolver por Sarrus } \begin{vmatrix} -3 & -6 & 1 \\ 4 & 1 & -3 \\ 5 & 8 & 7 \end{vmatrix}$$

Aplicando el procedimiento explicado, tenemos:



$$-21 + 32 + 90 - 5 - 72 + 168 = 192. \text{ R.}$$



## EJERCICIO 187

Hallar el valor de las siguientes determinantes:

$$\begin{array}{ll}
 \begin{vmatrix} 1 & 2 & 1 \\ 1 & 3 & 4 \\ 1 & 0 & 2 \end{vmatrix} & 4. \begin{vmatrix} 2 & 5 & -1 \\ 3 & -4 & 3 \\ 6 & 2 & 4 \end{vmatrix} \\
 \begin{vmatrix} 1 & 2 & -2 \\ 1 & -3 & 3 \\ -1 & 4 & 5 \end{vmatrix} & 5. \begin{vmatrix} 5 & -1 & -6 \\ -2 & 5 & 3 \\ 3 & 4 & 2 \end{vmatrix} \\
 \begin{vmatrix} -3 & 4 & 1 \\ 2 & -3 & 0 \\ 1 & 2 & 7 \end{vmatrix} & 6. \begin{vmatrix} 4 & 1 & 5 \\ 3 & 2 & -6 \\ 12 & 3 & 2 \end{vmatrix}
 \end{array}$$

## 09 RESOLUCION POR DETERMINANTES DE UN SISTEMA DE TRES ECUACIONES CON TRES INCOGNITAS

Para resolver un sistema de tres ecuaciones con tres incógnitas, por determinantes, se aplica la Regla de Kramer, que dice:

El valor de cada incógnita es una fracción cuyo denominador es la determinante formada con los coeficientes de las incógnitas (determinante del sistema) y cuyo numerador es la determinante que se obtiene sustituyendo en la determinante del sistema la columna de los coeficientes de la incógnita que se halla por la columna de los términos independientes de las ecuaciones dadas.

## Ejemplos

(1) Resolver por determinantes  $\begin{cases} x + y + z = 4, \\ 2x - 3y + 5z = -5, \\ 3x + 4y + 7z = 10. \end{cases}$

Para hallar  $x$ , aplicando la Regla de Kramer, tendremos:

$$x = \frac{\begin{vmatrix} 4 & 1 & 1 \\ -5 & -3 & 5 \\ 10 & 4 & 7 \end{vmatrix}}{\begin{vmatrix} 1 & 1 & 1 \\ 2 & -3 & 5 \\ 3 & 4 & 7 \end{vmatrix}} = \frac{-69}{-23} = 3.$$

Véase que la determinante del denominador (determinante del sistema) está formada con los coeficientes de las incógnitas en las ecuaciones dadas. El numerador de  $x$  se ha formado sustituyendo en la determinante del sistema la columna  $\frac{1}{3}$  de los coeficientes de  $x$  por la columna  $\frac{4}{10}$  de los términos independientes de las ecuaciones dadas.

Para hallar  $y$ , tendremos:

$$y = \frac{\begin{vmatrix} 1 & 4 & 1 \\ 2 & -5 & 5 \\ 3 & 10 & 7 \end{vmatrix}}{\begin{vmatrix} 1 & 1 & 1 \\ 2 & -3 & 5 \\ 3 & 4 & 7 \end{vmatrix}} = \frac{-46}{-23} = 2.$$

El denominador es el mismo de antes, la determinante del sistema. El numerador se obtiene sustituyendo en ésta la columna  $\frac{1}{4}$  de los coeficientes de  $y$  por la columna  $\frac{-5}{10}$  de los términos independientes.

Para hallar  $z$ , tendremos:

$$z = \frac{\begin{vmatrix} 1 & 1 & 4 \\ 2 & -3 & -5 \\ 3 & 4 & 10 \end{vmatrix}}{\begin{vmatrix} 1 & 1 & 1 \\ 2 & -3 & 5 \\ 3 & 4 & 7 \end{vmatrix}} = \frac{23}{-23} = -1.$$

El denominador es la determinante del sistema; el numerador se obtiene sustituyendo en ésta la columna  $\frac{1}{5}$  de los coeficientes de  $z$  por la columna  $\frac{-5}{10}$  de los términos independientes.

La solución del sistema es  $\begin{cases} x = 3, \\ y = 2, \\ z = -1. \end{cases}$

(2) Resolver por determinantes  $\begin{cases} 2x + y - 3z = 12 \\ 5x - 4y + 7z = 27 \\ 10x + 3y - z = 40. \end{cases}$

Tendremos:

$$x = \frac{\begin{vmatrix} 12 & 1 & -3 \\ 27 & -4 & 7 \\ 40 & 3 & -1 \end{vmatrix}}{\begin{vmatrix} 2 & 1 & -3 \\ 5 & -4 & 7 \\ 10 & 3 & -1 \end{vmatrix}} = \frac{-620}{-124} = 5.$$

$$y = \frac{\begin{vmatrix} 2 & 12 & -3 \\ 5 & 27 & 7 \\ 10 & 40 & -1 \end{vmatrix}}{\begin{vmatrix} 2 & 1 & -3 \\ 5 & -4 & 7 \\ 10 & 3 & -1 \end{vmatrix}} = \frac{496}{-124} = -4.$$

$$z = \frac{\begin{vmatrix} 2 & 1 & 12 \\ 5 & -4 & 27 \\ 10 & 3 & 40 \end{vmatrix}}{\begin{vmatrix} 2 & 1 & -3 \\ 5 & -4 & 7 \\ 10 & 3 & -1 \end{vmatrix}} = \frac{248}{-124} = -2. \quad \text{R. } \begin{cases} x = 5, \\ y = -4, \\ z = -2. \end{cases}$$



## EJERCICIO 188

Resolver por determinantes:

$$1. \begin{cases} x+y+z=11 \\ x-y+3z=13 \\ 2x+2y-z=7 \end{cases}$$

$$2. \begin{cases} x+y+z=-6 \\ 2x+y-z=-1 \\ x-2y+3z=-6 \end{cases}$$

$$3. \begin{cases} 2x+3y+4z=3 \\ 2x+6y+8z=5 \\ 4x+9y-4z=4 \end{cases}$$

$$4. \begin{cases} 4x-y+z=4 \\ 2y-z+2x=2 \\ 6x+3z-2y=12 \end{cases}$$

$$5. \begin{cases} x+4y+5z=11 \\ 3x-2y+z=5 \\ 4x+y-3z=-26 \end{cases}$$

$$6. \begin{cases} 7x+10y+4z=-2 \\ 5x-2y+6z=38 \\ 3x+y-z=21 \end{cases}$$

$$7. \begin{cases} 4x+7y+5z=-2 \\ 6x+3y+7z=6 \\ x-y+9z=-21 \end{cases}$$

$$8. \begin{cases} 3x-5y+2z=-22 \\ 2x-y+6z=32 \\ 8x+3y-5z=-33 \end{cases}$$

$$9. \begin{cases} x+y+z=3 \\ x+2y=6 \\ 2x+3y=6 \end{cases}$$

$$10. \begin{cases} 3x-2y=-1 \\ 4x+z=-28 \\ x+2y+3z=-43 \end{cases}$$

$$11. \begin{cases} \frac{x}{3} - \frac{y}{4} + \frac{z}{4} = 1 \\ \frac{x}{6} + \frac{y}{2} - z = 1 \\ \frac{x}{2} - \frac{y}{8} - \frac{z}{2} = 0 \end{cases}$$

$$12. \begin{cases} \frac{x}{3} + y = 2z + 3 \\ x - y = 1 \\ x + z = \frac{y}{4} + 11 \end{cases}$$

## REPRESENTACION GRAFICA DE PUNTOS DEL ESPACIO Y PLANOS

### 310 EJES COORDENADOS EN EL ESPACIO (figura 59)

Si por un punto del espacio  $O$  trazamos tres ejes  $OX$ ,  $OY$ ,  $OZ$ , de modo que cada eje sea perpendicular a los otros dos, tenemos un sistema de ejes coordenados rectangulares en el espacio. Si los ejes no son perpendiculares entre sí, tenemos un sistema de ejes coordenados oblicuos. El punto  $O$  se llama **origen**.

Cada dos de estos ejes determinan un plano.

Los ejes  $OX$  y  $OY$  determinan el plano  $XY$ ; los ejes  $OY$  y  $OZ$  determinan el plano  $YZ$ , y los ejes  $OZ$  y  $OX$  determinan el plano  $ZX$ . Estos son los planos coordenados.

Estos tres planos, perpendicular cada uno de ellos a los otros dos, forman un triedro trirectángulo.

Cuando los ejes están dispuestos como se indica en la figura 59, se dice que el triedro trirectángulo es **inverso**. Si el eje  $OX$  ocupara la posición del eje  $OY$  y vice-



FIGURA 59

(1) Ponga cero como coeficiente de las incógnitas que falten en cada ecuación.

versa, el triedro sería **directo**. Nosotros trabajaremos con el triedro **inverso**.

Para que el alumno aclare los conceptos anteriores, fíjese en el ángulo de la izquierda de su salón de clase. El **suelo** es el plano  $XY$ ; la pared que está a la **izquierda** del alumno es el plano  $YZ$ ; la pared que le queda **enfrente** es el plano  $ZX$ . El eje  $OX$  es la intersección de la pared de enfrente con el suelo; el eje  $OY$  es la intersección de la pared de la izquierda con el suelo; el eje  $OZ$  es la intersección de la pared de la izquierda con la pared del frente. El punto donde concurren los tres ejes (la esquina del suelo, a la izquierda) es el **origen**.

### 311 COORDENADAS CARTESIANAS DE UN PUNTO DEL ESPACIO

La posición de un punto del espacio queda determinada por sus coordenadas en el espacio, que son sus distancias a los planos coordenados.

Sea el punto  $P$  (figura 60). Las coordenadas del punto  $P$  son:

- 1) La **abscisa**  $x$ , que es la distancia de  $P$  al plano  $YZ$ .
- 2) La **ordenada**  $y$ , que es la distancia de  $P$  al plano  $ZX$ .
- 3) La **cota**  $z$ , que es la distancia de  $P$  al plano  $XY$ .

El punto  $P$  dado por sus coordenadas se expresa  $P(x, y, z)$ . Así, el punto  $(2, 4, 5)$  es un punto del espacio tal que, para una unidad escogida, su abscisa es 2, su ordenada es 4 y su cota es 5.

(Las coordenadas de un punto del espacio en su salón de clase son: **abscisa**, la distancia del punto a la pared de la izquierda; **ordenada**, la distancia del punto a la pared de enfrente; **cota**, la distancia del punto al suelo).

En la práctica, para representar un punto del espacio, se mide la abscisa sobre el eje  $OX$  y se trazan líneas que representen la ordenada y la cota.

En la figura 61 está representado el punto  $P(3, 2, 4)$ .

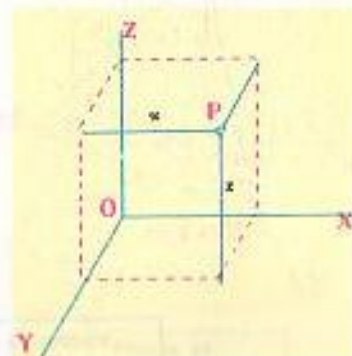


FIGURA 60

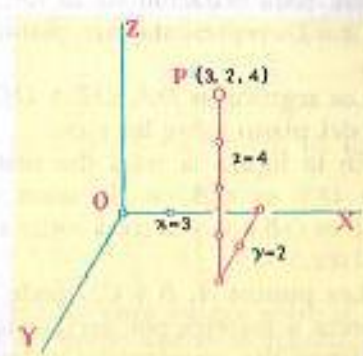


FIGURA 61



## 112 REPRESENTACION DE UN PUNTO CUANDO UNA O MAS COORDENADAS SON 0

Cuando una de las coordenadas es 0 y las otras dos no, el punto está situado en uno de los planos coordenados. (Figura 62).

Si  $x = 0$ , el punto está situado en el plano  $YZ$ ; en la figura,  $P_1(0, 2, 3)$ .

Si  $y = 0$ , el punto está en el plano  $ZX$ ; en la figura,  $P_2(3, 0, 3)$ . Si  $z = 0$ , el punto está situado en el plano  $XY$ ; en la figura,  $P_3(3, 2, 0)$ .

Cuando dos de las coordenadas son 0 y la otra no, el punto está situado en uno de los ejes.

Si  $x = 0, y = 0$ , el punto está situado en el eje  $OZ$ ; en la figura,  $P_4(0, 0, 3)$ .

Si  $x = 0, z = 0$ , el punto está en el eje  $OY$ ; en la figura,  $P_5(0, 2, 0)$ .

Si  $y = 0, z = 0$ , el punto está en el eje  $OX$ ; en la figura,  $P_6(3, 0, 0)$ .

Si las tres coordenadas son 0, el punto es el origen.




FIGURA 62

## EJERCICIO 189

Representar gráficamente los puntos siguientes:

- |               |               |               |                |                |
|---------------|---------------|---------------|----------------|----------------|
| 1. (1, 1, 3). | 4. (3, 5, 6). | 7. (7, 5, 4). | 10. (4, 0, 4). | 13. (0, 0, 4). |
| 2. (4, 2, 3). | 5. (2, 4, 1). | 8. (3, 1, 6). | 11. (4, 2, 0). | 14. (5, 0, 0). |
| 3. (5, 4, 2). | 6. (4, 3, 7). | 9. (6, 3, 4). | 12. (5, 6, 0). | 15. (0, 5, 0). |

## 313 EL PLANO

Toda ecuación de primer grado con tres variables representa un plano. (Figura 63).

Así, toda ecuación de la forma  $Ax + By + Cz = D$  representa un plano. (Figura 63).

Los segmentos  $OA$ ,  $OB$  y  $OC$  son las trazas del plano sobre los ejes.

En la figura la traza del plano sobre el eje  $OX$  es  $OA = a$ ; la traza sobre el eje  $OY$  es  $OB = b$  y la traza sobre el eje  $OZ$  es  $OC = c$ .

Los puntos  $A$ ,  $B$  y  $C$ , donde el plano intersecciona a los ejes, por ser puntos de los ejes, tienen dos coordenadas nulas.

(i) Admitamos esto como un principio, ya que su demostración no está al alcance de los alumnos de Bachillerato.

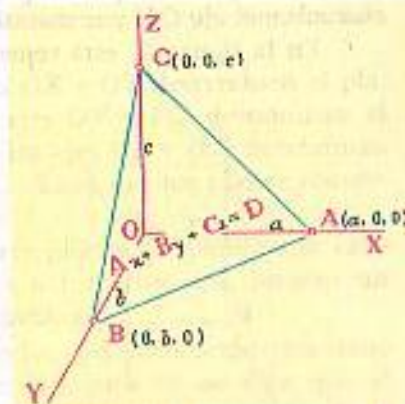


FIGURA 63

## 314 REPRESENTACION GRAFICA DE UNA ECUACION DE PRIMER GRADO CON TRES VARIABLES

1) Representar la ecuación  $4x + 3y + 2z = 12$ .

Para representar gráficamente esta ecuación vamos a hallar las trazas del plano que ella representa sobre los ejes (Fig. 64).

La traza sobre el eje  $OX$  se halla haciendo  $y = 0, z = 0$  en la ecuación dada. Tendremos:

Para  $y = 0, z = 0$ , queda  $4x = 12 \therefore x = 3$ .

Se representa el punto  $(3, 0, 0)$ .

La traza sobre el eje  $OY$  se halla haciendo  $x = 0, z = 0$  en la ecuación dada. Tendremos:

Para  $x = 0, z = 0$  queda  $3y = 12 \therefore y = 4$ .

Se representa el punto  $(0, 4, 0)$ .

La traza sobre el eje  $OZ$  se halla haciendo  $x = 0, y = 0$  en la ecuación dada. Tendremos:

Para  $x = 0, y = 0$  queda  $2z = 12 \therefore z = 6$ .

Se representa el punto  $(0, 0, 6)$ .

Uniendo entre sí los tres puntos que hemos hallado, obtenemos un plano que es la representación gráfica de la ecuación  $4x + 3y + 2z = 12$ .

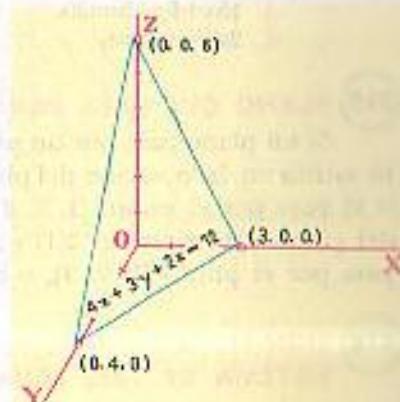


FIGURA 64

2) Representar gráficamente  $4x + 5y + 8z = 20$ . (Figura 65).

Tenemos:

Para

$y = 0, z = 0, x = \frac{20}{4} = 5$ . Punto  $(5, 0, 0)$ .

Para

$x = 0, z = 0, y = \frac{20}{5} = 4$ . Punto  $(0, 4, 0)$ .

Para

$x = 0, y = 0, z = \frac{20}{8} = 2\frac{1}{2}$ . Punto  $(0, 0, 2\frac{1}{2})$ .

Uniendo estos puntos entre sí queda trazado un plano que es la representación gráfica de la ecuación  $4x + 5y + 8z = 20$ .

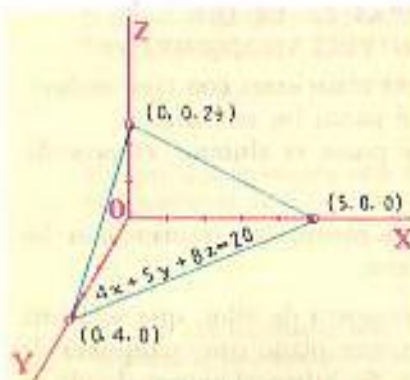


FIGURA 65



## EJERCICIO 190

Representar gráficamente las ecuaciones:

1.  $3x + 6y + 2z = 6$ .
2.  $2x + y + 4z = 4$ .
3.  $4x + 6y + 3z = 12$ .
4.  $15x + 6y + 5z = 30$ .
5.  $2x + y + 3z = 6$ .
6.  $15x + 10y + 6z = 30$ .
7.  $14x + 10y + 5z = 35$ .
8.  $3x + y + 2z = 10$ .
9.  $4x + 2y + 3z = 18$ .
10.  $15x + 20y + 24z = 120$ .

## 315 PLANO QUE PASA POR UN PUNTO

Si un plano pasa por un punto del espacio, las coordenadas de ese punto satisfacen la ecuación del plano. Así, para saber si el plano  $2x + y + 3z = 13$  pasa por el punto  $(1, 2, 3)$ , hacemos  $x=1$ ,  $y=2$ ,  $z=3$  en la ecuación del plano y tendremos:  $2(1) + 2 + 3(3) = 13$ , o sea,  $13 = 13$ ; luego, el plano pasa por el punto  $(1, 2, 3)$ , o de otro modo, el punto pertenece al plano.

## 316 SIGNIFICACION GRAFICA DE LA SOLUCION DE UN SISTEMA DE TRES ECUACIONES CON TRES INCOGNITAS

Sea el sistema  $\begin{cases} x + y + z = 12 \\ 2x - y + 3z = 17 \\ 3x + 2y - 5z = -8 \end{cases}$  Resolviéndolo se halla  $x=3, y=4, z=5$ .

Esta solución representa un punto del espacio, el punto  $(3,4,5)$ . Ahora bien:  $x=3$ ,  $y=4$ ,  $z=5$  satisfacen las tres ecuaciones del sistema; luego, el punto  $(3,4,5)$  pertenece a los tres planos que representan las ecuaciones dadas; luego, el punto  $(3,4,5)$  es un punto por el que pasan los 3 planos, el punto común a los 3 planos.

## 317 RESOLUCION Y REPRESENTACION GRAFICA DE UN SISTEMA DE TRES ECUACIONES CON TRES INCOGNITAS

Resolver gráficamente un sistema de tres ecuaciones con tres incógnitas es hallar el punto del espacio por el que pasan los tres planos.

Para ello, dados los conocimientos que posee el alumno, el procedimiento a seguir es el siguiente:

1) Se representan gráficamente los tres planos que representan las tres ecuaciones del sistema, hallando sus trazas.

2) Se traza la intersección de dos cualesquiera de ellos, que será una línea recta. 3) Se traza la intersección del tercer plano con cualquiera de los anteriores, que será otra línea recta. 4) Se busca el punto donde se cortan las dos rectas (intersecciones) halladas y ese será el punto común a los tres planos. Las coordenadas de este punto son la solución del sistema.

## Ejemplo

Resolver gráficamente el sistema

$$\begin{cases} 2x + 2y + z = 12 \\ x + y + z = 8 \\ 3x + 2y + 5z = 30 \end{cases}$$

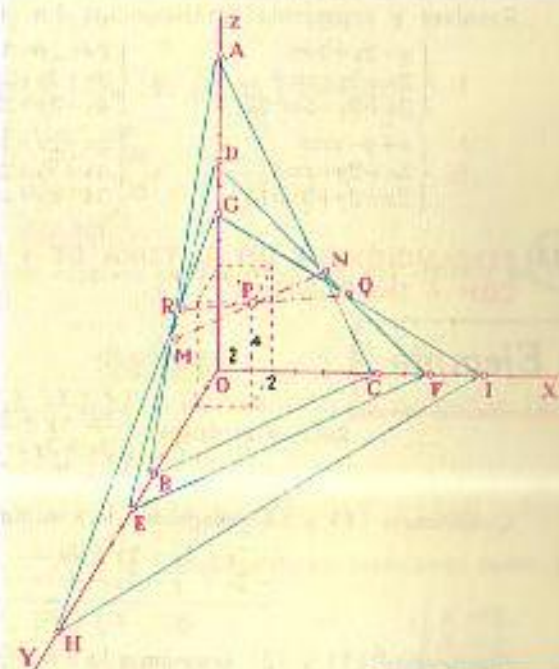


FIGURA 66

Apliquemos el procedimiento anterior (Fig. 66). Representemos  $2x + 2y + z = 12$ .

$$\begin{aligned} \text{Para } y=0, \quad z=0, \quad x=6 \\ x=0, \quad z=0, \quad y=6 \\ x=0, \quad y=0, \quad z=12 \end{aligned}$$

El plano que representa esta ecuación es el plano ABC. Representemos  $x + y + z = 8$ .

$$\begin{aligned} \text{Para } y=0, \quad z=0, \quad x=8 \\ x=0, \quad z=0, \quad y=8 \\ x=0, \quad y=0, \quad z=8 \end{aligned}$$

El plano que representa esta ecuación es el plano DEF. Representemos  $3x + 2y + 5z = 30$ .

$$\begin{aligned} \text{Para } y=0, \quad z=0, \quad x=10 \\ x=0, \quad z=0, \quad y=15 \\ x=0, \quad y=0, \quad z=6 \end{aligned}$$

El plano que representa esta ecuación es el plano GHI. Trazamos la intersección del plano ABC con el plano DEF que es la línea recta MN; trazamos la intersección del plano DEF con el plano GHI que es la línea recta RQ. Ambas intersecciones se cortan en el punto P; el punto P pertenece a los 3 planos. Las coordenadas de P que en la figura se ve que son  $x=2$ ,  $y=2$ ,  $z=4$  son la solución del sistema.



## EJERCICIO 191

Resolver y representar gráficamente los sistemas:

$$1. \begin{cases} x+2y+z=8 \\ 2x+2y+z=9 \\ 3x+3y+5z=24 \end{cases}$$

$$3. \begin{cases} 2x+2y+3z=23 \\ 2x+3y+2z=20 \\ 4x+3y+2z=24 \end{cases}$$

$$5. \begin{cases} 3x+4y+5z=35 \\ 2x+5y+3z=27 \\ 2x+y+z=13 \end{cases}$$

$$2. \begin{cases} x+y+z=5 \\ 3x+2y+z=8 \\ 2x+3y+3z=14 \end{cases}$$

$$4. \begin{cases} 2x+2y+3z=24 \\ 4x+5y+2z=35 \\ 3x+2y+z=19 \end{cases}$$

$$6. \begin{cases} 4x+3y+5z=42 \\ 3x+4y+3z=34 \\ 2x+5y+2z=29 \end{cases}$$

## 318 RESOLUCION DE UN SISTEMA DE 4 ECUACIONES CON 4 INCOGNITAS

## Ejemplo

Resolver el sistema

$$\begin{cases} x+y+z+u=10. & (1) \\ 2x-y+3z-4u=9. & (2) \\ 3x+2y-z+5u=13. & (3) \\ x-3y+2z-4u=-3. & (4) \end{cases}$$

Combinando (1) y (2) eliminamos la  $x$  multiplicando (1) por 2 y restando:

$$\begin{array}{rcl} 2x+2y+2z+2u & = & 20 \\ -2x+y-3z+4u & = & -9 \\ \hline 3y-z+6u & = & 11 \end{array} \quad (5)$$

Combinando (1) y (3) eliminamos la  $x$  multiplicando (1) por 3 y restando:

$$\begin{array}{rcl} 3x+3y+3z+3u & = & 30 \\ -3x-2y+z-5u & = & -13 \\ \hline y+4z-2u & = & 17 \end{array} \quad (6)$$

Combinando (1) y (4) eliminamos la  $x$ , restando:

$$\begin{array}{rcl} x+y+z+u & = & 10 \\ -x+3y-2z+4u & = & 3 \\ \hline 4y-z+5u & = & 13 \end{array} \quad (7)$$

Reuniendo las ecuaciones (5), (6) y (7) que hemos obtenido tenemos un sistema de 3 ecuaciones con tres incógnitas:

$$\begin{cases} 3y-z+6u=11 & (5) \\ y+4z-2u=17 & (6) \\ 4y-z+5u=13 & (7) \end{cases}$$

Vamos a eliminar la  $z$ . Combinando (5) y (6), multiplicamos (5) por 4 y sumamos:

$$\begin{array}{rcl} 12y-4z+24u & = & 44 \\ y+4z-2u & = & 17 \\ \hline 13y+22u & = & 61 \end{array} \quad (8)$$

Combinando (5) y (7) eliminamos la  $z$  restandolas:

$$\begin{array}{rcl} 3y-z+6u & = & 11 \\ -4y+z-5u & = & -13 \\ \hline -y+u & = & -2 \end{array} \quad (9)$$

Reuniendo (8) y (9) tenemos un sistema de 2 ecuaciones con 2 incógnitas:

$$\begin{cases} 13y+22u=61 & (8) \\ -y+u=-2 & (9) \end{cases}$$

Resolvamos este sistema. Multiplicando (9) por 13 y sumando:

$$\begin{array}{rcl} 13y+22u & = & 61 \\ -13y+13u & = & -26 \\ \hline 35u & = & 35 \\ u & = & 1. \end{array}$$

Ahora, sustituimos  $u=1$  en una ecuación de dos incógnitas, por ejemplo en (9) y tenemos:

$$\begin{array}{rcl} -y+1 & = & -2 \\ y & = & 3. \end{array}$$

Sustituimos  $u=1, y=3$  en una ecuación de tres incógnitas, por ejemplo en (5) y tenemos:

$$\begin{array}{rcl} 3(3)-z+6(1) & = & 11 \\ 9-z+6 & = & 11 \\ z & = & 4. \end{array}$$

Ahora, sustituimos  $u=1, y=3, z=4$  en cualquiera de las ecuaciones dadas, por ejemplo en (1) y tenemos:

$$\begin{array}{rcl} x+3+4+1 & = & 10 \\ x & = & 2 \end{array}$$

$$R. \begin{cases} x=2. \\ y=3. \\ z=4. \\ u=1. \end{cases}$$

## EJERCICIO 192

Resolver los sistemas:

$$1. \begin{cases} x+y+z+u=4 \\ x+2y+3z-u=-1 \\ 3x+4y+2z+u=-5 \\ x+4y+3z-u=-7 \end{cases}$$

$$5. \begin{cases} x+y-z=-4 \\ 4x+3y+2z-u=9 \\ 2x-y-4z+u=-1 \\ x+2y+3z+2u=-1 \end{cases}$$

$$2. \begin{cases} x+y+z+u=10 \\ 2x-y-2z+2u=2 \\ x-2y+3z-u=2 \\ x+2y-4z+2u=1 \end{cases}$$

$$6. \begin{cases} x+2y+z=-4 \\ 2x+3y+4z=-2 \\ 3x+y+z+u=4 \\ 6x+3y-z+u=3 \end{cases}$$

$$3. \begin{cases} x-2y+z+3u=-3 \\ 3x+y-4z-2u=7 \\ 2x+2y-z-u=1 \\ x+4y+2z-5u=12 \end{cases}$$

$$7. \begin{cases} 3x+2y=-2 \\ x+y+u=-3 \\ 3x-2y-u=-7 \\ 4x+5y+6z+3u=11 \end{cases}$$

$$4. \begin{cases} 2x-3y+z+4u=0 \\ 3x+y-5z-3u=-10 \\ 6x+2y-z+u=-3 \\ x+5y+4z-3u=-6 \end{cases}$$

$$8. \begin{cases} 2x-3z-u=2 \\ 3y-2z-5u=3 \\ 4y-3u=2 \\ x-3y+3u=0 \end{cases}$$





**JEAN LE ROND D'ALEMBERT (1717-1783)** Abandonado en el atrio de la Capilla de St. Juan fue recogido por la esposa de un humilde criado hasta la mayoría de edad. Fue un genio precoz. Concibió y realizó con Diderot, la idea de la Enciclopedia. Dirigió dicho movimiento y redactó todos los artículos sobre matemáticas que aparecen en la famosa Enciclopedia. Fue Secretario Perpetuo de la Academia Francesa. Puede considerarse con Rousseau, precursor de la Revolución.

rot, la idea de la Enciclopedia. Dirigió dicho movimiento y redactó todos los artículos sobre matemáticas que aparecen en la famosa Enciclopedia. Fue Secretario Perpetuo de la Academia Francesa. Puede considerarse con Rousseau, precursor de la Revolución.

## CAPÍTULO XXVI

### PROBLEMAS QUE SE RESUELVEN POR ECUACIONES SIMULTÁNEAS

- 319 La diferencia de dos números es 14, y  $\frac{1}{4}$  de su suma es 13. Hallar los números.

Sea

$x$  = el número mayor.

$y$  = el número menor.

De acuerdo con las condiciones del problema, tenemos el sistema:

$$\begin{cases} x - y = 14 & (1) \\ \frac{x + y}{4} = 13 & (2) \end{cases}$$

Quitando denominadores y sumando:

$$\begin{cases} x - y = 14 \\ x + y = 52 \\ \hline 2x = 66 \\ x = 33 \end{cases}$$

Sustituyendo  $x = 33$  en (1):

$$\begin{cases} 33 - y = 14 \\ y = 19 \end{cases}$$

Los números buscados son 33 y 19. R.

### EJERCICIO 193

- La diferencia de dos números es 40 y  $\frac{1}{8}$  de su suma es 11. Hallar los números.
- La suma de dos números es 190 y  $\frac{1}{9}$  de su diferencia es 2. Hallar los números.
- La suma de dos números es 1529 y su diferencia 101. Hallar los números.
- Un cuarto de la suma de dos números es 45 y un tercio de su diferencia es 4. Hallar los números.
- Los  $\frac{2}{3}$  de la suma de dos números son 74 y los  $\frac{3}{5}$  de su diferencia 9. Hallar los números.
- Los  $\frac{5}{10}$  de la suma de dos números exceden en 6 a 39 y los  $\frac{3}{6}$  de su diferencia son 1 menos que 26. Hallar los números.
- Un tercio de la diferencia de dos números es 11 y los  $\frac{4}{9}$  del mayor equivalen a los  $\frac{2}{4}$  del menor. Hallar los números.
- Dividir 80 en dos partes tales que los  $\frac{3}{8}$  de la parte mayor equivalgan a los  $\frac{3}{2}$  de la menor.
- Hallar dos números tales que 5 veces el mayor exceda a  $\frac{1}{3}$  del menor en 222 y 5 veces el menor exceda a  $\frac{1}{5}$  del mayor en 66.

- 320 6 lbs. de café y 5 lbs. de azúcar costaron \$2.27, y 5 lbs. de café y 4 lbs. de azúcar (a los mismos precios) costaron \$1.88. Hallar el precio de una libra de café y una de azúcar.

Sea

$x$  = precio de 1 libra de café en cts.

$y$  = precio de 1 libra de azúcar en cts.

Si una libra de café cuesta  $x$ , 6 lbs. costarán  $6x$ ; si una lib. de azúcar cuesta  $y$ , 5 lbs. de azúcar costarán  $5y$ , y como el importe de esta compra fue \$2.27 ó 227 cts., tendremos:

$$6x + 5y = 227. \quad (1)$$

5 lbs. de café cuestan  $5x$ , y 4 de azúcar,  $4y$ , y como el importe de esta compra fue de \$1.88 ó 188 cts., tendremos:

$$5x + 4y = 188. \quad (2)$$

Resolviendo las ecuaciones (1) y (2), tenemos el sistema:

$$\begin{cases} 6x + 5y = 227 & (1) \\ 5x + 4y = 188 & (2) \end{cases}$$

Multiplicando (1) por 5 y (2) por 6 y restando:

$$\begin{cases} 30x + 25y = 1135 \\ -30x - 24y = -1128 \\ \hline y = 7 \end{cases}$$

Sustituyendo  $y = 7$  en (1) se tiene  $x = 32$ .

Una libra de café costó 32 cts., y una libra de azúcar, 7 cts. R.



## EJERCICIO 194

- 5 trajes y 3 sombreros cuestan 4180 soles, y 8 trajes y 9 sombreros 6940. Hallar el precio de un traje y de un sombrero.
- Un hacendado compró 4 vacas y 7 caballos por \$514 y más tarde, a los mismos precios, compró 8 vacas y 9 caballos por \$818. Hallar el costo de una vaca y de un caballo.
- En un cine, 10 entradas de adulto y 9 de niño cuestan \$5.12, y 17 de niño y 15 de adulto \$8.31. Hallar el precio de un entrada de niño y una de adulto.
- Si a 5 veces el mayor de dos números se añade 7 veces el menor, la suma es 316, y si a 9 veces el menor se resta el cuádruplo del mayor, la diferencia es 83. Hallar los números.
- Los  $\frac{3}{7}$  de la edad de A aumentados en los  $\frac{8}{5}$  de la edad de B suman 15 años, y los  $\frac{2}{3}$  de la edad de A disminuidos en los  $\frac{3}{4}$  de la de B equivalen a 2 años. Hallar ambas edades.
- El doble de la edad de A excede en 50 años a la edad de B, y  $\frac{1}{4}$  de la edad de B es 35 años menos que la edad de A. Hallar ambas edades.
- La edad de A excede en 13 años a la de B, y el duplo de la edad de B excede en 29 años a la edad de A. Hallar ambas edades.
- Si  $\frac{1}{2}$  de la edad de A se aumenta en los  $\frac{2}{3}$  de la de B, el resultado sería 37 años, y  $\frac{5}{12}$  de la edad de B equivalen a  $\frac{2}{15}$  de la edad de A. Hallar ambas edades.

**321** Si a los dos términos de una fracción se añade 3, el valor de la fracción es  $\frac{1}{2}$ , y si a los dos términos se resta 1, el valor de la fracción es  $\frac{1}{3}$ . Hallar la fracción.

Sea

$$\begin{aligned} x &= \text{el numerador} \\ y &= \text{el denominador} \end{aligned}$$

Entonces

$$\frac{x}{y} = \text{la fracción.}$$

Añadiendo 3 a cada término, la fracción se convierte en  $\frac{x+3}{y+3}$ , y según las condiciones del problema el valor de esta fracción es  $\frac{1}{2}$ ; luego:

$$\frac{x+3}{y+3} = \frac{1}{2} \quad (1)$$

Restando 1 a cada término, la fracción se convierte en  $\frac{x-1}{y-1}$ , y según las condiciones, el valor de esta fracción es  $\frac{1}{3}$ ; luego:

$$\frac{x-1}{y-1} = \frac{1}{3} \quad (2)$$

Reuniendo las ecuaciones (1) y (2), tenemos el sistema:

$$\begin{cases} \frac{x+3}{y+3} = \frac{1}{2} \\ \frac{x-1}{y-1} = \frac{1}{3} \end{cases}$$

Quitando denominadores:

$$\begin{cases} 2x+6 = y+3 \\ 3x-3 = y-1 \end{cases}$$

Transponiendo y reduciendo:

$$\begin{cases} 2x - y = -3 \\ 3x - y = 2 \end{cases} \quad (3)$$

Restando:

$$\begin{cases} -2x + y = 3 \\ 3x - y = 2 \\ \hline x = 5 \end{cases}$$

Sustituyendo  $x = 5$  en (3):

$$\begin{aligned} 15 - y &= 2 \\ y &= 13 \end{aligned}$$

Luego, la fracción es  $\frac{5}{13}$ . R.

## EJERCICIO 195

- Si a los dos términos de una fracción se añade 1, el valor de la fracción es  $\frac{2}{3}$ , y si a los dos términos se resta 1, el valor de la fracción es  $\frac{1}{4}$ . Hallar la fracción.
- Si a los dos términos de una fracción se resta 3, el valor de la fracción es  $\frac{1}{3}$ , y si los dos términos se aumentan en 5, el valor de la fracción es  $\frac{2}{5}$ . Hallar la fracción.
- Si al numerador de una fracción se añade 5, el valor de la fracción es 2, y si al numerador se resta 2, el valor de la fracción es 1. Hallar la fracción.
- Si el numerador de una fracción se aumenta en 26 el valor de la fracción es 3, y si el denominador se disminuye en 4, el valor es 1. Hallar la fracción.
- Añadiendo 3 al numerador de una fracción y restando 2 al denominador, la fracción se convierte en  $\frac{6}{7}$ , pero si se resta 5 al numerador y se añade 2 al denominador, la fracción equivale a  $\frac{2}{5}$ . Hallar la fracción.
- Multiplicando por 3 el numerador de una fracción y añadiendo 12 al denominador, el valor de la fracción es  $\frac{5}{4}$ , y si el numerador se aumenta en 7 y se triplica el denominador, el valor de la fracción es  $\frac{1}{2}$ . Hallar la fracción.
- Si el numerador de una fracción se aumenta en  $\frac{2}{5}$ , el valor de la fracción es  $\frac{4}{5}$ , y si el numerador se disminuye en  $\frac{4}{5}$ , el valor de la fracción es  $\frac{2}{5}$ . Hallar la fracción.



**322** Dos números están en la relación de 3 a 4. Si el menor se aumenta en 2 y el mayor se disminuye en 9, la relación es de 4 a 3. Hallar los números.

Sea

$$\begin{aligned} x &= \text{el número menor} \\ y &= \text{el número mayor.} \end{aligned}$$

La relación de dos números es el cociente de dividir uno por el otro. Según las condiciones,  $x$  e  $y$  están en la relación de 3 a 4; luego,

$$\frac{x}{y} = \frac{3}{4} \quad (1)$$

Si el menor se aumenta en 2, quedará  $x+2$ ; si el mayor se disminuye en 9, quedará  $y-9$ ; la relación de estos números, según las condiciones, es de 4 a 3; luego,

$$\frac{x+2}{y-9} = \frac{4}{3} \quad (2)$$

Reuniendo (1) y (2), tenemos el sistema:

$$\begin{cases} \frac{x}{y} = \frac{3}{4} \\ \frac{x+2}{y-9} = \frac{4}{3} \end{cases}$$

Resolviendo el sistema se halla  $x=18$ ,  $y=24$ ; estos son los números buscados. R.

### ➤ EJERCICIO 196

1. Dos números están en la relación de 5 a 6. Si el menor se aumenta en 2 y el mayor se disminuye en 6, la relación es de 9 a 8. Hallar los números.
2. La relación de dos números es de 2 a 3. Si el menor se aumenta en 8 y el mayor en 7, la relación es de 3 a 4. Hallar los números.
3. Dos números son entre sí como 9 es a 10. Si el mayor se aumenta en 20 y el menor se disminuye en 15, el menor será al mayor como 3 es a 7. Hallar los números.
4. Las edades de  $A$  y  $B$  están en la relación de 5 a 7. Dentro de 2 años la relación entre la edad de  $A$  y la de  $B$  será de 8 a 11. Hallar las edades actuales.
5. Las edades de  $A$  y  $B$  están en la relación de 4 a 5. Hace 5 años la relación era de 7 a 9. Hallar las edades actuales.
6. La edad actual de  $A$  guarda con la edad actual de  $B$  la relación de 2 a 3. Si la edad que  $A$  tenía hace 4 años se divide por la edad que tendrá  $B$  dentro de 4 años, el cociente es  $\frac{2}{3}$ . Hallar las edades actuales.
7. Cuando empiezan a jugar  $A$  y  $B$ , la relación de lo que tiene  $A$  y lo que tiene  $B$  es de 10 a 13. Después que  $A$  le ha ganado 10 bolívars a  $B$ , la relación entre lo que tiene  $A$  y lo que le queda a  $B$  es de 12 a 11. ¿Con cuánto empezó a jugar cada uno?
8. Antes de una batalla, las fuerzas de dos ejércitos estaban en la relación de 7 a 9. El ejército menor perdió 15000 hombres en la batalla y el mayor 25000 hombres. Si la relación ahora es de 11 a 13, ¿cuántos hombres tenía cada ejército antes de la batalla?

**323** Si el mayor de dos números se divide por el menor, el cociente es 2 y el residuo 9, y si 3 veces el menor se divide por el mayor, el cociente es 1 y el residuo 14. Hallar los números.

Sea

$$\begin{aligned} x &= \text{el número mayor} \\ y &= \text{el número menor.} \end{aligned}$$

Según las condiciones, al dividir  $x$  entre  $y$  el cociente es 2 y el residuo 9, pero si el residuo se le resta al dividendo  $x$ , quedará  $x-9$  y entonces la división entre  $y$  es exacta; luego:

$$\frac{x-9}{y} = 2 \quad (1)$$

Dividiendo  $3y$  entre  $x$ , según las condiciones, el cociente es 1 y el residuo 14, pero restando 14 del dividendo la división será exacta; luego:

$$\frac{3y-14}{x} = 1 \quad (2)$$

Reuniendo (1) y (2), tenemos el sistema:

$$\begin{cases} \frac{x-9}{y} = 2 \\ \frac{3y-14}{x} = 1 \end{cases}$$

Quitando denominadores: 
$$\begin{cases} x-9=2y \\ 3y-14=x \end{cases} \quad (3)$$

$$\begin{aligned} \text{Transponiendo: } & \begin{cases} x-2y=9 \\ -x+3y=14 \end{cases} \\ & \hline & y=23 \end{aligned}$$

Sustituyendo  $y=23$  en (3) se obtiene  $x-9=46$ ; luego,  $x=55$ . Los números buscados son 55 y 23. R.

### ➤ EJERCICIO 197

1. Si el mayor de dos números se divide por el menor, el cociente es 2 y el residuo 4, y si 5 veces el menor se divide por el mayor, el cociente es 2 y el residuo 17. Hallar los números.
2. Si el mayor de dos números se divide por el menor, el cociente es 3, y si 10 veces el menor se divide por el mayor, el cociente es 3 y el residuo 19. Hallar los números.
3. Si el duplo del mayor de dos números se divide por el triplo del menor, el cociente es 1 y el residuo 3, y si 8 veces el menor se divide por el mayor, el cociente es 5 y el residuo 1. Hallar los números.
4. La edad de  $A$  excede en 22 años a la edad de  $B$ , y si la edad de  $A$  se divide entre el triplo de la de  $B$ , el cociente es 1 y el residuo 12. Hallar ambas edades.
5. Seis veces el ancho de una sala excede en 4 m a la longitud de la sala, y si la longitud aumentada en 3 m se divide entre el ancho, el cociente es 5 y el residuo 3. Hallar las dimensiones de la sala.



**324** La suma de la cifra de las decenas y la cifra de las unidades de un número es 15, y si al número se resta 9, las cifras se invierten. Hallar el número.

Sea

$$\begin{aligned} x &= \text{la cifra de las decenas} \\ y &= \text{la cifra de las unidades.} \end{aligned}$$

Según las condiciones:  $x + y = 15$ . (1)

El número se obtiene multiplicando por 10 la cifra de las decenas y sumándole la cifra de las unidades; luego, el número será  $10x + y$ .

Según las condiciones, restando 9 de este número, las cifras se invierten, luego,  $10x + y - 9 = 10y + x$ . (2)

Reuniendo (1) y (2), tenemos el sistema:

$$\begin{cases} x + y = 15 \\ 10x + y - 9 = 10y + x \end{cases}$$

$$\begin{aligned} \text{Transponiendo} & \quad x + y = 15 \\ \text{y reduciendo:} & \quad 9x - 9y = 9. \end{aligned}$$

Dividiendo la 2a. ecuación por 9 y sumando:

$$\begin{aligned} x + y &= 15 \\ x - y &= 1 \\ \hline 2x &= 16 \\ x &= 8. \end{aligned}$$

Sustituyendo  $x = 8$  en (1) se tiene  $8 + y = 15 \therefore y = 7$ .

El número buscado es 87. R.

### ▶ EJERCICIO 198

- La suma de la cifra de las decenas y la cifra de las unidades de un número es 12, y si al número se resta 18, las cifras se invierten. Hallar el número.
- La suma de las dos cifras de un número es 14, y si al número se suma 36, las cifras se invierten. Hallar el número.
- La suma de la cifra de las decenas y la cifra de las unidades de un número es 13, y si al número se le resta 45, las cifras se invierten. Hallar el número.
- La suma de las dos cifras de un número es 11, y si el número se divide por la suma de sus cifras, el cociente es 7 y el residuo 6. Hallar el número.
- Si un número de dos cifras se disminuye en 17 y esta diferencia se divide por la suma de sus cifras, el cociente es 5, y si el número disminuido en 2 se divide por la cifra de las unidades disminuida en 2, el cociente es 19. Hallar el número.
- Si a un número de dos cifras se añade 9, las cifras se invierten, y si este número que resulta se divide entre 7, el cociente es 6 y el residuo 1. Hallar el número.
- La suma de las dos cifras de un número es 9. Si la cifra de las decenas se aumenta en 1 y la cifra de las unidades se disminuye en 1, las cifras se invierten. Hallar el número.

**325** Se tienen \$120 en 33 billetes de a \$5 y de a \$2. ¿Cuántos billetes son de \$5 y cuántos de \$2?

Sea

$$\begin{aligned} x &= \text{el número de billetes de } \$2 \\ y &= \text{el número de billetes de } \$5. \end{aligned}$$

Según las condiciones:  $x + y = 33$ . (1)

Con  $x$  billetes de \$2 se tienen \$ $2x$  y con  $y$  billetes de \$5 se tienen \$ $5y$ , y como la cantidad total es \$120, tendremos:  $2x + 5y = 120$ .

Reuniendo (1) y (2) tenemos el sistema:  $\begin{cases} x + y = 33 \\ 2x + 5y = 120 \end{cases}$

Resolviendo se encuentra  $x = 15$ ,  $y = 18$ ; luego, hay 15 billetes de \$2 y 18 billetes de \$5. R.

### ▶ EJERCICIO 199

- Se tienen \$11.30 en 78 monedas de a 20 cts. y de 10 cts. ¿Cuántas monedas son de 10 cts. y cuántas de 20 cts.?
- Un hombre tiene \$404 en 91 monedas de a \$5 y de a \$4. ¿Cuántas monedas son de \$5 y cuántas de \$4?
- En un cine hay 700 personas entre adultos y niños. Cada adulto pagó 40 cts. y cada niño 15 cts. por su entrada. La recaudación es de \$180. ¿Cuántos adultos y cuántos niños hay en el cine?
- Se reparten monedas de 20 cts. y de 25 cts. entre 44 personas, dando una moneda a cada una. Si la cantidad repartida es \$9.95, ¿cuántas personas recibieron monedas de 20 cts. y cuántas de 25 cts.?
- Se tienen \$419 en 287 billetes de a \$1 y de a \$2. ¿Cuántos billetes son de a \$1 y cuántos de \$2?
- Con 174 colones compré 34 libros de a 3 y de a 7 colones. ¿Cuántos libros compré de cada precio?
- Un comerciante empleó 6720 sueros en comprar trajes a 375 sueros y sombreros a 45. Si la suma del número de trajes y el número de sombreros que compró es 34, ¿cuántos trajes compró y cuántos sombreros?

**326** Si A le da a B \$2, ambos tendrán igual suma, y si B le da a A \$2, A tendrá el triple de lo que le queda a B. ¿Cuánto tiene cada uno?

Sea

$$\begin{aligned} x &= \text{lo que tiene A} \\ y &= \text{lo que tiene B.} \end{aligned}$$

Si A le da a B \$2, A se queda con  $S(x - 2)$  y B, tendrá  $S(y + 2)$ , y según las condiciones ambos tienen entonces igual suma; luego,  $x - 2 = y + 2$ .

Si B le da a A \$2, B se queda con  $S(y - 2)$  y A tendrá  $S(x + 2)$  y según las condiciones entonces A tiene el triple de lo que le queda a B; luego,  $x + 2 = 3(y - 2)$ .

Reuniendo (1) y (2), tenemos el sistema:  $\begin{cases} x - 2 = y + 2 \\ x + 2 = 3(y - 2) \end{cases}$

Resolviendo este sistema se halla  $x = 10$ ,  $y = 6$ ; luego, A tiene \$10 y B tiene \$6. R.



- 327** Hace 8 años la edad de A era triple que la de B, y dentro de 4 años la edad de B será los  $\frac{6}{5}$  de la de A. Hallar las edades actuales.

Sea  $x =$  edad actual de A  
 $y =$  edad actual de B.

Hace 8 años A tenía  $x - 8$  años y B tenía  $y - 8$  años; según las condiciones:

$$x - 8 = 3(y - 8). \quad (1)$$

Dentro de 4 años, A tendrá  $x + 4$  años y B tendrá  $y + 4$  años y según las condiciones:

$$y + 4 = \frac{6}{5}(x + 4). \quad (2)$$

Reuniendo (1) y (2), tenemos el sistema: 
$$\begin{cases} x - 8 = 3(y - 8) \\ y + 4 = \frac{6}{5}(x + 4) \end{cases}$$

Resolviendo el sistema se halla  $x = 32$ ,  $y = 16$ .  
 A tiene 32 años, y B, 16 años. R.

## ▶ EJERCICIO 200

- Si A le da a B \$1, ambos tienen lo mismo, y si B le da a A \$1, A tendrá el triple de lo que le quede a B. ¿Cuánto tiene cada uno?
- Si B le da a A 2 soles, ambos tienen lo mismo, y si A le da a B 2 soles, B tiene el doble de lo que le queda a A. ¿Cuánto tiene cada uno?
- Si Pedro le da a Juan \$3, ambos tienen igual suma, pero si Juan le da a Pedro \$3, éste tiene 4 veces lo que le queda a Juan. ¿Cuánto tiene cada uno?
- Hace 10 años la edad de A era doble que la de B; dentro de 10 años la edad de B será los  $\frac{3}{4}$  de la de A. Hallar las edades actuales.
- Hace 6 años la edad de A era doble que la de B; dentro de 6 años será los  $\frac{5}{5}$  de la edad de B. Hallar las edades actuales.
- La edad de A hace 5 años era los  $\frac{3}{2}$  de la de B; dentro de 10 años la edad de B será los  $\frac{1}{5}$  de la de A. Hallar las edades actuales.
- La edad actual de un hombre es los  $\frac{9}{5}$  de la edad de su esposa, y dentro de 4 años la edad de su esposa será los  $\frac{8}{5}$  de la suya. Hallar las edades actuales.
- A y B empiezan a jugar. Si A pierde 25 lempiras, B tendrá igual suma que A, y si B pierde 35 lempiras, lo que le queda es los  $\frac{5}{17}$  de lo que tendrá entonces A. ¿Con cuánto empezó a jugar cada uno?
- Un padre le dice a su hijo: Hace 6 años tu edad era  $\frac{1}{5}$  de la mía; dentro de 9 años será los  $\frac{2}{3}$ . Hallar ambas edades actuales.
- Pedro le dice a Juan: Si me das 15 cts. tendré 5 veces lo que tú, y Juan le dice a Pedro: Si tú me das 20 cts. tendré 3 veces lo que tú. ¿Cuánto tiene cada uno?

- A le dice a B: Dame la mitad de lo que tienes, y 60 cts. más, y tendré 4 veces lo que tú, y B le contesta: Dame 80 cts. y tendré \$3.10 más que tú. ¿Cuánto tiene cada uno?
- Hace 6 años la edad de Enrique era los  $\frac{3}{2}$  de la edad de su hermana, y dentro de 6 años, cuatro veces la edad de Enrique será 5 veces la edad de su hermana. Hallar las edades actuales.

- 328** Un bote que navega por un río recorre 15 kilómetros en  $1\frac{1}{2}$  horas a favor de la corriente y 12 kilómetros en 2 horas contra la corriente. Hallar la velocidad del bote en agua tranquila y la velocidad del río.

Sea  $x =$  la velocidad, en Km por hora, del bote en agua tranquila.  
 $y =$  la velocidad, en Km por hora, del río.

Entonces  $x + y =$  velocidad del bote a favor de la corriente.  
 $x - y =$  velocidad del bote contra la corriente.

El tiempo es igual al espacio partido por la velocidad; luego, el tiempo empleado en recorrer los 15 Km a favor de la corriente,  $1\frac{1}{2}$  horas, es igual al espacio recorrido, 15 Km, dividido entre la velocidad del bote,  $x + y$ , o sea:

$$\frac{15}{x + y} = 1\frac{1}{2}. \quad (1)$$

El tiempo empleado en recorrer los 12 Km contra la corriente, 2 horas, es igual al espacio recorrido, 12 Km, dividido entre la velocidad del bote,  $x - y$ , o sea:

$$\frac{12}{x - y} = 2. \quad (2)$$

Reuniendo (1) y (2), tenemos el sistema:

$$\begin{cases} \frac{15}{x + y} = 1\frac{1}{2} \\ \frac{12}{x - y} = 2 \end{cases}$$

Resolviendo se halla  $x = 8$ ,  $y = 2$ ; luego, la velocidad del bote en agua tranquila es 8 Km por hora, y la velocidad del río, 2 Km por hora. R.

## ▶ EJERCICIO 201

- Un hombre rema río abajo 10 Km en una hora y río arriba 4 Km en una hora. Hallar la velocidad del bote en agua tranquila y la velocidad del río.
- Una tripulación rema 28 Km en  $1\frac{1}{2}$  horas río abajo y 24 Km en 3 horas río arriba. Hallar la velocidad del bote en agua tranquila y la velocidad del río.
- Un bote emplea 5 horas en recorrer 24 Km. río abajo y en regresar. En recorrer 3 Km río abajo emplea el mismo tiempo que en recorrer 2 Km río arriba. Hallar el tiempo empleado en ir y el empleado en volver.



4. Una tripulación emplea 2½ horas en recorrer 40 Km río abajo y 5 horas en el regreso. Hallar la velocidad del bote en agua tranquila y la velocidad del río.
5. Una tripulación emplea 6 horas en recorrer 40 Km río abajo y en regresar. En remar 1 Km río arriba emplea el mismo tiempo que en remar 2 Km río abajo. Hallar el tiempo empleado en ir y en volver.
6. Un bote emplea 5 horas en recorrer 32 Km río abajo y 12 Km río arriba. En remar 4 Km río abajo el botero emplea el mismo tiempo que en remar 1 Km río arriba. Hallar la velocidad del bote en agua tranquila y la del río.

**329** La suma de tres números es 160. Un cuarto de la suma del mayor y el mediano equivale al menor disminuido en 20, y si a  $\frac{1}{2}$  de la diferencia entre el mayor y el menor se suma el número del medio, el resultado es 57. Hallar los números.

Sea  $x =$  número mayor  
 $y =$  número del medio  
 $z =$  número menor.

Según las condiciones del problema, tenemos el sistema:

$$\begin{cases} x + y + z = 160 \\ \frac{x + y}{4} = z - 20 \\ \frac{x - z}{2} + y = 57 \end{cases}$$

Resolviendo el sistema se halla  $x = 62$ ,  $y = 50$ ,  $z = 48$ , que son los números buscados. R.

**330** La suma de las tres cifras de un número es 16. La suma de la cifra de las centenas y la cifra de las decenas es el triplo de la cifra de las unidades, y si al número se le resta 99, las cifras se invierten. Hallar el número.

Sea  $x =$  la cifra de las centenas  
 $y =$  la cifra de las decenas  
 $z =$  la cifra de las unidades.

Según las condiciones, la suma de las tres cifras es 16; luego:

$$x + y + z = 16. \quad (1)$$

La suma de la cifra de las centenas  $x$  con la cifra de las decenas  $y$  es el triplo de la cifra de las unidades  $z$ ; luego,

$$x + y = 3z. \quad (2)$$

El número será  $100x + 10y + z$ . Si restamos 99 al número, las cifras se invierten; luego,

$$100x + 10y + z - 99 = 100z + 10y + x. \quad (3)$$

Reuniendo (1), (2) y (3), tenemos el sistema:

$$\begin{cases} x + y + z = 16 \\ x + y = 3z \\ 100x + 10y + z - 99 = 100z + 10y + x. \end{cases}$$

Resolviendo el sistema se halla  $x = 5$ ,  $y = 7$ ,  $z = 4$ ; luego, el número buscado es 574. R.

## ► EJERCICIO 202

1. La suma de tres números es 37. El menor disminuido en 1 equivale a  $\frac{1}{3}$  de la suma del mayor y el mediano; la diferencia entre el mediano y el menor equivale al mayor disminuido en 13. Hallar los números.
2. 5 kilos de azúcar, 3 de café y 4 de frijoles cuestan \$1.18; 4 de azúcar, 5 de café y 3 de frijoles cuestan \$1.45; 2 de azúcar, 1 de café y 2 de frijoles cuestan 46 cts. Hallar el precio de un kilo de cada mercancía.
3. La suma de las tres cifras de un número es 15. La suma de la cifra de las centenas con la cifra de las decenas es los  $\frac{n}{2}$  de la cifra de las unidades, y si al número se le resta 99, las cifras se invierten. Hallar el número.
4. La suma de tres números es 127. Si a la mitad del menor se añade  $\frac{1}{2}$  del mediano y  $\frac{1}{6}$  del mayor, la suma es 39 y el mayor excede en 4 a la mitad de la suma del mediano y el menor. Hallar los números.
5. La suma de las tres cifras de un número es 6. Si el número se divide por la suma de la cifra de las centenas y la cifra de las decenas, el cociente es 41, y si al número se le añade 198, las cifras se invierten. Hallar el número.
6. La suma de los tres ángulos de un triángulo es  $180^\circ$ . El mayor excede al menor en  $35^\circ$  y el menor excede en  $20^\circ$  a la diferencia entre el mayor y el mediano. Hallar los ángulos.
7. Un hombre tiene 110 animales entre vacas, caballos y terneros,  $\frac{1}{8}$  del número de vacas más  $\frac{1}{9}$  del número de caballos más  $\frac{1}{5}$  del número de terneros equivalen a 15, y la suma del número de terneros con el de vacas es 65. ¿Cuántos animales de cada clase tiene?
8. La suma de las tres cifras de un número es 10. La suma de la cifra de las centenas y la cifra de las decenas excede en 4 a la cifra de las unidades, y la suma de la cifra de las centenas y la cifra de las unidades excede en 6 a la cifra de las decenas. Hallar el número.
9. La suma de los tres ángulos de un triángulo es  $180^\circ$ . La suma del mayor y el mediano es  $135^\circ$ , y la suma del mediano y el menor es  $110^\circ$ . Hallar los ángulos.
10. Entre A, B y C tienen 140 bolívares. C tiene la mitad de lo que tiene A, y A bs. 10 más que B. ¿Cuánto tiene cada uno?
11. Si A le da \$1 a C, ambos tienen lo mismo; si B tuviera \$1 menos, tendría lo mismo que C, y si A tuviera \$5 más, tendría tanto como el doble de lo que tiene C. ¿Cuánto tiene cada uno?



12. Determinar un número entre 300 y 400 sabiendo que la suma de sus cifras es 6 y que leído al revés es  $\frac{11}{107}$  del número primitivo.
13. Si  $A$  le da a  $B$  2 quetzales, ambos tienen lo mismo. Si  $B$  le da a  $C$  1 quetzal, ambos tienen lo mismo. Si  $A$  tiene los  $\frac{5}{6}$  de lo que tiene  $C$ , ¿cuánto tiene cada uno?
14. Hallar un número mayor que 400 y menor que 500 sabiendo que sus cifras suman 9 y que leído al revés es  $\frac{18}{49}$  del número primitivo.
15. Si al doble de la edad de  $A$  se suma la edad de  $B$ , se obtiene la edad de  $C$  aumentada en 32 años. Si al tercio de la edad de  $B$  se suma el doble de la de  $C$ , se obtiene la de  $A$  aumentada en 9 años, y el tercio de la suma de las edades de  $A$  y  $B$  es 1 año menos que la edad de  $C$ . Hallar las edades respectivas.

### ● EJERCICIO 203

#### MISCELANEA DE PROBLEMAS QUE SE RESUELVEN POR ECUACIONES SIMULTANEAS

1. El perímetro de un cuarto rectangular es 18 m, y 4 veces el largo equivale a 5 veces el ancho. Hallar las dimensiones del cuarto.
2.  $A$  tiene doble dinero que  $B$ . Si  $A$  le da a  $B$  12 balboas, ambos tendrán lo mismo. ¿Cuánto tiene cada uno?
3. Si una sala tuviera 1 metro más de largo y 1 m. más de ancho, el área sería 26 m<sup>2</sup> más de lo que es ahora, y si tuviera 3 m menos de largo y 2 m más de ancho, el área sería 19 m<sup>2</sup> mayor que ahora. Hallar las dimensiones de la sala.
4. Compré un carro, un caballo y sus arreos por \$200. El carro y los arreos costaron \$20 más que el caballo, y el caballo y los arreos costaron \$40 más que el carro. ¿Cuánto costó el carro, cuánto el caballo y cuánto los arreos?
5. Hallar tres números tales que la suma del 1º y el 2º excede en 18 al tercero; la suma del 1º y el 3º excede en 78 al segundo, y la suma del 2º y el 3º excede en 102 al 1º.
6. La suma de las dos cifras de un número es 6, y si al número se le resta 36, las cifras se invierten. Hallar el número.
7. Un pájaro, volando a favor del viento recorre 55 Km en 1 hora, y en contra del viento 25 Km en 1 hora. Hallar la velocidad en Km por hora del pájaro en aire tranquilo y del viento.
8. Un hombre compró cierto número de libros. Si hubiera comprado 5 libros más por el mismo dinero, cada libro le habría costado \$2 menos, y si hubiera comprado 5 libros menos por el mismo dinero, cada libro le habría costado \$4 más. ¿Cuántos libros compró y cuánto pagó por cada uno?
9. 7 kilos de café y 6 de té cuestan \$4.80; 9 kilos de té y 8 de café cuestan \$6.45. ¿Cuánto cuesta un kilo de café y cuánto un kilo de té?
10. Un comerciante empleó \$1910 en comprar 50 trajes de a \$40 y de a \$35. ¿Cuántos trajes de cada precio compró?

11. Si al numerador de una fracción se resta 1, el valor de la fracción es  $\frac{1}{3}$ , y si al denominador se resta 2, el valor de la fracción es  $\frac{1}{2}$ . Hallar la fracción.
12. Dos bolsas tienen 200 soles. Si de la bolsa que tiene más dinero se sacan 15 soles y se ponen en la otra, ambas tendrían lo mismo. ¿Cuánto tiene cada bolsa?
13. Compré un caballo, un coche y un perro. El perro me costó \$20. El caballo y el perro costaron el triple que el coche; el perro y el coche los  $\frac{3}{5}$  de lo que costó el caballo. Hallar el precio del caballo y del coche.
14. Un número de dos cifras equivale a 6 veces la suma de sus cifras, y si al número se le resta 9, las cifras se invierten. Hallar el número.
15. Cierta número de personas alquiló un ómnibus para una excursión. Si hubieran ido 10 personas más, cada una habría pagado 5 bolívares menos, y si hubieran ido 6 personas menos, cada una habría pagado 5 bolívares más. ¿Cuántas personas iban en la excursión y cuánto pagó cada una?
16. Entre  $A$  y  $B$  tienen 1080 sucres. Si  $A$  gasta los  $\frac{2}{5}$  de su dinero y  $B$   $\frac{1}{2}$  del suyo, ambos tendrían igual suma. ¿Cuánto tiene cada uno?
17. Ayer gané \$10 más que hoy. Si lo que gané hoy es los  $\frac{5}{6}$  de lo que gané ayer, ¿cuánto gané cada día?
18. Dos números están en la relación de 3 a 5. Si cada número se disminuye en 10, la relación es de 1 a 2. Hallar los números.
19.  $A$  le dice a  $B$ : Si me das 4 lempiras tendremos lo mismo, y  $B$  le contesta: Si tú me das 4 lempiras tendré  $\frac{9}{5}$  de lo que tú tengas. ¿Cuánto tiene cada uno?
20. Hace 20 años la edad de  $A$  era el doble que la de  $B$ ; dentro de 30 años será los  $\frac{2}{7}$  de la edad de  $B$ . Hallar las edades actuales.
21. Una tripulación emplea 3 horas en remar 16 Km río abajo y en regresar. En remar 2 Km río arriba emplea el mismo tiempo que en remar 4 Km. río abajo. Hallar la velocidad del bote en agua tranquila y la velocidad del río.
22.  $\frac{1}{9}$  la edad de  $A$  excede en 2 años a  $\frac{1}{6}$  de la edad de  $B$ , y el doble de la edad de  $B$  equivale a la edad que tenía  $A$  hace 15 años. Hallar las edades actuales.
23. En 5 horas  $A$  camina 4 Km más que  $B$  en 4 horas, y  $A$  en 7 horas camina 2 Km más que  $B$  en 6 horas. ¿Cuántos Km anda cada uno en cada hora?
24. La diferencia entre la cifra de las unidades y la cifra de las decenas de un número es 4, y si el número se suma con el número que resulta de invertir sus cifras, la suma es 66. Hallar el número.
25. El perímetro de un rectángulo es 58 m. Si el largo se aumenta en 2 m y el ancho se disminuye en 2 m, el área se disminuye en 46 m<sup>2</sup>. Hallar las dimensiones del rectángulo.
26. El perímetro de una sala rectangular es 56 m. Si el largo se disminuye en 2 m y el ancho se aumenta en 2 m, la sala se hace cuadrada. Hallar las dimensiones de la sala.





JOSEPH-LAGRANGE (1736-1813). Matemático en Italia, y de sangre francesa. A los 16 años fue profesor de matemáticas en la Real Academia de Artillería de Turín. Fue uno de los más grandes analistas del siglo XVIII. Su mayor contribu-

ción al Álgebra está en la memoria que escribió en Berlín hacia 1767, "Sobre la resolución de las ecuaciones numéricas". Por su obra fundamental fue la "Mecánica Analítica". Respetado por la Revolución, fue amigo de Bonaparte que lo nombró Senador.

## CAPITULO XXVII

### ESTUDIO ELEMENTAL DE LA TEORIA COORDINATORIA

**331 LA TEORIA COORDINATORIA** estudia la ordenación de las cosas o elementos.

**332** La distinta ordenación de las cosas o elementos origina las coordinaciones, permutaciones y combinaciones.

**333 COORDINACIONES O ARREGLOS** son los grupos que se pueden formar con varios elementos (letras, objetos, personas), tomándolos uno a uno, dos a dos, tres a tres, etc., de modo que dos grupos del mismo número de elementos se diferencien por lo menos en un elemento o, si tienen los mismos elementos, por el orden en que están colocados.

Vamos a formar coordinaciones con las letras  $a, b, c, d$ .

Las coordinadas monarias de estas cuatro letras son los grupos de una letra que podemos formar con ellas, o sea:

Las coordinaciones binarias se forman escribiendo a la derecha de cada letra todas las demás, una a una, y serán:

$a, b, c, d$

$ab,$	$ac,$	$ad,$
$ba,$	$bc,$	$bd,$
$ca,$	$cb,$	$cd,$
$da,$	$db,$	$dc,$

(Véase que los grupos  $ab$  y  $ac$  se diferencian en un elemento porque el primero tiene  $b$  que no tiene el segundo y el segundo tiene  $c$  que no tiene el primero; los grupos  $ab$  y  $cd$  se diferencian en dos elementos; los grupos  $ab$  y  $ba$  se diferencian en el orden de los elementos).

Las coordinaciones ternarias se forman escribiendo a la derecha de cada binaria, una a una, todas las letras que no entren en ella y serán:

$abc,$	$abd,$	$acb,$	$acd,$	$adb,$	$adc,$
$bac,$	$bad,$	$bca,$	$bcd,$	$bda,$	$bdc,$
$cab,$	$cad,$	$cba,$	$cbd,$	$cda,$	$cdb,$
$dab,$	$dac,$	$dba,$	$dbc,$	$dca,$	$dcb,$

(Véase que los grupos  $abc$  y  $abd$  se diferencian en un elemento; los grupos  $abc$  y  $bac$  se diferencian en el orden).

Las coordinaciones cuaternarias se formarían escribiendo a la derecha de cada ternaria la letra que no entra en ella.

El símbolo de las coordinaciones es  $A$ , con un subíndice que indica el número de elementos y un exponente que indica cuantos elementos entran en cada grupo (orden de las coordinaciones).

Así, en el caso anterior, las coordinaciones monarias de  $a, b, c, d$  se expresan  ${}^1A_4$ ; las binarias,  ${}^2A_4$ ; las ternarias,  ${}^3A_4$ ; las cuaternarias,  ${}^4A_4$ .

### 334 CALCULO DEL NUMERO DE COORDINACIONES DE $m$ ELEMENTOS TOMADOS $n$ A $n$

Con  $m$  elementos, tomados de uno en uno, se pueden formar  $m$  coordinaciones monarias; luego,

$${}^1A_m = m$$

Para formar las binarias, a la derecha de cada uno de los  $m$  elementos se escriben, uno a uno, los demás  $m-1$  elementos; luego, cada elemento origina  $m-1$  coordinaciones binarias y los  $m$  elementos darán  $m(m-1)$  coordinaciones binarias; luego,

$${}^2A_m = m(m-1),$$

o sea,

$${}^2A_m = {}^1A_m(m-1),$$

$$\text{porque } m = {}^1A_m$$

Para formar las ternarias a la derecha de cada binaria escribimos, uno a uno, los  $m-2$  elementos que no entran en ella; luego, cada binaria produce  $m-2$  ternarias y tendremos:

$${}^3A_m = {}^2A_m(m-2)$$

Para formar las cuaternarias, a la derecha de cada ternaria, escribimos, uno a uno, los  $m-3$  elementos que no entran en ella; luego, cada ternaria produce  $m-3$  cuaternarias y tendremos:

$${}^4A_m = {}^3A_m(m-3)$$

Continuando el procedimiento, obtendríamos la serie de fórmulas:  $\rightarrow$

$${}^1A_m = m$$

$${}^2A_m = {}^1A_m(m-1)$$

$${}^3A_m = {}^2A_m(m-2)$$

$${}^4A_m = {}^3A_m(m-3)$$

$$\vdots$$

$${}^nA_m = {}^{n-1}A_m(m-n+1).$$

Multiplicando miembro a miembro estas igualdades y suprimiendo los factores comunes a los dos miembros, se tiene:

$${}^nA_m = m(m-1)(m-2) \dots (m-n+1) \quad (1)$$

que es la fórmula de las coordinaciones de  $m$  elementos tomados de  $n$  en  $n$ .



## Ejemplos

- (1) ¿Cuántos números distintos de 4 cifras se pueden formar con los números 1, 2, 3, 4, 5, 6, 7, 8 y 9?

Aplicamos la fórmula (1).

Aquí  $m=9$ ,  $n=4$ .

$${}^9A_4 = 9 \times 8 \times \dots \times (9-4+1) = 9 \times 8 \times 7 \times 6 = 3024. \quad R.$$

- (2) ¿Cuántas señales distintas pueden hacerse con 7 banderas izando 3 de cada vez?

Las señales pueden ser distintas por diferenciarse una de otra en una o más banderas o por el orden en que se izan las banderas.

Aplicamos la fórmula (1). Aquí  $m=7$ ,  $n=3$ . Tendremos:

$${}^7A_3 = 7 \times \dots \times (7-3+1) = 7 \times 6 \times 5 = 210 \text{ señales.} \quad R.$$

- 335 Si se establece la condición de que cierto número de elementos tienen que ocupar lugares fijos en los grupos que se formen, al aplicar la fórmula,  $m$  y  $n$  se disminuyen en el número de elementos fijos. Por ejemplo:

Con 10 jugadores de basket, ¿de cuántos modos se puede disponer el team de 5 jugadores si los dos forwards han de ser siempre los mismos?

Aquí hay dos jugadores que ocupan lugares fijos:  $m=10$  y  $n=5$ , pero tenemos que disminuir  $m$  y  $n$  en 2 porque habiendo 2 jugadores fijos en dos posiciones, quedan 8 jugadores para ocupar las 3 posiciones que quedan; luego, los arreglos de 3 que podemos formar con los 8 jugadores son:

$${}^{8-2}A_{3-2} = {}^6A_1 = 8 \times 7 \times 6 = 336 \text{ modos.} \quad R.$$

- 336 **PERMUTACIONES** son los grupos que se pueden formar con varios elementos entrando todos en cada grupo, de modo que un grupo se diferencie de otro cualquiera en el orden en que están colocados los elementos.

Así, las permutaciones que se pueden formar con las letras  $a$  y  $b$  son

$ab$  y  $ba$ .

Las permutaciones de las letras  $a$ ,  $b$  y  $c$  se obtienen formando las permutaciones de  $a$  y  $b$ , que son  $ab$  y  $ba$ , y haciendo que la  $c$  ocupe todos los lugares (detrás, en el medio, delante) en cada una de ellas y serán:

$abc$ ,  $acb$ ,  $cab$ ,  
 $bac$ ,  $bca$ ,  $cba$ .

Las permutaciones de  $a$ ,  $b$ ,  $c$  y  $d$  se obtienen haciendo que en cada una de las anteriores la  $d$  ocupe todos los lugares y así sucesivamente.

- 337 **CALCULO DEL NUMERO DE PERMUTACIONES DE  $m$  ELEMENTOS**

Las permutaciones son un caso particular de las coordinaciones: el caso en que todos los elementos entran en cada grupo. Por tanto, la fórmula

del número de permutaciones de  $m$  elementos,  $P_m$ , se obtiene de la fórmula que nos da el número de coordinaciones

$${}^m A_m = m(m-1)(m-2) \dots (m-n+1)$$

haciendo  $m=n$ . Si hacemos  $m=n$  el factor  $m-n+1=1$ , y quedará:

$$P_m = m(m-1)(m-2) \dots \times 1,$$

o sea,

$$P_m = 1 \times 2 \times 3 \times \dots \times m = m$$

La expresión  $m!$  se llama una factorial e indica el producto de los números enteros consecutivos de 1 a  $m$ . Por tanto,

$$P_m = m!$$

## Ejemplos

- (1) ¿De cuántos modos pueden colocarse en un estante 5 libros?

En cada arreglo que se haga han de entrar los 5 libros, luego aplicando la fórmula (2) tenemos:

$$P_5 = 5! = 1 \times 2 \times 3 \times 4 \times 5 = 120 \text{ modos.} \quad R.$$

- (2) ¿De cuántos modos pueden sentarse 6 personas a un mismo lado de una mesa?

$$P_6 = 6! = 720 \text{ modos.} \quad R.$$

- 338 Si se establece la condición de que determinados elementos han de ocupar lugares fijos, el número total de permutaciones es el que se puede formar con los demás elementos.

## Ejemplo

Con 9 jugadores, ¿de cuántos modos se puede disponer una novena si el pitcher y el catcher son siempre los mismos?

Hay dos elementos fijos, quedan  $9-2=7$  para permutar, luego  $P_7 = 7! = 5040$  modos.  $R.$

- 339 **PERMUTACIONES CIRCULARES**

Cuando  $m$  elementos se disponen alrededor de un círculo, el número de permutaciones es  $(m-1)!$  si se cuenta siempre en el mismo sentido a partir de un mismo elemento.

## Ejemplo

¿De cuántos modos pueden sentarse 6 personas en una mesa redonda, contando en un solo sentido, a partir de una de ellas?

$$P_{6-1} = P_5 = 5! = 120 \text{ modos.}$$

- 340 **COMBINACIONES** son los grupos que se pueden formar con varios elementos tomándolos uno a uno, dos a dos, tres a tres, etc., de modo que dos grupos que tengan el mismo número de elementos se diferencien por lo menos en un elemento.

Vamos a formar combinaciones con las letras  $a$ ,  $b$ ,  $c$ ,  $d$ .



Las combinaciones binarias se forman escribiendo a la derecha de cada letra, una a una, todas las letras siguientes y serán:

$ab,$        $ac,$        $ad,$   
               $bc,$        $bd,$   
                           $cd.$

Las combinaciones ternarias se forman escribiendo a la derecha de cada binaria, una a una, las letras que siguen a la última de cada binaria; serán:  $abc, abd, acd, bcd.$

En los ejemplos anteriores se ve que no hay dos grupos que tengan los mismos elementos; todos se diferencian por lo menos en un elemento.

### 341 CALCULO DEL NUMERO DE COMBINACIONES DE $m$ ELEMENTOS TOMADOS $n$ A $n$

Si en las combinaciones binarias anteriores permutamos los elementos de cada combinación, obtendremos las coordinaciones binarias; si en las combinaciones ternarias anteriores permutamos los elementos de cada combinación, obtendremos las coordinaciones ternarias; pero al permutar los elementos de cada combinación, el número de grupos (coordinaciones) que se obtiene es igual al producto del número de combinaciones por el número de permutaciones de los elementos de cada combinación. Por tanto, designando por  ${}^nC_m$  las combinaciones de  $m$  cosas tomadas  $n$  a  $n$ , por  $P_n$  las permutaciones que se pueden formar con los  $n$  elementos de cada grupo y por  ${}^nA_m$  las coordinaciones que se obtienen al permutar los  $n$  elementos de cada grupo, tendremos:

$${}^nC_m \times P_n = {}^nA_m \therefore {}^nC_m = \frac{{}^nA_m}{P_n} \quad (3)$$

lo que dice que el número de combinaciones de  $m$  elementos tomados  $n$  a  $n$  es igual al número de coordinaciones de los  $m$  elementos tomados  $n$  a  $n$  dividido entre el número de permutaciones de los  $n$  elementos de cada grupo.

#### Ejemplos

(1) Entre 7 personas, ¿de cuántos modos puede formarse un comité de 4 personas?

Aplicamos la fórmula (3).

Aquí  $m = 7, n = 4.$

$${}^7C_4 = \frac{{}^7A_4}{P_4} = \frac{7 \times 6 \times \dots \times (7 - 4 + 1)}{4!} = \frac{7 \times 6 \times 5 \times 4}{1 \times 2 \times 3 \times 4} = 35 \text{ modos. R.}$$


(2) En un examen se ponen 8 temas para que el alumno escoja 5. ¿Cuántas selecciones puede hacer el alumno?

$${}^8C_5 = \frac{{}^8A_5}{P_5} = \frac{8 \times 7 \times \dots \times (8 - 5 + 1)}{5!} = \frac{8 \times 7 \times 6 \times 5 \times 4}{1 \times 2 \times 3 \times 4 \times 5} = 56. \text{ R.}$$

### EJERCICIO 204

1. ¿Cuántos números distintos de 3 cifras se pueden formar con los números 4, 5, 6, 7, 8 y 9?
2. Con 5 jugadores, ¿de cuántos modos se puede disponer un team de basket de 5 hombres?
3. Con 7 personas, ¿cuántos comités distintos de 5 personas pueden formarse?
4. Entre la Guaira y Liverpool hay 6 barcos haciendo los viajes. ¿De cuántos modos puede hacer el viaje de ida y vuelta una persona si el viaje de vuelta debe hacerlo en un barco distinto al de ida?
5. ¿De cuántos modos pueden sentarse 3 personas en 5 sillas?
6. De 12 libros, ¿cuántas selecciones de 5 libros pueden hacerse?
7. ¿De cuántos modos pueden disponerse las letras de la palabra Ecuador, entrando todas en cada grupo?
8. ¿Cuántas selecciones de 4 letras pueden hacerse con las letras de la palabra Alfredo?
9. Se tiene un libro de Aritmética, uno de Algebra, uno de Geometría, uno de Física y uno de Química. ¿De cuántos modos pueden disponerse en un estante si el de Geometría siempre está en el medio?
10. ¿Cuántos números distintos de 6 cifras pueden formarse con los números 1, 2, 3, 4, 5 y 6?
11. ¿De cuántos modos pueden disponerse en una fila un sargento y 6 soldados si el sargento siempre es el primero?, ¿si el sargento no ocupa lugar fijo?
12. ¿De cuántos modos pueden sentarse un padre, su esposa y sus cuatro hijos en un banco?, ¿en una mesa redonda, contando siempre a partir del padre?
13. ¿Cuántas señales distintas pueden hacerse con 9 banderas, izando 3 de cada vez?
14. ¿Cuántos números, mayores que 2000 y menores que 3000, se pueden formar con los números 2, 3, 5 y 6?
15. ¿Cuántas selecciones de 3 monedas pueden hacerse con una pieza de 5 centavos, una de 10, una de 20, una de 40 y una de a peso?
16. ¿De cuántos modos puede disponerse una tripulación de 5 hombres si el timonel y el stroke son siempre los mismos?
17. Hay 7 hombres para formar una tripulación de 5, pero el timonel y el stroke son siempre los mismos. ¿De cuántos modos se puede disponer la tripulación?
18. ¿De cuántos modos pueden disponerse 11 muchachos para formar una rueda?
19. De entre 8 candidatos, ¿cuántas ternas se pueden escoger?
20. ¿Cuántos números de 5 cifras que empiecen por 1 y acaben por 8 se pueden formar con los números 1, 2, 3, 4, 5, 6, 7, 8?
21. Con 5 consonantes y tres vocales, ¿cuántas palabras distintas de 8 letras pueden formarse?, ¿cuántas, si las vocales son fijas?
22. ¿De cuántos modos se puede disponer un team de basket de 5 hombres con 5 jugadores si el centre es fijo?





**D. MONGE (1746-1818)** Matemático francés. Ministro de Marina de la Revolución. Dentro de las matemáticas cultivó muy especialmente la Geometría Descriptiva, base de los procedimientos gráficos para la ejecución de las obras de ingeniería. Fue el primero en utilizar pares de elementos imaginarios para simbolizar relaciones espaciales reales. Su teoría de la superficie, permite la solución de las ecuaciones diferenciales. Aplicó su ciencia a problemas marítimos.

para la ejecución de las obras de ingeniería. Fue el primero en utilizar pares de elementos imaginarios para simbolizar relaciones espaciales reales. Su teoría de la superficie, permite la solución de las ecuaciones diferenciales. Aplicó su ciencia a problemas marítimos.

## CAPITULO XXVIII

### POTENCIACIÓN

**342 POTENCIA** de una expresión algebraica es la misma expresión o el resultado de tomarla como factor dos o más veces.

La primera potencia de una expresión es la misma expresión.

Así,  $(2a)^1 = 2a$ .

La segunda potencia o cuadrado de una expresión es el resultado de tomarla como factor dos veces. Así,  $(2a)^2 = 2a \times 2a = 4a^2$ .

El cubo de una expresión es el resultado de tomarla como factor tres veces. Así,  $(2a)^3 = 2a \times 2a \times 2a = 8a^3$ .

En general,  $(2a)^n = 2a \times 2a \times 2a \dots n$  veces.

**343 SIGNO DE LAS POTENCIAS**

Cualquier potencia de una cantidad positiva evidentemente es positiva, porque equivale a un producto en que todos los factores son positivos.

En cuanto a las potencias de una cantidad negativa, ya se vio (85) que:

1) Toda potencia par de una cantidad negativa es positiva.

2) Toda potencia impar de una cantidad negativa es negativa.

Así,  $(-2a)^2 = (-2a) \times (-2a) = 4a^2$

$(-2a)^3 = (-2a) \times (-2a) \times (-2a) = -8a^3$

$(-2a)^4 = (-2a) \times (-2a) \times (-2a) \times (-2a) = 16a^4$ , etc.

### 344 POTENCIA DE UN MONOMIO

Para elevar un monomio a una potencia se eleva su coeficiente a esa potencia y se multiplica el exponente de cada letra por el exponente que indica la potencia.

Si el monomio es negativo, el signo de la potencia es + cuando el exponente es par, y es - cuando el exponente es impar.

#### Ejemplos

(1) Desarrollar  $(3ab^2)^3$

$$(3ab^2)^3 = 3^3 \cdot a^{1 \times 3} \cdot b^{2 \times 3} = 27a^3b^6. \text{ R.}$$

En efecto:

$$(3ab^2)^3 = 3ab^2 \times 3ab^2 \times 3ab^2 = 27a^3b^6.$$

(2) Desarrollar  $(-3a^2b^3)^2$

$$(-3a^2b^3)^2 = 3^2 \cdot a^{2 \times 2} \cdot b^{3 \times 2} = 9a^4b^6. \text{ R.}$$

En efecto:

$$(-3a^2b^3)^2 = (-3a^2b^3) \times (-3a^2b^3) = 9a^4b^6. \text{ R.}$$

(3) Desarrollar  $(-5x^3y^4)^3$

$$(-5x^3y^4)^3 = -125x^9y^{12}. \text{ R.}$$

(4) Desarrollar  $\left(-\frac{2x}{3y^2}\right)^4$

Cuando el monomio es una fracción, para elevarlo a una potencia cualquiera, se eleva su numerador y su denominador a esa potencia. Así, en este caso, tenemos:

$$\left(-\frac{2x}{3y^2}\right)^4 = \frac{(2x)^4}{(3y^2)^4} = \frac{16x^4}{81y^8}. \text{ R.}$$

(5) Desarrollar  $\left(-\frac{2}{3}a^3b^4\right)^5$

$$\left(-\frac{2}{3}a^3b^4\right)^5 = -\frac{32}{243}a^{15}b^{20}. \text{ R.}$$

### EJERCICIO 205

Desarrollar:

- |                       |                                    |  |  |
|-----------------------|------------------------------------|--|--|
| 1. $(4a^2)^3$         | 9. $(a^m b^n)^2$                   | 17. $\left(-\frac{2m}{n^2}\right)^3$     | 21. $\left(\frac{2m^3 n}{3x^4}\right)^5$ |
| 2. $(-5a)^3$          | 10. $(-2x^3 y^6 z^9)^4$            | 18. $\left(\frac{ab^2}{5}\right)^3$      | 22. $\left(-\frac{3}{4}a^3 b^2\right)^2$ |
| 3. $(3xy)^5$          | 11. $(-3m^2 n)^5$                  | 19. $\left(-\frac{3x^2}{4y}\right)^2$    | 23. $\left(-\frac{1}{3}mn^2\right)^4$    |
| 4. $(-6a^2 b)^2$      | 12. $(a^2 b^3 c)^m$                | 20. $\left(-\frac{2ab^2}{3m^3}\right)^4$ | 24. $\left(-\frac{1}{2}a^2 b^4\right)^5$ |
| 5. $(-2x^2 y^3)^3$    | 13. $(-m^2 n x^3)^4$               |  |  |
| 6. $(4a^2 b^3 c^4)^3$ | 14. $(-3a^2 b)^5$                  |  |  |
| 7. $(-6x^4 y^5)^2$    | 15. $(7x^3 y^9 z^2)^2$             |  |  |
| 8. $(-7ab^3 c^4)^3$   | 16. $\left(-\frac{x}{2y}\right)^2$ |  |  |



## 45 CUADRADO DE UN BINOMIO

Sabemos (87 y 88) que:

$$(a+b)^2 = a^2 + 2ab + b^2$$

$$(a-b)^2 = a^2 - 2ab + b^2$$

Aunque en los productos notables ya hemos trabajado con estas formulas, trabajaremos algunos casos más, dada su importancia.

## Ejemplos

(1) Desarrollar  $(3a^2 - 5a^2b^4)^2$ 

$$(3a^2 - 5a^2b^4)^2 = (3a^2)^2 - 2(3a^2)(5a^2b^4) + (5a^2b^4)^2$$

$$= 9a^4 - 30a^4b^4 + 25a^4b^8. \text{ R.}$$

(2) Desarrollar  $\left(\frac{2}{3}x^2 + \frac{3}{4}y^3\right)^2$ 

$$\left(\frac{2}{3}x^2 + \frac{3}{4}y^3\right)^2 = \left(\frac{2}{3}x^2\right)^2 + 2\left(\frac{2}{3}x^2\right)\left(\frac{3}{4}y^3\right) + \left(\frac{3}{4}y^3\right)^2$$

$$= \frac{4}{9}x^4 + x^2y^3 + \frac{9}{16}y^6. \text{ R.}$$

(3) Desarrollar  $\left(10a^3 - \frac{4}{5}a^2b^2\right)^2$ 

$$\left(10a^3 - \frac{4}{5}a^2b^2\right)^2 = (10a^3)^2 - 2(10a^3)\left(\frac{4}{5}a^2b^2\right) + \left(\frac{4}{5}a^2b^2\right)^2$$

$$= 100a^6 - 16a^5b^2 + \frac{16}{25}a^4b^4. \text{ R.}$$

(4) Desarrollar  $\left(\frac{x^3}{10} - \frac{5y^2}{6x^5}\right)^2$ 

$$\left(\frac{x^3}{10} - \frac{5y^2}{6x^5}\right)^2 = \left(\frac{x^3}{10}\right)^2 - 2\left(\frac{x^3}{10}\right)\left(\frac{5y^2}{6x^5}\right) + \left(\frac{5y^2}{6x^5}\right)^2$$

$$= \frac{1}{100}x^6 - \frac{y^2}{6x^2} + \frac{25y^4}{36x^{10}}. \text{ R.}$$

## EJERCICIO 206

Desarrollar:

1.  $(a^5 + 7b^4)^2$

2.  $(3x^4 - 5xy^3)^2$

3.  $(a^2b^3 - a^5)^2$

4.  $(7x^5 - 8x^3y^4)^2$

5.  $(9ab^2 + 5a^2b^3)^2$

6.  $(3x^2y^3 - 7x^3y^2)^2$

7.  $(xy - a^2b^2)^2$

8.  $\left(\frac{1}{2}x + \frac{2}{3}y\right)^2$

9.  $\left(\frac{3}{4}a^2 - \frac{2}{5}b^2\right)^2$

10.  $\left(\frac{5}{6}x^3 + \frac{3}{5}xy^2\right)^2$

11.  $\left(\frac{1}{9}a^4 - \frac{3}{7}a^3b^7\right)^2$

12.  $\left(\frac{2}{5}m^4 - \frac{5}{4}n^3\right)^2$

13.  $\left(\frac{x}{3} + \frac{y^2}{4}\right)^2$

14.  $\left(\frac{2x}{3} - \frac{3y}{5}\right)^2$

15.  $\left(\frac{a^3}{8} + \frac{4a^2}{7b}\right)^2$

16.  $\left(\frac{3}{2x} - \frac{2x^4}{3}\right)^2$

17.  $\left(\frac{5x^7}{6y^4} - \frac{3y^4}{10x^2}\right)^2$

18.  $\left(\frac{3}{8}a^6 - \frac{4a^2}{9b^5}\right)^2$

## 346 CUBO DE UN BINOMIO

Sabemos (90) que:

$$(a+b)^3 = a^3 + 3a^2b + 3ab^2 + b^3$$

$$(a-b)^3 = a^3 - 3a^2b + 3ab^2 - b^3$$

## Ejemplos

(1) Desarrollar  $(4a^3 + 5a^2b^2)^3$ 

$$(4a^3 + 5a^2b^2)^3 = (4a^3)^3 + 3(4a^3)^2(5a^2b^2) + 3(4a^3)(5a^2b^2)^2 + (5a^2b^2)^3$$

$$= 64a^9 + 240a^8b^2 + 300a^7b^4 + 125a^4b^6. \text{ R.}$$

(2) Desarrollar  $\left(\frac{3}{5}x - \frac{5}{6}y^2\right)^3$ 

$$\left(\frac{3}{5}x - \frac{5}{6}y^2\right)^3 = \left(\frac{3}{5}x\right)^3 - 3\left(\frac{3}{5}x\right)^2\left(\frac{5}{6}y^2\right) + 3\left(\frac{3}{5}x\right)\left(\frac{5}{6}y^2\right)^2 - \left(\frac{5}{6}y^2\right)^3$$

$$= \frac{27}{125}x^3 - \frac{9}{10}x^2y^2 + \frac{5}{4}xy^4 - \frac{125}{216}y^6. \text{ R.}$$

(3) Desarrollar  $\left(\frac{2x^3}{5y} - \frac{10y^4}{3}\right)^3$ 

$$\left(\frac{2x^3}{5y} - \frac{10y^4}{3}\right)^3 = \left(\frac{2x^3}{5y}\right)^3 - 3\left(\frac{2x^3}{5y}\right)^2\left(\frac{10y^4}{3}\right) + 3\left(\frac{2x^3}{5y}\right)\left(\frac{10y^4}{3}\right)^2 - \left(\frac{10y^4}{3}\right)^3$$

$$= \frac{8x^9}{125y^3} - \frac{8}{5}x^6y^2 + \frac{40}{3}x^3y^7 - \frac{1000}{27}y^{12}. \text{ R.}$$

## EJERCICIO 207

Desarrollar:

1.  $(2a + 3b)^3$

2.  $(4a - 3b^2)^3$

3.  $(5x^2 + 6y^3)^3$

4.  $(4x^3 - 3xy^2)^3$

5.  $(7a^4 - 5a^2b^3)^3$

6.  $(a^5 + 9a^2x^4)^3$

7.  $(8x^4 - 7x^2y^4)^3$

8.  $(3a^2b - 5a^3b^2)^3$

9.  $\left(\frac{1}{2}a + \frac{2}{3}b^2\right)^3$

10.  $\left(\frac{3}{4}a^2 - \frac{4}{5}b^2\right)^3$

11.  $\left(\frac{5}{6}a^2b - \frac{3}{10}b^4\right)^3$

12.  $\left(\frac{7}{8}x^5 - \frac{4}{7}y^6\right)^3$

13.  $\left(\frac{x}{2y} + \frac{3y}{x^2}\right)^3$

14.  $\left(\frac{2a^2}{5} - \frac{5}{2b^4}\right)^3$

15.  $\left(4x^4 - \frac{3x}{y^3}\right)^3$

16.  $\left(\frac{3a}{2b} + \frac{4b^2}{5}\right)^3$

17.  $\left(\frac{7}{8} - x^4y^6\right)^3$

18.  $\left(\frac{1}{6}m^8 - \frac{6n^2}{m^2}\right)^3$



## CUADRADO DE UN POLINOMIO

## 347 DEDUCCION DE LA REGLA PARA ELEVAR UN POLINOMIO AL CUADRADO

1) Vamos a elevar al cuadrado el trinomio  $a + b + c$ . Escribiéndolo  $(a + b) + c$  podemos considerarlo como un binomio cuyo primer término es  $(a + b)$ , y el segundo,  $c$ . Tendremos:

$$\begin{aligned}(a + b + c)^2 &= [(a + b) + c]^2 = (a + b)^2 + 2(a + b)c + c^2 \\ &= a^2 + 2ab + b^2 + 2ac + 2bc + c^2 \\ (\text{ordenando}) &= a^2 + b^2 + c^2 + 2ab + 2ac + 2bc. \quad (1)\end{aligned}$$

2) Sea el trinomio  $(a - b + c)$ . Tendremos:

$$\begin{aligned}(a - b + c)^2 &= [(a - b) + c]^2 = (a - b)^2 + 2(a - b)c + c^2 \\ &= a^2 - 2ab + b^2 + 2ac - 2bc + c^2 \\ (\text{ordenando}) &= a^2 + b^2 + c^2 - 2ab + 2ac - 2bc. \quad (2)\end{aligned}$$

3) Sea el polinomio  $a + b + c - d$ . Tendremos:

$$\begin{aligned}(a + b + c - d)^2 &= [(a + b) + (c - d)]^2 = (a + b)^2 + 2(a + b)(c - d) + (c - d)^2 \\ &= a^2 + 2ab + b^2 + 2ac + 2bc - 2ad - 2bd + c^2 - 2cd + d^2 \\ (\text{ordenando}) &= a^2 + b^2 + c^2 + d^2 + 2ab + 2ac - 2ad + 2bc - 2bd - 2cd. \quad (3)\end{aligned}$$

Los resultados (1), (2) y (3) nos permiten establecer la siguiente:

## REGLA ●

El cuadrado de un polinomio es igual a la suma de los cuadrados de cada uno de sus términos más el duplo de las combinaciones binarias que con ellos pueden formarse.

Esta regla se cumple, cualquiera que sea el número de términos del polinomio.

Las combinaciones binarias se entienden productos tomados con el signo que resulte de multiplicar.

Obsérvese que los cuadrados de todos los términos son positivos.

## Ejemplos

(1) Elevar al cuadrado  $x^2 - 3x + 4$ .

Aplicando la regla anterior, tenemos:

$$\begin{aligned}(x^2 - 3x + 4)^2 &= (x^2)^2 + (-3x)^2 + 4^2 + 2(x^2)(-3x) + 2(x^2)(4) + 2(-3x)(4) \\ &= x^4 + 9x^2 + 16 - 6x^3 + 8x^2 - 24x \\ &= x^4 - 6x^3 + 17x^2 - 24x + 16. \quad R.\end{aligned}$$

Obsérvese que las combinaciones binarias se forman:  $1^\circ$  y  $2^\circ$ ,  $1^\circ$  y  $3^\circ$ ,  $2^\circ$  y  $3^\circ$ , cada término con los siguientes, nunca con los anteriores y que al formar las combinaciones cada término se escribe con su propio signo.

(2) Desarrollar  $(3x^3 - 5x^2 - 7)^2$ .

$$\begin{aligned}(3x^3 - 5x^2 - 7)^2 &= (3x^3)^2 + (-5x^2)^2 + (-7)^2 + 2(3x^3)(-5x^2) \\ &\quad + 2(3x^3)(-7) + 2(-5x^2)(-7) \\ &= 9x^6 + 25x^4 + 49 - 30x^5 - 42x^3 + 70x^2 \\ &= 9x^6 - 30x^5 + 25x^4 - 42x^3 + 70x^2 + 49. \quad R.\end{aligned}$$

(3) Elevar al cuadrado  $a^3 - 3a^2 + 4a - 1$ .

$$\begin{aligned}(a^3 - 3a^2 + 4a - 1)^2 &= (a^3)^2 + (-3a^2)^2 + (4a)^2 + (-1)^2 + 2(a^3)(-3a^2) \\ &\quad + 2(a^3)(4a) + 2(a^3)(-1) + 2(-3a^2)(4a) + 2(-3a^2)(-1) + 2(4a)(-1) \\ &= a^6 + 9a^4 + 16a^2 + 1 - 6a^5 + 8a^4 - 2a^3 - 24a^3 + 6a^2 - 8a \\ &= a^6 - 6a^5 + 17a^4 - 26a^3 + 22a^2 - 8a + 1. \quad R.\end{aligned}$$

## EJERCICIO 208

Elevar al cuadrado:

1.  $x^2 - 2x + 1$ .

8.  $2a^2 + 2ab - 3b^2$ .

16.  $\frac{a^2}{4} - \frac{3}{5} + \frac{b^2}{9}$ .

2.  $2x^2 + x + 1$ .

10.  $m^3 - 2m^2n + 2n^4$ .

17.  $x^3 - x^2 + x + 1$ .

3.  $x^2 - 5x + 2$ .

11.  $\frac{x}{2} - b + \frac{c}{4}$ .

18.  $x^3 - 3x^2 - 2x + 2$ .

4.  $x^3 - 5x^2 + 6$ .

12.  $\frac{x}{5} - 5y + \frac{6}{11}$ .

19.  $x^4 + 3x^2 - 4x + 5$ .

5.  $4a^4 - 3a^2 + 5$ .

13.  $\frac{1}{2}x^2 - x + \frac{9}{3}$ .

20.  $x^4 - 4x^3 + 2x - 3$ .

6.  $x + 2y - z$ .

14.  $\frac{x}{2} - \frac{1}{3} + \frac{x}{5}$ .

21.  $3 - 6a + a^2 - a^3$ .

7.  $3 - x^3 - x^6$ .

15.  $\frac{5}{4}a^2 - \frac{1}{2}a + \frac{4}{5}$ .

22.  $\frac{1}{2}x^3 - x^2 + \frac{2}{3}x + 2$ .

23.  $\frac{1}{2}a^3 - \frac{2}{3}a^2 + \frac{8}{4}a - \frac{1}{3}$ .

24.  $x^2 - x^4 + x^3 - x^2 + x - 2$ .

## CUBO DE UN POLINOMIO

## 348 DEDUCCION DE LA REGLA PARA ELEVAR UN POLINOMIO AL CUBO

1) Sea el trinomio  $a + b + c$ . Tendremos:

$$\begin{aligned}(a + b + c)^3 &= [(a + b) + c]^3 = (a + b)^3 + 3(a + b)^2c + 3(a + b)c^2 + c^3 \\ &= (a + b)^3 + 3(a^2 + 2ab + b^2)c + 3(a + b)c^2 + c^3 \\ &= a^3 + 3a^2b + 3ab^2 + b^3 + 3a^2c + 6abc + 3b^2c + 3ac^2 + 3bc^2 + c^3 \\ (\text{ordenando}) &= a^3 + b^3 + c^3 + 3a^2b + 3a^2c + 3b^2a + 3b^2c + 3c^2a + 3c^2b + 6abc. \quad (1)\end{aligned}$$

2) Elevando  $a + b + c + d$  al cubo por el procedimiento anterior, se obtiene:

$$\begin{aligned}(a + b + c + d)^3 &= a^3 + b^3 + c^3 + d^3 + 3a^2b + 3a^2c + 3a^2d + 3b^2a + 3b^2c + 3b^2d \\ &\quad + 3c^2a + 3c^2b + 3c^2d + 3d^2a + 3d^2b + 3d^2c + 6abc + 6abd \\ &\quad + 6acd + 6bcd. \quad (2)\end{aligned}$$



Los resultados (1) y (2) nos permiten establecer la siguiente:

#### REGLA

El cubo de un polinomio es igual a la suma de los cubos de cada uno de sus términos más el triplo del cuadrado de cada uno por cada uno de los demás más el séxtuplo de las combinaciones ternarias (productos) que pueden formarse con sus términos.

1) Elevar al cubo  $x^2 - 2x + 1$ .

Aplicando la regla anterior, tenemos:

$$(x^2 - 2x + 1)^3 = (x^2)^3 + (-2x)^3 + 1^3$$

$$+ 3(x^2)^2(-2x) + 3(x^2)^2(1)$$

$$+ 3(-2x)^2(x^2) + 3(-2x)^2(1)$$

$$+ 3(1)^2(x^2) + 3(1)^2(-2x) + 6(x^2)(-2x)(1)$$

$$(\text{ordenando}) = x^6 - 8x^3 + 1 - 6x^3 + 3x^4 + 12x^4 + 12x^2 + 3x^2 - 6x - 12x^3$$

$$y \text{ reduciendo}) = x^6 - 6x^3 + 15x^4 - 20x^3 + 15x^2 - 6x + 1. \quad R.$$

Téngase bien presente que todas las cantidades negativas al cuadrado dan signo más.

En los trinomios sólo hay una combinación ternaria: 1o., 2o. y 3o.

2) Elevar al cubo  $x^3 - x^2 + 2x - 3$ .

$$(x^3 - x^2 + 2x - 3)^3 = (x^3)^3 + (-x^2)^3 + (2x)^3 + (-3)^3$$

$$+ 3(x^3)^2(-x^2) + 3(x^3)^2(2x) + 3(x^3)^2(-3)$$

$$+ 3(-x^2)^2(x^3) + 3(-x^2)^2(2x) + 3(-x^2)^2(-3)$$

$$+ 3(2x)^2(x^3) + 3(2x)^2(-x^2) + 3(2x)^2(-3)$$

$$+ 3(-3)^2(x^3) + 3(-3)^2(-x^2) + 3(-3)^2(2x)$$

$$+ 6(x^3)(-x^2)(2x) + 6(x^3)(-x^2)(-3) + 6(x^3)(2x)(-3) + 6(-x^2)(2x)(-3)$$

$$= x^9 - x^6 + 8x^3 - 27 - 3x^8 + 6x^7 - 9x^6 + 3x^7 + 6x^5 - 9x^4 + 12x^5$$

$$- 12x^4 - 36x^2 + 27x^3 - 27x^2 + 54x - 12x^6 + 18x^3 - 36x^4 + 36x^3$$

$$= x^9 - 3x^8 + 9x^7 - 22x^6 + 36x^5 - 57x^4 + 71x^3 - 63x^2 + 54x - 27. \quad R.$$

#### ● EJERCICIO 209

Elevar al cubo:

1.  $x^2 + x + 1$ .

4.  $2 - 3x + x^2$ .

7.  $a^3 + \frac{a^2}{2} - \frac{a}{3}$ .

10.  $x^3 - 2x^2 + x - 3$ .

2.  $2x^2 - x - 1$ .

5.  $x^3 - 2x^2 - 4$ .

8.  $\frac{1}{2}x^2 - \frac{1}{3}x + 2$ .

11.  $x^3 - 4x^2 + 2x - 3$ .

3.  $1 - 3x + 2x^2$ .

6.  $x^4 - x^2 - 2$ .

9.  $a^3 - a^2 + a - 1$ .

12.  $1 - x^2 + 2x^3 - x^6$ .

#### BINOMIO DE NEWTON

#### 349 ELEVAR UN BINOMIO A UNA POTENCIA ENTERA Y POSITIVA

Sea el binomio  $a + b$ . La multiplicación da que

$$(a + b)^2 = a^2 + 2ab + b^2$$

$$(a + b)^3 = a^3 + 3a^2b + 3ab^2 + b^3$$

$$(a + b)^4 = a^4 + 4a^3b + 6a^2b^2 + 4ab^3 + b^4$$

En estos desarrollos se cumplen las siguientes leyes:

1) Cada desarrollo tiene un término más que el exponente del binomio.

2) El exponente de  $a$  en el primer término del desarrollo es igual al exponente del binomio, y en cada término posterior al primero, disminuye 1.

3) El exponente de  $b$  en el segundo término del desarrollo es 1, y en cada término posterior a éste, aumenta 1.

4) El coeficiente del primer término del desarrollo es 1 y el coeficiente del segundo término es igual al exponente de  $a$  en el primer término del desarrollo.

5) El coeficiente de cualquier término se obtiene multiplicando el coeficiente del término anterior por el exponente de  $a$  en dicho término anterior y dividiendo este producto por el exponente de  $b$  en ese mismo término aumentado en 1.

6) El último término del desarrollo es  $b$  elevada al exponente del binomio.

Los resultados anteriores constituyen la Ley del Binomio, que se cumple para cualquier exponente entero y positivo como probaremos en seguida. Esta Ley general se representa por medio de la siguiente fórmula:

$$(a + b)^n = a^n + na^{n-1}b + \frac{n(n-1)}{1 \cdot 2} a^{n-2}b^2 + \frac{n(n-1)(n-2)}{1 \cdot 2 \cdot 3} a^{n-3}b^3 + \frac{n(n-1)(n-2)(n-3)}{1 \cdot 2 \cdot 3 \cdot 4} a^{n-4}b^4 + \dots + b^n. \quad (1)$$

Esta fórmula descubierta por Newton nos permite elevar un binomio a una potencia cualquiera, directamente, sin tener que hallar las potencias anteriores.

#### 350 PRUEBA POR INDUCCION MATEMATICA DE LA LEY DEL BINOMIO

Vamos a probar que la Ley del Binomio se cumple para cualquier exponente entero y positivo.

Admitamos que la Ley se cumple para  $(a + b)^n$  y obtendremos el resultado (1).

Multiplicando ambos miembros de la fórmula (1) por  $a + b$  (se multiplica primero por  $a$ , después por  $b$  y se suman los productos) y combinando los términos semejantes, se tendrá:

$$(a + b)^{n+1} = a^{n+1} + (n+1)a^n b + \frac{n(n+1)}{1 \cdot 2} a^{n-1}b^2 + \frac{n(n+1)(n-1)}{1 \cdot 2 \cdot 3} a^{n-2}b^3 + \frac{n(n+1)(n-1)(n-2)}{1 \cdot 2 \cdot 3 \cdot 4} a^{n-3}b^4 + \dots + b^{n+1}. \quad (2)$$



Este desarrollo (2) es similar al desarrollo (1), teniendo  $n+1$  donde el anterior tiene  $n$ .

Vemos, pues, que la Ley del Binomio se cumple para  $(a+b)^{n+1}$  igual que se cumple para  $(a+b)^n$ :

Por tanto, si la Ley se cumple para un exponente entero y positivo cualquiera  $n$  también se cumple para  $n+1$ . Ahora bien, en el número 349 probamos, por medio de la multiplicación, que la Ley se cumple para  $(a+b)^4$ , luego, se cumple para  $(a+b)^5$ ; si se cumple para  $(a+b)^5$ , se cumple para  $(a+b)^6$ ; si se cumple para  $(a+b)^6$ , se cumple para  $(a+b)^7$  y así sucesivamente; luego, la Ley se cumple para cualquier exponente entero y positivo.

### 351 DESARROLLO DE $(a-b)^n$

Cuando el segundo término del binomio es negativo, los signos del desarrollo son alternativamente  $+$  y  $-$ . En efecto:

$$(a-b)^n = [a+(-b)]^n$$

y al desarrollar  $[a+(-b)]^n$  los términos 2o., 4o., 6o., etc., de acuerdo con la fórmula (1) contendrán el segundo término  $(-b)$  elevado a un exponente impar y como toda potencia impar de una cantidad negativa es negativa, dichos términos serán negativos y los términos 3o., 5o., 7o., etc., contendrán a  $(-b)$  elevada a un exponente par y como toda potencia par de una cantidad negativa es positiva, dichos términos serán positivos. Por tanto, podemos escribir:

$$(a-b)^n = a^n - na^{n-1}b + \frac{n(n-1)}{1 \cdot 2} a^{n-2}b^2 - \frac{n(n-1)(n-2)}{1 \cdot 2 \cdot 3} a^{n-3}b^3 + \dots + (-b)^n$$

El último término será positivo si  $n$  es par, y negativo si  $n$  es impar.

En el desarrollo de una potencia cualquiera de un binomio los denominadores de los coeficientes pueden escribirse, si se desca, como factoriales. Así,  $1 \cdot 2$  puede escribirse  $2!$ ;  $1 \cdot 2 \cdot 3 = 3!$ , etc.

### Ejemplos

(1) Desarrollar  $(x+y)^4$ .

Aplicando la ley del binomio, tenemos:

$$(x+y)^4 = x^4 + 4x^3y + 6x^2y^2 + 4xy^3 + y^4. \quad R.$$

El coeficiente del primer término es 1; el del segundo término es 4, igual que el exponente de  $x$  en el primer término del desarrollo.

El coeficiente del tercer término 6 se halla multiplicando el coeficiente del término anterior 4 por el exponente que tiene  $x$  en ese término 3, o sea  $4 \times 3 = 12$  y dividiendo este producto por el exponente de  $y$  en dicho 2º término aumentado en 1, o sea por 2 y se tiene  $12 \div 2 = 6$ .

El coeficiente del 4º término se halla multiplicando el coeficiente del término anterior 6 por el exponente de  $x$  en ese término:  $6 \times 2 = 12$  y dividiendo este producto por el exponente de  $y$  en ese término aumentado en 1, o sea por 3 y se tiene  $12 \div 3 = 4$ , y así sucesivamente.

(2) Desarrollar  $(a-2x)^5$

Como el 2º término es negativo los signos alternan:

$$(a-2x)^5 = a^5 - 5a^4(2x) + 10a^3(2x)^2 - 10a^2(2x)^3 + 5a(2x)^4 - (2x)^5$$

$$[\text{efectuando}] = a^5 - 10a^4x + 40a^3x^2 - 80a^2x^3 + 80ax^4 - 32x^5. \quad R.$$

Los coeficientes se obtienen del mismo modo que se explicó en el ejemplo anterior.

### OBSERVACION

En la práctica, basta hallar la mitad o la mitad más 1 de los coeficientes, según que el exponente del binomio sea impar o par, pues los coeficientes se repiten; en cuanto se repite uno se repiten los demás.

(3) Desarrollar  $(2x^2+3y^4)^5$ .

$$(2x^2+3y^4)^5 = (2x^2)^5 + 5(2x^2)^4(3y^4) + 10(2x^2)^3(3y^4)^2 + 10(2x^2)^2(3y^4)^3 + 5(2x^2)(3y^4)^4 + (3y^4)^5$$

$$= 32x^{10} + 240x^8y^4 + 720x^6y^8 + 1080x^4y^{12} + 810x^2y^{16} + 243y^{20}. \quad R.$$

(4) Desarrollar  $(a^2 - \frac{b^3}{2})^6$ .

$$(a^2 - \frac{b^3}{2})^6 = (a^2)^6 - 6(a^2)^5(\frac{b^3}{2}) + 15(a^2)^4(\frac{b^3}{2})^2 - 20(a^2)^3(\frac{b^3}{2})^3$$

$$+ 15(a^2)^2(\frac{b^3}{2})^4 - 6(a^2)(\frac{b^3}{2})^5 + (\frac{b^3}{2})^6$$

$$= a^{12} - 3a^{10}b^3 + \frac{15}{4}a^8b^6 - \frac{5}{2}a^6b^9 + \frac{15}{16}a^4b^{12} - \frac{3}{16}a^2b^{15} + \frac{1}{64}b^{18}. \quad R.$$

### EJERCICIO 210

Desarrollar:

1.  $(x-2)^4$ .

2.  $(a+3)^4$ .

3.  $(2-x)^3$ .

4.  $(2x+5y)^4$ .

5.  $(a-3)^6$ .

6.  $(2a-b)^6$ .

7.  $(x^2+2y)^5$ .

8.  $(x^3+1)^6$ .

9.  $(2a-3b)^4$ .

10.  $(x^4-5y^3)^6$ .

11.  $(2x-\frac{y}{2})^6$ .

12.  $(3-\frac{x^2}{3})^6$ .

13.  $(2m^3-3n^4)^6$ .

14.  $(x^2-3)^7$ .

15.  $(3a-\frac{b^2}{3})^5$ .

16.  $(x^2+2y^2)^7$ .

17.  $(x^3-1)^8$ .

18.  $(x^2-\frac{y}{2})^9$ .

19.  $(2m^3-n^4)^7$ .

20.  $(\frac{1}{2}x^2+\frac{2}{3}y^2)^6$ .

21.  $(\frac{1}{5}-\frac{5a}{2})^6$ .



## 352 TRIANGULO DE PASCAL

Los coeficientes de los términos del desarrollo de cualquier potencia de un binomio los da en seguida el siguiente triángulo llamado Triángulo de Pascal:



El modo de formar este triángulo es el siguiente:

En la primera fila horizontal se pone 1.

En la segunda fila se pone 1 y 1.

Desde la tercera en adelante se empieza por 1 y cada número posterior al 1 se obtiene **sumando** en la fila anterior el 1er. número con el 2o., el 2o. con el 3o., el 3o. con el 4o., el 4o. con el 5o., etc., y se termina por 1.

Los **coeficientes** del desarrollo de cualquier potencia de un binomio son los números que se hallan en la fila horizontal en que después del 1 está el exponente del binomio.

Así, los coeficientes del desarrollo de  $(x+y)^4$  son los números que están en la fila horizontal en que después del 1 está el 4, o sea, 1, 4, 6, 4, 1.

Los coeficientes del desarrollo de  $(m+n)^5$  son los números de la fila horizontal en que después del 1 está el 5, o sea, 1, 5, 10, 10, 5, 1.

Los coeficientes del desarrollo de  $(2x-3y)^7$  son los números de la fila horizontal en que después del 1 está el 7, o sea, 1, 7, 21, 35, 35, 21, 7, 1.

En la práctica, basta formar el triángulo hasta la fila horizontal en que después del 1 viene el exponente del binomio. Los números de esta última fila son los coeficientes que se necesitan.

Este triángulo es atribuido por algunos al matemático Tartaglia.

## Ejemplo

Desarrollar  $(x^2 - 3y^5)^6$  por el triángulo de Pascal.  
Se forma el triángulo hasta la fila horizontal en que después del 1 viene el 6 o sea:



Entonces, tomando los coeficientes de esta última fila, tenemos:

$$\begin{aligned} (x^2 - 3y^5)^6 &= 1x^{12} - 6x^8(3y^5) + 15x^4(3y^5)^2 - 20x^2(3y^5)^3 \\ &\quad + 15(x^2)^2(3y^5)^4 - 6(x^2)(3y^5)^5 + (3y^5)^6 \\ &= x^{12} - 18x^4y^5 + 135x^4y^{10} - 540x^6y^{15} + 1215x^4y^{20} - 1458x^2y^{25} + 729y^{30}. \quad R. \end{aligned}$$

## EJERCICIO 211

Desarrollar, hallando los coeficientes por el triángulo de Pascal:

- $(a+2b)^6$
- $(2m^2-3n^3)^5$
- $(x^2+y^3)^8$
- $(3-y^7)^7$
- $(2x^3-3y^4)^6$
- $\left(\frac{1}{2}x^2+y^3\right)^5$
- $\left(\frac{a-3}{3-b}\right)^6$
- $(1-x^4)^8$
- $\left(\frac{2}{3x}-\frac{3}{2y}\right)^7$
- $\left(\frac{2}{m}-\frac{m^2}{2}\right)^7$
- $(x^5+mn)^8$
- $\left(3-\frac{b^2}{3}\right)^9$
- $\left(1-\frac{1}{x}\right)^{10}$
- $(2m^2-5n^3)^6$
- $\left(4-\frac{x^3}{4}\right)^7$

## 353 TERMINO GENERAL

La fórmula del término general que vamos a establecer nos permite hallar directamente un término cualquiera del desarrollo de un binomio, sin hallar los términos anteriores.

Considerando los términos del desarrollo

$$(a+b)^n = a^n + na^{n-1}b + \frac{n(n-1)}{1 \cdot 2}a^{n-2}b^2 + \frac{n(n-1)(n-2)}{1 \cdot 2 \cdot 3}a^{n-3}b^3 + \dots$$

observamos que se cumplen las leyes siguientes:

- 1) El numerador del coeficiente de un término cualquiera es un producto que empieza por el exponente del binomio; cada factor posterior a éste es 1 menos que el anterior y hay tantos factores como términos preceden al término de que se trate.
- 2) El denominador del coeficiente de un término cualquiera es una factorial de igual número de factores que el numerador.
- 3) El exponente de  $a$  en un término cualquiera es el exponente del binomio disminuido en el número de términos que preceden a dicho término.
- 4) El exponente de  $b$  en un término cualquiera es igual al número de términos que lo preceden.

De acuerdo con las leyes anteriores, vamos a hallar el término que ocupa el lugar  $r$  en el desarrollo de  $(a+b)^n$ .

Al término  $r$  lo preceden  $r-1$  términos. Tendremos:

- 1) El numerador del coeficiente del término  $r$  es  $n(n-1)(n-2) \dots$  hasta que haya  $r-1$  factores.



2) El denominador es una factorial  $1 \cdot 2 \cdot 3 \dots$  que tiene  $r-1$  factores.

3) El exponente de  $a$  es el exponente del binomio  $n$  menos  $r-1$ , o sea,  $n-(r-1)$ .

4) El exponente de  $b$  es  $r-1$ .

Por tanto, tendremos:

$$t_r = \frac{n(n-1)(n-2)\dots \text{ hasta } r-1 \text{ factores}}{1 \times 2 \times 3 \times \dots \times (r-1)} a^{n-(r-1)} b^{r-1}$$

que es la fórmula del término general.

## Ejemplos

(1) Hallar el 5º término del desarrollo de  $(3a+b)^7$ .

Aquí  $r=5$ . Al 5º término lo preceden 4 términos;  $r-1=4$ . Tendremos:

$$t_5 = \frac{7 \times 6 \times 5 \times 4}{1 \times 2 \times 3 \times 4} (3a)^{7-4} b^4 = \frac{7 \times 5}{1} (3a)^3 b^4$$

$$= 35 (27a^3) b^4 = 945a^3 b^4. \quad R.$$

(2) Hallar el 6º término del desarrollo de  $(x^2-2y)^{10}$ .

Al 6º término le preceden 5 términos. Tendremos:

$$t_6 = \frac{10 \times 9 \times 8 \times 7 \times 6}{1 \times 2 \times 3 \times 4 \times 5} (x^2)^{10-5} (-2y)^5$$

$$= 252 (x^2)^5 (-32y^5) = -8064x^{10}y^5. \quad R.$$

Cuando el segundo término del binomio es negativo, como en este caso  $-2y$ , el signo del término que se busca será  $+$  si en el planteo este segundo término tiene exponente par y será  $-$  si tiene exponente impar, como sucede en el caso anterior.

## EJERCICIO 212

Hallar el

- 3er. término de  $(x-y)^6$ .
- 4º término de  $(a-4b)^7$ .
- 5º término de  $(1+x)^{11}$ .
- 4º término de  $(3x-2y)^8$ .
- 5º término de  $(a^2-2b)^9$ .
- 6º término de  $(2a-\frac{b}{2})^8$ .
- 7º término de  $(x^2-2y)^{10}$ .
- 8º término de  $(x-y^2)^{11}$ .
- 10º término de  $(a^2+b)^{15}$ .
- 9º término de  $(1-x^2)^{12}$ .
- El penúltimo término de  $(2a-b^2)^6$ .
- El término del medio de  $(3x^2-y^2)^6$ .



PIERRE-SIMON LAPLACE (1749-1827) Matemático y astrónomo francés. Pertenecía a la nobleza francesa con el título de marqués. Fue profesor de la Escuela Militar de París. Organizó la Escuela Politécnica y la Escuela Normal Superior. Es célebre como astrónomo

por su famosa teoría sobre el origen del sistema solar, expuesta magistralmente en su obra "Exposición del Sistema del Mundo", que es una condensación de su "Mecánica Celeste". En el orden matemático, dio una demostración completa del Teorema de D'Alembert.

## CAPITULO XXIX

### RADICACION

**354** **RAIZ** de una expresión algebraica es toda expresión algebraica que elevada a una potencia reproduce la expresión dada.

Así  $2a$  es raíz cuadrada de  $4a^2$  porque  $(2a)^2 = 4a^2$  y  $-2a$  también es raíz cuadrada de  $4a^2$  porque  $(-2a)^2 = 4a^2$ .

$3x$  es raíz cúbica de  $27x^3$  porque  $(3x)^3 = 27x^3$ .

El signo de raíz es  $\sqrt{\quad}$ , llamado **signo radical**. Debajo de este signo se coloca la cantidad a la cual se extrae la raíz llamada por eso **cantidad subradical**.

El signo  $\sqrt{\quad}$  lleva un índice que indica la potencia a que hay que elevar la raíz para que reproduzca la cantidad subradical. Por convención el índice 2 se suprime y cuando el signo  $\sqrt{\quad}$  no lleva índice se entiende que el índice es 2.

Así,  $\sqrt{a^4}$  significa una cantidad que elevada al cuadrado reproduce la cantidad subradical  $a^4$ ; esta raíz es  $a^2$  y  $-a^2$  porque  $(a^2)^2 = a^4$  y  $(-a^2)^2 = a^4$ .  $\sqrt[3]{8x^3}$  significa una cantidad que elevada al cubo reproduce la cantidad subradical  $8x^3$ ; esta raíz es  $2x$  porque  $(2x)^3 = 8x^3$ .

$\sqrt[5]{-32a^5}$  significa una cantidad que elevada a la quinta potencia reproduce la cantidad subradical  $-32a^5$ ; esta raíz es  $-2a$  porque  $(-2a)^5 = -32a^5$ .



**355 EXPRESION RADICAL O RADICAL** es toda raíz indicada de un número o de una expresión algebraica. Así,  $\sqrt{4}$ ,  $\sqrt[3]{9a^3}$ ,  $\sqrt[4]{16a^4}$  son expresiones radicales.

Si la raíz indicada es exacta, la expresión es racional; si no es exacta, es irracional.

Las expresiones irracionales como  $\sqrt{2}$ ,  $\sqrt[3]{3a^3}$  son las que comúnmente se llaman **radicales**.

El **grado** de un radical lo indica su índice. Así,  $\sqrt{2a}$  es un radical de segundo grado;  $\sqrt[3]{5a^3}$  es un radical de tercer grado;  $\sqrt[4]{3x}$  es un radical de cuarto grado.

### 356 SIGNOS DE LAS RAICES

1) Las raíces impares de una cantidad tienen el mismo signo que la cantidad subradical.

$$\begin{aligned}\text{Así, } \sqrt[3]{27a^3} &= 3a \text{ porque } (3a)^3 = 27a^3, \\ \sqrt[3]{-27a^3} &= -3a \text{ porque } (-3a)^3 = -27a^3, \\ \sqrt[5]{x^{10}} &= x^2 \text{ porque } x^2 \cdot 5 = x^{10}, \\ \sqrt[5]{-x^{10}} &= -x^2 \text{ porque } (-x^2)^5 = -x^{10}.\end{aligned}$$

2) Las raíces pares de una cantidad positiva tienen doble signo:

$$\begin{aligned}\text{Así, } \sqrt{25x^2} &= 5x \text{ o } -5x \text{ porque } (5x)^2 = 25x^2 \text{ y } (-5x)^2 = 25x^2, \\ \text{Esto se indica de este modo: } \sqrt{25x^2} &= \pm 5x. \\ \text{Del propio modo, } \sqrt[4]{16a^4} &= 2a \text{ y } -2a \text{ porque } (2a)^4 = 16a^4 \text{ y } (-2a)^4 = 16a^4, \\ \text{Esto se indica: } \sqrt[4]{16a^4} &= \pm 2a.\end{aligned}$$

### 357 CANTIDAD IMAGINARIA

Las raíces pares de una cantidad negativa no se pueden extraer, porque toda cantidad, ya sea positiva o negativa, elevada a una potencia par, da un resultado positivo. Estas raíces se llaman **cantidades imaginarias**.

Así,  $\sqrt{-4}$  no se puede extraer. La raíz cuadrada de  $-4$  no es 2 porque  $2^2 = 4$  y no  $-4$ , y tampoco es  $-2$  porque  $(-2)^2 = 4$  y no  $-4$ .  $\sqrt{-4}$  es una cantidad imaginaria.

Del propio modo,  $\sqrt{-9}$ ,  $\sqrt{-a^2}$ ,  $\sqrt[4]{-16x^4}$  son cantidades imaginarias.

**358 CANTIDAD REAL** es una expresión que no contiene ninguna cantidad imaginaria. Así,  $2a$ ,  $8$ ,  $\sqrt{5}$  son cantidades reales.

### 359 VALOR ALGEBRAICO Y ARITMETICO DE UN RADICAL

En general, una cantidad tiene tantas raíces de un grado dado como unidades tiene el grado de la raíz. Así, toda cantidad tiene dos raíces cua-

dradas, tres raíces cúbicas, cuatro raíces cuartas, etc., pero generalmente una o más raíces de éstas son imaginarias. Más adelante hallaremos las tres raíces cúbicas de la unidad, dos de las cuales son imaginarias.

El valor real y positivo de un radical, si existe, o el valor real negativo si no existe el positivo, es lo que se llama **valor aritmético** del radical. Así,

$$\begin{aligned}\sqrt{9} &= \pm 3; \text{ el valor aritmético de } \sqrt{9} \text{ es } +3 \\ \sqrt[4]{16} &= \pm 2; \text{ el valor aritmético de } \sqrt[4]{16} \text{ es } +2\end{aligned}$$

Al tratar de radicales, siempre nos referimos a su valor aritmético.

### 360 RAIZ DE UNA POTENCIA

Para extraer una raíz a una potencia se divide el exponente de la potencia por el índice de la raíz.

$$\text{Decimos que } \sqrt[n]{a^m} = a^{\frac{m}{n}}.$$

$$\text{En efecto: } \left(a^{\frac{m}{n}}\right)^n = a^{\frac{m}{n} \cdot n} = a^m, \text{ cantidad subradical.}$$

Aplicando esta regla, tenemos:

$$\sqrt{a^4} = a^{\frac{4}{2}} = a^2, \quad \sqrt[n]{x^6} = x^{\frac{6}{n}} = x^{\frac{6}{n}}.$$

Si el exponente de la potencia no es divisible por el índice de la raíz, se deja indicada la división, originándose de este modo el **exponente fraccionario**.

$$\text{Así, } \sqrt{a} = a^{\frac{1}{2}}, \quad \sqrt[n]{x^2} = x^{\frac{2}{n}}.$$

En el capítulo siguiente se trata ampliamente del exponente fraccionario.

### 361 RAIZ DE UN PRODUCTO DE VARIOS FACTORES

Para extraer una raíz a un producto de varios factores se extrae dicha raíz a cada uno de los factores.

$$\text{Así, } \sqrt[3]{abc} = \sqrt[3]{a} \cdot \sqrt[3]{b} \cdot \sqrt[3]{c}, \text{ porque}$$

$$(\sqrt[3]{a} \cdot \sqrt[3]{b} \cdot \sqrt[3]{c})^3 = (\sqrt[3]{a})^3 \cdot (\sqrt[3]{b})^3 \cdot (\sqrt[3]{c})^3 = abc, \text{ cantidad subradical.}$$

### I. RAIZ DE UN MONOMIO

**362** De acuerdo con lo anterior, para extraer una raíz a un monomio se sigue la siguiente:

#### REGLA

Se extrae la raíz del coeficiente y se divide el exponente de cada letra por el índice de la raíz.



Si el índice del radical es impar, la raíz tiene el mismo signo que la cantidad subradical, y si el índice es par y la cantidad subradical positiva, la raíz tiene el doble signo  $\pm$ .

### Ejemplos

(1) Hallar la raíz cuadrada de  $9a^2b^4$ .

$$\sqrt{9a^2b^4} = \pm 3ab^2. \text{ R.}$$

(2) Hallar la raíz cúbica de  $-8a^3x^6y^9$ .

$$\sqrt[3]{-8a^3x^6y^9} = -2ax^2y^3. \text{ R.}$$

(3) Hallar la raíz cuarta de  $16a^4m^8x^{16}$ .

$$\sqrt[4]{16a^4m^8x^{16}} = \pm 2am^2x^4. \text{ R.}$$

(4) Hallar la raíz quinta de  $-243m^{15}n^{20}x$ .

$$\sqrt[5]{-243m^{15}n^{20}x} = -3m^3n^4x^{1/5}. \text{ R.}$$

(5) Hallar la raíz cuadrada de  $\frac{4a^2}{9b^4}$ .

Cuando el monomio es una fracción, como en este caso, se extrae la raíz al numerador y denominador.

$$\sqrt{\frac{4a^2}{9b^4}} = \frac{\sqrt{4a^2}}{\sqrt{9b^4}} = \frac{2a}{3b^2}. \text{ R.}$$

(6) Hallar la raíz cúbica de  $-\frac{8x^6}{27a^3m^{12}}$ .

$$\sqrt[3]{-\frac{8x^6}{27a^3m^{12}}} = -\frac{2x^2}{3am^4}. \text{ R.}$$

### EJERCICIO 213

Hallar las siguientes raíces:

- |                                   |   |  |
|-----------------------------------|---|--|
| 1. $\sqrt{4a^2b^4}$               | 13. $\sqrt[3]{64a^{12}b^{18}c^{30}}$        | 20. $\sqrt[7]{\frac{128}{x^{14}}}$         |
| 2. $\sqrt{25x^4y^8}$              | 14. $\sqrt{49a^{20}b^{40}}$                 | 21. $\sqrt{\frac{x^{2m}}{121y^{40}}}$      |
| 3. $\sqrt[3]{27a^3b^9}$           | 15. $\sqrt[3]{-x^{15}y^{30}z}$              | 22. $\sqrt[3]{-\frac{125x^9}{216m^{12}}}$  |
| 4. $\sqrt[3]{-8a^3b^6x^{12}}$     | 16. $\sqrt{\frac{9a^2}{25x^4}}$             | 23. $\sqrt[9]{\frac{a^{18}}{b^9c^{27}}}$   |
| 5. $\sqrt{64x^8y^{16}}$           | 17. $\sqrt[5]{-\frac{27a^5}{64x^5}}$        | 24. $\sqrt[10]{\frac{x^{20}}{1024y^{40}}}$ |
| 6. $\sqrt[3]{16a^3b^{18}}$        | 18. $\sqrt[5]{-\frac{a^5b^{10}}{32x^{10}}}$ |  |
| 7. $\sqrt[3]{x^{15}y^{30}z^{25}}$ | 19. $\sqrt[4]{\frac{a^8}{81b^4c^{12}}}$     |  |
| 8. $\sqrt[3]{-64a^3x^6y^{18}}$    |   |  |
| 9. $\sqrt[3]{-243m^3n^{15}}$      |   |  |
| 10. $\sqrt{81x^6y^8z^{16}}$       |   |  |
| 11. $\sqrt[3]{1000x^3y^{18}}$     |   |  |
| 12. $\sqrt[3]{81a^{12}b^{24}}$    |   |  |

## II. RAÍZ CUADRADA DE POLINOMIOS

### 363 RAÍZ CUADRADA DE POLINOMIOS ENTEROS

Para extraer la raíz cuadrada de un polinomio se aplica la siguiente regla práctica:

- 1) Se ordena el polinomio dado.
- 2) Se halla la raíz cuadrada de su primer término, que será el primer término de la raíz cuadrada del polinomio; se eleva al cuadrado esta raíz y se resta del polinomio dado.
- 3) Se bajan los dos términos siguientes del polinomio dado y se divide el primero de éstos por el duplo del primer término de la raíz. El cociente es el segundo término de la raíz. Este 2o. término de la raíz con su propio signo se escribe al lado del duplo del primer término de la raíz y se forma un binomio; este binomio se multiplica por dicho 2o. término y el producto se resta de los dos términos que habíamos bajado.
- 4) Se bajan los términos necesarios para tener 3 términos. Se duplica la parte de raíz ya hallada y se divide el primer término del residuo entre el primero de este duplo. El cociente es el 3er. término de la raíz. Este 3er. término, con su propio signo, se escribe al lado del duplo de la parte de raíz hallada y se forma un trinomio; este trinomio se multiplica por dicho 3er. término de la raíz y el producto se resta del residuo.
- 5) Se continúa el procedimiento anterior, dividiendo siempre el primer término del residuo entre el primer término del duplo de la parte de raíz hallada, hasta obtener residuo cero.

### Ejemplos

(1) Hallar la raíz cuadrada de  $a^4 + 29a^2 - 10a^3 - 20a + 4$ . Ordenando el polinomio se obtiene:

$\sqrt{a^4 - 10a^3 + 29a^2 - 20a + 4}$	$a^2 - 5a + 2$
$- a^4$	$(2a^2 - 5a)(-5a) = -10a^3 + 25a^2$
$- 10a^3 + 29a^2$	$(2a^2 - 10a + 2)2 = 4a^2 - 20a + 4$
$10a^3 - 25a^2$	
$4a^2 - 20a + 4$	
$- 4a^2 + 20a - 4$	
$0$	

#### EXPLICACION

Hallamos la raíz cuadrada de  $a^4$  que es  $a^2$ ; este es el primer término de la raíz del polinomio.  $a^2$  se eleva al cuadrado y da  $a^4$ ; este cuadrado se resta del primer término del polinomio y bajamos los dos términos siguientes  $-10a^3 + 29a^2$ . Hallamos el duplo de  $a^2$  que es  $2a^2$ .



Dividimos  $-10a^3 \div 2a^2 = -5a$ , este es el segundo término de la raíz. Escribimos  $-5a$  al lado de  $2a^2$  y formamos el binomio  $2a^2 - 5a$ ; este binomio lo multiplicamos por  $-5a$  y nos da  $-10a^3 + 25a^2$ . Este producto lo restamos (cambiándole los signos) de  $-10a^3 + 29a^2$ ; la diferencia es  $4a^2$ . Bajamos los dos términos siguientes y tenemos  $4a^2 - 20a + 4$ . Se duplica la parte de raíz hallada  $2(a^2 - 5a) = 2a^2 - 10a$ . Dividimos  $4a^2 \div 2a^2 = 2$ , este es el tercer término de la raíz.

Este 2 se escribe al lado de  $2a^2 - 10a$  y formamos el trinomio  $2a^2 - 10a + 2$ , que se multiplica por 2 y nos da  $4a^2 - 20a + 4$ . Este producto se resta (cambiándole los signos) del residuo  $4a^2 - 20a + 4$  y nos da 0.

## PRUEBA

Se eleva al cuadrado la raíz cuadrada  $a^2 - 5a + 2$  y si la operación está correcta debe dar la cantidad subradical.

(2) Hallar la raíz cuadrada de

$$9x^6 + 25x^4 + 4 - 6x^5 - 20x^3 + 20x^2 - 16x.$$

Ordenando el polinomio y aplicando la regla dada, se tiene:

$$\begin{array}{r} \sqrt{9x^6 - 6x^5 + 25x^4 - 20x^3 + 20x^2 - 16x + 4} \quad 3x^3 - x^2 + 4x - 2 \\ -9x^6 \\ \hline -6x^5 + 25x^4 \\ -6x^5 + x^4 \\ \hline 24x^4 - 20x^3 - 20x^2 \\ -24x^4 - 8x^3 - 16x^2 \\ \hline -12x^3 + 4x^2 - 16x + 4 \\ 12x^3 - 4x^2 - 16x - 4 \\ \hline 0 \end{array}$$

## EJERCICIO 214

Hallar la raíz cuadrada de

1.  $x^2 - 24xy^2 + 9y^4$ .
2.  $x^4 - 70a^3x + 49a^2x^2$ .
3.  $x^2 - 4x^2 - 4x + 1$ .
4.  $x^2 + 4a^2 + 4a^4 + 1 + 2a$ .
5.  $x^2 - 20n + 4 - 10n^3 + n^4$ .
6.  $-10x^5 + 25x^4 + 12x^3 - 60x^2 + 36$ .
7.  $x^6 + 49a^4 - 30a^2 - 24a^6 + 25$ .
8.  $x^2 + 4y^2 + z^2 + 4xy - 2xz - 4yz$ .
9.  $6x^5 + 2x^5 - 5x^6 + x^{12}$ .
10.  $x^5 - 70x^6 + 49x^4 + 30x^5 + 9x^2 - 42x^3$ .
11.  $4a^4 + 8a^3b - 8a^2b^2 - 12ab^3 + 9b^4$ .
12.  $x^6 - 2x^5 + 3x^4 + 1 + 2x - x^2$ .
13.  $5x^4 - 6x^5 + x^6 + 16x^3 - 8x^2 - 8x + 4$ .
14.  $x^5 + 6x^6 - 8x^5 + 19x^4 - 24x^3 + 46x^2 - 40x + 25$ .
15.  $16x^6 - 8x^7 + x^8 - 22x^4 + 4x^5 + 24x^3 + 4x^2 - 12x + 9$ .
16.  $9 - 36a + 42a^2 + 13a^4 - 2a^5 - 18a^3 + a^6$ .
17.  $9x^6 - 24x^5 + 28x^4 - 22x^3 + 12x^2 - 4x + 1$ .
18.  $16x^6 - 40x^5 + 73x^4 - 84x^3 + 66x^2 - 36x + 9$ .
19.  $m^6 - 4m^5n + 4m^4n^2 + 4m^3n^3 - 8m^2n^4 + 4n^5$ .
20.  $9x^6 - 6x^5y + 13x^4y^2 - 16x^3y^3 + 8x^2y^4 - 8xy^5 + 4y^6$ .
21.  $16a^6 + 25a^4b^2 - 24a^3b - 20a^2b^3 + 10a^2b^4 - 4ab^5 + b^6$ .
22.  $36x^6 - 36x^5y^2 + 48x^4y^3 - 15x^3y^4 - 24x^2y^5 + 28x^2y^6 - 16xy^7 + 4y^8$ .
23.  $26a^4x^2 - 40a^3x + 25a^6 - 28a^3x^3 + 17a^2x^4 - 4ax^5 + 4x^6$ .
24.  $4a^6 - 12a^7 - 16a^5 + 14a^4 + 17a^6 - 10a^3 + 5a^2 - 2a + 1$ .
25.  $x^{10} - 2x^9 + 3x^8 - 4x^7 + 5x^6 - 8x^5 + 7x^4 - 6x^3 + 5x^2 - 4x + 4$ .

## 364 RAIZ CUADRADA DE POLINOMIOS CON TERMINOS FRACCIONARIOS

## Ejemplos

(1) Hallar la raíz cuadrada de  $\frac{a^4}{16} + \frac{9a^2b^2}{10} - \frac{a^3b}{2} + \frac{2ab^3}{5} + \frac{b^4}{25}$ .

Ordenando en orden descendente con relación a la  $a$ , y aplicando la misma regla del caso anterior, tenemos:

$$\begin{array}{r} \sqrt{\frac{a^4}{16} - \frac{a^3b}{2} + \frac{9a^2b^2}{10} + \frac{2ab^3}{5} + \frac{b^4}{25}} \quad \frac{a^2}{4} - ab - \frac{b^2}{5} \\ -\frac{a^4}{16} \\ \hline -\frac{a^3b}{2} + \frac{9a^2b^2}{10} \\ -\frac{a^3b}{2} + \frac{a^2b^2}{5} \\ \hline \frac{a^2b^2}{10} + \frac{2ab^3}{5} + \frac{b^4}{25} \\ -\frac{a^2b^2}{10} + \frac{2ab^3}{5} + \frac{b^4}{25} \\ \hline 0 \end{array}$$

Debe tenerse cuidado de simplificar cada vez que se pueda. Así, el duplo de  $\frac{a^2}{4}$  es  $\frac{2a^2}{4} = \frac{a^2}{2}$ .

La división de  $-\frac{a^3b}{2}$  entre  $\frac{a^2}{2}$  se verifica  $-\frac{a^3b}{2} \times \frac{2}{a^2} = -ab$ , simplificando.

La operación  $\frac{9a^2b^2}{10} - a^2b^2$  se verifica convirtiendo  $-a^2b^2$  en fracción equivalente de denominador 10 y se tiene:  $\frac{9a^2b^2}{10} - \frac{10a^2b^2}{10} = -\frac{a^2b^2}{10}$ .

La división de  $-\frac{a^2b^2}{10}$  entre  $\frac{a^2}{2}$  se verifica  $-\frac{a^2b^2}{10} \times \frac{2}{a^2} = -\frac{b^2}{5}$ , simplificando.

(2) Hallar la raíz cuadrada de  $\frac{4a^2}{x^2} + \frac{31}{3} - \frac{2x}{a} - \frac{12a}{x} + \frac{x^2}{9a^2}$ .

Vamos a ordenar en orden descendente con relación a la  $a$ . Como hay dos términos que tienen  $a$  en el numerador, un término independiente y dos términos



que tienen  $a$  en el denominador, la manera de ordenar este polinomio en orden descendente con relación a la  $a$  es la siguiente:

$$\frac{4a^2}{x^2} - \frac{12a}{x} + \frac{31}{3} - \frac{2x}{a} + \frac{x^2}{9a^2}$$

porque, como se verá en el capítulo siguiente,  $\frac{31}{3}$  equivale a  $\frac{31}{3}a^0$ ;  $\frac{2x}{a}$  equivale a  $2a^{-1}x$  y  $\frac{x^2}{9a^2}$  equivale a  $\frac{a^{-2}x^2}{9}$ , luego se guarda el orden descendente de las potencias de  $a$ . Tendremos:

$$\begin{array}{r} \sqrt{\frac{4a^2}{x^2} - \frac{12a}{x} + \frac{31}{3} - \frac{2x}{a} + \frac{x^2}{9a^2}} \\ \underline{-\frac{4a^2}{x^2}} \\ -\frac{12a}{x} + \frac{31}{3} \\ \underline{-\frac{12a}{x} + 9} \\ \frac{4}{3} - \frac{2x}{a} + \frac{x^2}{9a^2} \\ \underline{-\frac{4}{3} + \frac{2x}{a} - \frac{x^2}{9a^2}} \end{array}$$

$$\begin{array}{l} \frac{2a}{x} - 3 + \frac{x}{3a} \\ \left(\frac{4a}{x} - 3\right)(-3) = -\frac{12a}{x} + 9 \\ \left(\frac{4a}{x} - 6 + \frac{x}{3a}\right)\frac{x}{3a} = \frac{4}{3} - \frac{2x}{a} + \frac{x^2}{9a^2} \end{array}$$

#### NOTA

La raíz cuadrada de un polinomio fraccionario puede extraerse pasando las letras que están en los denominadores a los numeradores cambiándole el signo a sus exponentes. En el capítulo siguiente, después de estudiar los exponentes negativos, se extraen raíces cuadradas por este procedimiento.

#### EJERCICIO 215

Hallar la raíz cuadrada de:

1.  $\frac{x^4}{4} - x^3 + \frac{5x^2}{3} - \frac{4x}{3} + \frac{4}{9}$

2.  $\frac{a^2}{x^2} - \frac{2x}{3a} + 2\frac{1}{9} - \frac{2a}{3x} + \frac{x^2}{a^2}$

3.  $\frac{a^2}{4} - ab + b^2 + \frac{ac}{4} - \frac{bc}{2} + \frac{c^2}{16}$

4.  $\frac{9a^4}{16} - \frac{3a^2}{4} + \frac{29a^2}{20} - \frac{4a}{5} + \frac{16}{25}$

5.  $\frac{a^4}{16} + \frac{a^3b}{2} - ab^3 + \frac{3a^2b^2}{4} + \frac{b^4}{4}$

6.  $\frac{x^2}{25} + \frac{2x}{3} - 2xy + \frac{25}{9} - \frac{50y}{3} + 25y^2$

7.  $\frac{x^4}{9} - \frac{4x^3y}{3} + \frac{62x^2y^2}{15} - \frac{4xy^3}{5} + \frac{y^4}{25}$

8.  $\frac{a^4}{16} - \frac{3a^2}{10} + \frac{9}{25} + \frac{a^2b^2}{18} - \frac{2b^2}{15} + \frac{b^4}{81}$

9.  $x^2 + 4x + 2 - \frac{4}{x} + \frac{1}{x^2}$

10.  $\frac{x^2}{9} + \frac{79}{3} - \frac{20}{x} - \frac{10x}{3} + \frac{4}{x^2}$

11.  $\frac{a^4}{4} - \frac{30}{a^2} - 5a^2 + 28 + \frac{9}{a^4}$

12.  $\frac{a^4}{9} + \frac{2a^3}{3x} + \frac{a^2}{x^2} - \frac{2ax}{3} - 2 + \frac{x^2}{a^2}$

13.  $\frac{9a^2}{x^2} - \frac{x}{3a} + \frac{65}{16} - \frac{3a}{2x} + \frac{4x^2}{9a^2}$

14.  $9x^4 + 30x^2 + 55 + \frac{50}{x^2} + \frac{25}{x^4}$

15.  $\frac{4a^2}{25x^2} + 1\frac{7}{12} - \frac{5x}{3a} - \frac{2a}{5x} + \frac{25x^2}{9a^2}$

16.  $\frac{x^4}{16} + \frac{3x^2y^2}{20} - \frac{x^2y}{4} + \frac{xy^3}{5} + \frac{y^4}{25}$

17.  $\frac{4a^2b^2}{49x^2y^2} - \frac{2ab}{7xy} + \frac{21}{20} - \frac{7xy}{5ab} + \frac{49x^2y^2}{25a^2b^2}$

18.  $\frac{9a^2x^2}{25m^2n^2} - \frac{4mn}{45ax} - \frac{6ax}{25mn} + \frac{23}{75} + \frac{4m^2n^2}{81a^2x^2}$

19.  $\frac{1}{4}x^6 + \frac{5}{3}x^4 + \frac{2}{3}x^2 - x^5 - \frac{32}{9}x^2 + \frac{8}{3}x + 4$

20.  $\frac{1}{4} - \frac{3}{4}a + \frac{59}{48}a^2 - \frac{3}{2}a^3 - \frac{2}{3}a^5 + \frac{43}{36}a^4 + \frac{1}{4}a^6$

### III. RAÍZ CÚBICA DE POLINOMIOS

#### 365 RAÍZ CÚBICA DE POLINOMIOS ENTEROS

Para extraer la raíz cúbica de un polinomio se aplica la siguiente regla práctica:

- 1) Se ordena el polinomio.
- 2) Se extrae la raíz cúbica de su primer término, que será el primer término de la raíz; este término se eleva al cubo y se resta del polinomio.
- 3) Se bajan los tres términos siguientes del polinomio y se divide el primero de ellos por el triplo del cuadrado del término ya hallado de la raíz; el cociente de esta división es el segundo término de la raíz.
- 4) Se forman tres productos: 1o. Triplo del cuadrado del primer término de la raíz por el segundo término. 2o. Triplo del primer término por el cuadrado del segundo. 3o. Cubo del segundo término de la raíz. Estos productos se restan (cambiándoles los signos) de los tres términos del polinomio que se habían bajado.

5) Se bajan los términos que faltan del polinomio y se divide el primer término del residuo por el triplo del cuadrado de la parte ya hallada de la raíz. El cociente es el tercer término de la raíz.

Se forman tres productos: 1o. Triplo del cuadrado del binomio que forman el 1o. y 2o. término de la raíz por el 3er. término. 2o. Triplo de dicho binomio por el cuadrado del tercer término. 3o. Cubo del tercer término de la raíz. Estos productos se restan (reduciendo antes términos semejantes si los hay) del residuo del polinomio. Si la diferencia es cero, la operación ha terminado. Si aún quedan términos en el residuo, se continúa el procedimiento anterior.



## Ejemplos

(1) Hallar la raíz cúbica de  $x^6 - 9x^3 + 33x^4 - 63x^5 + 66x^2 - 36x + 8$ .

El polinomio está ordenado. Aplicando la regla anterior, tenemos:

$$\begin{array}{r}
 \sqrt[3]{x^6 - 9x^3 + 33x^4 - 63x^5 + 66x^2 - 36x + 8} \\
 \underline{-x^6} \\
 -9x^3 + 33x^4 - 63x^5 \\
 \underline{9x^3 - 27x^4 + 27x^5} \\
 6x^4 - 36x^5 + 66x^2 - 36x + 8 \\
 \underline{-6x^4 + 36x^5 - 66x^2 + 36x - 8} \\
 0
 \end{array}$$

$$\begin{array}{l}
 x^2 - 3x + 2 \\
 3(x^2)^3 = 3x^6 \\
 3(x^2)^2(-3x) = -9x^5 \\
 3(x^2)(-3x)^2 = 27x^4 \\
 (-3x)^3 = -27x^3 \\
 3(x^2 - 3x)^2 = 3(x^4 - 6x^3 + 9x^2) \\
 = 3x^4 - 18x^3 + 27x^2 \\
 3(x^2 - 3x)^2 \cdot 2 = 6x^4 - 36x^3 + 54x^2 \\
 3(x^2 - 3x) \cdot 2^2 = 12x^2 - 36x \\
 2^3 = 8
 \end{array}$$

## EXPLICACION

Se halla la raíz cúbica de  $x^6$  que es  $x^2$ ; este es el primer término de la raíz.  $x^2$  se eleva al cubo y se resta de  $x^6$ . Bajamos los tres términos siguientes del polinomio; se halla el tripo del cuadrado de  $x^2$  que es  $3x^4$  y se divide  $-9x^3 \div 3x^4 = -3x$ . Este es el segundo término de la raíz.

Se forman tres productos: 1) Tripo del cuadrado de  $x^2$  por  $-3x$  que da  $-9x^5$ . 2) Tripo de  $x^2$  por  $(-3x)^2$  que da  $27x^4$ . 3) Cubo de  $-3x$  que da  $-27x^3$ .

Estos productos se restan (cambiándoles los signos) de  $-9x^3 + 33x^4 - 63x^5$ ; nos queda  $6x^4 - 36x^5$  y bajamos los términos que faltan del polinomio.

Se halla el tripo del cuadrado de la parte ya hallada de la raíz que es el binomio  $x^2 - 3x$  y según se detalla arriba el tripo del cuadrado de este binomio nos da el trinomio  $3x^4 - 18x^3 + 27x^2$ .

Dividimos el primer término del residuo  $6x^4$  entre el primer término de este trinomio y tenemos  $6x^4 \div 3x^4 = 2$ . Este es el tercer término de la raíz.

Se forman tres productos: 1) Tripo del cuadrado del binomio  $x^2 - 3x$  por 2 que nos da  $6x^4 - 36x^3 + 54x^2$ . 2) Tripo del binomio  $x^2 - 3x$  por  $2^2$  que nos da  $12x^2 - 36x$ . 3) Cubo de 2 que nos da 8. Estos productos se restan, cambiándoles los signos, del residuo del polinomio y nos da cero.

Obsérvese que en los productos teníamos  $54x^2$  semejante con  $12x^2$ , se reducen y da  $66x^2$ ; cambiándole el signo para restar da  $-66x^2$  que aparece debajo de  $+66x^2$ .

(2) Hallar la raíz cúbica de

$$8a^6 + 12a^5b + 45a^4b^2 - 35a^3b^3 - 30a^2b^4 + 27ab^5 - 27b^6.$$

Ordenándolo en orden descendente con relación a la  $a$  y aplicando la regla anterior, tenemos:

$$\begin{array}{r}
 \sqrt[3]{8a^6 + 12a^5b - 30a^4b^2 - 35a^3b^3 + 45a^2b^4 + 27ab^5 - 27b^6} \\
 \underline{-8a^6} \\
 12a^5b - 30a^4b^2 - 35a^3b^3 \\
 \underline{-12a^5b + 60a^4b^2 - 36a^3b^3} \\
 -36a^4b^2 + 36a^3b^3 - 45a^2b^4 - 27ab^5 + 27b^6 \\
 \underline{36a^4b^2 - 36a^3b^3 + 45a^2b^4 + 27ab^5 - 27b^6} \\
 0
 \end{array}$$

$$\begin{array}{l}
 2a^2 + ab - 3b^2 \\
 3(2a^2)^3 = 12a^6 \\
 3(2a^2)^2(ab) = 12a^5b \\
 3(2a^2)(ab)^2 = 6a^4b^2 \\
 (ab)^3 = a^3b^3 \\
 3(2a^2 + ab)^2(-3b^2) \\
 = 3(4a^4 - 4a^3b + a^2b^2) \\
 = 12a^4 - 12a^3b + 3a^2b^2 \\
 3(2a^2 + ab)^2(-3b^2) \\
 = 36a^4b^2 - 36a^3b^3 + 9a^2b^4 \\
 3(2a^2 + ab)(-3b^2)^2 \\
 = 54a^2b^4 + 27ab^5 \\
 (-3b^2)^3 = -27b^6
 \end{array}$$

El segundo término de la raíz  $ab$  se obtiene dividiendo  $12a^5b \div 12a^4 = ab$ . El tercer término de la raíz  $-3b^2$  se obtiene dividiendo  $-36a^4b^2 \div 12a^4 = -3b^2$ . Los productos se forman como se explicó en el ejemplo anterior. Obsérvese que en los últimos productos tenemos  $-9a^2b^4$  semejante con  $54a^2b^4$ , se reducen y dan  $45a^2b^4$ ; cambiándole el signo resulta  $-45a^2b^4$  que aparece debajo de  $+45a^2b^4$ .

## EJERCICIO 216

Hallar la raíz cúbica de:

- $8 - 36y + 54y^2 - 27y^3$
- $64a^6 + 300a^2b^4 + 125b^6 + 240a^4b^2$
- $x^6 + 3x^3 + 6x^4 + 7x^3 + 6x^2 + 3x + 1$
- $8x^6 - 12x^5 + 11x^4 - 6x^3 - 3x + 3x^2 - 1$
- $1 + 33x^2 - 9x + 66x^4 - 63x^3 - 36x^5 + 8x^6$
- $8 - 36x + 66x^2 - 63x^3 + 33x^4 - 9x^5 + x^6$
- $x^6 - 6x^5 + 12x^4 - 20x^3 + 48x^2 - 48x^4 + 48x^3 - 96x^2 - 64$
- $x^{12} - 3x^8 - 3x^{10} + 6x^4 + 11x^6 - 12x^2 - 8$
- $66x^4 - 63x^3 - 36x^5 + 33x^2 + 8x^6 - 9x + 1$
- $27a^6 - 135a^5 + 117a^4 + 235a^3 - 156a^2 - 240a - 64$
- $a^6 - 6a^5b + 15a^4b^2 - 20a^3b^3 + 15a^2b^4 - 6ab^5 + b^6$
- $x^6 + 42x^4y^2 - 117x^3y^3 - 9x^2y^4 + 210x^2y^4 - 225xy^5 + 125y^6$
- $a^{12} - 3a^{10} + 15a^8 + 60a^4 - 48a^2 - 25a^6 + 64$
- $a^9 - 9a^8x + 27a^7x^2 - 21a^6x^3 - 36a^5x^4 + 54a^4x^5 + 12a^3x^6 - 36a^2x^7 + 8x^9$
- $a^9 - 3a^8 + 6a^7 - 10a^6 + 12a^5 - 12a^4 + 10a^3 - 6a^2 + 3a - 1$
- $x^9 - 12x^8 + 54x^7 - 121x^6 + 180x^5 - 228x^4 + 179x^3 - 144x^2 + 54x - 27$







Sabemos (360) que para extraer una raíz a una potencia se divide el exponente de la potencia por el índice de la raíz. Si el exponente no es divisible por el índice, hay que dejar indicada la división y se origina el exponente fraccionario. Así:

$$\sqrt[n]{a} = a^{\frac{1}{n}}$$

$$\sqrt[n]{a^m} = a^{\frac{m}{n}}$$

#### INTERPRETACION DEL EXPONENTE FRACCIONARIO

Toda cantidad elevada a un exponente fraccionario equivale a una raíz cuyo índice es el denominador del exponente y la cantidad subradical la misma cantidad elevada a la potencia que indica el numerador del exponente.

Decimos que  $a^{\frac{m}{n}} = \sqrt[n]{a^m}$ .

En efecto: Se ha probado (360) que

$$\sqrt[n]{a^m} = a^{\frac{m}{n}}; \text{ luego, recíprocamente, } a^{\frac{m}{n}} = \sqrt[n]{a^m}.$$

### Ejemplos

(1) Expresar con signo radical  $x^{\frac{5}{3}}$ ,  $2a^{\frac{1}{2}}$ ,  $x^{\frac{2}{3}}y^{\frac{1}{4}}$ .

$$x^{\frac{5}{3}} = \sqrt[3]{x^5}$$

$$2a^{\frac{1}{2}} = 2\sqrt{a}$$

$$x^{\frac{2}{3}}y^{\frac{1}{4}} = \sqrt[3]{x^2} \sqrt[4]{y}$$

(2) Expresar con exponente fraccionario  $\sqrt[3]{a}$ ,  $2\sqrt[4]{a^3}$ ,  $\sqrt{x^3} \sqrt[5]{y^4}$ .

$$\sqrt[3]{a} = a^{\frac{1}{3}}$$

$$2\sqrt[4]{a^3} = 2a^{\frac{3}{4}}$$

$$\sqrt{x^3} \sqrt[5]{y^4} = x^{\frac{3}{2}} y^{\frac{4}{5}}$$

#### ■ EJERCICIO 218

Expresar con signo radical:

1.  $x^{\frac{1}{5}}$

4.  $xy^{\frac{1}{2}}$

7.  $2a^{\frac{4}{3}}b^{\frac{5}{2}}$

10.  $8mn^{\frac{9}{4}}$

2.  $m^{\frac{3}{5}}$

5.  $a^{\frac{4}{3}}b^{\frac{3}{2}}$

8.  $3x^{\frac{2}{3}}y^{\frac{4}{5}}z^{\frac{2}{7}}$

11.  $4a^{\frac{7}{2}}b^{\frac{5}{3}}c^{\frac{6}{4}}$

3.  $4a^{\frac{5}{4}}$

6.  $x^{\frac{3}{5}}y^{\frac{1}{2}}z^{\frac{1}{3}}$

9.  $a^{\frac{1}{4}}b^{\frac{5}{3}}c^{\frac{7}{2}}$

12.  $5m^{\frac{2}{3}}n^{\frac{3}{4}}x^{\frac{4}{5}}$

Expresar con exponente fraccionario:

13.  $\sqrt{a^5}$

16.  $\sqrt[3]{m}$

19.  $3\sqrt{x^7} \sqrt[4]{y^3}$

22.  $3\sqrt[4]{m^3} \sqrt[5]{n^6}$

14.  $\sqrt[3]{x^7}$

17.  $2\sqrt[4]{x^5}$

20.  $2\sqrt[3]{ab^3c^6}$

23.  $3\sqrt{a^5} \sqrt[4]{b^6}$

15.  $\sqrt{x}$

18.  $\sqrt{a^3} \sqrt[4]{b^6}$

21.  $5a \sqrt{x^2y^3z^6}$

24.  $\sqrt[4]{a} \sqrt[5]{b^3} \sqrt[6]{c^5}$

#### 369 EXPONENTE NEGATIVO. ORIGEN

El exponente negativo proviene de dividir dos potencias de la misma base cuando el exponente del dividendo es menor que el exponente del divisor. Así,

$$a^2 \div a^3 = a^{2-3} = a^{-1}$$

$$x^3 \div x^7 = x^{3-7} = x^{-4}$$

#### INTERPRETACION DEL EXPONENTE NEGATIVO

Toda cantidad elevada a un exponente negativo equivale a una fracción cuyo numerador es 1, y su denominador, la misma cantidad con el exponente positivo.

Decimos que

$$a^{-n} = \frac{1}{a^n}$$

En efecto:

$$\frac{a^m}{a^{m+n}} = a^{m-(m+n)} = a^{m-m-n} = a^{-n}$$

y también

$$\frac{a^m}{a^{m+n}} = \frac{a^m}{a^m \times a^n} = \frac{1}{a^n}$$

y como dos cosas ( $a^{-n}$  y  $\frac{1}{a^n}$ ) iguales a una tercera ( $\frac{a^m}{a^{m+n}}$ ) son iguales entre sí, tenemos que

$$a^{-n} = \frac{1}{a^n}$$

De acuerdo con lo anterior, se tiene que:

$$a^{-2} = \frac{1}{a^2}$$

$$a^{-\frac{3}{2}} = \frac{1}{a^{\frac{3}{2}}}$$

$$x^{-\frac{2}{3}}y^{-\frac{1}{2}} = \frac{1}{x^{\frac{2}{3}}y^{\frac{1}{2}}}$$

#### 370 PASAR LOS FACTORES DEL NUMERADOR DE UNA EXPRESION AL DENOMINADOR O VICEVERSA

Cualquier factor del numerador de una expresión se puede pasar al denominador y viceversa con tal de cambiarle el signo a su exponente.

Sea la expresión  $\frac{a^{-2}b^{-3}}{x^{-4}y^{-5}}$ . De acuerdo con el significado del exponente negativo, tendremos:

$$\frac{a^{-2}b^{-3}}{x^{-4}y^{-5}} = \frac{\frac{1}{a^2} \times \frac{1}{b^3}}{\frac{1}{x^4} \times \frac{1}{y^5}} = \frac{\frac{1}{a^2b^3}}{\frac{1}{x^4y^5}} = \frac{1}{a^2b^3} \times \frac{x^4y^5}{1} = \frac{x^4y^5}{a^2b^3}$$

Así, que nos queda que

$$\frac{a^{-2}b^{-3}}{x^{-4}y^{-5}} = \frac{x^4y^5}{a^2b^3} \quad (1) \text{ y recíprocamente } \frac{x^4y^5}{a^2b^3} = \frac{a^{-2}b^{-3}}{x^{-4}y^{-5}} \quad (2)$$

En la igualdad (1) vemos que los factores  $a^{-2}$  y  $b^{-3}$  que están en el numerador del primer miembro con exponentes negativos, pasan al denomi-



nador del segundo miembro con exponentes positivos y los factores  $x^{-4}$  e  $y^{-5}$  que están en el denominador del primer miembro con exponentes negativos, pasan al numerador del segundo con exponentes positivos.

En la igualdad (2) vemos que los factores  $x^3$  e  $y^2$  que están en el numerador del primer miembro con exponentes positivos, pasan al denominador del segundo miembro con exponentes negativos y los factores  $a^2$  y  $b^3$  que están con exponentes positivos en el denominador del primer miembro, pasan al numerador del segundo miembro con exponentes negativos.

### 371 TRANSFORMAR UNA EXPRESION CON EXPONENTES NEGATIVOS EN UNA EXPRESION EQUIVALENTE CON EXPONENTES POSITIVOS

#### Ejemplos

- (1) Expresar con exponentes positivos  $x^{-1}y^{-2}$  y  $3ab^{-1}c^{-3}$ .

Según el número anterior, tenemos:

$$x^{-1}y^{-2} = \frac{1}{xy^2}, \quad R. \quad 3ab^{-1}c^{-3} = \frac{3a}{bc^3}, \quad R.$$

- (2) Expresar con exponentes positivos  $\frac{2}{a^{-2}b^{-3}}$  y  $\frac{x}{2x^{-\frac{1}{2}}y^{-4}}$ .

$$\frac{2}{a^{-2}b^{-3}} = 2a^2b^3, \quad R. \quad \frac{x}{2x^{-\frac{1}{2}}y^{-4}} = \frac{xx^{\frac{1}{2}}y^4}{2} = \frac{x^{\frac{3}{2}}y^4}{2}, \quad R.$$

Obsérvese que al pasar un factor del numerador al denominador o viceversa el coeficiente numérico no se pasa.

- (3) Expresar con exponentes positivos  $\frac{2a^2b^{-5}c^{-7}}{5a^{-3}b^{-4}c^{-6}}$ .

$$\frac{2a^2b^{-5}c^{-7}}{5a^{-3}b^{-4}c^{-6}} = \frac{2a^2a^3b^5b^4c^6c^7}{5b^5c^7} = \frac{2a^5}{5bc}, \quad R.$$

- (4) Expresar con exponentes positivos  $\frac{xy^{\frac{1}{2}}z^{-\frac{2}{3}}}{4x^{-\frac{3}{4}}y^2z^{\frac{5}{3}}}$ .

$$\frac{xy^{\frac{1}{2}}z^{-\frac{2}{3}}}{4x^{-\frac{3}{4}}y^2z^{\frac{5}{3}}} = \frac{xx^{\frac{3}{4}}y^{\frac{1}{2}}z^{-\frac{2}{3}}}{4y^2z^{\frac{5}{3}}} = \frac{x^{\frac{7}{4}}}{4y^{\frac{3}{2}}z^{\frac{7}{3}}}, \quad R.$$

### EJERCICIO 219

Expresar con exponentes positivos y simplificar:

1.  $a^2b^{-5}$ .
2.  $3x^{-6}$ .
3.  $a^{-4}b^{-\frac{1}{2}}$ .
4.  $3x^{-2}y^{-\frac{1}{3}}$ .
5.  $m^{-\frac{1}{2}}n^{-5}$ .
6.  $a^2b^{-1}c$ .
7.  $4x^2y^{-\frac{2}{5}}$ .
8.  $5a^{-\frac{1}{3}}b^{-\frac{2}{4}}c^{-1}$ .
9.  $\frac{1}{2x^{-2}}$ .
10.  $\frac{3}{x^{-1}y^{-3}}$ .
11.  $\frac{2a^{-2}b^{-8}}{a^{-4}c^{-1}}$ .
12.  $\frac{x^{-1}y^{-2}z^{-3}}{a^{-2}b^{-3}c^{-8}}$ .
13.  $\frac{3m^{-4}n^{-\frac{1}{2}}}{8m^{-3}n^{-4}}$ .
14.  $\frac{4a^{\frac{1}{2}}}{7a^{-1}b^2c^{-\frac{2}{3}}}$ .
15.  $\frac{2m^{-5}n^{-7}}{a^2m^3n^{-4}}$ .
16.  $\frac{a^{-\frac{1}{2}}x^{-2}}{3a^3x^2y^{-1}}$ .
17.  $\frac{c^2}{4b^{-\frac{1}{2}}x^3}$ .
18.  $\frac{1}{3a^{-\frac{3}{4}}b^{-\frac{2}{5}}c^4}$ .
19.  $\frac{3a^2mn}{a^{-3}m^{-\frac{1}{2}}n^{-\frac{1}{4}}}$ .
20.  $\frac{x^{-\frac{2}{3}}y^{-\frac{1}{4}}}{x^2yz^{-\frac{1}{2}}}$ .

### EJERCICIO 220

Pasar los factores literales del numerador al denominador:

1.  $\frac{a^2}{b^2}$ .
2.  $\frac{3x^{-1}}{y^2}$ .
3.  $\frac{4mn^2}{x^3}$ .
4.  $\frac{a^{-1}b^{-3}}{3}$ .
5.  $\frac{3c^{-\frac{2}{3}}}{7}$ .
6.  $\frac{2x^{\frac{1}{4}}}{5y^2}$ .
7.  $\frac{m^{-3}}{5}$ .
8.  $\frac{3a^{-2}b^3}{t^4}$ .
9.  $x^{-\frac{1}{2}}y^2$ .
10.  $a^{-\frac{2}{3}}b^3c^{-2}$ .
11.  $\frac{3x^{-1}y^{-\frac{1}{2}}}{y^3}$ .
12.  $\frac{2m^{-2}n^{\frac{1}{2}}}{9}$ .

Pasar los factores literales del denominador al numerador:

13.  $\frac{2}{a}$ .
14.  $\frac{3a}{b^2}$ .
15.  $\frac{x^2y}{y^{-2}}$ .
16.  $\frac{4}{x^{-\frac{1}{2}}y^2}$ .
17.  $\frac{3a^5}{7x^{-5}y^{-\frac{1}{4}}}$ .
18.  $\frac{1}{a^{-1}b^{-\frac{1}{3}}}$ .
19.  $\frac{2m^2}{3m^{-3}n^{-\frac{1}{4}}}$ .
20.  $\frac{a^2}{x^2y^{-\frac{1}{2}}}$ .

Expresar sin denominador:

21.  $\frac{3a^2b^3}{a^{-1}x}$ .
22.  $\frac{3xy^2z^3}{x^{-1}y^{-2}z^{-3}}$ .
23.  $\frac{m^{-2}n^{-1}x^{-\frac{1}{2}}}{m^{-4}n^{-5}x^{-2}}$ .



### 372 EJERCICIOS SOBRE EXPRESIONES CON EXPONENTES CERO, NEGATIVOS O FRACCIONARIOS

#### Ejemplos

(1) Expresar  $\frac{a^{\frac{3}{4}}}{x^{-\frac{1}{2}}}$  con signo radical y exponentes positivos.

$$\frac{a^{\frac{3}{4}}}{x^{-\frac{1}{2}}} = a^{\frac{3}{4}} x^{\frac{1}{2}} = \sqrt[4]{a^3} \sqrt{x} \quad R.$$

(2) Expresar  $\frac{\sqrt[3]{a^{-2}}}{3\sqrt{x^{-6}}}$  con exponentes fraccionarios positivos.

$$\frac{\sqrt[3]{a^{-2}}}{3\sqrt{x^{-6}}} = \frac{a^{-\frac{2}{3}}}{3x^{-\frac{6}{2}}} = \frac{a^{-\frac{2}{3}}}{3x^{-3}} \quad R.$$

(3) Hallar el valor de  $125^{\frac{2}{3}}$ .

$$125^{\frac{2}{3}} = \sqrt[3]{125^2} = \sqrt[3]{5^3 \cdot 5^2} = 5^2 = 25 \quad R.$$

De  $\sqrt[3]{(5^3)^2}$  pasamos a  $5^2$  porque el exponente 3 y la raíz cúbica se destruyen.

(4) Hallar el valor de  $\left(\frac{4}{9}\right)^{-\frac{5}{2}}$ .

$$\left(\frac{4}{9}\right)^{-\frac{5}{2}} = \frac{1}{\left(\frac{4}{9}\right)^{\frac{5}{2}}} = \frac{1}{\sqrt{\left(\frac{4}{9}\right)^5}} = \frac{1}{\sqrt{\left(\frac{2^2}{3^2}\right)^5}} = \frac{1}{\left(\frac{2}{3}\right)^5} = \frac{3^5}{2^5} = \frac{243}{32} \quad R.$$

Véase que los exponentes 2 y la raíz cuadrada se destruyen.

#### EJERCICIO 221

Expresar con signo radical y exponentes positivos:

- |  |   |  |   |
|--|---|--|---|
| 1. $x^{-\frac{1}{2}}$                          | 5. $2m^{-\frac{2}{3}}n^{\frac{3}{4}}$         | 8. $3a^{-\frac{2}{3}}$                                 | 12. $\left(a^{-\frac{1}{2}}\right)^3$             |
| 2. $\frac{1}{a^{-\frac{1}{2}}b^{\frac{2}{3}}}$ | 6. $\frac{1}{4x^{\frac{3}{2}}}$               | 9. $\frac{a^{-\frac{1}{2}}}{4a^2}$                     | 13. $\left(x^{\frac{2}{3}}\right)^{-2}$           |
| 3. $5a^{\frac{2}{3}}b^{-\frac{1}{4}}$          | 7. $\frac{x^{\frac{5}{6}}}{y^{-\frac{2}{3}}}$ | 10. $x^{-\frac{2}{3}}y^{\frac{3}{4}}z^{-\frac{4}{5}}$  | 14. $\left(\frac{a}{b}\right)^{-\frac{3}{2}}$     |
| 4. $\frac{3x^{-1}}{x^{-\frac{1}{2}}}$          |   | 11. $x^{-\frac{2}{3}}m^{-\frac{3}{4}}n^{-\frac{2}{5}}$ | 15. $\left(x^{-\frac{1}{2}}\right)^{\frac{1}{3}}$ |

Expresar con exponentes positivos:

- |   |   |   |
|---|---|---|
| 16. $\sqrt{a^{-3}}$                         | 19. $\frac{3\sqrt[3]{m^2}}{5\sqrt[4]{n^3}}$ | 22. $\frac{1}{\sqrt{a^{-2}b^{-4}}}$           |
| 17. $2\sqrt{x^{-3}y^{-4}}$                  | 20. $a^{-\frac{3}{5}}\sqrt[3]{b^{-3}}$      | 23. $\frac{3x^{-\frac{2}{3}}}{\sqrt{y^{-4}}}$ |
| 18. $\frac{a^{\frac{2}{3}}}{\sqrt{x^{-5}}}$ | 21. $x^2\sqrt{x^{-1}}$                      | 24. $\sqrt{m^{-1}}\sqrt[3]{n^{-3}}$           |

Hallar el valor de:

- |                           |  |   |   |
|---------------------------|--|---|---|
| 25. $16^{\frac{3}{2}}$    | 32. $\left(\frac{4}{9}\right)^{\frac{5}{2}}$     | 36. $\left(-\frac{27}{64}\right)^{-\frac{2}{3}}$  | 40. $\left(2\frac{7}{9}\right)^{-\frac{1}{2}}$  |
| 26. $8^{\frac{2}{3}}$     | 33. $\left(\frac{5}{27}\right)^{-\frac{1}{3}}$   | 37. $\frac{1}{9^{-3}}$                            | 41. $\left(5\frac{1}{16}\right)^{-\frac{1}{4}}$ |
| 27. $81^{\frac{3}{4}}$    | 34. $\left(\frac{25}{30}\right)^{-\frac{1}{2}}$  | 38. $\left(\frac{10}{81}\right)^{-\frac{5}{4}}$   | 42. $8^{\frac{2}{3}} \times 4^{\frac{3}{2}}$    |
| 28. $9^{-\frac{6}{5}}$    | 35. $\left(\frac{32}{243}\right)^{-\frac{1}{5}}$ | 39. $\left(-\frac{32}{243}\right)^{-\frac{2}{5}}$ | 43. $9^{\frac{5}{2}} \times 27^{-\frac{1}{8}}$  |
| 29. $(-27)^{\frac{2}{3}}$ | 44. $243^{\frac{1}{5}} \times 128^{\frac{3}{8}}$ |   |   |

### 373 VALOR NUMÉRICO DE EXPRESIONES ALGEBRAICAS CON EXPONENTES CERO, NEGATIVOS O FRACCIONARIOS

#### Ejemplos

(1) Valor numérico de  $a^{-2}b + a^{\frac{1}{2}}b^{\frac{3}{4}} + x^0$  para  $a=4$ ,  $b=16$ ,  $x=3$ .

Sustituyendo las letras por sus valores, tendremos:

$$4^{-2} \cdot 16 + 4^{\frac{1}{2}} \cdot 16^{\frac{3}{4}} + 3^0.$$

Ahora, el exponente negativo lo hacemos positivo, los exponentes fraccionarios los convertimos en raíces y teniendo presente que toda cantidad elevada a cero equivale a 1, tendremos:

$$\frac{1}{4^2} \cdot 16 + \sqrt{4} \cdot \sqrt[4]{16^3} + 1 = 1 + 2 \cdot \sqrt[4]{(2^4)^3} + 1 = 1 + 2 \cdot 2^3 + 1 = 1 + 16 + 1 = 18. \quad R.$$

(2) Valor numérico de  $\frac{3}{a^{-\frac{1}{2}}b^{\frac{2}{3}}} + x^{-\frac{3}{2}}y^0 - \frac{a^{-8}b^{\frac{5}{4}}}{2} + \frac{1}{b^0\sqrt[3]{x^4}}$  para

$$a=4, b=8, x=32, y=7.$$



Sustituyendo, tendremos:

$$\frac{3}{4^{\frac{1}{2}} \cdot 8^{\frac{2}{3}}} = \frac{3}{32^{\frac{1}{2}} \cdot 7^0} = \frac{4^{\frac{3}{2}} \cdot 8^{\frac{1}{3}}}{2} + \frac{1}{8^0 \cdot \sqrt[3]{32^4}}$$

Ahora hacemos positivos los exponentes negativos:

$$\frac{3 \cdot 4^{\frac{1}{2}}}{8^{\frac{2}{3}}} + \frac{7^0}{32^{\frac{1}{2}}} = \frac{8^{\frac{1}{3}}}{2 \cdot 4^{\frac{3}{2}}} + \frac{1}{8^0 \cdot \sqrt[3]{32^4}}$$

Los exponentes fraccionarios los convertimos en raíces y recordando que toda cantidad elevada a cero equivale a 1, tendremos:

$$\begin{aligned} & \frac{3 \cdot \sqrt{4}}{\sqrt[3]{8^2}} + \frac{1}{\sqrt[3]{32^4}} = \frac{\sqrt[3]{8}}{2 \cdot 64} + \frac{1}{1 \cdot \sqrt[3]{32^4}} \\ &= \frac{3 \cdot 2}{\sqrt[3]{(2^3)^2}} + \frac{1}{\sqrt[3]{(2^5)^4}} = \frac{2}{2 \cdot 64} + \frac{1}{\sqrt[3]{2^{20}}} \\ &= \frac{6}{2^2} + \frac{1}{2^3} - \frac{1}{64} + \frac{1}{2^4} \\ &= \frac{3}{2} + \frac{1}{8} - \frac{1}{64} + \frac{1}{16} = 1\frac{43}{64} \quad \text{R.} \end{aligned}$$

## ● EJERCICIO 222

Hallar el valor numérico de:

- $a^{-2} + a^{-1}b^{\frac{1}{2}} + x^0$  para  $a = 3$ ,  $b = 4$ .
- $3x^{-\frac{1}{2}} + x^2y^{-3} + x^0y^{\frac{1}{3}}$  para  $x = 4$ ,  $y = 1$ .
- $2a^{-3}b + \frac{a^{-4}}{b^{-1}} + a^2b^{-\frac{3}{4}}$  para  $a = 4$ ,  $b = 16$ .
- $\frac{x^{\frac{3}{4}}}{y^{-2}} + x^{-\frac{1}{2}}y^{-\frac{1}{3}} - x^0y^0 + \frac{x}{y^{\frac{3}{4}}}$  para  $x = 16$ ,  $y = 8$ .
- $\frac{x^0}{x^{-1}} + \frac{y^{-3}}{y^0} + 2x^0 + x^{\frac{3}{4}}y^{-2}$  para  $x = 81$ ,  $y = 3$ .
- $a^{\frac{1}{2}}x^{\frac{1}{3}} + a^{-\frac{1}{2}}x^{-\frac{1}{3}} + \frac{1}{a^{-\frac{1}{4}}x^{-1}} + 3x^0$  para  $a = 16$ ,  $x = 8$ .
- $\frac{a^{-2}}{b^{-1}} + 3a^{-1}b^2c^{-3} - \frac{a^{-2}}{b^{\frac{1}{2}}c^{-1}} + b^{\frac{1}{4}} + c^0$  para  $a = 3$ ,  $b = 16$ ,  $c = 2$ .

$$8. \frac{x^0}{3y^0} + x^{\frac{2}{3}} - y^{\frac{1}{5}} + \frac{x^{-2}}{y^{-1}} + y^0 \text{ para } x = 8, y = 32.$$

$$9. a^{-\frac{1}{3}} - \frac{1}{b^{\frac{4}{5}}} + a^0b - \sqrt[3]{a} \cdot b^{\frac{2}{3}} - \frac{1}{a^{-\frac{2}{3}}} \text{ para } a = 27, b = 243.$$

## 374 MULTIPLICACION DE MONOMIOS CON EXPONENTES NEGATIVOS Y FRACCIONARIOS

La Ley de los exponentes en la multiplicación, que nos dice que para multiplicar potencias de la misma base se suman los exponentes es general, y se aplica igualmente cuando las cantidades que se multiplican tienen exponentes negativos o fraccionarios.

### Ejemplos

$$(1) a^{-4} \times a = a^{-4+1} = a^{-3}.$$

$$(2) a^3 \times a^{-3} = a^{3+(-3)} = a_{1-3} = a^{-2}.$$

$$(3) a^{-1} \times a^{-2} = a_{-1-2} = a^{-3}.$$

$$(4) a_1 \times a_{-3} = a_{1-3} = a_{-2} = a_2.$$

$$(5) a^{\frac{1}{2}} \times a^{\frac{3}{4}} = a^{\frac{1}{2} + \frac{3}{4}} = a^{\frac{5}{4}}.$$

$$(6) a^{\frac{3}{4}} \times a^{\frac{1}{2}} = a^{\frac{3}{4} + \frac{1}{2}} = a^{\frac{5}{4}}.$$

## ● EJERCICIO 223

Multiplicar:

- |  |  |   |
|--|--|---|
| 1. $x^2$ por $x^{-3}$ .                      | 7. $3m^{\frac{2}{3}}$ por $m^{-\frac{3}{5}}$ . | 13. $x^{-3}y^{\frac{1}{2}}$ por $x^{-2}y^{-\frac{1}{3}}$ .                    |
| 2. $a^{-2}$ por $a^{-3}$ .                   | 8. $2a^{\frac{3}{4}}$ por $a^{-\frac{1}{2}}$ . | 14. $3a^2b^{\frac{1}{2}}$ por $2a^{-2}b^{-\frac{1}{3}}$ .                     |
| 3. $x^3$ por $x^{-3}$ .                      | 9. $x^{-2}$ por $x^{-\frac{1}{3}}$ .           | 15. $a^3b^{-1}$ por $a^{-2}b^{-2}$ .  |
| 4. $a^{\frac{1}{2}}$ por $a$ .               | 10. $3n^2$ por $n^{-\frac{2}{3}}$ .            | 16. $a^{-\frac{1}{2}}b^{\frac{3}{4}}$ por $a^{\frac{1}{3}}b^{\frac{1}{4}}$ .  |
| 5. $x^{\frac{1}{2}}$ por $x^{\frac{1}{4}}$ . | 11. $4a^{-2}$ por $a^{-\frac{2}{3}}$ .         | 17. $m^{-\frac{2}{3}}n^{\frac{1}{2}}$ por $m^{-\frac{1}{3}}n^{\frac{2}{3}}$ . |
| 6. $a^{\frac{3}{4}}$ por $a^{\frac{1}{4}}$ . | 12. $a^{-1}b^{-2}$ por $ab^2$ .                | 18. $2a^{-1}b^{\frac{3}{4}}$ por $ab^{-2}$ .                                  |

## 375 MULTIPLICACION DE POLINOMIOS CON EXPONENTES NEGATIVOS Y FRACCIONARIOS

### Ejemplos

$$(1) \text{ Multiplicar } 2x^{-1} + 3x^{-\frac{1}{2}}y^{-\frac{1}{2}} + y^{-1} \text{ por } x^{-1} - x^{-\frac{1}{2}}y^{-\frac{1}{2}} + y^{-1}.$$

Los polinomios están ordenados en orden ascendente con relación a  $x$  porque el exponente de  $x$  en el segundo término  $-\frac{1}{2}$  es mayor que el exponente de  $x$  en el primer término  $-1$  y el tercer término  $y^{-1}$  equivale a  $x^0y^{-1}$  y 0 es mayor que  $-\frac{1}{2}$ .



$$\begin{array}{r} \text{Tendremos: } 2x^{-1} + 3x^{-\frac{1}{2}}y^{-\frac{1}{2}} + y^{-1} \\ x^{-1} - x^{-\frac{1}{2}}y^{-\frac{1}{2}} + y^{-1} \\ \hline 2x^{-2} + 3x^{-\frac{3}{2}}y^{-\frac{1}{2}} + x^{-1}y^{-1} \\ - 2x^{-\frac{3}{2}}y^{-\frac{1}{2}} - 3x^{-1}y^{-1} - x^{-\frac{1}{2}}y^{-\frac{3}{2}} \\ \hline 2x^{-1}y^{-1} + 3x^{-\frac{1}{2}}y^{-\frac{3}{2}} + y^{-2} \end{array}$$

$$2x^{-2} + x^{-\frac{3}{2}}y^{-\frac{1}{2}} + 2x^{-\frac{1}{2}}y^{-\frac{3}{2}} + y^{-2}. \text{ R.}$$

(2) Multiplicar  $ab^{-1} - a^{\frac{2}{3}}b + a^{\frac{2}{3}}$  por  $a^{\frac{1}{3}}b^{-3} - b^{-2} - a^{-\frac{1}{3}}b^{-1}$ .

Ordenando en orden descendente con relación a la  $a$ , tendremos:

$$\begin{array}{r} ab^{-1} + a^{\frac{2}{3}} - a^{\frac{2}{3}}b \\ a^{\frac{2}{3}}b^{-3} - b^{-2} - a^{-\frac{1}{3}}b^{-1} \\ \hline a^{\frac{4}{3}}b^{-4} + ab^{-3} - a^{\frac{2}{3}}b^{-2} \\ - ab^{-2} - a^{\frac{2}{3}}b^{-2} + a^{\frac{1}{3}}b^{-1} \\ - a^{\frac{2}{3}}b^{-2} - a^{\frac{1}{3}}b^{-1} + 1 \\ \hline a^{\frac{4}{3}}b^{-4} - 3a^{\frac{2}{3}}b^{-2} + 1. \text{ R.} \end{array}$$

El 1 último se obtiene porque el producto

$$\left(-a^{\frac{1}{3}}b\right) \times \left(-a^{-\frac{1}{3}}b^{-1}\right) = a^0b^0 = 1 \times 1 = 1.$$

## EJERCICIO 224

Multiplicar, ordenando previamente:

- $a^{-4} + 2 + 3a^{-2}$  por  $a^{-4} - a^{-2} + 1$ .
- $x^2 - 1 + x^{-2}$  por  $x^2 + 2 - x^{-2}$ .
- $x + x^{\frac{1}{2}} + 2x^{\frac{3}{2}}$  por  $x^{\frac{1}{2}} + x^{-\frac{1}{2}} - 2$ .
- $2a^{\frac{3}{4}} - a^{\frac{1}{2}} + 2a^{\frac{1}{4}}$  por  $a^{\frac{1}{4}} - a^{-\frac{1}{4}} + 1$ .
- $a^{\frac{2}{3}} - 2 + 2a^{-\frac{2}{3}}$  por  $3 + a^{-\frac{2}{3}} - 4a^{-\frac{4}{3}}$ .
- $x^{\frac{3}{4}} + 2x^{\frac{1}{4}} - x^{-\frac{1}{4}}$  por  $x^{\frac{1}{2}} - 2 + x^{-\frac{1}{2}}$ .
- $a^2b^{-1} + a + b$  por  $a^{-2}b^{-2} + a^{-1} - a^{-3}b^{-1}$ .
- $x^{-5}y^{-5} + x^{-1}y^{-1} + x^{-3}y^{-3}$  por  $x^{-2}y^{-6} - x^{-5}y^{-4} + x^{-3}y^{-2}$ .
- $a^{\frac{3}{4}}b^{-3} + a^{\frac{1}{4}}b^{-2} - a^{-\frac{1}{4}}b^{-1}$  por  $a^{\frac{1}{2}}b^{-1} - 2 + 3a^{-\frac{1}{2}}b$ .
- $a^{-1} + 2a^{-\frac{1}{2}}b^{-\frac{1}{2}} + 2b^{-1}$  por  $a^{-1} - a^{-\frac{1}{2}}b^{-\frac{1}{2}} + b^{-1}$ .
- $4x^2 - x^{\frac{3}{2}}y^2 - x^{\frac{1}{2}}y^{\frac{3}{2}} + xy$  por  $x^{\frac{1}{2}} + y^{\frac{1}{2}}$ .

- $x - 2a^{\frac{1}{2}}x^{\frac{2}{3}} + a^{\frac{2}{3}}x^{\frac{1}{3}} - 3a$  por  $x^{\frac{2}{3}} + 2a^{\frac{1}{3}}x + 3a^{\frac{2}{3}}x^{\frac{2}{3}}$ .
- $5a^2 + 4 - 3a - 2a^{-1}$  por  $3a - 5a^{-1} + 2$ .
- $2x - 3 + x^{-1} + 4x^{-2}$  por  $x^{-1} - 2x^{-2} + x^{-3}$ .
- $m - m^{\frac{1}{2}}n^{\frac{1}{2}} + n - m^{-\frac{1}{2}}n^{\frac{3}{2}}$  por  $m^{\frac{1}{2}} + n^{\frac{1}{2}} + m^{-\frac{1}{2}}n$ .
- $a^{\frac{5}{3}} - a^{-\frac{1}{3}} + 2a^{\frac{1}{3}}$  por  $a^{\frac{2}{3}} - 2 - a^{-\frac{2}{3}}$ .
- $m + 3m^{\frac{2}{3}} + 2m^{\frac{1}{3}}$  por  $2 - 2m^{-\frac{1}{3}} + 2m^{-\frac{2}{3}}$ .
- $x^{-\frac{3}{4}}y^{\frac{3}{2}} + 3x^{-\frac{1}{4}}y - x^{\frac{1}{4}}y^{\frac{1}{2}}$  por  $x^{-\frac{5}{4}}y^{\frac{1}{2}} - 3x^{-\frac{3}{4}}y^{-\frac{1}{2}} - x^{-\frac{1}{4}}y^{-\frac{1}{2}}$ .
- $x^2y^{-1} + 5x^{\frac{5}{2}}y^{-3} + 2x^4y^{-5}$  por  $x^{-\frac{5}{2}}y^3 - x^{-2}y + 3x^{-1}y^{-1}$ .
- $a^{-\frac{2}{3}}b^{\frac{1}{2}} + 2a^{-\frac{4}{3}}b - a^{-2}b^{\frac{5}{2}}$  por  $3a^{\frac{2}{3}}b^{-\frac{1}{2}} + 1 + a^{-\frac{2}{3}}b^{\frac{1}{2}}$ .

## 376 DIVISION DE MONOMIOS CON EXPONENTES NEGATIVOS Y FRACCIONARIOS

La Ley de los exponentes en la división, que nos dice que para dividir potencias de la misma base se resta el exponente del divisor del exponente del dividendo, se aplica igualmente cuando los exponentes de las cantidades que se dividen son negativos o fraccionarios.

### Ejemplos

- $a^{-1} \div a^2 = a^{-1-2} = a^{-3}$ .
- $a^2 \div a^{-1} = a^{2-(-1)} = a^{2+1} = a^3$ .
- $a^3 \div a^{-5} = a^{3-(-5)} = a^{3+5} = a^8$ .
- $\frac{1}{a^2} \div \frac{3}{a^4} = a^{\frac{1}{2}-\frac{3}{4}} = a^{-\frac{1}{4}}$ .
- $a^{-\frac{1}{3}} \div \frac{1}{a^{\frac{2}{3}}} = a^{-\frac{1}{3}-(-\frac{2}{3})} = a^{-\frac{1}{3}+\frac{2}{3}} = a^{\frac{1}{3}}$ .
- $a^{-\frac{1}{4}} \div \frac{1}{a^{\frac{3}{4}}} = a^{-\frac{1}{4}-(-\frac{3}{4})} = a^{-\frac{1}{4}+\frac{3}{4}} = a^{\frac{1}{2}}$ .

## EJERCICIO 225

Dividir:

- $a^2$  entre  $a^{-2}$ .
- $x^{-3}$  entre  $x^2$ .
- $m^{\frac{1}{2}}$  entre  $m^{-\frac{1}{4}}$ .
- $a^2$  entre  $a^5$ .
- $x^{-3}$  entre  $x^{-1}$ .
- $a^{\frac{1}{2}}$  entre  $a$ .
- $x^{-\frac{2}{3}}$  entre  $x^{-\frac{1}{3}}$ .
- $a^{\frac{2}{3}}$  entre  $a^{-\frac{1}{3}}$ .
- $m^{-\frac{3}{4}}$  entre  $m^{\frac{1}{2}}$ .
- $a^{\frac{1}{3}}$  entre  $a$ .
- $4x^{\frac{2}{5}}$  entre  $2x^{-\frac{1}{5}}$ .
- $a^{-3}$  entre  $a^{-\frac{7}{4}}$ .
- $x^{-2}y^{-1}$  entre  $x^{-5}y^{-2}$ .
- $a^2b^3$  entre  $a^{-1}b$ .
- $x^{-\frac{1}{2}}y^{\frac{2}{3}}$  entre  $x^{-\frac{1}{3}}y^{-1}$ .
- $m^{\frac{8}{3}}n^{-\frac{5}{4}}$  entre  $m^{-\frac{1}{3}}n^{\frac{3}{4}}$ .
- $8x^{-2}y^{\frac{2}{3}}$  entre  $4xy^{-\frac{1}{3}}$ .
- $a^3b$  entre  $a^{-\frac{1}{4}}b^{-5}$ .
- $x^{-4}y^{-6}$  entre  $x^2y^{-1}$ .



# 377 DIVISION DE POLINOMIOS CON EXPONENTES NEGATIVOS Y FRACCIONARIOS

## Ejemplos

(1) Dividir  $a^{-1}b^{-3} - 2ab^{-5} + a^3b^{-7}$  entre  $a^2b^{-2} - 2a^3b^{-3} + a^4b^{-4}$ .

Dividendo y divisor están ordenados en orden ascendente con relación a la  $a$ . Tendremos:

$$\begin{array}{r} a^{-1}b^{-3} \quad -2ab^{-5} \quad +a^3b^{-7} \\ -a^{-1}b^{-3} + 2b^{-4} - ab^{-5} \\ \hline 2b^{-4} - 3ab^{-5} \\ -2b^{-4} + 4ab^{-5} - 2a^2b^{-6} \\ \hline ab^{-5} - 2a^2b^{-6} + a^3b^{-7} \\ -ab^{-5} + 2a^2b^{-6} - a^3b^{-7} \\ \hline 0 \end{array} \quad \begin{array}{l} a^2b^{-2} - 2a^3b^{-3} + a^4b^{-4} \\ a^{-1}b^{-1} - 2a^{-2}b^{-2} + a^{-3}b^{-3} \quad R. \end{array}$$

Al dividir  $2b^{-4}$  entre  $a^2b^{-2}$  como en el dividendo no hay  $a$  y en el divisor hay  $a^2$  debe tenerse presente que  $2b^{-4}$  equivale a  $2a^0b^{-4}$  y dividiendo esta cantidad entre  $a^2b^{-2}$  tenemos:

$$2a^0b^{-4} \div a^2b^{-2} = 2a^{0-2}b^{-4-(-2)} = 2a^{-2}b^{-2}$$

que es el segundo término del cociente.

(2) Dividir  $4x + 11 - x^{\frac{1}{2}} + 7x^{\frac{3}{2}} + 3x^{-1}$  entre  $4x^{\frac{1}{2}} - 1 + x^{-\frac{1}{2}}$ .

Ordenando en orden descendente con relación a la  $x$ , tenemos:

$$\begin{array}{r} 4x + 7x^{\frac{3}{2}} + 11 - x^{\frac{1}{2}} + 3x^{-1} \\ -4x + \frac{1}{x^{\frac{1}{2}}} - 1 \\ \hline 8x^{\frac{3}{2}} + 10 - x^{\frac{1}{2}} \\ -8x^{\frac{3}{2}} + 2 - 2x^{\frac{1}{2}} \\ \hline 12 - 3x^{\frac{1}{2}} + 3x^{-1} \\ -12 + 3x^{\frac{1}{2}} - 3x^{-1} \\ \hline 0 \end{array} \quad \begin{array}{l} 4x^{\frac{1}{2}} - 1 + x^{-\frac{1}{2}} \\ \frac{1}{x^{\frac{1}{2}}} + 2 + 3x^{-\frac{1}{2}} \quad R. \end{array}$$

Al efectuar la división de 12 entre  $4x^{\frac{1}{2}}$  podemos considerar que 12 tiene  $x^0$  y tendremos:  $12 \div 4x^{\frac{1}{2}} = 12x^0 \div 4x^{\frac{1}{2}} = 3x^{0-\frac{1}{2}} = 3x^{-\frac{1}{2}}$ .

O sea que si en el divisor hay una letra que no la hay en el dividendo, esa letra aparece en el cociente con su exponente con el signo cambiado.

## ■ EJERCICIO 226

Dividir, ordenando previamente:

1.  $x^{-8} + x^{-2} + 2x^{-6} + 2$  entre  $x^{-4} - x^{-2} + 1$ .

2.  $a^{\frac{4}{3}} - 2a^{\frac{2}{3}} + 1$  entre  $a + a^{\frac{1}{3}} + 2a^{\frac{2}{3}}$ .

3.  $m^4 + m^2 - 2 + 3m^{-2} - m^{-4}$  entre  $m^2 - 1 + m^{-2}$ .

4.  $2x - x^{\frac{1}{2}} + x^{\frac{3}{4}} + 3x^{\frac{1}{4}} - 2$  entre  $x^{\frac{1}{4}} - x^{-\frac{1}{4}} + 1$ .

5.  $3m^{\frac{2}{3}} - 5 + 10m^{-\frac{4}{3}} - 8m^{-2}$  entre  $3 + m^{-\frac{2}{3}} - 4m^{-\frac{4}{3}}$ .

6.  $a^{\frac{6}{4}} - 4a^{\frac{1}{4}} + 4a^{-\frac{1}{4}} - a^{-\frac{5}{4}}$  entre  $a^{\frac{1}{2}} - 2 + a^{-\frac{1}{2}}$ .

7.  $4x^{-3} - x^{-3} - 7x^{-4} + 9x^{-2} - 7x^{-1} + 2$  entre  $4x^{-2} + x^{-1} - 3 + 2x$ .

8.  $a^{-12}b^{-11} + a^{-5}b^{-7} + a^{-4}b^{-3}$  entre  $a^{-7}b^{-6} - a^{-5}b^{-4} + a^{-3}b^{-2}$ .

9.  $m^{-4}n + m^{-2}n^{-1} + n^{-3}$  entre  $m^{-4} + m^{-2}n^{-2} - m^{-3}n^{-1}$ .

10.  $15a^8 - 19a + a^2 + 17 - 24a^{-1} + 10a^{-2}$  entre  $3a + 2 - 5a^{-1}$ .

11.  $a^{\frac{5}{4}}b^{-4} - a^{\frac{3}{4}}b^{-3} + 5a^{-\frac{1}{4}}b^{-1} - 3a^{-\frac{3}{4}}$  entre  $a^{\frac{1}{2}}b^{-1} - 2 + 3a^{-\frac{1}{2}}b$ .

12.  $x^{-2} + x^{-\frac{3}{2}}y^{-\frac{1}{2}} + x^{-1}y^{-1} + 2y^{-2}$  entre  $x^{-1} - x^{-\frac{1}{2}}y^{-\frac{1}{2}} + y^{-1}$ .

13.  $m - 6m^{\frac{1}{5}} + m^{-\frac{4}{5}}$  entre  $m^{\frac{3}{5}} + 2m^{\frac{1}{5}} - m^{-\frac{1}{5}}$ .

14.  $2x + 4x^{-\frac{1}{3}} + 2 + 4x^{\frac{2}{3}}$  entre  $x + 3x^{\frac{1}{3}} + 2x^{\frac{2}{3}}$ .

15.  $4x^{\frac{5}{2}} + 3x^{\frac{1}{2}}y^{\frac{1}{2}} - x^{\frac{1}{2}}y^{\frac{1}{2}}$  entre  $x^{\frac{1}{2}} + y^{\frac{1}{2}}$ .

16.  $x^{\frac{7}{3}} - 7ax^{\frac{4}{3}} - 3a^{\frac{4}{3}}x - 9a^{\frac{2}{3}}x^{\frac{2}{3}}$  entre  $x^{\frac{4}{3}} + 2a^{\frac{1}{3}}x + 3a^{\frac{2}{3}}x^{\frac{2}{3}}$ .

17.  $a^{\frac{3}{2}} + a^{\frac{1}{2}}b - b^{\frac{5}{2}} - a^{-1}b^{\frac{5}{2}}$  entre  $a^{\frac{1}{2}} + b^{\frac{1}{2}} + a^{-\frac{1}{2}}b$ .

18.  $m^{-2}n^2 - 11m^{-1}n + 1$  entre  $m^{-\frac{3}{4}}n^{\frac{3}{4}} + 3m^{-\frac{1}{4}}n - m^{\frac{1}{4}}n^{\frac{1}{4}}$ .

19.  $x^{-1}y^2 + 4 + 13x^2y^{-1} + 6x^3y^{-4}$  entre  $x^{-3}y^3 - x^{-2}y + 3x^{-1}y^{-1}$ .

20.  $3 + 7a^{-\frac{2}{3}}b^{\frac{1}{3}} + a^{-2}b^{\frac{2}{3}} - a^{-\frac{8}{3}}b^{\frac{5}{3}}$  entre  $3a^{\frac{2}{3}}b^{-\frac{1}{3}} + 1 + a^{-\frac{2}{3}}b^{\frac{1}{3}}$ .

## 378 POTENCIAS DE MONOMIOS CON EXPONENTES NEGATIVOS O FRACCIONARIOS

La regla establecida anteriormente (344) para elevar un monomio a una potencia se aplica igualmente en el caso que las letras del monomio estén afectadas de exponentes negativos o fraccionarios.

## Ejemplos

(1)  $(a^{-2})^3 = a^{-2 \cdot 3} = a^{-6}$ .

(2)  $\left(\frac{1}{a^{\frac{1}{2}}}\right)^2 = a^{-\frac{1}{2} \cdot 2} = a^{-1} = \frac{1}{a}$ .

(3)  $\left(a^{-\frac{3}{4}}\right)^2 = a^{-\frac{3}{4} \cdot 2} = a^{-\frac{3}{2}} = \frac{1}{a^{\frac{3}{2}}}$ .

(4)  $\left(2a^{-1}b^{\frac{1}{3}}\right)^3 = 8a^{-1 \cdot 3}b^{\frac{1}{3} \cdot 3} = 8a^{-3}b$ .



## EJERCICIO 227

Hallar el valor de:

1.  $(a^{-1})^2$ .
2.  $(a^{-2}b^{-1})^3$ .
3.  $(a^{\frac{3}{2}})^2$ .
4.  $(x^{\frac{3}{4}})^3$ .
5.  $(m^{\frac{3}{4}})^2$ .
6.  $(a^{-\frac{2}{3}})^3$ .
7.  $(x^{-4}y^4)^2$ .
8.  $(2a^{\frac{1}{2}}b^{\frac{1}{2}})^2$ .
9.  $(a^{-3}b^{-1})^4$ .
10.  $(\frac{2}{x^3y} - \frac{1}{2})^4$ .
11.  $(3a^{\frac{2}{3}}b^{-3})^6$ .
12.  $(2m^{-\frac{1}{2}}n^{-\frac{1}{3}})^8$ .

## 379 POTENCIAS DE POLINOMIOS CON EXPONENTES NEGATIVOS Y FRACCIONARIOS

Aplicaremos las reglas estudiadas para elevar un binomio a una potencia cualquiera y un polinomio al cuadrado o al cubo, a casos en que haya exponentes negativos y fraccionarios.

## Ejemplos

(1) Desarrollar  $(3a^{-3} + b^{-\frac{1}{2}})^2$ 

$$(3a^{-3} + b^{-\frac{1}{2}})^2 = (3a^{-3})^2 + 2(3a^{-3})(b^{-\frac{1}{2}}) + (b^{-\frac{1}{2}})^2 = 9a^{-6} - 6a^{-3}b^{-\frac{1}{2}} + b^{-1} \quad R.$$

(2) Desarrollar  $(x^{\frac{2}{3}} - 4y^{-2})^3$ 

$$\begin{aligned} (x^{\frac{2}{3}} - 4y^{-2})^3 &= (x^{\frac{2}{3}})^3 - 3(x^{\frac{2}{3}})^2(4y^{-2}) + 3(x^{\frac{2}{3}})(4y^{-2})^2 - (4y^{-2})^3 \\ &= x^2 - 12x^{\frac{4}{3}}y^{-2} + 48x^{\frac{2}{3}}y^{-4} - 64y^{-6} \quad R. \end{aligned}$$

(3) Desarrollar  $(a^{-\frac{2}{3}} - \sqrt{b})^6$ 

Convirtiendo la raíz en exponente fraccionario y aplicando la fórmula del Binomio de Newton, tendremos:

$$\begin{aligned} (a^{-\frac{2}{3}} - \sqrt{b})^6 &= (a^{-\frac{2}{3}} - b^{\frac{1}{2}})^6 \\ &= (a^{-\frac{2}{3}})^6 - 6(a^{-\frac{2}{3}})^5(b^{\frac{1}{2}}) + 15(a^{-\frac{2}{3}})^4(b^{\frac{1}{2}})^2 \\ &\quad - 20(a^{-\frac{2}{3}})^3(b^{\frac{1}{2}})^3 + 15(a^{-\frac{2}{3}})^2(b^{\frac{1}{2}})^4 - 6(a^{-\frac{2}{3}})(b^{\frac{1}{2}})^5 + (b^{\frac{1}{2}})^6 \\ &= a^{-4} - 6a^{-\frac{10}{3}}b^{\frac{1}{2}} + 15a^{-\frac{8}{3}}b - 20a^{-\frac{4}{3}}b^{\frac{3}{2}} + 15a^{-\frac{2}{3}}b^2 - 6a^{-\frac{2}{3}}b^{\frac{5}{2}} + b^3 \quad R. \end{aligned}$$

(4) Elevar al cuadrado  $x^{\frac{3}{4}} - x^{\frac{1}{4}} + x^{-\frac{1}{4}}$ 

Aplicando la regla del número (347), tenemos:

$$\begin{aligned} (x^{\frac{3}{4}} - x^{\frac{1}{4}} + x^{-\frac{1}{4}})^2 &= (x^{\frac{3}{4}})^2 + (-x^{\frac{1}{4}})^2 + (x^{-\frac{1}{4}})^2 \\ &\quad + 2(x^{\frac{3}{4}})(-x^{\frac{1}{4}}) + 2(x^{\frac{3}{4}})(x^{-\frac{1}{4}}) + 2(-x^{\frac{1}{4}})(x^{-\frac{1}{4}}) \\ &= x^{\frac{3}{2}} + x^{\frac{1}{2}} + x^{-\frac{1}{2}} - 2x + 2x^{\frac{1}{2}} - 2 \\ &= x^{\frac{3}{2}} - 2x + 3x^{\frac{1}{2}} - 2 + x^{-\frac{1}{2}} \quad R. \end{aligned}$$

(5) Elevar al cubo  $a^{\frac{1}{3}} - 2 + a^{-\frac{1}{3}}$ 

Aplicando la regla del número (348), tendremos:

$$\begin{aligned} (a^{\frac{1}{3}} - 2 + a^{-\frac{1}{3}})^3 &= (a^{\frac{1}{3}})^3 + (-2)^3 + (a^{-\frac{1}{3}})^3 - 3(a^{\frac{1}{3}})^2(-2) + 3(a^{\frac{1}{3}})(-2)^2 \\ &\quad + 3(-2)^2(a^{-\frac{1}{3}}) + 3(-2)(a^{-\frac{1}{3}})^2 - 3(a^{\frac{1}{3}})^2(a^{-\frac{1}{3}}) \\ &\quad + 3(a^{\frac{1}{3}})(a^{-\frac{1}{3}})^2 + 6(a^{\frac{1}{3}})(-2)(a^{-\frac{1}{3}}) \\ &= a - 8 + a^{-1} - 6a^{\frac{2}{3}} + 3a^{\frac{1}{3}} + 12a^{\frac{1}{3}} + 12a^{-\frac{1}{3}} + 3a^{-\frac{2}{3}} - 6a^{\frac{2}{3}} - 12 \\ &= a - 6a^{\frac{2}{3}} + 15a^{\frac{1}{3}} - 20 + 15a^{-\frac{1}{3}} - 6a^{-\frac{2}{3}} + a^{-1} \quad R. \end{aligned}$$

## EJERCICIO 228

Desarrollar:

1.  $(\frac{1}{a^2} + \frac{1}{b^2})^2$ .
2.  $(x^{\frac{3}{4}} - y^{\frac{1}{3}})^2$ .
3.  $(m^{-\frac{1}{2}} + 2n)^2$ .
4.  $(a^{-2}b^3 - a^3b^{-2})^2$ .
5.  $(a^{-1} - 3b^{-\frac{5}{4}})^2$ .
6.  $(a^{-2} + \sqrt{b})^2$ .
7.  $(\sqrt{x^3} - y^{-\frac{1}{2}})^2$ .
8.  $(m^{-2}n^{\frac{1}{4}} - m^{\frac{1}{2}}n^{-1})^2$ .
9.  $(\frac{1}{a^3} + \frac{1}{b^3})^3$ .
10.  $(\sqrt[3]{x^2} - 3y^{-1})^3$ .
11.  $(m^{\frac{2}{3}} + 4n^{-\frac{5}{2}})^3$ .
12.  $(2a^{-4} - 3b^{-\frac{1}{2}})^3$ .
13.  $(\sqrt{x} - \sqrt[3]{y})^3$ .
14.  $(\frac{1}{a^2} + \frac{2}{b^3})^4$ .
15.  $(x^{-2} - y^{-\frac{1}{3}})^3$ .
16.  $(\frac{1}{x^5} + y^{-\frac{3}{4}})^5$ .
17.  $(\sqrt{m} - \sqrt[3]{n})^3$ .
18.  $(a^2 - 2\sqrt{m})^6$ .
19.  $(x^{-3} + \sqrt[4]{y})^6$ .
20.  $(a^{-2} + 3a^{-1} + 2)^3$ .
21.  $(x^{\frac{1}{2}} - x^{\frac{1}{4}} + 2x^{-\frac{1}{4}})^3$ .
22.  $(a^{-\frac{1}{2}} + 3 + a^{\frac{1}{2}})^3$ .
23.  $(m + 2m^{\frac{3}{2}} - 3m^{\frac{1}{2}})^3$ .
24.  $(\frac{1}{a^2}b^{-\frac{1}{3}} - 2 + a^{-\frac{1}{2}}b^{\frac{1}{3}})^3$ .
25.  $(x^2 + x^{\frac{1}{2}} - 1)^3$ .
26.  $(a^{\frac{2}{3}} - 2 + a^{-\frac{2}{3}})^3$ .
27.  $(m^{\frac{1}{3}} + 2m^{\frac{1}{6}} + m^{\frac{1}{2}})^3$ .



### 380 RAICES DE POLINOMIOS CON EXPONENTES NEGATIVOS O FRACCIONARIOS

#### Ejemplo

Hallar la raíz cuadrada de  $a - 2a^{\frac{3}{4}} + a^{\frac{1}{2}} + 4a^{\frac{3}{4}} - 4 + 4a^{\frac{1}{2}} + a^{\frac{1}{2}}$ .

Ordenando el polinomio y aplicando la misma regla establecida en el número (363), tendremos:

$$\begin{array}{r}
 \sqrt{a - 2a^{\frac{3}{4}} + a^{\frac{1}{2}} + 4a^{\frac{3}{4}} - 4 + 4a^{\frac{1}{2}} + a^{\frac{1}{2}}} \\
 \underline{-a} \\
 -2a^{\frac{3}{4}} + a^{\frac{1}{2}} \\
 \underline{2a^{\frac{3}{4}} - a^{\frac{1}{2}}} \\
 4a^{\frac{1}{4}} - 4 + 4a^{\frac{1}{2}} \\
 \underline{-4a^{\frac{1}{4}} + 4 - 4a^{\frac{1}{2}}} \\
 0
 \end{array}$$

$$\begin{array}{l}
 \frac{1}{a^{\frac{1}{2}}} - a^{\frac{1}{4}} + 2a^{\frac{1}{4}} \\
 \left(2a^{\frac{1}{8}} - a^{\frac{1}{4}}\right) \left(-a^{\frac{1}{4}}\right) = -2a^{\frac{3}{4}} + a^{\frac{1}{2}} \\
 \left(2a^{\frac{1}{8}} - 2a^{\frac{1}{4}} + 2a^{\frac{1}{4}}\right) 2a^{\frac{1}{4}} = 4a^{\frac{1}{4}} - 4 + 4a^{\frac{1}{2}}
 \end{array}$$

#### EJERCICIO 229

Hallar la raíz cuadrada de:

- $x^{-4} + 13x^{-2} + 6x^{-1} + 4 + 12x^{-1}$
- $m + 11 + 6m^{-\frac{1}{2}} + 6m^{\frac{1}{2}} + m^{-1}$
- $9a^{\frac{2}{3}} + 25a^{\frac{2}{3}} - 6a + 16 - 8a^{\frac{1}{3}}$
- $a^2 + 4a^{\frac{1}{2}} - 2a^{\frac{3}{2}} - 12a^{\frac{1}{2}} + 9a$
- $mn^{-\frac{2}{3}} - 4m^{\frac{1}{3}}n^{-\frac{1}{3}} + 6 - 4m^{-\frac{1}{3}}n^{\frac{2}{3}} + m^{-1}n^{\frac{2}{3}}$
- $a^{\frac{4}{5}} - 8a^{\frac{3}{5}} + 10a^{\frac{2}{5}} + 24a^{\frac{1}{5}} + 9$

Hallar la raíz cúbica de:

- $a^{-3} - 6a^{-\frac{5}{2}} + 21a^{-2} - 44a^{-\frac{3}{2}} + 63a^{-1} - 54a^{-\frac{1}{2}} + 27$
- $x^2 - 6x^{\frac{4}{3}} + 15x^{\frac{2}{3}} - 20 + 15x^{-\frac{2}{3}} - 6x^{-\frac{4}{3}} + x^{-2}$
- $a^{\frac{3}{2}} + 3a^{\frac{3}{2}} - 5a^{\frac{3}{2}} + 3a^{\frac{1}{2}} - 1$

### 381 RAIZ CUADRA DE UN POLINOMIO CON TERMINOS FRACCIONARIOS USANDO LA FORMA DE EXPONENTES NEGATIVOS

El uso de los exponentes negativos nos evita tener que trabajar con fracciones algebraicas al extraer una raíz a polinomios con términos fraccionarios.

#### Ejemplo

Hallar la raíz cuadrada de  $\frac{4a^2}{x^2} - \frac{8a}{x} + 16 - \frac{12x}{a} + \frac{9x^2}{a^2}$ .

Pasando los factores literales de los denominadores a los numeradores cambiando el signo a sus exponentes (370), tendremos:

$$4a^2x^{-2} - 8ax^{-1} + 16 - 12a^{-1}x + 9a^{-2}x^2$$

Ahora extraemos la raíz cuadrada de este polinomio:

$$\begin{array}{r}
 \sqrt{4a^2x^{-2} - 8ax^{-1} + 16 - 12a^{-1}x + 9a^{-2}x^2} \\
 \underline{-4a^2x^{-2}} \\
 -8ax^{-1} + 16 \\
 \underline{8ax^{-1} - 4} \\
 12 - 12a^{-1}x + 9a^{-2}x^2 \\
 \underline{-12 + 12a^{-1}x - 9a^{-2}x^2} \\
 0
 \end{array}$$


$$\begin{array}{l}
 2ax^{-1} - 2 + 3a^{-1}x \\
 (4ax^{-1} - 2)(-2) = -8ax^{-1} + 4 \\
 (4ax^{-1} - 4 + 3a^{-1}x)3a^{-1}x \\
 = 12 - 12a^{-1}x + 9a^{-2}x^2
 \end{array}$$

#### EJERCICIO 230

Extraer la raíz cuadrada de los polinomios siguientes pasando los factores literales de los denominadores a los numeradores:

- $\frac{a^2}{x^2} - \frac{2x}{3a} + \frac{1}{9} - \frac{2a}{3x} + \frac{x^2}{a^2}$
- $x^2 - 4 + \frac{2}{x} + \frac{4}{x^2} - \frac{4}{x^3} + \frac{1}{x^4}$
- $a^4 - 10a + 4 + \frac{25}{a^2} - \frac{20}{a^3} + \frac{4}{a^4}$
- $\frac{m^4}{4} - 5m^2 + 28 - \frac{30}{m^2} + \frac{9}{m^4}$
- $\frac{4x^2}{25y^2} + 1\frac{7}{12} - \frac{5y}{3x} - \frac{2x}{5y} + \frac{25y^2}{9x^2}$
- $\frac{a^4}{9} + \frac{2a^3}{3x} + \frac{a^2}{x^2} - \frac{2ax}{3} - 2 + \frac{x^2}{a^2}$
- $9m^4 + 30m^2 + 55 + \frac{50}{m^2} + \frac{25}{m^4}$
- $\frac{4a^2b^2}{49x^2y^2} - \frac{2ab}{7xy} + \frac{21}{20} - \frac{7xy}{5ab} + \frac{49x^2y^2}{25a^2b^2}$
- $\frac{a}{b^{\frac{2}{3}}} - \frac{4a^{\frac{1}{2}}}{b^{\frac{1}{3}}} + 6 - \frac{4b^{\frac{1}{3}}}{a^{\frac{1}{2}}} + \frac{b^{\frac{2}{3}}}{a}$
- $\frac{a^4}{b^{-4}} + \frac{6a^2}{b^{-2}} + 7 - \frac{6b^{-2}}{a^2} + \frac{1}{a^4b^4}$
- $\frac{x}{y^{-\frac{2}{3}}} - \frac{8y^{\frac{1}{3}}}{x^{-\frac{1}{2}}} + 18 - \frac{8x^{-\frac{1}{2}}}{y^{\frac{1}{3}}} + \frac{1}{xy^{\frac{2}{3}}}$





AUGUSTIN-LUI CAUCHY (1789-1857) Matemático. Su vida estuvo sometida a los azares de las revoluciones y contrarrevoluciones que primaron en su tiempo. Legitimista convencido, no aceptó la Academia para no tener que jurar ante

la Revolución. Fue profesor de matemáticas en Turín. Fue uno de los precursores de la corriente rigorista en esta disciplina. Comenzó la creación sistemática de la teoría de los grupos, tan imprescindible en la matemática moderna. Dio una definición de las funciones.

## CAPITULO XXXI

### RADICALES

**382 RADICAL**, en general, es toda raíz indicada de una cantidad.

Si una raíz indicada es exacta, tenemos una cantidad racional, y si no lo es, irracional.

Así,  $\sqrt{4a^2}$  es una cantidad racional y  $\sqrt{3a}$  es una cantidad irracional. Las raíces indicadas inexactas o cantidades irracionales son los radicales propiamente dichos.

El grado de un radical es el índice de la raíz. Así,  $\sqrt{x}$  es un radical de segundo grado,  $\sqrt[3]{3a}$  es un radical de tercer grado.

**383 RADICALES SEMEJANTES** son radicales del mismo grado y que tienen la misma cantidad subradical.

Así,  $2\sqrt{3}$ ,  $5\sqrt{3}$  y  $\frac{1}{2}\sqrt{3}$  son radicales semejantes;  $2\sqrt{3}$  y  $5\sqrt{2}$  no son semejantes.

### REDUCCION DE RADICALES

**384 REDUCIR UN RADICAL** es cambiar su forma sin cambiar su valor.

## I. SIMPLIFICACION DE RADICALES

**385 SIMPLIFICAR UN RADICAL** es reducirlo a su más simple expresión.

Un radical está reducido a su más simple expresión cuando la cantidad subradical es entera y del menor grado posible.

Para simplificar radicales debe tenerse muy presente (361) que para extraer una raíz a un producto se extrae dicha raíz a cada uno de sus factores, o sea,

$$\sqrt[n]{abc} = \sqrt[n]{a} \cdot \sqrt[n]{b} \cdot \sqrt[n]{c}$$

En la simplificación de radicales consideraremos los dos casos siguientes:

### CASO I

Cuando la cantidad subradical contiene factores cuyo exponente es divisible por el índice.

### Ejemplos

(1) Simplificar  $\sqrt{9a^3}$ .

$$\sqrt{9a^3} = \sqrt{3^2 \cdot a^2 \cdot a} = \sqrt{3^2} \cdot \sqrt{a^2} \cdot \sqrt{a} = 3a\sqrt{a} \quad R.$$

(2) Simplificar  $2\sqrt{75x^4y^5}$ .

$$2\sqrt{75x^4y^5} = 2\sqrt{3 \cdot 5^2 \cdot x^4 \cdot y^4 \cdot y} = 2\sqrt{5^2} \cdot \sqrt{x^4} \cdot \sqrt{y^4} \cdot \sqrt{3y} = 2 \cdot 5 \cdot x^2 \cdot y^2 \cdot \sqrt{3y} = 10x^2y^2\sqrt{3y} \quad R.$$

En la práctica no se indican las raíces, sino que una vez arreglados los factores de la cantidad subradical, aquellos cuyo exponente sea divisible por el índice, se sacan del radical dividiendo su exponente por el índice.

(3) Simplificar  $\frac{1}{7}\sqrt{49x^3y^7}$ .

$$\frac{1}{7}\sqrt{49x^3y^7} = \frac{1}{7}\sqrt{7^2 \cdot x^2 \cdot x \cdot y^6 \cdot y} = \frac{1}{7} \times 7xy^3\sqrt{xy} = xy^3\sqrt{xy} \quad R.$$

(4) Simplificar  $4\sqrt[3]{250a^3b^6}$ .

$$4\sqrt[3]{250a^3b^6} = 4\sqrt[3]{2 \cdot 5^3 \cdot a^3 \cdot b^6 \cdot b^2} = 4 \cdot 5ab^2\sqrt[3]{2b^2} = 20ab^2\sqrt[3]{2b^2} \quad R.$$

(5) Simplificar  $\frac{8}{2}\sqrt[3]{32mn^3}$ .

$$\frac{8}{2}\sqrt[3]{32mn^3} = \frac{8}{2}\sqrt[3]{2^5 \cdot 2 \cdot mn^3} = \frac{8}{2} \times 2n\sqrt[3]{2m} = 3n^2\sqrt[3]{2m} \quad R.$$

(6) Simplificar  $\sqrt{4a^4 - 8a^3b}$ .

$$\sqrt{4a^4 - 8a^3b} = \sqrt{4a^3(a - 2b)} = \sqrt{2^2 \cdot a^2 \cdot a(a - 2b)} = 2a\sqrt{a(a - 2b)} \quad R.$$

(7) Simplificar  $\sqrt{3x^2 - 12x + 12}$ .

$$\sqrt{3x^2 - 12x + 12} = \sqrt{3(x^2 - 4x + 4)} = \sqrt{3(x - 2)^2} = (x - 2)\sqrt{3} \quad R.$$

### EJERCICIO 231

Simplificar:

- |                   |                                 |                       |                                    |                                  |
|-------------------|---------------------------------|-----------------------|------------------------------------|----------------------------------|
| 1. $\sqrt{18}$ .  | 3. $\sqrt[3]{16}$ .             | 5. $2\sqrt[3]{243}$ . | 7. $3\sqrt{81x^3y^4}$ .            | 9. $\frac{3}{5}\sqrt{125mn^5}$ . |
| 2. $3\sqrt{48}$ . | 4. $\frac{1}{2}\sqrt[3]{128}$ . | 6. $\sqrt{50a^2b}$ .  | 8. $\frac{1}{2}\sqrt{108a^2b^2}$ . | 10. $2a\sqrt{44a^3b^2}$ .        |



11.  $2\sqrt[3]{16x^2y^7}$  17.  $2xy\sqrt[3]{128x^2y^6}$  22.  $\sqrt{3a^3b^2-3a^2b^2}$   
 12.  $\frac{2}{3}\sqrt[3]{27m^2n^6}$  18.  $\frac{1}{na}\sqrt{27a^3m^2}$  23.  $\sqrt{8x^2y^4+16xy^4}$   
 13.  $5a\sqrt[3]{160x^3y^3z^{15}}$  19.  $\frac{2}{5a}\sqrt[3]{375a^6b}$  24.  $\sqrt{2x^2-4xy+2y^2}$   
 14.  $\sqrt[3]{80a^4b^3c^{12}}$  20.  $\frac{1}{3}\sqrt[3]{81a^4b}$  25.  $\sqrt{(a-b)(a^2-b^2)}$   
 15.  $3\sqrt[3]{5x^6y^{12}z^{16}}$  21.  $\sqrt{9a+18b}$  26.  $\sqrt{2am^2+4amn+2an^2}$   
 16.  $\frac{2}{6}\sqrt[3]{32x^2y^{11}}$  27.  $\sqrt{9a^3-36a^2+36a}$

(8) Simplificar  $\sqrt{\frac{2}{3}}$ .

Cuando la cantidad subradical es una fracción y el denominador es irracional hay que multiplicar ambos términos de la fracción por la cantidad necesaria para que el denominador tenga raíz exacta. Así,

$$\sqrt{\frac{2}{3}} = \sqrt{\frac{2 \cdot 3}{3 \cdot 3}} = \sqrt{\frac{6}{3^2}} = \frac{1}{3}\sqrt{6} \quad R.$$

(9) Simplificar  $2\sqrt{\frac{9a^2}{8x^5}}$ .

$$2\sqrt{\frac{9a^2}{8x^5}} = 2\sqrt{\frac{3^2 \cdot a^2}{2^3 \cdot x^5}} = 2\sqrt{\frac{3^2 \cdot a^2 \cdot 2 \cdot x}{2^4 \cdot x^6}} = \frac{2 \cdot 3a}{4x^3} \sqrt{2x} = \frac{3a}{2x^3} \sqrt{2x} \quad R.$$

### EJERCICIO 232

Simplificar:

1.  $\sqrt{\frac{1}{5}}$  4.  $3\sqrt{\frac{1}{6}}$  7.  $\frac{3}{2}\sqrt{\frac{4a^2}{27y^3}}$  10.  $\sqrt[3]{\frac{2}{3}}$  13.  $2b^2\sqrt[3]{\frac{125}{4b^6}}$   
 2.  $\sqrt{\frac{3}{8}}$  5.  $\frac{1}{2}\sqrt{\frac{2}{3}}$  8.  $5\sqrt{\frac{9n}{5m^3}}$  11.  $5\sqrt[3]{\frac{1}{5}}$  14.  $\frac{2}{3}\sqrt[3]{\frac{27x^2}{16a^2b^4}}$   
 3.  $\sqrt{\frac{1}{2}}$  6.  $\sqrt{\frac{a^2}{8x}}$  9.  $6\sqrt{\frac{5a^3}{24x^2}}$  12.  $\sqrt[3]{\frac{8}{9x^2}}$  15.  $2xy\sqrt[4]{\frac{81a^2}{4x^2y}}$

### CASO II

Cuando los factores de la cantidad subradical y el índice tienen un divisor común.

### Ejemplos

(1) Simplificar  $\sqrt[4]{4a^2}$ .

$$\sqrt[4]{4a^2} = \sqrt[4]{2^2 \cdot a^2} = 2^{\frac{2}{4}} \cdot a^{\frac{2}{4}} = 2^{\frac{1}{2}} \cdot a^{\frac{1}{2}} = \sqrt{2a} \quad R.$$

Lo que se hace, prácticamente, es dividir el índice y los exponentes de los factores por su divisor común.

(2) Simplificar  $\sqrt[6]{9a^3x^2}$ .

$$\sqrt[6]{9a^3x^2} = \sqrt[6]{3^2 \cdot a^3 \cdot x^2} = 3^{\frac{2}{6}} \cdot a^{\frac{3}{6}} \cdot x^{\frac{2}{6}} = 3^{\frac{1}{3}} \cdot a^{\frac{1}{2}} \cdot x^{\frac{1}{3}} = \sqrt[3]{3ax} \quad R.$$

Lo que hemos hecho, prácticamente, es dividir el índice 6 y los exponentes de los factores entre 2.

(3) Simplificar  $\sqrt[15]{27x^3y^6}$ .

$$\sqrt[15]{27x^3y^6} = \sqrt[15]{3^3 \cdot x^3 \cdot y^6} = \sqrt[3]{3xy^2} \quad R.$$

Hemos dividido el índice 15 y los exponentes de los factores por 3.

### EJERCICIO 233

Simplificar:

1.  $\sqrt[3]{9}$  4.  $\sqrt[3]{16}$  7.  $5\sqrt[3]{49a^2b^4}$  10.  $\sqrt[3]{64m^6n^{18}}$   
 2.  $\sqrt[3]{4}$  5.  $3\sqrt[3]{64}$  8.  $\sqrt[3]{81x^4y^6}$  11.  $\sqrt[3]{343a^3x^{12}}$   
 3.  $\sqrt[3]{27}$  6.  $\sqrt[3]{25a^2b^2}$  9.  $\sqrt[3]{32x^{10}y^{15}}$  12.  $\sqrt[3]{m^{10}n^{15}x^{20}}$

### II. INTRODUCCION DE CANTIDADES BAJO EL SIGNO RADICAL

386 Esta operación es inversa a la simplificación de radicales.

Para introducir el coeficiente de un radical bajo el signo radical se eleva dicho coeficiente a la potencia que indique el índice del radical.

### Ejemplos

(1) Introducir el coeficiente de  $2\sqrt{a}$  bajo el signo radical.

$$2\sqrt{a} = \sqrt{2^2 \cdot a} = \sqrt{4a} \quad R.$$

Cuando el coeficiente de un radical es 1 el radical es entero. Así,  $\sqrt{4a}$  es un radical entero.

(2) Hacer entero el radical  $3a^2\sqrt[3]{a^2b}$ .

$$3a^2\sqrt[3]{a^2b} = \sqrt[3]{(3a^2)^3 \cdot a^2b} = \sqrt[3]{77a^6b} \quad R.$$

(3) Hacer entero  $|1-a|\sqrt{\frac{1+a}{1-a}}$ .

$$|1-a|\sqrt{\frac{1+a}{1-a}} = \sqrt{\frac{(1-a)^2(1+a)}{1-a}} = \sqrt{(1-a)(1+a)} = \sqrt{1-a^2} \quad R.$$

### EJERCICIO 234

Hacer enteros los radicales:

1.  $2\sqrt{3}$  4.  $\frac{1}{2}\sqrt{2}$  7.  $ab^2\sqrt[3]{a^2b}$  10.  $(a+b)\sqrt{\frac{a}{a+b}}$   
 2.  $3\sqrt{5}$  5.  $3a\sqrt{2a^2}$  8.  $4m\sqrt[3]{2m^2}$  11.  $(x+1)\sqrt{\frac{2x}{x+1}}$   
 3.  $5a\sqrt{b}$  6.  $5x^2y\sqrt{3}$  9.  $2a\sqrt[3]{8ab^3}$  12.  $(x-1)\sqrt{\frac{x-2}{x-1}}$



## II. REDUCCION DE RADICALES AL MINIMO COMUN INDICE

**387** Esta operación tiene por objeto convertir radicales de distinto índice en radicales equivalentes que tengan el mismo índice. Para ello, se aplica la siguiente:

## REGLA

Se halla el m. c. m. de los índices, que será el índice común, y se eleva cada cantidad subradical a la potencia que resulta de dividir el índice común entre el índice de su radical.

## Ejemplos

(1) Reducir al mínimo común índice  $\sqrt{3}$ ,  $\sqrt[3]{5}$ ,  $\sqrt[4]{2}$ .

El m. c. m. de los índices 2, 3 y 4 es 12. Este es el índice común. Tendremos:

$$\sqrt{3} = \sqrt[12]{3^6} = \sqrt[12]{729}$$

$$\sqrt[3]{5} = \sqrt[12]{5^4} = \sqrt[12]{625}$$

$$\sqrt[4]{2} = \sqrt[12]{2^3} = \sqrt[12]{8} \quad \text{R.}$$

Dividimos el índice común 12 entre el índice de  $\sqrt{3}$  que es 2, nos da de cociente 6 y elevamos la cantidad subradical 3 a la sexta potencia; dividimos  $12 \div 3 = 4$  y elevamos la cantidad subradical 5 a la cuarta potencia; dividimos  $12 \div 4 = 3$  y elevamos la cantidad subradical 2 al cubo.

Los radicales obtenidos son equivalentes a los radicales dados. En efecto: Expresando los radicales con exponentes fraccionarios y reduciendo estos exponentes fraccionarios al mínimo común denominador, tenemos:

$$\sqrt{3} = 3^{\frac{1}{2}} = 3^{\frac{6}{12}} = \sqrt[12]{3^6} = \sqrt[12]{729}$$

$$\sqrt[3]{5} = 5^{\frac{1}{3}} = 5^{\frac{4}{12}} = \sqrt[12]{5^4} = \sqrt[12]{625}$$

$$\sqrt[4]{2} = 2^{\frac{1}{4}} = 2^{\frac{3}{12}} = \sqrt[12]{2^3} = \sqrt[12]{8}$$

(2) Reducir al mínimo común índice  $\sqrt{2a}$ ,  $\sqrt[3]{3a^2b}$  y  $\sqrt[4]{15a^3x^2}$ .

El m. c. m. de los índices 2, 3 y 4 es 6. Dividiendo 6 entre cada índice, tendremos:

$$\sqrt{2a} = \sqrt[6]{(2a)^3} = \sqrt[6]{8a^3}$$

$$\sqrt[3]{3a^2b} = \sqrt[6]{(3a^2b)^2} = \sqrt[6]{9a^4b^2}$$

$$\sqrt[4]{15a^3x^2} = \sqrt[6]{15a^3x^2} \quad \text{R.}$$

## EJERCICIO 235

Reducir al mínimo común índice:

- |   |  |  |
|---|--|--|
| $\sqrt[3]{2}$                                 | 5. $\sqrt{5x}$ , $\sqrt[3]{4x^2y}$ , $\sqrt[4]{7a^3b}$       | 9. $\sqrt[3]{3a}$ , $\sqrt[4]{2b^2}$ , $\sqrt[5]{7x^3}$              |
| $\sqrt[3]{3}$                                 | 6. $\sqrt[3]{2ab}$ , $\sqrt[4]{3a^2x}$ , $\sqrt[5]{5a^3x^2}$ | 10. $2\sqrt[3]{a}$ , $3\sqrt[4]{2b}$ , $4\sqrt[5]{5x^3}$             |
| $\sqrt[4]{4}$ , $\sqrt[4]{8}$                 | 7. $\sqrt[3]{8a^2x^3}$ , $\sqrt[4]{3a^3m^4}$                 | 11. $3\sqrt[3]{a^2}$ , $\frac{1}{2}\sqrt[4]{b^3}$ , $4\sqrt[5]{x^6}$ |
| $\sqrt[3]{3}$ , $\sqrt[4]{5}$ , $\sqrt[5]{7}$ | 8. $\sqrt[3]{x^2}$ , $\sqrt[4]{2y^3}$ , $\sqrt[5]{5m^4}$     | 12. $\sqrt{2m}$ , $3\sqrt[3]{a^3x^4}$ , $2\sqrt[4]{x^4y^2}$          |

**388** Lo anterior nos permite conocer las magnitudes relativas de varios radicales de distinto índice.

## Ejemplo

Ordenar  $\sqrt[3]{7}$ ,  $\sqrt{3}$  y  $\sqrt[4]{5}$  en orden decreciente de magnitudes.

Los reducimos al mínimo común índice y una vez hecho esto, las magnitudes relativas de las cantidades subradicales nos dan las magnitudes relativas de los radicales:

$$\sqrt[3]{7} = \sqrt[12]{7^4} = \sqrt[12]{343}$$

$$\sqrt{3} = \sqrt[12]{3^6} = \sqrt[12]{729}$$

$$\sqrt[4]{5} = \sqrt[12]{5^3} = \sqrt[12]{625}$$

Luego el orden decreciente de magnitudes es  $\sqrt{3}$ ,  $\sqrt[4]{5}$  y  $\sqrt[3]{7}$ .

## EJERCICIO 236

Escribir en orden decreciente de magnitudes:

- |                                   |  |   |
|-----------------------------------|--|---|
| 1. $\sqrt{5}$ , $\sqrt[3]{2}$     | 3. $\sqrt{11}$ , $\sqrt[4]{43}$                | 5. $\sqrt[3]{3}$ , $\sqrt[4]{4}$ , $\sqrt[5]{15}$ |
| 2. $\sqrt[3]{15}$ , $\sqrt[4]{7}$ | 4. $\sqrt{3}$ , $\sqrt[4]{5}$ , $\sqrt[5]{32}$ | 6. $\sqrt[3]{2}$ , $\sqrt[4]{3}$ , $\sqrt[5]{9}$  |

## 389 REDUCCION DE RADICALES SEMEJANTES

Los radicales semejantes, o sea los radicales del mismo grado que tienen igual cantidad subradical, se reducen como términos semejantes que son, hallando la suma algebraica de los coeficientes y poniendo esta suma como coeficiente de la parte radical común.

## Ejemplos

$$(1) 3\sqrt{2} + 5\sqrt{2} = (3+5)\sqrt{2} = 8\sqrt{2} \quad \text{R.}$$

$$(2) 9\sqrt{3} - 11\sqrt{3} = (9-11)\sqrt{3} = -2(\sqrt{3}) \quad \text{R.}$$

$$(3) 4\sqrt{2} - 7\sqrt{2} + \sqrt{2} = (4-7+1)\sqrt{2} = -2\sqrt{2} \quad \text{R.}$$

$$(4) \frac{2}{3}\sqrt{7} - \frac{5}{4}\sqrt{7} = \left(\frac{2}{3} - \frac{5}{4}\right)\sqrt{7} = -\frac{1}{12}\sqrt{7} \quad \text{R.}$$

$$(5) 7\sqrt{2} - \frac{1}{2}\sqrt{2} + \frac{5}{4}\sqrt{2} = \frac{20}{4}\sqrt{2} - \frac{2}{4}\sqrt{2} + \frac{5}{4}\sqrt{2} = \frac{23}{4}\sqrt{2} \quad \text{R.}$$

$$(6) 3a\sqrt{5} - b\sqrt{5} + (2b-3a)\sqrt{5} = (3a-b+2b-3a)\sqrt{5} = b\sqrt{5} \quad \text{R.}$$

## EJERCICIO 237

Reducir:

- |  |   |
|--|---|
| 1. $7\sqrt{2} - 15\sqrt{2}$              | 4. $\sqrt{2} - 9\sqrt{2} + 30\sqrt{2} - 40\sqrt{2}$ |
| 2. $4\sqrt{3} - 20\sqrt{3} + 19\sqrt{3}$ | 5. $\frac{3}{4}\sqrt{2} - \frac{1}{2}\sqrt{2}$      |
| 3. $\sqrt{5} - 22\sqrt{5} - 8\sqrt{5}$   | 6. $\frac{1}{2}\sqrt{3} - \sqrt{3}$                 |



7.  $2\sqrt{5} - \frac{1}{2}\sqrt{5} + \frac{1}{3}\sqrt{5}$ .  
 8.  $\frac{1}{4}\sqrt{3} + 5\sqrt{3} - \frac{1}{8}\sqrt{3}$ .  
 9.  $a\sqrt{b} - 3a\sqrt{b} + 7a\sqrt{b}$ .  
 10.  $3x\sqrt{y} + (a-x)\sqrt{y} - 2x\sqrt{y}$ .  
 11.  $(x-1)\sqrt{3} + (x-3)\sqrt{3} + 4\sqrt{3}$ .  
 12.  $\frac{1}{3}\sqrt[3]{2} - \frac{1}{4}\sqrt[3]{2} + 2\sqrt[3]{2}$ .  
 13.  $\frac{1}{5}\sqrt[3]{2} - \frac{1}{3}\sqrt[3]{2} + \frac{1}{6}\sqrt[3]{2}$ .  
 14.  $x\sqrt[3]{a^2} - (a-2x)\sqrt[3]{a^2} + (2a-3x)\sqrt[3]{a^2}$ .

## OPERACIONES CON RADICALES

## I. SUMA Y RESTA DE RADICALES

## 390 REGLA

Se simplifican los radicales dados; se reducen los radicales semejantes y a continuación se escriben los radicales no semejantes con su propio signo.

## Ejemplos

- (1) Simplificar  $2\sqrt{450} + 9\sqrt{12} - 7\sqrt{48} - 3\sqrt{98}$ .

Simplificando, tendremos:

$$2\sqrt{450} = 2\sqrt{2 \cdot 3^2 \cdot 5^2} = 30\sqrt{2}$$

$$9\sqrt{12} = 9\sqrt{2^2 \cdot 3} = 18\sqrt{3}$$

$$7\sqrt{48} = 7\sqrt{2^4 \cdot 3} = 28\sqrt{3}$$

$$3\sqrt{98} = 3\sqrt{2 \cdot 7^2} = 21\sqrt{2}$$

Entonces:

$$2\sqrt{450} + 9\sqrt{12} - 7\sqrt{48} - 3\sqrt{98} = 30\sqrt{2} + 18\sqrt{3} - 28\sqrt{3} - 21\sqrt{2} \\ = (30 - 21)\sqrt{2} + (18 - 28)\sqrt{3} = 9\sqrt{2} - 10\sqrt{3} \quad R.$$

- (2) Simplificar  $\frac{1}{4}\sqrt{80} - \frac{1}{9}\sqrt{63} - \frac{1}{5}\sqrt{180}$ .

$$\frac{1}{4}\sqrt{80} = \frac{1}{4}\sqrt{2^4 \cdot 5} = \frac{1}{4} \times 4\sqrt{5} = \sqrt{5}$$

$$\frac{1}{9}\sqrt{63} = \frac{1}{9}\sqrt{3^2 \cdot 7} = \frac{1}{9} \times 3\sqrt{7} = \frac{1}{3}\sqrt{7}$$

$$\frac{1}{5}\sqrt{180} = \frac{1}{5}\sqrt{2^2 \cdot 3^2 \cdot 5} = \frac{1}{5} \times 6\sqrt{5} = \frac{6}{5}\sqrt{5}$$

Entonces:

$$\frac{1}{4}\sqrt{80} - \frac{1}{9}\sqrt{63} - \frac{1}{5}\sqrt{180} = \sqrt{5} - \frac{1}{3}\sqrt{7} - \frac{6}{5}\sqrt{5} \\ = (1 - \frac{6}{5})\sqrt{5} - \frac{1}{3}\sqrt{7} = \frac{1}{5}\sqrt{5} - \frac{1}{3}\sqrt{7} \quad R.$$

- (3) Simplificar  $\sqrt{\frac{1}{9}} - \sqrt{\frac{4}{5}} + \sqrt{\frac{1}{12}}$

Hay que racionalizar los denominadores:

$$\sqrt{\frac{1}{9}} = \sqrt{\frac{3}{3^2}} = \frac{1}{3}\sqrt{3}$$

$$\sqrt{\frac{4}{5}} = \sqrt{\frac{4 \cdot 5}{5^2}} = \frac{2}{5}\sqrt{5}$$

$$\sqrt{\frac{1}{12}} = \sqrt{\frac{1}{2^2 \cdot 3}} = \sqrt{\frac{3}{2^2 \cdot 3^2}} = \frac{1}{2}\sqrt{3}$$

Entonces:

$$\sqrt{\frac{1}{9}} - \sqrt{\frac{4}{5}} + \sqrt{\frac{1}{12}} = \frac{1}{3}\sqrt{3} - \frac{2}{5}\sqrt{5} + \frac{1}{6}\sqrt{3} = \frac{1}{2}\sqrt{3} - \frac{2}{5}\sqrt{5} \quad R.$$

- (4) Simplificar  $2\sqrt{2ab^2} + \sqrt{18a^3} - (a+2b)\sqrt{2a}$ .

$$2\sqrt{2ab^2} = 2b\sqrt{2a}$$

$$\sqrt{18a^3} = 3a\sqrt{2a}$$

Entonces:

$$2\sqrt{2ab^2} + \sqrt{18a^3} - (a+2b)\sqrt{2a} = 2b\sqrt{2a} + 3a\sqrt{2a} - (a+2b)\sqrt{2a} \\ = (2b+3a-a-2b)\sqrt{2a} = 2a\sqrt{2a} \quad R.$$

## NOTA

Radicales no semejantes no se pueden reducir. Para sumar radicales no semejantes, simplemente se forma con ellos una expresión algebraica que los contenga a todos sin alterar los signos. Así, la suma de  $\sqrt{2} - 2\sqrt{3} + 3\sqrt{5}$  es  $\sqrt{2} - 2\sqrt{3} + 3\sqrt{5}$ .

## EJERCICIO 238

Simplificar:

1.  $\sqrt{45} - \sqrt{27} - \sqrt{20}$ .

2.  $\sqrt{175} + \sqrt{243} - \sqrt{63} - 2\sqrt{75}$ .

3.  $\sqrt{80} - 2\sqrt{252} + 3\sqrt{405} - 3\sqrt{500}$ .

4.  $7\sqrt{450} - 4\sqrt{320} + 3\sqrt{80} - 5\sqrt{800}$ .

5.  $\frac{1}{2}\sqrt{12} - \frac{1}{3}\sqrt{18} + \frac{1}{4}\sqrt{48} + \frac{1}{6}\sqrt{72}$ .

6.  $\frac{3}{4}\sqrt{176} - \frac{2}{3}\sqrt{45} + \frac{1}{8}\sqrt{320} + \frac{1}{5}\sqrt{275}$ .

7.  $\frac{1}{7}\sqrt{147} - \frac{1}{5}\sqrt{700} + \frac{1}{10}\sqrt{28} + \frac{1}{3}\sqrt{2187}$ .

8.  $\sqrt{\frac{1}{3}} - \sqrt{\frac{1}{2}} + \sqrt{\frac{3}{4}}$ .

9.  $\sqrt{\frac{8}{9}} - \sqrt{\frac{1}{6}} - \sqrt{\frac{1}{20}} + \sqrt{\frac{1}{5}}$ .

10.  $\frac{5}{3}\sqrt{\frac{8}{9}} - \frac{1}{2}\sqrt{\frac{3}{4}} - 5\sqrt{\frac{1}{15}} + 3\sqrt{\frac{1}{18}}$ .

11.  $5\sqrt{128} - \frac{1}{3}\sqrt{\frac{1}{3}} - 5\sqrt{98} + \sqrt{\frac{1}{9}}$ .

12.  $2\sqrt{700} - 15\sqrt{\frac{1}{45}} + 4\sqrt{\frac{8}{10}} - 50\sqrt{\frac{1}{1}}$ .

13.  $\sqrt{25ax^2} + \sqrt{49b} - \sqrt{9ax^2}$ .

14.  $2\sqrt{m^2n} - \sqrt{9m^2n} + \sqrt{16mn^2} - \sqrt{4mn^2}$ .

15.  $a\sqrt{320x} - 7\sqrt{5a^2x} - (a-4b)\sqrt{5x}$ .

16.  $\sqrt{9x-9} + \sqrt{4x-4} - 5\sqrt{x-1}$ .

17.  $2\sqrt{a^4x+3a^4y} - a^2\sqrt{9x+27y} + \sqrt{25a^4x+75a^4y}$ .

18.  $3a\sqrt{\frac{a+1}{a^2}} - \sqrt{4a+4} + (a+1)\sqrt{\frac{1}{a+1}}$ .

19.  $(a-b)\sqrt{\frac{a+b}{a-b}} - (a+b)\sqrt{\frac{a-b}{a+b}} + (2a-2b)\sqrt{\frac{1}{a-b}}$ .

- (5) Simplificar  $3\sqrt[3]{108} + \frac{1}{10}\sqrt[3]{625} + \frac{1}{7}\sqrt[3]{1715} - 4\sqrt[3]{32}$ .

Simplificando:

$$3\sqrt[3]{108} = 3\sqrt[3]{2^2 \cdot 3^3} = 9\sqrt[3]{4}$$

$$\frac{1}{10}\sqrt[3]{625} = \frac{1}{10}\sqrt[3]{5^5 \cdot 5} = \frac{1}{2}\sqrt[3]{5}$$

$$\frac{1}{7}\sqrt[3]{1715} = \frac{1}{7}\sqrt[3]{5 \cdot 7^3 \cdot 7} = \sqrt[3]{5}$$

$$4\sqrt[3]{32} = 4\sqrt[3]{2^5 \cdot 2} = 8\sqrt[3]{4}$$



Entonces:

$$3\sqrt[3]{108} + \frac{1}{10}\sqrt[3]{625} + \frac{1}{7}\sqrt[3]{1715} - 4\sqrt[3]{32} = 9\sqrt[3]{4} + \frac{1}{2}\sqrt[3]{5} + \sqrt[3]{5} - 8\sqrt[3]{4} \\ = \sqrt[3]{4} + \frac{3}{2}\sqrt[3]{5} \quad \text{R.}$$

(6) Simplificar  $\sqrt[3]{\frac{8}{4}} - \sqrt[3]{\frac{2}{9}} + \sqrt[3]{\frac{8}{16}}$ .

Hay que racionalizar los denominadores:

$$\sqrt[3]{\frac{8}{4}} = \sqrt[3]{\frac{3}{2^2}} = \sqrt[3]{\frac{3 \cdot 2}{2^3}} = \frac{1}{2}\sqrt[3]{6}$$

$$\sqrt[3]{\frac{2}{9}} = \sqrt[3]{\frac{2}{3^2}} = \sqrt[3]{\frac{2 \cdot 3}{3^3}} = \frac{1}{3}\sqrt[3]{6}$$

$$\sqrt[3]{\frac{8}{16}} = \sqrt[3]{\frac{3}{2^4}} = \sqrt[3]{\frac{3 \cdot 2^3}{2^6}} = \frac{1}{4}\sqrt[3]{12}$$

Entonces:

$$\frac{1}{2}\sqrt[3]{6} - \frac{1}{3}\sqrt[3]{6} + \frac{1}{4}\sqrt[3]{12} = \frac{1}{2}\sqrt[3]{6} - \frac{1}{3}\sqrt[3]{6} + \frac{1}{4}\sqrt[3]{12} = \frac{1}{6}\sqrt[3]{6} + \frac{1}{4}\sqrt[3]{12} \quad \text{R.}$$

## EJERCICIO 239

Simplificar:

$$\sqrt[3]{54} - \sqrt[3]{24} - \sqrt[3]{16}$$

$$\sqrt[3]{40} + \sqrt[3]{1029} - \sqrt[3]{625}$$

$$\sqrt[3]{250} - 4\sqrt[3]{24} - 6\sqrt[3]{16} + \sqrt[3]{2187}$$

$$\sqrt[3]{48} - 3\sqrt[3]{3645} - 2\sqrt[3]{384} + 4\sqrt[3]{1715}$$

$$\sqrt[3]{81} - 3\sqrt[3]{375} + \sqrt[3]{686} + 2\sqrt[3]{648}$$

$$\sqrt[3]{24} - \frac{2}{3}\sqrt[3]{54} + \frac{5}{6}\sqrt[3]{375} - \frac{1}{4}\sqrt[3]{128}$$

$$\sqrt[3]{625} - \frac{5}{2}\sqrt[3]{192} + \frac{1}{7}\sqrt[3]{1715} - \frac{3}{8}\sqrt[3]{1536}$$

$$13. 4\sqrt[3]{-320} - 10\sqrt[3]{-40} - 2\sqrt[3]{-54} + 3\sqrt[3]{-1024}$$

$$14. 3\sqrt[3]{2a^3} - b\sqrt[3]{128} + (4b - 3a)\sqrt[3]{2}$$

$$15. a\sqrt[3]{250b} - \sqrt[3]{3ab^3} - 5\sqrt[3]{2a^3b} + 3b\sqrt[3]{3a}$$

$$8. \sqrt[3]{\frac{1}{4}} + \sqrt[3]{\frac{1}{3}} - \sqrt[3]{\frac{2}{27}}$$

$$9. 6\sqrt[3]{\frac{1}{24}} + \sqrt[3]{\frac{1}{25}} - 2\sqrt[3]{\frac{6}{64}}$$

$$10. 7\sqrt[3]{\frac{1}{40}} + \sqrt[3]{\frac{1}{10}} + \sqrt[3]{\frac{1}{2}} - 2\sqrt[3]{\frac{3}{8}}$$

$$11. \frac{2}{3}\sqrt[3]{135} + \frac{1}{2}\sqrt[3]{\frac{1}{89}} + \frac{7}{4}\sqrt[3]{\frac{1}{4}} - 20\sqrt[3]{\frac{1}{200}}$$

$$12. 3\sqrt[3]{-24} - 4\sqrt[3]{-81} - \sqrt[3]{-375}$$

Vamos a probar que  $a\sqrt[n]{m} \times b\sqrt[n]{x} = ab\sqrt[n]{mx}$ .En efecto:  $a\sqrt[n]{m} \times b\sqrt[n]{x} = am^{\frac{1}{n}} \times bx^{\frac{1}{n}} = abm^{\frac{1}{n}}x^{\frac{1}{n}} = ab(mx)^{\frac{1}{n}} = ab\sqrt[n]{mx}$ .

## Ejemplos

(1) Multiplicar  $2\sqrt{15}$  por  $3\sqrt{10}$ .

$$2\sqrt{15} \times 3\sqrt{10} = 2 \times 3\sqrt{15 \times 10} = 6\sqrt{150} \\ = 6\sqrt{2 \cdot 3 \cdot 5^2} = 30\sqrt{6} \quad \text{R.}$$

(2) Multiplicar  $\frac{2}{3}\sqrt[3]{4}$  por  $\frac{3}{4}\sqrt[3]{6}$ .

$$\frac{2}{3}\sqrt[3]{4} \times \frac{3}{4}\sqrt[3]{6} = \frac{2}{3} \times \frac{3}{4}\sqrt[3]{24} = \frac{1}{2}\sqrt[3]{2^3 \cdot 3} = \sqrt[3]{3} \quad \text{R.}$$

## EJERCICIO 240

1.  $\sqrt{3} \times \sqrt{6}$ .

6.  $x\sqrt{2a} \times \frac{1}{n}\sqrt{5a}$ .

11.  $3\sqrt[3]{45} \times \frac{1}{6}\sqrt[3]{15} \times 4\sqrt[3]{20}$ .

2.  $5\sqrt{21} \times 2\sqrt{3}$ .

7.  $5\sqrt{12} \times 3\sqrt{75}$ .

12.  $\frac{5}{8}\sqrt{\frac{7}{8}} \times \frac{8}{5}\sqrt{\frac{4}{7}}$ .

3.  $\frac{1}{2}\sqrt{14} \times \frac{2}{7}\sqrt{21}$ .

8.  $\frac{3}{4}\sqrt[3]{9a^2} \times 8\sqrt[3]{3ab}$ .

13.  $\frac{2}{x}\sqrt{a^2x} \times \frac{3}{2}\sqrt{\frac{x}{a^3}}$ .

4.  $\sqrt[3]{12} \times \sqrt[3]{9}$ .

9.  $3\sqrt{6} \times \sqrt{14} \times 2\sqrt{35}$ .

14.  $\frac{1}{3}\sqrt{\frac{x}{y^2}} \times 6\sqrt{\frac{y}{x}}$ .

5.  $\frac{5}{6}\sqrt[3]{15} \times 12\sqrt[3]{50}$ .

10.  $\frac{1}{2}\sqrt{21} \times \frac{2}{3}\sqrt{42} \times \frac{3}{7}\sqrt{22}$ .

## 392 MULTIPLICACION DE RADICALES COMPUESTOS

El producto de un radical compuesto por uno simple se halla como el producto de un polinomio por un monomio, y el producto de dos radicales compuestos se halla como el producto de dos polinomios.

## Ejemplos

(1) Multiplicar  $3\sqrt{x} - 2$  por  $\sqrt{x}$ .

$$(3\sqrt{x} - 2)\sqrt{x} = 3\sqrt{x^2} - 2\sqrt{x} = 3x - 2\sqrt{x} \quad \text{R.}$$

(2) Multiplicar  $3\sqrt{2} - 5\sqrt{3}$  por  $4\sqrt{2} + \sqrt{3}$ .

$$\begin{array}{r} 3\sqrt{2} - 5\sqrt{3} \\ 4\sqrt{2} + \sqrt{3} \\ \hline 12\sqrt{2} - 20\sqrt{6} \\ + 3\sqrt{6} - 5\sqrt{3^2} \\ \hline 24 - 17\sqrt{6} - 15 = 9 - 17\sqrt{6} \quad \text{R.} \end{array}$$

(3) Multiplicar  $\sqrt{x+1} + 2\sqrt{x}$  por  $3\sqrt{x+1} - \sqrt{x}$ .

$$\begin{array}{r} \sqrt{x+1} + 2\sqrt{x} \\ 3\sqrt{x+1} - \sqrt{x} \\ \hline 3\sqrt{(x+1)^2} + 6\sqrt{x^2+x} \\ - \sqrt{x^2+x} - 2\sqrt{x^2} \\ \hline 3x + 3 + 5\sqrt{x^2+x} - 2x = x + 3 + 5\sqrt{x^2+x} \quad \text{R.} \end{array}$$

## II. MULTIPLICACION DE RADICALES

## 391 MULTIPLICACION DE RADICALES DEL MISMO INDICE

## REGLA

Se multiplican los coeficientes entre sí y las cantidades subradicales entre sí, colocando este último producto bajo el signo radical común y se simplifica el resultado.



## EJERCICIO 241

Multiplicar:

- $2 - \sqrt{3}$  por  $\sqrt{2}$ .  
 $\sqrt{5} + 5\sqrt{3}$  por  $2\sqrt{3}$ .  
 $\sqrt{3} + \sqrt{5} - 5\sqrt{2}$  por  $4\sqrt{15}$ .  
 $2 - \sqrt{3}$  por  $\sqrt{2} + 2\sqrt{3}$ .  
 $5 + 5\sqrt{3}$  por  $2\sqrt{5} + 3\sqrt{3}$ .  
 $\sqrt{7} - 2\sqrt{3}$  por  $5\sqrt{3} + 4\sqrt{7}$ .  
 $\sqrt{a} - 2\sqrt{x}$  por  $3\sqrt{a} + \sqrt{x}$ .  
 $\sqrt{5} - 11\sqrt{7}$  por  $5\sqrt{5} - 8\sqrt{7}$ .  
 $2 + \sqrt{3} + \sqrt{5}$  por  $\sqrt{2} - \sqrt{3}$ .  
 10.  $\sqrt{2} - 3\sqrt{3} + \sqrt{5}$  por  $\sqrt{2} + 2\sqrt{3} - \sqrt{5}$ .  
 11.  $2\sqrt{3} - \sqrt{6} + \sqrt{5}$  por  $\sqrt{3} + \sqrt{6} + 3\sqrt{5}$ .  
 12.  $\sqrt{a} + \sqrt{a+1}$  por  $\sqrt{a} + 2\sqrt{a+1}$ .  
 13.  $2\sqrt{a} - 3\sqrt{a-b}$  por  $3\sqrt{a} + \sqrt{a-b}$ .  
 14.  $\sqrt{1-x^2} + x$  por  $2x + \sqrt{1-x^2}$ .  
 15.  $\sqrt{a+1} + \sqrt{a-1}$  por  $\sqrt{a+1} + 2\sqrt{a-1}$ .  
 16.  $2\sqrt{x+2} - 2$  por  $\sqrt{x+2} - 3$ .  
 17.  $3\sqrt{a} - 2\sqrt{a+x}$  por  $2\sqrt{a} + 3\sqrt{a+x}$ .  
 18.  $\sqrt{a+x} - \sqrt{a-x}$  por  $\sqrt{a+x} - 2\sqrt{a-x}$ .

## 393 MULTIPLICACION DE RADICALES DE DISTINTO INDICE

REGLA

Se reducen los radicales al mínimo común índice y se multiplican como radicales del mismo índice.

## Ejemplo

Multiplicar  $5\sqrt{2a}$  por  $\sqrt[3]{4a^2b}$ .

Reduciendo los radicales al mínimo común índice (387), tendremos:

$$5\sqrt{2a} = 5\sqrt[6]{(2a)^3} = 5\sqrt[6]{8a^3}$$

$$\sqrt[3]{4a^2b} = \sqrt[6]{(4a^2b)^2} = \sqrt[6]{16a^4b^2}$$

$$\text{Entonces } 5\sqrt{2a} \times \sqrt[3]{4a^2b} = 5\sqrt[6]{8a^3} \times \sqrt[6]{16a^4b^2} = 5\sqrt[6]{128a^7b^2}$$

$$= 5\sqrt[6]{2^6 \cdot 2 \cdot a^6 \cdot a \cdot b^2} = 10a\sqrt[6]{2ab^2} \quad R.$$

## EJERCICIO 242

Multiplicar:

- $\sqrt{x} \times \sqrt[3]{2x^2}$ .  
 $\sqrt{2ab} \times 4\sqrt[3]{8a^3}$ .  
 $\sqrt{9x^2y} \times \sqrt[3]{81x^3}$ .  
 $\sqrt[3]{a^2b^2} \times 2\sqrt[3]{3a^3b}$ .  
 5.  $\sqrt[3]{25x^2y^3} \times \sqrt[3]{125x^2}$ .  
 6.  $\frac{2}{3}\sqrt[3]{4m^2} \times \frac{3}{4}\sqrt[3]{16m^4n}$ .  
 7.  $\sqrt{\frac{1}{2x}} \times \sqrt{x^2}$ .  
 8.  $\sqrt{2x} \times \sqrt[3]{4x} \times \sqrt[6]{\frac{1}{16x^2}}$ .  
 9.  $\frac{2}{3}\sqrt{\frac{2n}{x}} \times \frac{3}{8}\sqrt{\frac{x^2}{4b^2}}$ .  
 10.  $\frac{1}{2}\sqrt{\frac{1}{x}} \times \frac{1}{2}\sqrt{\frac{1}{x}} \times \sqrt[3]{243}$ .

## III. DIVISION DE RADICALES

## 394 DIVISION DE RADICALES DEL MISMO INDICE

REGLA

Se dividen los coeficientes entre sí y las cantidades subradicales entre sí, colocando este último cociente bajo el signo radical común y se simplifica el resultado.

$$\text{Vamos a probar que } a\sqrt[n]{m} \div b\sqrt[n]{x} = \frac{a}{b}\sqrt[n]{\frac{m}{x}}.$$

En efecto: El cociente multiplicado por el divisor reproduce el dividendo:

$$\frac{a}{b}\sqrt[n]{\frac{m}{x}} \times b\sqrt[n]{x} = \frac{ab}{b}\sqrt[n]{\frac{mx}{x}} = a\sqrt[n]{m}$$

## Ejemplo

Dividir  $2\sqrt[3]{81x^7}$  entre  $3\sqrt[3]{3x^2}$ .

$$2\sqrt[3]{81x^7} \div 3\sqrt[3]{3x^2} = \frac{2}{3}\sqrt[3]{\frac{81x^7}{3x^2}} = \frac{2}{3}\sqrt[3]{27x^5} = \frac{2}{3}\sqrt[3]{3^3 \cdot x^3 \cdot x^2} = 2x\sqrt[3]{x^2} \quad R.$$

## EJERCICIO 243

Dividir:

1.  $4\sqrt{6} \div 2\sqrt{3}$ .  
 2.  $2\sqrt{3a} \div 10\sqrt{a}$ .  
 3.  $\frac{1}{2}\sqrt{3xy} \div \frac{5}{4}\sqrt{x}$ .  
 4.  $\sqrt{75x^2y^3} \div 5\sqrt{3xy}$ .  
 5.  $3\sqrt[3]{16a^3} \div 4\sqrt[3]{2a^3}$ .  
 6.  $\frac{5}{6}\sqrt{\frac{1}{2}} \div \frac{10}{3}\sqrt{\frac{2}{3}}$ .  
 7.  $4x\sqrt{a^3x^2} \div 2\sqrt{a^2x^3}$ .  
 8.  $\frac{2n}{3}\sqrt[3]{x^3} \div \frac{n}{3a^2}\sqrt[3]{x^3}$ .  
 9.  $\frac{1}{3}\sqrt{\frac{1}{2}} \div \frac{1}{6}\sqrt{\frac{1}{3}}$ .

## 395 DIVISION DE RADICALES DE DISTINTO INDICE

REGLA

Se reducen los radicales al mínimo común índice y se dividen como radicales del mismo índice.

## Ejemplo

Dividir  $\sqrt[3]{4a^2}$  entre  $\sqrt[3]{2a}$ .

$$\sqrt[3]{4a^2} = \sqrt[6]{(4a^2)^2} = \sqrt[6]{256a^4}$$

$$\sqrt[3]{2a} = \sqrt[6]{(2a)^3} = \sqrt[6]{8a^3}$$

$$\text{Entonces: } \sqrt[3]{4a^2} \div \sqrt[3]{2a} = \sqrt[6]{256a^4} \div \sqrt[6]{8a^3} = \sqrt[6]{\frac{256a^4}{8a^3}} = \sqrt[6]{32a} \quad R.$$

## EJERCICIO 244

Dividir:

1.  $\sqrt[3]{2} \div \sqrt{2}$ .  
 2.  $\sqrt{9x} \div \sqrt[3]{3x^2}$ .  
 3.  $\sqrt[3]{8a^3b} \div \sqrt[3]{4a^2}$ .  
 4.  $\frac{1}{2}\sqrt{2x} \div \frac{1}{4}\sqrt[3]{16x^4}$ .  
 5.  $\sqrt[3]{5m^3n} \div \sqrt[3]{m^3n^2}$ .  
 6.  $\sqrt[3]{18x^3y^4z^5} \div \sqrt[3]{3x^2y^2z^3}$ .  
 7.  $\sqrt[3]{3m^4} \div \sqrt[3]{27m^2}$ .  
 8.  $\frac{4}{5}\sqrt[3]{4ab} \div \frac{1}{10}\sqrt[3]{2a^2}$ .



## IV POTENCIACION DE RADICALES

## 396 REGLA

Para elevar un radical a una potencia se eleva a dicha potencia el coeficiente y la cantidad subradical, y se simplifica el resultado.

Vamos a probar que  $(a \sqrt[n]{b})^m = a^m \sqrt[n]{b^m}$ .

En efecto:  $(a \sqrt[n]{b})^m = (ab^{1/n})^m = a^m b^{m/n} = a^m \sqrt[n]{b^m}$

## Ejemplos

(1) Elevar  $5\sqrt{2}$  y  $4\sqrt{3}$  al cuadrado.

$$(5\sqrt{2})^2 = 5^2 \cdot \sqrt{2}^2 = 25 \cdot 2 = 50. \quad R.$$

$$(4\sqrt{3})^2 = 4^2 \cdot \sqrt{3}^2 = 16 \cdot 3 = 48. \quad R.$$

Obsérvese que la raíz cuadrada y el exponente 2 se destruyen.

(2) Elevar  $\sqrt[3]{4x^2}$  al cubo.

$$(\sqrt[3]{4x^2})^3 = \sqrt[3]{(4x^2)^3} = \sqrt[3]{64x^6} = \sqrt[3]{2^3 \cdot 2^3 \cdot x^3 \cdot x^3} = 2x^2 \sqrt[3]{2x^2}. \quad R.$$

(3) Elevar al cuadrado  $\sqrt{5} - 3\sqrt{2}$ .

Se desarrolla como el cuadrado de un binomio:

$$(\sqrt{5} - 3\sqrt{2})^2 = (\sqrt{5})^2 - 2\sqrt{5} \times 3\sqrt{2} + (3\sqrt{2})^2 \\ = 5 - 6\sqrt{10} + 18 = 23 - 6\sqrt{10}. \quad R.$$

## EJERCICIO 245

Desarrollar:

- |                      |                             |                             |                                |
|----------------------|-----------------------------|-----------------------------|--------------------------------|
| 1. $(4\sqrt{2})^2$ . | 4. $(2\sqrt[3]{4})^2$ .     | 7. $(\sqrt[3]{81ab^3})^2$ . | 10. $(2\sqrt{x+1})^2$ .        |
| 2. $(2\sqrt{3})^2$ . | 5. $(3\sqrt[3]{2a^2b})^4$ . | 8. $(\sqrt[3]{18})^3$ .     | 11. $(3\sqrt{x-a})^2$ .        |
| 3. $(5\sqrt{7})^2$ . | 6. $(\sqrt[3]{8x^3})^2$ .   | 9. $(4a\sqrt{2x})^2$ .      | 12. $(4\sqrt[3]{9a^3b^3})^2$ . |

Elevar al cuadrado:

- |                              |                                |                                    |
|------------------------------|--------------------------------|------------------------------------|
| 13. $\sqrt{2} - \sqrt{3}$ .  | 16. $5\sqrt{7} - 6$ .          | 19. $\sqrt{a+1} - \sqrt{a-1}$ .    |
| 14. $4\sqrt{2} + \sqrt{3}$ . | 17. $\sqrt{x} + \sqrt{x-1}$ .  | 20. $2\sqrt{2x-1} + \sqrt{2x+1}$ . |
| 15. $\sqrt{5} - \sqrt{7}$ .  | 18. $\sqrt{x+1} - 4\sqrt{x}$ . |                                    |

## V. RADICACION DE RADICALES

## 397 REGLA

Para extraer una raíz a un radical se multiplica el índice del radical por el índice de la raíz y se simplifica el resultado.

Vamos a probar que  $\sqrt[m]{\sqrt[n]{a}} = \sqrt[mn]{a}$ .

En efecto:  $\sqrt[m]{\sqrt[n]{a}} = \sqrt[m]{a^{1/n}} = a^{1/n \cdot 1/m} = a^{1/mn} = \sqrt[mn]{a}$

## Ejemplos

(1) Hallar la raíz cuadrada de  $\sqrt[3]{4a^2}$ .

$$\sqrt{\sqrt[3]{4a^2}} = \sqrt[6]{4a^2} = \sqrt[6]{2^2 \cdot a^2} = \sqrt[6]{2^2} \cdot \sqrt[6]{a^2} = \sqrt[3]{2} \cdot \sqrt[3]{a^2}. \quad R.$$

(2) Hallar la raíz cúbica de  $5\sqrt{5}$ .

Como el coeficiente 5 no tiene raíz cúbica exacta lo introducimos bajo el signo de la raíz cuadrada y tendremos:

$$\sqrt[3]{5\sqrt{5}} = \sqrt[3]{\sqrt{5^2} \cdot 5} = \sqrt[3]{5^3} = \sqrt{5}. \quad R.$$

## EJERCICIO 246

Simplificar:

- |                             |                                 |                                  |                                    |
|-----------------------------|---------------------------------|----------------------------------|------------------------------------|
| 1. $\sqrt[3]{\sqrt{a^2}}$ . | 4. $\sqrt{\sqrt{3a}}$ .         | 7. $\sqrt{\sqrt[3]{25a^2}}$ .    | 10. $\sqrt{\sqrt{a^4b^4}}$ .       |
| 2. $\sqrt[3]{\sqrt{8}}$ .   | 5. $\sqrt[3]{\sqrt[3]{4a^2}}$ . | 8. $\sqrt[3]{\sqrt[3]{27a^3}}$ . | 11. $\sqrt[3]{\sqrt[3]{x^{10}}}$ . |
| 3. $\sqrt{\sqrt{81}}$ .     | 6. $\sqrt[3]{2\sqrt{2}}$ .      | 9. $\sqrt{3\sqrt{3}}$ .          | 12. $\sqrt{\sqrt[3]{(a+b)^3}}$ .   |

## VI. RACIONALIZACION

398 RACIONALIZAR EL DENOMINADOR DE UNA FRACCION es convertir una fracción cuyo denominador sea irracional en una fracción equivalente cuyo denominador sea racional.

Cuando se racionaliza el denominador irracional de una fracción, desaparece todo signo radical del denominador.

Consideraremos dos casos:

## 399 CASO I

Racionalizar el denominador de una fracción cuando el denominador es monomio.

## REGLA

Se multiplican los dos términos de la fracción por el radical, del mismo índice que el denominador, que multiplicado por éste dé como producto una cantidad racional.

## Ejemplos

(1) Racionalizar el denominador de  $\frac{3}{\sqrt{2x}}$ .

Multiplicamos ambos términos de la fracción por  $\sqrt{2x}$  y tenemos:

$$\frac{3}{\sqrt{2x}} = \frac{3\sqrt{2x}}{\sqrt{2x} \cdot \sqrt{2x}} = \frac{3\sqrt{2x}}{\sqrt{2^2 \cdot x^2}} = \frac{3\sqrt{2x}}{2x} = \frac{3}{2x} \sqrt{2x}. \quad R.$$

(2) Racionalizar el denominador de  $\frac{2}{\sqrt[3]{9a}}$ .

El denominador  $\sqrt[3]{9a} = \sqrt[3]{3^2 \cdot a}$ . Para que en el denominador quede una raíz exacta hay que multiplicar  $\sqrt[3]{3^2 \cdot a}$  por  $\sqrt[3]{3a^2}$  y para que la fracción no varíe se multiplica también el numerador por  $\sqrt[3]{3a^2}$ . Tendremos:

$$\frac{2}{\sqrt[3]{9a}} = \frac{2\sqrt[3]{3a^2}}{\sqrt[3]{3^2 \cdot a} \cdot \sqrt[3]{3a^2}} = \frac{2\sqrt[3]{3a^2}}{\sqrt[3]{3^3 \cdot a^3}} = \frac{2\sqrt[3]{3a^2}}{3a} = \frac{2}{3a} \sqrt[3]{3a^2}. \quad R.$$



(3) Racionalizar el denominador de  $\frac{5}{3\sqrt[3]{2x^2}}$

Se multiplican ambos términos por  $\sqrt[3]{2^3 \cdot x^2}$  porque esta cantidad multiplicada por  $\sqrt[3]{2x^2}$ , da una raíz exacta y tenemos:

$$\frac{5}{3\sqrt[3]{2x^2}} = \frac{5\sqrt[3]{2^3 \cdot x^2}}{3\sqrt[3]{2x^2} \cdot \sqrt[3]{2^3 \cdot x^2}} = \frac{5\sqrt[3]{8x^2}}{3\sqrt[3]{2^4 \cdot x^4}} = \frac{5\sqrt[3]{8x^2}}{3 \cdot 2 \cdot x} = \frac{5}{6x} \sqrt[3]{8x^2} \quad \text{R.}$$

### EJERCICIO 247

Racionalizar el denominador de:

1. $\frac{1}{\sqrt{3}}$	3. $\frac{3}{4\sqrt{5}}$	5. $\frac{5}{\sqrt[3]{4a^2}}$	7. $\frac{3}{\sqrt[3]{9a}}$	9. $\frac{x}{\sqrt[3]{27x^2}}$	11. $\frac{5n^2}{3\sqrt{mn}}$
2. $\frac{5}{\sqrt{2}}$	4. $\frac{2a}{\sqrt{2ax}}$	6. $\frac{1}{\sqrt[3]{9x}}$	8. $\frac{6}{5\sqrt[3]{3x}}$	10. $\frac{1}{\sqrt[3]{8a^3}}$	12. $\frac{1}{5a\sqrt[3]{25x^3}}$

### 400 EXPRESIONES CONJUGADAS

Dos expresiones que contienen radicales de 2o. grado como  $\sqrt{a} + \sqrt{b}$  y  $\sqrt{a} - \sqrt{b}$  o  $a + \sqrt{b}$  y  $a - \sqrt{b}$ , que difieren solamente en el signo que une sus términos, se dice que son **conjugadas**.

Así, la conjugada de  $3\sqrt{2} - \sqrt{5}$  es  $3\sqrt{2} + \sqrt{5}$ ; la conjugada de  $4 - 3\sqrt{5}$  es  $4 + 3\sqrt{5}$ .

El producto de dos expresiones conjugadas es racional. Así,

$$(3\sqrt{2} - \sqrt{5})(3\sqrt{2} + \sqrt{5}) = (3\sqrt{2})^2 - (\sqrt{5})^2 = 18 - 5 = 13.$$

### 401 CASO II

Racionalizar el denominador de una fracción cuando el denominador es un binomio que contiene radicales de segundo grado.

#### REGLA

Se multiplican ambos términos de la fracción por la conjugada del denominador y se simplifica el resultado.

#### Ejemplos

(1) Racionalizar el denominador de  $\frac{4 - \sqrt{2}}{2 + 5\sqrt{2}}$

Multiplicando ambos términos de la fracción por  $2 - 5\sqrt{2}$  tenemos:

$$\begin{aligned} \frac{4 - \sqrt{2}}{2 + 5\sqrt{2}} &= \frac{(4 - \sqrt{2})(2 - 5\sqrt{2})}{(2 + 5\sqrt{2})(2 - 5\sqrt{2})} = \frac{8 - 22\sqrt{2} + 10}{2^2 - (5\sqrt{2})^2} = \frac{18 - 22\sqrt{2}}{4 - 50} \\ &= \frac{18 - 22\sqrt{2}}{-46} = [\text{simplif.}] = \frac{9 - 11\sqrt{2}}{-23} = \frac{11\sqrt{2} - 9}{23} \quad \text{R.} \end{aligned}$$

Como el denominador  $-23$  era negativo le cambiamos el signo al numerador y al denominador de la fracción. También podía haberse cambiado el signo del denominador y de la fracción y hubiera quedado  $-\frac{9 - 11\sqrt{2}}{23}$ .

(2) Racionalizar el denominador de  $\frac{\sqrt{5} + 2\sqrt{7}}{4\sqrt{5} - 3\sqrt{7}}$

Multiplicando ambos términos por la conjugada del denominador, tenemos:

$$\begin{aligned} \frac{\sqrt{5} + 2\sqrt{7}}{4\sqrt{5} - 3\sqrt{7}} &= \frac{(\sqrt{5} + 2\sqrt{7})(4\sqrt{5} + 3\sqrt{7})}{(4\sqrt{5} - 3\sqrt{7})(4\sqrt{5} + 3\sqrt{7})} = \frac{(20 + 11\sqrt{35} + 42)}{(4\sqrt{5})^2 - (3\sqrt{7})^2} \\ &= \frac{62 + 11\sqrt{35}}{80 - 63} = \frac{62 + 11\sqrt{35}}{17} \quad \text{R.} \end{aligned}$$

### EJERCICIO 248

Racionalizar el denominador de:

1. $\frac{3 - \sqrt{2}}{1 + \sqrt{2}}$	7. $\frac{3\sqrt{2}}{7\sqrt{2} - 6\sqrt{3}}$	13. $\frac{\sqrt{a} + \sqrt{x}}{2\sqrt{a} + \sqrt{x}}$
2. $\frac{5 + 2\sqrt{3}}{4 - \sqrt{3}}$	8. $\frac{4\sqrt{3} - 3\sqrt{7}}{2\sqrt{3} + 3\sqrt{7}}$	14. $\frac{\sqrt{x} - \sqrt{x-1}}{\sqrt{x} + \sqrt{x-1}}$
3. $\frac{\sqrt{2} - \sqrt{5}}{\sqrt{2} + \sqrt{5}}$	9. $\frac{5\sqrt{2} - 6\sqrt{3}}{4\sqrt{2} - 3\sqrt{3}}$	15. $\frac{\sqrt{a} - \sqrt{a+1}}{\sqrt{a} + \sqrt{a+1}}$
4. $\frac{\sqrt{7} + 2\sqrt{5}}{\sqrt{7} - \sqrt{5}}$	10. $\frac{\sqrt{7} + 3\sqrt{11}}{5\sqrt{7} + 4\sqrt{11}}$	16. $\frac{\sqrt{x+2} + \sqrt{2}}{\sqrt{x+2} - \sqrt{2}}$
5. $\frac{\sqrt{2} - 3\sqrt{5}}{2\sqrt{2} + \sqrt{5}}$	11. $\frac{\sqrt{5} + \sqrt{2}}{7 + 2\sqrt{10}}$	17. $\frac{\sqrt{a+4} - \sqrt{a}}{\sqrt{a+4} + \sqrt{a}}$
6. $\frac{19}{5\sqrt{2} - 4\sqrt{3}}$	12. $\frac{9\sqrt{3} - 3\sqrt{2}}{6 - \sqrt{6}}$	18. $\frac{\sqrt{a+b} - \sqrt{a-b}}{\sqrt{a+b} + \sqrt{a-b}}$

402 Para racionalizar el denominador de una expresión que contiene tres radicales de segundo grado hay que verificar dos operaciones como se indica en el siguiente

#### Ejemplo

Racionalizar el denominador de  $\frac{\sqrt{2} - \sqrt{5}}{\sqrt{2} + \sqrt{5} - \sqrt{6}}$

Consideremos el denominador como un binomio  $(\sqrt{2} + \sqrt{5}) - \sqrt{6}$ . Se multiplican los dos términos de la fracción por la conjugada de esta expresión que es  $(\sqrt{2} + \sqrt{5}) + \sqrt{6}$  y tendremos:

$$\begin{aligned} \frac{\sqrt{2} - \sqrt{5}}{\sqrt{2} + \sqrt{5} - \sqrt{6}} &= \frac{(\sqrt{2} - \sqrt{5})(\sqrt{2} + \sqrt{5} + \sqrt{6})}{(\sqrt{2} + \sqrt{5} - \sqrt{6})(\sqrt{2} + \sqrt{5} + \sqrt{6})} \\ &= \frac{2\sqrt{3} - \sqrt{30} - 3}{(\sqrt{2} + \sqrt{5})^2 - (\sqrt{6})^2} = \frac{2\sqrt{3} - \sqrt{30} - 3}{1 + 2\sqrt{10}} \end{aligned}$$

(multiplicando ambos términos nuevamente por la conjugada del denominador)

$$\begin{aligned} &= \frac{(2\sqrt{3} - \sqrt{30} - 3)(1 - 2\sqrt{10})}{(1 + 2\sqrt{10})(1 - 2\sqrt{10})} = \frac{22\sqrt{3} - 5\sqrt{30} - 3 + 6\sqrt{10}}{1 - 40} \\ &= \frac{22\sqrt{3} - 5\sqrt{30} - 3 + 6\sqrt{10}}{-39} = \frac{3 - 6\sqrt{10} + 5\sqrt{30} - 22\sqrt{3}}{39} \quad \text{R.} \end{aligned}$$



## EJERCICIO 249

Racionalizar el denominador de:

1.  $\frac{\sqrt{3}}{\sqrt{2}+\sqrt{3}-\sqrt{5}}$
2.  $\frac{\sqrt{2}}{\sqrt{2}+\sqrt{3}+\sqrt{6}}$
3.  $\frac{2-\sqrt{3}}{2+\sqrt{3}+\sqrt{5}}$
4.  $\frac{\sqrt{3}+\sqrt{5}}{\sqrt{2}+\sqrt{3}+\sqrt{5}}$
5.  $\frac{\sqrt{6}+\sqrt{3}+\sqrt{2}}{\sqrt{6}+\sqrt{3}-\sqrt{2}}$
6.  $\frac{\sqrt{2}-\sqrt{5}}{\sqrt{2}+\sqrt{5}-\sqrt{10}}$

## EJERCICIO 250

Cuando el divisor es compuesto, la división de radicales se efectúa expresando el cociente en forma de fracción y racionalizando el denominador de esta fracción.

## Ejemplo

Dividir  $\sqrt{3}+\sqrt{5}$  entre  $2\sqrt{3}-\sqrt{5}$ .

$$\begin{aligned} (\sqrt{3}+\sqrt{5}) \div (2\sqrt{3}-\sqrt{5}) &= \frac{\sqrt{3}+\sqrt{5}}{2\sqrt{3}-\sqrt{5}} \\ &= \frac{(\sqrt{3}+\sqrt{5})(2\sqrt{3}+\sqrt{5})}{(2\sqrt{3}-\sqrt{5})(2\sqrt{3}+\sqrt{5})} = \frac{11+3\sqrt{15}}{7} \quad \text{R.} \end{aligned}$$

## EJERCICIO 251

Dividir:

1.  $\sqrt{2}$  entre  $\sqrt{2}+\sqrt{3}$ .
2.  $\sqrt{3}$  entre  $\sqrt{3}-2\sqrt{5}$ .
3.  $2+\sqrt{5}$  entre  $1-\sqrt{5}$ .
4.  $\sqrt{2}+\sqrt{5}$  entre  $\sqrt{2}-\sqrt{5}$ .
5.  $2\sqrt{3}-\sqrt{7}$  entre  $\sqrt{3}+\sqrt{7}$ .
6.  $\sqrt{6}+2\sqrt{5}$  entre  $2\sqrt{6}-\sqrt{5}$ .
7.  $5\sqrt{2}+3\sqrt{3}$  entre  $3\sqrt{2}-4\sqrt{3}$ .
8.  $\sqrt{7}-2\sqrt{11}$  entre  $2\sqrt{7}+\sqrt{11}$ .

## RESOLUCION DE ECUACIONES CON RADICALES QUE SE REDUCEN A PRIMER GRADO

404 Vamos a estudiar la resolución de ecuaciones en las cuales la incógnita aparece bajo el signo radical.

## Ejemplos

(1) Resolver la ecuación  $\sqrt{4x^2-15}-2x=-1$ .Aislando el radical:  $\sqrt{4x^2-15}=2x-1$ .

Elevando al cuadrado ambos miembros para eliminar el radical:

$$\sqrt{(4x^2-15)}^2 = (2x-1)^2 \text{ o sea } 4x^2-15=4x^2-4x+1.$$

Suprimiendo  $4x^2$  en ambos miembros:

$$\begin{aligned} -15 &= -4x+1 \\ 4x &= 16 \\ x &= 4. \quad \text{R.} \end{aligned}$$

(2) Resolver la ecuación  $\sqrt{x+4}+\sqrt{x-1}=5$ .Aislando un radical:  $\sqrt{x+4}=5-\sqrt{x-1}$ Elevando al cuadrado:  $[\sqrt{x+4}]^2 = (5-\sqrt{x-1})^2$ o sea  $x+4=5^2-2 \times 5\sqrt{x-1}+(\sqrt{x-1})^2$ Efectuando:  $x+4=25-10\sqrt{x-1}+x-1$ Aislando el radical:  $x+4-25-x+1=-10\sqrt{x-1}$ Reduciendo:  $-20=-10\sqrt{x-1}$ 

$$20=10\sqrt{x-1}$$

Dividiendo por 10:  $2=\sqrt{x-1}$ Elevando al cuadrado:  $4=x-1$ 

$$x=5. \quad \text{R.}$$

(3) Resolver la ecuación  $\sqrt{x+7}+\sqrt{x-1}-2\sqrt{x+2}=0$ .Aislando un radical:  $\sqrt{x+7}+\sqrt{x-1}=2\sqrt{x+2}$ Elevando al cuadrado:  $\sqrt{(x+7)^2+2(\sqrt{x+7})(\sqrt{x-1})+(\sqrt{x-1})^2}=4(x+2)$ Efectuando:  $x+7+2\sqrt{x^2+6x-7}+x-1=4x+8$ Aislando el radical:  $2\sqrt{x^2+6x-7}=4x+8-x-7-x+1$ Reduciendo:  $2\sqrt{x^2+6x-7}=2x+2$ Dividiendo por 2:  $\sqrt{x^2+6x-7}=x+1$ Elevando al cuadrado:  $x^2+6x-7=(x+1)^2$ o sea  $x^2+6x-7=x^2+2x+1$ 

$$6x-2x=7+1$$

$$4x=8$$

$$x=2. \quad \text{R.}$$

## EJERCICIO 251

Resolver las ecuaciones:

1.  $\sqrt{x-8}=2$ .
2.  $5-\sqrt{3x+1}=0$ .
3.  $7+\sqrt{5x-2}=9$ .
4.  $\sqrt{9x^2-5}-3x=-1$ .
5.  $\sqrt{x^2-2x+1}=9-x$ .
6.  $15-\sqrt{7x-1}=12$ .
7.  $\sqrt{x}+\sqrt{x+7}=7$ .
8.  $\sqrt{3x-5}+\sqrt{3x-14}=9$ .
9.  $\sqrt{x+10}-\sqrt{x+19}=-1$ .
10.  $\sqrt{4x-11}=7\sqrt{2x-29}$ .
11.  $\sqrt{5x-19}-\sqrt{5x}=-1$ .
12.  $\sqrt{x-2}+5=\sqrt{x+53}$ .
13.  $\sqrt{9x-14}=3\sqrt{x+10}-4$ .
14.  $\sqrt{x-16}-\sqrt{x+8}=-4$ .
15.  $\sqrt{5x-1}+3=\sqrt{5x+26}$ .
16.  $13-\sqrt{13+4x}=2\sqrt{x}$ .
17.  $\sqrt{x-4}+\sqrt{x+4}=2\sqrt{x-1}$ .
18.  $\sqrt{9x+7}-\sqrt{x}-\sqrt{16x-7}=0$ .
19.  $\sqrt{9x+10}-2\sqrt{x+3}=\sqrt{x-2}$ .
20.  $\sqrt{18x-8}-\sqrt{2x-4}-2\sqrt{2x+1}=0$ .



21.  $\sqrt{8x+9} - \sqrt{18x+34} + \sqrt{2x+7} = 0$ .  
 22.  $\sqrt{x-2} - \sqrt{x-5} = \sqrt{4x-23}$ .  
 23.  $\sqrt{x+6} - \sqrt{9x+70} = -2\sqrt{x+9}$ .  
 24.  $\sqrt{x-a} + \sqrt{x+a} = \sqrt{4x-2a}$ .  
 25.  $\sqrt{x-4ab} = -2b + \sqrt{x}$ .  
 26.  $\sqrt{x+4a} - \sqrt{x+2a-1} = 1$ .

## 405 ECUACIONES CON RADICALES EN LOS DENOMINADORES

## Ejemplo

Resolver la ecuación

$$\sqrt{x+4} - \sqrt{x-1} = \frac{2}{\sqrt{x-1}}$$

Suprimiendo denominadores:  $\sqrt{x+4}(\sqrt{x-1}) - \sqrt{(x-1)^2} = 2$ Efectuando:  $\sqrt{x^2+3x-4} - (x-1) = 2$ 

$$\sqrt{x^2+3x-4} - x + 1 = 2$$

$$\sqrt{x^2+3x-4} = x + 1$$

Elevando al cuadrado:

$$x^2 + 3x - 4 = x^2 + 2x + 1$$

$$3x - 2x = 4 + 1$$

$$x = 5. \text{ R.}$$

## EJERCICIO 252

Resolver las ecuaciones:

$$1. \sqrt{x} + \sqrt{x+5} = \frac{10}{\sqrt{x}}$$

$$2. \sqrt{4x-11} + 2\sqrt{x} = \frac{55}{\sqrt{4x-11}}$$

$$3. \sqrt{x} - \sqrt{x-7} = \frac{4}{\sqrt{x}}$$

$$4. \frac{\sqrt{x}-2}{\sqrt{x+4}} = \frac{\sqrt{x+1}}{\sqrt{x+13}}$$

$$5. \frac{6}{\sqrt{x+8}} = \sqrt{x+8} - \sqrt{x}$$

$$6. \sqrt{x-3} + \frac{8}{\sqrt{x+9}} = \sqrt{x+9}$$

$$7. \frac{\sqrt{x+4}}{\sqrt{x-2}} = \frac{\sqrt{x+11}}{\sqrt{x-1}}$$

$$8. 2\sqrt{x+6} - \sqrt{4x-3} = \frac{9}{\sqrt{4x-3}}$$

$$9. \frac{\sqrt{x}-2}{\sqrt{x+2}} = \frac{2\sqrt{x}-5}{2\sqrt{x}-1}$$

$$10. \sqrt{x+14} - \sqrt{x-7} = \frac{6}{\sqrt{x-7}}$$

Muller



NICOLAS LOBATCHEWSKI (1793-1856) Matemático ruso. Estudió en la Universidad de Kazán, de la que fue posteriormente profesor y Decano de su Facultad de Matemáticas y Rector. Lobatchewski combatió la idea que del espacio tiene Kant, y estableció la relatividad de esta noción. Igualmente combatió la Geometría de Euclides, inmóvil cuerpo de verdades que se mantiene intacta por más de 22 siglos. Puede considerarse el precursor de la teoría de las geometrías no euclidianas.

## CANTIDADES IMAGINARIAS

## CAPITULO XXXI

- 406 **CANTIDADES IMAGINARIAS** son las raíces indicadas pares de cantidades negativas.

Así,  $\sqrt{-1}$ ,  $\sqrt{-3}$ ,  $\sqrt[4]{-8}$  son cantidades imaginarias.

Cantidades reales son todas las cantidades, racionales o irracionales, que no son imaginarias.

- 407 **UNIDAD IMAGINARIA**

La cantidad imaginaria  $\sqrt{-1}$  es llamada unidad imaginaria.

## NOTACION

La unidad imaginaria se representa por la letra  $i$ . Por tanto,En Electricidad,  $\sqrt{-1}$  se representa por  $j$ .

- 408 **POTENCIAS DE LA UNIDAD IMAGINARIA**

Vamos a hallar las potencias de  $\sqrt{-1}$ .

$$(\sqrt{-1})^1 = \sqrt{-1}$$

$$(\sqrt{-1})^2 = -1$$

$$(\sqrt{-1})^3 = (\sqrt{-1})^2 \times \sqrt{-1} = (-1) \times \sqrt{-1} = -\sqrt{-1}$$

$$(\sqrt{-1})^4 = (\sqrt{-1})^2 \times (\sqrt{-1})^2 = (-1) \times (-1) = 1$$

$$(\sqrt{-1})^5 = (\sqrt{-1})^4 \times \sqrt{-1} = 1 \times \sqrt{-1} = \sqrt{-1}$$

$$(\sqrt{-1})^6 = (\sqrt{-1})^4 \times (\sqrt{-1})^2 = 1 \times (-1) = -1, \text{ etc.}$$

$$i = \sqrt{-1}$$

$$i^2 = -1$$

$$i^3 = -\sqrt{-1}$$

$$i^4 = 1$$

$$i^5 = \sqrt{-1}$$

$$i^6 = -1 \text{ etc.}$$



Véase que las cuatro primeras potencias de  $\sqrt{-1}$  son  $\sqrt{-1}$ ,  $-1$ ,  $\sqrt{-1}$ ,  $1$  y este orden se continúa en las potencias sucesivas.

### 09 IMAGINARIAS PURAS

Toda expresión de la forma  $\sqrt[n]{-a}$  donde  $n$  es par y  $-a$  es una cantidad real negativa, es una imaginaria pura. Así,  $\sqrt{-2}$ ,  $\sqrt{-5}$  son imaginarias puras.

### 10 SIMPLIFICACION DE LAS IMAGINARIAS PURAS

Toda raíz imaginaria puede reducirse a la forma de una cantidad real multiplicada por la unidad imaginaria  $\sqrt{-1}$ .

En efecto:

$$\begin{aligned}\sqrt{-b^2} &= \sqrt{b^2 \times (-1)} = \sqrt{b^2} \times \sqrt{-1} = b\sqrt{-1} = bi. \\ \sqrt{-4} &= \sqrt{4 \times (-1)} = \sqrt{4} \times \sqrt{-1} = 2\sqrt{-1} = 2i. \\ \sqrt{-3} &= \sqrt{3 \times (-1)} = \sqrt{3} \times \sqrt{-1} = \sqrt{3} \cdot \sqrt{-1} = i\sqrt{3}. \\ \sqrt{-8} &= \sqrt{8 \times (-1)} = \sqrt{8} \times \sqrt{-1} = \sqrt{2^2 \cdot 2} \times \sqrt{-1} = 2\sqrt{2} \cdot \sqrt{-1} = 2\sqrt{2}i.\end{aligned}$$

### EJERCICIO 253

Reducir a la forma de una cantidad real multiplicada por  $\sqrt{-1}$  o  $i$ :

- |                  |                   |                 |                            |
|------------------|-------------------|-----------------|----------------------------|
| 1. $\sqrt{-a^2}$ | 4. $\sqrt{-81}$   | 7. $\sqrt{-12}$ | 10. $\sqrt{-4m^2}$         |
| 2. $\sqrt{-2}$   | 5. $\sqrt{-6}$    | 8. $\sqrt{-7}$  | 11. $\sqrt{-\frac{1}{10}}$ |
| 3. $2\sqrt{-9}$  | 6. $3\sqrt{-b^4}$ | 9. $\sqrt{-27}$ | 12. $\sqrt{-a^2 - b^2}$    |

### OPERACIONES CON IMAGINARIAS PURAS

### 11 SUMA Y RESTA

Se reducen a la forma de una cantidad real multiplicada por  $\sqrt{-1}$  y se reducen como radicales semejantes.

#### Ejemplos

(1) Simplificar  $\sqrt{-4} + \sqrt{-9}$ .

$$\begin{aligned}\sqrt{-4} &= \sqrt{4 \times (-1)} = 2\sqrt{-1}. \\ \sqrt{-9} &= \sqrt{9 \times (-1)} = 3\sqrt{-1}.\end{aligned}$$

Entonces:

$$\sqrt{-4} + \sqrt{-9} = 2\sqrt{-1} + 3\sqrt{-1} = (2+3)\sqrt{-1} = 5\sqrt{-1} = 5i. \text{ R.}$$

(2) Simplificar  $2\sqrt{-36} - \sqrt{-25} + \sqrt{-12}$ .

$$2\sqrt{-36} = 2 \cdot 6\sqrt{-1} = 12\sqrt{-1}.$$

$$\sqrt{-25} = 5\sqrt{-1}.$$

$$\sqrt{-12} = \sqrt{12} \cdot \sqrt{-1} = 2\sqrt{3} \cdot \sqrt{-1}.$$

Entonces

$$\begin{aligned}2\sqrt{-36} - \sqrt{-25} + \sqrt{-12} &= 12\sqrt{-1} - 5\sqrt{-1} + 2\sqrt{3}\sqrt{-1} \\ &= (12-5+2\sqrt{3})\sqrt{-1} = (7+2\sqrt{3})\sqrt{-1} = (7+2\sqrt{3})i. \text{ R.}\end{aligned}$$

### EJERCICIO 254

Simplificar:

- |   |  |
|---|--|
| 1. $\sqrt{-4} + \sqrt{-16}$                   | 5. $2\sqrt{-a^2} + \sqrt{-a^2} + \sqrt{-a^2}$    |
| 2. $\sqrt{-25} + \sqrt{-81} - \sqrt{-49}$     | 6. $\sqrt{-18} + \sqrt{-8} + 2\sqrt{-50}$        |
| 3. $2\sqrt{-9} + 3\sqrt{-100}$                | 7. $3\sqrt{-20} - 2\sqrt{-45} + 3\sqrt{-125}$    |
| 4. $3\sqrt{-64} - 5\sqrt{-49} + 3\sqrt{-121}$ | 8. $\sqrt{-a^4} + 4\sqrt{-9a^2} - 3\sqrt{-4a^4}$ |

### 412 MULTIPLICACION

Se reducen las imaginarias a la forma típica  $a\sqrt{-1}$  y se procede como se indica a continuación, teniendo muy presente las potencias de la unidad imaginaria (408).

#### Ejemplos

(1) Multiplicar  $\sqrt{-4}$  por  $\sqrt{-9}$ .

$$\sqrt{-4} \times \sqrt{-9} = 2\sqrt{-1} \times 3\sqrt{-1} = 2 \cdot 3 (\sqrt{-1})^2 = 6 \times (-1) = -6. \text{ R.}$$

(2) Multiplicar  $\sqrt{-5}$  por  $\sqrt{-2}$ .

$$\begin{aligned}\sqrt{-5} \times \sqrt{-2} &= \sqrt{5} \cdot \sqrt{-1} \times \sqrt{2} \cdot \sqrt{-1} \\ &= \sqrt{10} (\sqrt{-1})^2 = \sqrt{10} \times (-1) = -\sqrt{10}. \text{ R.}\end{aligned}$$

(3) Multiplicar  $\sqrt{-16}$ ,  $\sqrt{-25}$  y  $\sqrt{-81}$ .

$$\begin{aligned}\sqrt{-16} \times \sqrt{-25} \times \sqrt{-81} &= 4\sqrt{-1} \times 5\sqrt{-1} \times 9\sqrt{-1} \\ &= 180 (\sqrt{-1})^3 = 180 (-\sqrt{-1}) = -180\sqrt{-1} = -180i. \text{ R.}\end{aligned}$$

(4) Multiplicar  $\sqrt{-9} + 5\sqrt{-2}$  por  $\sqrt{-4} - 2\sqrt{-2}$ .

Se reduce a la forma  $a\sqrt{-1}$  cada imaginaria y se multiplican como radicales compuestos teniendo muy presente que  $(\sqrt{-1})^2 = -1$ :

$$\begin{aligned}& \begin{array}{r} 3\sqrt{-1} + 5\sqrt{2} \cdot \sqrt{-1} \\ 2\sqrt{-1} - 2\sqrt{2} \cdot \sqrt{-1} \\ \hline 6(\sqrt{-1})^2 + 10\sqrt{2}(\sqrt{-1})^2 \\ \quad - 6\sqrt{2}(\sqrt{-1})^2 - 20(\sqrt{-1})^2 \\ \hline 6(-1) + 4\sqrt{2}(-1) - 20(-1) = -6 - 4\sqrt{2} + 20 = 14 - 4\sqrt{2}. \text{ R.} \end{array}\end{aligned}$$

### EJERCICIO 255

Multiplicar:

- |                                     |   |
|-------------------------------------|---|
| 1. $\sqrt{-16} \times \sqrt{-25}$   | 8. $\sqrt{-49} \times \sqrt{-4} \times \sqrt{-9}$                     |
| 2. $\sqrt{-81} \times \sqrt{-49}$   | 9. $\sqrt{-2} \times 3\sqrt{-5} \times \sqrt{-10}$                    |
| 3. $5\sqrt{-36} \times 4\sqrt{-64}$ | 10. $\sqrt{-12} \times \sqrt{-27} \times \sqrt{-8} \times \sqrt{-50}$ |
| 4. $\sqrt{-3} \times \sqrt{-2}$     | 11. $-5\sqrt{-x} \times 3\sqrt{-y}$                                   |
| 5. $2\sqrt{-5} \times 3\sqrt{-7}$   | 12. $(\sqrt{-4} + \sqrt{-9})(\sqrt{-25} - \sqrt{-16})$                |
| 6. $\sqrt{-3} \times \sqrt{-75}$    | 13. $(\sqrt{-2} + 3\sqrt{-5})(2\sqrt{-2} - 6\sqrt{-5})$               |
| 7. $2\sqrt{-7} \times 3\sqrt{-28}$  | 14. $(2\sqrt{-2} + 5\sqrt{-3})(\sqrt{-2} - 4\sqrt{-3})$               |



## 413 DIVISION

Se reducen las imaginarias a la forma  $a\sqrt{-1}$  y se expresa el cociente como una fracción, que se simplifica.

## Ejemplo

(1) Dividir  $\sqrt{-84}$  entre  $\sqrt{-7}$ .

$$\frac{\sqrt{-84}}{\sqrt{-7}} = \frac{\sqrt{84} \cdot \sqrt{-1}}{\sqrt{7} \cdot \sqrt{-1}} = \frac{\sqrt{84}}{\sqrt{7}} = \sqrt{\frac{84}{7}} = \sqrt{12} = 2\sqrt{3} \text{ R.}$$

$\sqrt{-1}$  se cancela en el numerador y denominador igual que una cantidad real.

## EJERCICIO 256

Dividir:

- |                                  |                                     |   |
|----------------------------------|-------------------------------------|---|
| 1. $\sqrt{-16} \div \sqrt{-4}$ . | 4. $\sqrt{-90} \div \sqrt{-5}$ .    | 7. $2\sqrt{-18} \div \sqrt{-6}$ .         |
| 2. $\sqrt{-10} \div \sqrt{-2}$ . | 5. $\sqrt{-150} \div \sqrt{-3}$ .   | 8. $\sqrt{-315} \div \sqrt{-7}$ .         |
| 3. $\sqrt{-81} \div \sqrt{-3}$ . | 6. $10\sqrt{-36} \div 5\sqrt{-4}$ . | 9. $\sqrt[3]{-27} \div \sqrt[3]{-3}$ .    |
|                                  |                                     | 10. $\sqrt[3]{-300} \div \sqrt[3]{-12}$ . |

CANTIDADES COMPLEJAS<sup>(1)</sup>

414 **CANTIDADES COMPLEJAS** son expresiones que constan de una parte real y una parte imaginaria.

Las cantidades complejas son de la forma  $a + b\sqrt{-1}$ , o sea  $a + bi$ , donde  $a$  y  $b$  son cantidades reales cualesquiera.

Así,  $2 + 3\sqrt{-1}$  ó  $2 + 3i$  y  $5 - 6\sqrt{-1}$  ó  $5 - 6i$  son cantidades complejas.

415 **CANTIDADES COMPLEJAS CONJUGADAS** son dos cantidades complejas que difieren solamente en el signo de la parte imaginaria.

Así,  $a + b\sqrt{-1}$  y  $a - b\sqrt{-1}$  son cantidades complejas conjugadas. Del propio modo, la conjugada de  $5 - 2\sqrt{-1}$  es  $5 + 2\sqrt{-1}$ .

## OPERACIONES CON CANTIDADES COMPLEJAS

## 416 SUMA

Para sumar cantidades complejas se suman las partes reales entre sí y las partes imaginarias entre sí.

<sup>(1)</sup> En las notas sobre el Concepto de Número que aparece en el Capítulo preliminar, vimos cómo el campo de los números se ampliaba a medida que lo exigían las necesidades del cálculo matemático. Ahora, llegado a este nivel de conocimientos, introducimos un nuevo ente numérico, el número complejo, que está formado por un par de números dados en un orden, en el cual uno es real y el otro puede ser imaginario.

Aun cuando haya antecedentes históricos muy remotos del origen de los números complejos, se tiene como verdadero precursor de la teoría de estos números a Bombelli (siglo XVI, italiano). Más tarde, Descartes llamó número imaginario al número no real componente de un complejo. Sin embargo, a pesar de haberse desarrollado toda una teoría sobre los números complejos, éstos no adquirieron vigencia en las matemáticas hasta que Euler no sancionó su uso. Pero quien más contribuyó a que los números complejos se incorporaran definitivamente a la ciencia matemática fue C. Wessel (1745-1818, danés), que brindó una interpretación geométrica de los números complejos. Es decir, tales entes nos sirven para representar un punto en el plano. Con los números complejos podemos definir todas las operaciones aritméticas y algebraicas; así podemos explicar la extracción de raíces de índice par de los números negativos; la logaritmicación de números negativos; las soluciones de una ecuación de  $n$  grados, etc.

## Ejemplos

(1) Sumar  $2 + 5\sqrt{-1}$  y  $3 - 2\sqrt{-1}$ .

$$\begin{aligned} |2 + 5\sqrt{-1}| + |3 - 2\sqrt{-1}| &= 2 + 3 + 5\sqrt{-1} - 2\sqrt{-1} \\ &= (2 + 3) + (5 - 2)\sqrt{-1} = 5 + 3\sqrt{-1} = 5 + 3i. \text{ R.} \end{aligned}$$

(2) Sumar  $5 - 6\sqrt{-1}$ ,  $-3 + \sqrt{-1}$ ,  $4 - 8\sqrt{-1}$ .

$$\begin{aligned} &5 - 6\sqrt{-1} \\ &-3 + \sqrt{-1} \\ &4 - 8\sqrt{-1} \\ \hline &6 - 13\sqrt{-1} = 6 - 13i. \text{ R.} \end{aligned}$$

## EJERCICIO 257

Sumar:

- |  |   |
|--|---|
| 1. $2 + 3\sqrt{-1}$ , $5 - 2\sqrt{-1}$ .                   | 5. $3 - 2i$ , $5 - 8i$ , $-10 + 13i$ .                            |
| 2. $-4 - 5\sqrt{-1}$ , $-2 + 8\sqrt{-1}$ .                 | 6. $1 - i$ , $4 + 3i$ , $\sqrt{2} + 5i$ .                         |
| 3. $12 - 11\sqrt{-1}$ , $8 + 7\sqrt{-1}$ .                 | 7. $2 + \sqrt{-2}$ , $4 - \sqrt{-3}$ .                            |
| 4. $5 + \sqrt{-1}$ , $7 + 2\sqrt{-1}$ , $9 + 7\sqrt{-1}$ . | 8. $7 + \sqrt{-5}$ , $\sqrt{2} - \sqrt{-9}$ , $-4 + \sqrt{-16}$ . |

## 417 SUMA DE CANTIDADES COMPLEJAS CONJUGADAS

La suma de dos cantidades complejas conjugadas es una cantidad real.

En efecto:  $(a + b\sqrt{-1}) + (a - b\sqrt{-1}) = (a + a) + (b - b)\sqrt{-1} = 2a$ .

## Ejemplo

Sumar  $5 + 3\sqrt{-1}$  y  $5 - 3\sqrt{-1}$ .

$$|5 + 3\sqrt{-1}| + |5 - 3\sqrt{-1}| = 2 \times 5 = 10. \text{ R.}$$

## EJERCICIO 258

Sumar:

- |  |  |
|--|--|
| 1. $7 - 2\sqrt{-1}$ , $7 + 2\sqrt{-1}$ .   | 4. $-7 - 5\sqrt{-1}$ , $-7 + 5\sqrt{-1}$ .           |
| 2. $-5 - 3\sqrt{-1}$ , $-5 + 3\sqrt{-1}$ . | 5. $8 - 3\sqrt{-2}$ , $8 + 3\sqrt{-2}$ .             |
| 3. $9 + i\sqrt{3}$ , $9 - i\sqrt{3}$ .     | 6. $\sqrt{2} + i\sqrt{3}$ , $\sqrt{2} - i\sqrt{3}$ . |

## 418 RESTA

Para restar cantidades complejas se restan las partes reales entre sí y las partes imaginarias entre sí.

## Ejemplos

(1) De  $5 + 7\sqrt{-1}$  restar  $4 + 2\sqrt{-1}$ .

$$\begin{aligned} |5 + 7\sqrt{-1}| - |4 + 2\sqrt{-1}| &= 5 + 7\sqrt{-1} - 4 - 2\sqrt{-1} \\ &= (5 - 4) + (7 - 2)\sqrt{-1} = 1 + 5\sqrt{-1} = 1 + 5i. \text{ R.} \end{aligned}$$

(2) Restar  $-3 - 7\sqrt{-1}$  de  $8 - 11\sqrt{-1}$ .

Escribimos el sustraendo con los signos cambiados debajo del minuendo y tenemos:

$$\begin{aligned} &8 - 11\sqrt{-1} \\ &3 + 7\sqrt{-1} \\ \hline &11 - 4\sqrt{-1} = 11 - 4i. \text{ R.} \end{aligned}$$



## EJERCICIO 259

- De  $3-2\sqrt{-1}$  restar  $5+3\sqrt{-1}$ .
- De  $8+4\sqrt{-1}$  restar  $3-10\sqrt{-1}$ .
- De  $-1-\sqrt{-1}$  restar  $-7-8\sqrt{-1}$ .
- Restar  $5-3\sqrt{-1}$  de  $4-7\sqrt{-1}$ .
- Restar  $8-7\sqrt{-1}$  de  $15-4\sqrt{-1}$ .
- Restar  $3-50\sqrt{-1}$  de  $11+80\sqrt{-1}$ .
- De  $5-\sqrt{-25}$  restar  $3+6i$ .
- De  $4+\sqrt{-5}$  restar  $2+\sqrt{-3}$ .
- Restar  $\sqrt{3}+6\sqrt{-1}$  de  $\sqrt{2}-5\sqrt{-1}$ .
- Restar  $-7+\sqrt{-3}$  de  $8-\sqrt{-7}$ .

## 419 DIFERENCIA DE DOS CANTIDADES COMPLEJAS CONJUGADAS

La diferencia de dos cantidades complejas conjugadas es una imaginaria pura.

En efecto:  $(a+b\sqrt{-1})-(a-b\sqrt{-1})=a+b\sqrt{-1}-a+b\sqrt{-1}$

$$= (a-a) + (b+b)\sqrt{-1} = 2b\sqrt{-1} = 2bi.$$

## Ejemplo

$$(5+3\sqrt{-1})-(5-3\sqrt{-1}) = (5-5) + (3+3)\sqrt{-1} \\ = 6\sqrt{-1} = 6i. \text{ R.}$$

## EJERCICIO 260

- De  $2-\sqrt{-1}$  restar  $2+\sqrt{-1}$ .
- De  $7+3\sqrt{-1}$  restar  $7-3\sqrt{-1}$ .
- De  $-3-7\sqrt{-1}$  restar  $-3+7\sqrt{-1}$ .
- Restar  $-5-\sqrt{-2}$  de  $-5+\sqrt{-2}$ .
- Restar  $\sqrt{2}-\sqrt{-3}$  de  $\sqrt{2}+\sqrt{-3}$ .
- Restar  $-\sqrt{5}+4\sqrt{-2}$  de  $-\sqrt{5}-4\sqrt{-2}$ .

## 420 MULTIPLICACION

Las cantidades complejas se multiplican como expresiones compuestas, pero teniendo presente que  $(\sqrt{-1})^2 = -1$ .

## Ejemplo

(1) Multiplicar  $3+5\sqrt{-1}$  por  $4-3\sqrt{-1}$ .

$$3+5\sqrt{-1}$$

$$4-3\sqrt{-1}$$

$$12+20\sqrt{-1}$$

$$-9\sqrt{-1}-15(\sqrt{-1})^2$$

$$12+11\sqrt{-1}-15(-1)=12+11\sqrt{-1}+15=27+11\sqrt{-1} \text{ R.}$$

## EJERCICIO 261

Multiplicar:

- $3-4\sqrt{-1}$  por  $5-3\sqrt{-1}$ .
- $4+7\sqrt{-1}$  por  $-3-2\sqrt{-1}$ .
- $7-\sqrt{-4}$  por  $5+\sqrt{-9}$ .
- $8-\sqrt{-5}$  por  $11+\sqrt{-25}$ .
- $3+\sqrt{-2}$  por  $5-\sqrt{-2}$ .
- $4+\sqrt{-3}$  por  $5-\sqrt{-2}$ .
- $\sqrt{2}+\sqrt{-5}$  por  $\sqrt{3}+\sqrt{-2}$ .
- $\sqrt{5}+\sqrt{-3}$  por  $\sqrt{5}+2\sqrt{-3}$ .

## 421 PRODUCTO DE CANTIDADES COMPLEJAS CONJUGADAS

El producto de dos cantidades complejas conjugadas es una cantidad real.

En efecto, como el producto de la suma por la diferencia de dos cantidades es igual a la diferencia de sus cuadrados, se tiene:

$$(a+b\sqrt{-1})(a-b\sqrt{-1})=a^2-(b\sqrt{-1})^2=a^2-[b^2(\sqrt{-1})^2] \\ =a^2-[b^2(-1)]=a^2-(-b^2)=a^2+b^2.$$

## Ejemplos

$$(8-3\sqrt{-1})(8+3\sqrt{-1})=8^2-(3\sqrt{-1})^2=64+9=73.$$

$$(\sqrt{3}+5\sqrt{-1})(\sqrt{3}-5\sqrt{-1})=(\sqrt{3})^2-(5\sqrt{-1})^2=3+25=28.$$

## EJERCICIO 262

Multiplicar:

- $1-i$  por  $1+i$ .
- $3+2\sqrt{-1}$  por  $3-2\sqrt{-1}$ .
- $\sqrt{2}-5i$  por  $\sqrt{2}+5i$ .
- $2\sqrt{3}+4i$  por  $2\sqrt{3}-4i$ .
- $5-\sqrt{-2}$  por  $5+\sqrt{-2}$ .
- $-9-\sqrt{-5}$  por  $-9+\sqrt{-5}$ .

## 422 DIVISION

Para dividir expresiones complejas, se expresa el cociente en forma de fracción y se racionaliza el denominador de esta fracción, multiplicando ambos términos de la fracción por la conjugada del denominador.

## Ejemplo

Dividir  $5+2\sqrt{-1}$  entre  $4-3\sqrt{-1}$ .

$$\frac{5+2\sqrt{-1}}{4-3\sqrt{-1}} = \frac{(5+2\sqrt{-1})(4+3\sqrt{-1})}{(4-3\sqrt{-1})(4+3\sqrt{-1})} = \frac{20+23\sqrt{-1}-6}{4^2-(3\sqrt{-1})^2} \\ = \frac{14+23\sqrt{-1}}{16+9} = \frac{14+23\sqrt{-1}}{25} = \frac{14}{25} + \frac{23}{25}\sqrt{-1} \text{ R.}$$

## EJERCICIO 263

Dividir:

- $(1+\sqrt{-1}) \div (1-\sqrt{-1})$ .
- $(3+\sqrt{-1}) \div (3-\sqrt{-1})$ .
- $(5-3\sqrt{-1}) \div (3+4\sqrt{-1})$ .
- $(8-5i) \div (7+6i)$ .
- $(4+\sqrt{-3}) \div (5-4\sqrt{-3})$ .
- $(\sqrt{2}+2\sqrt{-5}) \div (4\sqrt{2}-\sqrt{-5})$ .



## REPRESENTACION GRAFICA

## 423 REPRESENTACION GRAFICA DE LAS IMAGINARIAS PURAS

Para representar gráficamente las cantidades imaginarias se traza un sistema de ejes coordenados rectangulares  $XOX'$  e  $YOY'$  (figura 67) y tomando como unidad una medida escogida arbitrariamente se procede así:

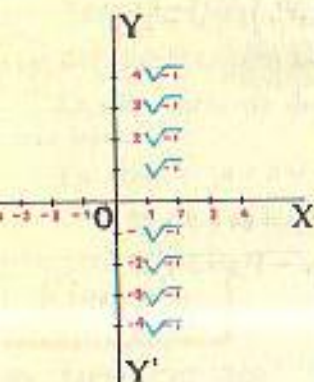


FIGURA 67

Las cantidades reales positivas se representan sobre el semieje positivo  $OX$ , llevando sobre este semieje, de  $O$  hacia  $X$ , la unidad escogida tantas veces como unidades tenga la cantidad real positiva que se representa. En la figura aparecen representadas sobre  $OX$  las cantidades reales y positivas 1, 2, 3, 4.

Las cantidades reales negativas se representan sobre el semieje negativo  $OX'$ , llevando sobre este semieje, de  $O$  hacia  $X'$ , la unidad escogida tantas veces como unidades tenga la cantidad real negativa que se representa. En la figura aparecen representadas sobre  $OX'$  las cantidades reales negativas  $-1, -2, -3, -4$ .

Las imaginarias puras positivas se representan sobre el semieje positivo  $OY$ , llevando sobre este semieje, de  $O$  hacia  $Y$ , la unidad elegida tantas veces como unidades tenga el coeficiente real de la imaginaria pura que se representa. En la figura aparecen representadas sobre  $OY$  las imaginarias puras positivas  $\sqrt{-1}, 2\sqrt{-1}, 3\sqrt{-1}, 4\sqrt{-1}$ .

Las imaginarias puras negativas se representan sobre el semieje negativo  $OY'$ , llevando la unidad elegida sobre este semieje, de  $O$  hacia  $Y'$ , tantas veces como unidades tenga el coeficiente real de la imaginaria pura que se representa.

En la figura aparecen representadas sobre  $OY'$  las imaginarias puras negativas  $-\sqrt{-1}, -2\sqrt{-1}, -3\sqrt{-1}, -4\sqrt{-1}$ .

El origen  $O$  representa el cero.

## 424 REPRESENTACION GRAFICA DE LAS CANTIDADES COMPLEJAS

Vamos a representar gráficamente la cantidad compleja  $5+3\sqrt{-1}$ . Como consta de una parte real 5 y de una parte imaginaria  $3\sqrt{-1}$ , el procedimiento consiste en representar ambas y luego hallar su suma geométrica. (Figura 68).

La parte real 5 está representada en la figura por  $OA$  y la parte imaginaria  $3\sqrt{-1}$  está representada por  $OB$ . En  $A$  se levanta una línea  $AC$  igual y paralela a  $OB$ . Uniendo el origen con el punto  $C$  obtenemos el vector  $OC$ , que es la suma geométrica de  $OA=5$  y  $AC=3\sqrt{-1}$ .

El vector  $OC$  representa la cantidad compleja  $5+3\sqrt{-1}$ .

El punto  $C$  es el afijo de la expresión  $5+3\sqrt{-1}$ .

El vector  $OC$  representa en magnitud el módulo o valor de la expresión compleja.

El ángulo  $COA$  que forma el vector  $OC$  con el semieje  $OX$  se llama argumento o amplitud.

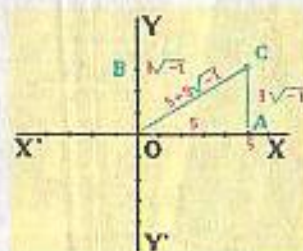


FIGURA 68

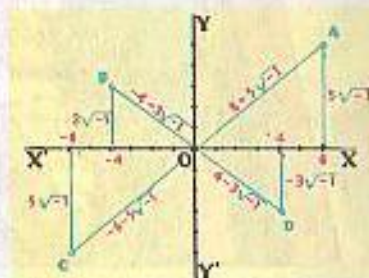


FIGURA 69

En la figura 69 aparece representada en el primer cuadrante la expresión  $6+5\sqrt{-1}$ , su afijo es el punto  $A$ ; en el segundo cuadrante está representada  $-4+3\sqrt{-1}$ , su afijo es el punto  $B$ ; en el tercer cuadrante está representada  $-6-5\sqrt{-1}$ , el afijo es el punto  $C$ ; en el cuarto cuadrante está representada  $4-3\sqrt{-1}$  con su afijo en  $D$ .

## 425 PLANO GAUSSIANO, UNIDADES GAUSSIANAS

Podemos resumir lo visto anteriormente de este modo:

1) Las cantidades reales se representan sobre el eje de las  $x$ ; sobre  $OX$  si son positivas, sobre  $OX'$  si son negativas.

2) Las imaginarias puras se representan sobre el eje de las  $y$ ; sobre  $OY$  si son positivas, sobre  $OY'$  si son negativas.

3) En el resto del plano que determinan los ejes se representan las cantidades complejas; cada expresión compleja tiene su afijo y cada punto del plano determina una expresión compleja.

Este plano ha recibido el nombre de Plano Gaussiano en honor del célebre matemático alemán Carlos Federico Gauss, que impulsó en Europa este método de representación gráfica de las cantidades imaginarias y complejas. Por análoga razón, las unidades tomadas sobre los ejes de este plano son llamadas unidades gaussianas.

## EJERCICIO 264

Representar gráficamente:

- |                    |                   |                              |                                |
|--------------------|-------------------|------------------------------|--------------------------------|
| 1. $2+2\sqrt{-1}$  | 4. $7-3\sqrt{-1}$ | 7. $3-6i$                    | 10. $-5i+6\sqrt{-1}$           |
| 2. $-2+3\sqrt{-1}$ | 5. $1+i$          | 8. $-5+4i$                   | 11. $-1\frac{1}{2}-2\sqrt{-1}$ |
| 3. $-4-5\sqrt{-1}$ | 6. $-1-5i$        | 9. $4\frac{1}{2}-7\sqrt{-1}$ | 12. $-10+10i$                  |





**HENRIK ABEL (1802-1829)** Matemático noruegués. Vivió durante toda su vida en extrema pobreza, trató de abrirse paso entre los matemáticos del momento, pero no lo logró. Obtuvo con Jacobi el Premio de Matemáticas del Instituto de Francia.

por su trabajo sobre las funciones elípticas. Fue uno de los más grandes algebristas del siglo XIX. Demostró el teorema general del binomio. Llevó a cabo la demostración de la imposibilidad de la resolución de las ecuaciones de quinto grado. Murió desconocido.

## CAPITULO XXXIII

### ECUACIONES DE SEGUNDO GRADO CON UNA INCOGNITA

**426 ECUACION DE SEGUNDO GRADO** es toda ecuación en la cual, una vez simplificada, el mayor exponente de la incógnita es 2.

Así,  $4x^2 + 7x + 6 = 0$

es una ecuación de segundo grado.

**Ecuaciones completas** de 2o. grado son ecuaciones de la forma  $ax^2 + bx + c = 0$ , que tienen un término en  $x^2$ , un término en  $x$  y un término independiente de  $x$ .

Así,  $2x^2 + 7x - 15 = 0$  y  $x^2 - 8x = -15$  o  $x^2 - 8x + 15 = 0$  son ecuaciones completas de 2o. grado.

**Ecuaciones incompletas** de 2o. grado son ecuaciones de la forma  $ax^2 + c = 0$  que carecen del término en  $x$  o de la forma  $ax^2 + bx = 0$  que carecen del término independiente.

Así,  $x^2 - 16 = 0$  y  $3x^2 + 5x = 0$  son ecuaciones incompletas de 2o. grado.

**427 RAICES DE UNA ECUACION DE 2º GRADO** son los valores de la incógnita que satisfacen la ecuación.

Toda ecuación de 2o. grado tiene dos raíces. Así, las raíces de la ecuación  $x^2 - 2x - 3 = 0$  son  $x_1 = 3$  y  $x_2 = -1$ ; ambos valores satisfacen esta ecuación.

Resolver una ecuación de 2o. grado es hallar las raíces de la ecuación.

### ECUACIONES COMPLETAS

**428 METODO DE COMPLETAR EL CUADRO PARA RESOLVER LA ECUACION DE 2º GRADO**  
 $ax^2 + bx + c = 0$

Para comprender mejor este método, consideremos primero la ecuación del tipo  $x^2 + bx + c$ .

Podemos escribir esta ecuación del siguiente modo:  $x^2 + bx$ .

Si observamos el primer miembro veremos que al binomio  $x^2 + bx$  le falta un término para ser un trinomio cuadrado perfecto. Tal término es el cuadrado de la mitad del coeficiente del segundo término  $\left(\frac{b}{2}\right)^2$ , o lo que es lo mismo  $\frac{b^2}{4}$ .

En efecto, formamos así un trinomio cuyo primer término es el cuadrado de  $x$ ; su segundo término es el doble producto de  $x$  por  $\frac{b}{2}$ ; y su tercer término es el cuadrado de la mitad del coeficiente del segundo término  $\left(\frac{b}{2}\right)^2$  o sea  $\frac{b^2}{4}$ . Para que no se altere la ecuación le agregamos al segundo miembro la misma cantidad que le agregamos al primer miembro.

Así tendremos:  $x^2 + bx + \left(\frac{b^2}{4}\right) = \left(\frac{b^2}{4}\right) - c$

En el primer miembro de esta ecuación tenemos un trinomio cuadrado perfecto.

Factoramos:  $\left(x + \frac{b}{2}\right)^2 = \frac{b^2}{4} - c$

Extraemos la raíz cuadrada a ambos miembros:  $\sqrt{\left(x + \frac{b}{2}\right)^2} = \pm \sqrt{\frac{b^2}{4} - c}$   
 $x + \frac{b}{2} = \pm \sqrt{\frac{b^2}{4} - c}$

$$x_1 = -\frac{b}{2} + \sqrt{\frac{b^2}{4} - c}$$

$$x_2 = -\frac{b}{2} - \sqrt{\frac{b^2}{4} - c}$$

Cuando el coeficiente de  $x^2$  es mayor que 1, el procedimiento es esencialmente el mismo, sólo que como primer paso dividimos los tres términos de la ecuación entre  $a$ , coeficiente de  $x^2$ . Pondremos un ejemplo numérico.



## Ejemplo

Sea la ecuación  $4x^2 + 3x - 22 = 0$ .Transponiendo el término independiente:  $x^2 + 3x = 22$ 

Dividiendo por el coeficiente del primer

término:  $x^2 + \frac{3}{4}x = \frac{22}{4}$ 

Agregando el cuadrado

de la mitad de  $\frac{3}{4}$ :  $x^2 + \frac{3}{4}x + \left(\frac{3}{8}\right)^2 = \frac{22}{4} + \left(\frac{3}{8}\right)^2$ 

Factorando el primer miembro:

 $\left(x + \frac{3}{8}\right)^2 = \frac{22}{4} + \frac{9}{64}$ 

Extrayendo la raíz

cuadrada a los dos

miembros:

 $\sqrt{\left(x + \frac{3}{8}\right)^2} = \pm \sqrt{\frac{22}{4} + \frac{9}{64}}$ 

Resolviendo:

 $x + \frac{3}{8} = \pm \sqrt{\frac{361}{64}}$  $x = -\frac{3}{8} \pm \sqrt{\frac{361}{64}}$  $x = -\frac{3}{8} \pm \frac{19}{8}$  $x_1 = -\frac{3}{8} + \frac{19}{8} = \frac{16}{8} = 2$  $x_2 = -\frac{3}{8} - \frac{19}{8} = -\frac{22}{8} = -2\frac{3}{4}$  $R. \begin{cases} x_1 = 2 \\ x_2 = -2\frac{3}{4} \end{cases}$ 

## 29 DEDUCCION DE LA FORMULA PARA RESOLVER

LA ECUACION GENERAL DE 2º GRADO  $ax^2 + bx + c = 0$ La ecuación es  $ax^2 + bx + c = 0$ Multiplicando por  $4a$ :  $4a^2x^2 + 4abx + 4ac = 0$ Sumando  $b^2$  a los dos miembros:  $4a^2x^2 + 4abx + 4ac + b^2 = b^2$ Pasando  $4ac$  al 2o. miembro:  $4a^2x^2 + 4abx + b^2 = b^2 - 4ac$ 

Descomponiendo el primer miembro,

es un trinomio cuadrado perfecto:  $(2ax + b)^2 = b^2 - 4ac$ Extrayendo la raíz cuadrada a los dos miembros:  $2ax + b = \pm \sqrt{b^2 - 4ac}$ Transponiendo  $b$ :  $2ax = -b \pm \sqrt{b^2 - 4ac}$ Despejando  $x$ :  $x = \frac{-b \pm \sqrt{b^2 - 4ac}}{2a}$ 

Formula que me da las dos raíces de la ecuación  $ax^2 + bx + c = 0$  (porque de esta fórmula salen dos valores de  $x$  según se tome  $\sqrt{b^2 - 4ac}$  con signo  $+$  o  $-$ ) en función de  $a$ , coeficiente del término en  $x^2$  en la ecuación,  $b$  coeficiente del término en  $x$  y  $c$  el término independiente.

Obsérvese que en la fórmula aparece el coeficiente del 2o. término de la ecuación  $b$  con signo distinto al que tiene en la ecuación.

## RESOLUCION DE ECUACIONES COMPLETAS DE 2º GRADO SIN DENOMINADORES APLICANDO LA FORMULA GENERAL

## Ejemplos

(1) Resolver la ecuación  $3x^2 - 7x + 2 = 0$ .Aplicamos la fórmula  $x = \frac{-b \pm \sqrt{b^2 - 4ac}}{2a}$ Aquí  $a = 3$ ,  $b = -7$ ,  $c = 2$ , luego sustituyendo y teniendo presente que al sustituir  $b$  se pone con signo cambiado, tendremos:

$$x = \frac{7 \pm \sqrt{7^2 - 4(3)(2)}}{2(3)} = \frac{7 \pm \sqrt{49 - 24}}{6} = \frac{7 \pm \sqrt{25}}{6} = \frac{7 \pm 5}{6}$$

Entonces:

$$x_1 = \frac{7 + 5}{6} = \frac{12}{6} = 2.$$

$$x_2 = \frac{7 - 5}{6} = \frac{2}{6} = \frac{1}{3}.$$

$$R. \begin{cases} x_1 = 2 \\ x_2 = \frac{1}{3} \end{cases}$$

2 y  $\frac{1}{3}$  son las raíces de la ecuación dada y ambas anulan la ecuación. Sustituyendo  $x$  por 2 en la ecuación dada  $3x^2 - 7x + 2 = 0$ , se tiene:

$$3(2^2) - 7(2) + 2 = 12 - 14 + 2 = 0.$$

Sustituyendo  $x$  por  $\frac{1}{3}$ :  $3\left(\frac{1}{3}\right)^2 - 7\left(\frac{1}{3}\right) + 2 = \frac{1}{3} - \frac{7}{3} + 2 = 0.$

(2) Resolver la ecuación  $6x - x^2 - 9 = 0$ .Ordenando y cambiando signos:  $x^2 - 6x + 9 = 0$ .Vamos a aplicar la fórmula teniendo presente que  $a$ , coeficiente de  $x^2$ , es 1:

$$x = \frac{6 \pm \sqrt{36 - 4(1)(9)}}{2(1)} = \frac{6 \pm \sqrt{36 - 36}}{2} = \frac{6 \pm \sqrt{0}}{2} = \frac{6}{2} = 3.$$

Entonces  $x$  tiene un solo valor 3; las dos raíces son iguales:

$$x_1 = x_2 = 3. \quad R.$$

## EJERCICIO 265

Resolver las siguientes ecuaciones por la fórmula general:

- |                           |                              |                             |
|---------------------------|------------------------------|-----------------------------|
| 1. $3x^2 - 5x + 2 = 0$ .  | 7. $6x^2 = x + 222$ .        | 13. $176x = 121 + 64x^2$ .  |
| 2. $4x^2 + 3x - 22 = 0$ . | 8. $x + 11 = 10x^2$ .        | 14. $8x + 5 = 36x^2$ .      |
| 3. $x^2 + 11x = -24$ .    | 9. $49x^2 - 70x + 25 = 0$ .  | 15. $27x^2 + 12x - 7 = 0$ . |
| 4. $x^2 = 16x - 63$ .     | 10. $12x - 7x^2 + 64 = 0$ .  | 16. $15x = 25x^2 + 2$ .     |
| 5. $12x - 4 - 9x^2 = 0$ . | 11. $x^2 = -15x - 56$ .      | 17. $8x^2 - 2x - 3 = 0$ .   |
| 6. $5x^2 - 7x - 90 = 0$ . | 12. $32x^2 + 18x - 17 = 0$ . | 18. $105 = x + 2x^2$ .      |

(3) Resolver la ecuación  $(x + 4)^2 = 2x(5x - 1) - 7(x - 2)$ .Para aplicar la fórmula hay que llevarla a la forma  $ax^2 + bx + c = 0$ .Efectuando:  $x^2 + 8x + 16 = 10x^2 - 2x - 7x + 14$ Transponiendo:  $x^2 + 8x + 16 - 10x^2 + 2x + 7x - 14 = 0$ Reduciendo:  $-9x^2 + 17x + 2 = 0$ Cambiando signos:  $9x^2 - 17x - 2 = 0$



Aplicando la fórmula:

$$x = \frac{17 \pm \sqrt{17^2 - 4(9)(-2)}}{2(9)} = \frac{17 \pm \sqrt{289 + 72}}{18} = \frac{17 \pm \sqrt{361}}{18} = \frac{17 \pm 19}{18}$$

Entonces:

$$x_1 = \frac{17 + 19}{18} = \frac{36}{18} = 2.$$

$$x_2 = \frac{17 - 19}{18} = \frac{-2}{18} = -\frac{1}{9}.$$

$$R. \begin{cases} x_1 = 2. \\ x_2 = -\frac{1}{9}. \end{cases}$$

## EJERCICIO 266

Resolver las ecuaciones siguientes llevándolas a la forma  $ax^2 + bx + c = 0$  y aplicando la fórmula general:

- $x(x+3) = 5x + 3.$
- $3(3x-2) = (x+4)(4-x).$
- $9x+1 = 3(x^2-5) - (x-3)(x+2).$
- $(2x-3)^2 - (x+5)^2 = -23.$
- $25(x+2)^2 = (x-7)^2 - 81.$
- $3x(x-2) - (x-6) = 23(x-3).$
- $7(x-3) - 5(x^2-1) = x^2 - 5(x+2).$
- $(x-5)^2 - (x-6)^2 = (2x-3)^2 - 118.$
- $(5x-2)^2 - (3x+1)^2 - x^2 - 60 = 0.$
- $(x+4)^2 - (x-3)^2 = 343.$
- $(x+2)^2 - (x-1)^2 = x(3x+4) + 8.$
- $(5x-4)^2 - (3x+5)(2x-1) = 20x(x-2) + 27.$

430 DEDUCCION DE LA FORMULA PARTICULAR PARA RESOLVER ECUACIONES DE LA FORMA  $x^2 + mx + n = 0$ 

Las ecuaciones de esta forma como  $x^2 + 5x + 6 = 0$  se caracterizan porque el coeficiente del término en  $x^2$  es 1. Estas ecuaciones pueden resolverse por la fórmula general con sólo suponer en ésta que  $a = 1$ , pero existe para ellas una fórmula particular, que vamos a deducir.

La ecuación es  $x^2 + mx + n = 0.$ Transponiendo  $n$ :  $x^2 + mx = -n.$ Sumando  $\frac{m^2}{4}$  a los dos miembros:  $x^2 + mx + \frac{m^2}{4} = \frac{m^2}{4} - n.$ 

Descomponiendo el primer miembro, que es un trinomio cuadrado perfecto:  $\left(x + \frac{m}{2}\right)^2 = \frac{m^2}{4} - n.$

Extrayendo la raíz cuadrada a los dos miembros:  $x + \frac{m}{2} = \pm \sqrt{\frac{m^2}{4} - n}.$

Transponiendo  $\frac{m}{2}$ :  $x = -\frac{m}{2} \pm \sqrt{\frac{m^2}{4} - n}$

Obsérvese que  $m$  y  $n$  aparecen en la fórmula con signos distintos a los que tienen en la ecuación.

## Ejemplo

Resolver  $3x^2 - 2x(x-4) = x - 12$  por la fórmula particular.

Simplificando la ecuación:  $3x^2 - 2x^2 + 8x = x - 12$   
 $x^2 + 7x + 12 = 0.$

Aquí  $m = 7$ ,  $n = 12$ , luego aplicando la fórmula particular:

$$x = -\frac{7}{2} \pm \sqrt{\frac{49}{4} - 12} = -\frac{7}{2} \pm \sqrt{\frac{1}{4}} = -\frac{7}{2} \pm \frac{1}{2}.$$

Entonces:

$$x_1 = -\frac{7}{2} + \frac{1}{2} = -\frac{6}{2} = -3.$$

$$x_2 = -\frac{7}{2} - \frac{1}{2} = -\frac{8}{2} = -4.$$

$$R. \begin{cases} x_1 = -3. \\ x_2 = -4. \end{cases}$$

## EJERCICIO 267

Resolver las siguientes ecuaciones aplicando la fórmula particular:

- $x^2 - 3x + 2 = 0.$
- $x^2 - 2x - 15 = 0.$
- $x^2 = 19x - 88.$
- $x^2 + 4x = 285.$
- $5x(x-1) - 2(2x^2 - 7x) = -8.$
- $x^2 - (7x+6) = x + 59.$
- $(x-1)^2 + 11x + 199 = 3x^2 - (x-2)^2.$
- $(x-2)(x+2) - 7(x-1) = 21.$
- $2x^2 - (x-2)(x+5) = 7(x+3).$
- $(x-1)(x+2) - (2x-3)(x+4) - x + 14 = 0.$

## 431 RESOLUCION DE ECUACIONES DE 2º GRADO CON DENOMINADORES

## Ejemplo

Resolver la ecuación  $\frac{1}{3x} = \frac{7}{5x^2} - \frac{11}{60}.$ 

Hay que quitar denominadores. El m. c. m. de  $3x$ ,  $5x^2$  y  $60$  es  $60x^2$ . Tendremos:  
 $20x = 84 - 11x^2$

Transponiendo:  $11x^2 + 20x - 84 = 0.$ Aplicando la fórmula se obtiene  $x_1 = 2$ ,  $x_2 = -3\frac{2}{11}$  R.

## EJERCICIO 268

Resolver las siguientes ecuaciones:

- $\frac{x^2}{5} - \frac{x}{2} = \frac{3}{10}.$
- $4x - \frac{13}{x} = \frac{3}{2}.$
- $\frac{x^2}{6} - \frac{x}{2} = 3(x-5).$
- $\frac{1}{4}(x-4) + \frac{2}{5}(x-5) = \frac{1}{5}(x^2 - 53).$
- $\frac{5}{x} - \frac{1}{x+2} = 1.$
- $\frac{15}{x} - \frac{11x+5}{x^2} = -1.$
- $\frac{8x}{3x+5} + \frac{5x-1}{x+1} = 3.$
- $\frac{1}{x-2} - \frac{1}{x-1} = \frac{1}{6}.$
- $1 - \frac{2x-3}{x+5} = \frac{x-2}{10}.$
- $\frac{x-13}{x} = 5 - \frac{10(5x+)}{x^2}.$
- $\frac{x}{x-2} - \frac{x-2}{x} = \frac{5}{2}.$
- $\frac{4x^2}{x-1} - \frac{1-3x}{4} = \frac{20}{3}.$
- $\frac{3x-1}{x} - \frac{2x}{2x-1} = \frac{7}{6}.$
- $\frac{5x-8}{x-1} = \frac{7x-4}{x+2}.$



$$\frac{x+3}{2x-1} - \frac{5x-1}{4x+7} = 0. \quad 17. \frac{x+4}{x+5} - \frac{x+2}{x+3} = \frac{1}{24}. \quad 19. \frac{x-1}{x+1} + \frac{x+1}{x-1} = \frac{2x+9}{x+3}.$$

$$\frac{1}{4-x} - \frac{1}{6} = \frac{1}{x+1}. \quad 18. \frac{5}{x^2-1} - \frac{6}{x+1} = 3\frac{5}{8}. \quad 20. \frac{3}{x+2} - \frac{1}{x-2} = \frac{1}{x+1}.$$

### 432 RESOLUCIÓN DE ECUACIONES DE 2º GRADO POR DESCOMPOSICIÓN EN FACTORES

Descomponiendo en factores el primer miembro de una ecuación de la forma  $x^2 + mx + n = 0$  o  $ax^2 + bx + c = 0$  se obtiene un método muy rápido para resolver la ecuación.

#### Ejemplo

Resolver  $x^2 + 5x - 24 = 0$  por descomposición en factores.

Factorando el trinomio (145), se tiene:

$$(x+8)(x-3) = 0.$$

Para que el producto  $(x+8)(x-3)$  sea cero es necesario que por lo menos uno de estos factores sea cero, es decir, la ecuación se satisface para  $x+8=0$  y  $x-3=0$ .

Podemos, pues, suponer que cualquiera de los factores es cero.

Si  $x+8=0$ , se tiene que  $x=-8$

y si  $x-3=0$ , se tiene que  $x=3$ .

Lo anterior nos dice que  $x$  puede tener los valores  $-8$  ó  $3$ . Por tanto,  $-8$  y  $3$  son las raíces de la ecuación dada.

$$R. \begin{cases} x_1 = -8. \\ x_2 = 3. \end{cases}$$

Por tanto, para resolver una ecuación de 2º grado por descomposición en factores:

- (A) Se simplifica la ecuación y se pone en la forma  $x^2 + mx + n = 0$  o  $ax^2 + bx + c = 0$ .
- (B) Se factora el trinomio del primer miembro de la ecuación.
- (C) Se igualan a cero cada uno de los factores y se resuelven las ecuaciones simples que se obtienen de este modo.

### EJERCICIO 269

Resolver por descomposición en factores:

$$x^2 - x - 6 = 0. \quad 9. 60 = 8x^2 + 157x. \quad 15. \frac{x}{x-2} + x = \frac{3x+15}{4}$$

$$x^2 + 7x = 18. \quad 10. x(x-1) - 5(x-2) = 2. \quad 16. \frac{6}{x-4} - \frac{4}{x} = \frac{5}{12}$$

$$8x - 65 = -x^2. \quad 11. (x-2)^2 - (2x+3)^2 = -80. \quad 17. (x-2)^3 - (x-3)^3 = 37$$

$$x^2 = 108 - 3x. \quad 12. \frac{6}{x^2} - \frac{9}{x} = -\frac{4}{3} \quad 18. \frac{x-1}{x+1} - 2 = \frac{x+3}{3}$$

$$2x^2 + 7x - 4 = 0. \quad 13. \frac{x+2}{x} + x = \frac{74}{x} \quad 19. \frac{4x-1}{2x+3} = \frac{2x+1}{6x+5}$$

$$6x^2 = 10 - 11x. \quad 14. (x+2)^2 - \frac{2x-5}{3} = 3. \quad 20. \frac{3x+2}{4} = 5 - \frac{9x+14}{12x}$$

$$20x^2 - 27x = 14. \quad 7x = 15 - 30x^2.$$

### ECUACIONES LITERALES DE 2º GRADO

433 Las ecuaciones literales de 2º grado pueden resolverse, como las numéricas, por la fórmula general o por descomposición en factores. En muchas ecuaciones literales la resolución por factores es muy rápida, mientras que por la fórmula resulta mucho más laboriosa.

#### Ejemplos

(1) Resolver la ecuación  $\frac{3a}{x} - \frac{2x}{a} = 1$ .

Quitando denominadores:

$$3a^2 - 2x^2 = ax$$

$$2x^2 + ax - 3a^2 = 0.$$

Aplicando la fórmula. Aquí  $a=2$ ,  $b=a$ ,  $c=-3a^2$ , luego:

$$x = \frac{-a \pm \sqrt{a^2 - 4(2)(-3a^2)}}{4} = \frac{-a \pm \sqrt{a^2 + 24a^2}}{4} = \frac{-a \pm \sqrt{25a^2}}{4} = \frac{-a \pm 5a}{4}$$

$$x_1 = \frac{-a + 5a}{4} = \frac{4a}{4} = a.$$

$$x_2 = \frac{-a - 5a}{4} = -\frac{6a}{4} = -\frac{3}{2}a.$$

$$R. \begin{cases} x_1 = a. \\ x_2 = -\frac{3}{2}a. \end{cases}$$

(2) Resolver la ecuación  $2x^2 - 4ax + bx = 2ab$ .

La solución de las ecuaciones de este tipo por la fórmula es bastante laboriosa, sin embargo, por descomposición en factores es muy rápida.

Para resolver por factores se pasan todas las cantidades al primer miembro de modo que quede cero en el segundo. Así, en este caso, transponiendo  $2ab$ , tenemos:

$$2x^2 - 4ax + bx - 2ab = 0$$

Descomponiendo el primer miembro (factor común por agrupación), se tiene:

$$2x(x-2a) + b(x-2a) = 0$$

o sea

$$(x-2a)(2x+b) = 0$$

Igualando a cero cada factor, se tiene:

$$\text{Si } x-2a=0, \quad x=2a.$$

$$2x+b=0, \quad x=-\frac{b}{2}.$$

$$R. \begin{cases} x_1 = 2a. \\ x_2 = -\frac{b}{2}. \end{cases}$$

### EJERCICIO 270

Resolver las ecuaciones:

$$1. x^2 + 2ax - 3a^2 = 0. \quad 5. x^2 + ax = 20a^2. \quad 9. x^2 - 2ax = 6ab - 3bx.$$

$$2. 10x^2 = 36a^2 - 3ax. \quad 6. 2x^2 = abx + 3a^2b^2. \quad 10. 3(2x^2 - mx) + 4nx - 2mn = 0.$$

$$3. a^2x^2 + abx - 2b^2 = 0. \quad 7. b^2x^2 + 2abx = 3a^2. \quad 11. x^2 - a^2 - bx - ab = 0.$$

$$4. 89bx = 42x^2 + 22b^2. \quad 8. x^2 + ax - bx = ab. \quad 12. abx^2 - x(b-2a) = 2.$$



13.  $x^2 - 2ax + a^2 - b^2 = 0$ .  
 14.  $4x(x-b) + b^2 = 4m^2$ .  
 15.  $x^2 - b^2 + 4a^2 - 4ax = 0$ .  
 16.  $x^2 - (a+2)x = -2a$ .  
 17.  $x^2 + 2x(4-3a) = 48a$ .  
 18.  $x^2 - 2x = m^2 + 2m$ .  
 19.  $x^2 + m^2x(m-2) = 2m^3$ .  
 20.  $6x^2 - 15ax = 2bx - 5ab$ .  
 21.  $\frac{3x}{4} + \frac{a}{2} - \frac{x^2}{2a} = 0$ .  
 22.  $\frac{2x-b}{2} = \frac{2bx-b^2}{3x}$ .  
 23.  $\frac{a+x}{a-x} + \frac{a-2x}{a+x} = -4$ .  
 24.  $\frac{x^2}{x-1} = \frac{a^2}{2(a-2)}$ .  
 25.  $x + \frac{2}{x} = \frac{1}{a} + 2a$ .  
 26.  $\frac{2x-b}{b} - \frac{x}{x+b} = \frac{2x}{4b}$ .

## ECUACIONES INCOMPLETAS

434 Las ecuaciones incompletas de 2º grado son de la forma  $ax^2 + c = 0$ , que carecen del término en  $x$ , o de la forma  $ax^2 + bx = 0$ , que carecen del término independiente.

### 435 ECUACIONES INCOMPLETAS DE LA FORMA $ax^2 + c = 0$

Si en la ecuación  $ax^2 + c = 0$  pasamos  $c$  al 2º. miembro, se tiene:

$$ax^2 = -c \quad \therefore x^2 = -\frac{c}{a} \quad \therefore x = \pm \sqrt{-\frac{c}{a}}$$

Si  $a$  y  $c$  tienen el mismo signo, las raíces son imaginarias por ser la raíz cuadrada de una cantidad negativa; si tienen signo distinto, las raíces son reales.

A igual resultado se llega aplicando la fórmula general a esta ecuación  $ax^2 + c = 0$  teniendo presente que  $b = 0$ , ya que el término  $bx$  es nulo. Se tiene:

$$x = \frac{\pm \sqrt{-4ac}}{2a} = \pm \sqrt{\frac{-4ac}{4a^2}} = \pm \sqrt{-\frac{c}{a}}$$

## Ejemplos

(1) Resolver la ecuación  $x^2 + 1 = \frac{7x^2}{9} + 3$ .

Suprimiendo denominadores:  $9x^2 + 9 = 7x^2 + 27$

Transponiendo:  $9x^2 - 7x^2 = 27 - 9$

$$2x^2 = 18$$

$$x^2 = 9$$

Extrayendo la raíz cuadrada:  $x = \pm \sqrt{9}$   
 $x = \pm 3$  R.

Las dos raíces  $+3$  y  $-3$  son reales y racionales.

(2) Resolver la ecuación  $x^2 + 5 = 7$ .

Transponiendo y reduciendo:  $x^2 = 2$

$$x = \pm \sqrt{2} \text{ R.}$$

Las dos raíces  $\sqrt{2}$  y  $-\sqrt{2}$  son reales e irracionales.

(3) Resolver la ecuación  $5x^2 + 12 = 3x^2 - 20$ .

Transponiendo:  $5x^2 - 3x^2 = -20 - 12$

$$2x^2 = -32$$

$$x^2 = -16$$

Extrayendo la raíz cuadrada:

$$x = \pm \sqrt{-16}$$

$$x = \pm 4\sqrt{-1} = \pm 4i \text{ R.}$$

Las dos raíces son imaginarias.

## ERJERCICIO 271

Resolver las ecuaciones:

1.  $3x^2 = 48$ .

2.  $5x^2 - 9 = 46$ .

3.  $7x^2 + 14 = 0$ .

4.  $9x^2 - a^2 = 0$ .

5.  $(x+5)(x-5) = -7$ .

6.  $(2x-3)(2x+3) - 135 = 0$ .

7.  $3(x+2)(x-2) = (x-4)^2 + 8x$ .

8.  $\left(x + \frac{1}{3}\right)\left(x - \frac{1}{3}\right) = \frac{1}{3}$ .

9.  $(2x-1)(x+2) - (x+4)(x-1) + 5 = 0$ .

10.  $\frac{5}{2x^2} - \frac{1}{6x^2} = \frac{7}{12}$ .

11.  $\frac{2x-3}{x-3} = \frac{x-2}{x-1}$ .

12.  $\frac{x^2-5}{-3} + \frac{4x^2-1}{5} - \frac{14x^2-1}{15} = 0$ .

13.  $2x-3 - \frac{x^2+1}{x-2} = -7$ .

14.  $3 - \frac{3}{4x^2-1} = 2$ .

### 436 ECUACIONES INCOMPLETAS DE LA FORMA $ax^2 + bx = 0$

Vamos a resolver la ecuación  $ax^2 + bx = 0$

por descomposición. Descomponiendo se tiene:

Iguando a cero ambos factores:

$$x = 0,$$

$$ax + b = 0 \quad \therefore x = -\frac{b}{a}.$$

Se ve que en estas ecuaciones siempre una raíz es cero y la otra es el coeficiente del término en  $x$  con signo cambiado partido por el coeficiente del término en  $x^2$ .

Igual resultado se obtiene aplicando la fórmula general a esta ecuación teniendo presente que  $c = 0$ . Se tiene:

$$x = \frac{-b \pm \sqrt{b^2}}{2a} = \frac{-b \pm b}{2a}$$

y de aquí

$$x_1 = \frac{-b + b}{2a} = \frac{0}{2a} = 0.$$

$$x_2 = \frac{-b - b}{2a} = \frac{-2b}{2a} = -\frac{b}{a}.$$



**Ejemplos**(1) Resolver la ecuación  $5x^2 = -3x$ .

Transponiendo:  $5x^2 + 3x = 0$

Descomponiendo:  $x(5x + 3) = 0$

Igualando a cero:  $x = 0$

$5x + 3 = 0 \quad \therefore x = -\frac{3}{5}$

Las raíces son 0 y  $-\frac{3}{5}$ . R.(2) Resolver la ecuación  $3x - 1 = \frac{5x + 2}{x - 2}$ .

Quitando denominadores:  $(3x - 1)(x - 2) = 5x + 2$

$3x^2 - 7x + 2 = 5x + 2$

Transponiendo y reduciendo:  $3x^2 - 12x = 0$

Descomponiendo:  $3x(x - 4) = 0$

$3x = 0 \quad \therefore x = \frac{0}{3} = 0$

$x - 4 = 0 \quad \therefore x = 4$

Las raíces son 0 y 4. R.

**EJERCICIO 272**

Resolver las ecuaciones:

1.  $x^2 = 5x$ .

5.  $(x-3)^2 - (2x+5)^2 = -16$ .

2.  $4x^2 = -32x$ .

6.  $\frac{x^2}{3} - \frac{x-9}{6} = \frac{3}{2}$ .

3.  $x^2 - 3x = 3x^2 - 4x$ .

7.  $(4x-1)(2x+3) = (x+3)(x-1)$ .

4.  $5x^2 + 4 = 2(x+2)$ .

8.  $\frac{x+1}{x-1} - \frac{x+4}{x-2} = 1$ .

**437 ECUACIONES CON RADICALES QUE SE REDUCEN A 2º GRADO. SOLUCIONES EXTRAÑAS**

Las ecuaciones con radicales se resuelven como sabemos, destruyendo los radicales mediante la elevación de los dos miembros a la potencia que indique el índice del radical.

Cuando la ecuación que resulta es de 2º. grado, al resolverla obtendremos las dos raíces de la ecuación, pero es necesario hacer la verificación con ambas raíces en la ecuación dada, comprobar si ambas raíces satisfacen la ecuación dada, porque cuando los dos miembros de una ecuación se elevan a una misma potencia generalmente se introducen nuevas soluciones que no satisfacen la ecuación dada. Estas soluciones se llaman soluciones extrañas o inadmisibles.

Por tanto, es necesario en cada caso hacer la verificación para aceptar las soluciones que satisfacen la ecuación dada y rechazar las soluciones extrañas.

Al hacer la verificación se tiene en cuenta solamente el valor positivo del radical.

**Ejemplo**Resolver la ecuación  $\sqrt{4x-3} - \sqrt{x-2} = \sqrt{3x-5}$ .

Elevando al cuadrado:

$$\sqrt{4x-3}^2 - 2\sqrt{4x-3}\sqrt{x-2} + \sqrt{x-2}^2 = \sqrt{3x-5}^2$$

o sea

$$4x - 3 - 2\sqrt{4x-3}\sqrt{x-2} + x - 2 = 3x - 5$$

Aislando el radical:

$$-2\sqrt{4x-3}\sqrt{x-2} = 3x - 5 - 4x + 3 - x + 2$$

Reduciendo:

$$-2\sqrt{4x-3}\sqrt{x-2} = -2x$$

Dividiendo por -2:

$$\sqrt{4x-3}\sqrt{x-2} = x$$

Elevando al cuadrado:

$$4x^2 - 11x + 6 = x^2$$

Transponiendo y reduciendo:

$$3x^2 - 11x + 6 = 0$$

Descomponiendo:

$$(x-3)(3x-2) = 0$$

Igualando a cero:

$$x - 3 = 0 \quad \therefore x = 3$$

$$3x - 2 = 0 \quad \therefore x = \frac{2}{3}$$

Haciendo la verificación se ve que el valor  $x = 3$  satisface la ecuación dada, pero el valor  $x = \frac{2}{3}$  no satisface la ecuación. Entonces,  $x = \frac{2}{3}$  es una solución extraña, que se rechaza.

La solución correcta de la ecuación es  $x = 3$ . R.

**EJERCICIO 273**

Resolver las ecuaciones siguientes haciendo la verificación con ambas raíces:

1.  $x + \sqrt{4x+1} = 5$ .

9.  $\sqrt{2x} + \sqrt{4x-3} = 3$ .

2.  $2x - \sqrt{x-1} = 3x - 7$ .

10.  $\sqrt{x+3} + \frac{6}{\sqrt{x+3}} = 5$ .

3.  $\sqrt{5x-1} + \sqrt{x+3} = 4$ .

11.  $\sqrt{x} + \frac{4}{\sqrt{x}} = 5$ .

4.  $2\sqrt{x} - \sqrt{x+5} = 1$ .

5.  $\sqrt{2x-1} + \sqrt{x+3} = 3$ .

6.  $\sqrt{x-3} + \sqrt{2x+1} - 2\sqrt{x} = 0$ .

12.  $2\sqrt{x} = \sqrt{x+7} + \frac{8}{\sqrt{x+7}}$ .

7.  $\sqrt{5x-1} - \sqrt{3-x} = \sqrt{2x}$ .

13.  $\sqrt{x} + \sqrt{x+8} = 2\sqrt{x}$ .

8.  $\sqrt{3x+1} + \sqrt{5x} = \sqrt{16x+1}$ .

14.  $\sqrt{6-x} + \sqrt{x+7} - \sqrt{12x+1} = 0$ .

**438 REPRESENTACION Y SOLUCION GRAFICA DE ECUACIONES DE SEGUNDO GRADO**

Toda ecuación de segundo grado con una sola incógnita en  $x$  representa una parábola cuyo eje es paralelo al eje de las ordenadas.



# Ejemplos

(1) Representar y resolver gráficamente la ecuación  $x^2 - 5x + 4 = 0$ .

El primer miembro de esta ecuación es una función de segundo grado de  $x$ . Haciendo la función igual a  $y$ , tenemos:

$$y = x^2 - 5x + 4.$$

A cada valor de  $x$  corresponde un valor de la función. Demos valores a  $x$ . (Fig. 70).

Para  $x = 0, y = 4$

$x = 1, y = 0$

$x = 2, y = -2$

$x = 2\frac{1}{2}, y = -2\frac{1}{4}$

$x = 3, y = -2$

$x = 4, y = 0$

$x = 5, y = 4$

$x = 6, y = 10$

$x = -1, y = 10$ , etc.

Representando estos valores de  $y$  correspondientes a los que hemos dado a  $x$ , obtenemos la serie de puntos que aparecen señalados en el gráfico. Uniendo estos puntos por una curva suave se obtiene la parábola ABC, que es la representación gráfica del primer miembro de la ecuación dada.

El punto inferior de la curva, en este caso corresponde al valor  $x = 2\frac{1}{2}$ .

El punto inferior de la curva (o el superior según se verá después) se obtiene siempre cuando a  $x$  se le da un valor igual a  $-\frac{b}{2a}$ . En esta ecuación que

hemos representado  $b = -5$  y  $a = 1$ , y por tanto  $-\frac{b}{2a} = \frac{5}{2} = 2\frac{1}{2}$ .

Las abscisas de los puntos en que la curva corta al eje de las  $x$  son las raíces de la ecuación. En este caso la curva corta al eje de las  $x$  en dos puntos cuyas abscisas son 1 y 4 y éstos son las raíces de la ecuación  $x^2 - 5x + 4 = 0$ . Véase que en la tabla de valores anterior para  $x = 1$  y  $x = 4$ ,  $y = 0$ . Las raíces anulan la ecuación.

Cuando ambas raíces son reales y desiguales la curva corta al eje de las  $x$  en dos puntos distintos.

Por tanto, para resolver gráficamente una ecuación de segundo grado en  $x$  basta hallar los puntos en que la curva corta al eje de las  $x$ .

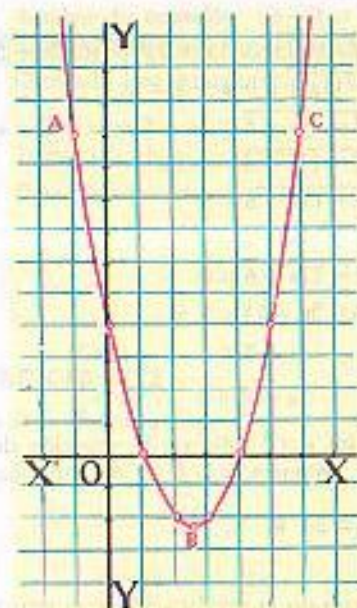


FIGURA 70

(2) Representar y resolver gráficamente la ecuación  $x^2 - 6x + 9 = 0$ . Tendremos:

$$y = x^2 - 6x + 9.$$

Demos valores a  $x$ . (Fig. 71).

Para  $x = 0, y = 9$

$x = 1, y = 4$

$x = 2, y = 1$

$x = 3, y = 0$

$x = 4, y = 1$

$x = 5, y = 4$

$x = 6, y = 9$ , etc.

Representando estos puntos y uniéndolos resulta la parábola ABC que es tangente al eje de las  $x$ . Esta curva es la representación gráfica del primer miembro de la ecuación  $x^2 - 6x + 9 = 0$ .

La curva toca al eje de las  $x$  en un solo punto B cuya abscisa es 3, luego las dos raíces de la ecuación son iguales y valen 3. Obsérvese que en la tabla de valores  $x = 3$  anula la función.

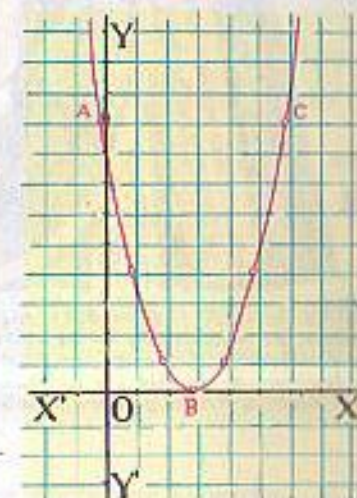


FIGURA 71

## NOTA

Cuando al aplicar la fórmula a una ecuación de 2° grado la cantidad subradical de  $\sqrt{b^2 - 4ac}$  es negativa, ambas raíces son imaginarias.

La parábola que representa una ecuación de 2° grado cuyas raíces son imaginarias no corta al eje de las  $x$ .

## EJERCICIO 274

Representar gráficamente las funciones:

1.  $x^2 + 3x - 4$
2.  $x^2 + 3x + 2$
3.  $x^2 - 5x + 6$
4.  $x^2 + 2x - 8$
5.  $x^2 - 2x - 8$
6.  $x^2 - 9$
7.  $x^2 - 8x + 16$
8.  $x^2 + 4x + 4$
9.  $2x^2 - 9x + 7$
10.  $3x^2 - 4x - 7$

Resolver gráficamente las ecuaciones:

11.  $x^2 - 4x + 3 = 0$
12.  $x^2 - 6x + 8 = 0$
13.  $x^2 - 2x - 3 = 0$
14.  $x^2 + 4x + 3 = 0$
15.  $x^2 = 6 - x$
16.  $x^2 = 2x - 1$
17.  $x^2 + 8x + 16 = 0$
18.  $x^2 - 4 = 0$
19.  $x^2 = 3x + 10$
20.  $x^2 - 4x = -4$
21.  $2x^2 - 9x + 10 = 0$
22.  $2x^2 - 5x - 7 = 0$





**GUSTAV JACOBI (1804-1851)** Matemático. Profesor de matemáticas en las universidades de Göttingen y Königsberg. Comparte con Abel el Gran Premio de la Academia de Ciencias de Göttingen por su trabajo sobre funciones elípticas. Fue el primero en aplicar estas

funciones elípticas a la teoría de los números. Su obra sobre ecuaciones diferenciales inicia una nueva etapa en la Dinámica. Es famosa en este campo la ecuación Hamilton-Jacobi. Ideó la forma sencilla de las determinantes que se estudian hoy en el Álgebra.

## CAPITULO XXXIV

### PROBLEMAS QUE SE RESUELVEN POR ECUACIONES DE SEGUNDO GRADO. PROBLEMA DE LAS LUCES

**439** Cuando el planteo de un problema da origen a una ecuación de segundo grado, al resolver esta ecuación se obtienen dos valores para la incógnita.

Solamente se aceptan como soluciones del problema los valores de la incógnita que satisfagan las condiciones del problema y se rechazan los que no las cumplan.

**440** A es dos años mayor que B y la suma de los cuadrados de ambas edades es 130 años. Hallar ambas edades.

Sea  $x$  = la edad de A.  
Entonces  $x - 2$  = la edad de B.

Según las condiciones:  $x^2 + (x - 2)^2 = 130$ .

Simplificando, se obtiene:  $x^2 - 2x - 63 = 0$ .

Resolviendo:  $(x - 9)(x + 7) = 0$ .

$$x - 9 = 0 \therefore x = 9$$

$$x + 7 = 0 \therefore x = -7$$

Se rechaza la solución  $x = -7$  porque la edad de A no puede ser  $-7$  años y se acepta  $x = 9$ . Entonces A tiene 9 años y B tiene  $x - 2 = 7$  años. R.

**441** A compró cierto número de sacos de frijoles por \$240. Si hubiera comprado 3 sacos más por el mismo dinero, cada saco le habría costado \$4 menos. ¿Cuántos sacos compró y a qué precio?

Sea  $x$  = el número de sacos que compró.

Si compró  $x$  sacos por \$240, cada saco le costó  $\frac{240}{x}$ .

Si hubiera comprado 3 sacos más,  $x + 3$  sacos, por el mismo dinero \$240, cada saco saldría a  $\frac{240}{x+3}$ , pero según las condiciones el precio de cada uno de estos sacos,  $\frac{240}{x+3}$ , sería \$4 menor que el precio de cada uno de los sacos anteriores,  $\frac{240}{x}$ ; luego, se tiene la ecuación:

$$\frac{240}{x} = \frac{240}{x+3} + 4.$$

Resolviendo esta ecuación se obtiene  $x = 12$  y  $x = -15$ .

Se rechaza la solución  $x = -15$  y se acepta  $x = 12$ ; luego, compró 12 sacos y cada saco le costó  $\frac{240}{12} = \frac{240}{12} = \$20$ . R.

**442** La longitud de un terreno rectangular es doble que el ancho. Si la longitud se aumenta en 40 m y el ancho en 6 m, el área se hace doble. Hallar las dimensiones del terreno.

Sea  $x$  = el ancho del terreno.

Entonces  $2x$  = la longitud del terreno.

El área del terreno es  $x \times 2x = 2x^2$ .

Aumentando la longitud en 40 m, ésta sería  $(2x + 40)$  m, y aumentando el ancho en 6 m, éste sería  $(x + 6)$  m. El área ahora sería  $(2x + 40)(x + 6) = 2x^2 + 52x + 240$  m<sup>2</sup>, pero según las condiciones esta nueva área sería doble que la anterior  $2x^2$ ; luego, tenemos la ecuación:

$$2x^2 + 52x + 240 = 4x^2.$$

Transponiendo y reduciendo:

$$-2x^2 + 52x + 240 = 0.$$

Cambiando signos y dividiendo por 2:

$$x^2 - 26x - 120 = 0.$$

Resolviendo esta ecuación se halla  $x = 30$  y  $x = -4$ .

Aceptando la solución  $x = 30$ , el ancho del terreno es 30 m y la longitud es  $2x = 60$  m. R.

**443** Una persona vende un caballo en \$24, perdiendo un % sobre el costo del caballo igual al número de pesos que le costó el caballo. ¿Cuánto le había costado el caballo?

Sea  $x$  = el número de pesos que le había costado el caballo.



Entonces  $x = \%$  de ganancia sobre el costo.

La pérdida obtenida es el  $x\%$  de  $Sx$ . En Aritmética, para hallar el  $6\%$  de  $\$6$  procedemos así:  $\frac{6 \times 6}{100} = \frac{36}{100}$ ; luego, el  $x\%$  de  $Sx$  será  $\frac{x \times x}{100} = \frac{x^2}{100}$

Entonces, como la pérdida  $\frac{x^2}{100}$  es la diferencia entre el costo  $x$  y el precio de venta  $\$24$ , se tiene la ecuación:

$$\frac{x^2}{100} = x - 24.$$

Resolviendo esta ecuación se halla  $x = 40$  y  $x = 60$

Ambas soluciones satisfacen las condiciones del problema; luego, el caballo habrá costado  $\$40$  ó  $\$60$ . R.

### ● EJERCICIO 275

1. La suma de dos números es 9 y la suma de sus cuadrados 53. Hallar los números.
2. Un número positivo es los  $\frac{5}{8}$  de otro y su producto es 2160. Hallar los números.
3.  $A$  tiene 3 años más que  $B$  y el cuadrado de la edad de  $A$  aumentado en el cuadrado de la edad de  $B$  equivale a 317 años. Hallar ambas edades.
4. Un número es el triplo de otro y la diferencia de sus cuadrados es 1800. Hallar los números.
5. El cuadrado de un número disminuido en 9 equivale a 8 veces el exceso del número sobre 2. Hallar el número.
6. Hallar dos números consecutivos tales que el cuadrado del mayor exceda en 57 al triplo del menor.
7. La longitud de una sala excede a su ancho en 4 m. Si cada dimensión se aumenta en 4 m el área será doble. Hallar las dimensiones de la sala.
8. Un comerciante compró cierto número de sacos de azúcar por 1000 bolívares. Si hubiera comprado 10 sacos más por el mismo dinero, cada saco le habría costado 5 bolívares menos. ¿Cuántos sacos compró y cuánto le costó cada uno?
9. Un caballo costó 4 veces lo que sus arreos y la suma de los cuadrados del precio del caballo y el precio de los arreos es  $\$60625$  sucres. ¿Cuánto costó el caballo y cuánto los arreos?
10. La diferencia de dos números es 7 y su suma multiplicada por el número menor equivale a 184. Hallar los números.
11. La suma de las edades de  $A$  y  $B$  es 23 años y su producto 102. Hallar ambas edades.
12. Una persona compró cierto número de libros por  $\$180$ . Si hubiera comprado 6 libros menos por el mismo dinero, cada libro le habría costado  $\$1$  más. ¿Cuántos libros compró y cuánto le costó cada uno?
13. Una compañía de 180 hombres está dispuesta en filas. El número de soldados de cada fila es 8 más que el número de filas que hay. ¿Cuántas filas hay y cuántos soldados en cada una?
14. Se vende un reloj en 75 soles ganando un  $\%$  sobre el costo igual al número de soles que costó el reloj. Hallar el costo del reloj.

15. Entre cierto número de personas compran un auto que vale  $\$1200$ . El dinero que paga cada persona excede en 194 al número de personas. ¿Cuántas personas compraron el auto?
16. Compré cierto número de relojes por  $\$192$ . Si el precio de cada reloj es los  $\frac{3}{4}$  del número de relojes, ¿cuántos relojes compré y cuánto pagué por cada uno?
17. Se ha comprado cierto número de libros por  $\$150$ . Si cada libro hubiera costado  $\$1$  más, se habrían comprado 5 libros menos con los  $\$150$ . ¿Cuántos libros se compraron y cuánto costó cada uno?
18. Por 200 lempiras compré cierto número de libros. Si cada libro me hubiera costado 10 lempiras menos, el precio de cada libro hubiera sido igual al número de libros que compré. ¿Cuántos libros compré?
19. Compré cierto número de plumas por  $\$24$ . Si cada pluma me hubiera costado  $\$1$  menos, podía haber comprado 4 plumas más por el mismo dinero. ¿Cuántas plumas compré y a qué precio?
20. Un tren emplea cierto tiempo en recorrer 240 Km. Si la velocidad hubiera sido 20 Km por hora más que la que llevaba hubiera tardado 2 horas menos en recorrer dicha distancia. ¿En qué tiempo recorrió los 240 Km?
21. Un hombre compró cierto número de caballos por  $\$2000$ . Se le murieron 2 caballos y vendiendo cada uno de los restantes a  $\$60$  más de lo que le costó cada uno, ganó en total  $\$80$ . ¿Cuántos caballos compró y cuánto le costó cada uno?
22. Hallar tres números consecutivos tales que el cociente del mayor entre el menor equivale a los  $\frac{3}{10}$  del número intermedio.
23. El producto de dos números es 180 y su cociente  $1\frac{1}{4}$ . Hallar los números.
24. Un hombre compró cierto número de naranjas por  $\$1.50$ . Se comió 5 naranjas y vendiendo las restantes a 1 ctvo. más de lo que le costó cada una recuperó lo que había gastado. ¿Cuántas naranjas compró y a qué precio?
25. Cuando vendo un caballo en 171 quetzales gano un  $\%$  sobre el costo igual al número de Q que me costó el caballo. ¿Cuánto costó el caballo?
26. El producto de dos números es 352, y si el mayor se divide por el menor, el cociente es 2 y el residuo 10. Hallar los números.
27. Se han comprado dos piezas de tela que juntas miden 20 m. El metro de cada pieza costó un número de pesos igual al número de metros de la pieza. Si una pieza costó 9 veces lo que la otra, ¿cuál era la longitud de cada pieza?
28. Un tren ha recorrido 200 Km en cierto tiempo. Para haber recorrido esa distancia en 1 hora menos, la velocidad debía haber sido 10 Km por hora más. Hallar la velocidad del tren.
29. Un hombre ha ganado 84 colones trabajando cierto número de días. Si su jornal diario hubiera sido 1 colón menos, tendría que haber trabajado 2 días más para ganar 84 colones. ¿Cuántos días trabajó y cuál es su jornal?
30. Los gastos de una excursión son  $\$90$ . Si desisten de ir 3 personas, cada una de las restantes tendría que pagar  $\$1$  más. ¿Cuántas personas van en la excursión y cuánto paga cada una?
31. El cociente de dividir 84 entre cierto número excede en 5 a este número. Hallar el número.
32. La edad de  $A$  hace 6 años era la raíz cuadrada de la edad que tendrá dentro de 6 años. Hallar la edad actual.
33. Compré cierto número de libros por  $\$40$  y cierto número de plumas por  $\$40$ . Cada pluma me costó  $\$1$  más que cada libro. ¿Cuántos libros compré y a qué precio si el número de libros excede al de plumas en 2?



## PROBLEMA DE LAS LUCES

**444** El Problema de las Luces consiste en hallar el punto de la línea que une dos focos luminosos que está igualmente iluminado por ambos focos.

Sean dos focos luminosos  $A$  y  $B$  (figura 72). Sea  $I$  la intensidad luminosa del foco  $A$  e  $I'$  la intensidad del foco  $B$ . (Intensidad o potencia luminosa de un foco es una magnitud que se mide por la cantidad de luz que arroja un foco normalmente sobre la unidad de superficie colocada a la unidad de distancia).

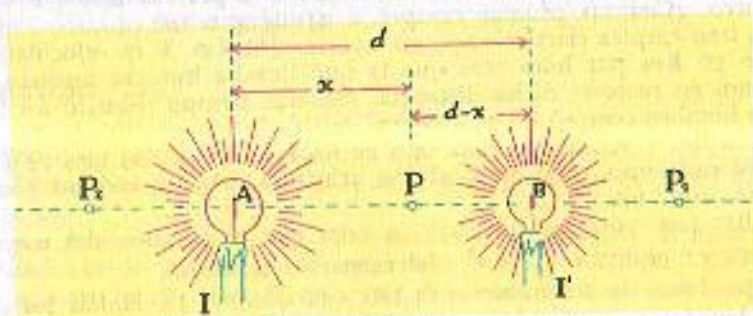


FIGURA 72

Se trata de hallar el punto de la línea  $AB$  que une ambos focos, que está igualmente iluminado por ambos focos.

Supongamos que el punto iluminado igualmente es el punto  $P$ . Sea  $d$  la distancia entre ambos focos y  $x$  la distancia del foco  $A$  al punto igualmente iluminado; la distancia del foco  $B$  a dicho punto será  $d-x$ .

Existe un principio en Física que dice: La iluminación que produce un foco luminoso sobre un punto en la dirección del rayo es directamente proporcional a la intensidad del foco e inversamente proporcional al cuadrado de la distancia del foco al punto. Entonces, la iluminación que produce el foco  $A$  sobre el punto  $P$ , según el principio anterior, será  $\frac{I}{x^2}$  y la iluminación que produce el foco  $B$  sobre el punto  $P$  será  $\frac{I'}{(d-x)^2}$  y como estas iluminaciones son iguales por ser  $P$  el punto igualmente iluminado, tendremos la ecuación:  $\frac{I}{x^2} = \frac{I'}{(d-x)^2}$ , o sea  $\frac{I}{x^2} = \frac{I'}{(d-x)^2}$ .

Esta es una ecuación de 2o. grado que puede ponerse en la forma  $ax^2 + bx + c = 0$  y resolverse aplicando la fórmula general, pero este procedimiento es bastante laborioso. Más sencillo es extraer la raíz cuadrada a

los dos miembros de esta igualdad y se tiene:  $\frac{\sqrt{I}}{\sqrt{I'}} = \frac{x}{d-x}$  con lo que se da una ecuación de primer grado. Resolviendo esta ecuación:

$$\begin{aligned} (d-x)\sqrt{I} &= x\sqrt{I'} \\ d\sqrt{I} - x\sqrt{I} &= x\sqrt{I'} \end{aligned}$$

$$\text{Transponiendo: } -x\sqrt{I} - x\sqrt{I'} = -d\sqrt{I}$$

o sea:

$$x\sqrt{I} + x\sqrt{I'} = d\sqrt{I}$$

$$x(\sqrt{I} + \sqrt{I'}) = d\sqrt{I}$$

$$x = \frac{d\sqrt{I}}{\sqrt{I} + \sqrt{I'}}$$

y considerando el doble signo de  $\sqrt{I'}$ , se tiene finalmente:

$$x = \frac{d\sqrt{I}}{\sqrt{I} + \sqrt{I'}} \text{ o } x = \frac{d\sqrt{I}}{\sqrt{I} - \sqrt{I'}}$$

fórmula que da la distancia del foco  $A$  al punto igualmente iluminado en función de la distancia entre los dos focos y de las intensidades luminosas de los focos, cantidades todas conocidas, con lo cual dicho punto queda determinado.

## DISCUSION

Consideraremos tres casos, observando la figura:

1)  $I > I'$ . Siendo  $I > I'$  se tiene que  $\sqrt{I} > \sqrt{I'}$ ; luego,  $\sqrt{I} + \sqrt{I'}$  es mayor que  $\sqrt{I}$  pero menor que  $2\sqrt{I}$ ; por tanto,  $\frac{\sqrt{I}}{\sqrt{I} + \sqrt{I'}}$  es menor que 1 y mayor que  $\frac{1}{2}$ ; luego, el primer valor de  $x$ , que es  $\frac{d\sqrt{I}}{\sqrt{I} + \sqrt{I'}} = d \left( \frac{\sqrt{I}}{\sqrt{I} + \sqrt{I'}} \right)$ , es igual a  $d$  multiplicada por una cantidad positiva, menor que 1 y mayor que  $\frac{1}{2}$ ; luego,  $x$  es menor que  $d$  y mayor que  $\frac{d}{2}$ , lo que significa que el punto igualmente iluminado está a la derecha de  $A$ , entre  $A$  y  $B$ , más cerca de  $B$  que de  $A$ , como está el punto  $P$ . Es evidente que el punto igualmente iluminado tiene que estar más cerca de la luz más débil.

En el segundo valor de  $x$  siendo  $\sqrt{I} > \sqrt{I'}$  el denominador,  $\sqrt{I} - \sqrt{I'}$ , es positivo, pero menor que  $\sqrt{I}$ ; luego,  $\frac{\sqrt{I}}{\sqrt{I} - \sqrt{I'}}$  es una cantidad positiva y mayor que 1; luego,  $x$  es igual a  $d$  multiplicada por una cantidad positiva mayor que 1; luego,  $x$  será positiva y mayor que  $d$ , lo que significa que hay otro punto igualmente iluminado que está situado a la derecha de  $B$ , como el punto  $P_1$ .

2)  $I = I'$ . En este caso  $\sqrt{I} = \sqrt{I'}$ ; luego,  $\sqrt{I} + \sqrt{I'} = 2\sqrt{I}$  y el primer valor de  $x$  se convierte en  $x = \frac{d\sqrt{I}}{2\sqrt{I}} = \frac{d}{2}$ , lo que significa que el punto igualmente iluminado será el punto medio de la línea  $AB$ .



El segundo valor de  $x$ , siendo  $\sqrt{I} = \sqrt{I'}$ , se convierte en  $x = \frac{d\sqrt{I}}{0} = \infty$  lo que significa que el otro punto igualmente iluminado está a una distancia infinita del foco  $A$ , o sea, que no existe.

Entonces, siendo  $I = I'$  no hay más que una solución.

3)  $I < I'$ . En este caso  $\sqrt{I} < \sqrt{I'}$ , o sea  $\sqrt{I'} > \sqrt{I}$ ; luego,  $\sqrt{I} + \sqrt{I'}$  será mayor que  $2\sqrt{I}$ , y  $\frac{\sqrt{I}}{\sqrt{I} + \sqrt{I'}}$  será menor que  $\frac{1}{2}$ ; luego,  $x$  será igual a  $d$  multiplicada por una cantidad menor que  $\frac{1}{2}$ , o sea que  $x$  es positiva y menor que  $\frac{d}{2}$ , lo que significa que el punto igualmente iluminado está a la derecha de  $A$ , más cerca de  $A$  que de  $B$ , como es lógico que suceda por ser el foco  $A$  más débil que el foco  $B$  en este caso.

En el segundo valor de  $x$ , siendo  $\sqrt{I} < \sqrt{I'}$  el denominador,  $\sqrt{I} - \sqrt{I'}$  es negativo; luego,  $\frac{\sqrt{I}}{\sqrt{I} - \sqrt{I'}}$  es una cantidad negativa y  $x$  es igual a  $d$  multiplicada por una cantidad negativa; luego,  $x$  es negativa, lo que significa que hay otro punto igualmente iluminado y situado a la izquierda de  $A$  como el punto  $P_2$ .

## Ejemplos

- (1) Se tiene un foco luminoso  $A$  de 100 bujías y otro foco  $B$  de 25 bujías, situado a 3 m a la derecha de  $A$ . Hallar el punto de la línea  $AB$  igualmente iluminado por ambos.

Aquí  $d = 3$ ,  $I = 100$ ,  $I' = 25$ . El primer valor de  $x$  será:

$$x = \frac{d\sqrt{I}}{\sqrt{I} + \sqrt{I'}} = \frac{3 \times \sqrt{100}}{\sqrt{100} + \sqrt{25}} = \frac{3 \times 10}{10 + 5} = \frac{30}{15} = 2 \text{ m.}$$

luego hay un punto en la línea  $AB$  igualmente iluminado situado a 2 m a la derecha de  $A$ . El segundo valor será:

$$x = \frac{d\sqrt{I}}{\sqrt{I} - \sqrt{I'}} = \frac{3 \times \sqrt{100}}{\sqrt{100} - \sqrt{25}} = \frac{3 \times 10}{10 - 5} = \frac{30}{5} = 6 \text{ m.}$$

luego hay otro punto igualmente iluminado en la línea  $AB$  situado a 6 m a la derecha de  $A$ .

- (2) Se tienen dos focos luminosos,  $A$  de 36 bujías y  $B$  de 100 bujías, estando  $B$  4 m a la derecha de  $A$ . Hallar el punto igualmente iluminado de la recta  $AB$ . Aquí  $d = 4$ ,  $I = 36$ ,  $I' = 100$ . El primer valor de  $x$  será:

$$x = \frac{d\sqrt{I}}{\sqrt{I} + \sqrt{I'}} = \frac{4 \times \sqrt{36}}{\sqrt{36} + \sqrt{100}} = \frac{4 \times 6}{6 + 10} = \frac{24}{16} = 1.50 \text{ m.}$$

luego hay un punto de la línea  $AB$  igualmente iluminado situado a 1.50 m. a la derecha de  $A$ . El segundo valor de  $x$  será:

$$x = \frac{d\sqrt{I}}{\sqrt{I} - \sqrt{I'}} = \frac{4 \times 6}{6 - 10} = \frac{4 \times 6}{-4} = \frac{24}{-4} = -6 \text{ m.}$$

luego hay otro punto de la línea  $AB$  igualmente iluminado situado a 6 m a la izquierda de  $A$ .



**EVARISTE GALOIS (1811-1832)** Matemático francés. Después de realizar estudios en un Liceo, ingresa en la Escuela Normal. Acusado de peligroso republicano va a parar a la cárcel. No fue la única vez que estuvo en prisión. Acabado de salir muere de un pis-

toletazo en un duelo, cuando apenas tenía 21 años de edad. A pesar de esta corta vida Galois dejó una huella profunda en la historia de las matemáticas. De la demostración del teorema que lleva su nombre sobre la resolución de las ecuaciones de primer grado.

## CAPITULO XXXV

### TEORIA DE LAS ECUACIONES DE SEGUNDO GRADO. ESTUDIO DEL TRINOMIO DE SEGUNDO GRADO

#### 445 CARACTER DE LAS RAICES DE LA ECUACION DE SEGUNDO GRADO

La ecuación general de segundo grado  $ax^2 + bx + c = 0$  tiene dos raíces y sólo dos, cuyos valores son:

$$x_1 = \frac{-b + \sqrt{b^2 - 4ac}}{2a} \quad \text{y} \quad x_2 = \frac{-b - \sqrt{b^2 - 4ac}}{2a}.$$

El carácter de estas raíces depende del valor del binomio  $b^2 - 4ac$  que está bajo el signo radical; por esa razón  $b^2 - 4ac$  se llama discriminante de la ecuación general de segundo grado.

Consideraremos tres casos:

1)  $b^2 - 4ac$  es una cantidad positiva. En este caso las raíces son reales y desiguales.

Si  $b^2 - 4ac$  es cuadrado perfecto, las raíces son racionales, y si no lo es, son irracionales.



2)  $b^2 - 4ac$  es cero En este caso las raíces son reales e iguales. Su valor es  $-\frac{b}{2a}$ .

3)  $b^2 - 4ac$  es una cantidad negativa En este caso las raíces son imaginarias y desiguales.

## Ejemplos

(1) Determinar el carácter de las raíces de  $3x^2 - 7x + 2 = 0$ .

Hallemos el valor de  $b^2 - 4ac$ . Aquí  $a = 3$ ,  $b = -7$ ,  $c = 2$ , luego

$$b^2 - 4ac = (-7)^2 - 4(3)(2) = 49 - 24 = 25.$$

Como  $b^2 - 4ac = 25$  es positiva, las raíces son reales y desiguales y como 25 es cuadrado perfecto ambas raíces son racionales.

(2) Determinar el carácter de las raíces de  $3x^2 + 2x - 6 = 0$ .

Aquí  $a = 3$ ,  $b = 2$ ,  $c = -6$ , luego

$$b^2 - 4ac = 2^2 - 4(3)(-6) = 4 + 72 = 76.$$

Como  $b^2 - 4ac = 76$  es positiva, las raíces son reales y desiguales y como 76 no es cuadrado perfecto las raíces son irracionales.

(3) Determinar el carácter de las raíces de  $4x^2 - 12x + 9 = 0$ .

$$b^2 - 4ac = (-12)^2 - 4(4)(9) = 144 - 144 = 0.$$

Como  $b^2 - 4ac = 0$ , las raíces son reales e iguales.

(4) Determinar el carácter de las raíces de  $x^2 - 2x + 3 = 0$ .

$$b^2 - 4ac = (-2)^2 - 4(1)(3) = 4 - 12 = -8.$$

Como  $b^2 - 4ac = -8$  es negativa, las raíces son imaginarias.

## ● EJERCICIO 276

Determinar el carácter de las raíces de las ecuaciones siguientes, sin resolverlas:

- |                          |                           |                            |                            |
|--------------------------|---------------------------|----------------------------|----------------------------|
| 1. $3x^2 + 5x - 2 = 0$ . | 4. $3x^2 - 2x + 5 = 0$ .  | 7. $2x^2 - 9x + 7 = 0$ .   | 10. $x^2 + x - 1 = 0$ .    |
| 2. $2x^2 - 4x + 1 = 0$ . | 5. $x^2 - 10x + 25 = 0$ . | 8. $36x^2 + 12x + 1 = 0$ . | 11. $5x^2 - 7x + 8 = 0$ .  |
| 3. $4x^2 - 4x + 1 = 0$ . | 6. $x^2 - 5x - 5 = 0$ .   | 9. $4x^2 - 5x + 3 = 0$ .   | 12. $x^2 - 10x - 11 = 0$ . |

## 446 PROPIEDADES DE LAS RAÍCES DE LA ECUACION DE SEGUNDO GRADO

La ecuación general de 2o. grado es  $ax^2 + bx + c = 0$  y sus raíces

$$x_1 = \frac{-b + \sqrt{b^2 - 4ac}}{2a} \quad \text{y} \quad x_2 = \frac{-b - \sqrt{b^2 - 4ac}}{2a}$$

Estas raíces tienen dos propiedades:

1) Suma de las raíces. Sumando las raíces, tenemos:

$$\begin{aligned} x_1 + x_2 &= \frac{-b + \sqrt{b^2 - 4ac}}{2a} + \frac{-b - \sqrt{b^2 - 4ac}}{2a} \\ &= \frac{-b + \sqrt{b^2 - 4ac} - b - \sqrt{b^2 - 4ac}}{2a} \\ &= \frac{-2b}{2a} = -\frac{b}{a}, \text{ o sea } x_1 + x_2 = -\frac{b}{a} \end{aligned}$$

luego, la suma de las raíces es igual al coeficiente del segundo término de la ecuación con el signo cambiado partido por el coeficiente del primer término.

2) Producto de las raíces. Multiplicando las raíces, tenemos:

$$\begin{aligned} x_1 x_2 &= \frac{-b + \sqrt{b^2 - 4ac}}{2a} \times \frac{-b - \sqrt{b^2 - 4ac}}{2a} \\ &= \frac{(-b + \sqrt{b^2 - 4ac})(-b - \sqrt{b^2 - 4ac})}{4a^2} \\ &= \frac{(-b)^2 - (\sqrt{b^2 - 4ac})^2}{4a^2} = \frac{b^2 - (b^2 - 4ac)}{4a^2} = \frac{b^2 - b^2 + 4ac}{4a^2} = \frac{4ac}{4a^2} = \frac{c}{a} \\ &\text{ o sea } x_1 x_2 = \frac{c}{a} \end{aligned}$$

luego, el producto de las raíces es igual al tercer término de la ecuación con su propio signo partido por el coeficiente del primero.

447 La ecuación  $ax^2 + bx + c = 0$  puede escribirse  $x^2 + \frac{b}{a}x + \frac{c}{a} = 0$ , dividiendo todos sus términos por  $a$ . Entonces, como

$$x_1 + x_2 = -\frac{b}{a} = -\frac{b}{a} \quad \text{y} \quad x_1 x_2 = \frac{c}{a}$$

podemos decir que en toda ecuación de la forma  $x^2 + \frac{b}{a}x + \frac{c}{a} = 0$  o  $x^2 + mx + n = 0$ , es decir, en toda ecuación de segundo grado en que el coeficiente del primer término es 1, la suma de las raíces es igual al coeficiente del segundo término con el signo cambiado y el producto de las raíces es igual al tercer término con su propio signo.



**Ejemplos**

- (1) Hallar si 2 y -5 son las raíces de la ecuación

$$x^2 + 3x - 10 = 0.$$

Si 2 y -5 son las raíces de esta ecuación, su suma tiene que ser igual al coeficiente del segundo término 3 con el signo cambiado, -3 y su producto tiene que ser el tercer término -10 con su propio signo. Veamos si cumplen estas condiciones:

Suma:  $2 + (-5) = 2 - 5 = -3$ , coef. de  $x$  con el signo cambiado.

Producto:  $2 \times (-5) = -10$ , tercer término con su propio signo.

Luego 2 y -5 son las raíces de la ecuación  $x^2 + 3x - 10 = 0$ .

- (2) Hallar si -3 y
- $-\frac{1}{2}$
- son las raíces de la ecuación
- $2x^2 + 7x + 3 = 0$
- .

Pongamos la ecuación en la forma  $x^2 + mx + n = 0$  dividiendo por 2, quedará:

$$x^2 + \frac{7}{2}x + \frac{3}{2} = 0.$$

Suma:  $(-3) + (-\frac{1}{2}) = -3 - \frac{1}{2} = -\frac{7}{2}$  coef. de  $x$  con el signo cambiado.

Producto:  $(-3)(-\frac{1}{2}) = \frac{3}{2}$ , tercer término con su propio signo.

Luego -3 y  $-\frac{1}{2}$  son las raíces de la ecuación  $2x^2 + 7x + 3 = 0$ .

- (3) Hallar si 1 y
- $-\frac{2}{3}$
- son las raíces de la ecuación
- $3x^2 + x - 2 = 0$
- .

Dividiendo por 3 se tiene  $x^2 + \frac{1}{3}x - \frac{2}{3} = 0$ .

Suma:  $1 + (-\frac{2}{3}) = 1 - \frac{2}{3} = \frac{1}{3}$ .

La suma da el coeficiente del segundo término con su propio signo y no con el signo cambiado, luego 1 y  $-\frac{2}{3}$  no son las raíces de la ecuación dada.

**EJERCICIO 277**

Determinar, por las propiedades de las raíces, si:

1. 2 y -3 son las raíces de  $x^2 + x - 6 = 0$ .
2. 1 y 5 son las raíces de  $x^2 - 4x - 5 = 0$ .
3. 1 y  $-\frac{1}{2}$  son las raíces de  $2x^2 - x - 1 = 0$ .
4. -3 y  $\frac{1}{3}$  son las raíces de  $3x^2 + 8x - 3 = 0$ .
5. 2 y  $-\frac{1}{2}$  son las raíces de  $5x^2 - 11x + 2 = 0$ .
6. -4 y  $-\frac{1}{4}$  son las raíces de  $4x^2 + 17x + 4 = 0$ .
7. -5 y  $-\frac{1}{5}$  son las raíces de  $5x^2 + 24x - 5 = 0$ .
8. 4 y -7 son las raíces de  $x^2 + 3x - 28 = 0$ .
9.  $\frac{1}{2}$  y  $-\frac{2}{3}$  son las raíces de  $6x^2 + x - 2 = 0$ .
10.  $\frac{1}{2}$  y  $-\frac{1}{3}$  son las raíces de  $8x^2 - 2x - 3 = 0$ .

**448 DADAS LAS RAÍCES DE UNA ECUACION DE SEGUNDO GRADO, DETERMINAR LA ECUACION****Ejemplos**

- (1) Las raíces de una ecuación de 2º grado son 3 y -5. Determinar la ecuación.

Hallemos la suma y el producto de las raíces.

$$\text{Suma: } 3 + (-5) = 3 - 5 = -2$$

$$\text{Producto: } 3 \times (-5) = -15.$$

Sabemos que la suma de las raíces de toda ecuación de la forma  $x^2 + mx + n = 0$  es igual al coeficiente del 2º término con el signo cambiado y el producto es igual al tercer término con su propio signo.

Aquí, la suma de las raíces es -2, luego el coeficiente del segundo término de la ecuación será 2; el producto de las raíces es -15, luego -15 será el tercer término de la ecuación.

Por tanto, la ecuación será:

$$x^2 + 2x - 15 = 0. \text{ R.}$$

- (2) Las raíces de una ecuación son 2 y
- $-\frac{3}{4}$
- . Determinar la ecuación.

$$\text{Suma de las raíces: } 2 + (-\frac{3}{4}) = 2 - \frac{3}{4} = \frac{5}{4}.$$

$$\text{Producto de las raíces: } 2 \times (-\frac{3}{4}) = -\frac{6}{4} = -\frac{3}{2}.$$

La suma con el signo cambiado se pone de coeficiente del 2º término de la ecuación y el producto con su propio signo se pone de tercer término, luego la ecuación será:

$$x^2 - \frac{5}{4}x - \frac{3}{2} = 0 \text{ o sea } 4x^2 - 5x - 6 = 0. \text{ R.}$$

- (3) Hallar la ecuación cuyas raíces son -4 y
- $-\frac{3}{5}$
- .

$$\text{Suma: } (-4) + (-\frac{3}{5}) = -4 - \frac{3}{5} = -\frac{23}{5}.$$

$$\text{Producto: } (-4) \times (-\frac{3}{5}) = \frac{12}{5}.$$

La ecuación será:

$$x^2 + \frac{23}{5}x + \frac{12}{5} = 0 \text{ o sea } 5x^2 + 23x + 12 = 0. \text{ R.}$$

**EJERCICIO 278**

Determinar la ecuación cuyas raíces son:

- |             |                          |                                     |                           |
|-------------|--------------------------|-------------------------------------|---------------------------|
| 1. 3 y 4.   | 4. -10 y 11.             | 7. 3 y $-\frac{2}{3}$ .             | 10. -5 y $\frac{2}{5}$ .  |
| 2. -1 y 3.  | 5. 1 y $\frac{1}{2}$ .   | 8. -2 y $-\frac{3}{2}$ .            | 11. 6 y $-\frac{6}{5}$ .  |
| 3. -5 y -7. | 6. -2 y $-\frac{1}{5}$ . | 9. $-\frac{1}{2}$ y $\frac{3}{4}$ . | 12. -2 y $-\frac{1}{8}$ . |



13. 18 y -52. 18.  $\frac{1}{2}$  y  $-\frac{1}{2}$ . 22.  $-\frac{11}{2}$  y  $\frac{2}{7}$ . 26.  $b$  y  $a-b$ .  
 14. -15 y -11. 19. 7 y 7. 23.  $2a$  y  $-a$ . 27.  $\frac{a}{2}$  y  $-\frac{b}{a}$ .  
 15. 0 y 2. 20. 8 y  $-\frac{11}{3}$ . 24.  $-\frac{2b}{3}$  y  $\frac{b}{4}$ . 28.  $1+\sqrt{2}$  y  $1-\sqrt{2}$ .  
 16. 0 y  $-\frac{1}{3}$ . 21.  $-\frac{5}{6}$  y  $-\frac{9}{2}$ . 25.  $m$  y  $-\frac{m}{2}$ . 29.  $2+\sqrt{5}$  y  $2-\sqrt{5}$ .  
 17. 5 y -5. 30.  $3+\sqrt{-1}$  y  $3-\sqrt{-1}$ .

#### 449 DADA LA SUMA Y EL PRODUCTO DE DOS NUMEROS, HALLAR LOS NUMEROS

##### Ejemplos

- (1) La suma de dos números es 4 y su producto -396. Hallar los números.

Por las propiedades de las raíces de la ecuación de 2º grado, si la suma de los dos números que se buscan es 4 y su producto -396, los dos números son las raíces de una ecuación de segundo grado de la forma  $x^2 + mx + n = 0$  en la cual el coeficiente del segundo término es -4 [la suma con el signo cambiado] y el tercer término es -396 [el producto con su propio signo] luego la ecuación es:

$$x^2 - 4x - 396 = 0.$$

Las raíces de esta ecuación son los números que buscamos. Resolviendo esta ecuación:

$$(x - 22)(x + 18) = 0.$$

$$x - 22 = 0 \therefore x = 22$$

$$x_1 = 22.$$

$$x + 18 = 0 \therefore x = -18$$

$$x_2 = -18.$$

Luego los números buscados son 22 y -18. R.

- (2) La suma de dos números es  $-\frac{85}{4}$  y su producto 6. Hallar los números.

Los dos números que buscamos son las raíces de una ecuación de 2º grado cuyo primer término es  $x^2$ , en la cual el coeficiente del 2º término es  $\frac{85}{4}$  [la suma con el signo cambiado] y cuyo tercer término es 6 [el producto con su propio signo] luego la ecuación es

$$x^2 + \frac{35}{4}x + 6 = 0.$$

Las raíces de esta ecuación son los números que buscamos. Resolviendo la ecuación:

$$4x^2 + 35x + 24 = 0.$$

$$x = \frac{-35 \pm \sqrt{35^2 - 4(4)(24)}}{8} = \frac{-35 \pm \sqrt{1225 - 384}}{8}$$

$$= \frac{-35 \pm \sqrt{841}}{8} = \frac{-35 \pm 29}{8}$$

$$x_1 = \frac{-35 + 29}{8} = \frac{-6}{8} = -\frac{3}{4}$$

$$x_2 = \frac{-35 - 29}{8} = \frac{-64}{8} = -8$$

Luego los números buscados son  $-\frac{3}{4}$  y -8. R.

#### EJERCICIO 279

Encontrar dos números sabiendo que:

- La suma es 11 y el producto 30.
- La suma es -33 y el producto 260.
- La suma es -1 y el producto -306.
- La suma es -49 y el producto 294.
- La suma es 6 y el producto -247.
- La suma es  $\frac{8}{2}$  y el producto -1.
- La suma es  $-\frac{22}{3}$  y el producto 8.
- La suma es  $\frac{1}{4}$  y el producto  $-\frac{8}{9}$ .
- La suma es  $-13\frac{4}{7}$  y el producto -6.
- La suma es  $-3\frac{1}{2}$  y el producto 1.
- La suma es  $\frac{31}{40}$  y el producto  $\frac{8}{20}$ .
- La suma es  $-\frac{1}{6}$  y el producto  $-\frac{8}{9}$ .
- La suma es  $\frac{7}{20}$  y el producto  $-\frac{8}{10}$ .
- La suma es  $4\frac{1}{6}$  y el producto -4.
- La suma es  $\frac{60}{72}$  y el producto  $\frac{1}{6}$ .
- La suma es 2 y el producto -4.
- La suma es 1 y el producto  $-\frac{11}{4}$ .
- La suma es  $-1\frac{1}{2}$  y el producto  $-6\frac{4}{9}$ .
- La suma es  $a$  y el producto  $-2a^2$ .
- La suma es  $-7b$  y el producto  $10b^2$ .
- La suma es  $\frac{m}{2}$  y el producto  $-\frac{m^2}{4}$ .

#### ESTUDIO DEL TRINOMIO DE SEGUNDO GRADO $ax^2 + bx + c$

#### 450 DESCOMPOSICION EN FACTORES DEL TRINOMIO DE SEGUNDO GRADO

El trinomio de segundo grado  $ax^2 + bx + c$  puede escribirse

$$ax^2 + bx + c = a \left( x + \frac{b}{a}x + \frac{c}{a} \right) \quad (1)$$

Igualando a cero el trinomio del segundo miembro se tiene

$$x^2 + \frac{b}{a}x + \frac{c}{a} = 0 \quad \text{o} \quad ax^2 + bx + c = 0,$$

que es la ecuación general de 2º. grado.

Sabemos (446) que las raíces  $x_1$  y  $x_2$  de esta ecuación tienen las dos propiedades siguientes:

$$x_1 + x_2 = -\frac{b}{a} \therefore \frac{b}{a} = -(x_1 + x_2)$$

$$x_1 x_2 = \frac{c}{a}.$$



Ahora, si en el trinomio  $x^2 + \frac{b}{a}x + \frac{c}{a}$  en lugar de  $\frac{b}{a}$  ponemos su igual  $-(x_1 + x_2)$  y en lugar de  $\frac{c}{a}$  ponemos su igual  $x_1x_2$ , tenemos:

$$\begin{aligned} x^2 + \frac{b}{a}x + \frac{c}{a} &= x^2 - (x_1 + x_2)x + x_1x_2 \\ (\text{multiplicando}) &= x^2 - x_1x - x_2x + x_1x_2 \\ (\text{factorando por agrupación}) &= x(x - x_1) - x_2(x - x_1) \\ &= (x - x_1)(x - x_2) \end{aligned}$$

Luego, en definitiva, nos queda que  $x^2 + \frac{b}{a}x + \frac{c}{a} = (x - x_1)(x - x_2)$ .

Sustituyendo el valor de este trinomio en (1), se tiene:

$$ax^2 + bx + c = a(x - x_1)(x - x_2)$$

lo que me dice que el trinomio de segundo grado se descompone en 3 factores:

1) El coeficiente de  $x^2$ , que es  $a$ . 2)  $x$  menos una de las raíces de la ecuación que se obtiene igualando el trinomio a cero. 3)  $x$  menos la otra raíz.

#### 451 DESCOMPONER UN TRINOMIO EN FACTORES HALLANDO LAS RAÍCES

Visto lo anterior, para descomponer un trinomio de 2o. grado en factores hallando las raíces, se procede así:

1) Se iguala el trinomio a cero y se hallan las dos raíces de esta ecuación.

2) Se descompone el trinomio en 3 factores: El coeficiente de  $x^2$ ,  $x$  menos una de las raíces y  $x$  menos la otra raíz.

#### Ejemplos

(1) Descomponer en factores  $6x^2 + 5x - 4$ .

Igualando a cero el trinomio, se tiene:

$$6x^2 + 5x - 4 = 0.$$

Hallamos las raíces de esta ecuación:

$$x = \frac{-5 \pm \sqrt{5^2 - 4(6)(-4)}}{12} = \frac{-5 \pm \sqrt{25 + 96}}{12} = \frac{-5 \pm \sqrt{121}}{12} = \frac{-5 \pm 11}{12}$$

$$x_1 = \frac{-5 + 11}{12} = \frac{6}{12} = \frac{1}{2}$$

$$x_2 = \frac{-5 - 11}{12} = \frac{-16}{12} = -\frac{4}{3}$$

Entonces, el trinomio se descompone:

$$\begin{aligned} 6x^2 + 5x - 4 &= 6 \left( x - \frac{1}{2} \right) \left[ x - \left( -\frac{4}{3} \right) \right] = 6 \left( x - \frac{1}{2} \right) \left( x + \frac{4}{3} \right) \\ &= 6 \left( \frac{2x - 1}{2} \right) \left( \frac{3x + 4}{3} \right) = \frac{6(2x - 1)(3x + 4)}{6} \\ &= (2x - 1)(3x + 4) \quad \text{R.} \end{aligned}$$

(2) Descomponer en factores  $24x^2 + 26x + 5$ .

Igualando a cero el trinomio, se tiene:

$$24x^2 + 26x + 5 = 0.$$

Resolviendo esta ecuación:

$$\begin{aligned} x &= \frac{-26 \pm \sqrt{26^2 - 4(24)(5)}}{48} = \frac{-26 \pm \sqrt{196}}{48} = \frac{-26 \pm 14}{48} \\ x_1 &= \frac{-26 + 14}{48} = \frac{-12}{48} = -\frac{1}{4} \\ x_2 &= \frac{-26 - 14}{48} = \frac{-40}{48} = -\frac{5}{6} \end{aligned}$$

Entonces:

$$\begin{aligned} 24x^2 + 26x + 5 &= 24 \left[ x - \left( -\frac{1}{4} \right) \right] \left[ x - \left( -\frac{5}{6} \right) \right] = 24 \left( x + \frac{1}{4} \right) \left( x + \frac{5}{6} \right) \\ &= \frac{24(4x + 1)(6x + 5)}{24} = (4x + 1)(6x + 5) \quad \text{R.} \end{aligned}$$

(3) Descomponer en factores  $4 + 7x - 15x^2$ .

Ordenamos en orden descendente con relación a  $x$  y lo igualamos a cero:

$$-15x^2 + 7x + 4 = 0$$

$$15x^2 - 7x - 4 = 0$$

Resolviendo:

$$\begin{aligned} x &= \frac{7 \pm \sqrt{7^2 - 4(15)(-4)}}{30} = \frac{7 \pm \sqrt{289}}{30} = \frac{7 \pm 17}{30} \\ x_1 &= \frac{7 + 17}{30} = \frac{24}{30} = \frac{4}{5} \\ x_2 &= \frac{7 - 17}{30} = \frac{-10}{30} = -\frac{1}{3} \end{aligned}$$

Entonces:

$$\begin{aligned} 4 + 7x - 15x^2 &= -15 \left( x - \frac{4}{5} \right) \left( x + \frac{1}{3} \right) = \frac{-15(5x - 4)(3x + 1)}{15} \\ &= -(5x - 4)(3x + 1) = (4 - 5x)(1 + 3x) \quad \text{R.} \end{aligned}$$



## EJERCICIO 280

Descomponer en factores, hallando las raíces:

- |                        |                            |                         |                             |
|------------------------|----------------------------|-------------------------|-----------------------------|
| 1. $x^2 - 16x + 63$ .  | 7. $6x^2 + 7x - 10$ .      | 13. $6 - x - x^2$ .     | 19. $10x^2 + 207x - 63$ .   |
| 2. $x^2 + 24x + 143$ . | 8. $12x^2 - 25x + 12$ .    | 14. $5 - 9x - 2x^2$ .   | 20. $100 - 15x - x^2$ .     |
| 3. $x^2 - 26x - 155$ . | 9. $8x^2 + 50x + 63$ .     | 15. $15 + 4x - 4x^2$ .  | 21. $18x^2 + 31x - 49$ .    |
| 4. $2x^2 + x - 6$ .    | 10. $27x^2 + 30x + 7$ .    | 16. $4 + 13x - 12x^2$ . | 22. $6x^2 - ax - 2a^2$ .    |
| 5. $2x^2 + 5x - 2$ .   | 11. $30x^2 - 61x + 30$ .   | 17. $72x^2 - 55x - 7$ . | 23. $5x^2 + 22xy - 15y^2$ . |
| 6. $5x^2 + 41x + 8$ .  | 12. $11x^2 - 153x - 180$ . | 18. $6 + 31x - 30x^2$ . | 24. $15x^2 - 32mx - 7m^2$ . |

## VARIACIONES DEL TRINOMIO DE SEGUNDO GRADO

- 452 El trinomio de segundo grado  $ax^2 + bx + c$  es función de segundo grado de  $x$ . Designando por  $y$  el valor de la función, se tiene:

$$y = ax^2 + bx + c.$$

A cada valor de  $x$  corresponde un valor de la función o del trinomio. Así, en el trinomio  $y = x^2 + 2x - 3$  tenemos:

Para $x = 0$	$y = -3$
$x = 1$	$y = 0$
$x = 2$	$y = 5$
.....	.....
$x = -1$	$y = -4$
$x = -2$	$y = -3$ etc.

Aquí vemos que a cada valor de  $x$  corresponde un valor de  $y$ , o sea del trinomio.

A continuación vamos a estudiar las variaciones del signo del trinomio y del valor del trinomio que corresponden a las variaciones del valor de  $x$ .

## 453 VARIACIONES DEL SIGNO DEL TRINOMIO

Sabemos (450) que el trinomio de segundo grado se descompone de este modo:  $y = ax^2 + bx + c = a(x - x_1)(x - x_2)$ . (1).

Consideraremos tres casos:

- 1)  $b^2 - 4ac$  positivo. Las raíces del trinomio son reales y desiguales. En este caso:

a) El trinomio tiene el mismo signo de  $a$  para todos los valores de  $x$  mayores que ambas raíces o menores que ambas raíces.

Si  $x$  es mayor que  $x_1$  y que  $x_2$ , los dos binomios de (1) son positivos; luego, su producto es positivo y si  $x$  es menor que  $x_1$  y que  $x_2$ , ambos binomios son negativos; luego, su producto es positivo; entonces, el signo de  $a(x - x_1)(x - x_2)$  será igual al signo de  $a$ , y como este producto es igual al trinomio, el trinomio tiene el mismo signo que  $a$ .

- b) El trinomio tiene signo contrario al signo de  $a$  para todos los valores de  $x$  comprendidos entre ambas raíces.

Si  $x$  es mayor que una de las raíces y menor que la otra, uno de los binomios de (1) es positivo y el otro negativo; luego, su producto es negativo y al multiplicar  $a$  por una cantidad negativa su signo cambiará; luego, el trinomio tiene signo contrario al signo de  $a$ .

- 2)  $b^2 - 4ac = 0$ . Las raíces del trinomio son iguales. En este caso:

El trinomio tiene el mismo signo que  $a$  para todo valor de  $x$  distinto de la raíz.

Como  $x_1 = x_2$ , para cualquier valor de  $x$  distinto de esta raíz los dos binomios de (1) serán positivos ambos o negativos ambos, y su producto será positivo; luego, el signo que resulte de multiplicar  $a$  por este producto será siempre igual al signo de  $a$ ; luego, el trinomio tendrá igual signo que  $a$ .

- 3)  $b^2 - 4ac$  negativo. Las raíces del trinomio son imaginarias. En este caso: Para cualquier valor de  $x$  el trinomio tiene el mismo signo que  $a$ .

Si  $b^2 - 4ac$  es negativo,  $4ac - b^2$  es positivo. Entonces en  $y = ax^2 + bx + c$ , multiplicando y dividiendo el segundo miembro por  $4a$ , se tiene

$$y = \frac{4a^2x^2 + 4abx + 4ac}{4a}.$$

Sumando y restando  $b^2$  al numerador del 2o. miembro:

$$y = \frac{4a^2x^2 + 4abx + b^2 + 4ac - b^2}{4a}.$$

Descomponiendo el trinomio cuadrado perfecto  $4a^2x^2 + 4abx + b^2$ , se tiene:

$$y = \frac{(2ax + b)^2 + 4ac - b^2}{4a}. \quad (2)$$

El numerador de esta fracción siempre es positivo porque  $(2ax + b)^2$  siempre es positivo (todo cuadrado es positivo) y  $4ac - b^2$  también es positivo por ser  $b^2 - 4ac$  negativo; luego, el signo de esta fracción será igual al signo del denominador  $4a$  y este signo es igual al signo de  $a$ , y como  $y$ , o sea el trinomio, es igual a esta fracción, el signo del trinomio será igual al signo de  $a$  para cualquier valor de  $x$ .

## 454 VALOR MÁXIMO O MÍNIMO DEL TRINOMIO

Para calcular el valor máximo o mínimo del trinomio, usaremos la expresión (2):

$$y = \frac{(2ax + b)^2 + 4ac - b^2}{4a}$$

- 1) Cuando  $a$  es positiva. En la fracción del segundo miembro, que es el valor de  $y$ , o sea del trinomio, el denominador  $4a$  es positivo y tiene



un valor fijo (porque lo que varía es  $x$ , y  $4a$  no contiene  $x$ ); luego, el valor de esta fracción depende del valor del numerador. En el numerador,  $4ac - b^2$  tiene un valor fijo porque no contiene  $x$ ; luego, el valor del numerador depende del valor de  $(2ax + b)^2$ . El valor de esta expresión es el que varía porque contiene a la  $x$ . Ahora bien, el menor valor que puede tener  $(2ax + b)^2$  es cero, y esta expresión vale cero cuando  $x = -\frac{b}{2a}$ , porque entonces se tiene:  $2ax + b = 2a\left(-\frac{b}{2a}\right) + b = -b + b = 0$  y la expresión se convierte en  $y = \frac{4ac - b^2}{4a}$ .

Luego, si  $y$ , o sea el trinomio, es igual a la fracción del 2o. miembro y esta fracción, cuando  $a$  es positiva, tiene un valor mínimo para  $x = -\frac{b}{2a}$ , el trinomio tiene un valor mínimo para  $x = -\frac{b}{2a}$ , cuando  $a$  es positiva, y este valor mínimo es  $\frac{4ac - b^2}{4a}$ .

2) Cuando  $a$  es negativa. Entonces, el denominador  $4a$  es negativo y al dividir el numerador por  $4a$  cambiará su signo; luego, la fracción tiene su mayor valor cuando  $(2ax + b)^2 = 0$ , lo que ocurre cuando  $x = -\frac{b}{2a}$  y como  $y$  es igual a esta fracción,  $y$ , o sea el trinomio, tendrá un valor máximo para  $x = -\frac{b}{2a}$  cuando  $a$  es negativo, cuyo máximo vale  $\frac{4ac - b^2}{4a}$ .

En resumen:

Si  $a$  es positiva, el trinomio tiene un valor mínimo.

Si  $a$  es negativa, el trinomio tiene un valor máximo.

El máximo o mínimo corresponde al valor de  $x = -\frac{b}{2a}$ , y este máximo o mínimo vale  $\frac{4ac - b^2}{4a}$ .

## Ejemplos

(1) Sea el trinomio  $y = x^2 - 2x + 3$ .

Como  $a = +1$ , positiva, el trinomio tiene un valor mínimo para

$$x = -\frac{b}{2a} = -\frac{-2}{2} = 1 \text{ y este mínimo vale } \frac{4ac - b^2}{4a} = \frac{4 \times 3 - 4}{4} = 2.$$

En efecto: Para

$x = -2,$	$y = 11$
$x = -1,$	$y = 6$
$x = 0,$	$y = 3$
$x = 1,$	$y = 2$
$x = 2,$	$y = 3$
$x = 3,$	$y = 6$

(2) Sea el trinomio  $y = -x^2 + 4x - 1$ . Como  $a = -1$ , el trinomio tiene un valor

máximo para  $x = -\frac{b}{2a} = -\frac{4}{-2} = 2$  y este máximo vale

$$\frac{4ac - b^2}{4a} = \frac{4(-1)(-1) - 16}{-4} = \frac{4 - 16}{-4} = \frac{-12}{-4} = 3.$$

En efecto: Para

$x = -1,$	$y = -6$
$x = 0,$	$y = -1$
$x = 1,$	$y = 2$
$x = 2,$	$y = 3$
$x = 3,$	$y = 2$
$x = 4,$	$y = -1$
$x = 5,$	$y = -6$

## 455 REPRESENTACION GRAFICA DE LAS VARIACIONES DEL TRINOMIO DE 2º GRADO

### Ejemplos

(1) Representar gráficamente las variaciones de  $x^2 - 6x + 5$ .

Por ser  $b^2 - 4ac = 36 - 20 = 16$ , positiva, las raíces son reales y desiguales. Representemos el trinomio como se vio en el número (438), haciendo:

$$y = x^2 - 6x + 5.$$

Tenemos [fig. 73], que:

Para

$x = -1,$	$y = 12$
$x = 0,$	$y = 5$
$x = 1,$	$y = 0$
$x = 2,$	$y = -3$
$x = 3,$	$y = -4$ (mínimo)
$x = 4,$	$y = -3$
$x = 5,$	$y = 0$
$x = 6,$	$y = 5$
$x = 7,$	$y = 12$

Representando cada uno de estos puntos y uniéndolos por medio de una curva tenemos la parábola de la figura 73 en la que se ve todo lo que hemos dicho sobre las variaciones del trinomio.

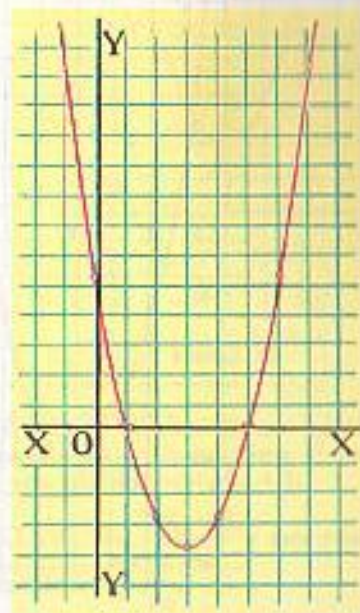


FIGURA 73



En ella se ve:

- 1) Que la curva corta el eje de las  $x$  en dos puntos cuyas abscisas son 1 y 5 que son las raíces del trinomio. El trinomio o sea el valor de la ordenada se anula para  $x=1$  y  $x=5$ .
- 2) El trinomio (la ordenada) es positivo para todo valor de  $x$  mayor que 5 y menor que 1 porque sabemos (453, 1º, a) que cuando las raíces son reales y desiguales el trinomio tiene el mismo signo que  $a$  (aquí  $a$ , el coeficiente de  $x^2$  es  $+1$ ) para todos los valores de  $x$  mayores o menores que ambas raíces.
- 3) El trinomio es negativo para todo valor de  $x$  mayor que 1 y menor que 5 porque sabemos (453, 1º, b) que el trinomio tiene signo contrario al signo de  $a$  para todo valor de  $x$  comprendido entre ambas raíces.
- 4) El valor mínimo del trinomio (el valor mínimo de la ordenada) corresponde al valor de  $x=3$  que es el valor de  $x = -\frac{b}{2a}$ , y este mínimo vale  $-4$  que es el valor de  $\frac{4ac-b^2}{4a}$ .
- 5) Para todos los valores de  $x$  equidistantes de  $x=3$ , es decir para  $x=2$  y  $x=4$ , para  $x=1$  y  $x=5$ ,  $x=0$  y  $x=6$ , etc., el trinomio (la ordenada) tiene valores iguales.

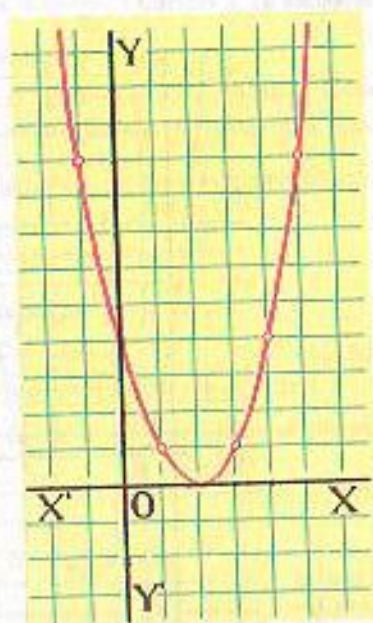


FIGURA 74

- (2) Representar gráficamente las variaciones de  $x^2 - 4x + 4$ .

Tenemos:

$$y = x^2 - 4x + 4.$$

Por ser  $b^2 - 4ac = 16 - 16 = 0$ , las raíces son reales e iguales.

Se tiene [fig. 74] que para:

$x = -1,$	$y = 9$
$x = 0,$	$y = 4$
$x = 1,$	$y = 1$
$x = 2,$	$y = 0$ (mínimo)
$x = 3,$	$y = 1$
$x = 4,$	$y = 4$
$x = 5,$	$y = 9$ .

Representando estos puntos y uniéndolos obtenemos la parábola de la fig. 74.

En la figura observamos:

- 1) La curva es tangente al eje de las  $x$  y lo toca en el punto cuya abscisa es 2 que es el valor de las raíces del trinomio:  $x_1 = x_2 = 2$ . Véase que el trinomio (la ordenada) se anula para  $x=2$ .
- 2) El trinomio es positivo para todo valor de  $x$  distinto de  $x=2$ , porque sabemos (453, 2º) que cuando las raíces son iguales el trinomio tiene el mismo signo de  $a$  (aquí  $a$ , el coeficiente de  $x^2$  es  $+1$ ) para todo valor de  $x$  distinto de la raíz.
- 3) El mínimo del trinomio (de la ordenada) se obtiene para  $x=2$  que es el valor de  $x = -\frac{b}{2a}$  y este mínimo vale 0 que es el valor de  $\frac{4ac-b^2}{4a}$ .
- 4) Para todos los valores de  $x$  equidistantes de  $x=2$  como  $x=1$  y  $x=3$ ,  $x=0$  y  $x=4$ , etc., el trinomio tiene valores iguales.

- (3) Representar gráficamente las variaciones de  $y = x^2 - 2x + 3$ .

Como  $b^2 - 4ac = 4 - 12 = -8$ , negativa, las raíces son imaginarias.

Tenemos (fig 75) que para:

$x = -2,$	$y = 11$
$x = -1,$	$y = 6$
$x = 0,$	$y = 3$
$x = 1,$	$y = 2$ (mínimo)
$x = 2,$	$y = 3$
$x = 3,$	$y = 6$
$x = 4,$	$y = 11$ .

Representando estos puntos y uniéndolos tenemos la parábola de la fig. 75.



FIGURA 75

En la figura observamos:

- 1) La curva no toca el eje de las  $x$ , porque las raíces son imaginarias.
- 2) El trinomio (la ordenada) es positivo para todo valor de  $x$  porque sabemos (453, 3º) que cuando las raíces son imaginarias el trinomio tiene el mismo signo que  $a$ , coeficiente de  $x^2$ , para todo valor de  $x$  y aquí  $a = +1$ .
- 3) El mínimo del trinomio es  $y=2$  que es el valor de  $\frac{4ac-b^2}{4a}$  y este mínimo corresponde al valor  $x=1$  que es el valor de  $x = -\frac{b}{2a}$ .
- 4) Para todos los valores de  $x$  equidistantes de  $x=1$  como  $x=0$  y  $x=2$ ,  $x=-1$  y  $x=3$  el trinomio tiene valores iguales.



(4) Representar gráficamente las variaciones de  $y = -x^2 + 2x + 8$ .

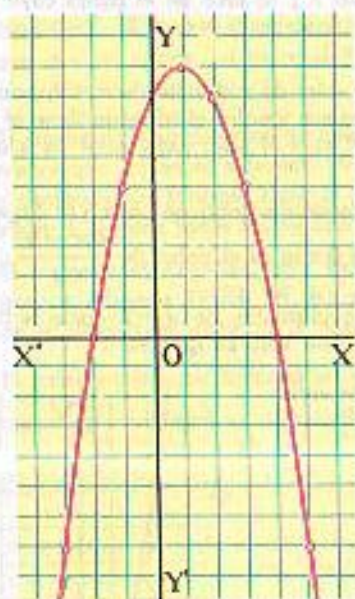


FIGURA 76

Aquí  $b^2 - 4ac = 4 - 4(-1)8 = 4 + 32 = 36$ , positiva, luego las raíces son reales y desiguales, pero como  $a = -1$ , negativa, la parábola estará invertida.

Tenemos (fig. 76) que para

$x = -3,$	$y = -7$
$x = -2,$	$y = 0$
$x = -1,$	$y = 5$
$x = 0,$	$y = 8$
$x = 1,$	$y = 9$ (máximo)
$x = 2,$	$y = 8$
$x = 3,$	$y = 5$
$x = 4,$	$y = 0$
$x = 5,$	$y = -7$

Representando estas puntos y uniéndolos tenemos la parábola invertida de la figura 76.

En la figura se ve que:

- La curva corta el eje de las  $x$  en dos puntos cuyas abscisas son  $-2$  y  $4$  que son las raíces del trinomio.
- Para  $x = 1$  que es el valor  $x = \frac{-b}{2a}$  el trinomio (la ordenada) tiene un valor máximo,  $y = 9$  que es el valor  $\frac{4ac - b^2}{4a}$ . En efecto, sabemos (454, 2º) que cuando  $a$  es negativa el trinomio tiene un máximo.

### EJERCICIO 281

Representar los siguientes trinomios y estudiar sus variaciones:

- |                    |                   |                    |                       |
|--------------------|-------------------|--------------------|-----------------------|
| 1. $x^2 - 3x + 2$  | 4. $x^2 + x - 12$ | 7. $-x^2 - 4x + 5$ | 10. $-x^2 + 2x + 15$  |
| 2. $x^2 + 3x + 2$  | 5. $x^2 - 2x + 1$ | 8. $x^2 - 6x + 3$  | 11. $2x^2 - x - 15$   |
| 3. $x^2 + 3x - 10$ | 6. $x^2 + 4x + 2$ | 9. $2x^2 + x - 6$  | 12. $-3x^2 + 7x + 20$ |

Münster.

Berlin.



KARL WILHELM THEODOR WEIERSTRASS (1815-1897) Matemático alemán. Fue maestro de escuela y más tarde, Profesor de la Universidad de Berlín. Puede considerarse a Weierstrass el verdadero padre del Análisis Moderno. En sus primeras investigaciones

abordó el problema de los números irracionales. Más tarde se dedicó durante el resto de su vida al estudio de las funciones de variables complejas y de variables reales. Su nombre es inseparable del de su discípula Sonia Kowalewski, valiosa matemática rusa.

## CAPITULO

## XXXVI

## ECUACIONES BINOMIAS Y TRINOMIAS

**456 ECUACION BINOMIA** es una ecuación que consta de dos términos, uno de los cuales es independiente de la incógnita.

La fórmula general de las ecuaciones binomias es

$$x^a \pm A = 0$$

**457 RESOLUCION DE ECUACIONES BINOMIAS SENCILLAS**

Vamos a considerar algunas ecuaciones binomias que se resuelven fácilmente por descomposición en factores.

### Ejemplos

(1) Resolver la ecuación  $x^4 - 16 = 0$ .

Descomponiendo  $x^4 - 16$  se tiene:

$$(x^2 + 4)(x^2 - 4) = 0.$$

Igualando a cero cada uno de estos factores:

$$x^2 - 4 = 0 \therefore x^2 = 4 \therefore x = \pm \sqrt{4} = \pm 2,$$

$$x^2 + 4 = 0 \therefore x^2 = -4 \therefore x = \pm \sqrt{-4} = \pm 2\sqrt{-1} = \pm 2i.$$

Esta ecuación tiene 4 raíces: 2, -2, 2i y -2i, dos reales y dos imaginarias. R.

(2) Resolver la ecuación  $x^3 - 27 = 0$ .

Descomponiendo  $x^3 - 27$  se tiene:

$$(x - 3)(x^2 + 3x + 9) = 0.$$



Igualando a cero cada uno de estos factores, se tiene:

$$\begin{aligned}x - 3 &= 0 \quad \therefore x = 3 \\x^2 + 3x + 9 &= 0.\end{aligned}$$

Resolvamos la ecuación  $x^2 + 3x + 9 = 0$  por la fórmula:

$$\begin{aligned}x &= \frac{-3 \pm \sqrt{3^2 - 4(9)}}{2} = \frac{-3 \pm \sqrt{9 - 36}}{2} = \frac{-3 \pm \sqrt{-27}}{2} \\&= \frac{-3 \pm \sqrt{27} \sqrt{-1}}{2} = \frac{-3 \pm 3\sqrt{3}i}{2}.\end{aligned}$$

La ecuación tiene 3 raíces: una real, 3 y dos imaginarias

$$\frac{-3 + 3\sqrt{3}i}{2} \text{ y } \frac{-3 - 3\sqrt{3}i}{2}$$

#### 458. NUMERO DE RAICES DE UNA ECUACION

El grado de una ecuación indica el número de raíces que tiene. Así, una ecuación de 2o. grado tiene 2 raíces; una ecuación de 3er. grado, como el ejemplo anterior 2, tiene 3 raíces; una ecuación de 4o. grado, como el ejemplo anterior 1, tiene 4 raíces, etc.

#### 459. RAICES CUBICAS DE LA UNIDAD

La unidad tiene tres raíces cúbicas, una real y dos imaginarias.

En efecto: Siendo  $x$  la raíz cúbica de la unidad, esta raíz elevada al cubo tiene que darnos 1, y tenemos la ecuación binomia:

$$x^3 = 1,$$

$$x^3 - 1 = 0.$$

Vamos a resolver esta ecuación,

descomponiendo  $x^3 - 1$ . Tendremos:

$$(x - 1)(x^2 + x + 1) = 0.$$

Igualando a cero estos factores, se tiene:  $x - 1 = 0 \quad \therefore x = 1.$

$$x^2 + x + 1 = 0.$$

Resolvamos esta ecuación por la fórmula:

$$x = \frac{-1 \pm \sqrt{1^2 - 4(1)}}{2} = \frac{-1 \pm \sqrt{-3}}{2} = \frac{-1 \pm \sqrt{3} \sqrt{-1}}{2} = \frac{-1 \pm i\sqrt{3}}{2}.$$

Entonces, las raíces cúbicas de la unidad son tres: una real, 1 y dos

$$\text{imaginarias } \frac{-1 + i\sqrt{3}}{2} \text{ y } \frac{-1 - i\sqrt{3}}{2}$$

Estas dos raíces imaginarias tienen la propiedad de que si una de ellas se eleva al cuadrado, se obtiene la otra. Entonces, siendo 1 la raíz real y designando una de las imaginarias por  $\alpha$ , la otra raíz imaginaria será  $\alpha^2$ .

Otra propiedad de estas raíces es que la suma de las tres es igual a cero. Así,  $1 + \alpha + \alpha^2 = 0$ .

#### EJERCICIO 282

Resolver las ecuaciones:

1.  $x^4 - 1 = 0.$

2.  $x^3 + 1 = 0.$

3.  $x^4 = 81.$

4.  $x^4 - 256 = 0.$

5.  $x^8 + 8 = 0.$

6.  $x^4 - 625 = 0.$

7.  $x^3 + 64 = 0.$

8.  $x^6 - 729 = 0.$

9. Hallar las raíces cúbicas de 8.

10. Hallar las raíces cuartas de 64.

**460. ECUACIONES TRINOMIAS** son ecuaciones que constan de tres términos de la forma  $ax^{2n} + bx^n + c = 0$ , donde se ve que, después de ordenada la ecuación en orden descendente con relación a  $x$ , en el primer término la  $x$  tiene un exponente doble que en el segundo término y el tercer término es independiente de  $x$ .

Son ecuaciones trinomias:

$$x^4 + 9x^2 + 20 = 0, \quad x^6 + 6x^3 - 7 = 0, \quad 2x^8 + 9x^4 - 5 = 0, \text{ etc.}$$

Las ecuaciones trinomias en que el primer término tiene  $x^4$  y el segundo  $x^2$  se llaman ecuaciones bicuadradas.

#### 461. ECUACIONES DE GRADO SUPERIOR AL SEGUNDO QUE SE RESUELVEN POR LA FORMULA DE LA ECUACION DE 2º GRADO

Toda ecuación trinomia puede escribirse  $a(x^n)^2 + bx^n + c = 0$ .

Aplicando la fórmula de la ecuación de 2o. grado se halla el valor de  $x^n$  y, luego, extrayendo la raíz enésima, se hallan los valores de  $x$ .

También pueden resolverse, como las de 2o. grado, por descomposición en factores.

#### Ejemplos

(1) Resolver la ecuación  $4x^4 - 37x^2 + 9 = 0$ .

Esta es una ecuación bicuadrada. Esta ecuación puede escribirse

$$4(x^2)^2 - 37x^2 + 9 = 0.$$

Aplicando la fórmula de la ecuación de 2º grado se halla el valor de  $x^2$ :

$$x^2 = \frac{37 \pm \sqrt{37^2 - 4(4)(9)}}{8} = \frac{37 \pm \sqrt{1369 - 144}}{8} = \frac{37 \pm \sqrt{1225}}{8} = \frac{37 \pm 35}{8}$$

$$x^2 = \frac{37 + 35}{8} = \frac{72}{8} = 9.$$

$$x^2 = \frac{37 - 35}{8} = \frac{2}{8} = \frac{1}{4}$$



Hemos obtenido los valores de  $x^2$ . Ahora, para hallar los valores de  $x$ , extraemos la raíz cuadrada a cada uno, y tendremos:

$$x^2 = 9 \therefore x = \pm \sqrt{9} = \pm 3$$

$$x^2 = \frac{1}{4} \therefore x = \pm \sqrt{\frac{1}{4}} = \pm \frac{1}{2}$$

Las cuatro raíces de la ecuación son: 3, -3,  $\frac{1}{2}$  y  $-\frac{1}{2}$ , todas reales. R.

(2) Resolver la ecuación  $3x^4 - 46x^2 - 32 = 0$ .

Esta es otra ecuación bicuadrada. Vamos a resolverla por descomposición lo que suele ser más rápido que aplicar la fórmula. Descomponiendo el trinomio, tenemos:

$$(3x^2 + 2)(x^2 - 16) = 0.$$

Iguando a cero los factores, tenemos:

$$x^2 - 16 = 0$$

$$x^2 = 16 \therefore x = \pm 4.$$

$$3x^2 + 2 = 0$$

$$3x^2 = -2$$

$$x^2 = -\frac{2}{3} \therefore x = \pm \sqrt{-\frac{2}{3}} = \pm i\sqrt{\frac{2}{3}}$$

Las cuatro raíces son: 4, -4,  $i\sqrt{\frac{2}{3}}$ ,  $-i\sqrt{\frac{2}{3}}$ , dos reales y dos imaginarias. R.

### ► EJERCICIO 283

Resolver las ecuaciones siguientes, hallando todas las raíces:

- |                              |                               |   |
|------------------------------|-------------------------------|---|
| 1. $x^4 - 10x^2 + 9 = 0$ .   | 6. $x^4 + 16x^2 - 225 = 0$ .  | 11. $25x^4 + 9x^2 - 16 = 0$ .           |
| 2. $x^4 - 13x^2 + 36 = 0$ .  | 7. $x^4 - 45x^2 - 196 = 0$ .  | 12. $4x^4 + 11x^2 - 3 = 0$ .            |
| 3. $x^4 - 29x^2 + 100 = 0$ . | 8. $x^4 - 6x^2 + 5 = 0$ .     | 13. $(2x^2 + 1)^2 - (x^2 - 3)^2 = 80$ . |
| 4. $x^4 - 61x^2 + 900 = 0$ . | 9. $4x^4 - 37x^2 + 9 = 0$ .   | 14. $x^2(3x^2 + 2) = 4(x^2 - 3) + 13$ . |
| 5. $x^4 + 3x^2 - 4 = 0$ .    | 10. $9x^4 - 40x^2 + 16 = 0$ . |   |

(3) Resolver la ecuación  $x^6 - 19x^3 - 216 = 0$ .

Aplicando la fórmula de la ecuación de 2º grado, obtenemos  $x^3$ :

$$x^3 = \frac{19 \pm \sqrt{19^2 - 4(-216)}}{2} = \frac{19 \pm \sqrt{1225}}{2} = \frac{19 \pm 35}{2}$$

$$x^3 = \frac{19 + 35}{2} = \frac{54}{2} = 27.$$

$$x^3 = \frac{19 - 35}{2} = \frac{-16}{2} = -8.$$

Entonces, para hallar  $x$ , extraemos la raíz cúbica:

$$x^3 = 27 \therefore x = \sqrt[3]{27} = 3$$

$$x^3 = -8 \therefore x = \sqrt[3]{-8} = -2$$

3 y -2 son las raíces principales. Hay además otras 4 raíces imaginarias que se obtienen resolviendo, como se vio antes, las ecuaciones binomias  $x^3 - 27 = 0$  y  $x^3 + 8 = 0$ .

Por descomposición, se resuelve mucho más pronto la ecuación  $x^6 - 19x^3 - 216 = 0$ . En efecto, descomponiendo:

$$(x^3 - 27)(x^3 + 8) = 0.$$

$$x^3 - 27 = 0 \therefore x^3 = 27 \therefore x = \sqrt[3]{27} = 3$$

$$x^3 + 8 = 0 \therefore x^3 = -8 \therefore x = \sqrt[3]{-8} = -2$$

(4) Resolver la ecuación  $x^{\frac{2}{3}} - 6x^{\frac{1}{3}} + 8 = 0$ .

Vamos a descomponer el trinomio. Tendremos:

$$\left(x^{\frac{2}{3}} - 2\right)\left(x^{\frac{2}{3}} - 4\right) = 0.$$

Iguando a cero  $x^{\frac{2}{3}} - 2$  se tiene:

$$x^{\frac{2}{3}} - 2 = 0$$

$$x^{\frac{2}{3}} = 2$$

$$\sqrt[3]{x^2} = 2.$$

Elevando al cubo:

$$x^2 = 8$$

$$x = \pm \sqrt{8} = \pm 2\sqrt{2}.$$

Iguando a cero  $x^{\frac{2}{3}} - 4$  se tiene:

$$x^{\frac{2}{3}} - 4 = 0$$

$$x^{\frac{2}{3}} = 4.$$

$$\sqrt[3]{x^2} = 4.$$

Elevando al cubo:

$$x^2 = 64$$

$$x = \pm \sqrt{64} = \pm 8.$$

$$R. \pm 2\sqrt{2} \pm 8$$

### ► EJERCICIO 284

Resolver las ecuaciones:

- |                              |                                |   |
|------------------------------|--------------------------------|---|
| 1. $x^6 - 7x^3 - 8 = 0$ .    | 5. $x^{10} - 33x^5 + 32 = 0$ . | 9. $x^5 - 9x^{\frac{5}{2}} + 8 = 0$ .               |
| 2. $x^6 + 30x^3 + 81 = 0$ .  | 6. $x^4 - 13x^2 + 36 = 0$ .    | 10. $x + x^{\frac{1}{2}} = 6$ .                     |
| 3. $8x^4 + 15x^2 - 2 = 0$ .  | 7. $x^6 + 35x^3 = -216$ .      | 11. $3x = 16\sqrt{x} - 5$ .                         |
| 4. $x^8 - 41x^4 + 400 = 0$ . | 8. $x^{10} = 242x^5 + 243$ .   | 12. $2x^{\frac{1}{2}} - 5x^{\frac{1}{4}} + 2 = 0$ . |

### 462 TRANSFORMACION DE EXPRESIONES DE LA FORMA $\sqrt{a \pm \sqrt{b}}$ EN SUMA DE RADICALES SIMPLES

Hagamos

$$\sqrt{a + \sqrt{b}} = \sqrt{x} + \sqrt{y} \quad (1)$$

$$\sqrt{a - \sqrt{b}} = \sqrt{x} - \sqrt{y} \quad (2)$$

y tendremos un sistema de dos ecuaciones con dos incógnitas  $x$  e  $y$ . Resolvamos el sistema:



Sumando (1) y (2) se tiene:

$$\sqrt{a+\sqrt{b}} + \sqrt{a-\sqrt{b}} = 2\sqrt{x} \therefore x = \frac{\sqrt{a+\sqrt{b}} + \sqrt{a-\sqrt{b}}}{2}$$

Elevando al cuadrado ambos miembros de esta última igualdad, se tiene:

$$\begin{aligned} x &= \frac{a+\sqrt{b}+2\sqrt{a+\sqrt{b}}\cdot\sqrt{a-\sqrt{b}}+a-\sqrt{b}}{4} \\ &= \frac{a+\sqrt{b}+2\sqrt{(a+\sqrt{b})(a-\sqrt{b})}+a-\sqrt{b}}{4} \\ &= \frac{a+\sqrt{b}+2\sqrt{a^2-b}+a-\sqrt{b}}{4} = \frac{2a+2\sqrt{a^2-b}}{4} = \frac{a+\sqrt{a^2-b}}{2} \end{aligned}$$

luego, nos queda

y designando  $\sqrt{a^2-b}$  por  $m$  se tiene:

$$x = \frac{a+m}{2} \quad (3)$$

Restando (1) y (2) se tiene:

$$\sqrt{a+\sqrt{b}} - \sqrt{a-\sqrt{b}} = 2\sqrt{y} \therefore y = \frac{\sqrt{a+\sqrt{b}} - \sqrt{a-\sqrt{b}}}{2}$$

Elevando al cuadrado:

$$\begin{aligned} y &= \frac{a+\sqrt{b}-2\sqrt{a+\sqrt{b}}\cdot\sqrt{a-\sqrt{b}}+a-\sqrt{b}}{4} \\ &= \frac{a+\sqrt{b}-2\sqrt{a^2-b}+a-\sqrt{b}}{4} = \frac{2a-2\sqrt{a^2-b}}{4} = \frac{a-\sqrt{a^2-b}}{2} \end{aligned}$$

luego, queda:  $y = \frac{a-\sqrt{a^2-b}}{2}$  o sea:  $y = \frac{a-m}{2} \quad (4)$

Sustituyendo los valores hallados para  $x$  (3) e  $y$  (4) en las ecuaciones (1) y (2), se tiene:

$$\sqrt{a+\sqrt{b}} = \sqrt{\frac{a+m}{2}} + \sqrt{\frac{a-m}{2}}$$

$$\sqrt{a-\sqrt{b}} = \sqrt{\frac{a+m}{2}} - \sqrt{\frac{a-m}{2}}$$

Téngase presente en esta transformación que  $m = \sqrt{a^2-b}$ .

Si  $a^2-b$  tiene raíz cuadrada exacta, el radical doble se convierte en la suma algebraica de dos radicales simples, pero si  $a^2-b$  no tiene raíz cuadrada exacta, el radical doble se convierte en la suma de dos radicales dobles, lo que no trae ninguna ventaja, pues lejos de simplificar, complica.

## Ejemplos

(1) Transformar  $\sqrt{6+\sqrt{20}}$  en suma de radicales simples.

Aquí  $a=6$ ,  $b=20$ ,  $m=\sqrt{a^2-b}=\sqrt{36-20}=\sqrt{16}=4$ , luego:

$$\sqrt{6+\sqrt{20}} = \sqrt{\frac{6+4}{2}} + \sqrt{\frac{6-4}{2}} = \sqrt{5} + \sqrt{1} = 1 + \sqrt{5} \quad R.$$

(2) Transformar  $\sqrt{7-2\sqrt{10}}$  en suma algebraica de radicales simples.

Introduciendo 2 bajo el signo radical, para lo cual hay que elevarlo al cuadrado, tenemos:

$$\sqrt{7-2\sqrt{10}} = \sqrt{7-\sqrt{4 \times 10}} = \sqrt{7-\sqrt{40}}.$$

Aquí,  $a=7$ ,  $b=40$ ,  $m=\sqrt{a^2-b}=\sqrt{49-40}=3$ , luego:

$$\sqrt{7-2\sqrt{10}} = \sqrt{7-\sqrt{40}} = \sqrt{\frac{7+3}{2}} - \sqrt{\frac{7-3}{2}} = \sqrt{5} - \sqrt{2} \quad R.$$

## EJERCICIO 285

Transformar en suma algebraica de radicales simples:

- |                           |                            |                              |  |
|---------------------------|----------------------------|------------------------------|--|
| 1. $\sqrt{5+\sqrt{24}}$   | 6. $\sqrt{13+\sqrt{88}}$   | 11. $\sqrt{14-4\sqrt{6}}$    | 16. $\sqrt{\frac{5}{6}+\sqrt{\frac{3}{2}}}$  |
| 2. $\sqrt{8-\sqrt{60}}$   | 7. $\sqrt{11+2\sqrt{30}}$  | 12. $\sqrt{55+30\sqrt{2}}$   | 17. $\sqrt{\frac{3}{4}-\sqrt{\frac{1}{2}}}$  |
| 3. $\sqrt{8+\sqrt{28}}$   | 8. $\sqrt{84-18\sqrt{3}}$  | 13. $\sqrt{73-12\sqrt{35}}$  | 18. $\sqrt{\frac{9}{10}+\sqrt{\frac{1}{5}}}$ |
| 4. $\sqrt{32-\sqrt{700}}$ | 9. $\sqrt{21+6\sqrt{10}}$  | 14. $\sqrt{253-60\sqrt{7}}$  |  |
| 5. $\sqrt{14+\sqrt{132}}$ | 10. $\sqrt{28+14\sqrt{3}}$ | 15. $\sqrt{293-30\sqrt{22}}$ |  |

Hallar la raíz cuadrada de:

- |                   |                      |                     |
|-------------------|----------------------|---------------------|
| 19. $6+4\sqrt{2}$ | 22. $10+2\sqrt{21}$  | 25. $30-20\sqrt{2}$ |
| 20. $7+4\sqrt{3}$ | 23. $18+6\sqrt{5}$   | 26. $9+6\sqrt{2}$   |
| 21. $8+2\sqrt{7}$ | 24. $24-2\sqrt{143}$ | 27. $98-24\sqrt{5}$ |





HENRI POINCARÉ (1854-1912) Matemático. Estudió en la Escuela Politécnica. Fue de Análisis Matemático en Caen; luego es Profesor de Mecánica y Física Experimental en la Facultad de Ciencias de París. Independientemente de sus contribuciones a la matemática es un verdadero divulgador de los métodos científicos. Circulan por todo el mundo sus obras "Ciencia e Hipótesis" y "Valor Social de las Ciencias". Es importante su trabajo sobre las ecuaciones fuchsianas.

Independientemente de sus contribuciones a la matemática es un verdadero divulgador de los métodos científicos. Circulan por todo el mundo sus obras "Ciencia e Hipótesis" y "Valor Social de las Ciencias". Es importante su trabajo sobre las ecuaciones fuchsianas.

## CAPÍTULO XXXVII

### PROGRESIONES

**463 SERIE** es una sucesión de términos formados de acuerdo con una ley. Así, 1, 3, 5, 7, ... es una serie cuya ley es que cada término se obtiene sumando 2 al término anterior; 1, 2, 4, 8, ... es una serie cuya ley es que cada término se obtiene multiplicando por 2 el término anterior.

Las series que estudiaremos en Álgebra elemental son las progresiones.

Las progresiones se clasifican en progresiones aritméticas y geométricas.

#### 1. PROGRESIONES ARITMÉTICAS

**464 PROGRESIÓN ARITMÉTICA** es toda serie en la cual cada término después del primero se obtiene sumándole al término anterior una cantidad constante llamada razón o diferencia.

##### NOTACION

El signo de progresión aritmética es  $\div$  y entre cada término y el siguiente se escribe un punto.

Así,  $\div 1, 3, 5, 7, \dots$  es una progresión aritmética creciente cuya razón es 2 porque  $1+2=3$ ;  $3+2=5$ ;  $5+2=7$ , etc.

$\div 8, 4, 0, -4, \dots$  es una progresión aritmética decreciente cuya razón es  $-4$  porque  $8+(-4)=8-4=4$ ,  $4+(-4)=0$ ,  $0+(-4)=-4$ , etc.

En toda progresión aritmética la razón se halla restandole a un término cualquiera el término anterior.

Así, en  $\div \frac{1}{2}, \frac{3}{4}, 1, \dots$  la razón es  $\frac{3}{4} - \frac{1}{2} = \frac{1}{4}$ .

En  $\div 2, 1\frac{3}{5}, 1\frac{1}{5}, \dots$  la razón es  $1\frac{3}{5} - 2 = \frac{8}{5} - 2 = -\frac{2}{5}$ .

#### 465 DEDUCCIÓN DE LA FORMULA DEL TERMINO ENESIMO

Sea la progresión  $\div a, b, c, d, e, \dots, u,$

en la que  $u$  es el término enésimo y cuya razón es  $r$ .

En toda progresión aritmética, cada término es igual al anterior más la razón; luego, tendremos:

$$\begin{aligned} b &= a + r \\ c &= b + r = (a + r) + r = a + 2r \\ d &= c + r = (a + 2r) + r = a + 3r \\ e &= d + r = (a + 3r) + r = a + 4r, \dots \end{aligned}$$

Aquí vemos que cada término es igual al primer término de la progresión  $a$  más tantas veces la razón como términos le preceden; luego, como esta ley se cumple para todos los términos, tendremos que  $u$  será igual al primer término  $a$  más tantas veces la razón como términos le preceden, y como  $u$  es el término enésimo, le preceden  $n-1$  términos; luego:

$$u = a + (n-1)r$$

#### Ejemplos

(1) Hallar el 15º término de  $\div 4, 7, 10, \dots$

Aquí  $a=4$ ,  $n=15$ ,  $r=7-4=3$ , luego:

$$u = a + (n-1)r = 4 + (15-1)3 = 4 + 14 \cdot 3 = 4 + 42 = 46. \text{ R.}$$

(2) Hallar el 23º término de  $\div 9, 4, -1, \dots$

Aquí  $a=9$ ,  $n=23$ ,  $r=4-9=-5$ , luego:

$$u = a + (n-1)r = 9 + (23-1)(-5) = 9 + (22)(-5) = 9 - 110 = -101. \text{ R.}$$

(3) Hallar el 38º término de  $\div \frac{2}{3}, \frac{3}{2}, \frac{7}{3}, \dots$

$a = \frac{2}{3}$ ,  $n=38$ ,  $r = \frac{3}{2} - \frac{2}{3} = \frac{5}{6}$ , luego:

$$u = \frac{2}{3} + (37) \frac{5}{6} = \frac{2}{3} + \frac{185}{6} = \frac{63}{2} = 31\frac{1}{2}. \text{ R.}$$



(4) Hallar el 42º término de  $\div -2, -1\frac{2}{5}, -\frac{4}{5}, \dots$

$$r = -1\frac{2}{5} - (-2) = -\frac{7}{5} + 2 = \frac{3}{5}$$

$$u = -2 + (41)\frac{3}{5} = -2 + \frac{123}{5} = \frac{113}{5} = 22\frac{3}{5} \text{ R.}$$

### ■ EJERCICIO 286

Hallar el

- |  |   |
|--|---|
| 1. 9º término de $\div 7, 10, 13, \dots$                     | 15. 27º término de $\div 3\frac{1}{2}, 5\frac{1}{4}, \dots$   |
| 2. 12º término de $\div 5, 10, 15, \dots$                    | 16. 36º término de $\div \frac{7}{9}, \frac{1}{3}, \dots$     |
| 3. 48º término de $\div 9, 12, 15, \dots$                    | 17. 15º término de $\div \frac{2}{7}, \frac{1}{8}, \dots$     |
| 4. 63º término de $\div 3, 10, 17, \dots$                    | 18. 21º término de $\div -\frac{9}{6}, -\frac{14}{15}, \dots$ |
| 5. 12º término de $\div 11, 6, 1, \dots$                     | 19. 13º término de $\div -\frac{1}{4}, -2\frac{1}{4}, \dots$  |
| 6. 28º término de $\div 19, 12, 5, \dots$                    | 20. 19º término de $\div -\frac{8}{9}, -\frac{1}{3}, \dots$   |
| 7. 13º término de $\div 3, -1, -5, \dots$                    | 21. 33º término de $\div 3\frac{2}{8}, 2\frac{11}{12}, \dots$ |
| 8. 54º término de $\div 8, 0, -8, \dots$                     | 22. 41º término de $\div 2\frac{4}{5}, 2\frac{7}{10}, \dots$  |
| 9. 31º término de $\div -7, -3, 1, \dots$                    | 23. 26º término de $\div -\frac{3}{5}, \frac{2}{10}, \dots$   |
| 10. 17º término de $\div -8, 2, 12, \dots$                   | 24. 19º término de $\div -4, -\frac{2}{3}, \dots$             |
| 11. 12º término de $\div \frac{1}{2}, \frac{9}{4}, 1, \dots$ | 25. 39º término de $\div 3, -1\frac{1}{4}, \dots$             |
| 12. 17º término de $\div \frac{2}{8}, \frac{9}{6}, 1, \dots$ |   |
| 13. 25º término de $\div \frac{3}{8}, \frac{11}{24}, \dots$  |   |
| 14. 19º término de $\div \frac{1}{9}, \frac{7}{8}, \dots$    |   |

### 466 DEDUCCION DE LAS FORMULAS DEL PRIMER TERMINO, DE LA RAZON Y DEL NUMERO DE TERMINOS

Hemos hallado que  $u = a + (n-1)r$ . (1).

Vamos a despejar  $a$ ,  $r$  y  $n$  en esta fórmula.

Despejando  $a$ , se tiene:  $a = u - (n-1)r$

Para despejar  $r$  en (1) transponemos  $a$  y tenemos:

$$u - a = (n-1)r \therefore r = \frac{u-a}{n-1}$$

Para despejar  $n$  en (1) efectuamos el producto indicado y tenemos:

$$u = a + nr - r.$$

Transponiendo  $a$  y  $-r$ :

$$u - a + r = nr \therefore n = \frac{u-a+r}{r}$$

### Ejemplos

(1) Hallar el primer término de una progresión aritmética sabiendo que el 11º término es 10 y la razón  $\frac{1}{2}$ .

$$a = u - (n-1)r = 10 - (11-1)\left(\frac{1}{2}\right) = 10 - (10)\left(\frac{1}{2}\right) = 10 - 5 = 5. \text{ R.}$$

(2) Hallar la razón de una progresión aritmética cuyo primer término es  $-\frac{3}{4}$  y el 8º término  $3\frac{1}{4}$ .

$$r = \frac{u-a}{n-1} = \frac{3\frac{1}{4} - (-\frac{3}{4})}{8-1} = \frac{\frac{25}{8} + \frac{3}{4}}{7} = \frac{\frac{25}{8} + \frac{6}{8}}{7} = \frac{\frac{31}{8}}{7} = \frac{31}{56}. \text{ R.}$$

(3) ¿Cuántos términos tiene la progresión

$$\div 2, 1\frac{2}{3}, \dots, -4\frac{1}{3}$$

$$\text{Aquí } r = 1\frac{2}{3} - 2 = -\frac{1}{3}. \text{ Entonces:}$$

$$n = \frac{u-a+r}{r} = \frac{-4\frac{1}{3} - 2 + (-\frac{1}{3})}{-\frac{1}{3}} = \frac{-\frac{13}{3} - 2 - \frac{1}{3}}{-\frac{1}{3}} = \frac{-\frac{20}{3}}{-\frac{1}{3}} = 20 \text{ ter. R.}$$

### ■ EJERCICIO 287

- El 15º término de una progresión aritmética es 20 y la razón  $\frac{2}{7}$ . Hallar el 1er. término.
- El 32º término de una progresión aritmética es  $-18$  y la razón 3. Hallar el 1er. término.
- Hallar el 1er. término de una progresión aritmética sabiendo que el 8º término es  $\frac{3}{4}$  y el 9º término 1.
- El 5º término de una progresión aritmética es 7 y el 7º término  $8\frac{1}{2}$ . Hallar el primer término.
- Hallar la razón de  $\div 3, \dots, 8$  donde 8 es el 6º término.
- Hallar la razón de  $\div -1, \dots, -4$  donde  $-4$  es el 10º término.
- Hallar la razón de  $\div \frac{1}{2}, \dots, -\frac{3}{8}$  donde  $-\frac{3}{8}$  es el 17º término.
- El 1er. término de una progresión aritmética es 5 y el 18º término  $-80$ . Hallar la razón.
- El 92º término de una progresión aritmética es 1050 y el 1er. término  $-42$ . Hallar la razón.
- ¿Cuántos términos tiene la progresión  $\div 4, 6, \dots, 30$ ?
- ¿Cuántos términos tiene la progresión  $\div 5, 5\frac{1}{2}, \dots, 18$ ?
- El 1er. término de una progresión aritmética es  $5\frac{1}{2}$ , el 2º término 6 y el último término 18. Hallar el número de términos.



**467** En toda progresión aritmética la suma de dos términos equidistantes de los extremos es igual a la suma de los extremos.

Sea la progresión  $a, \dots, m, \dots, p, \dots, u$ , cuya razón es  $r$ . Supongamos que entre  $a$  y  $m$  hay  $n$  términos y entre  $p$  y  $u$  también hay  $n$  términos, es decir, que  $m$  y  $p$  son términos equidistantes de los extremos,  $a$  y  $u$ . Vamos a demostrar que  $m + p = a + u$ .

En efecto: Habiendo  $n$  términos entre  $a$  y  $m$ , al término  $m$  le preceden  $n+1$  términos (contando la  $a$ ); luego, podemos escribir (465) que  $m = a + (n+1)r$ . (1).

Del propio modo, habiendo  $n$  términos entre  $p$  y  $u$ , tendremos:  $u = p + (n+1)r$ . (2).

Restando (2) de (1), tenemos:

$$\begin{array}{rcl} m & = & a + (n+1)r \\ -u & = & -p - (n+1)r \\ \hline m-u & = & a-p \end{array}$$

y pasando  $p$  al primer miembro de esta igualdad y  $u$  al segundo, queda:

$$m + p = a + u$$

que era lo que queríamos demostrar.

#### OBSERVACION

Cuando el número de términos de una progresión aritmética es impar, el término medio equidista de los extremos y por tanto, según lo que acabamos de demostrar, el duplo del término medio será igual a la suma de los extremos.

**468 DEDUCCION DE LA FORMULA PARA HALLAR LA SUMA DE LOS TERMINOS DE UNA PROGRESION ARITMETICA**

Sea la progresión  $a, b, c, \dots, l, m, u$ , que consta de  $n$  términos.

Designando por  $S$  la suma de todos los términos de esta progresión, tendremos:

$$S = a + b + c + \dots + l + m + u$$

y también:

$$S = u + m + l + \dots + c + b + a.$$

Sumando estas igualdades, tenemos:

$$2S = (a+u) + (b+m) + (c+l) + \dots + (l+c) + (m+b) + (u+a).$$

Ahora bien, todos estos binomios son iguales a  $(a+u)$  porque hemos demostrado en el número anterior que la suma de dos términos equidistantes de los extremos es igual a la suma de los extremos, y como hay tantos binomios como términos tiene la progresión, tendremos:

$$2S = (a+u)n \quad \text{y de aquí} \quad S = \frac{(a+u)n}{2}.$$

### Ejemplos

(1) Hallar la suma de los 12 primeros términos de  $+7, 13, 19, \dots$ . En la fórmula de la suma entra  $u$ . Aquí  $u$  es el 12º término que no lo conocemos. Vamos a hallarlo:

$$u = a + (n-1)r = 7 + (12-1)6 = 7 + (11)6 = 73.$$

Entonces, aplicando la fórmula de suma, tendremos:

$$S = \frac{a+u}{2}n = \frac{7+73}{2}12 = \frac{80 \times 12}{2} = 480. \quad R.$$

(2) Hallar la suma de los 13 primeros términos de  $\div \frac{5}{6}, \frac{1}{12}, \dots$ .

La razón es  $\frac{1}{12} - \frac{5}{6} = -\frac{3}{4}$ . Hallemos el 13º término:

$$u = a + (n-1)r = \frac{5}{6} + (12)\left(-\frac{3}{4}\right) = \frac{5}{6} - 9 = -\frac{49}{6}$$

Aplicando ahora la fórmula de suma, tendremos:

$$\begin{aligned} S &= \frac{(a+u)n}{2} = \frac{\left[\frac{5}{6} + \left(-\frac{49}{6}\right)\right]13}{2} = \frac{\left(\frac{5}{6} - \frac{49}{6}\right)13}{2} = \frac{\left(-\frac{44}{6}\right)13}{2} \\ &= \frac{\left(-\frac{22}{3}\right)13}{2} = \frac{-286}{2} = -\frac{286}{2} = -143. \quad R. \end{aligned}$$

### EJERCICIO 288

Hallar la suma de los:

- 8 primeros términos de  $\div 15, 19, 23, \dots$
- 19 primeros términos de  $\div 31, 38, 45, \dots$
- 24 primeros términos de  $\div 42, 32, 22, \dots$
- 80 primeros términos de  $\div -10, -6, -2, \dots$
- 60 primeros términos de  $\div 11, 1, -9, \dots$
- 50 primeros términos de  $\div -5, -13, -21, \dots$
- 9 primeros términos de  $\div \frac{1}{2}, 1, \frac{3}{2}, \dots$
- 14 primeros términos de  $\div \frac{3}{10}, \frac{2}{5}, \frac{1}{2}, \dots$
- 19 primeros términos de  $\div \frac{3}{4}, \frac{5}{8}, \frac{7}{4}, \dots$
- 34 primeros términos de  $\div \frac{2}{5}, \frac{7}{55}, \dots$
- 11 primeros términos de  $\div 2\frac{1}{8}, 3\frac{2}{15}, \dots$
- 46 primeros términos de  $\div 3\frac{1}{4}, 3\frac{13}{20}, \dots$
- 17 primeros términos de  $\div -2, \frac{1}{4}, \dots$
- 12 primeros términos de  $\div -5, -4\frac{6}{11}, \dots$



## 469 MEDIOS ARITMETICOS

Se llama **medios aritméticos** a los términos de una progresión aritmética que se hallan entre el primero y el último término de la progresión.

Así, en la progresión  $+3.5.7.9.11$  los términos 5, 7 y 9 son medios aritméticos.

## 470 INTERPOLACION

Interpoliar medios aritméticos entre dos números dados es formar una progresión aritmética cuyos extremos sean los dos números dados.

## Ejemplos

(1) Interpoliar 4 medios aritméticos entre 1 y 3.

1 y 3 son los extremos de la progresión. Tendremos:  
 $\div 1 \dots\dots\dots 3. \text{ (1).}$

Hay que hallar los 4 términos de la progresión que hay entre 1 y 3. Si hallamos la razón y se la sumamos a 1 tendremos el 2º término de la progresión; sumando este 2º término con la razón tendremos el 3er. término; sumando el 3er. término con la razón obtendremos el 4º término y así sucesivamente.

La razón la hallamos por la fórmula ya conocida  $r = \frac{u-a}{n-1}$  teniendo en cuenta que  $n$  es el número de términos de la progresión o sea los medios que se van a interpolar más los dos extremos.

En este caso, la razón será:

$$r = \frac{u-a}{n-1} = \frac{3-1}{6-1} = \frac{2}{5}.$$

Sumando esta razón con cada término obtenemos el siguiente. Entonces:

$$1 + \frac{2}{5} = \frac{7}{5}, \text{ 2º término}$$

$$\frac{7}{5} + \frac{2}{5} = \frac{9}{5}, \text{ 3er. término}$$

$$\frac{9}{5} + \frac{2}{5} = \frac{11}{5}, \text{ 4º término}$$

$$\frac{11}{5} + \frac{2}{5} = \frac{13}{5}, \text{ 5º término.}$$

Interpolando estos medios en (1) tenemos la progresión:

$$\div 1 \frac{7}{5} \frac{9}{5} \frac{11}{5} \frac{13}{5} 3.$$

o sea  $\div 1 1\frac{2}{5} 1\frac{4}{5} 2\frac{1}{5} 2\frac{3}{5} 3 \text{ R.}$

## NOTA

Para hallar la razón puede emplearse también la fórmula

$$r = \frac{u-a}{m+1}$$

en la cual  $m$  representa el número de medios que se van a interpolar.

Así, en el caso anterior en que interpolamos 4 medios,  $m = 4$  luego aplicando esta fórmula se tiene:

$$r = \frac{u-a}{m+1} = \frac{3-1}{4+1} = \frac{2}{5}$$

resultado idéntico al obtenido con la fórmula general de la razón.

(2) Interpoliar 5 medios aritméticos entre  $-2$  y  $5\frac{1}{2}$ .

$$\div -2 \dots\dots\dots 5\frac{1}{2}. \text{ (1)}$$

Hallando la razón:

$$r = \frac{u-a}{n-1} = \frac{5\frac{1}{2} - (-2)}{7-1} = \frac{5\frac{1}{2} + 2}{6} = \frac{7\frac{1}{2}}{6} = \frac{29}{24}.$$

Sumando la razón con cada término, obtenemos el siguiente:

$$-2 + \frac{29}{24} = -\frac{19}{24}$$

$$-\frac{19}{24} + \frac{29}{24} = \frac{10}{24}$$

$$\frac{10}{24} + \frac{29}{24} = \frac{39}{24}$$

$$\frac{39}{24} + \frac{29}{24} = \frac{68}{24}$$

$$\frac{68}{24} + \frac{29}{24} = \frac{97}{24}$$

Interpolando en (1), tenemos:

$$\div -2 \cdot -\frac{19}{24} \cdot \frac{10}{24} \cdot \frac{39}{24} \cdot \frac{68}{24} \cdot \frac{97}{24} \cdot 5\frac{1}{2}.$$

y simplificando, queda:

$$\div -2 \cdot -\frac{19}{24} \cdot \frac{5}{12} \cdot 1\frac{5}{8} \cdot 2\frac{5}{6} \cdot 4\frac{1}{24} \cdot 5\frac{1}{4} \text{ R.}$$

## EJERCICIO 289

Interpoliar:

1. 3 medios aritméticos entre 3 y 11.

2. 7 medios aritméticos entre 19 y  $-5$ .

3. 5 medios aritméticos entre  $-13$  y  $-73$ .

4. 4 medios aritméticos entre  $-42$  y  $53$ .

5. 5 medios aritméticos entre  $-81$  y  $-9$ .

6. 3 medios aritméticos entre 1 y 3.

7. 4 medios aritméticos entre 5 y 12.

8. 5 medios aritméticos entre  $-4$  y 3.

9. 5 medios aritméticos entre  $\frac{3}{4}$  y  $\frac{1}{8}$ .

10. 6 medios aritméticos entre  $-1$  y 3.

11. 5 medios aritméticos entre  $\frac{3}{8}$  y  $-\frac{1}{8}$ .

12. 7 medios aritméticos entre  $-2$  y  $-5$ .

13. 8 medios aritméticos entre  $\frac{1}{2}$  y  $-\frac{7}{10}$ .



## EJERCICIO 290

- Hallar la suma de los 20 primeros múltiplos de 7.
- Hallar la suma de los 80 primeros múltiplos de 5.
- Hallar la suma de los 43 primeros números terminados en 9.
- Hallar la suma de los 100 primeros números pares.
- Hallar la suma de los 100 primeros números impares mayores que 7.
- Compré 50 libros. Por el primero pagué 8 cts. y por cada uno de los demás 3 cts. más que por el anterior. Hallar el importe de la compra.
- Un dentista arregló a un hombre todas las piezas de la boca que tenía completas. Por la primera le cobró \$1 y por cada una de las demás 20 cts. más que por la anterior. ¿Cuánto cobró el dentista?
- Hallar la suma de los 72 primeros múltiplos de 11 que siguen a 66.
- ¿Cuánto ha ahorrado un hombre en 5 años si en enero del primer año ahorró bs. 2 y en cada mes posterior ahorró bs. 3 más que en el precedente?
- Un hombre avanza en el primer segundo de su carrera 6 m y en cada segundo posterior avanza 25 cm más que en el anterior. ¿Cuánto avanzó en el 8º segundo y qué distancia habrá recorrido en 8 segs.?
- Los ahorros de 3 años de un hombre están en progresión aritmética. Si en los tres años ha ahorrado 2400 sucres, y el primer año ahorró la mitad de lo que ahorró el segundo, ¿cuánto ahorró cada año?
- El 2º y el 4º términos de una progresión aritmética suman 22 y el 3º y el 7º términos suman 34. ¿Cuáles son esos cuatro términos?
- Una deuda puede ser pagada en 32 semanas pagando \$5 la 1ª semana, \$8 la 2ª semana, \$11 la 3ª semana y así sucesivamente. Hallar el importe de la deuda.
- Una persona viaja 50 kilómetros el primer día y en cada día posterior 5½ kilómetros menos de lo que recorrió el día anterior. ¿Cuánto habrá recorrido al cabo de 8 días?
- En una progresión aritmética de 12 términos el 1º y el 12º término suman 53½. ¿Cuál es la suma del 3º y el 10º término?
- ¿Cuál es el 6º término de una progresión aritmética de 11 términos si su 1er término es -2 y el último -52?
- En el 1er. año de negocios un hombre ganó \$500 y en el último ganó \$1900. Si en cada año ganó \$200 más que en el año anterior, ¿cuántos años tuvo el negocio?
- Las ganancias anuales de un comerciante durante 11 años están en progresión aritmética. El primer año ganó \$1180 y el último \$6180. ¿Cuánto más ganó en cada año a contar del segundo año, que en el anterior?
- Las pérdidas de 5 años de una casa de comercio están en progresión aritmética. El último año perdió 3000 soles, y la pérdida de cada año fue de 300 soles menos que en el año anterior. ¿Cuánto perdió el primer año?
- Una piedra dejada caer libremente desde la azotea de un edificio recorre 16.1 pies en el primer segundo, y en cada segundo posterior recorre 32.2 pies más que en el segundo anterior. Si la piedra tarda 5 segundos en llegar al suelo, ¿cuál es la altura del edificio?
- Hallar la suma de los números impares del 51 al 813.
- El 5º término de una progresión aritmética es 31 y el 9º término 59. Hallar el 12º término.
- Las ganancias de 3 años de un almacén están en progresión aritmética. El primer año ganó 12500 colones y el tercero 20500. ¿Cuál fue la ganancia del 2º año?

## II. PROGRESIONES GEOMETRICAS

**471 PROGRESION GEOMETRICA** es toda serie en la cual cada término se obtiene multiplicando el anterior por una cantidad constante que es la razón.

## NOTACION

El signo de progresión geométrica es  $\Rightarrow$  y entre término y término se escribe :

Así,  $\Rightarrow 5 : 10 : 20 : 40 : \dots$  es una progresión geométrica en la cual la razón es 2. En efecto,  $5 \times 2 = 10$ ;  $10 \times 2 = 20$ ;  $20 \times 2 = 40$ , etc.

Una progresión geométrica es creciente cuando la razón es, en valor absoluto, mayor que uno, y es decreciente cuando la razón es, en valor absoluto, menor que uno, o sea, cuando la razón es una fracción propia. Así:

$$\Rightarrow 1 : 4 : 16 : 64 : \dots$$

es una progresión geométrica creciente cuya razón es 4, y

$$\Rightarrow 2 : 1 : \frac{1}{2} : \frac{1}{4} : \dots$$

es una progresión geométrica decreciente cuya razón es  $\frac{1}{2}$ .

Progresión geométrica finita es la que tiene un número limitado de términos e infinita la que tiene un número ilimitado de términos.

Así,  $\Rightarrow 2 : 4 : 8 : 16$  es una progresión finita porque consta de 4 términos, y  $\Rightarrow 4 : 2 : 1 : \frac{1}{2} : \dots$  es una progresión infinita porque consta de un número ilimitado de términos.

En toda progresión geométrica la razón se halla dividiendo un término cualquiera por el anterior.

**472 DEDUCCION DE LA FORMULA DEL TERMINO ENESIMO**

Sea la progresión

$$\Rightarrow a : b : c : d : e : \dots : u$$

en que la  $u$  es el término enésimo y cuya razón es  $r$ .

En toda progresión geométrica, cada término es igual al término anterior multiplicado por la razón; luego:

$$\begin{aligned} b &= ar \\ c &= br = (ar)r = ar^2 \\ d &= cr = (ar^2)r = ar^3 \\ e &= dr = (ar^3)r = ar^4 \dots \end{aligned}$$

Aquí vemos que un término cualquiera es igual al primero  $a$  multiplicado por la razón elevada a una potencia igual al número de términos que lo preceden.

Esta ley se cumple siempre; luego, como  $u$  es el término  $n$  y le preceden  $n - 1$  términos, tendremos:  $u = ar^{n-1}$



## Ejemplos

(1) Hallar el 5º término de  $\div 2:6:18\dots$ Aquí  $a=2$ ,  $n=5$ ,  $r=6\div 2=3$ , luego:

$$u = ar^{n-1} = 2 \times 3^{5-1} = 2 \times 3^4 = 162 \quad \text{R.}$$

(2) Hallar el 8º término de  $\div 6:4\dots$ Aquí  $a=6$ ,  $n=8$ ,  $r=\frac{4}{6}=\frac{2}{3}$ , luego:

$$u = ar^{n-1} = 6 \times \left(\frac{2}{3}\right)^7 = 6 \times \frac{128}{2187} = \frac{256}{729} \quad \text{R.}$$

(3) Hallar el 7º término de  $\div \frac{2}{3}; -\frac{1}{2}; \frac{3}{8}\dots$ La razón es:  $-\frac{1}{2} \div \frac{2}{3} = -\frac{1}{2} \times \frac{3}{2} = -\frac{3}{4}$ . Por tanto:

$$u = ar^{n-1} = \frac{2}{3} \times \left(-\frac{3}{4}\right)^6 = \frac{2}{3} \times \frac{729}{4096} = \frac{243}{2048} \quad \text{R.}$$

Cuando la razón es negativa, lo que sucede siempre que los términos de la progresión son alternativamente positivos y negativos, hay que tener cuidado con el signo que resulta de elevar la razón a la potencia  $n-1$ .

Si  $n-1$  es par dicho resultado tendrá signo  $+$  y si es impar, signo  $-$ .

## EJERCICIO 291

- Hallar el 7º término de  $\div 3:6:12\dots$
- Hallar el 8º término de  $\div \frac{1}{3}:1:3\dots$
- Hallar el 9º término de  $\div 8:4:2\dots$
- Hallar el 6º término de  $\div 1:\frac{2}{5}:\frac{4}{25}\dots$
- Hallar el 7º término de  $\div 3:2:\frac{4}{3}\dots$
- Hallar el 6º término de  $\div \frac{1}{2}:\frac{1}{3}\dots$
- Hallar el 8º término de  $\div 2\frac{1}{4}:3\dots$
- Hallar el 6º término de  $\div -3:6:-12\dots$
- Hallar el 9º término de  $\div 3:-1:\frac{1}{3}\dots$
- Hallar el 5º término de  $\div \frac{5}{9}:\frac{1}{2}\dots$
- Hallar el 8º término de  $\div 16:-4:1\dots$
- Hallar el 8º término de  $\div \frac{3}{4}:-\frac{1}{2}:\frac{1}{3}\dots$
- Hallar el 5º término de  $\div -\frac{3}{5}:\frac{3}{2}:-\frac{15}{4}\dots$
- Hallar el 10º término de  $\div -\frac{3}{4}:-\frac{1}{4}:-\frac{1}{12}\dots$

## 473 DEDUCCION DE LA FORMULA DEL PRIMER TERMINO Y DE LA RAZON

Hemos hallado que

$$u = ar^{n-1} \quad (1).$$

Despejando  $a$ , se tiene:  $a = \frac{u}{r^{n-1}}$ , que es la fórmula del primer término en una progresión geométrica.

Para hallar la razón. Despejando  $r^{n-1}$  en (1) se tiene

$$r^{n-1} = \frac{u}{a} \text{ y extrayendo la raíz } n-1, \text{ queda } r = \sqrt[n-1]{\frac{u}{a}},$$

que es la fórmula de la razón en una progresión geométrica.

## Ejemplos

(1) El 6º término de una progresión geométrica es  $\frac{1}{16}$  y la razón  $\frac{1}{2}$ . Hallar el primer término.Aquí  $u = \frac{1}{16}$ ,  $r = \frac{1}{2}$ ,  $n=6$ , luego

$$a = \frac{u}{r^{n-1}} = \frac{\frac{1}{16}}{\left(\frac{1}{2}\right)^5} = \frac{\frac{1}{16}}{\frac{1}{32}} = 2 \quad \text{R.}$$

(2) El 1er. término de una progresión geométrica es 3 y el 6º término  $-729$ . Hallar la razón.Aquí  $a=3$ ,  $u=-729$ ,  $n=6$ , luego:

$$r = \sqrt[n-1]{\frac{u}{a}} = \sqrt[5]{\frac{-729}{3}} = \sqrt[5]{-243} = -3 \quad \text{R.}$$

## EJERCICIO 292

- La razón de una progresión geométrica es  $\frac{1}{2}$  y el 7º término  $\frac{1}{64}$ . Hallar el primer término.
- El 9º término de una progresión geométrica es  $\frac{64}{2187}$  y la razón es  $\frac{2}{3}$ . Hallar el primer término.
- El 5º término de una progresión geométrica es  $\frac{16}{125}$  y el 6º término  $\frac{32}{625}$ . Hallar el 1er. término.
- Hallar la razón de  $\div 2: \dots : 64$  de 6 términos.
- Hallar la razón de  $\div \frac{1}{3}: \dots : 243$  de 7 términos.
- Hallar la razón de  $\div -5: \dots : 640$  de 8 términos.
- Hallar la razón de  $\div \frac{128}{3}: \dots : \frac{8}{3}$  de 6 términos.



8. Hallar la razón de  $\div 8 : \dots : \frac{1}{312}$  de 7 términos.
9. Hallar la razón de  $\div \frac{625}{16} : \dots : 1$  de 5 términos.
10. El 8º término de una progresión geométrica es  $-\frac{2}{81}$  y el 1º término es  $\frac{27}{64}$ . Hallar la razón.

**474** En toda progresión geométrica el producto de dos términos equidistantes de los extremos es igual al producto de los extremos.

Sea la progresión

$$\div a : \dots : m : \dots : p : \dots : u$$

donde entre  $a$  y  $m$  hay  $n$  términos y entre  $p$  y  $u$  también hay  $n$  términos. Entonces,  $m$  y  $p$  son equidistantes de los extremos. Vamos a probar que

$$mp = au.$$

En efecto: Se tiene (472) que:  $m = a \cdot r^{n+1}$   
 $u = p \cdot r^{n+1}$

Dividiendo estas igualdades, tenemos:

$$\frac{m}{u} = \frac{a}{p} \therefore mp = au$$

que era lo que queríamos demostrar.

#### OBSERVACION

De acuerdo con la demostración anterior, si una progresión geométrica tiene un número impar de términos, el **cuadrado del término medio equivale al producto de los extremos**.

Así, en la progresión  $\div 3 : 6 : 12 : 24 : 48$  tenemos  $12^2 = 144$  y  $3 \times 48 = 144$ .

#### **475** DEDUCCION DE LA FORMULA DE LA SUMA DE LOS TERMINOS DE UNA PROGRESION GEOMETRICA

Sea la progresión

$$\div a : b : c : d : \dots : u$$

cuya razón es  $r$ .

Designando por  $S$  la suma de todos sus términos, tendremos:

$$S = a + b + c + d + \dots + u. \quad (1).$$

Multiplicando los dos miembros de esta igualdad por la razón:

$$Sr = ar + br + cr + dr + \dots + ur. \quad (2).$$

Restando (1) de (2), tenemos:

$$\begin{aligned} Sr &= ar + br + cr + dr + \dots + ur \\ -S &= -a - b - c - d - \dots - u \\ \hline Sr - S &= ur - a \end{aligned}$$

$$Sr - S = ur - a$$

Al efectuar esta resta hay que tener presente que como cada término multiplicado por la razón da el siguiente,  $ar = b$  y esta  $b$  se anula con  $-b$ ;  $br = c$  y esta  $c$  se anula con  $-c$ ;  $cr = d$  y esta  $d$  se anula con  $-d$ , etc. Entonces, arriba queda  $ur$  y abajo  $-a$ , y de ahí resulta el 2º miembro de la resta  $ur - a$ .

Sacando  $S$  factor común en el primer miembro de la última igualdad, se tiene:

$$S(r - 1) = ur - a$$

y de aquí

$$S = \frac{ur - a}{r - 1}.$$

### Ejemplos

- (1) Hallar la suma de los 6 primeros términos de  $\div 4 : 2 : 1, \dots$ .  
 Hallemos el 6º término:

$$u = ar^{n-1} = 4 \times \left(\frac{1}{2}\right)^5 = 4 \times \frac{1}{32} = \frac{1}{8}.$$

Entonces, aplicando la fórmula de suma, tenemos:

$$S = \frac{ur - a}{r - 1} = \frac{\left(\frac{1}{8}\right)\left(\frac{1}{2}\right) - 4}{\frac{1}{2} - 1} = \frac{\frac{1}{16} - 4}{-\frac{1}{2}} = \frac{-\frac{63}{16}}{-\frac{1}{2}} = \frac{63}{8} = 7\frac{7}{8} \quad R.$$

- (2) Hallar la suma de los 8 primeros términos de  $\div 9 : -3 : 1, \dots$ .

Aquí la razón es  $r = -3 \div 9 = -\frac{1}{3}$ . Hallemos el 8º término:

$$u = ar^{n-1} = 9 \times \left(-\frac{1}{3}\right)^7 = 9 \times \left(-\frac{1}{2187}\right) = -\frac{1}{243}.$$

Aplicando la fórmula de suma, tenemos:

$$S = \frac{ur - a}{r - 1} = \frac{\left(-\frac{1}{243}\right)\left(-\frac{1}{3}\right) - 9}{-\frac{1}{3} - 1} = \frac{\frac{1}{729} - 9}{-\frac{4}{3}} = \frac{-\frac{6560}{729}}{-\frac{4}{3}} = \frac{1640}{243} = 6\frac{182}{243} \quad R.$$

### ➤ EJERCICIO 293

Hallar la suma de los:

- 5 primeros términos de  $\div 6 : 3 : 1\frac{1}{2}, \dots$
- 6 primeros términos de  $\div 4 : -8 : 16, \dots$
- 7 primeros términos de  $\div 12 : 4 : 1\frac{1}{3}, \dots$
- 10 primeros términos de  $\div \frac{1}{4} : \frac{1}{2} : 1, \dots$



5. 8 primeros términos de  $\ast 2\frac{1}{4} : 1\frac{1}{2} \dots$
6. 7 primeros términos de  $\ast -\frac{1}{10} : \frac{1}{5} : -\frac{2}{5} \dots$
7. 10 primeros términos de  $\ast -6 : -3 : -1\frac{1}{2} \dots$
8. 8 primeros términos de  $\ast 2 : -1 : \frac{1}{2} \dots$
9. 6 primeros términos de  $\ast \frac{3}{2} : 1 : \frac{2}{3} \dots$
10. 6 primeros términos de  $\ast 9 : -3 : 1 \dots$

**176 INTERPOLAR MEDIOS GEOMETRICOS** entre dos números es formar una progresión geométrica cuyos extremos sean los números dados.

### Ejemplo

Interpolare 4 medios geométricos entre 96 y 3.

Hay que formar una progresión geométrica cuyo primer término sea 96 y el último 3:

$$\ast 96 \dots \dots \dots 3. \quad (1)$$

Hay que hallar la razón. Como vamos a interpolar 4 medios y ya tenemos los dos extremos,  $n = 6$ , luego:

$$r = \sqrt[n-1]{\frac{u}{a}} = \sqrt[5]{\frac{3}{96}} = \sqrt[5]{\frac{1}{32}} = \frac{1}{2}.$$

Si la razón es  $\frac{1}{2}$  multiplicando 96 por  $\frac{1}{2}$  tendremos el 2º término; éste, multiplicado por  $\frac{1}{2}$  dará el 3er. término y así sucesivamente. Tenemos:

$$96 \times \frac{1}{2} = 48$$

$$48 \times \frac{1}{2} = 24$$

$$24 \times \frac{1}{2} = 12$$

$$12 \times \frac{1}{2} = 6$$

Interpolando en (1), tenemos la progresión

$$\ast 96 : 48 : 24 : 12 : 6 : 3.$$

#### NOTA

Puede aplicarse también en este caso, para hallar la razón, la fórmula

$$r = \sqrt[n-1]{\frac{u}{a}}$$

en que  $n$  es el número de medios que se interpolan.

### EJERCICIO 294

Interpolare:

1. 3 medios geométricos entre 5 y 3125.
2. 4 medios geométricos entre -7 y -224.
3. 5 medios geométricos entre 128 y 2.
4. 4 medios geométricos entre  $4\frac{1}{2}$  y  $\frac{16}{27}$ .
5. 6 medios geométricos entre 2 y  $34\frac{31}{64}$ .
6. 4 medios geométricos entre  $\frac{4}{9}$  y  $\frac{27}{256}$ .
7. 7 medios geométricos entre 8 y  $\frac{1}{32}$ .

### 477 SUMA DE UNA PROGRESION GEOMETRICA DECRECIENTE INFINITA

Si en la fórmula  $S = \frac{ur - a}{r - 1}$  sustituimos  $u$  por su valor  $u = ar^{n-1}$ , tendremos:

$$S = \frac{ur - a}{r - 1} = \frac{(ar^{n-1})r - a}{r - 1} = \frac{ar^n - a}{r - 1}$$

y cambiando los signos a los dos términos de esta última fracción, tenemos:

$$S = \frac{a - ar^n}{1 - r} \quad (1)$$

En una progresión geométrica decreciente la razón es una fracción propia, y si una fracción propia se eleva a una potencia, cuanto mayor sea el exponente, menor es la potencia de la fracción. Por tanto, cuanto mayor sea  $n$ , menor es  $r^n$  y menor será  $ar^n$ ; siendo  $n$  suficientemente grande,  $ar^n$  será tan pequeña como queramos, o sea, que cuando  $n$  aumenta indefinidamente,  $ar^n$  tiende al límite 0 y por tanto  $\frac{a - ar^n}{1 - r}$ , o sea  $S$ , tiende al límite  $\frac{a}{1 - r}$ . Esto se expresa brevemente diciendo que cuando  $n$ , el número de términos de la progresión, es infinito, el valor de la suma es

$$S = \frac{a}{1 - r}.$$

### Ejemplos

(1) Hallar la suma de la progresión  $\ast 4 : 2 : 1 \dots$

Aquí  $a = 4$ ,  $r = \frac{1}{2}$ , luego.

$$S = \frac{a}{1 - r} = \frac{4}{1 - \frac{1}{2}} = \frac{4}{\frac{1}{2}} = 8.$$

8 es el límite al cual tiende la suma. La suma nunca llega a ser igual a 8, pero cuanto mayor sea el número de términos que se tomen más se aproximará a 8.



(2) Hallar la suma de la progresión infinita  $5, -\frac{8}{2}, \frac{9}{20}, \dots$

Aquí  $a = 5$ ,  $r = -\frac{3}{10}$  luego:

$$S = \frac{a}{1-r} = \frac{5}{1 - (-\frac{3}{10})} = \frac{5}{1 + \frac{3}{10}} = \frac{5}{\frac{13}{10}} = \frac{50}{13} = 3\frac{12}{13}$$

$3\frac{12}{13}$  es el límite de la suma. R.

### ● EJERCICIO 295

Hallar la suma de las progresiones infinitas:

1.  $2; \frac{1}{2}; \frac{1}{6}, \dots$
2.  $\frac{1}{2}; \frac{1}{6}; \frac{1}{18}, \dots$
3.  $-5; -2; -\frac{4}{5}, \dots$
4.  $-4; -\frac{8}{3}; -\frac{16}{9}, \dots$
5.  $\frac{8}{4}; \frac{1}{4}; \frac{1}{12}, \dots$
6.  $\frac{1}{6}; \frac{1}{7}; \frac{6}{49}, \dots$
7.  $2; -\frac{2}{5}; \frac{2}{25}, \dots$
8.  $-14; -6; -\frac{28}{7}, \dots$

### 478 HALLAR EL VALOR DE UNA FRACCIÓN DECIMAL PERIODICA

Una fracción decimal periódica es la suma de una progresión geométrica decreciente infinita y su valor (su generatriz) puede hallarse por el procedimiento anterior.

#### Ejemplos

(1) Hallar el valor de  $0.333, \dots$

$$0.333, \dots = \frac{3}{10} + \frac{3}{100} + \frac{3}{1000} + \dots$$

Esta es la suma de una progresión geométrica al infinito cuya razón es  $\frac{1}{10}$ .

Tendremos:

$$S = \frac{a}{1-r} = \frac{\frac{3}{10}}{1 - \frac{1}{10}} = \frac{\frac{3}{10}}{\frac{9}{10}} = \frac{3}{9} = \frac{1}{3} \text{ R.}$$

$\frac{1}{3}$  es el valor de la fracción  $0.333, \dots$

(2) Hallar el valor de  $0.31515, \dots$

$$0.31515, \dots = \frac{3}{10} + \frac{15}{1000} + \frac{15}{100000} + \dots$$

Después de  $\frac{3}{10}$  en el segundo miembro tenemos la suma de una progresión geométrica al infinito cuya razón es  $\frac{1}{100}$ , luego:

$$S = \frac{a}{1-r} = \frac{\frac{15}{1000}}{1 - \frac{1}{100}} = \frac{\frac{15}{1000}}{\frac{99}{100}} = \frac{1}{66}$$

Entonces, sumando  $\frac{8}{10}$  con  $\frac{1}{66}$ , tenemos:

$$0.31515, \dots = \frac{3}{10} + \frac{1}{66} = \frac{52}{165} \text{ R.}$$

### ● EJERCICIO 296


Hallar por la suma al infinito, el valor de las fracciones decimales:

1.  $0.666, \dots$
2.  $0.1212, \dots$
3.  $0.159159, \dots$
4.  $0.3232, \dots$
5.  $0.144144, \dots$
6.  $0.3555, \dots$
7.  $0.18111, \dots$
8.  $0.31818, \dots$
9.  $2.1818, \dots$

### ● EJERCICIO 297

1. El lunes gané 2 lempiras y cada día después gané el doble de lo que gané el anterior. ¿Cuánto gané el sábado y cuánto de lunes a sábado?
2. Un dentista arregla 20 piezas a una persona cobrándole un centavo por la primera, 2 cts. por la segunda, 4 cts. por la tercera, 8 cts. por la cuarta, y así sucesivamente. ¿Cuáles serán los honorarios del dentista?
3. Un hombre jugó durante 8 días y cada día ganó  $\frac{1}{2}$  de lo que ganó el día anterior. Si el 8º día ganó 1 balboa, ¿cuánto ganó el 1º día?
4. El producto del 3º y el 7º término de una progresión geométrica de 9 términos es  $\frac{1}{216}$ . ¿Cuál es el producto del 1º término por el último?
5. En una progresión geométrica de 5 términos el cuadrado del 3º término es  $\frac{4}{81}$ . Si el último término es  $\frac{8}{81}$ , ¿cuál es el primero?
6. El 4º término de una progresión geométrica es  $\frac{1}{4}$  y el 7º término  $\frac{1}{82}$ . Hallar el 6º término.
7. Un hombre que ahorra cada año los  $\frac{2}{3}$  de lo que ahorró el año anterior, ahorró el 5º año \$160. ¿Cuánto ha ahorrado en los 5 años?
8. La población de una ciudad ha aumentado en progresión geométrica de 59049 almas que era en 1953 a 100000 almas en 1958. ¿Cuál es la razón de crecimiento por año?
9. Una persona ha ganado en cada año  $\frac{1}{8}$  de lo que ganó el año anterior. Si el 1º año ganó 24300 bolívares, ¿cuánto ha ganado en 6 años?
10. Se compra una finca de 2000 hectáreas a pagar en 15 años de este modo: \$1 el 1º año, \$3 el 2º año, \$9 el 3º año, y así sucesivamente. ¿Cuál es el importe de la finca?





**PLANCK (1858-1947)** Matemático y físico. Recibió el Premio Nobel de Física de 1918. Sus estudios se desarrollaron alrededor de las relaciones entre el calor y la energía. Llevó a cabo la unificación maravillosamente la Física y la Matemática. Alemania creó el Instituto de Física Max Planck.

## CAPITULO XXXVIII

### LOGARITMOS

**479 LOGARITMO** de un número es el exponente a que hay que elevar otro número llamado base para obtener el número dado. Así,

$$\begin{aligned} 5^0 &= 1 \\ 5^1 &= 5 \\ 5^2 &= 25 \\ 5^3 &= 125, \text{ etc.} \end{aligned}$$

luego, siendo la base 5, el logaritmo de 1 (que se escribe  $\log 1$ ) es 0, porque 0 es el exponente a que hay que elevar la base 5 para que dé 1; el  $\log 5$  es 1; el  $\log 25$  es 2, el  $\log 125$  es 3, etc.

#### 480 BASE

Cualquier número positivo se puede tomar como base de un sistema de logaritmos.

#### 481 SISTEMAS DE LOGARITMOS

Pudiendo tomarse como base de un sistema de logaritmos cualquier número positivo, el número de sistemas es ilimitado. No obstante, los sistemas usados generalmente son dos: el sistema de logaritmos vulgares o de

KIEL

Briggs, cuya base es 10, y el sistema de logaritmos naturales o neperianos creados por Neper, cuya base es el número inconmensurable

$$e = 2.71828182845 \dots$$

### PROPIEDADES GENERALES DE LOS LOGARITMOS

**482** Son de importancia las siguientes propiedades de los logaritmos:

1) La base de un sistema de logaritmos no puede ser negativa, porque si fuera negativa, sus potencias pares serían positivas y las impares negativas, y tendríamos una serie de números alternativamente positivos y negativos, y por tanto, habría números positivos que no tendrían logaritmo.

2) Los números negativos no tienen logaritmo porque siendo la base positiva, todas sus potencias, ya sean pares o impares, son positivas y nunca negativas.

3) En todo sistema de logaritmos, el logaritmo de la base es 1, porque siendo  $b$  la base, tendremos:

$$b^1 = b \therefore \log b = 1$$

4) En todo sistema el logaritmo de 1 es cero, porque siendo  $b$  la base, tendremos:

$$b^0 = 1 \therefore \log 1 = 0$$

5) Los números mayores que 1 tienen logaritmo positivo porque siendo  $\log 1 = 0$ , los logaritmos de los números mayores que 1 serán mayores que cero; luego, serán positivos.

6) Los números menores que 1 tienen logaritmo negativo porque siendo  $\log 1 = 0$ , los logaritmos de los números menores que 1 serán menores que cero; luego, serán negativos.

#### 483 LOGARITMO DE UN PRODUCTO

El logaritmo de un producto es igual a la suma de los logaritmos de los factores.

Sean  $A$  y  $B$  los factores. Sea  $x = \log A$  e  $y = \log B$  y sea  $b$  la base del sistema.

Vamos a probar que

$$\log (A \times B) = \log A + \log B.$$

En efecto: Que  $x$  es el log de  $A$  significa que  $x$  es el exponente a que hay que elevar la base  $b$  para que dé  $A$ , y que  $y$  es el log de  $B$  significa que  $y$  es el exponente a que hay que elevar la base  $b$  para que dé  $B$ ; luego, tenemos:

$$\begin{aligned} b^x &= A \\ b^y &= B \end{aligned}$$

Multiplicando estas igualdades, tenemos:

$$b^{x+y} = A \times B.$$



Ahora bien: Si  $x+y$  es el exponente a que hay que elevar la base  $b$  para que dé  $A \times B$ ,  $x+y$  es el logaritmo de  $A \times B$ ; luego,

$$\log(A \times B) = x + y$$

pero  $x = \log A$  e  $y = \log B$ ; luego,

$$\log(A \times B) = \log A + \log B.$$

#### 484 LOGARITMO DE UN COCIENTE

El logaritmo de un cociente es igual al logaritmo del dividendo menos el logaritmo del divisor.

Sea  $A$  el dividendo,  $B$  el divisor,  $x = \log A$ ,  $y = \log B$  siendo  $b$  la base del sistema. Vamos a probar que

$$\log \frac{A}{B} = \log A - \log B.$$

En efecto:  $b^x = A$ ,  
 $b^y = B$ .

Dividiendo miembro a miembro estas igualdades, tenemos:

$$\frac{b^x}{b^y} = \frac{A}{B}.$$

Ahora bien: Si  $x-y$  es el exponente a que hay que elevar la base para que dé  $\frac{A}{B}$ ,  $x-y$  es el log de  $\frac{A}{B}$ ; luego,

$$\log \frac{A}{B} = x - y,$$

o sea:  $\log \frac{A}{B} = \log A - \log B$ .

#### 485 LOGARITMO DE UNA POTENCIA

El logaritmo de una potencia es igual al exponente multiplicado por el logaritmo de la base.

Sea  $x = \log A$  y  $b$  la base del sistema. Vamos a demostrar que

$$\log A^n = n(\log A).$$

En efecto, siendo  $x$  el log  $A$ , tenemos:

$$b^x = A.$$

Elevando ambos miembros a la potencia  $n$ , tenemos:

$$b^{nx} = A^n.$$

Ahora bien: Si  $nx$  es el exponente a que hay que elevar la base para que dé  $A^n$ ,  $nx$  es el log de  $A^n$ ; luego, y como  $x = \log A$ , se tiene:

$$\log A^n = nx$$

$$\log A^n = n(\log A).$$

#### 486 LOGARITMO DE UNA RAIZ

El logaritmo de una raíz es igual al logaritmo de la cantidad subradical dividido entre el índice de la raíz.

Sea  $x = \log A$  y  $b$  la base del sistema. Vamos a probar que

$$\log \sqrt[n]{A} = \frac{\log A}{n}.$$

En efecto: Siendo  $x$  el log  $A$ , se tiene:

Extrayendo la raíz  $n$ -ésima a ambos miembros, tenemos:

o sea,

Ahora bien: Si  $\frac{x}{n}$  es el exponente a que hay que elevar la base para que dé  $\sqrt[n]{A}$ ,  $\frac{x}{n}$  es el log de  $\sqrt[n]{A}$ , luego,

y como  $x = \log A$ , queda:

$$\log \sqrt[n]{A} = \frac{\log A}{n}$$

### LOGARITMOS VULGARES

487 Los logaritmos que usaremos en este curso elemental son los logaritmos vulgares cuya base es 10.

#### 488 PROPIEDADES PARTICULARES DE LOS LOGARITMOS VULGARES

Observando la progresión

$$10^0 = 1$$

$$10^1 = 10$$

$$10^2 = 100$$

$$10^3 = 1000$$

$$10^4 = 10000, \text{ etc.}$$

$$10^{-1} = \frac{1}{10} = 0.1$$

$$10^{-2} = \frac{1}{10^2} = 0.01$$

$$10^{-3} = \frac{1}{10^3} = 0.001$$

$$10^{-4} = \frac{1}{10^4} = 0.0001, \text{ etc.}$$

se deducen fácilmente las siguientes propiedades de los logaritmos de base 10:

1) En este sistema, los únicos números cuyos logaritmos son números enteros son las potencias de 10. Así,

$$\log 1 = 0$$

$$\log 10 = 1$$

$$\log 100 = 2$$

$$\log 1000 = 3$$

$$\log 10000 = 4, \text{ etc.}$$

$$\log 0.1 = -1.$$

$$\log 0.01 = -2.$$

$$\log 0.001 = -3.$$

$$\log 0.0001 = -4, \text{ etc.}$$



2) El log de todo número que no sea una potencia de 10 no es un número entero, sino una fracción propia o un número entero más una fracción propia.

En efecto: Como  $\log 1 = 0$  y  $\log 10 = 1$ , los números comprendidos entre 1 y 10 tendrán un log mayor que 0 y menor que 1; luego, su log será una fracción propia.

Así,  $\log 2 = 0.301030$ .

Como  $\log 10 = 1$  y  $\log 100 = 2$ , los números comprendidos entre 10 y 100 tendrán un log mayor que 1 y menor que 2; luego, su log será 1 más una fracción propia.

Así,  $\log 15 = 1 + 0.176091 = 1.176091$ .

Como  $\log 100 = 2$  y  $\log 1000 = 3$ , los números comprendidos entre 100 y 1000 tendrán un log mayor que 2 y menor que 3; luego, su log será 2 más una fracción propia.

Así,  $\log 564 = 2 + 0.751279 = 2.751279$ .

El logaritmo de un número comprendido entre 1000 y 10000 será 3 más una fracción propia.

Así,  $\log 1234 = 3 + 0.091315 = 3.091315$ .

Del propio modo, como  $\log 1 = 0$  y  $\log 0.1 = -1$ , los números comprendidos entre 1 y 0.1 tendrán un logaritmo mayor que -1 y menor que cero; luego, su logaritmo será -1 más una fracción propia. Así,  $\log 0.5 = -1 + 0.698970 = \bar{1}.698970$ . (Se pone el signo - encima de 1 para indicar que lo que es negativa es la parte entera, pero no la parte decimal).

Como  $\log 0.1 = -1$  y  $\log 0.01 = -2$ , los números comprendidos entre 0.1 y 0.01 tendrán un log mayor que -2 y menor que -1; luego, su log será -2 más una fracción propia.

Así,  $\log 0.08 = -2 + 0.903090 = \bar{2}.903090$ .

El log de un número comprendido entre 0.01 y 0.001 será mayor que -3 y menor que -2; luego, será -3 más una fracción propia; el log de un número comprendido entre 0.001 y 0.0001 será mayor que -4 y menor que -3; luego, será -4 más una fracción propia, etc.

#### 489 CARACTERÍSTICA Y MANTISA

Acabamos de ver que el log de todo número que no sea una potencia de 10 consta de una parte entera y una parte decimal. La parte entera se llama característica, y la parte decimal, mantisa.

Así,

en log 25 = 1.397940 la característica es 1 y la mantisa 0.397940;

en log 4125 = 3.615424 la característica es 3 y la mantisa 0.615424;

en log 0.05 =  $\bar{2}.698970$  la característica es  $\bar{2}$  y la mantisa 0.698970

La mantisa siempre es positiva, pero la característica puede ser cero si el número está comprendido entre 1 y 10; positiva, si el número es mayor que 10 o negativa si el número es menor que 1.

Las potencias de 10 sólo tienen característica; su mantisa es 0.

#### 490 VALOR DE LA CARACTERÍSTICA

En virtud de lo anterior, podemos decir que:

1) La característica del logaritmo de un número comprendido entre 1 y 10 es cero.

2) La característica del logaritmo de un número mayor que 10 es positiva y su valor absoluto es 1 menos que el número de cifras enteras del número. Así, 84 tiene dos cifras enteras y la característica de su log es 1; 512 tiene tres cifras enteras y la característica de su log es 2; 1215.65 tiene cuatro cifras enteras y la característica de su log es 3.

3) La característica de un número menor que 1 es negativa y su valor absoluto es 1 más que el número de ceros que hay entre el punto decimal y la primera cifra significativa decimal.

Así, la característica de  $\log 0.5$  es -1; la de  $\log 0.07$  es -2; la de  $\log 0.0035$  es -3, etc.

#### 491 CARACTERÍSTICAS NEGATIVAS

En el log de un número menor que 1 la característica es negativa, pero la mantisa es positiva.

Así,  $\log 0.5 = -1 + 0.698970$ . Este log no puede escribirse  $-1.698970$ , pues esto indica que tanto la característica como la mantisa son negativas. El modo correcto de escribirlo, indicando que sólo la característica es negativa, es  $\bar{1}.698970$ .

Del propio modo,  $\log 0.03 = \bar{2} + 0.477121 = \bar{2}.477121$ .

#### 492 COLOGARITMO. SU USO

Se llama cologaritmo de un número al logaritmo de su inverso.

Así, el cologaritmo de 2 es el logaritmo de  $\frac{1}{2}$ ; el cologaritmo de 54 es el logaritmo de  $\frac{1}{54}$ .

En general,  $\text{colog } x = \log \frac{1}{x}$  y como el log de un cociente es igual al log del dividendo menos el log del divisor, tendremos:

$$\text{colog } x = \log \frac{1}{x} = \log 1 - \log x = 0 - \log x = -\log x$$

luego, queda  $\text{colog } x = -\log x$ , o sea,  $-\log x = \text{colog } x$

lo que nos dice que restar el log de un número equivale a sumar el cologaritmo del mismo número.







(2) Hallar el valor de  $\frac{100.39 \times 0.03196}{7.14 \times 0.093}$  por log.

$$\begin{aligned}\log\left(\frac{100.39 \times 0.03196}{7.14 \times 0.093}\right) &= \log(100.39 \times 0.03196) - \log(7.14 \times 0.093) \\ &= \log 100.39 + \log 0.03196 - (\log 7.14 + \log 0.093) \\ &= \log 100.39 + \log 0.03196 - \log 7.14 - \log 0.093 \\ &= \log 100.39 + \log 0.03196 + \text{colog } 7.14 + \text{colog } 0.093 \\ &= 2.001690 + 2.504607 + 1.146302 + 1.031517 \\ &= 0.684116.\end{aligned}$$

Este log corresponde al número 4.831877. R.

(3) Hallar el valor de  $3^{\frac{2}{5}} \times 5^{\frac{2}{3}}$  por log.

$$\begin{aligned}\log\left(3^{\frac{2}{5}} \times 5^{\frac{2}{3}}\right) &= \log 3^{\frac{2}{5}} + \log 5^{\frac{2}{3}} \\ &= \frac{2}{5}(\log 3) + \frac{2}{3}(\log 5) \\ &= \frac{2}{5}(0.477121) + \frac{2}{3}(0.698970) \\ &= 0.190848 + 0.465980 \\ &= 0.656828.\end{aligned}$$

Este log corresponde al número 4.5376 luego  $3^{\frac{2}{5}} \times 5^{\frac{2}{3}} = 4.5376$ . R

(4) Hallar el valor de  $\sqrt[3]{\frac{32.7 \times 0.006}{0.14 \times 89.17}}$  por log.

$$\begin{aligned}\log \sqrt[3]{\frac{32.7 \times 0.006}{0.14 \times 89.17}} &= \frac{\log\left(\frac{32.7 \times 0.006}{0.14 \times 89.17}\right)}{3} \\ &= \frac{\log 32.7 + \log 0.006 + \text{colog } 0.14 + \text{colog } 89.17}{3} \\ &= \frac{1.514548 + 3.778151 + 0.853872 + 2.049781}{3} \\ &= \frac{2.196352}{3} = 0.732117.\end{aligned}$$

El número que corresponde a 0.732117 es 0.25048 y este es el valor de la expresión dada. R.

#### NOTA

Dados los conocimientos que posee el alumno, sólo puede hallar por logaritmos el valor de expresiones en que las operaciones indicadas son productos, cocientes, potencias y raíces pero no sumas o restas.

#### EJERCICIO 299

Hallar por log el valor de las expresiones siguientes:

- $\frac{515 \times 78.19}{6.13}$
- $\frac{23.054 \times 934.5}{8164}$
- $\frac{8.14 \times 9.73}{0.6 \times 7.8}$
- $\frac{513.4 \times 9.132}{85.3 \times 10.764}$
- $\frac{53.245 \times 4325.6}{32.815 \times 91.79}$
- $\frac{32.6 \times (-841.9)}{0.017 \times 732.14}$
- $\frac{95.36 \times (-0.14)}{(-83.7) \times 2.936}$
- $\frac{(-7.2) \times (-8.135)}{(-0.003) \times 9134.7}$
- $3^5 \times 0.2^4$
- $\frac{1}{5^2} \times 3^{\frac{2}{3}}$
- $\frac{1}{2^5} \times 3^{\frac{1}{2}} \times 5^{\frac{3}{4}}$
- $\frac{3^8}{5.6^9}$
- $\frac{0.53^7}{2.5^3}$
- $\frac{2}{3^{\frac{2}{5}}}$
- $\frac{2}{2^{\frac{2}{3}}}$
- $\sqrt{7.86 \times 8.14}$
- $\sqrt{932.5 \times 813.6 \times 0.005}$
- $\sqrt{\frac{93.7 \times 104.2}{8.35 \times 7.3}}$
- $\sqrt[3]{23.725 \times (-9.182) \times 7.184}$
- $\sqrt[4]{\frac{12316 \times 0.25}{931.8 \times 0.07}}$
- $\sqrt[5]{\frac{56813}{22117}}$
- $\left(\frac{0.0316}{0.1615}\right)^{\frac{3}{2}}$
- $\frac{3^{\frac{8}{5}}}{\frac{2}{5^{\frac{2}{3}}}}$
- $\sqrt[7]{\frac{15}{4}}$
- $\sqrt[5]{-\frac{5}{3}}$
- $\left(\frac{5}{8}\right)^{\frac{6}{5}}$
- $\sqrt{\frac{3}{5}} \times \sqrt[3]{\frac{5}{7}}$
- $\sqrt[3]{2} \times \sqrt[4]{3} \times \sqrt[5]{0.2}$
- $\frac{\sqrt{32.14} \times \sqrt[3]{59.3}}{\sqrt[4]{317.6}}$
- $\sqrt{\frac{(0.75)^2 \times 39.162}{0.07 \times 3.89}}$
- $\sqrt{\frac{(0.2)^3 \times (0.3)^4}{(0.05)^4 \times 3.25}}$

#### 496 DADOS LOS LOGARITMOS DE CIERTOS NUMEROS, HALLAR EL LOGARITMO DE OTRO SIN USAR LA TABLA

##### Ejemplos

(1) Dados  $\log 2 = 0.301030$  y  $\log 3 = 0.477121$  hallar  $\log 108$  sin usar la tabla.

Tenemos:

$$\begin{aligned}108 &= 2^3 \times 3^3 \\ \log 108 &= 2(\log 2) + 3(\log 3) \\ &= 2(0.301030) + 3(0.477121) \\ &= 0.602060 + 1.431363 \\ &= 2.033423. \text{ R.}\end{aligned}$$

Si se busca en la tabla  $\log 108$  se encuentra 2.033424. La diferencia entre este log y el que hemos hallado sin usar la tabla obedece a que los logaritmos dados de 2 y 3 no son rigurosamente exactos.



(2) Dado  $\log 115 = 2.060698$  y  $\log 5 = 0.698970$  hallar  $\log 23$ .

$$23 = \frac{115}{5}$$

$$\begin{aligned}\log 23 &= \log 115 + \text{colog } 5 \\ &= 2.060698 + \overline{1.301030} \\ &= 1.361728. \text{ R.}\end{aligned}$$

### ● EJERCICIO 300

Dados  $\log 2 = 0.301030$ ,  $\log 3 = 0.477121$ ,  $\log 5 = 0.698970$ ,  $\log 7 = 0.845098$ , hallar:

- |                |                   |                    |                           |
|----------------|-------------------|--------------------|---------------------------|
| 1. $\log 36$ . | 5. $\log 120$ .   | 9. $\log 1.96$ .   | 13. $\log 2\frac{1}{2}$ . |
| 2. $\log 75$ . | 6. $\log 98$ .    | 10. $\log 0.875$ . | 14. $\log 1\frac{1}{2}$ . |
| 3. $\log 30$ . | 7. $\log 0.343$ . | 11. $\log 202.5$ . | 15. $\log 1\frac{3}{4}$ . |
| 4. $\log 48$ . | 8. $\log 22.5$ .  | 12. $\log 44.8$ .  | 16. $\log 2\frac{1}{4}$ . |

17. Dado  $\log 143 = 2.155336$  y  $\log 11 = 1.041393$  hallar  $\log 13$ .

18. Dado  $\log 225 = 2.352183$  y  $\log 9 = 0.954243$  hallar  $\log 25$ .

**497 ECUACIONES EXPONENCIALES** son ecuaciones en que la incógnita es exponente de una cantidad.

Para resolver ecuaciones exponenciales, se aplican logaritmos a los dos miembros de la ecuación y se despeja la incógnita.

### Ejemplos

(1) Resolver la ecuación  $3^x = 60$ .

Aplicando logaritmos, tenemos:

$$x(\log 3) = \log 60$$

$$x = \frac{\log 60}{\log 3} = \frac{1.778151}{0.477121} = 3.72. \text{ R.}$$

(2) Resolver la ecuación  $5^{2x-1} = 125$ .

Aplicando logaritmos:

$$(2x-1)\log 5 = \log 125$$

$$2x-1 = \frac{\log 125}{\log 5}$$

$$2x = \frac{\log 125}{\log 5} + 1$$

$$x = \frac{\frac{\log 125}{\log 5} + 1}{2}$$

$$x = \frac{\frac{2.096910}{0.698970} + 1}{2} = \frac{3+1}{2} = 2. \text{ R.}$$

### ● EJERCICIO 301

Resolver las ecuaciones:

- |                       |                      |                        |
|-----------------------|----------------------|------------------------|
| 1. $5^x = 3$ .        | 4. $9^x = 0.576$ .   | 7. $2^{3x-1} = 128$ .  |
| 2. $7^x = 512$ .      | 5. $3^{x+1} = 729$ . | 8. $3^{2x-1} = 2187$ . |
| 3. $0.2^x = 0.0016$ . | 6. $5^{x-2} = 625$ . | 9. $11^{2x} = 915$ .   |

### 498 DEDUCIR LA FORMULA PARA HALLAR EL NUMERO DE TERMINOS DE UNA PROGRESION GEOMETRICA

Conocemos la fórmula

$$u = ar^{n-1}$$

Siendo  $n$  la incógnita, tenemos una ecuación exponencial. Aplicando logaritmos a los dos miembros, tenemos:

$$\log u = \log a + (n-1)\log r$$

$$\begin{aligned}\log u - \log a &= (n-1)\log r \\ n-1 &= \frac{\log u - \log a}{\log r}\end{aligned}$$

$$n = \frac{\log u - \log a}{\log r} + 1$$

$$n = \frac{\log u + \text{colog } a}{\log r} + 1$$

o también

### Ejemplo

¿Cuántos términos tiene la progresión  $+2; 6; \dots; 1458$ ?

Aquí  $u = 1458$ ,  $a = 2$ ,  $r = 3$ , luego aplicando la fórmula anterior, tenemos:


$$\begin{aligned}n &= \frac{\log 1458 + \text{colog } 2}{\log 3} + 1 = \frac{3.163758 + \overline{1.698970}}{0.477121} + 1 \\ &= \frac{2.862728}{0.477121} + 1 \\ &= 6 + 1 = 7. \text{ R.}\end{aligned}$$

### ● EJERCICIO 302

Hallar el número de términos de las progresiones:

- |                                      |                                     |                          |
|--------------------------------------|-------------------------------------|--------------------------|
| 1. $+3; 6; \dots; 48$ .              | 2. $+2; 3; \dots; \frac{243}{10}$ . | 3. $+4; 8; \dots; 512$ . |
| 4. $+6; 8; \dots; \frac{2048}{81}$ . | 5. $+2; 5; \dots; \frac{625}{8}$ .  |                          |





ALBERT EINSTEIN (1879-1955) Matemático y físico alemán. Fue Profesor del Instituto Politécnico y Universidad de Zurich, Director de la Sección de Física del Instituto Imperial Guillermo. Recibió en 1921 el Premio Nobel de Física por sus trabajos

acerca de la Teoría de la Relatividad del Tiempo, que modifica la Teoría de la Gravitación Universal de Newton. Trabajando con otros científicos de diversas nacionalidades en la Universidad de Princeton, logró la desintegración del átomo, base de la bomba atómica.

## CAPITULO XXXIX

### INTERES COMPUESTO. AMORTIZACIONES. IMPOSICIONES

#### 499 INTERES COMPUESTO

El interés es **compuesto** cuando los intereses que gana el capital prestado se **capitalizan periódicamente**, es decir, se suman al capital prestado a intervalos iguales de tiempo, constituyéndose de ese modo un nuevo capital al final de cada unidad de tiempo.

#### 500 DEDUCCION DE LA FORMULA FUNDAMENTAL Y DERIVADAS

Sea  $c$  el capital prestado a interés compuesto durante  $t$  años, siendo  $r$  el tanto por uno anual, o sea, lo que gana \$1 al año.

Cada peso gana  $r$  al año; luego, en un año se convierte en  $1+r$  y  $c$  pesos se convertirán, al cabo de un año, en  $c(1+r)$ .

Cada peso de este nuevo capital, en el segundo año, se convierte en  $1+r$ ; luego, los  $c(1+r)$  pesos, al final del segundo año, se habrán convertido en  $c(1+r)(1+r) = c(1+r)^2$ .

Aplicando a este nuevo capital la misma regla, tendremos que al final del 3er. año se habrá convertido en  $c(1+r)^2(1+r) = c(1+r)^3$ .

Este nuevo capital, al final del 4o. año, se habrá convertido en

$$c(1+r)^3(1+r) = c(1+r)^4,$$

y así sucesivamente; luego, al final de  $t$  años, el capital se habrá convertido en

$$c(1+r)^t,$$

y designándolo por  $C$ , tendremos que

$$C = c(1+r)^t \quad (1)$$

fórmula fundamental del interés compuesto.

Esta fórmula es calculable por logaritmos. Aplicando logaritmos, tenemos:

$$\log C = \log c + t \log(1+r).$$

#### FORMULAS DERIVADAS

La ecuación (1) nos da una relación entre cuatro cantidades; conociendo tres de ellas, podemos hallar la cuarta.

Despejando  $c$  en (1), se tiene:

$$c = \frac{C}{(1+r)^t},$$

y aplicando logaritmos:  $\log c = \log C - t \log(1+r)$ ,

$t$  puede despejarse en esta última fórmula. Pasando  $-t \log(1+r)$  al primer miembro y  $\log c$  al segundo, se tiene:

$$t \log(1+r) = \log C - \log c,$$

y de aquí:

$$t = \frac{\log C - \log c}{\log(1+r)}$$

Para hallar  $r$ . En la fórmula (1), despejando  $(1+r)^t$ , se tiene:  $(1+r)^t = \frac{C}{c}$ .

Extrayendo la raíz  $t$ :  $1+r = \sqrt[t]{\frac{C}{c}}$ .

y aplicando logaritmos:  $\log(1+r) = \frac{\log C - \log c}{t}$ .

Hallado el valor de  $1+r$ , se le resta 1 y se tiene  $r$ .

### Ejemplos

(1) ¿En cuánto se convertirán \$5800 al 5% anual de interés compuesto en 7 años?

Hay que tener presente que  $r$  representa el tanto por 1, lo que gana \$1 en la unidad de tiempo. Que el tanto por ciento es el 5 anual significa que \$100 ganan \$5 al año, luego \$1 ganará  $\frac{5}{100} = \$0.05$ . Por tanto, aquí:

$$c = 5800, \quad r = 0.05, \quad t = 7.$$



Sustituyendo estos valores en la fórmula  $C = c(1+r)^t$ , se tiene:

$$C = 5800(1 + 0.05)^7$$

$$\text{o sea } C = 5800(1.05)^7$$

Aplicando logaritmos:

$$\begin{aligned}\log C &= \log 5800 + 7(\log 1.05) \\ &= 3.763428 + 7(0.021189) \\ &= 3.763428 + 0.148323 \\ &= 3.911751.\end{aligned}$$

Hallando el número a que corresponde este log se encuentra que es 8161.148, o sea 8161.15; luego el capital prestado se convertirá en \$8161.15. R.

- (2) ¿En cuánto se convertirán \$918.54 al 4% anual de interés compuesto en 1 año, capitalizando los intereses por trimestres?

Como los intereses se capitalizan, es decir, se suman al capital por trimestres,  $t$  representa el número de trimestres que hay en 1 año o sea 4.

Hallemos el tanto por 1 anual. Si \$100 ganan \$4 al año, \$1 ganará \$0.04 al año. Este tanto por 1 anual hay que hacerlo trimestral. Si \$1 gana \$0.04 al año, en un trimestre ganará  $\$0.04 \div 4 = \$0.01$ , luego entonces tenemos:

$$c = 918.54, \quad t = 4, \quad r = 0.01.$$

Sustituyendo en la fórmula  $C = c(1+r)^t$ , tendremos:

$$\begin{aligned}C &= 918.54(1 + 0.01)^4 \\ \text{o sea } C &= 918.54(1.01)^4.\end{aligned}$$

Aplicando logaritmos:

$$\begin{aligned}\log C &= \log 918.54 + 4(\log 1.01) \\ &= 2.963098 + 4(0.004321) \\ &= 2.963098 + 0.017284 \\ &= 2.980382.\end{aligned}$$

Hallando el antilogaritmo se encuentra que es 955.83.

Luego los \$918.54 se convertirán en \$955.83. R.

- (3) Una suma prestada al  $3\frac{1}{2}\%$  de interés compuesto durante 9 años se ha convertido en 3254.60 sucres. ¿Cuál fue la suma prestada? Hay que hallar  $c$ .

$$c = \frac{C}{(1+r)^t}.$$

$$\text{Aquí } C = 3254.60, \quad r = 3.5 \div 100 = 0.035, \quad t = 9, \text{ luego}$$

$$c = \frac{3254.60}{(1.035)^9}.$$

Aplicando logaritmos:

$$\begin{aligned}\log c &= \log 3254.60 + 9(\log 1.035) \\ &= 3.512498 + 9(0.015060) \\ &= 3.512498 + 0.135540 \\ &= 3.648038.\end{aligned}$$

Hallando el antilogaritmo se encuentra que es 2388.02. Luego la suma prestada fue 2388.02 sucres.

- (4) ¿En cuántos años una suma de 834 soles prestada al 8% anual de interés compuesto se convertirá en 1323.46 soles?

La fórmula es

$$t = \frac{\log C - \log c}{\log (1+r)}.$$

$$\text{Aquí } C = 1323.46, \quad c = 834, \quad 1+r = 1.08, \text{ luego}$$

$$\begin{aligned}t &= \frac{\log 1323.46 - \log 834}{\log 1.08} = \frac{3.121711 - 2.921166}{0.033424} \\ &= \frac{0.200545}{0.033424} = 6 \text{ años. R.}\end{aligned}$$

- (5) Una suma de 700 bolívars prestada a interés compuesto durante 5 años se ha convertido en bs. 851.65. ¿A qué % anual se prestó?

La fórmula es

$$\log (1+r) = \frac{\log C - \log c}{t}.$$

Sustituyendo:

$$\begin{aligned}\log (1+r) &= \frac{\log 851.65 - \log 700}{5} \\ &= \frac{2.930262 - 2.845098}{5} \\ &= 0.017033.\end{aligned}$$

Hallando el antilogaritmo se encuentra que es 1.04.

Luego  $1+r = 1.04$  y por tanto  $r = 0.04$ . Si el tanto por 1 es 0.04 el % es 4. R.

### ► EJERCICIO 303

- Una suma de \$500 se impone al 6% de interés compuesto durante 3 años. ¿En cuánto se convertirá?
- Se prestan 3500 soles al 7% de interés compuesto durante 5 años. ¿En cuánto se convertirá esa suma?
- Un capital de 8132 bolívars se impone al 9% durante 10 años. ¿En cuánto se convertirá?

Hallar en cuanto se convertirán:

- \$930 al  $3\frac{1}{2}\%$  anual en 7 años.
- \$12318 al 4% anual en 6 años.
- 24186 sucres al  $5\frac{1}{2}\%$  anual en 7 años.
- \$54293 al  $3\frac{3}{4}\%$  anual en 5 años.
- ¿En cuánto se convertirán \$800 al 3% anual, en 2 años, capitalizando los intereses por semestres?
- ¿En cuánto se convertirán \$900 al 4% anual en 1 año, capitalizando los intereses por trimestres?
- Una suma prestada al 5% anual de interés compuesto se ha convertido en \$972.60 en 4 años. ¿Cuál fue la suma prestada?



11. Se presta cierta suma al 4% anual y en 6 años se convierte en \$1893.50. ¿Cuál fue la suma prestada?
12. Un suma prestada al 8% anual de interés compuesto durante 7 años se ha convertido en 54198.16 quetzales. ¿Cuál fue la suma prestada?
13. Una suma de \$600 prestada al 3% anual se ha convertido en \$695.56. ¿Cuántos años estuvo prestada?
14. 1215 colones se han convertido en 1709.61 habiendo estado impuestos al 5% anual de interés compuesto. ¿Cuántos años duró la imposición?
15. Una suma de 800 balboas prestada durante 4 años a interés compuesto se ha convertido en 1048.63 balboas. ¿A qué % anual se impuso?
16. ¿A qué % anual se impuso una suma de \$6354 que en 4 años se ha convertido en \$7151.46?
17. Hallar los intereses que han producido 900 lempiras colocados al 5% de interés compuesto durante 2 años y 4 meses sabiendo que los intereses se han capitalizado por años.

### 501 AMORTIZACION DE UNA DEUDA POR ANUALIDADES

Un capital  $c$  se presta a interés compuesto, siendo  $r$  el tanto por 1, durante  $t$  años. El capital prestado y sus intereses compuestos durante el tiempo que dura el préstamo deben amortizarse mediante  $t$  pagos iguales, que se verifican al final de cada año.

Se llama **anualidad** a la cantidad fija que hay que pagar al final de cada año para amortizar un capital prestado y sus intereses compuestos en cierto número de años.

### 502 DEDUCCION DE LA FORMULA APLICABLE

Sea  $c$  un capital prestado a interés compuesto, a un tanto por uno  $r$  durante  $t$  años. Este capital en  $t$  años se convertirá en  $c(1+r)^t$ .

Sea  $a$  la anualidad que tiene que pagar el deudor. La primera anualidad se paga al final del primer año; esta anualidad produce interés compuesto, a favor del deudor, al mismo tanto por uno  $r$  que el capital prestado, durante  $t-1$  años; luego, se convertirá en  $a(1+r)^{t-1}$ .

La segunda anualidad se paga al final del segundo año y produce interés compuesto durante  $t-2$  años; luego, se convertirá en  $a(1+r)^{t-2}$ .

La tercera anualidad, pagada al final del tercer año, se convertirá en  $a(1+r)^{t-3}$ .

Del propio modo, la cuarta, quinta, etc. anualidades se convierten en  $a(1+r)^{t-4}, a(1+r)^{t-5}, \dots$ , etc.

La penúltima anualidad se convierte en  $a(1+r)$ .

y la última anualidad, que se paga al final del último año, no produce ya interés a favor del deudor porque se paga al cumplirse los  $t$  años; luego, el valor de la última anualidad es  $a$ .

La suma de los valores que adquieren las diversas anualidades junto con el valor  $a$  de la última anualidad debe ser igual al capital prestado con su interés compuesto; luego,

$$c(1+r)^t = a + a(1+r) + \dots + a(1+r)^{t-3} + a(1+r)^{t-2} + a(1+r)^{t-1}.$$

El 2o. miembro de esta igualdad es la suma de los términos de una progresión geométrica cuya razón es  $(1+r)$ ; luego, aplicando la fórmula

$$S = \frac{ur - a}{r - 1}, \text{ tendremos: } c(1+r)^t = \frac{a(1+r)^{t-1}(1+r) - a}{(1+r) - 1},$$

$$\text{o sea: } c(1+r)^t = \frac{a(1+r)^t - a}{r}.$$

$$\text{Quitando denominadores: } cr(1+r)^t = a(1+r)^t - a.$$

Sacando  $a$  factor común:

$$cr(1+r)^t = a[(1+r)^t - 1],$$

y despejando  $a$ , queda:

$$a = \frac{cr(1+r)^t}{(1+r)^t - 1}$$

que es la fórmula de las anualidades.

### Ejemplo

Una ciudad toma un empréstito de \$500000 al 4%, interés compuesto, para amortizarlo en 15 años. ¿Qué anualidad deberá pagar?

Aquí,  $c = 500000$ ,  $r = 0.04$ ,  $t = 15$ , luego sustituyendo en la fórmula anterior tenemos:

$$a = \frac{500000 \times 0.04 \times (1.04)^{15}}{(1.04)^{15} - 1}$$

Hallems el valor de  $(1.04)^{15}$ . Una tabla de interés compuesto nos lo da en seguida. Nosotros vamos a calcularlo por logaritmos. Tendremos:

$$\log (1.04)^{15} = 15 (\log 1.04) = 15 (0.017033) = 0.255495.$$

Hallando el antilogaritmo se encuentra que es 1.8009, luego  $(1.04)^{15} = 1.8009$ .

$$\text{Sustituyendo este valor en (1), tenemos: } a = \frac{500000 \times 0.04 \times 1.8009}{1.8009 - 1}$$

o sea

$$a = \frac{500000 \times 0.04 \times 1.8009}{0.8009}$$

Aplicando logaritmos:

$$\begin{aligned} \log a &= \log 500000 + \log 0.04 + \log 1.8009 + \text{colog } 0.8009 \\ &= 5.698970 + 2.602060 + 0.255495 + 0.096422 \\ &= 4.652947. \end{aligned}$$

Hallando el antilogaritmo se encuentra que  $a = \$44972.47$ . R.



## EJERCICIO 304

1. ¿Qué anualidad hay que pagar para amortizar una deuda de \$40000 al 5% en 10 años?
2. Se ha tomado a préstamo una suma de 85000 soles al 3%. ¿Qué anualidad habrá que pagar para amortizar la deuda en 12 años?
3. Una ciudad toma un empréstito de \$600000 al 5%. ¿Qué anualidad deberá pagar para amortizar la deuda en 20 años?
4. Para amortizar un empréstito de 5000000 bolívares al 6% en 30 años, ¿qué anualidad hay que pagar?

Resuelva los siguientes problemas aplicando la tabla de interés compuesto decreciente que aparece en las páginas 532-533. Compruébelos usando la fórmula de la anualidad. (1)

5. Una deuda de 3000 bolívares con el 6% de interés, se debe pagar en 5 años. ¿Cuál será el importe de la anualidad?
6. Se constituye una hipoteca sobre un bien inmueble por la cantidad de 12000 bolívares al 7% de interés, pagadera en 12 años. Determinar la anualidad a pagar.
7. Una industria tiene necesidad de comprar equipos para incrementar su producción, pero no tiene efectivo suficiente para su adquisición. La gerencia decide tomar un préstamo del banco por la suma de 350000 sucres al 4½% de interés, por 3 años. ¿Qué anualidad le corresponde pagar?
8. Una compañía exportadora de nitratos necesita ampliar su negocio, y toma una hipoteca sobre la propiedad por 425000 soles al 6% de interés, debiendo amortizarla en 10 años. ¿Cuál será la anualidad que debe pagar?
9. Una compañía vendedora de bienes inmuebles a plazos vende al Sr. José Antonio Arraiz una casa en la cantidad de 90750 bolívares, al 5% de interés, amortizable en 25 años. ¿Qué anualidad deberá abonar?
10. La misma compañía vende al Sr. Simón Irrigorri una casa a plazos con un valor de 73550 bolívares, al 5½% de interés, que deberá amortizar en 30 años. ¿A cuánto ascenderá la anualidad a pagar?
11. Un hombre de negocios invierte 473000 sucres en un préstamo hipotecario al 3½% de interés por 9 años. ¿Qué anualidad se le deberá abonar?
12. Se constituye una hipoteca por la cantidad de 45800 soles al 4% de interés, liquidable en 30 años. ¿Cuál será la anualidad a pagar?

## 503 FORMACION DE UN CAPITAL MEDIANTE IMPOSICIONES SUCESIVAS IGUALES

Se trata de constituir un capital  $c$  en cierto número de años imponiendo al principio de cada año una cantidad fija a interés compuesto.

(1). En algunos de los problemas puede haber una diferencia de centavos, cuya importancia es nula; esta diferencia la motivan los decimales usados en los cálculos.

## 504 DEDUCCION DE LA FORMULA DE LAS IMPOSICIONES

Sea  $c$  el capital que se quiere constituir en  $t$  años. Sea  $i$  la imposición anual fija que hay que hacer al principio de cada uno de los  $t$  años, a un tanto por uno  $r$ , para constituir el capital.

La primera imposición, hecha al principio del primer año, produce interés compuesto durante  $t$  años; luego, se convertirá en  $i(1+r)^t$

La segunda imposición, hecha al principio del 2o. año, produce interés compuesto durante  $t-1$  años; luego, se convertirá en  $i(1+r)^{t-1}$

Del propio modo, la tercera, cuarta, etc. imposiciones se convertirán en

$$i(1+r)^{t-2}, i(1+r)^{t-3}, \dots, \text{etc.},$$

y la última, hecha al principio del último año, se convierte en

$$i(1+r).$$

La suma de los valores de todas las imposiciones al cabo de  $t$  años tiene que ser igual al capital que se quiere constituir; luego, tendremos:

$$c = i(1+r) + \dots + i(1+r)^{t-2} + i(1+r)^{t-1} + i(1+r).$$

El segundo miembro de esta igualdad es la suma de los términos de una progresión geométrica cuya razón es  $1+r$ ; luego, aplicando la fórmula

$$S = \frac{ur - a}{r - 1}, \text{ tenemos: } c = \frac{i(1+r)^t(1+r) - i(1+r)}{(1+r) - 1}$$

$$\text{Simplificando: } c = \frac{i(1+r)^{t+1} - i(1+r)}{r}$$

$$\text{Quitando denominadores: } cr = i(1+r)^{t+1} - i(1+r).$$

Sacando  $i$  factor común en el segundo miembro, tenemos:

$$cr = i[(1+r)^{t+1} - (1+r)].$$

Despejando  $i$ , se tiene:

$$i = \frac{cr}{(1+r)^{t+1} - (1+r)}$$

que es la fórmula de las imposiciones.



**Ejemplo**

(1) ¿Qué imposición anual al 5% habrá que hacer para constituir en 20 años un capital de \$80000?

Aquí  $c = 80000$ ,  $r = 0.05$ ,  $t = 20$ , luego  
sustituyendo en la fórmula, tenemos:

$$i = \frac{80000 \times 0.05}{(1.05)^{20} - 1.05} \quad (1)$$

Hallamos el valor de  $(1.05)^{20}$ . Tendremos:

$$\log (1.05)^{20} = 20 (\log 1.05) = 20 (0.021189) = 0.444969.$$

Hallando el antilogaritmo se encuentra que  $(1.05)^{20} = 2.7859$ .

Entonces, sustituyendo en (1) este valor:

$$i = \frac{80000 \times 0.05}{2.7859 - 1.05}$$

o sea

$$i = \frac{80000 \times 0.05}{1.7359}$$

Aplicando logaritmos:

$$\begin{aligned} \log i &= \log 80000 + \log 0.05 + \text{colog } 1.7359 \\ &= 4.903090 + 2.698970 + 1.760476 \\ &= 3.362536. \end{aligned}$$

Hallando el antilogaritmo se encuentra que  $i = \$2304.28$ . R.

**EJERCICIO 305**

1. ¿Qué imposición anual al 6% habrá que hacer para tener en 9 años \$30000?
2. Para constituir un capital de 90000 sucres en 20 años, ¿qué imposición anual al 4% habrá que hacer?
3. Se ha constituido un capital de \$200000 en 40 años mediante imposiciones anuales fijas al 5%. ¿Cuál ha sido la imposición anual?
4. Un padre de familia quiere que cuando su hijo cumpla 25 años tenga constituido un capital de \$40000. ¿Qué imposición anual al 6%, a partir del nacimiento del hijo, deberá hacer para constituir dicho capital?

**APENDICE**

I Tabla de interés compuesto	530-531
II Tabla de interés compuesto decreciente	532-533
III Cuadro de las formas básicas de descomposición factorial	534-535
IV Tabla de potencias y raíces	536

- Hemos incluido en este Apéndice tres tablas y un cuadro que han de ser manejados continuamente por los estudiantes.
- Al resolver los problemas de interés compuesto suelen presentarse operaciones en las cuales debemos conocer el valor adquirido por \$1 a interés compuesto, al cabo de un número determinado de años. En la Tabla I el estudiante encontrará este valor hasta los 50 años, cuando el interés es creciente.
- Si se trata de problemas en los cuales se aplica el interés decreciente, la Tabla II es un auxiliar poderoso.
- Nuestra experiencia profesoral nos ha puesto de manifiesto las múltiples dificultades que se le presentan a los alumnos para comprender y dominar la descomposición en factores. Por esto hemos incluido un Cuadro, que resume las formas básicas de la descomposición factorial; mediante el cual el alumno puede visualizar y recordar fácilmente los casos de factoración.
- Muy a menudo en las operaciones algebraicas se nos presentan casos en los cuales tenemos que aplicar inevitablemente potencias, raíces, y también el inverso de un número determinado. Es por ello que creemos de gran utilidad la Tabla IV, que contiene el cuadrado, la raíz cuadrada, el cubo, la raíz cúbica y el inverso de los cien primeros números.



## I TABLA DE

Valor adquirido por \$1 a interés compuesto,

1/2 %	1 %	1 1/2 %	2 %	2 1/2 %	3 %	3 1/2 %	4 %
1.005000	1.010000	1.015000	1.020000	1.025000	1.030000	1.035000	1.040000
1.010025	1.020100	1.030225	1.040400	1.050625	1.060900	1.071225	1.081600
1.015075	1.030301	1.045678	1.061208	1.076891	1.092727	1.108718	1.124864
1.020151	1.040604	1.061364	1.082432	1.103813	1.125509	1.147523	1.169859
1.025251	1.051010	1.077284	1.104081	1.131408	1.159274	1.187686	1.216653
1.030378	1.061520	1.093443	1.126162	1.159693	1.194052	1.229255	1.265319
1.035529	1.072135	1.109845	1.148686	1.188686	1.229874	1.272279	1.315932
1.040707	1.082857	1.126493	1.171659	1.218403	1.266770	1.316809	1.368569
1.045911	1.093685	1.143390	1.195093	1.248863	1.304773	1.362897	1.423312
1.051140	1.104622	1.160541	1.218994	1.280085	1.343916	1.410599	1.480244
1.056396	1.115668	1.177949	1.243374	1.312087	1.384234	1.459970	1.539454
1.061678	1.126825	1.195618	1.268242	1.344889	1.455761	1.511069	1.601032
1.066986	1.138093	1.213552	1.293607	1.378511	1.468534	1.563956	1.665074
1.072321	1.149474	1.231756	1.319479	1.412974	1.512590	1.618695	1.731676
1.077683	1.160969	1.250232	1.345868	1.448298	1.557967	1.675349	1.800944
1.083071	1.172579	1.268986	1.372786	1.484506	1.604706	1.733986	1.872981
1.088487	1.184304	1.288020	1.400241	1.521618	1.652848	1.794676	1.947901
1.093929	1.196147	1.307341	1.428246	1.559659	1.702433	1.857489	2.025817
1.099399	1.208109	1.326951	1.456811	1.598650	1.753506	1.922501	2.106849
1.104896	1.220190	1.346855	1.485947	1.638616	1.806111	1.989769	2.191123
1.110420	1.232392	1.367058	1.515666	1.679582	1.860295	2.059431	2.278768
1.115972	1.244716	1.387564	1.545980	1.721571	1.916103	2.131512	2.369919
1.121552	1.257163	1.408377	1.576899	1.764611	1.973587	2.206114	2.464716
1.127160	1.269735	1.429503	1.608437	1.808726	2.032794	2.283328	2.563304
1.132796	1.282432	1.450945	1.640606	1.853944	2.093778	2.363245	2.665836
1.138460	1.295256	1.472710	1.673418	1.900293	2.156591	2.445959	2.772470
1.144152	1.308209	1.494800	1.706886	1.947800	2.221289	2.531567	2.883369
1.149873	1.321291	1.517222	1.741024	1.996495	2.287928	2.620172	2.998703
1.155622	1.334504	1.539981	1.775845	2.046407	2.356566	2.711878	3.118651
1.161400	1.347849	1.563080	1.811362	2.097568	2.427262	2.806794	3.243398

## INTERES COMPUESTO

de 1 a 30 años, o sea valor de  $(1 + r)^t$ 

4 1/2 %	5 %	5 1/2 %	6 %	7 %	8 %	9 %	10 %
1.045000	1.050000	1.055000	1.060000	1.070000	1.080000	1.090000	1.100000
1.092025	1.102500	1.113025	1.123600	1.144900	1.166400	1.188100	1.210000
1.141166	1.157625	1.174241	1.191016	1.225043	1.259712	1.295029	1.331000
1.192519	1.215506	1.238825	1.262477	1.310796	1.360489	1.411582	1.464100
1.246182	1.276282	1.306960	1.338226	1.402552	1.469328	1.538624	1.610510
1.302260	1.340096	1.378843	1.418519	1.500730	1.586874	1.677100	1.771561
1.360862	1.407100	1.454679	1.503630	1.605781	1.713824	1.828039	1.948717
1.422101	1.477455	1.534687	1.593848	1.718186	1.850930	1.992563	2.143589
1.486095	1.551328	1.619094	1.689479	1.838459	1.999005	2.171893	2.357948
1.552969	1.628895	1.708144	1.790848	1.987151	2.158925	2.367364	2.593742
1.622853	1.710339	1.802092	1.898299	2.104852	2.331639	2.580426	2.853117
1.695881	1.795856	1.901207	2.012196	2.252192	2.518170	2.812665	3.138428
1.772196	1.885649	2.005774	2.132928	2.409845	2.719624	3.065805	3.452271
1.851945	1.979932	2.116091	2.260904	2.578534	2.937194	3.341727	3.797498
1.935282	2.078928	2.232476	2.396558	2.759032	3.172169	3.642482	4.177248
2.022370	2.182875	2.355263	2.540352	2.952164	3.425943	3.970306	4.594973
2.113377	2.292018	2.484802	2.692773	3.158815	3.700018	4.327633	5.054470
2.208479	2.406619	2.621466	2.854339	3.379932	3.996020	4.717120	5.559917
2.307860	2.526950	2.765647	3.025600	3.616528	4.315791	5.141661	6.115909
2.411714	2.653298	2.917757	3.207135	3.869684	4.660957	5.604411	6.727590
2.520241	2.785963	3.078234	3.399564	4.140562	5.033834	6.108808	7.400250
2.633652	2.925261	3.247537	3.603537	4.430402	5.436540	6.658600	8.140271
2.752166	3.071524	3.426152	3.819750	4.740530	5.871464	7.257874	8.954300
2.876014	3.225100	3.614590	4.048935	5.072367	6.341181	7.911083	9.849733
3.005434	3.386355	3.813392	4.291871	5.427433	6.848475	8.623081	10.834706
3.140679	3.555673	4.023129	4.549383	5.807353	7.396353	9.399158	11.918177
3.282010	3.733456	4.244401	4.822346	6.213868	7.988061	10.245082	13.109994
3.429700	3.920129	4.477843	5.111687	6.648838	8.627106	11.167140	14.420994
3.584036	4.116136	4.724124	5.418388	7.114257	9.317275	12.172182	15.863092
3.745318	4.321942	4.983951	5.743491	7.612255	10.062657	13.267678	17.449403



## II TABLA DE INTERES

Anualidad cuyo valor actual es \$1

½ %	1 %	1 ½ %	2 %	2 ½ %	3 %	3 ½ %	4 %
1.005000	1.010000	1.015000	1.020000	1.025000	1.030000	1.035000	1.040000
0.503753	0.507512	0.511278	0.515050	0.518827	0.522611	0.526400	0.530196
0.336672	0.340022	0.343383	0.346755	0.350137	0.353530	0.356934	0.360349
0.253133	0.256281	0.259445	0.262624	0.265818	0.269027	0.272251	0.275490
0.203010	0.206040	0.209089	0.212158	0.215247	0.218355	0.221481	0.224627
0.169595	0.172548	0.175525	0.178526	0.181550	0.184598	0.187668	0.190762
0.145729	0.148628	0.151556	0.154512	0.157495	0.160506	0.163544	0.166610
0.127829	0.130690	0.133584	0.136510	0.139467	0.142456	0.145477	0.148528
0.113907	0.116740	0.119610	0.122515	0.125457	0.128434	0.131446	0.134493
0.102771	0.105582	0.108434	0.111327	0.114259	0.117231	0.120241	0.123291
0.093659	0.096454	0.099294	0.102178	0.105106	0.108077	0.111092	0.114149
0.086066	0.088849	0.091680	0.094560	0.097487	0.100462	0.103484	0.106552
0.079642	0.082415	0.085240	0.088118	0.091048	0.094030	0.097062	0.100144
0.074136	0.076901	0.079723	0.082602	0.085537	0.088526	0.091571	0.094669
0.069364	0.072124	0.074944	0.077825	0.080766	0.083767	0.086825	0.089941
0.065189	0.067945	0.070765	0.073650	0.076599	0.079611	0.082685	0.085820
0.061506	0.064258	0.067080	0.069970	0.072928	0.075953	0.079043	0.082199
0.058232	0.060982	0.063806	0.066702	0.069670	0.072709	0.075817	0.078993
0.055303	0.058052	0.060878	0.063782	0.066761	0.069814	0.072940	0.076139
0.052666	0.055415	0.058246	0.061157	0.064147	0.067216	0.070361	0.073582
0.050282	0.053031	0.055866	0.058785	0.061787	0.064872	0.068037	0.071280
0.048114	0.050864	0.053703	0.056631	0.059647	0.062747	0.065932	0.069199
0.046135	0.048886	0.051731	0.054668	0.057696	0.060814	0.064019	0.067309
0.044321	0.047073	0.049924	0.052871	0.055913	0.059047	0.062273	0.065587
0.042652	0.045407	0.048263	0.051220	0.054276	0.057428	0.060674	0.064012
0.041112	0.043869	0.046732	0.049699	0.052769	0.055938	0.059205	0.062567
0.039686	0.042446	0.045315	0.048293	0.051377	0.054564	0.057852	0.061239
0.038362	0.041124	0.044001	0.046990	0.050088	0.053293	0.056603	0.060013
0.037129	0.039895	0.042779	0.045778	0.048891	0.052115	0.055445	0.058880
0.035979	0.038748	0.041639	0.044650	0.047778	0.051019	0.054371	0.057830

## COMPUESTO DECRECIENTE

a interés compuesto de 1 a 30 años

4 ½ %	5 %	5 ½ %	6 %	7 %	8 %	9 %	10 %
1.045000	1.050000	1.055000	1.060000	1.070000	1.080000	1.090000	1.100000
0.533998	0.537805	0.541618	0.545437	0.553092	0.560769	0.568469	0.576190
0.363773	0.367209	0.370654	0.374110	0.381052	0.388034	0.395055	0.402115
0.278744	0.282012	0.285294	0.288591	0.295228	0.301921	0.308669	0.315471
0.227792	0.230975	0.234176	0.237396	0.243891	0.250456	0.257092	0.263797
0.193878	0.197017	0.200179	0.203363	0.209796	0.216315	0.222920	0.229607
0.169701	0.172820	0.175964	0.179135	0.185553	0.192072	0.198691	0.205406
0.151610	0.154722	0.157864	0.161036	0.167468	0.174015	0.180674	0.187444
0.137574	0.140690	0.143839	0.147022	0.153486	0.160080	0.166799	0.173641
0.126379	0.129505	0.132668	0.135868	0.142378	0.149029	0.155820	0.162745
0.117248	0.120389	0.123571	0.126793	0.133357	0.140076	0.146947	0.153994
0.109666	0.112825	0.116029	0.119277	0.125902	0.132695	0.139651	0.146763
0.103275	0.106456	0.109684	0.112960	0.119651	0.126522	0.133567	0.140779
0.097820	0.101024	0.104279	0.107585	0.114345	0.121297	0.128433	0.135746
0.093114	0.096342	0.099626	0.102963	0.109795	0.116830	0.124059	0.131474
0.089015	0.092270	0.095583	0.098952	0.105858	0.112977	0.120300	0.127817
0.085418	0.088699	0.092042	0.095445	0.102425	0.109629	0.117046	0.124664
0.082237	0.085546	0.088920	0.092357	0.099413	0.106702	0.114212	0.121930
0.079407	0.082745	0.086150	0.089621	0.096753	0.104128	0.111730	0.119547
0.076876	0.080243	0.083679	0.087185	0.094393	0.101852	0.109546	0.117466
0.074601	0.077996	0.081465	0.085005	0.092289	0.099832	0.107617	0.115624
0.072547	0.075971	0.079471	0.083046	0.090406	0.098032	0.105905	0.114005
0.070682	0.074137	0.077670	0.081278	0.088714	0.096422	0.104382	0.112572
0.068987	0.072471	0.076036	0.079679	0.087189	0.094978	0.103023	0.111300
0.067439	0.070952	0.074549	0.078227	0.085811	0.093679	0.101806	0.110168
0.066021	0.069564	0.073193	0.076904	0.084561	0.092507	0.100715	0.109159
0.064719	0.068292	0.071952	0.075697	0.083426	0.091448	0.099735	0.108258
0.063521	0.067123	0.070814	0.074593	0.082392	0.090489	0.098852	0.107451
0.062415	0.066046	0.069769	0.073580	0.081449	0.089619	0.098056	0.106728
0.061392	0.065051	0.068805	0.072649	0.080586	0.088827	0.097336	0.106079



## III CUADRO DE LAS FORMAS BASICAS

## FORMAS SIEMPRE FACTORABLES

## BINOMIOS

## DIFERENCIA DE CUADRADOS

$$a^2 - b^2 = (a + b)(a - b)$$

$$16x^2 - 25y^4 = (4x + 5y^2)(4x - 5y^2)$$

$$4x^2 - 5y^2$$

## SUMA O DIFERENCIA DE CUBOS

$$a^3 + b^3 = (a + b)(a^2 - ab + b^2)$$

$$a^3 - b^3 = (a - b)(a^2 + ab + b^2)$$

$$27a^3 + b^3 = (3a + b^3)[(3a)^2 - 3a(b^3) + (b^3)^2] = (3a + b^3)(9a^2 - 3ab^3 + b^6)$$

$$a^3 - 8 = (a - 2)(a^2 + 2a + 2^2) = (a - 2)(a^2 + 2a + 4)$$

## SUMA O DIFERENCIA DE DOS POTENCIAS IMPARES IGUALES

$$m^5 + n^5 = (m + n)(m^4 - m^3n + m^2n^2 - mn^3 + n^4)$$

$$a^5 - b^5 = (a - b)(a^4 + a^3b + a^2b^2 + ab^3 + b^4)$$

## TRINOMIOS

## TRINOMIO CUADRADO PERFECTO

$$m^2 + 2m + 1 = (m + 1)(m + 1) = (m + 1)^2$$

$$m \quad 1$$

## POLINOMIOS

## FACTOR COMUN

$$\frac{x(a+b) + m(a+b)}{(a+b)} = x + \frac{m(a+b)}{(a+b)} = m$$

$$x(a+b) + m(a+b) = (a+b)(x+m)$$

## NOTA PARA EL ESTUDIANTE

La descomposición factorial es de suma importancia en el estudio del Álgebra. Generalmente, la factoración es un paso previo para cualquier operación algebraica, y su dominio requiere mucha práctica. Conocer las formas básicas y las formas derivadas de éstas es indispensable para saber descomponer cualquier expresión algebraica. Queremos recordar que una expresión cualquiera puede pertenecer a varias formas básicas a la vez, o no pertenecer a ninguna de ellas. Por otra parte, al pertenece a algunas de estas formas no quiere decir que sea descomponible, salvo, naturalmente, que pertenezca a una de las cuatro formas que siempre son factorables. Recomendamos al estudiante que al descomponer en factores una expresión algebraica, siga los siguientes pasos: 1). Observe si hay factor común; 2). ordene la expresión; 3). averigüe si la expresión dada pertenece a alguna de las formas que siempre se puede descomponer; 4). si pertenece a formas que no siempre son descomponibles, averigüe si cumple las condiciones necesarias para que lo sean; 5). al verificar una descomposición, observe si los factores hallados son factorizables a su vez, es decir, si son primos o no. Recuerde que muchas expresiones se pueden descomponer de distintas maneras, pero siempre se llega a un mismo resultado.

## DE DESCOMPOSICION FACTORIAL

## FORMAS NO SIEMPRE FACTORABLES

## BINOMIOS

## SUMA DE DOS CUADRADOS

$$a^4 + 4b^4 = a^4 + 4a^2b^2 + 4b^4 - 4a^2b^2$$

$$a^4 + 4a^2b^2 + 4b^4 - 4a^2b^2 = (a^2 + 2b^2)^2 - 4a^2b^2$$

$$= (a^2 + 2b^2)^2 - (2ab)^2$$

$$= (a^2 + 2b^2 + 2ab)(a^2 + 2b^2 - 2ab)$$

$$= (a^2 + 2ab + 2b^2)(a^2 - 2ab + 2b^2)$$

## TRINOMIOS

## TRINOMIO CUADRADO PERFECTO POR ADICION Y SUSTRACCION

$$x^4 + x^2y^2 + y^4 = x^4 + x^2y^2 + y^4 + x^2y^2 - x^2y^2$$

$$x^4 + 2x^2y^2 + y^4 - x^2y^2 = (x^2 + y^2)^2 - x^2y^2$$

{factorando el trinomio cuadrado perfecto}  $= (x^2 + y^2)^2 - x^2y^2$

{factorando la diferencia de cuadrados}  $= (x^2 + y^2 + xy)(x^2 + y^2 - xy)$

{ordenando}  $= (x^2 + xy + y^2)(x^2 - xy + y^2)$

TRINOMIO DE LA FORMA  $x^2 + bx + c$ 

$$x^2 + 5x + 6 = (x + 2)(x + 3)$$

$$x^2 + 5x + 6 = (x + 2)(x + 3)$$

$$x^2 + 5x + 6 = (x + 2)(x + 3)$$

TRINOMIO DE LA FORMA  $ax^2 + bx + c$ 

$$6x^2 - 7x - 3 = \frac{36x^2 - 6(7x) - 18}{(6x)^2 - 7(6x) - 18} = \frac{36x^2 - 42x - 18}{(6x - 9)(6x + 2)} \quad (1) \quad (2) \quad (3)$$

$$\frac{6x - 9}{2 \times 3} = \frac{6x + 2}{2 \times 3} = [2x - 3][3x + 1] \quad (4)$$

$$6x^2 - 7x - 3 = (2x - 3)(3x + 1)$$

## POLINOMIOS

## POLINOMIO ENTERO Y RACIONAL EN X (EVALUACION)

$$x^3 + 2x^2 - x - 2$$

Coefficientes del polinomio: 1, +2, -1, -2

Coefficientes del cociente: 1, +3, +2, 0

$$x^3 + 2x^2 - x - 2 = (x - 1)(x^2 + 3x + 2)$$

{factorando el trinomio}  $= (x - 1)(x + 1)(x + 2)$

## POLINOMIO DE CUATRO O MAS TERMINOS (AGRUPACION)

$$ax + bx + ay + by = (ax + bx) + (ay + by)$$

$$= x(a + b) + y(a + b)$$

$$= (a + b)(x + y)$$



## TABLA DE POTENCIAS Y RAICES

No.	(No.) <sup>12</sup>	$\sqrt[3]{\text{No.}}$	(No.) <sup>12</sup>	$\sqrt[3]{\text{No.}}$	Inverso	No.	(No.) <sup>12</sup>	$\sqrt[3]{\text{No.}}$	(No.) <sup>12</sup>	$\sqrt[3]{\text{No.}}$	Inverso
1	1	1.000	1	1.000	1.00000000	51	2.601	7.141	132.651	3.708	.019607843
2	4	1.414	8	1.260	.500000000	52	2.704	7.211	140.600	3.733	.019230769
3	9	1.732	27	1.442	.333333333	53	2.809	7.200	148.877	3.756	.018867925
4	16	2.000	64	1.587	.250000000	54	2.916	7.348	157.464	3.780	.018510519
5	25	2.236	125	1.710	.200000000	55	3.025	7.416	166.375	3.803	.018181818
6	36	2.449	216	1.817	.166666667	56	3.136	7.483	175.616	3.826	.017857143
7	49	2.646	343	1.913	.142857143	57	3.249	7.550	185.193	3.849	.017543080
8	64	2.828	512	2.000	.125000000	58	3.364	7.616	195.112	3.871	.017241379
9	81	3.000	729	2.080	.111111111	59	3.481	7.681	205.379	3.893	.016949153
10	100	3.162	1,000	2.154	.100000000	60	3.600	7.746	216.000	3.915	.016666667
11	121	3.317	1,331	2.224	.090909091	61	3.721	7.810	226.981	3.936	.016393443
12	144	3.464	1,728	2.289	.083333333	62	3.844	7.874	238.328	3.958	.016129032
13	169	3.606	2,197	2.351	.076923077	63	3.969	7.937	250.047	3.979	.015873016
14	196	3.742	2,744	2.410	.071428571	64	4.096	8.000	262.144	4.000	.015625000
15	225	3.873	3,375	2.466	.066666667	65	4.225	8.062	274.625	4.021	.015384615
16	256	4.000	4,096	2.520	.062500000	66	4.356	8.124	287.496	4.041	.015151515
17	289	4.123	4,913	2.571	.058823529	67	4.489	8.185	300.763	4.062	.014925373
18	324	4.243	5,832	2.621	.055555556	68	4.624	8.246	314.432	4.082	.014705082
19	361	4.359	6,859	2.668	.052631579	69	4.761	8.307	328.509	4.102	.014492754
20	400	4.472	8,000	2.714	.050000000	70	4.900	8.367	343.000	4.121	.014285714
21	441	4.583	9,261	2.759	.047619048	71	5.041	8.426	357.911	4.141	.014084507
22	484	4.690	10,648	2.802	.045454545	72	5.184	8.485	373.248	4.160	.013888889
23	529	4.796	12,167	2.844	.043478261	73	5.329	8.544	389.017	4.179	.013696630
24	576	4.899	13,824	2.884	.041666667	74	5.476	8.602	405.224	4.198	.013513514
25	625	5.000	15,625	2.924	.040000000	75	5.625	8.660	421.875	4.217	.013333333
26	676	5.099	17,576	2.962	.038461538	76	5.776	8.718	438.976	4.236	.013157895
27	729	5.196	19,683	3.000	.037037037	77	5.929	8.775	456.533	4.254	.012990701
28	784	5.291	21,952	3.037	.035714286	78	6.084	8.832	474.552	4.273	.012820513
29	841	5.385	24,389	3.072	.034482759	79	6.241	8.888	493.039	4.291	.012658228
30	900	5.477	27,000	3.107	.033333333	80	6.400	8.944	512.000	4.309	.012500000
31	961	5.568	29,791	3.141	.032258065	81	6.561	9.000	531.441	4.327	.012345679
32	1,024	5.657	32,768	3.175	.031250000	82	6.724	9.055	551.368	4.344	.012195122
33	1,089	5.745	35,937	3.208	.030303030	83	6.889	9.110	571.787	4.362	.012048193
34	1,156	5.831	39,304	3.240	.029411765	84	7.056	9.165	592.704	4.380	.011904762
35	1,225	5.916	42,875	3.271	.028571429	85	7.225	9.220	614.125	4.397	.011764706
36	1,296	6.000	46,656	3.302	.027777778	86	7.396	9.274	636.056	4.414	.011627907
37	1,369	6.083	50,653	3.332	.027027027	87	7.569	9.327	658.503	4.431	.011494253
38	1,444	6.164	54,872	3.362	.026315789	88	7.744	9.381	681.472	4.448	.011363636
39	1,521	6.245	59,319	3.391	.025641026	89	7.921	9.434	704.969	4.465	.011233595
40	1,600	6.325	64,000	3.420	.025000000	90	8.100	9.487	729.000	4.481	.011111111
41	1,681	6.403	68,921	3.448	.024390244	91	8.281	9.539	753.571	4.498	.010989011
42	1,764	6.481	74,088	3.476	.023809524	92	8.464	9.592	778.688	4.514	.010869565
43	1,849	6.557	79,507	3.503	.023255814	93	8.649	9.644	804.357	4.531	.010752688
44	1,936	6.633	85,184	3.530	.022727273	94	8.836	9.695	830.584	4.547	.010638298
45	2,025	6.708	91,125	3.557	.022222222	95	9.025	9.747	857.375	4.563	.010526316
46	2,116	6.782	97,336	3.583	.021739130	96	9.216	9.798	884.736	4.579	.010416667
47	2,209	6.856	103,823	3.609	.021276596	97	9.409	9.849	912.673	4.595	.010309278
48	2,304	6.928	110,592	3.634	.020833333	98	9.604	9.899	941.192	4.610	.010204082
49	2,401	7.000	117,649	3.659	.020408163	99	9.801	9.950	970.299	4.626	.010101010
50	2,500	7.071	125,000	3.684	.020000000	100	10,000	10,000	1,000,000	4.642	.010000000

## RESPUESTAS A LOS EJERCICIOS DEL TEXTO

**EJERCICIO 1.** 1. +260 bs. 2. -345 sucres. 3. +\$67. 4. +437 soles. 5. -\$30. 6. -\$9. 7. -70 colones. 8. 0.

**EJERCICIO 2.** 1. -3°. 2. -1°. 3. 18°. 4. 13°. 5. -6°. 6. -4°, 0°, +12°. 7. -5°, -7°, -4°, +2°. 8. -49°. 9. Long. -66°; lat. -20°. 10. Long. +21°; lat. +61°. 11. +60 años.

**EJERCICIO 3.** 1. +32 m; -16 m. 2. +10 m; -4 m. 3. -35 m. 4. -66 m. 5. -48 m; +54 m. 6. Corredor +800 m; yo -1200 m. 7. +12 p; -28 pies. 8. +3 m. 9. -17 m. 10. -12 m. 11. +17 m. 12. -4 m. 13. +42 m; +12 m; -18 m, -48 m. 14. -60 Km; 0; +60 Km; +120 Km.

**EJERCICIO 7.** 1. 3x. 2. 17a. 3. 20b. 4. -6b. 5. -9m. 6. -16m. 7. 9a<sup>2</sup>. 8. 14a<sup>x+1</sup>. 9. -6m<sup>x+1</sup>. 10. -4a<sup>x-2</sup>. 11. a. 12.  $\frac{7}{10}ab$ . 13.  $\frac{1}{2}xy$ . 14. -xy. 15.  $-\frac{23}{24}a^2b$ . 16.  $-\frac{15}{8}a$ . 17. 23a. 18. 36x. 19. -24m. 20. -5a<sup>2</sup>b. 21. 12a<sup>2</sup>. 22. -13a<sup>x+1</sup>. 23.  $\frac{18}{5}a$ . 24.  $-\frac{11}{8}x$ . 25.  $\frac{3}{2}ax$ . 26.  $-\frac{31}{12}a^2x$ . 27. 39a. 28. 14m<sup>x+1</sup>. 29. -38x<sup>2</sup>y. 30. -23a<sup>m</sup>. 31.  $\frac{15}{8}a$ . 32.  $\frac{21}{20}ax$ . 33. 2.6m. 34.  $-\frac{5}{4}ab$ . 35.  $-\frac{87}{88}x^2y$ . 36. 39ab<sup>2</sup>. 37. -20m. 38. -19x<sup>x+1</sup>. 39.  $\frac{29}{20}a$ . 40.  $-\frac{43}{30}ab$ .

**EJERCICIO 8.** 1. 2a. 2. -2a. 3. -6ab. 4. 6ab. 5. 0. 6. 0. 7. 18xy. 8. 7x<sup>2</sup>y. 9. -11x<sup>3</sup>y. 10. 5m<sup>2</sup>n. 11. 25xy. 12. -26a<sup>3</sup>b<sup>2</sup>. 13. 0. 14. 0. 15. 0. 16. 17mn. 17. 97ab. 18. -6x. 19. 0. 20.  $-\frac{1}{4}a$ . 21.  $\frac{1}{4}a$ . 22.  $\frac{5}{12}a^2b$ . 23.  $\frac{1}{14}x^2y$ . 24.  $-\frac{7}{8}am$ . 25.  $-\frac{2}{5}am$ . 26.  $-\frac{1}{24}mn$ . 27.  $-\frac{n}{11}a^2b$ . 28. -2.2a<sup>4</sup>b<sup>3</sup>. 29. 2.2yz. 30. 2a<sup>2</sup>. 31. 0. 32. -7m<sup>n-1</sup>. 33. 0. 34.  $\frac{1}{4}a^{m-2}$ . 35.  $\frac{1}{4}a^{m+1}$ . 36.  $\frac{11}{5}a^2$ . 37.  $-\frac{17}{4}mn$ . 38. -17a<sup>x+2</sup>b<sup>x+3</sup>. 39.  $\frac{1}{5}a^nb^n$ . 40. 0.35mxy.

**EJERCICIO 9.** 1. 11a. 2. 0. 3. -16mn. 4. 0. 5. 15m. 6. 0. 7. -31a<sup>2</sup>. 8. 0. 9. 0. 10.  $-\frac{17}{20}m$ . 11.  $-\frac{5}{8}a^2b$ . 12. a. 13. -15ab. 14. 0. 15. 12xy. 16. -53ab. 17. -36xy<sup>2</sup>. 18. 157ax. 19. 0. 20. 0. 21.  $\frac{15}{60}x$ . 22.  $\frac{1}{12}y$ . 23.  $-\frac{7}{30}a^2b$ . 24.  $-\frac{8}{5}ab^4$ . 25. -64a. 26. 80c. 27. mn. 28. 0. 29. 3a. 30.  $-\frac{1}{2}x$ . 31.  $-\frac{5}{6}x$ . 32. 0. 33. a<sup>x+1</sup>. 34. 88a. 35. -9b. 36. -162a<sup>2</sup>b. 37. -1340m<sup>2</sup>x. 38.  $\frac{87}{5}a^3b^2$ . 39. -28a. 40. 0.

**EJERCICIO 10.** 1. 13a-13b. 2. 0. 3. 25x-12y-10. 4. -13m+7n-6. 5. 2a. 6. -30x. 7. 8a<sup>2</sup>-12ab-11. 8. 21a-30b. 9. -48a<sup>2</sup>b. 10. -2a-14. 11. 7m<sup>3</sup>-129m<sup>2</sup>+6mn. 12. 14x<sup>4</sup>y-7x<sup>2</sup>y<sup>2</sup>-y<sup>3</sup>+31. 13. -25. 14. -a<sup>m+2</sup>-x<sup>m+3</sup>-3. 15. 2.7a-3.3b-3.4c. 16.  $\frac{7}{4}a-\frac{17}{6}b+\frac{1}{4}$ . 17.  $-\frac{13}{10}m^2-\frac{1}{5}mn$ . 18.  $\frac{19}{12}a^2-\frac{9}{4}ab-b^2$ . 19.  $\frac{7}{40}xy^2-\frac{7}{20}y^2+25$ . 20.  $\frac{13}{23}a^{n-1}+\frac{1}{60}b^{m-2}$ .

**EJERCICIO 11.** 1. 6. 2. 120. 3.  $\frac{2}{8}$ . 4.  $\frac{1}{18}$ . 5.  $\frac{1}{5}$ . 6.  $\frac{43}{128}$ . 7.  $\frac{1}{432}$ . 8.  $\frac{5}{12}$ . 9. 6. 10. 12. 11.  $\frac{4}{9}$ . 12.  $\frac{2}{9}$ . 13. 60. 14. 1. 15. 3. 16. 24. 17. 216. 18.  $\frac{2}{25}$ .

**EJERCICIO 12.** 1. 1. 2.  $\frac{25}{88}$ . 3. 17. 4. -21 $\frac{1}{2}$ . 5. 1. 6.  $-\frac{4}{6}$ . 7. 49 $\frac{2}{3}$ . 8. 8 $\frac{1}{2}$ . 9. -6 $\frac{1}{2}$ . 10. 3456. 11.  $\frac{4}{8}$ . 12. 0. 13. 1. 14. 23. 15. 1 $\frac{23}{24}$ . 16. 4. 17.  $\frac{8}{4}$ . 18. 7 $\frac{8}{9}$ .



**CIO 13.** 1. 5. 2. 3. 3.  $7\frac{1}{2}$ . 4. 15. 5. 0. 6.  $\frac{1}{4}$ . 7.  $26\frac{5}{6}$ . 8. 14. 9.  $2\frac{2}{3}$ .  
11.  $5\frac{2}{5}$ . 12. 176. 13.  $2\frac{1}{6}$ . 14.  $2\frac{1}{2}$ . 15. 162. 16. 312. 17.  $14\frac{2}{3}$ . 18.  $\frac{4}{1}$ . 19. -3.  
21.  $73\frac{2}{3}$ . 22.  $17\frac{1}{2}$ . 23.  $20\frac{5}{6}$ . 24.  $\frac{20}{61}$ .

**CIO 14.** 1.  $a+b+m$ . 2.  $m^2+b^2+x^4$ . 3.  $a+1$ ,  $a+2$ . 4.  $x-1$ ,  $x-2$ . 5.  $y+2$ .  
6.  $6$ . 6.  $\$(a+x+m)$ . 7.  $m-n$ . 8.  $bs.(x-6)$ . 9.  $(x-m)$  Km. 10.  $\$(x+a-m)$ .  
 $(a+b+c)$  Km. 12.  $\$(n-300)$ . 13.  $(365-x)$  ds. 14.  $\$8a$ ;  $\$15a$ ;  $\$ma$ .  
 $3b+\frac{c}{2}$ . 16.  $a \times b$  m<sup>2</sup>. 17.  $23n$  m<sup>2</sup>. 18.  $x^2$  m<sup>2</sup>. 19.  $\$(3a+6b)$ ;  $\$(ax+bm)$ .  
 $b)(x+y)$ . 21.  $\$(x+6)8$ . 22.  $bs.(a-8)(x+4)$ . 23.  $\frac{75}{x}$  sucres. 24.  $\frac{n}{m}$ .  
colonos. 26.  $\frac{x}{n-3}$  soles. 27.  $\frac{m}{14}$  m. 28.  $\frac{x-1}{4}$  Km. 29.  $\frac{6-b}{m-2}$ . 30.  $(x+2x+\frac{x}{2})$  hab.  
 $0-(a+\frac{n}{5}+\frac{x}{2})$  sucres.

**CIO 15.** 1.  $m+n$ . 2.  $m-n$ . 3.  $4b-3a$ . 4.  $5b-6a$ . 5. 1. 6. 3. 7.  $3y-2x$ .  
m. 9.  $12a$ . 10.  $-13x$ . 11.  $-3m$ . 12.  $-6ab$ . 13.  $-10xy$ . 14.  $-10mn$ .  
 $\frac{2}{5}b$ . 16.  $\frac{3}{5}b+\frac{3}{4}c$ . 17.  $b$ . 18.  $-xy$ . 19.  $-abc$ . 20.  $-\frac{29}{8}x^2y$ . 21.  $-\frac{5}{8}mn$ .  
 $+c$ . 23.  $a-b+c$ . 24.  $a-b+2c$ . 25.  $3m-2n+4p$ . 26.  $a^2-7ab-5b^2$ .  
 $3xy-4y^2$ . 28.  $x^3-x^2y+6$ . 29.  $5a-b$ . 30.  $-m-4n$ . 31.  $a-b$ . 32.  $\frac{2}{3}y-\frac{1}{4}x$ .  
 $n-\frac{2}{3}mn$ . 34.  $3b^2+5ab-8a^2$ . 35.  $10mn^2-9m$ . 36.  $5-4x^2y-6x^3$ .  
 $+3xy+7y^2$ . 38.  $-9a^2b-6ab^2-7b^3$ . 39.  $m^3-m^2n+7mn^2-n^3$ . 40.  $\frac{1}{4}a+\frac{15}{16}b-6$ .  
42.  $m^3-8m^2n-7mn^2$ . 43.  $8x-17y-2z$ . 44.  $15a^2-5ab-15b^2-11$ . 45.  $2xy^3-4y^4-8$ .  
 $-\frac{1}{2}b+2$ . 47.  $\frac{5}{4}x^2+\frac{1}{3}xy$ . 48.  $8a^{x^2}$ . 49.  $\frac{7}{4}x^2-xy+\frac{19}{5}y^2$ . 50.  $\frac{3}{2}a^2b+\frac{1}{6}ab^3$ .

**CIO 16.** 1.  $5a+5b$ . 2.  $-c$ . 3. 0. 4.  $3x$ . 5.  $2b$ . 6.  $-4x$ . 7.  $-2x$ .  
 $-4n-8$ . 9.  $-6a-c$ . 10.  $-2ab$ . 11.  $ay+az$ . 12.  $-2x+23$ . 13.  $am-4mn$ .  
 $b+4c$ . 15.  $5m-7n$ . 16.  $10a+3b+12c-7$ . 17.  $8x+5z$ . 18.  $19a+3c$ .  
 $+7y-3z-10$ . 20.  $-m+3n+2p-9$ . 21.  $-14a^4+7a^m$ . 22.  $5m^{x+1}-11m^{x+2}+6m^{x+3}$ .  
 $z+2u$ . 24.  $-3a+2c$ . 25.  $2ab$ . 26.  $2a$ .

**CIO 17.** 1.  $2x^2-x$ . 2.  $a^2-ab+b^2$ . 3.  $x^3-x^2+2x+4$ . 4.  $a^4+a^5-3a^2+4a$ .  
 $+3x+6$ . 6.  $4x^2-11x+1$ . 7.  $-4m^2-3mn$ . 8.  $3x-1$ . 9.  $x^2+3xy-2y^2$ . 10.  $-b^2$ .  
 $+6x-1$ . 12.  $2a^3-a^2-11a+15$ . 13.  $-8x^2+9x-6$ . 14.  $2a^2+5a^2b-11ab^2-2b^3$ .  
 $-5x^2y-3xy^2-5y^3$ . 16.  $6mn^2+8n^3$ . 17.  $x^4+x^3+2x^2-3x+11$ . 18.  $a^6+a^5+a^4-2a^3-a^2$ .  
 $3x^4-3x^3-7x^2-3x+2$ . 20.  $a^3+5a-1$ . 21.  $x^4-5x^3y-5x^2y^2+2xy^3+y^4-6$ .  
 $+7xy-y^2$ . 23.  $5a^3-2x^3$ . 24.  $-3a^3+3a^2m-6am^2-6$ . 25.  $2x^6+2x^4y+2x^2y^2+3x^2y^3$ .  
 $a^4+a^3+4$ . 27.  $-2a^4-ab^3-4b^4$ . 28.  $11mn^2$ . 29.  $a^x+6a^{x-1}-3a^{x-2}+a^{x-1}$ .  
 $-3a^{x+2}+a^{x+1}-2a^x$ .

**CIO 18.** 1.  $\frac{1}{2}x^2+\frac{5}{6}xy+\frac{1}{4}y^2$ . 2.  $a^2+\frac{3}{10}b^2$ . 3.  $x^2-\frac{1}{3}xy+\frac{5}{3}y^2$ . 4.  $\frac{3}{4}x^2-\frac{3}{10}xy$ .  
 $\frac{3}{20}ab-\frac{2}{3}b^2$ . 6.  $\frac{1}{2}x^2+\frac{15}{12}xy-\frac{7}{24}y^2$ . 7.  $\frac{5}{4}a^2+\frac{3}{5}a^2b-\frac{7}{8}ab^2-\frac{8}{5}b^3$ . 8.  $\frac{2}{5}x^4+\frac{3}{2}x^3-x^2-\frac{9}{8}x+2$ .  
 $-\frac{1}{2}m^2n-\frac{1}{6}mn^2-\frac{6}{5}n^3$ . 10.  $\frac{1}{6}x^4-\frac{5}{6}x^3y+\frac{17}{8}x^2y^2-\frac{1}{6}xy^3+\frac{5}{14}y^4$ .  
 $x^5-\frac{2}{3}x^4-\frac{7}{12}x^3+\frac{1}{6}x^2+\frac{15}{10}x-4$ . 12.  $-\frac{4}{9}a^2+\frac{1}{14}a^2x-\frac{7}{24}ax^2-\frac{4}{9}x^3$ .  
 $\frac{3}{5}a^5-\frac{10}{7}a^4-\frac{8}{9}a^3+\frac{8}{6}a^2-\frac{7}{6}a$ . 14.  $x^5+\frac{13}{5}x^4y-\frac{2}{10}x^3y^2-\frac{5}{6}x^2y^3-\frac{3}{4}xy^4-\frac{29}{15}y^5$ .

**EJERCICIO 19.** 1.  $2y-8$ ; 0. 2.  $-6x^2+10x-72$ ;  $-172$ . 3.  $-x^4+7x^3y-5x^2y^2+10xy^3-y^4-8$ ;  
3811. 4.  $9m-45n+2$ ;  $-1$ . 5.  $10nx-3ab-cn-5$ ;  $-15$ . 6.  $-4a^2+2ab^2-2b^3+8$ ;  $-42$ .  
7.  $27m^3+m^2n+22mn^2+125n^3-8$ ;  $1\frac{162}{225}$ . 8.  $3x^{x-1}+2y^{y-2}-3m^{z-4}$ ; 21. 9.  $m^{x-3}$ ;  $\frac{4}{9}$ .  
10.  $x^4+6x^2y-4xy^2-y^4+2$ ; 2091. 11.  $\frac{5}{4}a^2-\frac{1}{6}ab+\frac{1}{9}b^2$ ; 6. 12.  $\frac{9}{17}m^2-45mn+\frac{85}{34}n^2+3$ ;  $-2\frac{188}{170}$ .  
13.  $\frac{2}{8}b^2m+\frac{47}{50}cn+8\frac{3}{5}$ ;  $16\frac{58}{100}$ . 14.  $-0.1a^2b+ab^2+0.1b^3+6$ ; 25.5.

**EJERCICIO 20.** 1. -13. 2. -11. 3. -3. 4. 3. 5. 8. 6.  $2a-3b$ . 7.  $3b-2$ .  
8.  $4x-6b$ . 9.  $-5a-6b$ . 10.  $3-8x$ . 11.  $-9a^2-5b^2$ . 12.  $5yz-7xy$ . 13.  $-a$ . 14.  $-14m^3$ .  
15.  $-5x^2y$ . 16.  $18a^3m^2$ . 17. 0. 18.  $77x^2y$ . 19. 0. 20.  $3a^{x+1}-5b^{x+2}$ . 21.  $-8x^{x+2}-11$ .  
22.  $11a^2$ . 23.  $15a^{x-1}$ . 24.  $140b^{x-1}$ . 25.  $25m^4$ . 26.  $5\frac{1}{2}$ . 27.  $\frac{17}{12}$ . 28.  $x^2$ . 29.  $\frac{49}{30}x^{xy}$ .  
30.  $\frac{5}{8}ab^2$ . 31. -5. 32. 8. 33. -3. 34. 9. 35. 0. 36.  $5+2a$ . 37.  $-b-3x$ .  
38.  $-5m-2n$ . 39.  $6a+3b$ . 40.  $5a^3+8b$ . 41.  $9-7a$ . 42.  $25ab+25$ . 43.  $4a$ . 44.  $-b$ .  
45.  $65x^3$ . 46.  $64a^2b$ . 47.  $-11a^2y$ . 48.  $-10ab$ . 49. 0. 50.  $-4a^x$ . 51.  $318a^{x+1}$ .  
52.  $96m^x$ . 53.  $-49a^{x-1}$ . 54.  $-217m^x$ . 55.  $-139a^{x+2}$ . 56.  $6a+\frac{1}{4}$ . 57.  $\frac{13}{8}$ . 58.  $-\frac{43}{40}m^x$ .  
59.  $\frac{7}{4}a^2b^2$ . 60.  $-45\frac{1}{9}a^5b^2$ .

**EJERCICIO 21.** 1.  $2b$ . 2.  $3x-5y$ . 3.  $11a+b-4$ . 4.  $x^2+2x-6$ . 5.  $a^3-8a^2b-9ab^2$ .  
6. 0. 7.  $2x+2y-2z$ . 8.  $-2x^2+xy+3y^2$ . 9.  $x^2-6x^2+4x$ . 10.  $-2y^4+6y^3+4y^2-6y-8$ .  
11.  $a^3-15a^2b-6ab^2+17a-5$ . 12.  $x^4+8x^2y+6x^2y^2+9xy^3-31y^4$ . 13.  $2a+2b$ .  
14.  $-7ab+6ac+2cd-10de$ . 15.  $-5x^3+17x^2-30x+24$ . 16.  $y^6+11y^4-40y^3+14y^2+19y-31$ .  
17.  $27m^2n-22mn^2-9n^3+18$ . 18.  $x^4+29x^2y-38x^2y^2+32xy^3+y^4$ . 19.  $m^4+m^3n^2+13m^2n^3+21m^2n^4-16mn^5+80$ . 20.  $8a^6-a^5b+11a^4b^2+6a^3b^3+11a^2b^4-18ab^5-9b^6+42$ . 21.  $x^6-6x^4-7x^4-x^3+29x^2-12x+25$ . 22.  $8x^5+28x^4y+101x^3y^2-6x^2y^3-9xy^4+y^5-98$ . 23.  $m^6+23m^5n-8m^4n^2-14m^3n^3+21m^2n^4+18mn^5-8n^6+22$ . 24.  $x^7+8x^6+16x^5-25x^4+30x^3-23x^2-59x+3$ .  
25.  $9a^6-25a^5b-53a^4b^2+31a^3b^3+9ab^5-4b^6+14$ . 26.  $-4a^x+7a^{x-1}$ . 27.  $-3m^{x+1}+5m^x-m^{x-1}-2m^{x-2}$ .  
 $8m^{x-3}$ . 28.  $a^{x+4}+5a^{x+3}+7a^{x+2}+11a^{x+1}-8a^x+14a^{x-1}$ . 29.  $x^{6+2}+11x^{x-1}-26x^x-36x^{x+1}+25x^{x-2}-60x^{x-3}$ . 30.  $m^{x+1}-8m^x-11m^{x-2}+2m^{x-3}-m^{x-4}-28m^{x-5}$ .

**EJERCICIO 22.** 1.  $-2a+2b$ . 2.  $x+4y$ . 3.  $-2a-b+5$ . 4.  $-2x^2+5x+6$ . 5.  $-x^3+x^2y+6xy^2$ .  
6.  $8a^3+a^2b+5ab^2$ . 7.  $-2a+3b-5c$ . 8.  $3m-2n+4p$ . 9.  $2x+2y-5z$ . 10.  $-2a^2+7ab+b^3$ .  
11.  $-6m^2+9mn$ . 12.  $x^3-8x^2+6x-10$ . 13.  $-m^3-8n+7$ . 14.  $7ab+6bc$ . 15.  $a^3-34a^2b+8ab^3$ .  
16.  $6x^3-8x^2y-7xy^2+6y^3-4$ . 17.  $-16n+19c-d+14$ . 18.  $5a^4+2a^3b+8a^2b^2-45ab^3+5b^4$ .  
19.  $x^5-8x^4-6x^3+19x^2+9x+22$ . 20.  $-x^5-8x^3y^2+x^2y^3-9xy^4-44y^3+18$ . 21.  $11x^3-6x^4-24x^3+26x^2-10x+37$ . 22.  $a^3-8a^4b-27a^3b^2+15a^2b^3+53ab^4-b^5+14$ . 23.  $y^6+15y^5-8y^4-22y^3+y^2+8y+14$ . 24.  $x^6-7x^5-x^6-5x^5+3x^4+23x^3-5x^2-51x-45$ . 25.  $x^7-3x^6y^2+95x^4y^3-90x^3y^4-7x^2y^5+50xy^6-y^7+60$ . 26.  $a^{x+3}-a^{x+2}-3a^{x+1}+6a^x-5$ . 27.  $-15a^6-8a^{x-1}+10a^{x-2}+16a^{x-4}$ .  
28.  $x^{x+4}+15x^{x+3}+14x^{x+2}-31x^{x+1}-6x^x+59x^{x-1}$ . 29.  $a^{x+1}+14a^{x-1}-33a^{x-2}+26a^{x-3}+8a^{x-4}+14a^{x-5}$ .  
30.  $m^{x+4}-15m^{x+3}+23m^{x+2}+56m^{x+1}-14m^x-5m^{x-1}+8m^{x-2}$ .

**EJERCICIO 23.** 1.  $2-a$ . 2.  $8-a$ . 3.  $-a^2-3a-4$ . 4.  $x^2-5xy$ . 5.  $-a^3+a^2b-ab^2+1$ .  
6.  $2x^3+8x^2y+6xy^2$ . 7.  $a^3+8a^2b-6ab^2+b^3$ . 8.  $y^4+8xy^3-7x^2y^2+5x^3y$ . 9.  $a^4-a^3m-7a^2m^3+18am^3-4m^4$ .  
10.  $a-b-c-d+30$ . 11.  $x^2-xy-y^2-1$ . 12.  $a^5-5a^2b+8ab^2-b^3+6$ . 13.  $x^3+3x^2y-17xy^2+y^3+5$ . 14.  $x^4-9x^3y+8x^2y^2+15xy^3-1$ . 15.  $a^2+11a^4b-8a^3b^2-2a^2b^3+4ab^4+b^5$ .  
16.  $x^4-5x^3+x^2+25x+50$ . 17.  $y^6-9y^3-17y^4+y^3-18y^2+y-41$ . 18.  $a^6+15a^5b+9a^4b^2-17a^3b^3+a^2b^4+14ab^5+b^6$ . 19.  $x^4+x^3+x^2-16x+34$ . 20.  $m^3-m^2n-7mn^2+3n^3-1$ .

**EJERCICIO 24.** 1.  $\frac{5}{4}a^2+\frac{1}{3}ab-\frac{2}{5}b^2$ . 2.  $-\frac{4}{5}xy-\frac{2}{3}yz+15\frac{5}{6}$ . 3.  $\frac{8}{4}ab+\frac{13}{30}bc+\frac{2}{9}cd$ .  
4.  $-\frac{5}{10}a-\frac{8}{9}b+\frac{1}{2}$ . 5.  $\frac{6}{9}x^2-\frac{5}{7}xy-\frac{19}{40}y^2+\frac{3}{11}$ . 6.  $\frac{5}{6}m^3+\frac{1}{2}m^2n-\frac{3}{8}mn^2+\frac{19}{45}n^3$ . 7.  $\frac{1}{14}a^2-\frac{1}{6}ab-\frac{3}{5}b^2+\frac{1}{8}$ .  
8.  $\frac{39}{40}x^2+\frac{17}{15}xy-\frac{21}{10}y^3$ . 9.  $a^3+\frac{10}{9}a^2-\frac{19}{10}a-\frac{1}{24}$ . 10.  $m^3+\frac{5}{21}m^2n+\frac{1}{30}mn^2-\frac{11}{7}n^3+\frac{1}{8}$ .



**CICLO 25.** 1.  $-\frac{11}{24}a^2 - \frac{5}{6}a$ . 2.  $\frac{15}{2}a + \frac{33}{5}b - 5$ . 3.  $x^3 - \frac{1}{9}x^2y - 6$ . 4.  $\frac{1}{2}a + \frac{7}{4}b - \frac{5}{8}c$ .

5.  $m - \frac{1}{6}n + \frac{3}{2}p$ . 6.  $-\frac{5}{9}a^3 + \frac{6}{5}a^2b + \frac{9}{8}ab^2 - \frac{19}{3}$ . 7.  $m^4 + \frac{2}{11}m^3n - \frac{29}{24}m^2n^2 + \frac{5}{9}mn^3 - 6$ .

8.  $-\frac{7}{8}x^4y - \frac{5}{14}x^3y^2 + \frac{2}{3}x^2y^3 + \frac{11}{24}xy^4 - 7\frac{2}{3}$ . 9.  $-x^6 + \frac{7}{9}x^5y + \frac{13}{9}x^4y^2 - \frac{1}{9}x^3y^3 - \frac{12}{11}x^2y^4 + \frac{16}{13}y^6$ .

10.  $-\frac{11}{18}x^2y - \frac{1}{9}xy^2 - \frac{7}{11}y^3 - \frac{83}{5}$ . 11.  $\frac{2}{13}m^6 + \frac{18}{20}m^4n^2 - \frac{11}{14}m^2n^4 + \frac{2}{9}n^6 + \frac{5}{6}$ . 12.  $\frac{8}{5}c^5 + \frac{17}{22}c^4d +$

$+\frac{1}{2}c^2d^3 - \frac{3}{4}cd^4 - \frac{29}{39}d^5 - 35$ .

**CICLO 26.** 1.  $a^2 - 4ab - b^2$ ; -11. 2.  $a^3 + 5a^2b - 6ab^2 + 3b^3$ ; 11. 3.  $-\frac{1}{2}a - \frac{1}{2}b + \frac{5}{3}c$ ;  $3\frac{1}{2}$ .

4.  $a^2 - 8mn - 15n^2$ ;  $-\frac{27}{10}$ . 5.  $x^4 + 16x^3y - 18x^2y^2 + 6xy^3 + 6y^4$ ; 4926. 6.  $a^3 - 8a^2m - 2am^2 +$

$\frac{19}{4}$ . 7.  $\frac{1}{2}a^2 - \frac{1}{5}ab - \frac{1}{10}b^2$ ;  $-\frac{8}{20}$ . 8.  $m^3 + \frac{5}{6}m^2n + mn^2$ ;  $\frac{573}{200}$ . 9.  $a^5 - a^4b^2 + 5a^3b^3 -$

$+b^5$ ; 21. 10.  $-16ab + 10mn - 8mx$ ; -74. 11.  $a^2 - 11a^2b + 9ab^2 - b^3$ ; 7. 12.  $\frac{1}{64}x^4 - \frac{2}{3}x^2 -$

$\frac{9}{8}$ ;  $-9\frac{5}{8}$ . 13.  $\frac{1}{4}x^2 + \frac{3}{10}x^2y + \frac{1}{5}xy^2 + \frac{1}{25}y^3$ ; 56. 14.  $a^2 - \frac{5}{5}a^{x-1} + \frac{49}{6}a^{x-2}$ ;  $\frac{17}{30}$ .

**CICLO 27.** 1.  $-ab + 4b^2$ . 2. -13. 3.  $x^3 - 12x^2y - 4xy^2 - y^3$ . 4.  $5m^3 - 4n^3$ . 5.  $5a$ .

6.  $-b - c$ . 7. 0. 8.  $-24x^2 - 5ax - 3a^2$ . 9.  $-a^3 - 5a^2 + 2a - 3$ . 10.  $12x^4 + 2x^3 + 9x^2 + 6x - 5$ .

11.  $a^3 - ab^2 + b^3 + 5$ . 12.  $n^5 + 11n^4 - 26n^3 - 8n^2 + 20n - 4$ . 13.  $-6a^4 + 11a^3m + 3a^2m^2 - 5am^3 +$

$-6$ . 14.  $7x^5 + 4x^4y - 38x^3y^2 - 13x^2y^3 + 48xy^4 + 3y^5$ . 15.  $b$ . 16.  $8x + 6y + 6$ . 17.  $x^2 - 7xy +$

$-16$ . 18.  $a^2 + 2b^2$ . 19.  $4x^3 - 14x^2y + 5xy^2 - 30y^3$ . 20. 0. 21.  $n^4 - 6n^3 + 4n^2 + 15n^2 - 8n - 25$ .

22.  $5 + 17a^4b + 7a^3b^2 + 7a^2b^3 - 5ab^4 - 2b^5$ . 23.  $m^3 - 3m^2 - 5m^2 + 6m - 1$ . 24.  $2b^2 - 4$ .

25.  $-6a + 7b - 11$ . 26.  $a^5 - 2a^4 + 8a^3 + 17a^2 - 10a + 1$ . 27.  $5m^4 + 11m^3n + 11m^2n^2 + 11mn^3 - 17n^4$ .

28.  $a^5 + 7a^4b - 3a^3b^2 - 24a^2b^3 + ab^4 - 2b^5 - 6$ . 29.  $29x^4y - 47x^3y^2 - 2xy^4 + y^5$ . 30.  $8a^{x+2} -$

$-5a^x + 13a^{x-1} - a^{x-2}$ .

**CICLO 28.** 1.  $x^2 + 2x - 3$ . 2.  $-3a + b + c$ . 3.  $6x^3 + 2x^2 - 8x + 3$ . 4.  $-a^4 + a^3 + a^2 - a$ .

5.  $3ab - 6bc - 9$ . 6.  $10a^2x - 14ax^2$ . 7.  $x^4 + 6x^3 - 12x^2 + 4x + 1$ . 8.  $m^4 + 17m^3n + 3m^2n^2 -$

$-81n^4 - 2$ . 9.  $a^5 - 11a^3 - 4a^2 - 3a + 42$ . 10.  $17x^2 + 14$ . 11.  $a^2 - 2a + 1$ . 12.  $-ab + 5b^2$ .

13.  $n^5 - 17m^4 + m^2 + 13m - 24$ . 14.  $-x^5 + 9x^4y + x^3y^2 + 7x^2y^3 + 4xy^4 + 4y^5 + 7$ . 15.  $a^4 + 8a^3 -$

$2a^2 + 44a^2 - 44a$ . 16.  $11a^4x - a^3x^2 - 10a^2x^3 + 26ax^4 - 5x^5 + 99$ .

**CICLO 29.** 1.  $\frac{6}{12}a - \frac{5}{4}b$ . 2.  $\frac{4}{3}a^3 - \frac{8}{9}a + c$ . 3.  $\frac{2}{5}a + \frac{6}{2}b + 6$ . 4.  $-\frac{7}{6}x^3 + \frac{5}{12}x^2 + \frac{2}{9}x - \frac{31}{6}$ .

5.  $a^4 - \frac{3}{7}a^3 + \frac{2}{5}a^2 - \frac{1}{5}a - \frac{17}{5}$ . 6.  $\frac{1}{2}x + \frac{18}{20}z - \frac{17}{5}$ . 7.  $\frac{1}{2}a^3 + \frac{11}{8}a^2b + \frac{1}{32}ab^2$ . 8.  $\frac{1}{2}a - \frac{7}{10}c$ .

9.  $a + \frac{1}{40}$ . 10.  $\frac{87}{18}y^2 + \frac{5}{4}$ . 11.  $-\frac{2}{7}a^3 - \frac{7}{5}b^3 - \frac{7}{10}$ . 12.  $-\frac{1}{4}m^3n - \frac{11}{60}m^2n^2 + \frac{1}{4}mn^3 - \frac{2}{5}n^4$ .

13.  $-\frac{1}{2}x - \frac{13}{12}y - \frac{7}{20}z + \frac{1}{4}m - \frac{1}{2}n + \frac{57}{8}$ . 14.  $-\frac{13}{24}a^4 - \frac{1}{2}a^2 + \frac{1117}{204}$ .

**CICLO 30.** 1.  $-x^3 + x^2 + 3x - 11$ . 2.  $5a - 9b + 6c + 8x + 9$ . 3.  $-a^3 - 8a^2b + 5ab^2 - 3b^3$ .

4.  $-4x^2 - x + 13$ . 5.  $m^4 - 4m^2n^2 - 3mn^3 + 6n^4 + 8$ . 6.  $4x^3 + 5x^2 - 5x - 2$ . 7. De  $5a^2 + 8ab^2 -$

1. 8.  $\frac{1}{2}x - \frac{1}{3}y - 4$ . 9.  $-5x^2 + 7xy + 8y^2 + 1$ . 10.  $10m^3 - 8m^2n + 5mn^2 - 2n^3$ . 11. De 0.

**CICLO 31.** 1.  $y$ . 2.  $5 - 3x$ . 3.  $3a + b - 3$ . 4.  $6m + n$ . 5.  $-2x$ . 6.  $a$ . 7.  $2a^2$ .

8.  $-x^2 - 2xy + y^2$ . 9.  $5 - 6m$ . 10.  $x - y + 2z$ . 11.  $-2b$ . 12.  $2y^2 + 3xy - 3x^2$ .

13.  $3x^2 + 4y^2$ . 14. 0.

**CICLO 32.** 1.  $2a - b$ . 2.  $4x$ . 3.  $2m + 2n$ . 4.  $6x^2 + 3xy - 4y^2$ . 5.  $a + c$ . 6.  $2 - 5n$ .

7.  $-2x$ . 8.  $2x^2 + 4xy + 3y^2$ . 9.  $a - 2b$ . 10.  $-3x + y$ . 11.  $3a - 7b$ . 12.  $7m^2 + 2n - 5$ .

13.  $b$ . 14.  $5x - 5y + 6$ . 15.  $6a + 7c$ . 16.  $-6m + 2n + 1$ . 17.  $-a - 5b - 6$ . 18.  $-4$ . 19.  $b$ .

20.  $-3a - 3b$ . 21.  $-a + b + 2c$ . 22.  $-2m + 4n - 7$ . 23.  $2y - z$ . 24.  $3a + b + c$ .

**EJERCICIO 33.** 1.  $a + (-b + c - d)$ . 2.  $x^2 + (-3xy - y^2 + 6)$ . 3.  $x^3 + (4x^2 - 3x + 1)$ .

4.  $a^3 + (-5a^2b + 3ab^2 - b^3)$ . 5.  $x^4 - x^3 + (2x^2 - 2x + 1)$ . 6.  $2a^2 - (-b + c - d)$ . 7.  $x^3 - (-x^2 -$

$3x + 4)$ . 8.  $x^3 - (5x^2y - 3xy^2 + y^3)$ . 9.  $a^2 - (x^2 + 2xy + y^2)$ . 10.  $a^2 - (-b^2 + 2bc + c^2)$ .

**EJERCICIO 34.** 1.  $x - [-2y - (x - y)]$ . 2.  $4m - [2n - 3 + (-m + n) - (2m - n)]$ . 3.  $x^2 - \{3xy -$

$[(x^2 - xy) + y^2]\}$ . 4.  $x^3 - \{3x^2 - [-4x + 2] + 3x + (2x + 3)\}$ . 5.  $2a - (-3b + \{-2a + (a + (b - a))\})$ .

6.  $-[2a - (-3a + b)]$ . 7.  $-[-2x^2 - 3xy + (y^2 + xy) - (-x^2 + y^2)]$ . 8.  $-\{-x^3 + [-3x^2 + 4x - 2]\}$ .

9.  $-\{-[m^4 - (3m^2 + 2m + 3)] - (-2m + 3)\}$ .

**EJERCICIO 35.** 1. -6. 2. 32. 3. -240. 4.  $-a^2b^2$ . 5.  $-6x^3$ . 6.  $4a^3b^3$ . 7.  $-5x^4y^3$ .

8.  $3a^3b^3x$ . 9.  $20m^3n^2p$ . 10.  $-30a^2x^2y$ . 11.  $4x^2y^6z^4$ . 12.  $abc^2d$ . 13.  $240a^2x^7y^3$ .

14.  $-12a^2b^3x^2y$ . 15.  $21a^2b^4x^4$ . 16.  $72a^2m^3n^4x^4$ . 17.  $-a^{2+1}b^{2+1}$ . 18.  $30a^{m+2}b^{n+3}x$ .

19.  $-c^{x+1}x^{2m}y^{2n}$ . 20.  $6m^{x+2}n^{y+1}$ .

**EJERCICIO 36.** 1.  $a^{2m+1}$ . 2.  $x^{2n+2}$ . 3.  $-4a^{2+1}b^{2n+1}$ . 4.  $-a^{2n+3}b^{2n+2}$ . 5.  $12a^{2n+6}b^{2n+4}$ .

6.  $12x^{m+3}y^{m+5}$ . 7.  $-20x^{2n+7}b^{2n+5}$ . 8.  $-a^{2m}b^{3n}c$ . 9.  $4c^2x^{2m-2}y^{2n-3}$ . 10.  $35cm^{3n-3}n^{2n-5}$ .

**EJERCICIO 37.** 1.  $\frac{2}{5}a^5b$ . 2.  $\frac{3}{14}a^2m^3n$ . 3.  $-\frac{2}{5}a^2x^6y^4$ . 4.  $\frac{1}{10}a^3m^5n^5$ . 5.  $-\frac{1}{4}a^4bc$ .

6.  $\frac{1}{2}a^2bx^2y^3$ . 7.  $\frac{1}{5}a^{m-1}$ . 8.  $\frac{3}{10}a^{m+1}b^8$ . 9.  $-\frac{1}{4}a^{2n+1}b^{n-2}c$ . 10.  $\frac{2}{15}a^{2n-1}b^{2n+1}$ . 11.  $-\frac{8}{10}a^{3m}b^{3n}$ .

12.  $\frac{8}{7}a^{2x-2}b^{x-1}c^2$ .

**EJERCICIO 38.** 1.  $-3a^4$ . 2.  $3a^2x^6y$ . 3.  $-15m^5n^4$ . 4.  $20a^6x^2y^2$ . 5.  $-6a^{m+3}b^{n+1}$ .

6.  $\frac{1}{5}a^2mx^4$ . 7.  $-\frac{3}{2}a^{m+6}b^{n+3}$ . 8.  $-\frac{3}{10}a^{x+2}m^{n+4}$ . 9.  $24a^7$ . 10.  $-60a^6b^4x$ . 11.  $-6a^{m+3}b^{n+1}x$ .

12.  $\frac{3}{4}x^3y^4$ .

**EJERCICIO 39.** 1.  $-6x^4 + 2x^3$ . 2.  $16ax^3y - 6ax^3y^2$ . 3.  $-2x^3 + 8x^2 - 6x$ . 4.  $3a^4b -$

$12a^3b + 18a^2b$ . 5.  $-a^3b + 2a^2b^2 - ab^3$ . 6.  $3a^2x^7 - 18a^2x^5 - 24a^2x^3$ . 7.  $-4m^7x + 12m^5n^3x -$

$28m^3n^4x$ . 8.  $ax^6y - 4ax^5y^2 + 6ax^4y^3$ . 9.  $-4a^7m^2 + 20a^6bm^2 + 32a^5b^2m^2$ . 10.  $-2a^{m+1} +$

$2a^m - 2a^{m-1}$ . 11.  $3x^{3m+1} + 9x^{3m} - 3x^{3m-1}$ . 12.  $3a^{m+2}b^{n+1} + 3a^{m+1}b^{n+2} - 3a^mb^{n+3}$ . 13.  $-4x^4 + 12x^3 -$

$20x^2 + 24x^2$ . 14.  $3a^4bx^3 - 18a^3bx^4 + 27a^2bx^5 - 24bx^3$ . 15.  $-a^{2n+3}x^2 + 3a^{2n+2}x^2 + 4a^{2n+1}x^2 + a^{2n}x^2$ .

16.  $-3a^2x^7 + 18a^2x^6 - 24a^2x^5 + 21a^2x^4 - 15a^2x^3$ . 17.  $-15a^2x^4y^2 + 25a^2x^3y^3 - 35a^2x^2y^4 - 20a^2xy^5$ .

18.  $-2x^{n+7} + 6x^{n+6} - 2x^{n+5} + 10x^{n+4}$ . 19.  $-5a^{11}y^2 + 15a^{10}b^2y^2 - 5a^9b^4y^2 + 15a^8b^6y^2 - 5a^7b^8y^2$ .

20.  $4a^{2m}b^{n+3} + 12a^{2m-1}b^{n+2} - 4a^{2m-2}b^{n+1} + 4a^{2m-3}b^n$ .

**EJERCICIO 40.** 1.  $\frac{1}{5}a^3 - \frac{4}{15}a^2b$ . 2.  $-\frac{4}{9}a^4b + \frac{1}{2}a^3b^2$ . 3.  $-a^2c^2 + \frac{6}{15}abc^2 - \frac{2}{3}ac^3$ . 4.  $\frac{8}{9}a^4x +$

$a^3bx - \frac{2}{3}a^2b^2x$ . 5.  $\frac{1}{2}x^2y^3 - \frac{3}{5}xy^4 - \frac{3}{8}y^5$ . 6.  $-\frac{9}{10}a^3x^3 + \frac{3}{2}a^2bx^3 - \frac{2}{5}a^2cx^3$ . 7.  $\frac{2}{21}x^7y^4 - \frac{8}{7}x^6y^4 +$

$\frac{1}{7}x^3y^8$ . 8.  $-\frac{5}{16}a^4m + \frac{5}{24}a^2b^2m - \frac{5}{32}a^2mx^2 + \frac{1}{8}a^2my^2$ . 9.  $\frac{1}{2}m^2n^3 + \frac{3}{8}m^4n^4 - \frac{5}{8}m^3n^5 - \frac{1}{12}m^2n^6$ .

10.  $-\frac{2}{7}a^3x^{10}y^3 + \frac{5}{21}a^2x^3y^5 - \frac{3}{7}a^2x^6y^7 + \frac{1}{14}a^2x^4y^6$ .

**EJERCICIO 41.** 1.  $a^2 + 2a - 3$ . 2.  $a^2 - 2a - 3$ . 3.  $x^2 + x - 20$ . 4.  $m^2 - 11m + 30$ .

5.  $x^2 - 8x + 15$ . 6.  $a^2 + 5a + 6$ . 7.  $6x^2 - xy - 2y^2$ . 8.  $-15x^2 + 22xy - 8y^2$ . 9.  $5a^2 + 8ab - 21b^2$ .

10.  $14x^2 + 22x - 12$ . 11.  $-8a^2 + 12ab - 4b^2$ . 12.  $6m^2 - 11mn + 5n^2$ . 13.  $32n^2 + 12mn - 54m^2$ .

14.  $-14y^2 + 71y + 33$ .

**EJERCICIO 42.** 1.  $x - y^3$ . 2.  $a^3 - 3a^2b + 3ab^2 - b^3$ . 3.  $a^3 + 3a^2b + 3ab^2 + b^3$ . 4.  $x^4 - 9x^3 +$

$x + 3$ . 5.  $a^4 - 2a^2 + a$ . 6.  $m^6 - n^6$ . 7.  $2x^4 - x^3 + 7x - 3$ . 8.  $3y^5 + 5y^2 - 12y + 10$ . 9.  $am^4 - am - 2a$ .

10.  $12a^2 - 35a^2b + 33ab^2 - 10b^3$ . 11.  $15m^5 - 5m^4n - 9m^3n^2 + 3m^2n^3 + 3mn^4 - n^5$ . 12.  $a^4 - a^2 - 2a - 1$ .

13.  $x^5 + 12x^2 - 5x$ . 14.  $m^6 - 5m^4n + 20m^2n^3 - 16mn^4$ . 15.  $x^4 - x^2 - 2x - 1$ . 16.  $x^6 - 2x^5 + 6x^3 -$

$7x^2 - 4x + 6$ . 17.  $m^6 + m^5 - 4m^4 + m^3 - 4m - 1$ . 18.  $a^5 - a^4 + 7a^2 - 27a + 10$ . 19.  $-x^4 + 3x^2y -$



3y<sup>4</sup>. 20.  $n^4 - 2n^3 + 2n - 1$ . 21.  $a^3b - 5a^4b^2 + 22a^2b^4 - 40ab^5$ . 22.  $16x^4 - 24x^2y^2 - 27y^4$ .  
 $4 + 4y^2 - 13y^2 - 3y - 20$ . 24.  $-3x^5 - 11ax^4 + 5a^2x^2 + 3a^4x - 2a^5$ . 25.  $-x^6 + 2x^5y - 3x^4y^2 - xy^6$ .  
 $-5a^3 + 31a^2 - 8a + 21$ . 27.  $m^6 - m^5 + 5m^3 - 6m + 9$ . 28.  $a^6 - a^5b - 4a^4b^2 + 6a^3b^3 - 3ab^5 + b^6$ .  
 $-2x^4y^2 + 2x^3y^3 - 2x^2y^4 + 3xy^5 - 2y^6$ . 30.  $y^6 - 2y^5 - y^4 + 4y^3 - 4y + 2$ . 31.  $3m^7 - 11m^6 + m^4 +$   
 $-3m^2 - 8m + 4$ . 32.  $a^6 + 2a^5 - 2a^4 - 3a^3 + 2a^2 - a - 1$ . 33.  $24x^5 - 52x^4y + 38x^3y^2 - 33x^2y^3 -$   
 $4y^5$ . 34.  $5a^6 - 4a^5 - 8a^4 + 5a^3 + 5a^2 - 2a^2 + 6a^2 - 6a - 2$ . 35.  $x^7 - 3x^6 + 6x^5 + x^2 - 3x + 6$ .  
 $0 + 5a^5 - 9a^4 - 10a^3 + 8a^2 + 3a - 4$ . 37.  $5y^8 - 3y^7 - 11y^6 + 11y^5 - 17y^4 - 3y^3 - 4y^2 - 2y$ .  
 $n^7 + 5m^4n - 14n^5m^2 + 20m^4n^3 - 13m^3n^4 - 9m^2n^5 + 20mn^6 - 4n^7$ . 39.  $x^{11} - 5x^9y^2 + 8x^7y^4 -$   
 $5x^5y^6 + 3xy^{10}$ . 40.  $3a^6 - 15a^5 + 14a^4 - 28a^3 + 47a^2 - 28a + 10$ . 41.  $a^2 - b^2 + 2bc - c^2$ .  
 $+xy - 2y^2 + 3yz - z^2$ . 43.  $-2x^2 + 5xy - xz - 3y^2 - yz + 10z^2$ . 44.  $x^8 - 3xyz + y^8 + z^3$ .

CICLO 43. 1.  $a^{x+3} + a^x$ . 2.  $x^{n+2} + 3x^{n+3} + x^{n+4} - x^{n+5}$ . 3.  $m^{n+4} - m^{n+3} + 6m^{n+1} - 5m^n + 3m^{n-1}$ .  
 $2 + 4a^{2n+2} + a^{2n+1} - 2a^{2n}$ . 5.  $x^{2n+5} + 2x^{2n+4} - 3x^{2n+3} - 4x^{2n+2} + 2x^{2n+1}$ . 6.  $a^{x+2} - 2a^x + 8a^{x-1} - 3a^{x-2}$ .  
 $+ 2a^{2x-1} - 4a^{2x-2} + 5a^{2x-3} - 2a^{2x-4}$ . 8.  $m^{2n-2} - m^{2n-1} - 4m^{2n} + 2m^{2n+1} + 2m^{2n+2} - m^{2n+3}$ .  
 $2 + x^{2n-1} - 4x^{2n-4} - x^{2n-7}$ . 10.  $a^{2n}b^3 - a^{2n-1}b^4 + a^{2n-2}b^5 - 2a^{2n-3}b^6 + a^{2n-4}b^7$ . 11.  $a^{n+3} + a^mb^4 +$   
 $b^{n+3}$ . 12.  $a^x - ab^{x-1} - a^{x-1}b + b^n$ . 13.  $3a^{3n+3} - 23a^{5n+2} + 5a^{5n+1} + 46a^{5n} - 30a^{5n-1}$ .  
 $2x^{3n+1}y^{2n-3} + 4x^3y^{2n-2} + 28x^{3n-2}y^{2n} - 30x^{3n-3}y^{2n+1}$

CICLO 44. 1.  $\frac{1}{6}a^2 + \frac{5}{30}ab - \frac{1}{6}b^2$ . 2.  $\frac{1}{3}x^2 + \frac{7}{10}xy - \frac{1}{3}y^2$ . 3.  $\frac{1}{3}x^3 - \frac{35}{90}x^2y + \frac{2}{3}xy^2 - \frac{8}{9}y^3$ .  
 $-\frac{5}{8}a^2b + \frac{5}{8}ab^2 - b^5$ . 5.  $\frac{3}{5}m^4 + \frac{1}{10}m^3n - \frac{17}{60}m^2n^2 + \frac{7}{60}mn^3 - n^4$ . 6.  $\frac{8}{4}x^5 + \frac{1}{2}x^4 - \frac{37}{40}x^3 +$   
 $\frac{10}{30}x^2 - \frac{4}{5}$ . 7.  $a^4 - \frac{25}{10}a^3x + \frac{19}{12}a^2x^2 + ax^3 - \frac{3}{4}x^4$ . 8.  $\frac{1}{14}x^5 - \frac{101}{420}x^4y + \frac{129}{280}x^3y^2 - \frac{1}{2}x^2y^3 + \frac{9}{12}xy^4$ .  
 $+\frac{21}{40}x^4 - \frac{47}{120}x^5 + \frac{79}{120}x^2 + \frac{1}{10}x - \frac{1}{10}$ . 10.  $\frac{1}{2}m^5 - \frac{5}{6}m^4n + \frac{99}{60}m^3n^2 - \frac{101}{60}m^2n^3 + \frac{7}{6}mn^4 - \frac{5}{8}n^5$ .

CICLO 45. 1.  $x^5 - x^4 + x^2 - x$ . 2.  $x^7 + x^5 - 11x^5 + 3x^4 - 13x^3 + 19x^2 - 56$ . 3.  $a^6 + a^5b -$   
 $+ 12a^3b^3 - 13a^2b^4 + 7ab^5 - b^6$ . 4.  $m^6 - 5m^5n + 2m^4n^2 + 20m^3n^3 - 19m^2n^4 - 10mn^5 - n^6$ .  
 $-2x^6 - 50x^4 + 58x^2 - 15$ . 6.  $a^{14} - 7a^{12} + 9a^{10} + 23a^8 - 52a^6 + 42a^4 - 20a^2$ . 7.  $3x^{15} - 20x^{12} +$   
 $70x^9 - 46x^3 - 20$ . 8.  $m^{25} - 12m^{24} + 53m^{23} - 127m^{16} + 187m^{12} - 192m^8 + 87m^4 - 45$   
 $- 6x^6y - 8x^5y^2 - 20x^4y^3 - 24x^3y^4 - 18x^2y^5 - 4y^7$ . 10.  $6a^9 - 12a^7 + 2a^6 - 36a^5 + 6a^4 - 16a^3 +$   
 $44a + 14$ . 11.  $n^{10} - 6n^8 + 5n^7 + 13n^6 - 23n^5 - 8n^4 + 44n^3 - 12n^2 - 32n + 16$ . 12.  $3x^7 - 4x^6y -$   
 $+ 29x^4y^3 - 13x^3y^4 + 5xy^5 - 3y^7$ . 13.  $x^{10} - 4x^{14}y^2 - 10x^{12}y^4 + 21x^{10}y^6 + 28x^2y^8 - 23x^6y^{10} +$   
 $+ 33x^2y^{14} - 6y^{10}$ . 14.  $a^{m+2} - 3a^{m+1} - 5a^m + 20a^{m-1} - 25a^{m-2}$ . 15.  $7a^{2n+5} - 35a^{2n+4} + 6a^{2n+3} -$   
 $- 25a^{2n+1} - 42a^{2n} - 7a^{2n-1}$ . 16.  $6x^{2n+5} - 4x^{2n+2} - 28x^{2n+1} + 21x^{2n} - 46x^{2n-1} + 19x^{2n-2} - 12x^{2n-3} -$   
 $- 17. 6a^{5n+3} - 23a^{5n+2} + 12a^{5n+1} - 34a^{5n} + 22a^{5n-1} - 15a^{5n-2}$ .

CICLO 46. 1.  $4a^2 + 8a - 60$ . 2.  $3a^2x^2 - 3a^2$ . 3.  $2a^5 - 26a + 24$ . 4.  $x^6 + x^4 - x^2 - 1$ .  
 $4 - 28m^3 + 52m^2 + 48m$ . 6.  $a^4 - 2a^3b + 2ab^3 - b^4$ . 7.  $3x^5 - 6x^4 + 6x^2 - 3x$ . 8.  $x^5 - 2x^4 -$   
 $x^2 - 5x + 2$ . 9.  $a^{2m-2} + a^{2m-1} - 3a^{2m-2} - 2a^{2m-3} + 6$ . 10.  $a^4 - 6a^3 + 11a^2 - 6a$ .  
 $- 3x^3 - 21x^2 + 43x + 60$ . 12.  $x^7 + x^6 - x^5 - x^4 - 9x^3 - 9x^2 + 9x + 9$ . 13.  $108a^6 - 180a^5 +$   
 $45a^3 - 18a^2$ . 14.  $a^{3x-2}b^x - a^{6x+4}$ .

CICLO 47. 1.  $9x + 22$ . 2.  $8x^2 + 31$ . 3.  $10a^2 + ax$ . 4.  $x^2 - x^2y^2 + y^2$ . 5.  $3m^4 + m^3 +$   
 $- 2mn^2$ . 6.  $-y^3 + 3y^2$ . 7.  $-x^2 - 6x + 6$ . 8.  $-2a^2 + 5a + 7$ . 9.  $-14a^2 + 5ab + 5b^2$ .  
 $ac$ . 11.  $2x^2 + 14xy - 4y^2$ . 12.  $-2m^2 - 10mn + 16n^2$ . 13.  $-2x^2 + x - 5ax - a - a^2$ .  
 $+ b^2 + c^2 - 2ab - 2ac - 6bc$ . 15.  $x^4 - 2x^3 - 7x^2 + 4x + 14$ . 16.  $3x^2 + 5y^2 + z^2 + 5xy + 2xz + 2yz$ .  
 $x^2 - 5x + 3$ . 18.  $-x^2 - 6x + 16$ . 19.  $2m^2n - 3mn^2 - 10n^3$ . 20.  $-2x^3y + 10x^2y^2 - 10xy^3 + 2y^4$ .

CICLO 48. 1.  $3x - 3a - 2$ . 2.  $3ab - 7a - 7b$ . 3.  $4x + 6y + 3$ . 4.  $3x^2 + 4x - 5$ .  
 $a + 4b - 3x - 8$ . 6.  $a - 2x + 10y$ . 7.  $15m - 7n + 3$ . 8.  $-17a + 12b + 8$ . 9.  $-x - 8y + 4$ .  
 $8m + n - 5$ . 11.  $36x + 29y$ . 12.  $80a - 50b$ . 13.  $a + 7b$ . 14.  $a - 9b + 3$ .

CICLO 49. 1.  $-3$ . 2.  $9$ . 3.  $5a$ . 4.  $-7a^2b^2$ . 5.  $-c$ . 6.  $a$ . 7.  $-9x$ . 8.  $-5$ .  
 $10. -\frac{1}{2}xy$ . 11.  $-\frac{5}{6}y^4$ . 12.  $-\frac{1}{8}a^3b^9$ . 13.  $-\frac{16}{6}m^6n$ . 14.  $\frac{27}{6}a^7$ . 15.  $\frac{3}{6}m$ . 16.  $a^2 - 2$ .  
 $3a^{n-1}b^{m-2}$ . 18.  $-\frac{5}{6}a^{m-3}b^{n-4}$ . 19.  $-\frac{1}{4}a^{n-m}b^{m-n}$ . 20.  $\frac{3}{6}m^{n-2}n^{n-3}$ .

EJERCICIO 50. 1.  $a$ . 2.  $-2x^2$ . 3.  $\frac{3}{5}a^3$ . 4.  $-\frac{1}{4}x^{n-1}$ . 5.  $\frac{4}{5}a^{n-5}b^{n-2}$ . 6.  $\frac{7}{8}x^{m-1}y^{m-3}$ .  
 $7. -\frac{5}{6}ab$ . 8.  $-\frac{4}{5}$ . 9.  $a^2b^3$ . 10.  $-\frac{5}{6}a^{1-m}b^{2-n}c^{3-k}$ .

EJERCICIO 51. 1.  $\frac{3}{4}x^2$ . 2.  $\frac{3}{4}a$ . 3.  $-4xy^5$ . 4.  $\frac{7}{6}a^{n-1}b^{n-2}$ . 5.  $\frac{1}{6}x^4y^5$ . 6.  $-9m^4p$ .  
 $7. \frac{7}{20}a$ . 8.  $-\frac{10}{9}a^{n-1}b^{n-2}$ . 9.  $-\frac{1}{2}c^3d^{5-k}$ . 10.  $-\frac{1}{2}a^{m-2}b^{n-3}$ . 11.  $4a^5b^{m-6}$ . 12.  $-\frac{1}{6}ab^6c^2$ .

EJERCICIO 52. 1.  $a - b$ . 2.  $-y^3 + \frac{5}{3}a^2x^2$ . 3.  $-\frac{3}{2}a^2 + \frac{5}{2}b^2 + 3ab^3$ . 4.  $x^2 - 4x + 1$ .  
 $5. 2x^3 - 5x^3 - \frac{5}{2}x$ . 6.  $-3m^2 + 4mn - 10n^2$ . 7.  $2a^6b^5 - a^4b^3 - \frac{1}{3}$ . 8.  $-\frac{1}{5}x^8 + x^2 + 2x - 3$ .

9.  $4m^2n^2 - 5m^6n^4 - 10m^3n^6 + 6mn^8$ . 10.  $a^{x-2} + a^{m-3}$ . 11.  $-\frac{2}{3}a^{m-3} + a^{n-1} - 2a^{m+1}$ .  
 $12. a^{m-2}b^{n-3} + a^{n-5}b^{m-1} - a^{n-1}b^{m+1}$ . 13.  $x^4 + 6x^3 - 5x^2 - x$ . 14.  $-2a^2b^3 + 3ab^2 - 4b$ .

EJERCICIO 53. 1.  $\frac{3}{4}x - 1$ . 2.  $-\frac{5}{9}a^3 + a^2 - \frac{5}{12}a$ . 3.  $m^2 - \frac{8}{5}mn + \frac{8}{2}n^2$ . 4.  $-\frac{10}{8}x^3 + x^2y -$   
 $\frac{6}{4}xy^2 + 5y^3$ . 5.  $\frac{2}{25}a^4 - \frac{1}{15}a^2b^3 - \frac{1}{5}b^5$ . 6.  $\frac{2}{3}a^{m-1} + \frac{1}{2}a^{m-2}$ . 7.  $4a^3 - \frac{12}{3}a^2 - \frac{3}{2}a$ .  
 $8. \frac{15}{8}a^{n-4}x^m - \frac{6}{16}a^{n-3}x^{m-1} + \frac{5}{3}a^{n-2}x^{m-2}$ .

EJERCICIO 54. 1.  $a - 1$ . 2.  $a - 3$ . 3.  $x - 4$ . 4.  $m - 5$ . 5.  $5 - x$ . 6.  $a + 3$ . 7.  $3x - 2y$ .  
 $8. 5x - 4y$ . 9.  $5a - 7b$ . 10.  $2x + 4$ . 11.  $8a - 4b$ . 12.  $6m - 5n$ . 13.  $4n + 6m$ . 14.  $2y - 11$ .  
 $15. x^2 + xy + y^2$ . 16.  $a^2 - 2ab + b^2$ . 17.  $x^3 - 3x^2 + 1$ . 18.  $a^3 - a^2 + a$ . 19.  $m^4 + m^2n^2 + n^4$ .  
 $20. x^3 - 2x^2 + 3x - 1$ . 21.  $3y^2 - 6y + 5$ . 22.  $m^3 - m^2 + m - 2$ . 23.  $3a^2 - 5ab + 2b^2$ .  
 $24. 5m^4 - 3m^2n^2 + n^4$ .

EJERCICIO 55. 1.  $a^2 - a - 1$ . 2.  $x^3 + 2x^2 - x$ . 3.  $m^3 - 3m^2n + 2mn^2$ . 4.  $x^2 + x + 1$ .  
 $5. x^2 - 2x + 3$ . 6.  $m^3 + 1$ . 7.  $a^3 - 5a + 2$ . 8.  $3y^2 + xy - x^2$ . 9.  $n^2 - 1$ . 10.  $a^3 - 3a^2b + 4ab^2$ .  
 $11. 2x + 3y$ . 12.  $2y^3 - 3y^2 + y - 4$ . 13.  $2a^2 - 3ax - x^2$ . 14.  $-x^2 - xy - y^2$ . 15.  $a^3 - 5a^2 + 2a - 4$ .  
 $16. m^2 - 2m + 3$ . 17.  $a^4 + a^3b - 3a^2b^2 - ab^3 + b^4$ . 18.  $x^4 - x^3y + x^2y^2 - xy^3 + y^4$ . 19.  $y^3 - 2y + 1$ .  
 $20. 3m^3 - 2m + 1$ . 21.  $a^5 + a^2 - 2a - 1$ . 22.  $3x^2 - 2xy + 4y^2$ . 23.  $5a^4 - 4a^3 + 2a^2 - 3a$ .  
 $24. x^4 - x^3 + x^2 - x + 1$ . 25.  $a^4 + a^2 - 2a + 1$ . 26.  $y^4 - 3y^2 - 1$ . 27.  $m^4 - 2m^3n + 3m^2n^2 - 4n^4$ .  
 $28. x^6 - 3x^4y^2 - x^2y^4 + y^6$ . 29.  $a^4 - 3a^2 + 4a - 5$ . 30.  $a - b + c$ . 31.  $-x + y + 2z$ . 32.  $x + y + z$ .  
 $33. a^3 - a^3b + a^2b^2 - ab^3 + b^4$ . 34.  $7x^4 + 7x^3y + 7x^2y^2 + 7xy^3 + 7y^4$ . 35.  $8x^6 - 8x^4y^2 + 8x^2y^4 - 8y^6$ .  
 $36. x^5 + x^4y^2 + x^3y^4 + x^2y^6 + y^8$ . 37.  $x^{12} - x^6y^3 + x^6y^6 - x^3y^9 + y^{12}$ . 38.  $x + y - 1$ . 39.  $x + y$ .

EJERCICIO 56. 1.  $a^x - a^{x+1} + a^{x+2}$ . 2.  $x^{n+1} + 2x^{n+2} - x^{n+3}$ . 3.  $m^{n+2} + m^{n+1} - m^n + m^{n-1}$ .  
 $4. a^{m+2} + 3a^{m+1} - 2a^m$ . 5.  $x^{n+2} + 2x^{n+1} - x^n$ . 6.  $a^2 + 2a - 1$ . 7.  $a^x + 3a^{x-1} - 2a^{x-2}$ . 8.  $m^{n+1} - 2m^{n+2} -$   
 $m^{n+3} + m^{n+4}$ . 9.  $x^{i-1} + 2x^{i-2} - x^{i-3} + x^{i-4}$ . 10.  $a^3b^2 - a^2b^4$ . 11.  $a^m + b^m$ . 12.  $a^{n-1} - b^{n-1}$ .  
 $13. 3a^{2m} + a^{2m+1} - 5a^{2m+2}$ . 14.  $-2x^{2n-1}y^{n-2} - 4x^{2n-2}y^{n-1} - 10x^{2n-3}y^n$ .

EJERCICIO 57. 1.  $\frac{1}{2}a - \frac{1}{8}b$ . 2.  $\frac{1}{3}x + \frac{5}{6}y$ . 3.  $\frac{2}{3}x - \frac{3}{2}y$ . 4.  $\frac{1}{4}a^2 - ab + \frac{2}{3}b^2$ . 5.  $\frac{2}{6}m^3 +$   
 $\frac{1}{3}mn - \frac{1}{2}n^2$ . 6.  $\frac{3}{8}x^2 + \frac{1}{4}x - \frac{2}{5}$ . 7.  $\frac{3}{2}a^2 + \frac{1}{5}ax - \frac{1}{2}x^2$ . 8.  $\frac{1}{4}x^2 - \frac{2}{3}xy + \frac{5}{6}y^2$ . 9.  $\frac{3}{2}x^2 + \frac{1}{10}x - \frac{1}{6}$ .  
 $10. \frac{2}{3}m^2 - \frac{2}{3}mn + \frac{6}{2}n^2$ .

EJERCICIO 58. 1.  $x^2 - 1$ . 2.  $x^4 + 3x^3 - 5x^2 + 8$ . 3.  $a^4 + 3a^3b - 2a^2b^2 + 5ab^3 - b^4$ .  
 $4. m^3 - 5m^2n + 6mn^2 + n^3$ . 5.  $x^4 - 8x^2 + 3$ . 6.  $a^4 - 3a^4 - 6a^2 + 10$ . 7.  $x^6 - 4x^6 + 3x^5 - 2$ .  
 $8. m^{16} - 5m^{12} + 9m^8 - 4m^4 + 3$ . 9.  $x^5 - 3x^4y - 6x^3y^2 - 4x^2y^3 - y^5$ . 10.  $6a^5 - 4a^2 + 6a - 2$ .  
 $11. n^4 - 3n^2 + 4$ . 12.  $3x^4 - 4x^3y - y^4$ . 13.  $x^{10} - 5x^6y^4 + 3x^2y^6 - 6y^{10}$ . 14.  $a^m - 3a^{m-1} + 5a^{m-2}$ .  
 $15. a^{x+2} - 5a^{x+1} - 7a^x - 1$ . 16.  $x^{n+2} - 5x^n - 6x^{n-2}$ . 17.  $3a^{n+1} - 5a^n + 6a^{n-1}$ .



**CICLO 59.** 1.  $1 + \frac{b^2}{a^2}$ . 2.  $a + \frac{2}{a^3}$ . 3.  $3x + 2 + \frac{7}{3x^2}$ . 4.  $4a^2 - 5ab + 2b^2 + \frac{7b^4}{4a}$ .  
 $1 + \frac{4}{x+6}$ . 6.  $x - 1 + \frac{3}{x-4}$ . 7.  $m^2 - 8 + \frac{10}{m^2-3}$ . 8.  $x - 7y + \frac{8y^2}{x+y}$ . 9.  $x + \frac{2x+2}{x^2-x+1}$ .  
 $2 + xy + y^2 + \frac{2y^3}{x-y}$ . 11.  $x^4 + x^3y + x^2y^2 + xy^3 + y^4 + \frac{2y^3}{x-y}$ . 12.  $x + 6 + \frac{6x+2}{x^2-2x+1}$ .  
 $x^2 + 3ab + 7b^2 + \frac{12b^4}{2a-3b}$ . 14.  $x^3 - 2x + 3 + \frac{20x-10}{x^2-3x+2}$ .

**CICLO 60.** 1. 9. 2. -31. 3. 8. 4.  $-\frac{31}{32}$ . 5. 15. 6.  $-14\frac{1}{2}$ . 7.  $3\frac{1}{4}$ . 8.  $-6\frac{1}{2}$ .

10. 2. 11.  $18\frac{1}{2}$ . 12.  $-21\frac{1}{2}$ . 13.  $60\frac{1}{2}$ . 14.  $25\frac{2}{5}$ . 15.  $84\frac{1}{2}$ . 16.  $-21\frac{1}{9}$ .

**CICLO 61.** 1.  $+2^\circ$ .  $-1^\circ$ .  $-4^\circ$ . 3.  $y^2$ . 4.  $-3x^2 + 8x - 6$ . 5.  $2a^2 + 5a + 13$ .  
 $+6$ . 7.  $-2y^2 - 2xy$ . 8. 24. 9.  $3x^2 + 3xy$ . 10.  $\frac{1}{5}a^4 + \frac{1}{4}a^3b - \frac{108}{125}a^2b^2 + \frac{27}{20}ab^3 - \frac{2}{5}b^4$ .  
 $a^3 - x + 5$ . 12.  $\frac{4}{3}ab$ . 13.  $a^5 - 4a^4b + 4a^3b^2 - 3ab^4 + 3b^5$ . 14.  $x + 4$ . 16. 15.  
 $x^2 - 8x - 3$ . 18.  $2a - 7b$ . 19.  $15x^2 - 2xy - y^2$ . 20.  $-\frac{5}{2}x + \frac{2}{3}y$ . 22.  $4x^2y - 7xy^2$ .  
 $4 + 4x^2y + 3x^2y^2 + 2xy^3 - y^4$ . 24.  $-2y^3$ . 26.  $-56\frac{5}{10}$ . 28. Entre  $x + 2$ . 27. 33.  
 $x^4 - 11x^3 + 21x$ . 30.  $x^3 + 5x^2 + x - 2$ .

**CICLO 62.** 1.  $m^2 + 6m + 9$ . 2.  $25 + 10x + x^2$ . 3.  $36a^2 + 12ab + b^2$ . 4.  $61 + 72m + 16m^2$ .  
 $x^2 + 154x + 121$ . 6.  $x^2 + 2xy + y^2$ . 7.  $1 + 6x^2 + 9x^4$ . 8.  $4x^2 + 12xy + 9y^2$ . 9.  $a^4x^2 +$   
 $y^2 + b^2y^4$ . 10.  $9a^4 + 48a^3b^4 + 64b^8$ . 11.  $16m^{10} + 40m^5n^5 + 25n^{10}$ . 12.  $49a^4b^6 +$   
 $5^2x^4 + 25x^8$ . 13.  $16a^2b^4 + 40ab^2xy^2 + 25x^2y^6$ . 14.  $64x^4y^2 + 144m^3x^2y + 81m^6$ . 15.  $x^{20} +$   
 $y^{12} + 100y^{24}$ . 16.  $a^{2m} + 2a^{m+2} + a^{2n}$ . 17.  $a^{2x} + 2a^xb^{x+1} + b^{2x+2}$ . 18.  $x^{2n+2} + 2x^{n+1}y^{n+2} + y^{2n+4}$ .

**CICLO 63.** 1.  $a^2 - 6a + 9$ . 2.  $x^2 - 14x + 49$ . 3.  $81 - 18a + a^2$ . 4.  $4a^2 - 12ab + 9b^2$ .  
 $a^2x^2 - 8ax + 1$ . 6.  $a^5 - 2a^3b^2 + b^5$ . 7.  $9a^5 - 30a^3b^2 + 25b^5$ . 8.  $x^4 - 2x^2 + 1$ . 9.  $x^{10} -$   
 $2 + 9a^2y^4$ . 10.  $a^{14} - 2a^7b^7 + b^{14}$ . 11.  $4m^2 - 12mn + 9n^2$ . 12.  $100x^6 - 180x^4y^2 + 81x^2y^{10}$ .  
 $2m - 2x^ny^a + y^{2n}$ . 14.  $a^{2x-4} - 10a^{x-2} + 25$ . 15.  $x^{2n+2} - 6x^{n+1} + 9x^{2n-4}$ .

**CICLO 64.** 1.  $x^2 - y^2$ . 2.  $m^2 - n^2$ . 3.  $a^2 - x^2$ . 4.  $x^4 - a^4$ . 5.  $4a^2 - 1$ . 6.  $n^2 - 1$ .  
 $9a^2x^2$ . 8.  $4m^2 - 81$ . 9.  $a^6 - b^4$ . 10.  $y^4 - 9y^2$ . 11.  $1 - 64x^2y^2$ . 12.  $36x^4 - m^4x^2$ .  
 $2m - b^{2n}$ . 14.  $9x^{2n} - 25y^{2n}$ . 15.  $a^{2x+2} - 4b^{2x+2}$ .

**CICLO 65.** 1.  $x^2 + 2xy + y^2 - z^2$ . 2.  $x^3 - y^3 + 2yz - z^2$ . 3.  $x^2 - y^2 - 2yz - z^2$ .  
 $+ 2mn + n^2 - 1$ . 5.  $m^2 - 2mn + n^2 - 1$ . 6.  $x^2 - y^2 + 4y - 4$ . 7.  $n^4 - 4n^2 - 4n - 1$ .  
 $+ 2a^2 + 9$ . 9.  $m^4 - 3m^2 + 1$ . 10.  $4a^2 - 4ab + b^2 - c^2$ . 11.  $4x^2 - y^2 + 2yz - z^2$ .  
 $- 25x^2 + 60x - 36$ . 13.  $a^4 + a^2b^2 + b^4$ . 14.  $x^4 - x^4 - 2x^3 - x^2$ .

**CICLO 66.** 1.  $a^2 + 6a^2 + 12a + 8$ . 2.  $x^3 + 3x^2 + 3x - 1$ . 3.  $m^3 + 9m^2 + 27m + 27$ .  
 $- 12n^2 + 48n - 64$ . 5.  $8x^3 + 12x^2 + 6x + 1$ . 6.  $1 - 9y + 27y^2 - 27y^3$ . 7.  $8 + 12y^2 + 6y^4 + y^6$ .  
 $- 6n + 12n^2 - 8n^3$ . 9.  $64n^3 + 144n^2 + 108n + 27$ . 10.  $a^6 - 6a^4b + 12a^2b^2 - 8b^3$ .  
 $x^3 + 36x^2y + 54xy^2 + 27y^3$ . 12.  $1 - 3a^2 + 3a^4 - a^6$ .

**CICLO 67.** 1.  $a^2 + 3a + 2$ . 2.  $x^2 + 6x + 8$ . 3.  $x^2 + 3x - 10$ . 4.  $m^2 - 11m + 30$ .  
 $+ 4x - 21$ . 6.  $x^2 + x - 2$ . 7.  $x^2 - 4x + 3$ . 8.  $x^2 - x - 20$ . 9.  $a^2 - a - 110$ . 10.  $n^2 - 9n - 190$ .  
 $- 4a^2 - 45$ . 12.  $x^4 - 8x^2 + 7$ . 13.  $n^4 + 19n^2 - 20$ . 14.  $n^6 - 3n^3 - 18$ . 15.  $x^6 + x^3 - 42$ .  
 $+ 7a^4 - 8$ . 17.  $a^{10} + 5a^5 - 14$ . 18.  $a^{12} - 2a^6 - 63$ . 19.  $a^2b^2 - ab - 30$ . 20.  $x^2y^4 + 3xy^2 - 108$ .  
 $4b^4 + 6a^2b^2 - 7$ . 22.  $x^6y^6 + 2x^3y^3 - 48$ . 23.  $a^{2x} + 5a^x - 24$ . 24.  $a^{2x+2} - 11a^{x+1} + 30$ .

**CICLO 68.** 1.  $x^2 + 4x + 4$ . 2.  $x^2 + 5x + 6$ . 3.  $x^2 - 1$ . 4.  $x^2 - 2x + 1$ . 5.  $n^2 + 8n + 15$ .  
 $- 9$ . 7.  $a^2 + 2ab + b^2 - 1$ . 8.  $1 + 3b + 3b^2 + b^3$ . 9.  $a^4 - 16$ . 10.  $9a^2b^2 - 30abx^2 + 25x^4$ .  
 $- a^2b^2$ . 12.  $1 - 8ax + 16a^2x^2$ . 13.  $a^4 + a^2 - 56$ . 14.  $x^2 - y^2 - 2y - 1$ . 15.  $1 - a^2$ .

16.  $m^2 + 4m - 96$ . 17.  $x^4 + 2x^2 - 3$ . 18.  $x^6 - 2x^3 - 48$ . 19.  $25x^6 + 60m^4x^4 + 36m^8$ .  
20.  $x^6 + 3x^4 - 10$ . 21.  $a^2 - 2ab + b^2 - 1$ . 22.  $a^{2x} - b^{2x}$ . 23.  $x^{2x+2} + x^{x+1} - 72$ . 24.  $a^4b^4 - c^4$ .  
25.  $8a^3 + 12a^2x + 6ax^2 + x^3$ . 26.  $x^4 - 13x^2 + 22$ . 27.  $4a^6 - 20a^3b^4 + 25b^8$ . 28.  $a^6 - 3a^3 - 180$ .  
29.  $m^4 + 2m^2n + n^2 - m^2$ . 30.  $x^5 - 4x^4 - 77$ . 31.  $121 - 22ab + a^2b^2$ . 32.  $x^4y^6 - 2x^2y^3 - 48$ .  
33.  $a^4 - 2a^2b^2 + b^4$ . 34.  $x^4 - 3x^2 + 2$ . 35.  $a^4 - 81$ . 36.  $x^4 - 24x^2 - 25$ . 37.  $a^4 - 5a^2 + 4$ .  
38.  $a^4 - 13a^2 + 36$ .

**EJERCICIO 69.** 1.  $x - 1$ . 2.  $1 + x$ . 3.  $x - y$ . 4.  $x + y$ . 5.  $x - 2$ . 6.  $3 + x^2$ . 7.  $a - 2b$ .  
8.  $5 + 6x^2$ . 9.  $2x - 3mn^2$ . 10.  $6m + 7mn^2$ . 11.  $9a^5 - 10b^4$ . 12.  $a^2b^3 - 2x^4y^3$ . 13.  $x^2 - y^6$ .  
14.  $a^{x+1} + 10$ . 15.  $1 - 3x^{m+2}$ . 16.  $x + y + z$ . 17.  $1 - a - b$ . 18.  $2 - m - n$ . 19.  $y$ . 20.  $a + x - 3$ .

**EJERCICIO 70.** 1.  $1 - a + a^2$ . 2.  $1 + a + a^2$ . 3.  $x^2 - xy + y^2$ . 4.  $4a^2 + 2a + 1$ . 5.  $4x^2 - 6xy + 9y^2$ .  
6.  $9m^2 + 15mn + 25n^2$ . 7.  $16a^2 - 28a + 49$ . 8.  $36 + 30y + 25y^2$ . 9.  $1 - ab + a^2b^2$ . 10.  $81 +$   
 $72b + 64b^2$ . 11.  $a^2x^2 - abx + b^2$ . 12.  $n^2 + mnx + m^2x^2$ . 13.  $x^4 + 3x^2y + 9y^2$ . 14.  $4a^6 - 2a^3y + y^6$ .  
15.  $1 + x^4 + x^5$ . 16.  $9x^4 - 3x^2 + 1$ . 17.  $16a^2 - 4ab^2 + b^6$ . 18.  $a^4 + a^2b^2 + b^4$ . 19.  $25 + 35x^5 + 49x^{10}$ .  
20.  $n^4 - n^2 + 1$ .

**EJERCICIO 71.** 1.  $x^8 + x^2y + xy^2 + y^8$ . 2.  $m^4 - m^3n + m^2n^2 - mn^3 + n^4$ . 3.  $a^4 + a^3n + a^2n^2 +$   
 $an^3 + n^4$ . 4.  $x^3 - x^2y + x^2y^2 - x^2y^3 + xy^4 - y^5$ . 5.  $a^5 + a^4b + a^3b^2 + a^2b^3 + ab^4 + b^5$ . 6.  $x^6 - x^5y +$   
 $x^4y^2 - x^3y^3 + x^2y^4 - xy^5 + y^6$ . 7.  $a^6 + a^5m + a^4m^2 + a^3m^3 + a^2m^4 + am^5 + m^6$ . 8.  $a^7 - a^6b + a^5b^2 -$   
 $a^4b^3 + a^3b^4 - a^2b^5 + ab^6 - b^7$ . 9.  $x^6 + x^5y + x^4y^2 + x^3y^3 + x^2y^4 + xy^5 + y^6$ . 10.  $m^8 - m^7n + m^6n^2 - m^5n^3 + m^4n^4 - m^3n^5 + m^2n^6 - mn^7 + n^8$ . 11.  $m^8 + m^7n + m^6n^2 + m^5n^3 +$   
 $m^4n^4 + m^3n^5 + m^2n^6 + mn^7 + n^8$ . 12.  $a^9 - a^8x + a^7x^2 - a^6x^3 + a^5x^4 - a^4x^5 + a^3x^6 - a^2x^7 + ax^8 - x^9$ .  
13.  $1 + n + n^2 + n^3 + n^4$ . 14.  $1 + a + a^2 + a^3 + a^4 + a^5$ . 15.  $1 - a + a^2 - a^3 + a^4 - a^5 + a^6$ . 16.  $1 - m + m^2 -$   
 $m^3 + m^4 - m^5 + m^6 - m^7$ . 17.  $x^3 + 2x^2 + 4x + 8$ . 18.  $x^6 - 2x^4 + 4x^3 - 8x^2 + 16x - 32$ . 19.  $x^6 + 2x^4 +$   
 $4x^3 + 8x^2 + 16x + 32$ . 20.  $a^4 - 3a^2 + 9a^2 - 27a + 81$ . 21.  $x^5 + 3x^4 + 9x^3 + 27x^2 + 81x + 243$ .  
22.  $125 - 25x + 5x^2 - x^3$ . 23.  $m^7 + 2m^6 + 4m^5 + 8m^4 + 16m^3 + 32m^2 + 64m + 128$ . 24.  $x^3 + x^2 +$   
 $x^7 + x^6 + x^5 + x^4 + x^3 + x^2 + x + 1$ . 25.  $x^4 - 3x^2y + 9x^2y^2 - 27xy^3 + 81y^4$ . 26.  $8a^5 + 12a^2b + 18ab^3 +$   
 $27b^5$ . 27.  $32m^5 - 48m^4n + 72m^3n^2 - 108m^2n^3 + 162mn^4 - 243n^5$ . 28.  $512x^9 + 256x^3 + 128x^6 +$   
 $64x^9 + 32x^3 + 16x^4 + 8x^3 + 4x^2 + 2x + 1$ . 29.  $256a^9 - 128a^7b + 64a^6b^2 - 32a^5b^3 + 16a^4b^4 - 8a^3b^5 +$   
 $4a^2b^6 - 2ab^7 + b^8$ . 30.  $a^6 + 3a^4 + 9a^2 + 27a^2 + 81a + 243$ .

**EJERCICIO 72.** 1.  $x^4 - x^2y^2 + y^4$ . 2.  $a^6 - a^4b^2 + a^2b^4 - b^6$ . 3.  $m^8 + m^6n^2 + m^4n^4 + m^2n^6 + n^8$ .  
4.  $a^9 - a^6b^3 + a^3b^6 - b^9$ . 5.  $a^9 + a^6x^3 + a^3x^6 + x^9$ . 6.  $x^{12} - x^9y^3 + x^6y^6 - x^3y^9 + y^{12}$ . 7.  $m^6 - m^4 + 1$ .  
8.  $m^{12} + m^6n^4 + m^4n^6 + n^{12}$ . 9.  $a^{15} - a^{12}b^3 + a^9b^6 - a^6b^9 + a^3b^{12} - b^{15}$ . 10.  $x^{15} - x^{10}y^5 + x^5y^{10} - y^{15}$ .  
11.  $m^{18} - m^{15}n^3 + m^{12}n^6 - m^9n^9 + m^6n^{12} - m^3n^{15} + n^{18}$ . 12.  $x^{15} + x^{12} + x^9 + 1$ . 13.  $a^{30} - a^{15}b^{15} +$   
 $a^{10}b^{10} - a^5b^{15} + b^{20}$ . 14.  $a^{24} + a^{15}m^6 + a^{12}m^{12} + a^6m^{18} + m^{24}$ .

**EJERCICIO 73.** 1.  $x^2 - 1$ . 2.  $4m^2 - 2mn^2 + n^4$ . 3.  $1 + a + a^2 + a^3 + a^4$ . 4.  $x^4 + 3x^2y + 9y^3$ . 5.  $x^3 - 7y$ .  
6.  $a^{12} + a^{10}b^2 + a^8b^4 + a^6b^6 + a^4b^8 + a^2b^{10} + b^{12}$ . 7.  $1 - a + a^2$ . 8.  $4xy^2 - 5m^3$ .  
9.  $x^{24} - x^{21}y^3 + x^{18}y^6 - x^{15}y^9 + x^{12}y^{12} - x^9y^{15} + x^6y^{18} - x^3y^{21} + y^{24}$ . 10.  $a^{15} - a^2y^9 + y^{18}$ . 11.  $a^3b^3 - 8x^6$ .  
12.  $1 + ab^2c^4$ . 13.  $16x^4 - 24x^3y + 36x^2y^2 - 54xy^3 + 81y^4$ . 14.  $4 - a$ . 15.  $1 + x^4 + x^8$ . 16.  $10x^4 +$   
 $28x^2y^3 + 49y^6$ . 17.  $a^{15} - a^{12}b^3 + a^9b^6 - a^6b^9 + a^3b^{12} - b^{15}$ . 18.  $a + x + y$ . 19.  $1 - x + x^2 - x^3 + x^4 -$   
 $x^5 + x^6 - x^7 + x^8 - x^9 + x^{10}$ . 20.  $x^{32} + x^{24}y^8 + x^{16}y^{16} + x^8y^{24} + y^{32}$ . 21.  $3 - 6x^6$ . 22.  $x^7 + 2x^6 +$   
 $4x^5 + 8x^4 + 16x^3 + 32x^2 + 64x + 128$ .

**EJERCICIO 74.** 1. 2. 2. -8. 3. 13. 4. 228. 5. 309. 6. 98. 7. 2881. 8. 3.  
9. 81. 10. 2. 11. 13. 12.  $-\frac{419}{81}$ .

**EJERCICIO 75.** 1. Coc.  $x - 4$ ; res. -7. 2. Coc.  $a - 7$ ; res. 15. 3. Coc.  $x^2 - 2x + 4$ ; res. -1.  
4. Coc.  $x^2 + 1$ ; res. 0. 5. Coc.  $a^2 - 6a + 18$ ; res. -60. 6. Coc.  $n^3 - 7n^2 + 14n - 24$ ; res. 0.  
7. Coc.  $x^3 + x^2 + x - 2$ ; res. 3. 8. Coc.  $x^4 - 3x^3 - x$ ; res. -2. 9. Coc.  $a^4 + 2a^3 + a^2 + 2a + 8$ ;  
res. 10. 10. Coc.  $x^4 + 5x^3 + 25x^2 - 83x - 415$ ; res. 1. 11. Coc.  $x^5 - 6x^4 + 22x^3 - 69x^2 + 206x - 61$ ;  
res. 1856. 12. Coc.  $x^2 - x + 3$ ; res. -2. 13. Coc.  $a^2 - 2a + 3$ ; res. 0. 14. Coc.  $x^3 - x^2 + x - 1$ ;  
res. 5. 15. Coc.  $\frac{1}{2}x^5 - \frac{3}{4}x^4 + \frac{5}{8}x^3 - \frac{1}{8}x^2 - \frac{5}{8}x + \frac{5}{8}$ ; res.  $\frac{5}{8}$ .



**CIO 76.** 1. Exacta. 2. Exacta. 3. Inexacta. 4. Inexacta. 5. Exacta. 6. Exacta. 7. Exacta. 8. Exacta. 9. Exacta. 10. Exacta. 11. Exacta; coc.  $2a^2-6a+8$ . 12. Exacta; coc.  $a^2-a^2+2$ . 13. Exacta; coc.  $-x^2+x+6$ . 14. Exacta; coc.  $x^5+6x^4-3x^3+8x^2-4x+5$ . 15. Inexacta; coc.  $a^2-x^2$ . 16. Exacta; coc.  $4x^3-5x^2+8x-4$ . 17. Inexacta; coc.  $5n^4-6n^2+4n-1$ . 18. -150. 19. -4. 20. -87. 21. 8.

**CIO 77.** 1. Inexacta; res. 2. Inexacta; res.  $2b^4$ . 3. Exacta. 4. Inexacta; res.  $2b^6$ . 5. Exacta. 6. Exacta. 7. Inexacta; res. -16. 8. Exacta. 9. Inexacta; res. 64. 10. Exacta. 11. Exacta. 12. Exacta.

**CIO 78.** 1.  $x=5$ . 2.  $x=\frac{1}{4}$ . 3.  $y=10$ . 4.  $x=\frac{1}{5}$ . 5.  $y=-\frac{1}{3}$ . 6.  $x=3$ . 7.  $x=\frac{5}{7}$ . 8.  $x=\frac{22}{5}$ . 9.  $y=-3$ . 10.  $x=7$ . 11.  $x=-4$ . 12.  $x=-\frac{1}{5}$ . 13.  $x=\frac{1}{5}$ . 14.  $x=1$ .

**CIO 79.** 1.  $x=3$ . 2.  $x=1$ . 3.  $x=-\frac{9}{2}$ . 4.  $x=-\frac{8}{7}$ . 5.  $x=-1$ . 6.  $x=1$ . 7.  $x=4$ . 8.  $x=\frac{2}{3}$ . 9.  $x=\frac{2}{3}$ . 10.  $x=3$ . 11.  $x=-5$ .

**CIO 80.** 1.  $x=-\frac{1}{4}$ . 2.  $x=-2$ . 3.  $x=3$ . 4.  $x=-7$ . 5.  $x=-4$ . 6.  $x=5$ . 7.  $x=\frac{6}{15}$ . 8.  $x=\frac{1}{35}$ . 9.  $x=-1$ . 10.  $x=3$ . 11.  $x=-\frac{1}{12}$ . 12.  $x=4$ . 13.  $x=\frac{1}{5}$ . 14.  $x=-\frac{9}{17}$ . 15.  $x=0$ . 16.  $x=\frac{2}{1}$ . 17.  $x=\frac{1}{2}$ . 18.  $x=-\frac{7}{11}$ .

**CIO 81.** 1.  $x=\frac{1}{7}$ . 2.  $x=\frac{20}{15}$ . 3.  $x=0$ . 4.  $x=11$ . 5.  $x=1$ . 6.  $x=-\frac{1}{2}$ . 7.  $x=-3$ . 8.  $x=-\frac{1}{2}$ . 9.  $x=-\frac{4}{3}$ . 10.  $x=\frac{4}{3}$ .

**CIO 82.** 1. 57 y 49. 2. 286 y 254. 3. A, bs. 830; B, bs. 324. 4. 65 y 41. 5. 1 años; B, 35 años. 6. A, 1047 soles; B, 33 soles. 7. 51 y 52. 8. 67, 68 y 69. 9. 18, 19 y 20. 10. 96 y 98. 11. 61, 62 y 63. 12. Coche, \$90; caballo, \$170; 13. \$65. 14. En el 1º, 200; en el 2º, 190; en el 3º, 185. 15. 193, 123. 16. 13, 130; 2º, 110; 3º, 70 sucres. 17. 42, 24 y 22 años. 18. 339 y 303.

**CIO 83.** 1. P. 30 a.; J., 10 a. 2. Caballo, \$480; arreos, \$120. 3. 1er. piso, 2º piso, 16 hab. 4. A, 50; B, 100; C, 150 colones. 5. A, 19; B, 38; C, 76 sucres. 6. 21. 7. A, 40; B, 20; C, 80 quetzales. 8. 13, 85; 2º, 340; 3º, 425. 9. 111. 10. 48 a.; Rosa, 11 a. 11. 3. 12. 31 años. 13. 36, 12 y 48. 14. P, 22 a.; J., 33 a.; Eug., 66 a.

**CIO 84.** 1. 42, 126 y 86. 2. A, 23; B, 61; C, 46 balboas. 3. 104, 48, 86. 4. \$136; bastón, \$106; somb., \$17. 5. 36, 6, 30. 6. A, bs. 20; B, bs. 79. 7. Blanco, azul, 54 cm. 8. A, \$40; B, \$72; C, \$40. 9. 100. 10. 50 sucres. 11. 4.95 m. 12. Padre, 63 a.; hijo, 20 a. 13. A, 3600 votos. 14. 8. 15. 39 años.

**CIO 85.** 1. 60 y 40. 2. Padre, 45 a.; hijo, 15 a. 3. 656 y 424. 4. A, 98; B, 750 y 1050. 5. 427 y 113. 6. 44 y 8. 7. Perro, \$48; collar, \$6. 8. A, \$60; B, 45 señoritas, 15 jóvenes. 9. 116 y 44. 10. 164 y 342. 11. Estilográfica, lapicero, bs. 4. 12. De negro, 44 cm; de rojo, 40 cm.

**CIO 86.** 1. A, 40 años; B, 20. 2. A, 15 a.; B, 5 a. 3. A, \$50; B, \$25. 4. A, 82; B, 12 s.; 36 v. 5. Padre, 75 a.; hijo, 25 a. 6. 38 y 47. 7. Enrique, su hermano, \$0.25. 8. 900 y 500 sucres. 9. P, 48 ds.; E., 12 ds. 10. Padre, hijo, 14 a. 11. Juan, 66 a.; su hijo, 22 a. 12. A, \$46; B, \$38.

**EJERCICIO 87.** 1. 26 somb., 13 trajes. 2. 26 vacas, 32 caballos. 3. Resolvió 9, no resolvió 7. 4. Trabajó 38 ds., no trabajó 12 ds. 5. 28 de Q. 30 y 7 de Q. 25. 6. 35 y 28 balboas. 7. 7 cuad., 21 lápices. 8. 24 de azúcar, 77 de frijoles. 9. De cedro 24, de caoba 56. 10. Mayor, 785; menor, 265.

**EJERCICIO 88.** 1. 36, 72 y 88. 2. A, 45 años; B, 15 años. 3. Traje, 250 soles; zap., 100 soles. 4. 24000 bolívares. 5. 96 y 12. 6. 50 pies. 7. \$17. 8. A, 52 años; B, 32 años. 9. 15 monedas de 10 cts, 7 monedas de 5 cts. 10. 30. 11. \$80. 12. 72. 13. 81, 82 y 83. 14. En auto, 102 km.; a caballo, 34 km. y a pie, 14 km. 15. Hijo, 2500 colones; hija, 4500 colones. 16. 15 y 16. 17. A, 45 a.; B, 15; C, 3. 18. A, 40 años; B, 10 años. 19. L., \$31; m., \$62; miérc., \$124; j., \$248; v., \$218; s., \$228. 20. 36 y 18. 21. A, \$21; B, \$15. 22. A, \$114; B, \$38; C, \$19. 23. bs. 14000. 24. El mejor, \$90; el peor, \$30. 25. Q. 40. 26. A, con \$800; B, con \$400. 27. 40 cab., 10 vacas. 28. L., \$6; m., \$12; miérc., \$18; j., \$24. 29. 90 soles. 30. Largo, 24 m; ancho 12 m. 31. P., 35 a.; h., 15 a. 32. A, 32 a.; B, 8 a.

**EJERCICIO 89.** 1.  $a(a+b)$ . 2.  $b(1+b)$ . 3.  $x(x+1)$ . 4.  $a^2(3a-1)$ . 5.  $x^2(1-4x)$ . 6.  $5m^2(1+3m)$ . 7.  $b(a-c)$ . 8.  $x^2(y+z)$ . 9.  $2ax(a+3x)$ . 10.  $4m(2m-3n)$ . 11.  $9ax^2(a^2-2x)$ . 12.  $15c^2d^2(c+4d)$ . 13.  $35m^2(n^2-2m)$ . 14.  $abc(1+c)$ . 15.  $12xy^2(2a^2-3xy^2)$ . 16.  $a(a^2+a+1)$ . 17.  $2(2x^2-4x+1)$ . 18.  $5y(3y^2+4y-1)$ . 19.  $a(a^2-ax+x^2)$ . 20.  $ax(2a+2x-3)$ . 21.  $x^2(1+x^2-x^4)$ . 22.  $14x^2(y^2-2x+4x^2)$ . 23.  $17a(2x^2+3ay-4y^2)$ . 24.  $48(2-mn^2+3n^3)$ . 25.  $a^2c^2(b^2-x^2+y^2)$ . 26.  $55m^2(n^3x+2n^2x^2-4y^3)$ . 27.  $31a^2x(3axy-2x^2y^2-4)$ . 28.  $x(1-x+x^2-x^3)$ . 29.  $a^2(a^3-3a^2+8a-4)$ . 30.  $5x^2(5x^5-2x^3+3x-1)$ . 31.  $x^6(x^2-x^6+2x^3-3)$ . 32.  $3a(3a-4b+5a^2b^2-8b^3)$ . 33.  $8x^2y(2xy-1-3x^2y-5y^2)$ . 34.  $12m^2n(1+2mn-3m^2n^2+4m^3n^3)$ . 35.  $50abc(2ab^2-3bc+b^2c^2-4c)$ . 36.  $x(x^4-x^5+x^2-x+1)$ . 37.  $a^2(1-2a+3a^2-4a^3+6a^4)$ . 38.  $ab(3a+6-5a^2b+8ax+4bm)$ . 39.  $a^2(a^{18}-a^{14}+a^{10}-a^6+a^2-1)$ .

**EJERCICIO 90.** 1.  $(x+1)(a+b)$ . 2.  $(a+1)(x-3)$ . 3.  $(x-1)(y+2)$ . 4.  $(a-b)(m+n)$ . 5.  $(n-1)(2x-3y)$ . 6.  $(n+2)(a+1)$ . 7.  $(a+1)(x-1)$ . 8.  $(a^2+1)(1-b)$ . 9.  $(x-2)(3x-2y)$ . 10.  $(1-x)(1+2a)$ . 11.  $(m-n)(4x-1)$ . 12.  $(m+n)(x-1)$ . 13.  $(a-b+1)(a^3-b^3)$ . 14.  $(a^2+x-1)(4m+3n)$ . 15.  $(2a+b+c)(x-1)$ . 16.  $(n+1)(x+y-3)$ . 17.  $(x-2)(x+3y+1)$ . 18.  $(a+1)(a-1)$ . 19.  $(m-n)(x^2+4)$ . 20.  $-2(x-1)$ . 21.  $(a^2+1)(6x+1)$ . 22.  $2b(a-b)$ . 23.  $2m(a-2)$ . 24.  $(x+1)(m+n)$ . 25.  $2x(x-3)$ . 26.  $(a^2+1)(a+b-2)$ . 27.  $2a(x-3)$ . 28.  $(x-1)(3x-2y+z)$ . 29.  $(n+1)(a-b-1)$ . 30.  $(a+2)(x+2)$ . 31.  $(x+1)(a+4)$ . 32.  $-(3x+2)$ .

**EJERCICIO 91.** 1.  $(a+b)(a+x)$ . 2.  $(a-b)(m+n)$ . 3.  $(x-2y)(a-2b)$ . 4.  $(a^2-3b)(x^2+y^2)$ . 5.  $(1+x^2)(3m-2n)$ . 6.  $(x-a^2)(x+1)$ . 7.  $(a^2+1)(4a-1)$ . 8.  $(x-y^2)(1+x)$ . 9.  $(3ab-b^2)(x^2+y^2)$ . 10.  $(1-2x)(3a-b^2)$ . 11.  $(ax-b)(4a^2-3m)$ . 12.  $(2x+1)(3a+1)$ . 13.  $(3x^2-1)(x^2+y^2)$ . 14.  $(a^2-3b)(2x-5y)$ . 15.  $(2x+y^2)(xy+z^2)$ . 16.  $(2m-3n)(3-7x)$ . 17.  $(5a^2+n^2)(x-y^2)$ . 18.  $(a+1)(3b+1)$ . 19.  $(m^2-3n)(4am-1)$ . 20.  $(a-b)(5x+2y)$ . 21.  $(1-2ab)(3-x^2)$ . 22.  $(a+1)(a^2+1)$ . 23.  $(3a-7b^2)(a+x)$ . 24.  $(2a-1)(m-n+1)$ . 25.  $(3a-3b)(x+y-2)$ . 26.  $(a^2+1)(a+x^2+1)$ . 27.  $(3a-1)(a^2-ab+3b^2)$ . 28.  $(2x-n)(x^2+3y^2+z^2)$ . 29.  $(3x-2a)(x^2-xy-y^2)$ . 30.  $(a^2b^2-n^4)(1-3x+x^2)$ .

**EJERCICIO 92.** 1.  $(a-b)^2$ . 2.  $(a+b)^2$ . 3.  $(x-1)^2$ . 4.  $(y^2+1)^2$ . 5.  $(a-5)^2$ . 6.  $(3-x)^2$ . 7.  $(4+5x^2)^2$ . 8.  $(1-7a)^2$ . 9.  $(m^2+6)^2$ . 10.  $(1-a^2)^2$ . 11.  $(a^4+9)^2$ . 12.  $(a^3-b^4)^2$ . 13.  $(2x-3y)^2$ . 14.  $(3b-5a^2)^2$ . 15.  $(1+7x^2y)^2$ . 16.  $(1-a^5)^2$ . 17.  $(7m^2-5an^2)^2$ . 18.  $(10x^5-3a^4y^3)^2$ . 19.  $(11+9x^5)^2$ . 20.  $(a-12m^2x^2)^2$ . 21.  $(4-13x^2)^2$ . 22.  $(20x^2+1)^2$ . 23.  $\left(\frac{a}{2}-b\right)^2$ . 24.  $\left(1+\frac{b}{3}\right)^2$ . 25.  $\left(a^2-\frac{b^2}{2}\right)^2$ . 26.  $\left(\frac{1}{5}-\frac{5x^2}{6}\right)^2$ . 27.  $\left(4x^2-\frac{y^2}{4}\right)^2$ . 28.  $\left(\frac{n}{3}+3m\right)^2$ . 29.  $(2a+b)^2$ . 30.  $(1+a)^2$ . 31.  $(3m-n)^2$ . 32.  $(m-n+3)^2$ . 33.  $(a-y)^2$ . 34.  $(2m+n-a)^2$ . 35.  $(2a-b+3)^2$ . 36.  $(5x-y)^2$ .

**EJERCICIO 93.** 1.  $(x+y)(x-y)$ . 2.  $(a+1)(a-1)$ . 3.  $(a+2)(a-2)$ . 4.  $(3+b)(3-b)$ . 5.  $(1+2m)(1-2m)$ . 6.  $(4+n)(4-n)$ . 7.  $(a+5)(a-5)$ . 8.  $(1+y)(1-y)$ . 9.  $(2a+3)(2a-3)$ .



$x^2(5-6x^2)$ . 11.  $(1+7ab)(1-7ab)$ . 12.  $(2x+9y^2)(2x-9y^2)$ . 13.  $(ab^4+c)(ab^4-c)$ .  
 $cy^3)(10-xy^3)$ . 15.  $(a^5+7b^6)(a^5-7b^6)$ . 16.  $(5xy^2+11)(5xy^2-11)$ . 17.  $(10mn^2+13y^3)$ .  
 $m^2-13y^3)$ . 18.  $(am^2n^3+12)(am^2n^3-12)$ . 19.  $(14xy^2+15z^6)(14xy^2-15z^6)$ .  
 $+17b^2m^2)(16a^6-17b^2m^2)$ . 21.  $(1+3ab^2c^2d^4)(1-3ab^2c^2d^4)$ . 22.  $(19x^7+1)(19x^7-1)$ .  
 $a)(\frac{1}{2}-3a)$ . 24.  $(1+\frac{a}{5})(1-\frac{a}{5})$ . 25.  $(\frac{1}{4}+\frac{2x}{7})(\frac{1}{4}-\frac{2x}{7})$ .  
 $\frac{x^3}{5})(\frac{a}{6}-\frac{x^3}{5})$ . 27.  $(\frac{x}{10}+\frac{yz^2}{9})(\frac{x}{10}-\frac{yz^2}{9})$ . 28.  $(\frac{x^3}{7}+\frac{2a^6}{11})(\frac{x^3}{7}-\frac{2a^6}{11})$ .  
 $m^2+\frac{1}{4}x^4)(10mn^2-\frac{1}{4}x^4)$ . 30.  $(a^3+b^6)(a^3-b^6)$ . 31.  $(2x^3+\frac{1}{y})(2x^3-\frac{1}{y})$ . 32.  $(a^{2e}+15b^2)$ .  
 $z^2)$ . 33.  $(4x^{3m}+\frac{y^n}{7})(4x^{3m}-\frac{y^n}{7})$ . 34.  $(7a^{5n}+\frac{b^{6x}}{9})(7a^{5n}-\frac{b^{6x}}{9})$ .  
 $n+\frac{1}{5})(a^nb^{2n}-\frac{1}{5})$ . 36.  $(\frac{1}{10}+x^n)(\frac{1}{10}-x^n)$ .

**CIO 94.** 1.  $(x+y+a)(x+y-a)$ . 2.  $(a+3)(1-a)$ . 3.  $(3+m+n)(3-m-n)$ .  
 $+4)(m-n-4)$ . 5.  $(x-y+2z)(x-y-2z)$ . 6.  $(a+2b+1)(a+2b-1)$ . 7.  $(1+x-2y)$ .  
 $)$ . 8.  $(3x+2a)(2a-x)$ . 9.  $(a+b+c+d)(a+b-c-d)$ . 10.  $(a-b+c-d)(a-b-c+d)$ .  
 $1)(1-3x)$ . 12.  $(9m-2n)(7m+2n)$ . 13.  $(a-2b+x+y)(a-2b-x-y)$ . 14.  $3a(a-2c)$ .  
 $1)(1-x)$ . 16.  $(9x+a)(3x-a)$ . 17.  $(a^3+a-1)(a^3-a+1)$ . 18.  $(a+m-3)(a-m+1)$ .  
 $8)(x+2)$ . 20.  $(1+5a+2x)(1-5a-2x)$ . 21.  $(7x+y+9)(7x+y-9)$ . 22.  $(m^3+m^2-1)$ .  
 $+1)$ . 23.  $(4a^3+2a^2+3)(4a^3-2a^2-3)$ . 24.  $(x-y+c+d)(x-y-c-d)$ . 25.  $(3a+2b-c)$ .  
 $26. (10+x-y+z)(10-x-y-z)$ . 27.  $y(2x-y)$ . 28.  $(7x+2)(4-3x)$ . 29.  $3x(2x-2y-x)$ .  
 $5)(x-3)$ . 31.  $(2a+3x)(x+2)$ . 32.  $(2x+2a+7y)(2x+2a-7y)$ . 33.  $(7x-3y)(3x-7y)$ .  
 $-5n)(17n-5m)$ .

**CIO 95.** 1.  $(a+b+x)(a+b-x)$ . 2.  $(x-y+m)(x-y-m)$ . 3.  $(m+n+1)(m+n-1)$ .  
 $-1)(a-b-1)$ . 5.  $(n+c+3)(n-c+3)$ . 6.  $(a+x+2)(a+x-2)$ . 7.  $(a+3b-2)(a-3b-2)$ .  
 $+1)(x-2y-1)$ . 9.  $(a+2x-3y)(a-2x-3y)$ . 10.  $(2x+5y+6)(2x+5y-6)$ . 11.  $(3x-$   
 $-4a-1)$ . 12.  $(1-8ab+x^2)(1-8ab-x^2)$ . 13.  $(a+b+c)(a-b-c)$ . 14.  $(1+a-x)$ .  
 $15. (m+x+y)(m-x-y)$ . 16.  $(c+a-1)(c-a+1)$ . 17.  $-(n+8)(n+2)$ . 18.  $(2a+$   
 $-x+2)$ . 19.  $(1+a+3n)(1-a-3n)$ . 20.  $(5+x-4y)(5-x+4y)$ . 21.  $(3x+a-2m)$ .  
 $2m)$ . 22.  $(4xy+2a-3b)(4xy-2a+3b)$ . 23.  $(5m+a+1)(5m-a-1)$ . 24.  $(7x^2+5x-3y)$ .  
 $+3y)$ . 25.  $(a-b+c+d)(a-b-c-d)$ . 26.  $(x+y+m-n)(x+y-m+n)$ . 27.  $(2a+2b+x)$ .  
 $28. (x-2a+y-3b)(x-2a-y+3b)$ . 29.  $(m+3n+x+2a)(m+3n-x-2a)$ .  
 $2y+a+5b)(3x-2y-a-5b)$ . 31.  $(a+m+x+3)(a+m-x-3)$ . 32.  $(x+1+3a^2-b)$ .  
 $a^2+b)$ . 33.  $(4a-3x+5m+1)(4a-3x-5m-1)$ . 34.  $(3m+a-cd-10)(3m-a+cd-10)$ .  
 $7b+3x+5y)(2a-7b-3x-5y)$ . 36.  $(15a+13b-c+1)(15a-13b+c+1)$ . 37.  $(x+y+3)$ .  
 $38. (a+x+10)(a-x+2)$ .

**CIO 96.** 1.  $(a^2+a+1)(a^2-a+1)$ . 2.  $(m^2+mn+n^2)(m^2-mn+n^2)$ . 3.  $(x^4+x^2+2)$ .  
 $2)$ . 4.  $(a^2+2a+3)(a^2-2a+3)$ . 5.  $(a^2+ab-b^2)(a^2-ab-b^2)$ . 6.  $(x^2+2x-1)(x^2-$   
 $7. (2a^2+3ab+3b^2)(2a^2-3ab+3b^2)$ . 8.  $(2x^2+3x-5)(2x^2-3x-5)$ . 9.  $(x^4+2x^2y^2+4y^4)$ .  
 $2+4y^4)$ . 10.  $(4m^2+mn-3n^2)(4m^2-mn-3n^2)$ . 11.  $(5a^2+4ab+7b^2)(5a^2-4ab+7b^2)$ .  
 $+5xy-7y^2)(6x^2-5xy-7y^2)$ . 13.  $(9m^4+4m^2+1)(9m^4-4m^2+1)$ . 14.  $(c^2+5c-10)$ .  
 $10)$ . 15.  $(2a^4+5a^2b^2-7b^4)(2a^4-5a^2b^2-7b^4)$ . 16.  $(8n^2+6n+7)(8n^2-6n+7)$ .  
 $+7xy-9y^2)(5x^2-7xy-9y^2)$ . 18.  $(7x^4+8x^2y^2+10y^4)(7x^4-8x^2y^2+10y^4)$ . 19.  $(2+8x-$   
 $-8x-11x^2)$ . 20.  $(11x^2+xy^2-6y^4)(11x^2-xy^2-6y^4)$ . 21.  $(12+7n^3+3n^6)(12-7n^3+3n^6)$ .  
 $-2-c^4)(4-c^2-c^4)$ . 23.  $(8a^2+5ab^2-9b^4)(8a^2-5ab^2-9b^4)$ . 24.  $(15+5m+m^2)(15-$   
 $25. (1+10ab^2-13a^2b^4)(1-10ab^2-13a^2b^4)$ . 26.  $(x^2y^2+xy+11)(x^2y^2-xy+11)$ .  
 $+11c^2mn+14m^2n^2)(7c^4-11c^2mn+14m^2n^2)$ . 28.  $(9a^2b^4+2ab^2x^4-16x^6)(9a^2b^4-$   
 $-16x^6)$ .

**CIO 97.** 1.  $(x^2+4xy+8y^2)(x^2-4xy+8y^2)$ . 2.  $(2x^4+2x^2y^2+y^4)(2x^4-2x^2y^2+y^4)$ .  
 $ab+18b^2)(a^2-6ab+18b^2)$ . 4.  $(2m^4+6mn+9n^2)(2m^4-6mn+9n^2)$ . 5.  $(2+10x^2+25x^4)$ .

$(2-10x^2+25x^4)$ . 6.  $(8+4a^3+a^6)(8-4a^3+a^6)$ . 7.  $(1+2n+2n^2)(1-2n+2n^2)$ . 8.  $(8x^4+4x^2y^2+y^4)(8x^4-4x^2y^2+y^4)$ . 9.  $(9a^2+12ab+8b^2)(9a^2-12ab+8b^2)$ .

**EJERCICIO 98.** 1.  $(x+5)(x+2)$ . 2.  $(x-3)(x-2)$ . 3.  $(x+5)(x-2)$ . 4.  $(x+2)(x-1)$ .  
 $5. (a+3)(a+1)$ . 6.  $(m+7)(m-2)$ . 7.  $(y-5)(y-4)$ . 8.  $(x-3)(x+2)$ . 9.  $(x-8)(x-1)$ .  
 $10. (c+8)(c-3)$ . 11.  $(x-2)(x-1)$ . 12.  $(a+6)(a+1)$ . 13.  $(y-3)(y-1)$ . 14.  $(n-6)(n-2)$ .  
 $15. (x+7)(x+3)$ . 16.  $(a+9)(a-2)$ . 17.  $(m-11)(m-1)$ . 18.  $(x-10)(x+3)$ . 19.  $(n+8)(n-2)$ .  
 $20. (a-20)(a-1)$ . 21.  $(y+6)(y-5)$ . 22.  $(a-7)(a-4)$ . 23.  $(n-10)(n+4)$ . 24.  $(x-9)(x+4)$ .  
 $25. (a-7)(a+5)$ . 26.  $(x+13)(x+1)$ . 27.  $(a-11)(a-3)$ . 28.  $(m+15)(m-2)$ . 29.  $(c-14)(c+1)$ .  
 $30. (x+8)(x+7)$ . 31.  $(x-9)(x-6)$ . 32.  $(a+12)(a-5)$ . 33.  $(x-20)(x+3)$ . 34.  $(x+18)(x-10)$ .  
 $35. (m-30)(m+10)$ . 36.  $(x+12)(x-11)$ . 37.  $(m-14)(m+12)$ . 38.  $(c+15)(c+9)$ . 39.  $(m-25)$ .  
 $(m-16)$ . 40.  $(a+20)(a-19)$ . 41.  $(x+26)(x-14)$ . 42.  $(a+24)(a+18)$ . 43.  $(m-45)(m+15)$ .  
 $44. (y+42)(y+8)$ . 45.  $(x-24)(x+22)$ . 46.  $(n+27)(n+16)$ . 47.  $(c-20)(c+16)$ . 48.  $(m-36)$ .  
 $(m+28)$ .

**EJERCICIO 99.** 1.  $(x^2+4)(x^2+1)$ . 2.  $(x^3-7)(x^3+1)$ . 3.  $(x^4-10)(x^4+8)$ . 4.  $(xy+4)(xy-3)$ .  
 $5. (4x-5)(4x+3)$ . 6.  $(5x+7)(5x+6)$ . 7.  $(x+5a)(x-3a)$ . 8.  $(a-7b)(a+3b)$ . 9.  $(x-y+6)$ .  
 $(x-y-4)$ . 10.  $(x+1)(5-x)$ . 11.  $(x^5+5)(x^5-4)$ . 12.  $(m+8n)(m-7n)$ . 13.  $(x^2+12a)(x^2-5a)$ .  
 $14. (2x-3)(2x-1)$ . 15.  $(m-n+8)(m-n-3)$ . 16.  $(x^4+16)(x^4-15)$ . 17.  $(y+3)(5-y)$ .  
 $18. (a^2b^2-11)(a^2b^2+9)$ . 19.  $(c+7d)(c+4d)$ . 20.  $(5x-12)(5x+7)$ . 21.  $(a-14b)(a-7b)$ .  
 $22. (x^2y^2+12)(x^2y^2-11)$ . 23.  $(x^2+6)(8-x^2)$ . 24.  $(c+d-13)(c+d-5)$ . 25.  $(a+22xy)(a-20xy)$ .  
 $26. (m^2n^3-13)(m^2n^3-8)$ . 27.  $(n+2)(7-n)$ . 28.  $(x^2+31)(x^2-30)$ . 29.  $(4x^2-15)(4x^2+7)$ .  
 $30. (x^2+9ab)(x^2-4ab)$ . 31.  $(a^2-13b^2)(a^2+12b^2)$ . 32.  $(x+3a)(7a-x)$ . 33.  $(x^4y^4-20a)$ .  
 $(x^4y^4+5a)$ . 34.  $(a+11)(a-10)$ . 35.  $(m+8abc)(m-7abc)$ . 36.  $(7x^2+16)(7x^2+8)$ .

**EJERCICIO 100.** 1.  $(2x-1)(x+2)$ . 2.  $(3x+1)(x-2)$ . 3.  $(2x+1)(3x+2)$ . 4.  $(5x-2)(x+1)$ .  
 $5. (3x+2)(2x-3)$ . 6.  $(3x+2)(4x-3)$ . 7.  $(4a+3)(a+3)$ . 8.  $(2a+1)(5a+3)$ . 9.  $(3m-7)$ .  
 $(4m+5)$ . 10.  $(4y+1)(5y-1)$ . 11.  $(2a-5)(4a+3)$ . 12.  $(7x+5)(x-7)$ . 13.  $(3m+5)(5m-3)$ .  
 $14. (2a+1)(a+2)$ . 15.  $(3x-4)(4x+3)$ . 16.  $(a+1)(9a+1)$ . 17.  $(4n-5)(5n+4)$ . 18.  $(3x+2)$ .  
 $(7x-1)$ . 19.  $(5m-3)(3m+2)$ . 20.  $(3a+2)(5a-6)$ . 21.  $(9x+1)(x+4)$ . 22.  $(10n-3)(2n+5)$ .  
 $23. (7m+2)(2m-5)$ . 24.  $(x+10)(2x+9)$ . 25.  $(4a+5)(5a-8)$ . 26.  $(4n-11)(n+3)$ .  
 $27. (6x+5)(5x-2)$ .

**EJERCICIO 101.** 1.  $(3x^2-2)(2x^2+3)$ . 2.  $(x^3+2)(5x^3-6)$ . 3.  $(2x^4+5)(5x^4+2)$ .  
 $4. (3ax+7)(2ax-3)$ . 5.  $(4xy+5)(5xy-4)$ . 6.  $(5x-2a)(3x+a)$ . 7.  $(2x+3)(4-5x)$ .  
 $8. (3x-8y)(7x+9y)$ . 9.  $(m-3a)(6m+5a)$ . 10.  $(2x^2-7)(7x^2+2)$ . 11.  $(6a+b)(5a-3b)$ .  
 $12. (7x^3+2)(x^2-5)$ . 13.  $(3a+5)(6-a)$ . 14.  $(2x^4+1)(5-3x^4)$ . 15.  $(3a-5x)(2a+3x)$ .  
 $16. (4x-5mn)(x+3mn)$ . 17.  $(9a-5y)(2a+3y)$ . 18.  $(4x^2+5)(3-2x^2)$ . 19.  $(5x^4+2)(3-5x)$ .  
 $20. (10x^6+3)(3x^6-10)$ . 21.  $(5m-3a)(6m+7a)$ . 22.  $(3a-2)(2-5a)$ . 23.  $(4x-3y)(2y-x)$ .  
 $24. (5a-3b)(3b-4a)$ .

**EJERCICIO 102.** 1.  $(a+1)^3$ . 2.  $(3-x)^3$ . 3.  $(m+n)^3$ . 4.  $(1-a)^3$ . 5.  $(a^2+2)^3$ . 6.  $(5x+1)^3$ .  
 $7. (2a-3b)^3$ . 8.  $(3m+4n)^3$ . 9. No es cubo perfecto. 10. No es. 11.  $(5a+2b)^3$ .  
 $12. (2+3x)^3$ . 13. No es cubo perfecto. 14.  $(a^2+b^3)^3$ . 15.  $(x^3-3y^4)^3$ . 16.  $(4x+5y)^3$ .  
 $17. (6-7a^2)^3$ . 18.  $(5x^4+8y^6)^3$ . 19.  $(a^6+1)^3$ . 20.  $(m-an)^3$ . 21.  $(1+6a^2b^3)^3$ . 22.  $(4x^3-5y^4)^3$ .

**EJERCICIO 103.** 1.  $(1+a)(1-a+a^2)$ . 2.  $(1-a)(1+a+a^2)$ . 3.  $(x+y)(x^2-xy+y^2)$ .  
 $4. (m-n)(m^2+mn+n^2)$ . 5.  $(a-1)(a^2+a+1)$ . 6.  $(y+1)(y^2-y+1)$ . 7.  $(y-1)(y^2+y+1)$ .  
 $8. (2x-1)(4x^2+2x+1)$ . 9.  $(1-2x)(1+2x+4x^2)$ . 10.  $(x-3)(x^2+3x+9)$ . 11.  $(a+3)(a^2-3a+9)$ .  
 $12. (2x+y)(4x^2-2xy+y^2)$ . 13.  $(3a-b)(9a^2+3ab+b^2)$ . 14.  $(4+a^2)(16-4a^2+a^4)$ . 15.  $(a-5)$ .  
 $(a^2+5a+25)$ . 16.  $(1-6m)(1+6m+36m^2)$ . 17.  $(2a+3b^2)(4a^2-6ab^2+9b^4)$ . 18.  $(x^2-b^4)$ .  
 $(x^4+b^3x^2+b^6)$ . 19.  $(2x-3y)(4x^2+6xy+9y^2)$ . 20.  $(1+7n)(1-7n+49n^2)$ . 21.  $(4a-9)(16a^3+$   
 $36a+81)$ . 22.  $(ab-x^2)(a^2b^2+abx^2+x^4)$ . 23.  $(8+3a^3)(64-24a^3+9a^6)$ . 24.  $(x^2-2y^4)(x^4+$   
 $2x^2y^4+4y^8)$ . 25.  $(1+9x^2)(1-9x^2+81x^4)$ . 26.  $(3m+4n^2)(9m^2-12mn^2+16n^4)$ . 27.  $(7x+8y^2)$ .  
 $(49x^2-56xy^2+64y^4)$ . 28.  $(xy^2-6y^3)(x^2y^4+6xy^2+36y^6)$ . 29.  $(abx+1)(a^3b^3x^2-abx+1)$ .  
 $30. (x^3+y^3)(x^6-x^2y^3+y^6)$ . 31.  $(10x-1)(100x^2+10x+1)$ . 32.  $(a^4+5b^4)(a^4-5a^2b^4+25b^8)$ .



$4)(x^3 - x^4y^4 + y^8)$ . 34.  $(1-3ab)(1+3ab+9a^2b^2)$ . 35.  $(2x^2+9)(4x^4-18x^2+81)$ .  
 $36)(a^2-2ab^4+4b^8)$ . 37.  $(2x^3-5yz^2)(4x^6+10x^3yz^2+25y^2z^4)$ . 38.  $(3m^2+7n^3)(9m^4-49n^6)$ . 39.  $(6-x^4)(36+6x^4+x^8)$ .

IO 104. 1.  $(1+x+y)(1-x-y+x^2+2xy+y^2)$ . 2.  $(1-a-b)(1+a+b+a^2+2ab+b^2)$ .  
 $3)(9-3m+3n+3m^2-2mn+n^2)$ . 4.  $(x-y-z)(x^2-2xy+y^2+2x-2y+4)$ . 5.  $(x+2y+1)$   
 $4y^2-x-2y+1)$ . 6.  $(1-2a+b)(1+2a-b+4a^2-4ab+b^2)$ . 7.  $(2a+1)(a^2+a+1)$ .  
 $8)(a^2-4a+1)$ . 9.  $(2x+y)(13x^2-5xy+y^2)$ . 10.  $(2a-b-3)(4a^2-4ab+b^2+6a-3b+9)$ .  
 $11)(x^4+x^3+3x^2+4x+4)$ . 12.  $(2a-2)(a^2-2a+13)$ . 13.  $-3(3x^2+3x+3)=-9$   
 $14. -2y(3x^2+y^2)$ . 15.  $(2m-5)(m^2-5m+7)$ . 16.  $5x(7x^2+3xy+3y^2)$ . 17.  $(3a+b)$   
 $+7b^2)$ . 18.  $(4m+4n-5)(16m^2+32mn+16n^2+20m+20n+25)$ .

IO 105. 1.  $(a+1)(a^4-a^3+a^2-a+1)$ . 2.  $(a-1)(a^4+a^3+a^2+a+1)$ . 3.  $(1-x)$   
 $+x^3+x^4)$ . 4.  $(a+b)(a^6-a^5b+a^4b^2-a^3b^3+a^2b^4-ab^5+b^6)$ . 5.  $(m-n)(m^4+m^3n+n^4+m^2n^2+mn^3+n^6)$ . 6.  $(a+3)(a^3-3a^2+9a^2-27a+81)$ . 7.  $(2-m)(16+8m+4m^2+1)$ .  
 $8. (1+3x)(1-3x+9x^2-27x^3+81x^4)$ . 9.  $(x+2)(x^6-2x^5+4x^4-8x^3+16x^2-32x+64)$ .  
 $10)(81+54b+36b^2+24b^3+16b^4)$ . 11.  $(a+bc)(a^4-a^3bc+a^2b^2c^2-ab^3c^3+b^4c^4)$ .  
 $12)(m^4+am^3x+a^2m^2x^2+a^3mx^3+a^4m^2x^4+a^5mx^5+a^6x^6)$ . 13.  $(1+x)(1-x+x^2-x^3+1)$ .  
 $14. (x-y)(x^6+x^5y+x^4y^2+x^3y^3+x^2y^4+xy^5+y^6)$ . 15.  $(a+3)(a^6-3a^5+9a^4-27a^3+27a^2+1)$ .  
 $16. (1-2a)(1+2a+4a^2+8a^3+16a^4+32a^5+64a^6)$ . 17.  $(x^2+2y)(x^8-2x^6y+y^2+16y^4)$ . 18.  $(1+2x^2)(1-2x^2+4x^4-8x^6+16x^8-32x^{10}+64x^{12})$ .

IO 106. 1.  $a(5a+1)$ . 2.  $(m+x)^2$ . 3.  $(a-b)(a+1)$ . 4.  $(x+6)(x-6)$ . 5.  $(3x-y)^2$ .  
 $6. (x+1)^2$ . 7.  $(2x+1)(3x-2)$ . 8.  $(1+x)(1-x+x^2)$ . 9.  $(3a-1)(9a^2+3a+1)$ . 10.  $(x+m)$   
 $+m^2x^2-m^3x+m^4)$ . 11.  $a(a^2-3ab+5b^2)$ . 12.  $(x-3)(2y+z)$ . 13.  $(1-2b)^2$ . 14.  $(2x^2+1)$   
 $+2-xy+y^2)$ . 15.  $(x^4+2x^2y^2-y^4)(x^4-2x^2y^2-y^4)$ . 16.  $(a-6)(a+5)$ . 17.  $(3m-2)(5m+7)$ .  
 $18. (a^4-a^2+1)$ . 19.  $(2m-3y^2)(4m^2+6my^2+9y^4)$ . 20.  $(4a-3b)^2$ . 21.  $(1+a)(1-a+1)$   
 $-a^5+a^6)$ . 22.  $(2a-1)^2$ . 23.  $(1+m)(1-m)$ . 24.  $(x^2+7)(x^2-3)$ . 25.  $(5a^2+1)$   
 $+2)$ . 26.  $(a+b+m)(a+b-m)$ . 27.  $8a^2b(1+2a-3b)$ . 28.  $(x^4+1)(x-1)$ .  
 $29. (x+4)$ . 30.  $(5x^2+9y)(5x^2-9y)$ . 31.  $(1-m)(1+m+m^2)$ . 32.  $(x+y+a-b)(x+y-1)$   
 $7m^2n(3m^3-m^2n+mn^2-1)$ . 33.  $(x+1)(a-b+c)$ . 34.  $(2+x-y)^2$ . 35.  $(1+ab^2)(1-ab^2)$ .  
 $36. b^2$ . 37.  $(x^3-7)(x^3+11)$ . 38.  $(5x^2+1)(3x^2-4)$ . 39.  $(1+a-3b)(1-a+3b+a^2-6ab+9b^2)$ .  
 $40. (3x+5)(x^2-3x+5)$ . 41.  $(a^4+4a^2-6)(a^4-4a^2-6)$ . 42.  $(7+2a)(49-14a+4a^2)$ . 43.  $3a^2b$   
 $44. (x-3y)(x+5y)$ . 45.  $(3m-2n)(2a+1)$ . 46.  $(9a^2+2b^2)(9a^2-2b^2)$ . 47.  $(4+2a+1)$   
 $-b)$ . 48.  $(5+x)(4-x)$ . 49.  $(n+7)(n-6)$ . 50.  $(a-n+c+d)(a-n-c-d)$ . 51.  $(1+6x^2+36x^4)$ .  
 $52. (x-4)(x^2+4x+16)$ . 53.  $x^6(1-64x)$ . 54.  $x^6(1-64x)$ . 55.  $18x^2y^2(ax^2-3y^2-3y^2)$ .  
 $56. (x+10)(x-8)$ . 57.  $(a+b+c)(a-b-c)$ . 58.  $(m+n-3)^2$ . 59.  $(x+5)(7x-4)$ .  
 $60. -5a+7)$ . 61.  $(a-1)(x+1)$ . 62.  $(9x^2-5y)^2$ . 63.  $(1+5b-b^2)(1-5b-b^2)$ . 64.  $(m^2+m^2-mn+n^2)$ .  
 $65. (c^2+2d^2)(c^2-2d^2)$ . 66.  $5x^2(3x^2-3x+4)$ . 67.  $(a+x)(a-x-1)$ .  
 $68. (x^2-20)$ . 69.  $(2m^2+5)(3m^2-4)$ . 70.  $(2a-3n)^2=(3n-2a)^2$ . 71.  $2(x^2+1)$ .  
 $72. (x+6)(x-3)$ . 73.  $(a+m+b+n)(a+m-b-n)$ . 74.  $(x+2y)^2$ .  
 $75. (2a-7)$ . 76.  $(1+9ab)^2$ . 77.  $(2a+1)(2a^3-1)$ . 78.  $(x^3-24)(x^3+20)$ . 79.  $(a-b)$   
 $80. (3m-1)(2a-1)$ . 81.  $(3+4x)(5-2x)$ . 82.  $a^4(a^2-a^4+a^2+1)$ . 83.  $(2x-1)(a-1)$ .  
 $84. (m-n)$ . 85.  $(a^2-b^2)(1-2x^2)$ . 86.  $(m+1)(2a-3b-c)$ . 87.  $(x-1)^2$ . 88.  $(2a^2+b^2n)$ .  
 $89. (10x+a)(8x-a)$ . 90.  $(a-3+4x)(a-3-4x)$ . 91.  $(3a+x-2)(3a-x+2)$ .  
 $92. (3x+y+1)$ . 93.  $(x-9)(x+8)$ . 94.  $(6a^2+6ab-7b^2)(6a^2-6ab-7b^2)$ . 95.  $(a+2b+1)$   
 $+2b-m-3n)$ . 96.  $(1+\frac{2}{3}a^4)(1-\frac{2}{3}a^4)$ . 97.  $(9a^4+12a^2b^2+8b^4)(9a^4-12a^2b^2+8b^4)$ .  
 $98. (x-7x-6)$ . 99.  $(x-7ab)(x+5ab)$ . 100.  $(5x-3)^2$ . 101.  $-5(2a+1)$ . 102.  $(4a^2-5b)$   
 $103. (1+3x^3)^2$ . 104.  $(a^2-5b)(a^2+8b)$ . 105.  $(m+2ax)(m^2-2amx+4a^2x^2)$ .  
 $106. (3x-4y)(1-3x+4y)$ . 107.  $(3x+1)(8x+1)$ . 108.  $9x^2y^4(1-3x-x^3)$ . 109.  $(a^2+b^2-a^2+b^2-c^2-3xy)$ .  
 $110. (2a+1)(4a^2+10a+7)$ . 111.  $(10x^2y^8+11m^2)(10x^2y^8-11m^2)$ .  
 $112. (a^2-2)$ . 113.  $(1+10x^2)(1-10x^2+100x^4)$ . 114.  $(7a+x-3y)(7a-x+3y)$ . 115.  $(x^2+x^2+2-y-2z)$ .  
 $116. (a-4)(a^2+4a+16)$ . 117.  $(a+x)(a^4-a^3x+a^2x^2-ax^3+x^4)$ .  
 $118. (a^3-9b)$ . 119.  $(11+x)(15-x)$ . 120.  $(a^2+a+1)(a^2-a+1)$ . 121.  $(\frac{x}{2}+\frac{y^2}{9})(\frac{x}{2}-\frac{y^2}{9})$

122.  $(4x+\frac{7}{5})^2$ . 123.  $(a^2b^2+12)(a^2b^2-8)$ . 124.  $(8a^2x+7y)(1-a+3b)$ . 125.  $(x^2+26)(x^2-16)$ .

126.  $(1+5m)(7-2m)$ . 127.  $(2a+2b+3c+3d)(2a+2b-3c-3d)$ . 128.  $(9-5xy^4)(81+45xy^4+25x^2y^8)$ .  
 $129. (x+y)(x+y+1)$ . 130.  $(2+a-b)(2-a+b)$ . 131.  $(x-y)(x^2+xy+y^2+1)$ .  
 $132. (a-b)(a^2+ab+b^2+a+b)$ .

EJERCICIO 107. 1.  $3a(x+1)(x-1)$ . 2.  $3(x+1)(x-2)$ . 3.  $2x(a-b)^2$ . 4.  $2(a-1)(a^2+a+1)$ .  
 $5. a(a-7)(a+4)$ . 6.  $(x+1)(x+2)(x-2)$ . 7.  $3a(x+y)(x^2-xy+y^2)$ . 8.  $a(2b-n)^2$ . 9.  $(x^2+1)$   
 $(x+2)(x-2)$ . 10.  $(a+1)(a-1)^2$ . 11.  $2a(x-1)^2$ . 12.  $(x+y)(x+1)(x-1)$ . 13.  $2a(a+4)(a-1)$ .  
 $14. 4x(2x-3y)^2$ . 15.  $(3x-y)(x+y)(x-y)$ . 16.  $5a(a+1)(a^2-a+1)$ . 17.  $a(2x+1)(3x-2)$ .  
 $18. (n^2+9)(n+3)(n-3)$ . 19.  $2a(2x+1)(2x-1)$ . 20.  $ax(x+5)^2$ . 21.  $x(x-7)(x+1)$ .  
 $22. (m+3)(m+4)(m-4)$ . 23.  $(x-2y)^2$ . 24.  $(a+b)(a-b)(a+b-1)$ . 25.  $2ax(4a^2-3b)^2$ .  
 $26. x(x^2+1)(x-1)$ . 27.  $4(x+9)(x-1)$ . 28.  $(a^2+a+2)(a-2)(a+1)$ . 29.  $(x^2+2)(x-3)(x^2+3x+9)$ .  
 $30. a(a+1)(a^4-a^3+a^2-a+1)$ . 31.  $ab(a+x+y)(a+x-y)$ . 32.  $3ab(m+1)(m-1)$ . 33.  $3xy(x+y)$   
 $(9x^2-3xy+y^2)$ . 34.  $(a+1)(a-1)(a^2-a+1)$ . 35.  $x(3x+1)(1-6x)$ . 36.  $2(3a-b)(x+b)$ .  
 $37. am(m-4)(m-3)$ . 38.  $4a^2(x-1)(x^2+x+1)$ . 39.  $7xy(2x+y)(2x-y)$ . 40.  $3ab(x-3)(x+2)$ .  
 $41. (x+4)(x-4)(x^2+8)$ . 42.  $2y(3x+5y)^2$ . 43.  $(a+1)(x-y)^2$ . 44.  $x(x+3y)(x-y)$ . 45.  $(a+2b)$   
 $(a-2b)(x+2y)$ . 46.  $5a^2(3x^2+2)(3x^2-2)$ . 47.  $(a+4)(a-3)(a^2-a+12)$ . 48.  $(b-1)(x+1)(x-1)$ .  
 $49. 2x^2(x+7)(x-4)$ . 50.  $5(2a-5)(3a+2)$ . 51.  $(x-y)(3x-3y+1)(3x-3y-1)$ . 52.  $a(x-3a)$   
 $(3a-x)$ . 53.  $a(4-5a)(16+20a+25a^2)$ . 54.  $2x^2(7x-3)(5x+4)$ . 55.  $a^3(a^2+1)(a^2-5)$ .  
 $56. ab(4a^2-7b^2)^2$ . 57.  $x^2(7x^2-3a^2)(x^2+5a^2)$ . 58.  $x^2(x^m+y^n)(x^m-y^n)$ . 59.  $(2x+5)(x-3)$   
 $(x^2+3x+9)$ . 60.  $a(x-2)(x^2+xy+y^2)$ . 61.  $(x^2+2xy+y^2+1)(x+y+1)(x+y-1)$ . 62.  $3a(a^2+a+1)(a^2-a+1)$ .

EJERCICIO 108. 1.  $(1+a^4)(1+a^2)(1+a)(1-a)$ . 2.  $(a+1)(a-1)(a^2-a+1)(a^2+a+1)$ .  
 $3. (x+4)(x-4)(x+5)(x-5)$ . 4.  $(a+b)^2(a-b)^2$ . 5.  $x(x+1)(x-1)(x^2+2)$ . 6.  $2(x-1)(x+3)$   
 $(x^2+x+1)$ . 7.  $3(x^2+9)(x+3)(x-3)$ . 8.  $(2x+y)^2(2x-y)^2$ . 9.  $x(3x+1)(3x-1)(x+y)$ .  
 $10. 3a(2x+1)(2x-1)(x^2+3)$ . 11.  $(x^4+y^4)(x^2+y^2)(x+y)(x-y)$ . 12.  $(x-2)(x^2+2x+4)(x+1)$   
 $(x^2-x+1)$ . 13.  $(2+x)(4-2x+x^2)(2-x)(4+2x+x^2)$ . 14.  $(a-b)^2(a+b)(a^2+ab+b^2)$ . 15.  $2(2x+1)$   
 $(2x-1)(x^2+1)$ . 16.  $(a+3)(a-3)(a+4)(a-4)$ . 17.  $a(a+2)(x-y)(x^2+xy+y^2)$ . 18.  $a(a+1)(a-1)$   
 $(a+2)$ . 19.  $(1-a)^2(1+a+a^2)$ . 20.  $(m+3)(m^2-3m+9)(m-3)(m^2+3m+9)$ . 21.  $x(x^4+1)$   
 $(x+1)(x-1)$ . 22.  $(x+y)^2(x-y)(x^2-xy+y^2)$ . 23.  $ab(a+b)(a-b)^2$ . 24.  $5(a^2+25)(a+5)(a-5)$ .  
 $25. (a+3)(a-1)(a+1)^2$ . 26.  $a(a+2)(x-2)(x^2+2x+4)$ . 27.  $(1+ab)(1-ab+a^2b^2)(1-ab)$   
 $(1+ab+a^2b^2)$ . 28.  $5a(x+1)(x-1)(x+2)$ . 29.  $(a+b)(a-b)(x+y)(x-y)$ . 30.  $(x^4+2)(x^4+1)$   
 $(x+1)(x-1)$ . 31.  $a(a+1)(a+3)(a-3)$ . 32.  $(a+1)(a-1)(x+3)(x-2)$ . 33.  $(m+1)(m-1)(4m+3)$   
 $(4m-3)$ . 34.  $3b(a+1)(x+2)(x-2)$ . 35.  $3(m+1)(a+5)(a-2)$ . 36.  $(a+1)(a^2-a+1)(x-1)(x-2)$ .  
 $37. (x-1)^2(x+y)(x-y)$ . 38.  $a(x+1)^2$ .

EJERCICIO 109. 1.  $x(x^4+y^4)(x^2+y^2)(x+y)(x-y)$ . 2.  $x(x+2)(x-2)(x+6)(x-6)$ . 3.  $a(a+b)$   
 $(a^2-ab+b^2)(a+1)(a-1)$ . 4.  $4(x+1)^2(x-1)^2$ . 5.  $a(a+b)(a^2-ab+b^2)(a-b)(a^2+ab+b^2)$ .  
 $6. 2(a+b)(a-b)(a+1)(a-2)$ . 7.  $x(x^2+9)(x+3)(x-3)(x+5)$ . 8.  $3(1+a)(1-a+a^2)(1-a)(1+a+a^2)$ .  
 $9. a(a-x)^2(2x+1)(2x-1)$ . 10.  $(x^2+9)(x+3)(x-3)(x+1)(x^2-x+1)$ . 11.  $x(x^6+1)(x^4+1)(x^2+1)$   
 $(x+1)(x-1)$ . 12.  $3(x^2+4)(x+2)(x-2)(x+5)(x-5)$ . 13.  $x(a+1)(a^2-a+1)(a-1)(a^2+a+1)$   
 $(x+1)$ . 14.  $a(a-x)(x+9)(x-9)(x+1)(x-1)$ .

EJERCICIO 110. 1.  $(x-1)(x+1)^2$ . 2.  $(x+1)(x-2)(x-3)$ . 3.  $(a-2)(a+2)(a-3)$ . 4.  $(m-2)$   
 $(m+4)$ . 5.  $(x-3)(x+3)(2x-1)$ . 6.  $(a-4)(a^2+5a+7)$ . 7.  $(x+2)(x^2+1)$ . 8.  $(n-1)(n-2)(n+3)$ .  
 $9. (x+2)(x-4)^2$ . 10.  $(x+3)(3x-2)(2x+3)$ . 11.  $(x-1)(x+1)(x-2)^2$ . 12.  $(x+1)(x-2)(x+3)$   
 $(x-4)$ . 13.  $(a-1)(a+2)(a+3)(a-4)$ . 14.  $(n-2)(n+3)(n+4)(n-5)$ . 15.  $(x+4)(x+5)(x^2-3x+7)$ .  
 $16. (a+2)(a-4)(2a-3)(4a+5)$ . 17.  $(x-5)(x+5)(x^2+3)$ . 18.  $(x-1)(x+6)(3x+5)(5x-2)$ .  
 $19. (x-2)^2(x-3)(x+3)(x+4)$ . 20.  $(a+1)(a+2)(a-3)(a-4)(a+4)$ . 21.  $(x+2)(x-3)(x-4)(x+1)$   
 $(4x+3)$ . 22.  $(n+2)(n+5)(n-6)(n^2-n+3)$ . 23.  $(x-2)(x+3)(x-4)(2x+3)(3x-2)$ . 24.  $(x+1)$   
 $(x-5)(x+5)(x^2-x+1)$ . 25.  $(a-4)(2a^4+3)$ . 26.  $(x-3)(x+5)(x^2-3)$ . 27.  $(x+1)^2(x+2)^2(x+3)$   
 $(x-3)$ . 28.  $(a+1)(a-2)(a-3)(a+3)(a-4)(a+5)$ . 29.  $(x-1)(x+1)(x-2)(x+2)(x-6)(x+6)$ .  
 $30. 2(x+1)(x-2)(x+2)(x+3)(x-4)(x-5)$ . 31.  $(a-2)^2(a-3)(a+4)(a^2-5a+3)$ . 32.  $(x-2)$   
 $(x+2)(x-4)(x+4)(x^2-2)$ .



**CIO 111.** 1.  $ax$ . 2.  $abc$ . 3.  $x^2y$ . 4.  $3a^2b^2$ . 5.  $4m^2$ . 6.  $9mn^2$ . 7.  $3b^2$ .  
8.  $7a^2b^3c^4$ . 9.  $24x^2y^2z^3$ . 10.  $14m^2n$ . 11.  $75a^3b^2$ . 12.  $2ab$ . 13.  $19x^4y^4$ .

**CIO 112.** 1.  $2a$ . 2.  $3x^2y$ . 3.  $4a^2b^2$ . 4.  $a+1$ . 5.  $x(x-1)$ . 6.  $5x$ . 7.  $6a^2xy^4$ .  
8.  $x(x+5)$ . 9.  $a-b$ . 10.  $m+n$ . 11.  $m+n$ . 12.  $x-2$ . 13.  $x(x+2)$ . 14.  $3x-1$ . 15.  $2a+b$ .  
16.  $2x+y$ . 17.  $a(a-3b)$ . 18.  $c+d$ . 19.  $3a(m+5)$ . 20.  $2x^2-y$ . 21.  $3x(x+1)$ .  
22.  $a+b$ . 23.  $x(x-1)$ . 24.  $x^2(x-3)$ . 25.  $ab(a+b)$ . 26.  $2(x-1)$ . 27.  $a(x+2)$ .  
28.  $2(a-1)$ . 29.  $2a+b$ . 30.  $x-4$ . 31.  $a(a+1)$ . 32.  $x^2-3x+9$ . 33.  $x+3a$ .  
34.  $x+1$ . 35.  $ax(x-7)$ . 36.  $a-2$ . 37.  $3x-1$ . 38.  $(a^2+1)(a+1)$ . 39.  $m+n$ .  
40.  $2x(2a+3)$ . 41.  $y(x+y)$ . 42.  $2a-m$ . 43.  $3(a+2b)$ . 44.  $5(a+x)(a+y)$ .

**CIO 113.** 1.  $2x+1$ . 2.  $a-2$ . 3.  $a(a-x)$ . 4.  $x^2-x+1$ . 5.  $a(2a-x)$ . 6.  $3x^2+5$ .  
7.  $x^2+3x-4$ . 8.  $m^2-2m+1$ . 9.  $a(a^2-2a+5)$ . 10.  $a(3x+5)$ . 11.  $2(x^2+a^2)$ .  
12.  $2ax+a^2$ . 13.  $2ab(2a^2-ab+b^2)$ . 14.  $3a^2n^2(3a-2n)$ . 15.  $a^4-a^3+1$ . 16.  $2a(3x-2)$ .

**CIO 114.** 1.  $x-3$ . 2.  $2x-y$ . 3.  $x-1$ . 4.  $a+2x$ . 5.  $x(x-1)$ .

**CIO 115.** 1.  $a^2b^2$ . 2.  $x^2y^2$ . 3.  $a^2b^2c$ . 4.  $a^3bx^2$ . 5.  $12m^3n$ . 6.  $45ax^3y^5$ .  
7.  $x^2y^2z$ . 8.  $8a^2b^2$ . 9.  $12x^4y^2z^2$ . 10.  $36m^2n^3$ . 11.  $24a^2b^2x^2$ . 12.  $30x^2y^2$ .  
13.  $12a^2b^2$ . 14.  $18x^4y^2$ . 15.  $36a^2b^2x^2$ . 16.  $60m^2n^3$ . 17.  $72a^2b^2$ . 18.  $120m^2n^3$ .  
19.  $24a^2x^2y^2$ . 20.  $36a^2x^2y^2$ . 21.  $300m^2n^4$ . 22.  $360a^2x^3y^6$ . 23.  $240a^2b^3$ .

**CIO 116.** 1.  $4a(x-2)$ . 2.  $3b^2(a-b)$ . 3.  $x^2y(x+y)$ . 4.  $8(1+2a)$ . 5.  $6a^2b^2(a+2b)$ .  
6.  $3x+2y$ . 7.  $18mn(n-2)$ . 8.  $15(x+2)$ . 9.  $10(1-3b)$ . 10.  $36a^2(x-3y)$ . 11.  $12x^2y^3$ .  
12.  $m^2n^2(n-1)$ . 13.  $6a^2b(a-2b)$ . 14.  $5x^4y^2(x-1)$ . 15.  $54a^3b^3(a+3b)$ . 16.  $90x^2y$ .  
17.  $4x^2y(x^2-1)$ . 18.  $24m(m^2-9)$ . 19.  $6a^2b^2(x+1)(x-3)$ . 20.  $x^2(x+2)^2(x-1)$ .  
21.  $b(x-2y)^2$ . 22.  $18x^3(x^2-4)(x-3)$ . 23.  $a^2x^3(2x-3y)^2$ . 24.  $72x^3y^2(x-5)$ . 25.  $2an^3$ .  
26.  $8x^2(x+3)^2(x-2)^2$ . 27.  $6x^2(x+1)(x^2-x+1)$ . 28.  $12x^2y^2(a+b)^2(x-1)$ .  
29.  $b^3(a-b)^2$ . 30.  $28x(x+1)^2(x^2+1)$ .

**CIO 117.** 1.  $6(x+1)(x-1)=6(x^2-1)$ . 2.  $10(x+2)(x-2)=10(x^2-4)$ . 3.  $x^2(x+2y)$ .  
4.  $3a^2(x-3)^2$ . 5.  $(2a+3b)(2a-3b)^2$ . 6.  $a^2(a+b)^2$ . 7.  $6ab(x-1)(x+4)$ .  
8.  $25(x-3)$ . 9.  $(x+1)(x-1)^2$ . 10.  $(x+1)^2(x^2+1)$ . 11.  $(x+y)^2(x^2-xy+y^2)$ . 12.  $(x-y)^2$ .  
13.  $(x-2)(x+5)(4x+1)$ . 14.  $(a-5)(a+6)(a-3)$ . 15.  $x^2(x+3)(x-3)(x+5)=$   
 $(x+5)$ . 16.  $ax^2(x-2)(x^2+4)(x^2+2x+4)$ . 17.  $24(x-y)^2(x+y)$ . 18.  $10(x+y)^2(x^2+y^2)$ .  
19.  $b(m+n)^2(m^2-mn+n^2)$ . 20.  $ax^2(m-n)^2(m^2+mn+n^2)$ . 21.  $6a^2(a+1)(a-1)=6a^2(a^2-1)$ .  
22.  $(x-1)(x+2)(x-3)$ . 23.  $(3a+2)^2(2a+3)(a+4)$ . 24.  $30(x^2+1)$ .  
25.  $(x^2-1)=30(x^2+1)(x^2-1)$ . 26.  $x(x+y)(x-y)(a-2b)=x(x^2-y^2)(a-2b)$ . 27.  $60ab(a+b)$ .  
28.  $0ab(a^2-b^2)$ . 29.  $2(x+5)(x-5)(x^2+5x+25)$ . 30.  $ab^2(a-3b)^2(a+b)$ . 31.  $12mn(m^2-n^2)$ .  
32.  $ax^2(x+7)^2(x-2)(x+9)$ . 33.  $30x^2(x+3)^2(x-3)^2$ . 34.  $36(1-a^2)$ .  
35.  $20(3n-2)^2(9n^2+6n+4)$ . 36.  $(3n+2)(2n-3)(16m^2-1)$ . 37.  $4a^2x^3$ .  
38.  $(4+x)^2(2+x)^2(2-x)^2$ . 39.  $(1+a)^2(1+a^2)(1-a+a^2)$ . 40.  $(4n+1)(2n-3)$ .  
41.  $(2a-b)(3a+2b)(5a+4b)$ . 42.  $(4x-y)(3x+2y)(5x+y)$ . 43.  $6a^2b^2x^2(1+x^2)(1-x^2)$ .  
44.  $(x+2)(x-4)(x^2-2x+4)$ . 45.  $(x^2-9)(x^2-1)$ . 46.  $(1+a)(1-a)^2(1+a+a^2)$ .  
47.  $a+b)^2(a-b)^2$ . 48.  $(m-3n)^2(m+3n)(m^2+3mn+9n^2)$ .

**CIO 118.** 1.  $\frac{a}{b}$ . 2.  $\frac{1}{4ab}$ . 3.  $\frac{1}{xy}$ . 4.  $\frac{a}{4x^2y}$ . 5.  $2mn^3$ . 6.  $\frac{3}{8a^2xy}$ . 7.  $\frac{m^3n}{3}$ .

8.  $\frac{1}{5ab^2x^6}$ . 9.  $\frac{3nx^4}{4m^5}$ . 10.  $\frac{21n}{13a^2c^3m}$ . 11.  $\frac{1}{2x^4y^4z^4}$ . 12.  $\frac{2x^2y^2}{3a^3z^3}$ . 13.  $\frac{1}{3a^2b^2c}$ .  
14.  $\frac{6}{7xy^2z^2}$ . 15.  $\frac{a}{5bc^2}$ . 16.  $\frac{3a^4}{4m^2n^3}$ .

**CIO 119.** 1.  $\frac{3b}{2a(x+a)}$ . 2.  $\frac{1}{3(x-y)}$ . 3.  $\frac{2x}{3y}$ . 4.  $x+1$ . 5.  $\frac{b^2c}{8(a-b)}$ . 6.  $\frac{x-2}{5a}$ .

7.  $\frac{3x+5}{x-2}$ . 8.  $\frac{3}{2b}$ . 9.  $\frac{x-y}{x+y}$ . 10.  $\frac{3xy}{x-5}$ . 11.  $\frac{a-2b}{a^2+2ab+4b^2}$ . 12.  $\frac{x+7}{x+3}$ . 13.  $\frac{2x+3}{5x+1}$ .

14.  $\frac{1}{a-1}$ . 15.  $\frac{2x+y}{x-4}$ . 16.  $\frac{a+2b}{ax(a-3b)}$ . 17.  $\frac{1}{m^2-n^2}$ . 18.  $\frac{x^2-xy+y^2}{(x+y)^2}$ . 19.  $\frac{m-n}{m+n}$ .

20.  $\frac{(a-x)^2}{a^2+ax+x^2}$ . 21.  $\frac{a+4}{a-2}$ . 22.  $(1-a)^2$ . 23.  $\frac{a^2b^2}{a^2+b^2}$ . 24.  $\frac{x+y}{x^2+xy+y^2}$ . 25.  $\frac{2b}{3a+b}$ .

26.  $\frac{n(n-1)}{n-6}$ . 27.  $\frac{2n+1}{2n}$ . 28.  $\frac{a-b+c}{a+b+c}$ . 29.  $\frac{a+b-c+d}{-a-b+c+d}$ . 30.  $\frac{3x^2}{x+3}$ . 31.  $\frac{5(a+b)}{3}$ .

32.  $\frac{4a}{3x}$ . 33.  $\frac{x^2}{x-6}$ . 34.  $\frac{x-4y}{x^2(x^2+4xy+16y^2)}$ . 35.  $\frac{x}{x^2-3y^2}$ . 36.  $\frac{mn}{m-3}$ . 37.  $\frac{x^2-5}{x^2+3}$ .

38.  $\frac{a^2+7}{a^2+9}$ . 39.  $\frac{x+5}{2x+3}$ . 40.  $\frac{(a-2)(4a^2+1)}{a-10}$ . 41.  $\frac{a^2-5a+25}{2(a+5)}$ . 42.  $\frac{a(n-6)}{n-5}$ .

43.  $\frac{3m+8n}{m^2+mn+n^2}$ . 44.  $\frac{3a}{4b}$ . 45.  $\frac{3x-4}{x^2(3x+4)}$ . 46.  $\frac{x(4a+5)}{a(3a+2)}$ . 47.  $\frac{4x^2+2xy+y^2}{x(2x-y)}$ .

48.  $\frac{a-2b}{2n+1}$ . 49.  $\frac{x(x+7)}{x+9}$ . 50.  $\frac{x^2-x+1}{x-1}$ . 51.  $\frac{2x^2-1}{x^2+1}$ . 52.  $\frac{(a-2)(m+n)}{a(a-6)}$ . 53.  $\frac{2a-x+3}{2a+x+3}$ .

54.  $\frac{m+n}{(1-a)^2}$ . 55.  $\frac{1}{x(7x^2-5)}$ . 56.  $\frac{a^2-1}{a^2+1}$ . 57.  $\frac{(2x+y)^2}{3x-y}$ . 58.  $\frac{4n^2+10n+25}{2n-5}$ . 59.  $\frac{2-x}{5-x}$ . 60.  $\frac{3-4x}{4-3x}$ .

61.  $\frac{mn+5}{mn-2}$ . 62.  $\frac{(x+2b)(x+y)}{x-2b}$ . 63.  $\frac{x^2+2}{x-y}$ . 64. 1. 65.  $\frac{2a-1}{a+3}$ . 66.  $\frac{x^2-3}{x(x+1)}$ .

67.  $\frac{n+10}{2n+3}$ . 68.  $\frac{x^3+y^3}{x^2+y^2}$ . 69.  $\frac{x-1}{x-3}$ . 70.  $\frac{1}{x-1}$ . 71.  $\frac{x-1}{x^2-3}$ . 72.  $\frac{a^2+a+1}{(a+2)(a-3)}$ .

**EJERCICIO 120.** 1.  $-\frac{2}{3}$ . 2. -1. 3.  $\frac{m+n}{m-n}$  o  $-\frac{m+n}{n-m}$ . 4.  $-\frac{x+3}{x+4}$ . 5.  $-\frac{3}{m-n}$ .

6.  $\frac{3}{n-m}$ . 7.  $-\frac{2x+1}{x+2}$ . 8.  $-\frac{a^2+2a+4}{a+4}$ . 9.  $-\frac{a+2}{n-m}$  o  $\frac{a+2}{m-n}$ . 10.  $\frac{y-2x}{5}$  o  $-\frac{2x-y}{5}$ .

11.  $\frac{1}{x+y}$ . 12.  $-\frac{x-3}{x-4}$ . 13.  $-\frac{a+b}{a^2+ab+b^2}$ . 14. 3. 15.  $-\frac{a+x}{x-3}$  o  $\frac{a+x}{3-x}$ . 16.  $-\frac{3x}{b^2+2b+1}$ .

17.  $-\frac{2x}{3y}$ . 18.  $a-b$ . 19.  $\frac{2(6-x)}{3(x+5)}$ . 20.  $\frac{3n^2}{2a-b^2}$ .

21.  $-\frac{x-y+z}{x+y+z}$  o  $\frac{y-x-z}{x+y+z}$ . 22.  $\frac{3a}{c-d}$ . 23.  $-\frac{(x-5)^2}{25+5x+x^2}$  o  $\frac{(5-x)(x-5)}{25+5x+x^2}$ . 24. -1. 25. -1.

26.  $-\frac{5x}{2x+3y}$ . 27.  $\frac{1+n}{2-n}$ . 28.  $\frac{(2-x)(x+4)}{x-3}$  o  $\frac{(x-2)(x+4)}{3-x}$ . 29.  $-\frac{1}{2x(x+3y)}$ . 30.  $\frac{4-x}{x}$ .

**EJERCICIO 121.** 1.  $\frac{a^2+x^2}{a^2-2x^2}$ . 2.  $\frac{x^2-1}{x^2+1}$ . 3.  $\frac{2x^3+x^2-2}{3x^3-x^2+3}$ . 4.  $\frac{3x-2}{5x+3}$ . 5.  $\frac{x^2-xy+y^2}{2x^2-3xy+y^2}$ .

6.  $\frac{2a^3-a^2+3}{3a^3-a^2+5}$ . 7.  $\frac{1-2x+x^2}{1-3x+x^2}$ . 8.  $\frac{2m^2-n^2}{3m^2+n}$ . 9.  $\frac{2a+1}{a^2+3}$ . 10.  $\frac{5x^3+1}{3x^3-1}$ . 11.  $\frac{n-3}{n+2}$ . 12.  $\frac{a^4+1}{a^4+2}$ .



**EXERCICIO 122.** 1.  $\frac{6a}{4a^2}$ , 2.  $\frac{20a}{36ax^2}$ , 3.  $\frac{2am}{2a^2b^2}$ , 4.  $\frac{9x^2y^2}{24xy^3}$ , 5.  $\frac{4mn}{5n^3}$ , 6.  $\frac{6x+21}{15}$ ,  
 $\frac{2x^2}{x^2-x}$ , 8.  $\frac{2a^3}{2a^2+4a}$ , 9.  $\frac{3a^2+3ab}{a^2+2ab+b^2}$ , 10.  $\frac{x^2-2x-8}{x^2+5x+6}$ , 11.  $\frac{2a^3}{a^2x+a^3}$ , 12.  $\frac{2x-2y}{12}$ ,  
 $\frac{5ax+5bx}{a^2-b^2}$ , 14.  $\frac{3x^2-15x}{3ax}$ , 15.  $\frac{10x^2+5xy}{4x^2+4xy+y^2}$ , 16.  $\frac{x^2-9}{x^2-2x-3}$ , 17.  $\frac{2a^2-2a+2}{a^3+1}$ ,  
 $\frac{3x^2y-6xy^2}{9x^2y}$ , 19.  $\frac{x^2-1}{x^2+2x+1}$ , 20.  $\frac{9a^2b-9ab^2}{63a^3b}$ , 21.  $\frac{x^2-x-2}{x^2+3x-10}$ .

**EXERCICIO 123.** 1.  $3a^2-5a$ , 2.  $3x^2-2xy+y^2$ , 3.  $x+\frac{3}{x}$ , 4.  $2a+3-\frac{2}{5a}$ ,  
 $x^2-2x+1-\frac{5}{3x}$ , 6.  $x-7-\frac{2}{x+2}$ , 7.  $3x-\frac{3x+2}{4x-1}$ , 8.  $a^2-2ab+4b^2-\frac{5b^3}{a+2b}$ ,  
 $-1-\frac{3x+2}{x^2-3}$ , 10.  $x^2+2xy+2y^2-\frac{2y^3}{3x-2y}$ , 11.  $x-3+\frac{2x-5}{2x^2-x+1}$ ,  
 $2a^2-a-2-\frac{a-2}{a^2-a+1}$ , 13.  $x^2-2-\frac{3x+4}{x^2-2}$ , 14.  $5n-\frac{3n^2+10n-3}{2n^2-3n+1}$ ,  
 $2x^2-\frac{10x^3+12x^2}{4x^2+5x+6}$ , 16.  $2m^2+mn+\frac{2m^3n^2-m^2n^3-mn^4}{3m^3-mn^2+n^3}$ .

**EXERCICIO 124.** 1.  $\frac{a^2+6a}{a+2}$ , 2.  $\frac{m^2-mn-n^2}{m}$ , 3.  $\frac{x^2+3x-13}{x-2}$ , 4.  $\frac{a^2+2ab}{a+b}$ ,  
 $-\frac{3a}{a}$ , 6.  $-\frac{2x}{a-x}$ , 7.  $\frac{a}{a+x}$ , 8.  $\frac{x^2+x-5}{x-1}$ , 9.  $\frac{x^3-2x^2}{x+2}$ , 10.  $2x+2y$ ,  
 $\frac{m^2+2n^2}{m-n}$ , 12.  $\frac{2a^2-4ax}{a+2x}$ , 13.  $\frac{8}{m+2}$ , 14.  $\frac{x^3-10x^2+4x}{x-2}$ , 15.  $\frac{2a^2+5a^2b+2ab^2}{2a-b}$ ,  
 $\frac{1}{x^2-x+1}$ , 17.  $\frac{x-8}{x-3}$ , 18.  $\frac{3a^2}{a-b}$ , 19.  $\frac{9x}{3-x}$ , 20.  $\frac{a^3+a^2+a+1}{a+2}$ .

**EXERCICIO 125.** 1.  $\frac{a^2}{ab}$ ,  $\frac{1}{ab}$ , 2.  $\frac{3ax^2}{6a^2x}$ ,  $\frac{8}{6a^2x}$ , 3.  $\frac{4x}{8x^3}$ ,  $\frac{6x^2}{8x^3}$ ,  $\frac{5}{8x^3}$ , 4.  $\frac{3a^2x}{a^2b^2}$ ,  
 $\frac{3b^2}{a^2b^2}$ , 5.  $\frac{42y^4}{36x^2y^3}$ ,  $\frac{4xy^2}{36x^2y^3}$ ,  $\frac{15x^3}{36x^2y^3}$ , 6.  $\frac{2a^2-2a}{6a^2}$ ,  $\frac{5a}{6a^2}$ ,  $\frac{6a+12}{6a^2}$ , 7.  $\frac{3xy-3y^2}{3x^2y^2}$ ,  
 $\frac{xy}{y^2}$ ,  $\frac{15x^2y^2}{3x^2y^2}$ , 8.  $\frac{5m^3n^2+5m^2n^3}{10m^3n^2}$ ,  $\frac{2mn-2n^2}{10m^3n^2}$ ,  $\frac{m^3}{10m^3n^2}$ , 9.  $\frac{a^2b^2+ab^3}{6ab^2}$ ,  $\frac{3ab^2-3b^3}{6ab^2}$ ,  
 $\frac{+2ab^2}{ab^2}$ , 10.  $\frac{8ab^2-4b^3}{12a^2b^2}$ ,  $\frac{9a^2b-3a^3}{12a^2b^2}$ ,  $\frac{6a^3b^2-18a^2b^3}{12a^2b^2}$ , 11.  $\frac{2x+2}{5(x+1)}$ ,  $\frac{15}{5(x+1)}$ ,  
 $\frac{a^2-ab}{(a+b)(a-b)}$ ,  $\frac{b}{(a+b)(a-b)}$ , 13.  $\frac{x^2-2x}{(x+1)(x-1)(x-2)}$ ,  $\frac{x-1}{(x+1)(x-1)(x-2)}$ ,  
 $\frac{2a-6}{8(a+5)}$ ,  $\frac{3a^2+15a}{8(a+5)}$ , 15.  $\frac{2x^2}{6(a-x)}$ ,  $\frac{ax-x^2}{6(a-x)}$ , 16.  $\frac{3x-3}{x^2(x-1)}$ ,  $\frac{2x^2-2x}{x^2(x-1)}$ ,  $\frac{x^2+3x}{x^2(x-1)}$ .

17.  $\frac{4a-4b}{8(a^2-b^2)}$ ,  $\frac{2a^2+2ab}{8(a^2-b^2)}$ ,  $\frac{a^2b-b^3}{8(a^2-b^2)}$ , 18.  $\frac{x^2+xy}{xy(x+y)}$ ,  $\frac{y^2}{xy(x+y)}$ ,  $\frac{3x}{xy(x+y)}$ , 19.  $\frac{2a}{a(a^2-b^2)}$ ,  
 $\frac{a-b}{a(a^2-b^2)}$ ,  $\frac{a^2+ab}{a(a^2-b^2)}$ , 20.  $\frac{3x^2-3x}{x^2-1}$ ,  $\frac{x^3+x^2}{x^2-1}$ ,  $\frac{x^5}{x^2-1}$ , 21.  $\frac{m}{m(m^2-n^2)}$ ,  $\frac{m^2-mn}{m(m^2-n^2)}$ ,  
 $\frac{mn+n^2}{m(m^2-n^2)}$ , 22.  $\frac{n^2+2n+1}{n^2-1}$ ,  $\frac{n^2-2n+1}{n^2-1}$ ,  $\frac{n^2+1}{n^2-1}$ , 23.  $\frac{a^4-2a^2b^2+b^4}{a^4-b^4}$ ,  $\frac{a^4+2a^2b^2+b^4}{a^4-b^4}$ ,  $\frac{a^4+b^4}{a^4-b^4}$ ,  
24.  $\frac{3x^2+6x}{(x-1)(x+2)}$ ,  $\frac{x^2-2x+1}{(x-1)(x+2)}$ ,  $\frac{1}{(x-1)(x+2)}$ , 25.  $\frac{5x^2+15x}{10(x+3)}$ ,  $\frac{2x}{10(x+3)}$ ,  $\frac{x-1}{10(x+3)}$ ,  
26.  $\frac{12x-6}{6(x+4)}$ ,  $\frac{6x+2}{6(x+4)}$ ,  $\frac{4x+3}{6(x+4)}$ , 27.  $\frac{27a^2-75}{(a+4)(9a^2-25)}$ ,  $\frac{2a+8}{(a+4)(9a^2-25)}$ ,  $\frac{15a^2+85a+100}{(a+4)(9a^2-25)}$ ,  
28.  $\frac{x^2+4x+3}{(x^2-4)(x+3)}$ ,  $\frac{x^2+4x+4}{(x^2-4)(x+3)}$ ,  $\frac{3x^2-6x}{(x^2-4)(x+3)}$ , 29.  $\frac{a^2-9}{(a-3)(a-4)(a+5)}$ ,  $\frac{5a^2+25a}{(a-3)(a-4)(a+5)}$ ,  
 $\frac{a^2-3a-4}{(a-3)(a-4)(a+5)}$ , 30.  $\frac{a+1}{a^3-1}$ ,  $\frac{2a^2-2a}{a^3-1}$ ,  $\frac{a^2+a+1}{a^3-1}$ , 31.  $\frac{3x^2+3x+3}{3(x^3-1)}$ ,  $\frac{3}{3(x^3-1)}$ ,  $\frac{2x^3-2}{3(x^3-1)}$ ,  
32.  $\frac{6ax^2-6bx^2}{4ax^2(a^2-b^2)}$ ,  $\frac{4abx-4b^2x}{4ax^2(a^2-b^2)}$ ,  $\frac{a^2+ab}{4ax^2(a^2-b^2)}$ , 33.  $\frac{a^2-2a+1}{(a-1)^3}$ ,  $\frac{a^2-1}{(a-1)^3}$ ,  $\frac{3a+3}{(a-1)^3}$ ,  
34.  $\frac{4x-6}{2(2x+1)(3x+2)}$ ,  $\frac{18x+12}{2(2x+1)(3x+2)}$ ,  $\frac{4x^2-1}{2(2x+1)(3x+2)}$ .

**EXERCICIO 126.** 1.  $\frac{9x-2}{12}$ , 2.  $\frac{5a+6b}{15a^2b}$ , 3.  $\frac{-3a^2+7ab-8b^2}{60ab}$ , 4.  $\frac{8a+3b}{15ab}$ , 5.  $\frac{11a}{12}$ ,  
6.  $\frac{n^2+3m+2mn}{m^2n}$ , 7.  $\frac{9ax-3ax^2+12a+2}{6ax^2}$ , 8.  $\frac{29a-24}{30a}$ , 9.  $\frac{19x^2+15x+5}{15x^2}$ , 10.  $\frac{5x+y}{60}$ ,  
11.  $\frac{1}{m}$ , 12.  $\frac{19x^3+30x^2-18x+10}{45x^3}$ , 13.  $\frac{b^3+3ab^2-a^2}{a^2b^3}$ , 14.  $\frac{am+3bm+2ab}{abm}$ .

**EXERCICIO 127.** 1.  $\frac{2a}{a^2-1}$ , 2.  $\frac{3x-2}{(x+4)(x-3)}$ , 3.  $\frac{21}{(1-x)(2x+5)}$ , 4.  $\frac{2x^2}{x^2-y^2}$ ,  
5.  $\frac{2m^2-12}{(m-2)(m-3)}$ , 6.  $\frac{2x^2+2y^2}{x^2-y^2}$ , 7.  $\frac{2x^2+x+1}{(x+1)(x-1)^2}$ , 8.  $\frac{5x+10}{x^2-25}$ , 9.  $\frac{4x+y}{9x^3-4y^2}$ ,  
10.  $\frac{2ax}{9a^2-x^2}$ , 11.  $\frac{2a}{1-a^4}$ , 12.  $\frac{2a^2+2b^2}{ab(a^2-b^2)}$ , 13.  $\frac{3a^2}{9a^2-b^2}$ , 14.  $\frac{2a}{(a+b)(a-b)^2}$ ,  
15.  $\frac{5x^2+6xy+5y^2}{(x^2+y^2)(x+y)^2}$ , 16.  $\frac{2a}{x(a-x)}$ , 17.  $\frac{x+4}{2(x-2)}$ , 18.  $\frac{x+2}{x(1-x)}$ , 19.  $\frac{2(x+y)}{x-y}$ ,  
20.  $\frac{3a^2+3a-24}{(a+1)^2(a-5)}$ , 21.  $\frac{7a-27}{a(25a^2-9)}$ , 22.  $\frac{6x^2-19x+12}{10(x-2)}$ , 23.  $\frac{3x^2+12x+50}{(x-3)(x+4)(x+5)}$ ,  
24.  $\frac{5}{x^3-8}$ , 25.  $\frac{3}{a+1}$ , 26.  $\frac{6x^2-x-7}{(3x+2)(x+3)(x-3)}$ , 27.  $\frac{2x}{x^2-x+1}$ , 28.  $\frac{x+5}{(x-1)(x+3)}$ ,  
29.  $\frac{6x^2-10x+12}{(2x+1)(x-2)(x-3)}$ , 30.  $\frac{3a^4-2a^2-14a+19}{(a-1)(a+2)(a-3)}$ .



**ICIO 128.** 1.  $\frac{x-8}{8}$  2.  $\frac{5b^2+3a}{a^2b}$  3.  $\frac{4m-3n}{6m^2n^2}$  4.  $\frac{3a^2b^2+6ab^2-20}{15a^2b^3}$   
 5.  $\frac{6y^2+3xy-5x^2}{120xy}$  6.  $\frac{x+4}{12}$  7.  $\frac{4a^2-2a-1}{20a^2}$  8.  $\frac{x^2+x-1}{5x^3}$  9.  $\frac{ab^3-4ab^2-5}{6a^2b^3}$

**ICIO 129.** 1.  $\frac{1}{(x-4)(x-3)}$  2.  $\frac{4mn}{n^2-m^2}$  3.  $\frac{4x}{x^2-1}$  4.  $\frac{a^2+b^2}{ab(a+b)}$   
 5.  $\frac{2}{x^2-1}$  6.  $\frac{a^2+ax+2x^2}{(a-x)^2(a+x)}$  7.  $\frac{1}{6}$  8.  $\frac{7}{(a-3)^2(a+4)}$  9.  $\frac{a}{a-3b}$

10.  $\frac{3x+1}{(x-1)^2(x+1)}$  11.  $\frac{3ab}{(a-b)^2(a^2+ab+b^2)}$  12.  $\frac{2x^2+2x-5}{(2x-1)^2(3x+2)}$  13.  $\frac{x^2-7x}{8(x^2-1)}$   
 14.  $\frac{b^2}{a(a^2-b^2)}$  15.  $\frac{4a^2-3a-6}{3(2a+3)^2}$  16.  $\frac{2}{(x^2+x+1)(x^2-x+1)}$  17.  $\frac{1-2a}{a(a^2-1)}$

18.  $\frac{-11a^2+3a-7}{24(a^2-1)}$  19.  $\frac{2}{x}$  20.  $-\frac{1}{a}$  21. 0 22.  $\frac{x-6}{(x-1)(x+2)(x+3)}$   
 23.  $\frac{2b^2-ab}{2(a^3-b^3)}$  24.  $\frac{69a}{8(a+1)(a-2)(a+4)}$  25.  $-\frac{5a^2-9ax+27x^2}{4(a^3-27x^3)}$

**ICIO 130.** 1.  $\frac{1}{x-3}$  2.  $\frac{5}{12}$  3.  $\frac{4x^3-3x^2+x-3}{3x^2(x^2+1)}$  4.  $\frac{3a^2-3a+10}{4(a^2-1)}$  5.  $\frac{3}{a+b}$   
 6.  $\frac{a}{x(a-x)}$  7.  $\frac{x-10}{(x+1)(x-5)}$  8.  $\frac{3x^2+2x-1}{4(3x+2)(2x-1)}$  9.  $\frac{1+x}{x(a+x)}$  10.  $\frac{4y^3}{y^4-x^4}$

11.  $\frac{5a}{(a+1)}$  12.  $\frac{26}{(a+2)(a-4)(a+6)}$  13. 0 14.  $\frac{3a^2+2a+4}{a^3+1}$  15.  $\frac{x^2+4x+1}{(x+1)(x^2-1)}$   
 16.  $\frac{4x+5}{x^2+2x+4}$  17.  $\frac{2x^2+27x-5}{(x-1)(x-2)(x+5)}$  18.  $\frac{2n^2-4n+1}{n(n-1)^2}$

19.  $\frac{9-54x-55x^2}{(3+x)^2(3-x)^2}$  20.  $\frac{3x^2-16x-4}{9(x^2-1)}$  21.  $\frac{2a^2+a-2}{8(a^2-1)}$   
 22.  $\frac{7x+4}{(x+1)(x-2)(2x+3)}$  23.  $\frac{7a^2-12a+1}{(a-1)(a-2)(a+3)}$  24.  $\frac{46a-75a^2}{(2-3a)^2(2+3a)}$

25.  $\frac{x}{3(1-x^4)}$  26.  $\frac{n}{m^2-n^2}$  27.  $\frac{3x}{x-y}$  28.  $\frac{x+1}{x(x+2)}$  29.  $\frac{2ab+b^2}{a(a^2-b^2)}$  30.  $\frac{x^2+3x-8}{2(x+1)(x-3)}$

**ICIO 131.** 1.  $\frac{1}{(2-x)(x+3)(x+4)}$  2.  $\frac{x-3}{4(x+1)(x-1)}$  3.  $\frac{5a^2+a}{a^2-9}$  4.  $\frac{2x^2+3xy}{x^2-y^2}$  5.  $\frac{x^2+4x+6}{(x-1)(x+2)(x+3)}$   
 6.  $\frac{5}{(1-a)(a-2)(a-3)}$  7.  $\frac{a+3}{(1-a)(a-2)(a-3)}$  8.  $\frac{3x-1}{x^3-1}$  9.  $\frac{x+2}{2x-3}$

**ERJICIO 132.** 1.  $ab$  2.  $\frac{6a^2y}{mx}$  3.  $\frac{8}{7m^2x^2y}$  4.  $\frac{3}{b}$  5.  $\frac{2x^4}{7ay^3}$  6.  $\frac{n^2}{8mx}$   
 7.  $\frac{2x}{3}$  8.  $\frac{x+1}{4}$  9.  $\frac{n}{m^2-2mn+n^2}$  10.  $\frac{x^2-2xy}{x^2}$  11.  $\frac{x^2+4xy+4y^2}{x^2+4xy+4y^2}$  12. 1

13.  $\frac{1}{2a^2 \cdot 2a}$  14.  $\frac{x-y}{x-1}$  15.  $\frac{a-1}{3a+15}$  16. 1 17.  $y+6$  18.  $\frac{x^2+3x}{2x+1}$  19.  $\frac{x-3}{a-1}$   
 20.  $\frac{2}{3}$  21.  $x$  22.  $\frac{1}{x+1}$  23.  $\frac{m-n-x}{m}$  24. 1 25.  $\frac{a^2-3a}{a-6}$  26.  $\frac{x^2-11xy+30y^2}{x+2y}$

27.  $\frac{4x+8a}{ax+a}$  28.  $\frac{a^2-9a}{4a+24}$  29.  $\frac{a^2+a}{a-7}$  30.  $\frac{x+1}{x^2-9}$   
**ERJICIO 133.** 1.  $a^2$  2.  $x^2-1$  3. 1 4.  $a+b$  5.  $\frac{x^3-2x^2}{x+1}$  6.  $x$

7.  $a+x$  8.  $\frac{19x-19x^2}{x^2-2x-15}$  9.  $\frac{m^2-mn+n^2}{m}$  10.  $2a^2-ax-3x^2$  11.  $\frac{a}{b}$  12. 6  
**ERJICIO 134.** 1.  $\frac{xy}{6}$  2.  $\frac{3}{5b^2x^2}$  3.  $\frac{an}{m^2}$  4.  $30x^2$  5.  $\frac{3a^2m^2x}{2y^2}$  6.  $\frac{x^3}{14m^2y}$

7. 1 8.  $\frac{3b}{5a+15b}$  9.  $\frac{x+1}{5x}$  10.  $\frac{a+7}{2a+10}$  11.  $\frac{1}{3x}$  12.  $\frac{a^2+2a-3}{a^2-49}$  13.  $\frac{3x+1}{4x-3}$   
 14.  $\frac{x+11}{x-7}$  15.  $\frac{1}{2a^3+a^2}$  16.  $\frac{3a-3}{a}$  17.  $\frac{x^2-2x-35}{x^2-8x}$  18.  $\frac{1}{2}$  19.  $\frac{1}{a+3}$

20.  $\frac{5x+1}{2x^2+3x}$  21.  $\frac{x^2-1}{2}$  22.  $\frac{1}{12}$  23.  $\frac{x-3}{2x-1}$  24.  $\frac{2a-3b}{a^2}$   
**ERJICIO 135.** 1.  $\frac{b}{a+b}$  2.  $\frac{x^2+x-2}{x^2}$  3.  $\frac{a-1}{a^2+1}$  4.  $\frac{x^2+6x+8}{x^2+6x+9}$  5.  $\frac{a^2+ab}{a-b}$

6.  $\frac{x^2-1}{x^3+2}$  7.  $\frac{x^2-x-2}{x-1}$  8.  $\frac{n}{n^2+2}$   
**ERJICIO 136.** 1.  $\frac{2x^2}{z^2}$  2.  $\frac{2a^2b}{x}$  3.  $\frac{3a^2+3a-6}{2a^2+2a}$  4.  $\frac{x^2-81}{a}$  5.  $\frac{1}{x-7}$  6. 1

7.  $\frac{x-3}{x-10}$  8.  $\frac{x-3}{2ax+4a}$  9.  $\frac{4x^2-12x+9}{2x^2+3x}$  10.  $\frac{a^2+ab+ac}{a-b-c}$  11.  $\frac{b^2-b}{x+3}$   
 12.  $\frac{4m^2+mn}{m^2n-3mn^2+9n^3}$  13.  $\frac{1}{a}$  14.  $a^3-3a^2$

**ERJICIO 137.** 1.  $\frac{a}{b+1}$  2.  $x^2+x+1$  3.  $\frac{a-b}{b}$  4.  $\frac{m+n}{n-m}$  5. 2 6.  $\frac{x-y}{y}$   
 7.  $\frac{x+3}{x-5}$  8.  $a-2$  9.  $\frac{4ab-4b^2}{2a+b}$  10.  $\frac{3}{5b}$  11.  $\frac{1}{a+x-1}$  12.  $\frac{a^2-2a}{a+1}$

13.  $\frac{5-a}{4a^2+a^3}$  14.  $\frac{4x^2+3x}{5x+2}$  15.  $\frac{x+1}{x}$  16.  $\frac{a-b}{a+b}$  17.  $\frac{x+4}{x+10}$  18.  $\frac{a^2+2a+1}{a^2+8a+15}$



**ERJICIO 138.** 1.  $x^2+x$ , 2.  $\frac{x}{x^2+x-2}$ , 3.  $\frac{b}{a+b}$ , 4.  $\frac{1}{2x+1}$ , 5.  $m$ ,  
 $\frac{-ab+b^2}{ab^2}$ , 7.  $\frac{1+x-x^2-x^3}{2}$ , 8.  $\frac{4x^2}{xy-y^2}$ , 9.  $x$ , 10.  $\frac{a-x}{4a}$ , 11. 1, 12.  $\frac{x-3}{x^2+4x}$ ,  
 $-ab$ , 14.  $\frac{x-3y}{x-4y}$ , 15.  $-\frac{1}{a}$ , 16. -1, 17.  $\frac{a-b+c}{a-b-c}$ , 18.  $\frac{2a^2-2a+1}{1-2a}$ , 19. 1,  
 $\frac{x}{x+1}$ , 21.  $\frac{x-1}{2x-1}$ , 22.  $\frac{x}{2x-3}$ , 23.  $\frac{2x+4}{3x+2}$ , 24. -1, 25.  $\frac{a-1}{a^2-2}$ , 26.  $x-1$ .

**ERJICIO 139.** 1. 0, 2.  $\infty$ , 3. 0, 4.  $\infty$ , 5. 0, 6.  $\frac{6}{7}$ , 7.  $\frac{5}{8}$ , 8. -1,  
 10.  $\frac{4}{5}$ , 11.  $\infty$ , 12.  $\frac{9}{5}$ , 13.  $\frac{3}{15}$ , 14. 0, 15.  $\infty$ , 16.  $-\frac{1}{5}$ , 17.  $3a^2$ ,  
 19. 2, 20. 3, 21.  $\infty$ , 22. 2, 23.  $\frac{1}{3}$ , 24.  $\frac{1}{6}$ , 25.  $\frac{4}{5}$ , 26.  $\frac{18}{5}$ ,  
 28.  $\frac{4}{9}$ , 29. 1, 30. 7.

**ERJICIO 140.** 1.  $\frac{4x+5}{6x-1}$ , 2.  $\frac{a+1}{a^2-a^2}$ , 3.  $\frac{1}{x(x-3)}$ , 4.  $4x$ , 5.  $\frac{a^2+b^2}{a^2+b}$ ,  
 $-a+1$ , 7.  $\frac{49-29x}{29x}$ , 8.  $\frac{4x}{3} - \frac{5y}{3} + \frac{y^2}{3x}$ , 9.  $\frac{1}{nx} - \frac{1}{mx} - \frac{1}{mn}$ , 13.  $\frac{4a^3-2a^2b}{(a-b)(a^2+b^2)}$ ,  
 $\frac{1}{-a^2}$ , 15.  $\frac{x+4}{x}$ , 16.  $\frac{1}{2x+1}$ , 17.  $-\frac{9x+4}{8x+3}$ , 18.  $\frac{1}{x}$ , 19.  $\frac{a^2}{a^2-b^2}$ , 20.  $\frac{1}{3}$ ,  
 $\frac{3}{-5b}$ , 22.  $\frac{1}{2}$ , 23.  $\frac{7x^2+13x-27}{6(x+2)(x-3)^2}$ , 24. 1.

**ERJICIO 141.** 1. -4, 2. 3, 3. -8, 4. -13, 5.  $\frac{1}{2}$ , 6.  $-\frac{5}{3}$ , 7. 19,  
 $\frac{1}{5}$ , 9.  $\frac{1}{3}$ , 10.  $-\frac{9}{8}$ , 11.  $\frac{52}{7}$ , 12.  $\frac{5}{7}$ , 13.  $-\frac{1}{2}$ , 14.  $\frac{2}{13}$ , 15.  $\frac{11}{4}$ , 16.  $1\frac{3}{5}$ ,  
 $-\frac{5}{8}$ , 18.  $-\frac{5}{8}$ , 19.  $\frac{1}{5}$ , 20. -2, 21. 2, 22. 1, 23. 14, 24.  $-\frac{1}{2}$ , 25. 14,  
 27. -4, 28. 4, 29. -3, 30. 8, 31. 15, 32. 5, 33.  $\frac{7}{19}$ .

**ERJICIO 142.** 1. -2, 2.  $\frac{5}{4}$ , 3. 4, 4.  $\frac{4}{2}$ , 5.  $-\frac{20}{11}$ , 6. 2, 7. 0, 8. 35,  
 $-\frac{1}{7}$ , 10.  $-\frac{1}{7}$ , 11.  $\frac{13}{14}$ , 12.  $\frac{9}{4}$ , 13. 9, 14.  $-\frac{1}{23}$ , 15.  $-\frac{1}{2}$ , 16. 14,  
 18. 2, 19. 54, 20. -11, 21.  $1\frac{7}{9}$ , 22. -16, 23.  $3\frac{2}{19}$ , 24.  $1\frac{3}{8}$ ,  
 $1\frac{2}{5}$ , 27.  $-\frac{4}{9}$ , 28.  $\frac{3}{15}$ , 29.  $\frac{3}{8}$ , 30.  $2\frac{1}{8}$ , 31. 3, 32. -4,  
 34. -6, 35.  $-1\frac{3}{7}$ , 36.  $-\frac{3}{5}$ , 37.  $-1\frac{4}{15}$ , 38. 1, 39.  $-\frac{1}{2}$ .

**ERJICIO 143.** 1.  $\frac{1-a}{a}$ , 2.  $\frac{2}{a-b}$ , 3.  $a-b$ , 4.  $a-3$ , 5.  $a$ , 6.  $\frac{a}{3}$ , 7.  $a-$ ,  
 $\frac{a^3+2b^3}{a^2+2b^2}$ , 9. 1, 10.  $\frac{a-1}{2}$ , 11.  $\frac{1+a}{1+m}$ , 12. 2, 13.  $a-b$ , 14.  $a+b$ ,  
 $\frac{a-1}{2}$ , 16.  $-\frac{3m}{2}$ , 17.  $\frac{1}{a+b}$ , 18.  $\frac{b}{a}$ , 19.  $a$ , 20.  $2m$ .

**ERJICIO 144.** 1.  $\frac{m^2}{3}$ , 2.  $\frac{6a}{b}$ , 3. 1, 4.  $m$ , 5.  $2a$ , 6. 2, 7.  $2a$ ,  
 $n-m$ , 9.  $a+b$ , 10.  $\frac{6a+3b}{8}$ , 11.  $-4a$ , 12.  $\frac{3bc}{2(b+2c)}$ , 13.  $mn$ , 14.  $2(3b-a)$ ,  
 $-\frac{m^2+n^2}{2m}$ , 18.  $\frac{3b}{5}$ , 17.  $b$ , 18.  $\frac{a}{2}$ , 19.  $\frac{b-a}{2}$ , 20.  $\frac{ab}{2}$ , 21.  $4a-1$ ,  
 $\frac{1-a}{2}$ , 23.  $2a+3b$ , 24.  $n-2m$ .

**ERJICIO 145.** 1. 8, 2. 12, 3. 5, 4. 80, 5. 30, 6. 120, 7. A, 10 años;  
 B, 6 años, 8. A, \$120; B, \$105, 9. 100 m, 10. bs. 72, 11. 18, 12. 14, 13. 60,  
 14. 26%, 15. 63 p.

**ERJICIO 146.** 1. 24 y 25, 2. 64 y 65, 3. 124 y 125, 4. 99 y 100, 5. 80 y 81,  
 6. A, \$25; B, \$24, 7. Hoy, \$16; ayer, \$15, 8. 80, 81 y 82, 9. 70, 71 y 72,  
 10. 20, 21 y 22, 11. A, 16; B, 14; C, 12 años, 12. A, 5 años; B, 6 años; C, 7 años.

**ERJICIO 147.** 1. 41 y 18, 2. 315 y 121, 3. 21 y 65, 4. 80 y 24, 5. 200 y 60,  
 6. A, 96 soles; B, 100 soles.

**ERJICIO 148.** 1. 1er. día, \$100; 2º día, \$50; 3er. día, \$25, 2. Miér., \$120;  
 juev., \$72; viernes, \$60, 3. A, 120; B, 80; C, 48 sucres, 4. A, 40 años; B, 24 años;  
 C, 9 años, 5. 1er. día, 81 Km; 2º, 27 Km; 3º, 9 Km; 4º, 3 Km, 6. 1ª, 1000 Km;  
 2ª, 1100 Km; 3ª, 1210 Km; 4ª, 1331 Km, 7. 1ª, 200000; 2ª, 100000; 3ª, 25000;  
 4ª, 5000; 5ª, 500 colonos, 8. Barco, 5436; tren, 2416; avión, 1510 Km.

**ERJICIO 149.** 1. \$50, 2. Q. 84, 3. \$93, 4. bs. 5000, 5. 80, 6. 120 soles,  
 7. \$96, 8. \$90, 9. 1600 sucres, 10. \$120.

**ERJICIO 150.** 1. A, 25 años; B, 75 años, 2. A, 60 años; B, 20 años, 3. 50 años,  
 4. 36 años, 5. Hijo, 16 años; padre, 48 años, 6. Hijo, 20 años; padre, 50 años,  
 7. A, 50 años; B, 15 años, 8. Padre, 55 años; hijo, 30 años, 9. Padre, 50 años;  
 hijo, 30 años, 10. A, 48 años; B, 30 años, 11. A, 24 años; B, 8 años.

**ERJICIO 151.** 1. A, bs. 60; B, bs. 30, 2. A, 48; B, 96 colonos, 3. A, \$48; B, \$90,  
 4. A, \$70; B, \$42, 5. Con 90 sucres, 6. A, con \$72; B, con \$48, 7. A, \$72; B, \$90,  
 8. A, \$30; B, \$15, 9. 40 balboas, 10. 36 soles.

**ERJICIO 152.** 1. 2 años, 2. 5 años, 3. 12 años, 4. 15 años, 5. \$20,  
 6. Q. 35, 7. 15 y 20 a, 8. \$10, 9. bs. 120.

**ERJICIO 153.** 1. 12 m × 9 m, 2. 18 m × 9 m, 3. 15 m × 13 m,  
 4. 48 m × 12 m, 5. 49 × 36 m, 6. 90 m × 60 m, 7. 18 m × 8 m.

**ERJICIO 154.** 1.  $\frac{5}{3}$ , 2.  $\frac{8}{9}$ , 3.  $\frac{25}{11}$ , 4.  $\frac{13}{27}$ , 5.  $\frac{6}{10}$ , 6.  $\frac{5}{8}$ , 7.  $\frac{9}{8}$ , 8.  $\frac{27}{8}$ .

**ERJICIO 155.** 1. 42, 2. 48, 3. 63, 4. 21, 5. 52, 6. 97, 7. 84.



**ERJICIO 156.** 1. 2 días. 2.  $6\frac{2}{3}$  min. 3. 2 días. 4.  $\frac{4}{5}$  de día. 5.  $2\frac{2}{3}$  min.  
min.

**ERJICIO 157.** 1. 1 y  $38\frac{2}{11}$  min. 2. A las 10 y  $5\frac{5}{11}$  min. y a las 10 y  $38\frac{2}{11}$  min.  
as 8 y  $10\frac{10}{11}$  min. 4. 12 y  $32\frac{8}{11}$  min. 5. A las 2 y  $27\frac{3}{11}$  min. 6. A las 4 y  $21\frac{9}{11}$  min.  
as 6 y  $16\frac{4}{11}$  min y a las 6 y  $49\frac{1}{11}$  min. 8. A las 10 y  $54\frac{6}{11}$  min. 9. A las 7  
min. 10. A las 3 y  $21\frac{9}{11}$  min. 11. A las 8 y  $32\frac{8}{11}$  min. y a las 8 y  $54\frac{6}{11}$  min.

**ERJICIO 158.** 1. 62 y 56. 2. \$20. 3. 18. 4. 28000 y 20000 soles. 5. 60 y 24.  
y 75. 7. \$160. 8. Ropa, \$48; libros, \$90. 9. A, 15 años; B, 6 años; C, 4 años.  
9000. 11. 8. 12. 70. 13. 60, 50, 30 y 10. 14. 9 y  $49\frac{1}{11}$  min. 15. A, 55 años;  
años. 16. 15 días. 17. 500 y 150. 18. A, 15 años; B, 60. 19. 23 y 22.  
0 sucres. 21. Entre 10. 22. 40 libros; \$10. 23. A, \$110, B, \$140.  
libros. 25. 30000 colones. 26. 3600 balboas. 27. \$4800. 28. 200 y 150.  
80. 30. 8 pesos, 6 piezas de 20 cts. y 4 de 10 cts. 31. Q. 8000. 32. 40 años.  
hombres; 3061 hombres. 34. \$288. 35. Con 80 lempiras. 36. 72. 37. 63.  
39. \$20. 40. Pluma, \$2; lapicero, \$1.20. 41. \$28. 42. \$18000.  
astón, \$15; somb., \$45; traje, \$80. 44. 300 saltos. 45. 225 saltos. 46. A las 10  
min. 47. A, con bs. 8000; B, con bs. 6000. 48. 30 años. 49. 100 Km.  
lb., \$50; perro, \$20.

**ERJICIO 159.** 1. 80 m. 2. 100 Km. 3. 360 Km de A y 160 Km de B.  
oras. 5. 250 Km; 10 $\frac{1}{2}$  a.m. 6. A, 45 Km; B, 25 Km. 7. A, 17 $\frac{1}{2}$  Km;  
Km. 8. 7 horas; 420 Km. 9. A 93 Km.

**ERJICIO 162.** 1. 40 cm<sup>2</sup>. 2. 32 m<sup>2</sup>. 3. 135 m. 4. 12 seg. 5. 5 m.  
m. 7.  $78\frac{4}{7}$  m<sup>2</sup>. 8.  $31\frac{3}{7}$  m. 9.  $37\frac{6}{7}$  m<sup>2</sup>. 10. 1.03. 11. 6.92 m<sup>2</sup>. 12. 720°.

**ERJICIO 163.** 1.  $v = \frac{e}{t}$ ,  $t = \frac{e}{v}$ . 2.  $h = \frac{2A}{b+b'}$ . 3.  $a = \frac{2e}{t^2}$ . 4.  $a = \frac{2A}{ln}$ ,  $l = \frac{2A}{an}$ .  
 $\frac{A}{l}$ . 5.  $r = \sqrt{\frac{A}{\pi}}$ . 6.  $x = \frac{b^2+c^2-a^2}{2b}$ . 7.  $V_o = V - at$ ,  $a = \frac{V-V_o}{t}$ ,  $t = \frac{V-V_o}{a}$ .

$= V + at$ ,  $a = \frac{V_o - V}{t}$ ,  $t = \frac{V_o - V}{a}$ . 9.  $V = \frac{P}{D}$ ,  $P = VD$ . 10.  $b = \sqrt{a^2 - c^2}$ .  
 $a^2 - b^2$ . 11.  $a = \frac{V}{t}$ ,  $t = \frac{V}{a}$ . 12.  $p' = \frac{pf}{p+f}$ ,  $p = \frac{p'f}{f-p'}$ . 13.  $d = \frac{e}{v^2}$ ,  $e = v^2d$ .  
 $= \frac{2e-at^2}{2t}$ . 15.  $V_o = \frac{2e+at^2}{2t}$ ,  $a = \frac{2(V_o t - e)}{t^2}$ . 16.  $h = \frac{3V}{\pi r^2}$ ,  $r = \sqrt{\frac{3V}{hx}}$ .

$= \frac{100 \times I}{t \times r}$ ,  $t = \frac{100 \times I}{c \times r}$ ,  $r = \frac{100 \times I}{c \times t}$ . 18.  $R = \frac{E}{I}$ ,  $I = \frac{E}{R}$ . 19.  $v = \sqrt{2ae}$ .  
 $= u - (n-1)r$ ,  $n = \frac{u-a+r}{r}$ ,  $r = \frac{u-a}{n-1}$ . 21.  $a = \frac{u}{r^{n-1}}$ ,  $r = \sqrt[n-1]{\frac{u}{a}}$ . 22.  $Q = It$ ,  $t = \frac{Q}{I}$ .

**ERJICIO 164.** 1.  $x > 1$ . 2.  $x > 4$ . 3.  $x > 3$ . 4.  $x > -3$ . 5.  $x > 7$ . 6.  $x < 8$ .  
7.  $x > 5$ . 8.  $x > \frac{1}{2}$ . 9.  $x > 1$ . 10.  $x > -7$ . 11.  $x < \frac{13}{3}$ . 12.  $x > \frac{41}{60}$ . 13.  $x < \frac{7}{6}$ .  
14.  $x > 2$ . 15.  $x < 3$ . 16.  $x > 2$ . 17. Los números enteros menores que 84.

**ERJICIO 165.** 1.  $x > 8$ . 2.  $x < 9$ . 3.  $x > 3$ . 4.  $x < 1$ . 5.  $x > 20$ . 6.  $10 < x < 11$ .  
7.  $4 < x < 6$ . 8.  $-3 < x < -2$ . 9.  $21 < x < 22$ . 10. 5 y 6.

**ERJICIO 166.** 1. 12. 2. 36. 3. 84. 4. 5. 5.  $2\frac{1}{7}$ . 6. 2. 7. 1. 8.  $4\frac{1}{5}$ .  
9. 96. 10. 3. 11. 50 m<sup>2</sup>. 12. 120 m<sup>2</sup>. 13. 256 m<sup>3</sup>. 14. 154 cm<sup>2</sup>.  
15.  $10\frac{1}{2}$  cm. 16.  $\pm 4$ .

**ERJICIO 167.** 1.  $A = 2B$ . 2.  $c = vt$ . 3.  $A = \frac{1}{2}DD'$ . 4.  $A = \frac{3B}{C}$ .  
5.  $C = \frac{44}{7}r = 2\pi r$ . 6.  $c = 4.9t^2$ . 7.  $F = K \frac{mv^2}{r}$ . 8.  $y = 2x + 3$ . 9.  $l = r\sqrt{2}$ .  
10.  $y = \frac{x^2}{2} + 2$ . 11.  $y = \frac{5-2x}{3}$ . 12.  $F = \frac{kmm'}{d^2}$ . 13.  $h = \frac{2A}{B}$ . 14.  $W = \frac{1}{2}mv^2$ .  
15.  $B = \frac{3V}{h}$ . 16.  $x = \frac{10}{y}$ . 17.  $x = \frac{12}{y^2}$ . 18.  $A = \frac{B}{2C}$ .

**ERJICIO 173.** 1.  $x=1, y=4; x=2, y=3; x=3, y=2; x=4, y=1$ . 2.  $x=2, y=11$ .  
 $x=5, y=9; x=8, y=7; x=11, y=5; x=14, y=3; x=17, y=1$ . 3.  $x=1, y=8; x=6, y=5$ .  
 $x=11, y=2$ . 4.  $x=3, y=2; x=6, y=1$ . 5.  $x=5, y=10; x=13, y=3$ . 6.  $x=3, y=13$ .  
7.  $x=4, y=4; x=9, y=3; x=14, y=2; x=19, y=1$ . 8.  $x=3, y=16; x=14, y=7$ . 9.  $x=1$ .  
 $y=34; x=3, y=29; x=5, y=24; x=7, y=19; x=9, y=14; x=11, y=9; x=13, y=4$ .  
10.  $x=4, y=10; x=17, y=2$ . 11.  $x=2, y=18; x=7, y=11; x=12, y=4$ . 12.  $x=1$ .  
 $y=22; x=2, y=12; x=3, y=2$ . 13.  $x=2, y=17; x=6, y=8$ . 14.  $x=1, y=18; x=12, y=9$ .  
15.  $x=6, y=24; x=18, y=13; x=30, y=2$ . 16.  $x=6, y=18; x=19, y=8$ . 17.  $x=4, y=32$ .  
 $x=12, y=21; x=20, y=10$ . 18.  $x=5, y=24; x=30, y=3$ . 19.  $x=4m-1, y=3m-2$ .  
 $x=3, y=1; x=7, y=4; x=11, y=7$ . 20.  $x=8m-3, y=5m-2; x=5, y=3; x=13, y=8$ .  
 $x=21, y=13$ . 21.  $x=13m-5, y=7m-6; x=8, y=1; x=21, y=8; x=34, y=15$ . 22.  $x=12m$ .  
 $y=11m; x=12, y=11; x=24, y=22; x=36, y=33$ . 23.  $x=17m-5, y=14m-6; x=12$ .  
 $y=8; x=29, y=22; x=46, y=36$ . 24.  $x=11m+4, y=7m-5; x=15, y=2; x=26, y=9$ .  
 $x=37, y=16$ . 25.  $x=13m+46; y=8m-3; x=59, y=5; x=72, y=13; x=85, y=21$ .  
26.  $x=20m-17, y=23m+1; x=3, y=24; x=23, y=47; x=43, y=70$ . 27.  $x=5m-1$ .  
 $y=7m+61; x=4, y=68; x=9, y=75; x=14, y=82$ .

**ERJICIO 174.** 1. 1 de \$2 y 8 de \$5; 6 de \$2 y 6 de \$5; 11 de \$2 y 4 de \$5 o 16  
de \$2 y 2 de \$5. 2. 1 de \$5 y 4 de \$10; 3 de \$5 y 3 de \$10; 5 de \$5 y 2 de \$10 o 7 de  
\$5 y 1 de \$10. 3. 1 y 19; 4 y 14; 7 y 9 o 10 y 4. 4. 5 s. y 20 z.; 20 s. y 12 z. o 35 s.  
y 4 z. 5. 3 de l. y 15 de s.; 8 de l. y 12 de s.; 13 de l. y 9 de s.; 18 de l. y 6 de s.  
o 23 de l. y 3 de s. 6. 8 ad. y 20 niños. 7. 4 cab. y 89 v.; 26 cab. y 66 v.; 48 cab.  
y 43 v. o 70 cab. y 20 vacas. 8. 4 y 2. 9. 2 de 25 y 16 de 10; 4 de 25 y 11 de 10;  
6 de 25 y 6 de 10; 8 de 25 y 1 de 10.

**ERJICIO 175.** 21. (-1, 4). 22. (2, 3). 23. (5, 3). 24. (-2, -4). 25. (3, -4).  
26. (-5, -3). 27. (-4, 5). 28. (2, 4). 29. (-5, 6). 30. (-4, -3).

**ERJICIO 176.** 1.  $x=3, y=4$ . 2.  $x=-4, y=-5$ . 3.  $x=-1, y=2$ . 4.  $x=1, y=\frac{1}{2}$ .  
5.  $x=\frac{1}{2}, y=\frac{1}{2}$ . 6.  $x=-\frac{1}{2}, y=2$ . 7.  $x=-\frac{3}{2}, y=7$ . 8.  $x=-12, y=14$ . 9.  $x=\frac{1}{2}, y=6$ .

**ERJICIO 177.** 1.  $x=3, y=1$ . 2.  $x=4, y=-3$ . 3.  $x=-4, y=5$ . 4.  $x=-7, y=-3$ .  
5.  $x=\frac{3}{2}, y=2$ . 6.  $x=-\frac{1}{2}, y=-\frac{1}{2}$ . 7.  $x=\frac{3}{2}, y=\frac{3}{2}$ . 8.  $x=\frac{1}{2}, y=-\frac{1}{2}$ . 9.  $x=-3, y=10$ .



**ERJICIO 178.** 1.  $x=1, y=3$ . 2.  $x=-2, y=-1$ . 3.  $x=7, y=-5$ . 4.  $x=-4, y=2$ .  
5.  $x=1, y=-2$ . 6.  $x=1, y=1$ . 7.  $x=-2, y=5$ . 8.  $x=-2, y=2$ . 9.  $x=\frac{1}{2}, y=-1$ .  
10.  $x=4, y=20$ . 11.  $x=-1, y=-2$ . 12.  $x=3, y=-4$ .

**ERJICIO 179.** 1.  $x=3, y=4$ . 2.  $x=5, y=3$ . 3.  $x=4, y=9$ . 4.  $x=9, y=-2$ .  
5.  $x=4, y=-2$ . 6.  $x=6, y=8$ . 7.  $x=5, y=7$ . 8.  $x=1\frac{73}{89}, y=-\frac{30}{89}$ . 9.  $x=-1, y=-2$ .  
10.  $x=2, y=3$ . 11.  $x=\frac{1}{2}, y=\frac{1}{4}$ . 12.  $x=-2, y=-6$ .

**ERJICIO 180.** 1.  $x=6, y=2$ . 2.  $x=12, y=-4$ . 3.  $x=14, y=9$ . 4.  $x=15, y=12$ .  
5.  $x=5, y=4$ . 6.  $x=-3, y=-4$ . 7.  $x=-8, y=\frac{1}{2}$ . 8.  $x=7, y=-8$ . 9.  $x=2, y=4$ .  
10.  $x=-3, y=6$ . 11.  $x=15, y=-1$ . 12.  $x=4, y=5$ . 13.  $x=6, y=8$ . 14.  $x=\frac{1}{2}, y=\frac{1}{4}$ .  
15.  $x=7, y=8$ . 16.  $x=-9, y=11$ . 17.  $x=3, y=-1$ . 18.  $x=2, y=3$ . 19.  $x=\frac{3}{4}, y=\frac{1}{4}$ .  
20.  $x=6, y=10$ . 21.  $x=4, y=3$ . 22.  $x=8, y=12$ . 23.  $x=1, y=2$ . 24.  $x=2, y=3$ .  
25.  $x=-3, y=-4$ . 26.  $x=\frac{1}{2}, y=\frac{1}{4}$ . 27.  $x=4, y=8$ . 28.  $x=7, y=9$ . 29.  $x=\frac{1}{2}, y=\frac{1}{4}$ .  
30.  $x=3, y=9$ . 31.  $x=40, y=-60$ . 32.  $x=-\frac{3}{8}, y=-\frac{1}{4}$ . 33.  $x=2, y=4$ .

**ERJICIO 181.** 1.  $x=a, y=b$ . 2.  $x=1, y=b$ . 3.  $x=2a, y=a$ . 4.  $x=1, y=a$ .  
5.  $x=a, y=b$ . 6.  $x=b, y=a$ . 7.  $x=a, y=b$ . 8.  $x=\frac{1}{a}, y=\frac{1}{b}$ . 9.  $x=m+n, y=m-n$ .  
10.  $x=m^2, y=mn$ . 11.  $x=a+b, y=-b$ . 12.  $x=m, y=n$ . 13.  $x=-a, y=b$ . 14.  $x=a+c$ .  
15.  $x=\frac{1}{a}, y=\frac{1}{b}$ . 16.  $x=ab^2, y=a^2b$ . 17.  $x=\frac{m}{a}, y=\frac{n}{b}$ . 18.  $x=a-b, y=a$ .  
19.  $x=a-b, y=a+b$ . 20.  $x=\frac{1}{b}, y=\frac{1}{a}$ .

**ERJICIO 182.** 1.  $x=2, y=3$ . 2.  $x=3, y=4$ . 3.  $x=1, y=2$ . 4.  $x=-3, y=-2$ .  
5.  $x=\frac{1}{2}, y=\frac{1}{3}$ . 6.  $x=\frac{2}{3}, y=\frac{1}{4}$ . 7.  $x=-1, y=-5$ . 8.  $x=-2, y=-3$ . 9.  $x=-\frac{1}{2}$ .  
10.  $x=3, y=7$ . 11.  $x=\frac{2}{3}, y=\frac{1}{4}$ . 12.  $x=\frac{2}{a+b}, y=\frac{2}{a-b}$ . 13.  $x=a, y=b$ .  
14.  $x=2m, y=2n$ .

**ERJICIO 183.** 1. 2. 2. -11. 3. -26. 4. -59. 5. -46. 6. 30. 7. -17.  
8. 9. 79. 10. -47. 11. 6. 12. -367.

**ERJICIO 184.** 1.  $x=3, y=1$ . 2.  $x=-5, y=-7$ . 3.  $x=-6, y=8$ . 4.  $x=\frac{1}{3}, y=\frac{1}{4}$ .  
5.  $x=\frac{1}{4}, y=-2$ . 6.  $x=\frac{3}{4}, y=\frac{4}{5}$ . 7.  $x=9, y=8$ . 8.  $x=\frac{1}{2}, y=\frac{1}{2}$ . 9.  $x=-8, y=-12$ .  
10.  $x=a, y=\frac{1}{a}$ . 11.  $x=-1, y=-1$ . 12.  $x=2, y=\frac{1}{2}$ . 13.  $x=5, y=7$ . 14.  $x=5, y=3$ .  
15.  $x=a+b, y=a-b$ . 16.  $x=-10, y=-20$ .

**ERJICIO 185.** 1.  $x=4, y=3$ . 2.  $x=2, y=-4$ . 3.  $x=-3, y=-5$ . 4.  $x=4, y=-3$ .  
5.  $x=1, y=3$ . 6.  $x=4, y=-2$ . 7. Equivalentes. 8.  $x=5, y=-4$ . 9.  $x=-1, y=-1$ .  
10. compatibles. 11. Equivalentes. 12.  $x=4, y=-6$ . 13.  $x=4, y=5$ . 14.  $x=2$ .  
15.  $x=-3, y=5$ . 16.  $x=-2, y=-3$ .

**ERJICIO 186.** 1.  $x=1, y=2, z=3$ . 2.  $x=3, y=4, z=5$ . 3.  $x=-1, y=1, z=4$ .  
4.  $x=3, z=2$ . 5.  $x=-2, y=3, z=-4$ . 6.  $x=3, y=-2, z=5$ . 7.  $x=5, y=-3, z=-2$ .  
8.  $x=5, y=-4, z=-3$ . 9.  $x=\frac{1}{2}, y=\frac{1}{3}, z=\frac{1}{4}$ . 10.  $x=5, y=-6, z=-8$ . 11.  $x=1, y=-10$ .  
12.  $x=3, y=3, z=-3$ . 13.  $x=\frac{1}{2}, y=\frac{1}{3}, z=-\frac{1}{4}$ . 14.  $x=\frac{1}{2}, y=-2, z=6$ . 15.  $x=-2$ .  
16.  $x=3, y=-2, z=4$ . 17.  $x=6, y=-5, z=-3$ . 18.  $x=2, y=3, z=-4$ .  
19.  $x=1, y=4, z=5$ . 20.  $x=6, y=3, z=-1$ . 21.  $x=-2, y=-3, z=-4$ . 22.  $x=10$ .  
23.  $x=2, y=4, z=5$ . 24.  $x=6, y=12, z=18$ . 25.  $x=30, y=12, z=24$ .  
26.  $x=10, y=12, z=6$ . 27.  $x=8, y=6, z=3$ . 28.  $x=10, y=8, z=4$ . 29.  $x=6, y=4, z=2$ .  
30.  $x=\frac{1}{2}, y=\frac{1}{3}, z=\frac{1}{4}$ . 31.  $x=3, y=2, z=4$ . 32.  $x=\frac{1}{2}, y=-\frac{1}{3}, z=-2$ .

**ERJICIO 187.** 1. 7. 2. -45. 3. 14. 4. -44. 5. 115. 6. -65. 7. -171.  
8. 0. 9. 847. 10. -422. 11. 378

**ERJICIO 188.** 1.  $x=2, y=4, z=5$ . 2.  $x=-1, y=-2, z=-3$ . 3.  $x=\frac{1}{2}, y=\frac{1}{3}, z=\frac{1}{4}$ .  
4.  $x=\frac{1}{2}, y=3, z=5$ . 5.  $x=-2, y=-3, z=5$ . 6.  $x=8, y=-5, z=-2$ . 7.  $x=5, y=-1$ .  
8.  $x=-2, y=6, z=7$ . 9.  $x=-6, y=6, z=3$ . 10.  $x=-5, y=-7, z=-8$ .  
11.  $x=6, y=8, z=4$ . 12.  $x=9, y=8, z=4$ .

**ERJICIO 191.** 1.  $x=1, y=2, z=3$ . 2.  $x=1, y=1, z=3$ . 3.  $x=2, y=2, z=5$ .  
4.  $x=3, y=3, z=4$ . 5.  $x=4, y=2, z=3$ . 6.  $x=2, y=3, z=5$ .

**ERJICIO 192.** 1.  $x=-2, y=-3, z=4, u=5$ . 2.  $x=1, y=2, z=3, u=4$ . 3.  $x=-1$ .  
4.  $x=-3, y=4, z=-2, u=5$ . 5.  $x=4, y=-5, z=3, u=-2$ . 6.  $x=-1$ .  
7.  $x=-2, y=2, z=3, u=-3$ . 8.  $x=3, y=-1, z=2, u=-2$ .

**ERJICIO 193.** 1. 64 y 24. 2. 104 y 86. 3. 815 y 714. 4. 96 y 84. 5. 63 y 4.  
6. 90 y 60. 7. 81 y 48. 8. 64 y 16. 9. 45 y 15.

**ERJICIO 194.** 1. T., 800 soles; somb., 60 soles. 2. V., \$55; c., \$42. 3. Adulto,  
35 cts.; niño, 18 cts. 4. 31 y 23. 5. A, 21 a.; B, 16 a. 6. A, 45 a.; B, 40 a.  
7. A, 55 a.; B, 42 a. 8. A, 65 a.; B, 36 a.

**ERJICIO 195.** 1.  $\frac{8}{a}$ . 2.  $\frac{7}{13}$ . 3.  $\frac{9}{7}$ . 4.  $\frac{7}{11}$ . 5.  $\frac{15}{28}$ . 6.  $\frac{6}{8}$ . 7.  $\frac{2}{3}$ .

**ERJICIO 196.** 1. 25 y 30. 2. 22 y 33. 3. 45 y 50. 4. A, 30 a.; B, 42 a.  
5. A, 40 a.; B, 50. 6. A, 14 años; B, 21 a. 7. A, con bs. 50; B, con bs. 65.  
8. Menor, 70000 h.; mayor, 90000.

**ERJICIO 197.** 1. 54 y 25. 2. 57 y 19. 3. 27 y 17. 4. 27 y 5. 5. 20 m x 4.

**ERJICIO 198.** 1. 75. 2. 59. 3. 94. 4. 83. 5. 97. 6. 34. 7. 45.

**ERJICIO 199.** 1. 35 de 20 cts. y 43 de 10 cts. 2. 40 de \$5 y 51 de \$4.  
3. 300 adultos, 400 niños. 4. De 20 cts. 21; de 25 cts. 23. 5. 155 de \$1 y 132 de \$2.  
6. 16 de 3 colones; 18 de 7 colones. 7. 13 trajes y 41 somb.

**ERJICIO 200.** 1. A, \$5; B, \$3. 2. A, 10 soles; B, 14 soles. 3. P, \$13; J, \$7.  
4. A, 30; B, 20 a. 5. A, 42; B, 24 a. 6. A, 35; B, 25 a. 7. Hombre, 36; esposa, 20.  
8. A, 135 lempiras; B, 85 lempiras. 9. Padre, 51; hijo, 15 a. 10. P., 35 cts.; J., 25 cts.  
11. A, \$1.50; B, \$3.00. 12. E., 24 a.; her., 18 a.

**ERJICIO 201.** 1. Bote, 7 Km/h; río, 3 Km/h. 2. Bote, 12 Km/h; río, 4 Km/h.  
3. Ida, 2 h.; vuelta, 3 h. 4. Bote, 12 Km/h; río, 4 Km/h. 5. Ida, 2 h.; vuelta, 4 h.  
6. Bote, 10 Km/h; río, 6 Km/h.

**ERJICIO 202.** 1. 10, 12, 15. 2. Az., 6 cts.; café, 20 cts.; frij., 7 cts. kilo. 3. 75.  
4. 40, 42, 45. 5. 123. 6. 80°, 55°, 45°. 7. 40 v., 45 cab., 25 t. 8. 523. 9. 70.  
10. A, bs. 60; B, bs. 50; C, bs. 30. 11. A, \$9; B, \$8; C, \$7. 12. 321.  
13. A, Q. 16; B, Q. 12; C, Q. 10. 14. 441. 15. A, 15; B, 12; C, 10 a.

**ERJICIO 203.** 1. 5 m x 4 m. 2. A, 48 balboas; B, 24 balboas. 3. 20 m x 5.  
4. Carro, \$80; cab., \$90; arreos, \$30. 5. 48, 60, 90. 6. 51. 7. 40 Km/h;  
15 Km/h. 8. 15 a \$8. 9. Café, 30 cts.; té, 45 cts. kilo. 10. 32 de \$40 y 18  
de \$35. 11.  $\frac{5}{12}$ . 12. 115, 85 soles. 13. Caballo, \$100; coche, \$40. 14. 54.  
15. 30 bs. 20. 16. A, 600 sucres; B, 480 sucres. 17. Ayer, \$60; hoy, \$50. 18. 30 y 1.  
19. A, 24; B, 32 lempiras. 20. 60 y 40. 21. Bote, 12 Km/h; río, 4 Km/h.  
22. A, 45; B, 15 a. 23. A, 8; B, 9 Km. 24. 15. 25. 25 m x 4 m. 26. 16 m x 12.

**ERJICIO 204.** 1. 120. 2. 120. 3. 21. 4. 30. 5. 60. 6. 792. 7. 5040.  
8. 35. 9. 24. 10. 720. 11. 720, 5040. 12. 720, 120. 13. 504. 14. 6. 15.  
16. 6. 17. 60. 18. 3628800. 19. 56. 20. 120. 21. 40320; 120. 22. 24.



**CICLO 205.** 1.  $16a^4$ . 2.  $-125a^3$ . 3.  $27x^3y^3$ . 4.  $36a^4b^2$ . 5.  $-8x^6y^9$ .  
 $a^6b^3c^{12}$ . 7.  $36x^3y^{10}$ . 8.  $-343a^3b^3c^{12}$ . 9.  $a^{12}b^{12}$ . 10.  $16x^{12}y^{20}z^{24}$ . 11.  $-27m^3n^3$ .  
 $27b^3c^3$ . 13.  $m^6n^4x^{12}$ . 14.  $-243a^{10}b^3$ . 15.  $49x^{10}y^{12}z^{16}$ . 16.  $\frac{x^2}{4y^2}$ . 17.  $-\frac{8m^3}{n^9}$ .  
 $\frac{3b^6}{125}$ . 19.  $\frac{9x^4}{16y^2}$ . 20.  $\frac{16a^4b^3}{81m^{12}}$ . 21.  $-\frac{32m^{15}n^5}{243x^{20}}$ . 22.  $\frac{9}{16}a^0b^4$ . 23.  $\frac{1}{81}m^4n^4$ .  
 $\frac{1}{32}a^{10}b^{20}$ .

**CICLO 206.** 1.  $a^{10}+14a^3b^2+49b^5$ . 2.  $9x^5-30x^3y^3+25x^2y^6$ . 3.  $a^4b^6-2a^7b^3+a^{10}$ .  
 $x^{10}-112x^3y^4+64x^6y^8$ . 5.  $81a^2b^4+90a^3b^5+25a^4b^6$ . 6.  $9x^4y^9-42x^2y^3+49x^4y^4$ .  
 $y^5-2a^2b^2xy+a^4b^4$ . 8.  $\frac{1}{4}x^2+\frac{2}{3}xy+\frac{4}{9}y^2$ . 9.  $\frac{9}{16}a^4-\frac{3}{8}a^2b^2+\frac{4}{25}b^4$ . 10.  $\frac{25}{30}x^6+x^4y^2+\frac{9}{25}x^2y^4$ .  
 $a^{10}-\frac{2}{21}a^6b^7+\frac{9}{40}a^8b^{14}$ . 12.  $\frac{4}{25}m^8-m^4n^3+\frac{25}{10}n^6$ . 13.  $\frac{1}{9}x^2+\frac{1}{6}xy+\frac{1}{10}y^2$ . 14.  $\frac{4}{9}x^2-$   
 $\frac{9}{25}y^2$ . 15.  $\frac{1}{64}a^0+\frac{a^5}{7b}+\frac{16a^4}{49b^2}$ . 16.  $\frac{9}{4x^2}-2x^3+\frac{4x^5}{9}$ . 17.  $\frac{25x^{14}}{36y^8}-\frac{x^6y^2}{2}+\frac{9y^{12}}{100x^4}$ .  
 $\frac{9}{4}a^{12}-\frac{a^8}{3b^5}+\frac{16a^4}{81b^{10}}$ .

**CICLO 207.** 1.  $8a^3+36a^2b+54ab^2+27b^3$ . 2.  $64a^3-144a^2b^2+108ab^4-27b^6$ .  
 $5x^6+450x^4y^3+540x^2y^6+216y^9$ . 4.  $64x^3-144x^2y^2+108xy^4-27y^6$ . 5.  $343a^{12}-$   
 $9b^4+525a^8b^4-125a^6b^6$ . 6.  $a^{24}+27a^{21}x^4+243a^{18}x^8+729a^{15}x^{12}$ . 7.  $512x^{12}-$   
 $16y^4+1176x^8y^8-343x^4y^{12}$ . 8.  $27a^3b^3-135a^2b^4+225a^2b^5-125a^3b^6$ . 9.  $\frac{1}{8}a^3+\frac{1}{2}a^2b^2+$   
 $+\frac{5}{27}b^6$ . 10.  $\frac{27}{64}a^6-\frac{27}{80}a^4b^2+\frac{36}{25}a^2b^4-\frac{94}{125}b^6$ . 11.  $\frac{125}{210}a^6b^3-\frac{5}{8}a^4b^5+\frac{9}{40}a^2b^5-\frac{27}{1000}b^{12}$ .  
 $\frac{13}{2}x^{15}-\frac{21}{10}x^{10}y^5+\frac{6}{7}x^5y^{12}-\frac{64}{843}y^{10}$ . 13.  $\frac{x^3}{8y^3}+\frac{9}{4y}+\frac{27y}{2x^3}+\frac{27y^5}{x^6}$ . 14.  $\frac{8a^6}{125}-\frac{6a^4}{5b^3}+$   
 $-\frac{125}{8b^9}$ . 15.  $64x^{12}-\frac{144x^9}{y^3}+\frac{108x^6}{y^6}-\frac{27x^3}{y^9}$ . 16.  $\frac{27a^3}{8b^3}+\frac{27a^2}{5}+\frac{72ab^3}{25}+\frac{64b^6}{125}$ .  
 $\frac{43}{12}-\frac{147}{64}x^4y^5+\frac{21}{8}x^2y^{10}-x^{12}y^{15}$ . 18.  $\frac{1}{216}m^6-\frac{1}{2}m^4n^2+\frac{18n^4}{m}-\frac{216n^6}{m^6}$ .

**CICLO 208.** 1.  $x^4-4x^3+6x^2-4x+1$ . 2.  $4x^4+4x^3+5x^2+2x+1$ . 3.  $x^4-10x^3+$   
 $-20x+4$ . 4.  $x^6-10x^5+25x^4+12x^3-60x^2+36$ . 5.  $16a^4-24a^3+49a^2-30a^2+25$ .  
 $+4y^2+z^2+4xy-2xz-4yz$ . 7.  $9-6x^3-5x^6+2x^9+x^{12}$ . 8.  $25x^6-70x^6+30x^5+49x^4-$   
 $-9x^2$ . 9.  $4a^4+8a^3b-8a^2b^2-12ab^3+9b^4$ . 10.  $m^6-4m^5n+4m^4n^2+4m^3n^3-8m^2n^5+4n^8$ .  
 $+\frac{b^2}{4}+\frac{c^2}{16}-ab+\frac{ac}{4}-\frac{bc}{2}$ . 12.  $\frac{x^2}{25}-2xy+\frac{2x}{3}+25y^2-\frac{50y}{3}+\frac{25}{9}$ . 13.  $\frac{1}{4}x^4-x^3+\frac{5}{3}x^2-$   
 $\frac{1}{4}$ . 14.  $\frac{a^2}{x^2}-\frac{2a}{3x}+\frac{1}{2}-\frac{2x}{9}-\frac{x^2}{3a}+\frac{x^2}{a^2}$ . 15.  $\frac{9a^4}{16}-\frac{3a^3}{4}+\frac{29a^2}{20}-\frac{4a}{5}+\frac{16}{25}$ . 16.  $\frac{a^4}{16}-\frac{3a^2}{10}+$   
 $+\frac{9}{25}-\frac{2b^2}{15}+\frac{b^4}{81}$ . 17.  $x^6-2x^3+3x^4-x^2+2x+1$ . 18.  $x^6-6x^5+5x^4+16x^3-8x^2-8x+4$ .

$+6x^0-8x^5+19x^4-24x^3+46x^2-40x+25$ . 20.  $x^6-8x^7+16x^6+4x^5-22x^4+24x^3+4x^2-$   
 $9$ . 21.  $9-36a+42a^2-18a^3+13a^4-2a^5+a^6$ . 22.  $\frac{1}{4}x^6-x^5+\frac{6}{3}x^4+\frac{2}{3}x^3-\frac{32}{9}x^2+\frac{8}{9}x+4$ .  
 $0-\frac{2}{3}a^5+\frac{43}{30}a^4-\frac{3}{2}a^3+\frac{59}{40}a^2-\frac{3}{4}a+\frac{1}{4}$ . 24.  $x^{10}-2x^9+3x^8-4x^7+5x^6-8x^5+7x^4-6x^3+$   
 $1x+4$ .

**EJERCICIO 209.** 1.  $x^6+3x^5+6x^4+7x^3+6x^2+3x+1$ . 2.  $8x^6-12x^5-6x^4+11x^3+3x^2-3x-$   
 $3$ .  $1-9x+33x^2-63x^3+66x^4-36x^5+8x^6$ . 4.  $8-36x+66x^2-63x^3+33x^4-9x^5+x^6$ . 5.  $x^6-6x^5+$   
 $12x^4-20x^3+48x^2-48x+96x^0-96x^2-64$ . 6.  $x^{12}-3x^{10}-3x^8+11x^6+6x^4-12x^2-8$ .  
 $7$ .  $a^6+\frac{3}{2}a^5-\frac{1}{4}a^7-\frac{7}{8}a^6+\frac{1}{12}a^5+\frac{1}{6}a^4-\frac{1}{27}a^3$ . 8.  $\frac{1}{8}x^6-\frac{1}{4}x^5+\frac{5}{8}x^4-\frac{25}{27}x^3+\frac{25}{3}x^2-4x+8$ .  
 $9$ .  $a^6-3a^5+6a^7-10a^6+12a^5-12a^4+10a^3-6a^2+3a-1$ .  $x^6-6x^5+15x^4-29x^3+51x^2-60x$   
 $64x^3-63x^2+27x-27$ . 11.  $x^6-12x^5+54x^4-112x^3+180x^2-228x+179x^3-144x^2+54x-27$ .  
 $12$ .  $1-3x^2+9x^4-16x^6+24x^8-27x^{10}+23x^{12}-15x^{14}+6x^{16}-x^{18}$ .

**EJERCICIO 210.** 1.  $x^4-8x^3+24x^2-32x+16$ . 2.  $a^4+12a^3+54a^2+108a+81$ . 3.  $32-80x$   
 $80x^2-40x^3+10x^4-x^5$ . 4.  $16x^4+160x^3y+600x^2y^2+1000xy^3+625y^4$ . 5.  $a^6-18a^5+135a^4-$   
 $540a^3+1215a^2-1458a+729$ . 6.  $64a^6-192a^5b+240a^4b^2-160a^3b^3+60a^2b^4-12ab^5+b^6$ .  
 $7$ .  $x^{10}+10x^9y^3+40x^8y^6+80x^7y^9+80x^6y^{12}+32y^{15}$ . 8.  $x^{18}+6x^{16}+15x^{14}+20x^{12}+15x^{10}+6x^8+1$ .  
 $9$ .  $32a^5-240a^4b+720a^3b^2-1080a^2b^3+810ab^4-243b^5$ . 10.  $x^{24}-30x^{20}y^4+375x^{16}y^8-2500x^{12}y^{12}+$   
 $9375x^8y^{16}-18750x^4y^{20}+15625y^{24}$ . 11.  $64x^6-96x^5y+60x^4y^2-20x^3y^3+\frac{15}{4}x^2y^4-\frac{3}{8}xy^5+\frac{1}{64}y^6$ .  
 $12$ .  $243-135x^2+30x^4-\frac{10}{3}x^6+\frac{5}{27}x^8-\frac{1}{243}x^{10}$ . 13.  $64m^{18}-576m^{15}n^4+2160m^{12}n^8-4320m^9n^{12}+$   
 $4860m^6n^{16}-2916m^3n^{20}+729n^{24}$ . 14.  $x^{14}-21x^{12}+189x^{10}-945x^8+2835x^6-5103x^4+$   
 $5103x^2-2187$ . 15.  $243a^5-135a^4b^2+30a^3b^4-\frac{10}{3}a^2b^6+\frac{5}{27}ab^8-\frac{1}{243}b^{10}$ . 16.  $x^{14}+14x^{13}y^2+$   
 $84x^{10}y^4+280x^8y^6+560x^6y^8+672x^4y^{10}+448x^2y^{12}+128y^{14}$ . 17.  $x^{24}-8x^{21}+28x^{18}-56x^{15}+$   
 $70x^{12}-56x^9+28x^6-8x^3+1$ . 18.  $x^{18}-\frac{9}{2}x^{16}y+9x^{14}y^2-\frac{21}{2}x^{12}y^3+\frac{63}{8}x^{10}y^4-\frac{63}{16}x^8y^5+\frac{31}{16}x^6y^6-$   
 $\frac{9}{32}x^4y^7+\frac{9}{256}x^2y^8-\frac{1}{512}y^9$ . 19.  $128m^{21}-448m^{18}n^4+672m^{15}n^8-560m^{12}n^{12}+280m^9n^{16}-84m^6n^{20}+$   
 $14m^3n^{24}-n^{28}$ . 20.  $\frac{1}{32}x^{10}+\frac{6}{24}x^8y^2+\frac{5}{9}x^6y^4+\frac{20}{27}x^4y^6+\frac{40}{81}x^2y^8+\frac{82}{243}y^{10}$ . 21.  $\frac{1}{15025}-\frac{3}{613}a+\frac{5}{80}a^2-$   
 $\frac{5}{2}a^3+\frac{375}{16}a^4-\frac{1875}{10}a^5+\frac{16025}{64}a^6$ .

**EJERCICIO 211.** 1.  $a^6+12a^5b+60a^4b^2+160a^3b^3+240a^2b^4+192ab^5+64b^6$ . 2.  $32m^{10}-$   
 $240m^8n^2+720m^6n^4-1080m^4n^6+810m^2n^{12}-243n^{15}$ . 3.  $x^{12}+6x^{10}y^2+15x^8y^4+20x^6y^6+$   
 $15x^4y^{12}+6x^2y^{15}+y^{18}$ . 4.  $2187-5103y^7+5103y^{14}-2835y^{21}+945y^{28}-189y^{35}+21y^{42}-y^{49}$ .  
 $5$ .  $64x^{18}-576x^{15}y^3+2160x^{12}y^6-4320x^9y^9+4860x^6y^{12}-2916x^3y^{15}+729y^{18}$ . 6.  $\frac{1}{30}x^{10}+\frac{5}{18}x^8y^2+$   
 $\frac{5}{4}x^6y^4+\frac{5}{2}x^4y^6+\frac{5}{2}x^2y^{12}+y^{15}$ . 7.  $\frac{1}{729}a^6-\frac{2a^5}{27b}+\frac{5a^4}{3b^2}-\frac{20a^3}{b^3}+\frac{135a^2}{b^4}-\frac{486a}{b^5}+\frac{729}{b^6}$ .  
 $8$ .  $1-8x^4+28x^8-56x^{12}+70x^{16}-56x^{20}+28x^{24}-8x^{28}+x^{32}$ . 9.  $\frac{128}{2187x^7}-\frac{224}{243xy}+\frac{56}{9x^3y^3}-$   
 $\frac{70}{3x^4y^3}+\frac{105}{2x^2y^4}-\frac{567}{8x^2y^3}+\frac{1701}{32xy^6}-\frac{2187}{128y^7}$ . 10.  $\frac{128}{m^7}-\frac{224}{m^4}+\frac{168}{m}-70m^2+\frac{35}{2}m^5-\frac{21}{8}m^8+$   
 $\frac{7}{32}m^{11}-\frac{m^{14}}{128}$ . 11.  $x^{24}+8x^{21}mn+28x^{18}m^2n^2+56x^{15}m^3n^3+70x^{12}m^4n^4+56x^9m^5n^5+28x^6m^6n^6+$   
 $8x^3m^7n^7+m^8n^8$ . 12.  $19683-19683b^2+8748b^4-2268b^6+378b^8-42b^{10}+\frac{28b^{12}}{9}-\frac{4b^{14}}{27}+$   
 $\frac{b^{16}}{243}-\frac{b^{18}}{19683}$ . 13.  $1-\frac{10}{x}+\frac{45}{x^2}-\frac{120}{x^3}+\frac{210}{x^4}-\frac{252}{x^5}+\frac{210}{x^6}-\frac{120}{x^7}+\frac{45}{x^8}-\frac{10}{x^9}+\frac{1}{x^{10}}$ .  
 $14$ .  $64m^{12}-960m^{10}n^2+6000m^8n^{10}-20000m^6n^{15}+37500m^4n^{20}-37500m^2n^{25}+15625n^{30}$ .  
 $15$ .  $16384-7168x^5+1344x^{10}-140x^{15}+\frac{25}{4}x^{20}-\frac{21}{64}x^{25}+\frac{7}{1024}x^{30}-\frac{1}{16384}x^{35}$ .

**EJERCICIO 212.** 1.  $10x^3y^2$ . 2.  $-2240a^4b^3$ . 3.  $330x^4$ . 4.  $-4320x^3y^3$ . 5.  $2016a^{10}b^3$ .  
 $6$ .  $-14a^3b^3$ . 7.  $13440x^6y^6$ . 8.  $-330x^4y^{14}$ . 9.  $5005a^{13}b^5$ . 10.  $495x^{16}$ . 11.  $-12ab^3$ .  
 $12$ .  $5670x^6y^8$ .



**CICLO 213.** 1.  $\pm 2ab^2$ . 2.  $\pm 5x^3y^4$ . 3.  $3ab^3$ . 4.  $-2ab^2x^4$ . 5.  $\pm 8x^4y^5$ .  
 $2a^2b^4$ . 7.  $x^3y^2z^5$ . 8.  $-4ax^2y^6$ . 9.  $-3mn^3$ . 10.  $\pm 9x^3y^2z^{10}$ . 11.  $10x^3y^6$ .  
 $-3a^2b^4$ . 13.  $\pm 2a^2b^3c^5$ . 14.  $\pm 7a^2b^{2n}$ . 15.  $-x^ny^{2x}$ . 16.  $\pm \frac{3a}{5x^2}$ . 17.  $-\frac{3a}{4x^3}$ .  
 $-\frac{ab^2}{2x^3}$ . 19.  $\pm \frac{a^2}{3bc^3}$ . 20.  $\frac{2}{x^2}$ . 21.  $\pm \frac{x^m}{11y^{2n}}$ . 22.  $-\frac{5x^3}{6m^4}$ . 23.  $\frac{a^2}{bc^3}$ . 24.  $\pm \frac{x^2}{2y^3}$ .

**CICLO 214.** 1.  $4x-3y^2$ . 2.  $5a^2-7ax$ . 3.  $x^3-2x+1$ . 4.  $2a^2+a+1$ . 5.  $n^2-5n+2$ .  
 $-5x^2+6$ . 7.  $4a^4-3a^2+5$ . 8.  $x+2y-z$ . 9.  $3-x^3-x^6$ . 10.  $5x^4-7x^2+3x$ .  
 $a^2+2ab-3b^2$ . 12.  $x^3-x^2+x+1$ . 13.  $x^3-3x^2-2x+2$ . 14.  $x^4+3x^2-4x+5$ .  
 $4-4x^3+2x-3$ . 16.  $3-6a+a^2-a^3$ . 17.  $3x^4-4x^2+2x-1$ . 18.  $4x^5-5x^2+6x-3$ .  
 $x^3-2m^2n+2m^4$ . 20.  $3x^3-x^2y+2xy^2-2y^3$ . 21.  $4a^2-3a^2b+2ab^2-b^3$ . 22.  $6x^4-3x^2y^2+2y^4$ .  
23.  $5a^3-4a^2x+ax^2-2x^3$ . 24.  $2a^4-3a^3+2a^2-a+1$ . 25.  $x^5-x^4+x^3-x^2+x-2$ .

**CICLO 215.** 1.  $\frac{x^2}{2}-x+\frac{2}{3}$ . 2.  $\frac{a}{x}-\frac{1}{3}+\frac{x}{a}$ . 3.  $\frac{a}{2}-b+\frac{c}{4}$ . 4.  $\frac{3a^2}{4}-\frac{a}{2}+\frac{4}{5}$ .  
 $+ab-\frac{b^2}{2}$ . 6.  $\frac{x}{5}+\frac{5}{3}-5y$ . 7.  $\frac{x^2}{3}-2xy+\frac{y^2}{5}$ . 8.  $\frac{a^2}{4}-\frac{3}{5}+\frac{b^2}{9}$ . 9.  $x+2-\frac{1}{x}$ .  
 $-5+\frac{2}{x}$ . 11.  $\frac{a^2}{2}-5+\frac{3}{a^2}$ . 12.  $\frac{a^2}{3}+\frac{a}{x}-\frac{x}{a}$ . 13.  $\frac{3a}{x}-\frac{1}{4}+\frac{2x}{3a}$ . 14.  $3x^2+5+\frac{5}{x^2}$ .  
 $\frac{10a-1}{x}+\frac{5x}{2}+\frac{3a}{2}$ . 16.  $\frac{x^2}{4}-\frac{xy}{2}-\frac{y^2}{5}$ . 17.  $\frac{2ab}{7xy}-\frac{1}{2}+\frac{7xy}{5ab}$ . 18.  $\frac{3ax}{5mn}-\frac{1}{5}+\frac{2mn}{9ax}$ .  
 $x^4-x^2+\frac{2}{3}x+2$ . 20.  $\frac{1}{2}a^3-\frac{2}{3}a^2+\frac{3}{4}a-\frac{1}{2}$ .

**CICLO 216.** 1.  $2-3y$ . 2.  $4a^2+5b^2$ . 3.  $x^2+x+1$ . 4.  $2x^2-x-1$ . 5.  $1-3x+2x^2$ .  
 $-3x+x^2$ . 7.  $x^3-2x^2-4$ . 8.  $x^4-x^2-2$ . 9.  $2x^2-3x+1$ . 10.  $3a^2-5a-4$ . 11.  $a^2-b^2$ .  
12.  $x^2-3xy+5y^2$ . 13.  $a^4-a^2+4$ . 14.  $a^3-3a^2x+2x^3$ . 15.  $a^3-a^2+a-1$ .  
 $-4x^2+2x-3$ .

**CICLO 217.** 1.  $\frac{x^3}{2}-\frac{x}{3}+2$ . 2.  $a^3+\frac{a^2}{2}-\frac{a}{3}$ . 3.  $\frac{x}{2}-3+\frac{2}{x}$ . 4.  $\frac{a}{2b}-1+\frac{b}{2a}$ .  
 $\frac{1}{x}-\frac{1}{2}-\frac{x}{3a}$ . 6.  $\frac{2a}{3b}+1+\frac{3b}{4a}$ .

**CICLO 218.** 1.  $\sqrt[3]{x}$ . 2.  $\sqrt[3]{m^5}$ . 3.  $4\sqrt[3]{a^3}$ . 4.  $x\sqrt{y}$ . 5.  $b\sqrt[3]{a^4}\sqrt{b}$ .  
 $\sqrt{x}\sqrt[3]{y}\sqrt[3]{z}$ . 7.  $2b^2\sqrt[3]{a^3}\sqrt{b}$ . 8.  $3\sqrt[3]{x^2}\sqrt[3]{y^4}\sqrt[3]{z^2}$ . 9.  $bc\sqrt[3]{abc^3}$ . 10.  $8mn^2\sqrt[3]{n^2}$ .  
 $a^2b^2\sqrt[3]{b}\sqrt[3]{c^5}$ . 12.  $5\sqrt[3]{m^2n^3x^4}$ . 13.  $\frac{5}{a^2}$ . 14.  $\frac{7}{x^3}$ . 15.  $\frac{1}{x^2}$ . 16.  $\frac{1}{m^3}$ . 17.  $\frac{5}{2x^4}$ . 18.  $\frac{8}{a^2b^3}$ .  
 $x^2y^5$ . 20.  $2a^{\frac{1}{2}}b^{\frac{3}{4}}c^{\frac{1}{4}}$ . 21.  $5ax^{\frac{2}{3}}y^{\frac{5}{6}}z^{\frac{1}{2}}$ . 22.  $3m^{\frac{2}{3}}n^{\frac{1}{6}}$ . 23.  $3a^{\frac{1}{2}}b^{\frac{1}{4}}$ . 24.  $\frac{1}{a^{\frac{1}{2}}b^{\frac{1}{4}}c^{\frac{1}{4}}}$ .

**CICLO 219.** 1.  $\frac{a^2}{b^2}$ . 2.  $\frac{3}{x^5}$ . 3.  $\frac{1}{a^{\frac{1}{2}}b^{\frac{1}{2}}}$ . 4.  $\frac{3}{x^2y^3}$ . 5.  $\frac{1}{m^{\frac{1}{2}}n^{\frac{1}{2}}}$ . 6.  $\frac{a^2c}{b}$ .  
 $\frac{5}{a^{\frac{1}{2}}b^{\frac{1}{2}}c}$ . 8.  $\frac{5}{a^{\frac{1}{2}}b^{\frac{1}{2}}c}$ . 9.  $\frac{x^2}{2}$ . 10.  $3xy^5$ . 11.  $\frac{2a^2c}{b^3}$ . 12.  $\frac{a^2b^5c^3}{xy^2z^3}$ . 13.  $\frac{3n^2}{8m}$ .  
 $\frac{a^2c^3}{7b^5}$ . 15.  $\frac{2}{a^2m^3n^3}$ . 16.  $\frac{y}{3a^{\frac{1}{2}}x^4}$ . 17.  $\frac{b^{\frac{1}{2}}c^2}{4x^3}$ . 18.  $\frac{a^{\frac{3}{4}}b^{\frac{2}{3}}}{3c^4}$ . 19.  $3a^5m^{\frac{3}{2}}n^{\frac{1}{4}}$ . 20.  $\frac{r}{x^{\frac{1}{2}}y^{\frac{1}{2}}}$ .

**EJERCICIO 220.** 1.  $\frac{1}{a^2b^2}$ . 2.  $\frac{3}{xy^2}$ . 3.  $\frac{4}{m^{-1}n^{-2}x^3}$ . 4.  $\frac{1}{3ab^3}$ . 5.  $\frac{3}{7c^{\frac{2}{3}}}$ .  
6.  $\frac{2}{5x^{-\frac{1}{4}}y^2}$ . 7.  $\frac{1}{5m^3}$ . 8.  $\frac{3}{a^2b^{-3}c^4}$ . 9.  $\frac{1}{x^{\frac{1}{2}}y^{-2}}$ . 10.  $\frac{1}{a^{\frac{2}{3}}b^{-3}c^2}$ . 11.  $\frac{3}{xy^{\frac{1}{2}}}$ .  
12.  $\frac{2}{9m^2n^{-\frac{1}{2}}}$ . 13.  $2a^{-1}$ . 14.  $3ab^{-2}$ . 15.  $x^2y^3$ . 16.  $4x^{\frac{1}{2}}y^{-2}$ . 17.  $\frac{3x^{\frac{1}{2}}y^{\frac{1}{2}}}{7}$ .

18.  $a^{\frac{1}{2}}b^{\frac{1}{3}}$ . 19.  $\frac{2m^{\frac{1}{2}}n^{\frac{1}{4}}}{3}$ . 20.  $a^3x^{-2}y^{\frac{1}{2}}$ . 21.  $3a^5b^3x^{-1}$ . 22.  $3x^2y^4z^0$ . 23.  $m^2n^4x^{\frac{1}{2}}$ .

**EJERCICIO 221.** 1.  $\frac{1}{\sqrt{x}}$ . 2.  $\frac{\sqrt{a}}{\sqrt[3]{b^2}}$ . 3.  $\frac{5\sqrt[3]{a^6}}{\sqrt[3]{b}}$ . 4.  $\frac{3}{\sqrt{x}}$ . 5.  $\frac{2\sqrt[3]{n^3}}{\sqrt[3]{m^3}}$ . 6.  $\frac{1}{4\sqrt[3]{x}}$ .  
7.  $\sqrt[3]{x^2}\sqrt[3]{y^2}$ . 8.  $\frac{3}{a\sqrt{a}\sqrt[3]{x}}$ . 9.  $\frac{1}{4a^{\frac{1}{2}}\sqrt{a}}$ . 10.  $\frac{\sqrt[3]{y^3}}{\sqrt[3]{x^3}\sqrt[3]{z^3}}$ . 11.  $\frac{1}{x^2m^3\sqrt[3]{n^3}}$ . 12.  $\frac{1}{a\sqrt[3]{x}}$ .

13.  $\frac{1}{x\sqrt[3]{x}}$ . 14.  $\frac{b}{a}\sqrt{\frac{b}{a}}$ . 15.  $\frac{1}{\sqrt[3]{x}}$ . 16.  $\frac{1}{a^{\frac{1}{2}}}$ . 17.  $\frac{2}{x^{\frac{1}{2}}y^2}$ . 18.  $\frac{2}{a^{\frac{2}{3}}x^{\frac{5}{2}}}$ . 19.  $\frac{3m^2n}{6}$ .  
20.  $\frac{1}{a^{\frac{3}{2}}b^{\frac{3}{4}}}$ . 21.  $x^{\frac{1}{2}}$ . 22.  $a^{\frac{7}{3}}b^3$ . 23.  $\frac{3y^2}{x^{\frac{1}{2}}}$ . 24.  $\frac{1}{m^{\frac{1}{2}}n}$ . 25. 64. 26. 4. 27.

28.  $\frac{1}{243}$ . 29. 9. 30. 4. 31.  $\frac{1}{343}$ . 32.  $\frac{32}{243}$ . 33.  $\frac{1}{2}$ . 34.  $\frac{1}{5}$ . 35. 1.  
36.  $\frac{7}{9}$ . 37. 729. 38.  $7\frac{19}{32}$ . 39.  $2\frac{1}{4}$ . 40.  $\frac{27}{125}$ . 41.  $\frac{2}{3}$ . 42. 32. 43. 81. 44. 2.

**EJERCICIO 222.** 1.  $1\frac{7}{9}$ . 2.  $18\frac{1}{2}$ . 3.  $\frac{13}{16}$ . 4.  $512\frac{1}{8}$ . 5.  $86\frac{1}{21}$ . 6.  $27\frac{1}{3}$ .  
7.  $36\frac{13}{18}$ . 8.  $3\frac{5}{6}$ . 9.  $126\frac{1}{3}$ .

**EJERCICIO 223.** 1.  $x^{-1}$ . 2.  $a^{-5}$ . 3. 1. 4.  $a^{\frac{2}{3}}$ . 5.  $x^{\frac{3}{4}}$ . 6.  $a$ . 7.  $3m^{-\frac{1}{5}}$ . 8.  $2a^{\frac{1}{2}}$ .  
9.  $x^{-\frac{7}{3}}$ . 10.  $3n^8$ . 11.  $4a^{-\frac{5}{2}}$ . 12. 1. 13.  $x^{-3}$ . 14. 6. 15.  $ab^{-2}$ . 16.  $b$ .  
17.  $m^{-1}n$ . 18.  $2b^{-\frac{5}{4}}$ .

**EJERCICIO 224.** 1.  $a^{-5}+2a^{-4}+a^{-2}+2$ . 2.  $x^4+x^2-2+3x^2-x^4$ . 3.  $x^{\frac{4}{3}}-2x^{\frac{2}{3}}+1$ .  
4.  $2a+a^{\frac{3}{2}}-a^{\frac{1}{2}}+3a^{\frac{1}{2}}-2$ . 5.  $3a^{\frac{2}{3}}-5+10a^{-\frac{4}{3}}-8a^{-2}$ . 6.  $x^{\frac{5}{4}}-4x^{\frac{1}{4}}+4x^{-\frac{1}{4}}-x^{-\frac{5}{4}}$ . 7.  $b^{-3}+a^{-2}b^{-1}+a^{-4}b$ .  
8.  $x^{-12}y^{-11}+x^{-8}y^{-7}+x^{-4}y^{-3}$ . 9.  $\frac{5}{a^2}b^{-4}-\frac{3}{a^4}b^{-3}+5a^{-\frac{1}{4}}b^{-1}-3a^{-\frac{5}{4}}$ . 10.  $a^{-2}+a^{-\frac{3}{2}}b^{-\frac{1}{2}}+a^{-1}b^{-1}+2b^{-3}$ .  
11.  $4x^{\frac{5}{2}}+3x^{\frac{1}{2}}y^2-x^{\frac{1}{2}}y^2$ . 12.  $x^{\frac{7}{8}}-7ax^{\frac{4}{8}}-3a^{\frac{4}{8}}x-9a^{\frac{5}{8}}x^{\frac{2}{8}}$ . 13.  $15a^3+a^2-19a+17-24a^{-1}+10a^{-3}$ .  
14.  $2-7x^{-1}+9x^{-2}-x^{-3}-7x^{-4}+4x^{-5}$ . 15.  $m^{\frac{3}{2}}+m^{\frac{1}{2}}n-n^{\frac{3}{2}}-m^{-1}n^{\frac{1}{2}}$ . 16.  $a-6a^{\frac{1}{2}}+a^{-\frac{3}{2}}$ .  
17.  $2m+4m^{\frac{2}{3}}+2+4m^{-\frac{1}{3}}$ . 18.  $x^{-2}y^2-11x^{-1}y+1$ . 19.  $x^{-1}y^2+4+13x^2y^{-4}+6x^2y^{-6}$ .  
20.  $3+7a^{-\frac{2}{3}}b^{\frac{1}{2}}+a^{-2}b^{\frac{3}{2}}-a^{-\frac{5}{3}}b^{\frac{1}{2}}$ .



**ERJERCICIO 225.** 1.  $a^4$ . 2.  $x^{-5}$ . 3.  $m^{\frac{3}{2}}$ . 4.  $a^{-2}$ . 5.  $x^4$ . 6.  $a^{-\frac{1}{2}}$ . 7.  $x^{-\frac{1}{3}}$ .  
8.  $m^{-\frac{5}{4}}$ . 9.  $a^{-\frac{2}{3}}$ . 10.  $2x^{\frac{3}{2}}$ . 11.  $a^{-\frac{6}{4}}$ . 12.  $xy$ . 13.  $a^{-\frac{1}{2}b^{-\frac{2}{3}}}$ . 14.  $a^2b^{-4}$ .  
15.  $m^{\frac{5}{4}}n^{-\frac{3}{2}}$ . 16.  $2x^{\frac{3}{2}}y^{\frac{3}{5}}$ . 17.  $a^{\frac{7}{12}}b^{\frac{1}{4}}$ . 18.  $x^{-5}y^{-4}$ .

**ERJERCICIO 226.** 1.  $x^4+3x^2+2$ . 2.  $a^3-2+a^{-\frac{1}{2}}$ . 3.  $m^2+2-m^{-2}$ . 4.  $2x^{\frac{3}{4}}-x^{\frac{1}{2}}+2x^{\frac{1}{4}}$ .  
5.  $-2+2m^{-\frac{2}{3}}$ . 6.  $a^4+2a^{\frac{1}{2}}-a^{-\frac{1}{4}}$ . 7.  $x^3-2x^2+x^{-1}$ . 8.  $a^{-5}b^{-5}+a^{-3}b^{-3}+a^{-1}b^{-1}$ . 9.  $n+m+m^2n^{-1}$ .  
10.  $a^2-3a+4-2a^{-1}$ . 11.  $a^4b^{-3}+a^{\frac{1}{2}}b^{-2}-a^{-\frac{1}{4}}b^{-1}$ . 12.  $x^{-1}+2x^{-\frac{1}{2}}y^{-\frac{1}{2}}+2y^{-1}$ . 13.  $m^{\frac{5}{2}}-2-m^{-\frac{2}{3}}$ .  
14.  $-2x^{-\frac{1}{3}}+2x^{-\frac{2}{3}}$ . 15.  $4x^2-x^2y^2+xy-x^2y^2$ . 16.  $x-2a^3x^3+a^3x^3-3a$ . 17.  $a-a^2b^2+b-a^{-\frac{1}{2}}b^{\frac{3}{2}}$ .  
18.  $a^{\frac{3}{4}}n^{\frac{1}{2}}-3m^{-\frac{5}{4}}-m^{-\frac{1}{4}}n^{-\frac{1}{2}}$ . 19.  $x^2y^{-1}+5x^2y^{-3}+2x^4y^{-5}$ . 20.  $a^{-\frac{3}{2}}b^2+2a^{-\frac{3}{2}}b-a^{-2}b^{\frac{3}{2}}$ .

**ERJERCICIO 227.** 1.  $a^{-2}$ . 2.  $a^{-2}b^{-3}$ . 3.  $a^3$ . 4.  $x^4$ . 5.  $m^{\frac{3}{2}}$ . 6.  $a^{-2}$ . 7.  $x^{-5}y^{\frac{1}{2}}$ .  
8.  $b^{\frac{3}{2}}$ . 9.  $a^{-12}b^{-4}$ . 10.  $x^4y^{-3}$ . 11.  $243a^2b^{-15}$ . 12.  $8m^{-\frac{3}{2}}n^{-1}$ .

**ERJERCICIO 228.** 1.  $a+2a^{\frac{1}{2}}b^{\frac{1}{2}}+b$ . 2.  $x^{\frac{5}{2}}-2x^{\frac{1}{2}}y^{\frac{1}{2}}+y^{\frac{5}{2}}$ . 3.  $m^{-1}+4m^{\frac{1}{2}}+4m^2$ . 4.  $a^{-4}b^6-$   
 $a^0b^{-4}$ . 5.  $a^{-2}-6a^{-1}b^{-\frac{1}{2}}+9b^{-\frac{3}{2}}$ . 6.  $a^{-4}+2a^{-2}b^2+b$ . 7.  $x^{\frac{3}{2}}-2x^{\frac{1}{2}}y^{\frac{1}{2}}+y^{\frac{3}{2}}$ . 8.  $m^{-4}n^{\frac{1}{2}}-$   
 $n^{-\frac{3}{2}}+mn^{-2}$ . 9.  $a+3a^{\frac{2}{3}}b^{\frac{1}{3}}+3a^{\frac{1}{3}}b^{\frac{2}{3}}+b$ . 10.  $x^2-9x^{\frac{1}{2}}y^{-1}+27x^{\frac{3}{2}}y^{-2}-27y^{-3}$ . 11.  $m^2+$   
 $n^{\frac{3}{2}}+48m^3n^{-3}+64n^{-\frac{3}{2}}$ . 12.  $8a^{-12}-36a^{-8}b^{-\frac{1}{2}}+54a^{-4}b^{-1}-27b^{-\frac{3}{2}}$ . 13.  $x^{\frac{3}{2}}-3x^{\frac{1}{2}}y^{\frac{1}{2}}+3x^{\frac{1}{2}}y^{\frac{3}{2}}-y$ .  
14.  $4a^{\frac{3}{2}}b^{\frac{3}{2}}+6ab^{\frac{3}{2}}+4a^{\frac{1}{2}}b^{\frac{3}{2}}+b^{\frac{3}{2}}$ . 15.  $x^{-8}-4x^{-6}y^{-\frac{1}{2}}+6x^{-4}y^{-\frac{3}{2}}-4x^{-2}y^{-1}+y^{-\frac{5}{2}}$ . 16.  $x^{\frac{3}{2}}+5x^{\frac{1}{2}}y^{-\frac{1}{2}}+$   
 $y^{\frac{3}{2}}+10x^{\frac{1}{2}}y^{-\frac{1}{2}}+5x^{\frac{1}{2}}y^{-\frac{3}{2}}+y^{\frac{3}{2}}$ . 17.  $m^{\frac{5}{2}}-5m^{\frac{3}{2}}n^{\frac{1}{2}}+10m^{\frac{1}{2}}n^{\frac{3}{2}}-10mn+5m^{\frac{1}{2}}n^{\frac{5}{2}}-n^{\frac{5}{2}}$ . 18.  $a^{12}-$   
 $n^2+60a^8m-160a^4m^2+240a^4m^2-192a^2m^2+64m^3$ . 19.  $x^{-15}+5x^{-12}y^{\frac{1}{2}}+10x^{-9}y^{\frac{1}{2}}+$   
 $y^{\frac{1}{2}}+5x^{-3}y+y^{\frac{1}{2}}$ . 20.  $a^{-4}+6a^{-3}+13a^{-2}+12a^{-1}+4$ . 21.  $x-2x^{\frac{1}{2}}+x^{\frac{1}{2}}+4x^{\frac{1}{2}}-4+4x^{-\frac{1}{2}}$ .  
22.  $+6a^{\frac{1}{2}}+11+6a^{-\frac{1}{2}}+a^{-1}$ . 23.  $m^2+4m^{\frac{1}{2}}-2m^{\frac{3}{2}}-12m^{\frac{1}{2}}+9m$ . 24.  $ab^{-\frac{2}{3}}-4a^{\frac{1}{2}}b^{-\frac{1}{3}}+6-$   
 $a^{\frac{1}{2}}+a^{-1}b^{\frac{1}{3}}$ . 25.  $x^2+3x^{\frac{1}{2}}-5x^{\frac{1}{2}}+3x^{-1}-1$ . 26.  $a^2-6a^{\frac{2}{3}}+15a^{\frac{1}{3}}-20+15a^{-\frac{2}{3}}-6a^{-\frac{1}{3}}+a^{-2}$ .  
27.  $a^{\frac{1}{2}}+6m^{\frac{1}{2}}+15m^{\frac{1}{2}}+20m+15m^{\frac{1}{2}}+6m^{\frac{1}{2}}+m^{\frac{1}{2}}$ .

**ERJERCICIO 229.** 1.  $x^{-2}+3x^{-1}+2$ . 2.  $m^{\frac{1}{2}}+3+m^{-\frac{1}{2}}$ . 3.  $3a^{\frac{1}{2}}-a^{\frac{1}{2}}+4$ . 4.  $a+2a^{\frac{1}{2}}-3a^{\frac{1}{2}}$ .  
5.  $n^{-\frac{1}{3}}-2+m^{-\frac{1}{2}}n^{\frac{1}{2}}$ . 6.  $a^{\frac{2}{3}}-4a^{\frac{1}{3}}-3$ . 7.  $a^{-1}-2a^{-\frac{1}{2}}+3$ . 8.  $x^{\frac{2}{3}}-2+x^{-\frac{2}{3}}$ . 9.  $a^{\frac{1}{2}}+a^{\frac{1}{2}}-1$ .

**ERJERCICIO 230.** 1.  $ax^{-1}-\frac{1}{2}+a^{-1}x$ . 2.  $x-2x^{-1}+x^{-2}$ . 3.  $a^2-5a^{-1}+2a^{-2}$ . 4.  $\frac{m^2}{2}-5+$   
 $5. \frac{2}{5}xy^{-1}-\frac{1}{2}+\frac{6}{5}x^{-1}y$ . 6.  $\frac{a^2}{3}+ax^{-1}-a^{-1}x$ . 7.  $3m^2+5+5m^{-2}$ . 8.  $\frac{2}{7}abx^{-1}y^{-1}-$   
 $r^{-1}b^{-1}xy$ . 9.  $a^{\frac{1}{2}}b^{-\frac{1}{3}}-2+a^{-\frac{1}{2}}b^{\frac{1}{3}}$ . 10.  $a^2b^2+3-a^2b^{-2}$ . 11.  $x^{\frac{1}{2}}y^{\frac{1}{2}}-4+x^{-\frac{1}{2}}y^{-\frac{1}{2}}$ .

**ERJERCICIO 231.** 1.  $3\sqrt{2}$ . 2.  $12\sqrt{3}$ . 3.  $2\sqrt[3]{2}$ . 4.  $2\sqrt[3]{2}$ . 5.  $6\sqrt[3]{3}$ . 6.  $5a\sqrt{2b}$ .  
7.  $xy^2\sqrt{x}$ . 8.  $3a^2b^3\sqrt{3ab}$ . 9.  $3n^2\sqrt{5m}$ . 10.  $4a^2b^3c^4\sqrt{11abc}$ . 11.  $4y^2\sqrt[3]{2x^2y}$ .  
12.  $x^2\sqrt[3]{m^2n^2}$ . 13.  $10ax^2y^3z^4\sqrt[3]{20xz}$ . 14.  $2abc^4\sqrt[3]{5b}$ . 15.  $3x^2y^3z^4\sqrt[3]{5y^2}$ . 16.  $\frac{4y^2}{5}\sqrt[3]{x^2y}$ .

17.  $8xy^3\sqrt[3]{2x^2y^2}$ . 18.  $m^3\sqrt[3]{3am}$ . 19.  $\frac{3a^2}{x}\sqrt[3]{3a^2b}$ . 20.  $a\sqrt[3]{b}$ . 21.  $3\sqrt{a+2b}$ . 22.  $ab\sqrt[3]{3a-3}$ .  
23.  $2y^2\sqrt{2x^2+4x}$ . 24.  $(x-y)\sqrt[3]{2}$ . 25.  $(a-b)\sqrt{a+b}$ . 26.  $(m+n)\sqrt[3]{2a}$ . 27.  $(3a-6)\sqrt{a}$ .

**ERJERCICIO 232.** 1.  $\frac{1}{5}\sqrt{5}$ . 2.  $\frac{1}{4}\sqrt[3]{6}$ . 3.  $\sqrt{2}$ . 4.  $\frac{1}{2}\sqrt[3]{6}$ . 5.  $\frac{1}{6}\sqrt[3]{6}$ .  
6.  $\frac{a}{4x}\sqrt{2x}$ . 7.  $\frac{a}{3y^2}\sqrt[3]{3y}$ . 8.  $\frac{3}{m^2}\sqrt[3]{5mn}$ . 9.  $\frac{a}{2x}\sqrt[3]{30a}$ . 10.  $\frac{1}{3}\sqrt[3]{18}$ . 11.  $\sqrt[3]{2}$ .  
12.  $\frac{2}{3x}\sqrt[3]{3x}$ . 13.  $5\sqrt[3]{2b}$ . 14.  $\frac{1}{2ab^2}\sqrt[3]{4ab^2x^2}$ . 15.  $3\sqrt[3]{4a^2xy^3}$ .

**ERJERCICIO 233.** 1.  $\sqrt{3}$ . 2.  $\sqrt[3]{2}$ . 3.  $\sqrt[3]{3}$ . 4.  $\sqrt{2}$ . 5.  $3\sqrt[3]{2}$ . 6.  $\sqrt[3]{6ab}$ .  
7.  $5\sqrt[3]{7ab^2}$ . 8.  $y\sqrt[3]{3x}$ . 9.  $xy\sqrt[3]{2y}$ . 10.  $n\sqrt[3]{2mn}$ . 11.  $ax^2\sqrt[3]{7a}$ . 12.  $nx\sqrt[3]{m^3}$ .

**ERJERCICIO 234.** 1.  $\sqrt{12}$ . 2.  $\sqrt{45}$ . 3.  $\sqrt{25a^2b}$ . 4.  $\sqrt[3]{1}$ . 5.  $\sqrt{18a^4}$ . 6.  $\sqrt[3]{75x^4}$ .  
7.  $\sqrt[3]{a^3b^7}$ . 8.  $\sqrt[3]{128m^5}$ . 9.  $\sqrt[3]{128a^5b^3}$ . 10.  $\sqrt{a^2+ab}$ . 11.  $\sqrt{2x^2+2x}$ . 12.  $\sqrt{x^2-3x+2}$ .

**ERJERCICIO 235.** 1.  $\sqrt[3]{125}$ . 2.  $\sqrt[3]{4}$ . 3.  $\sqrt[3]{4}$ . 4.  $\sqrt[3]{3}$ . 5.  $\sqrt[3]{729}$ . 6.  $\sqrt[3]{256}$ . 7.  $\sqrt[3]{512}$ . 8.  $\sqrt[3]{64}$ .  
9.  $\sqrt[3]{81}$ . 10.  $\sqrt[3]{125}$ . 11.  $\sqrt[3]{49}$ . 12.  $\sqrt[3]{125x^3}$ . 13.  $\sqrt[3]{16x^4y^2}$ . 14.  $\sqrt[3]{7a^3b}$ . 15.  $\sqrt[3]{32a^5b^3}$ . 16.  $\sqrt[3]{27a^6x^3}$ . 17.  $\sqrt[3]{6a^4x^4}$ .  
18.  $\sqrt[3]{512a^6x^6}$ . 19.  $\sqrt[3]{9a^{10}m^3}$ . 20.  $\sqrt[3]{x^{12}}$ . 21.  $\sqrt[3]{8y^3}$ . 22.  $\sqrt[3]{25m^{14}}$ . 23.  $\sqrt[3]{243a^6}$ . 24.  $\sqrt[3]{16b^3}$ . 25.  $\sqrt[3]{49x^3}$ .  
26.  $2\sqrt[3]{a^4}$ . 27.  $3\sqrt[3]{64b^6}$ . 28.  $4\sqrt[3]{125x^6}$ . 29.  $3\sqrt[3]{a^{12}}$ . 30.  $\sqrt[3]{b^9}$ . 31.  $4\sqrt[3]{x^{10}}$ . 32.  $\sqrt[3]{32m^3}$ . 33.  $3\sqrt[3]{a^3x^3}$ . 34.  $2\sqrt[3]{x^3}$ .

**ERJERCICIO 236.** 1.  $\sqrt{5}$ . 2.  $\sqrt[3]{2}$ . 3.  $\sqrt[3]{7}$ . 4.  $\sqrt[3]{15}$ . 5.  $\sqrt[3]{43}$ . 6.  $\sqrt{11}$ . 7.  $\sqrt[3]{32}$ . 8.  $\sqrt{3}$ .  
9.  $\sqrt[3]{5}$ . 10.  $\sqrt[3]{4}$ . 11.  $\sqrt[3]{3}$ . 12.  $\sqrt[3]{15}$ . 13.  $\sqrt[3]{9}$ . 14.  $\sqrt[3]{2}$ . 15.  $\sqrt[3]{3}$ .

**ERJERCICIO 237.** 1.  $-8\sqrt{2}$ . 2.  $3\sqrt{3}$ . 3.  $-29\sqrt{5}$ . 4.  $-18\sqrt{2}$ . 5.  $\frac{1}{4}\sqrt[3]{12}$ .  
6.  $-\frac{2}{5}\sqrt{3}$ . 7.  $\frac{0}{4}\sqrt{5}$ . 8.  $\frac{41}{11}\sqrt{3}$ . 9.  $5a\sqrt{b}$ . 10.  $a\sqrt{y}$ . 11.  $2x\sqrt{3}$ .  
12.  $\frac{6}{3}\sqrt[3]{2}$ . 13.  $\frac{81}{60}\sqrt[3]{2}$ . 14.  $a\sqrt[3]{a^2}$ .

**ERJERCICIO 238.** 1.  $\sqrt{5}-3\sqrt{3}$ . 2.  $2\sqrt{7}-\sqrt{3}$ . 3.  $\sqrt{5}-12\sqrt{7}$ . 4.  $5\sqrt{2}-20\sqrt{3}$ .  
5.  $4\sqrt{3}$ . 6.  $4\sqrt{11}-\sqrt{5}$ . 7.  $10\sqrt{3}-\frac{0}{6}\sqrt{7}$ . 8.  $\frac{5}{6}\sqrt{3}-\frac{1}{2}\sqrt{2}$ . 9.  $\frac{1}{2}\sqrt{5}+\frac{5}{6}\sqrt{6}$ . 10.  $\frac{1}{4}$ .  
11.  $5\sqrt{2}$ . 12.  $12\sqrt{7}$ . 13.  $2x\sqrt{a+7\sqrt{b}}$ . 14.  $2n\sqrt{m}-m\sqrt{n}$ . 15.  $4b\sqrt{5x}$ . 16.  $4a^2\sqrt{x+3y}$ .  
17.  $2\sqrt{a+1}$ . 18.  $2\sqrt{a-b}$ .

**ERJERCICIO 239.** 1.  $\sqrt[3]{2}-2\sqrt[3]{3}$ . 2.  $7\sqrt[3]{3}-3\sqrt[3]{5}$ . 3.  $\sqrt[3]{3}-2\sqrt[3]{2}$ . 4.  $2\sqrt[3]{6}+\sqrt[3]{5}$ .  
5.  $7\sqrt[3]{2}$ . 6.  $4\sqrt[3]{3}-3\sqrt[3]{2}$ . 7.  $4\sqrt[3]{5}-9\sqrt[3]{3}$ . 8.  $\frac{1}{6}\sqrt[3]{2}+\frac{1}{3}\sqrt[3]{9}$ . 9.  $\sqrt[3]{9}-\frac{3}{10}\sqrt[3]{5}$ .  
10.  $\frac{3}{4}\sqrt[3]{4}$ . 11.  $\sqrt[3]{2}$ . 12.  $11\sqrt[3]{3}$ . 13.  $4\sqrt[3]{5}-18\sqrt[3]{2}$ . 14. 0. 15.  $2b\sqrt[3]{3a}$ .

**ERJERCICIO 240.** 1.  $3\sqrt{2}$ . 2.  $30\sqrt{7}$ . 3.  $\sqrt{6}$ . 4.  $3\sqrt[3]{4}$ . 5.  $50\sqrt[3]{6}$ . 6.  $x\sqrt[3]{1}$ .  
7. 450. 8.  $18a\sqrt[3]{b}$ . 9.  $84\sqrt[3]{15}$ . 10.  $6\sqrt[3]{11}$ . 11.  $30\sqrt[3]{4}$ . 12.  $\frac{1}{4}\sqrt{2}$ .  
13.  $\frac{3}{ax}\sqrt{ax}$ . 14.  $\frac{2}{y^2}\sqrt{2xy}$ .

**ERJERCICIO 241.** 1.  $2-\sqrt{6}$ . 2.  $30+14\sqrt{15}$ . 3.  $20\sqrt{3}+24\sqrt{5}-20\sqrt{30}$ . 4.  $\sqrt[3]{6}-$   
 $55+13\sqrt{15}$ . 5.  $54+7\sqrt{21}$ . 6.  $3a-2x-5\sqrt{ax}$ . 7.  $791-111\sqrt{35}$ . 8.  $\sqrt{10}-\sqrt{15}-$   
 $10. 5\sqrt{15}-\sqrt{6}-21$ . 11.  $15+3\sqrt{2}+7\sqrt{15}-2\sqrt{30}$ . 12.  $3a+2+3\sqrt{a^2+a}$ . 13.  $3a+3b-$   
 $7\sqrt{a^3-ab}$ . 14.  $1+x^2+3x\sqrt{1-x^2}$ . 15.  $3a-1+3\sqrt{a^2-1}$ . 16.  $2x+10-8\sqrt{x+2}$ .  
17.  $5\sqrt{a^3+ax}-6x$ . 18.  $3a-x-3\sqrt{a^2-x^2}$ .



**EJERCICIO 242.** 1.  $x\sqrt[3]{4x}$ , 2.  $24a\sqrt[3]{2ab^2}$ , 3.  $3x\sqrt[3]{9x^3y^2}$ , 4.  $2a\sqrt[3]{27a^3b^{11}}$ ,  
5.  $\frac{1}{2}\sqrt[3]{8x}$ , 6.  $m\sqrt[3]{128m^3n^3}$ , 7.  $\frac{1}{2}\sqrt[3]{8x}$ , 8.  $\sqrt[3]{2x}$ , 9.  $\frac{1}{8b}\sqrt[3]{32ab^3}$ , 10.  $\frac{1}{4}\sqrt[3]{9}$ .

**EJERCICIO 243.** 1.  $2\sqrt{2}$ , 2.  $\frac{1}{5}\sqrt{3}$ , 3.  $\frac{2}{3}\sqrt{3y}$ , 4.  $y\sqrt{x}$ , 5.  $\frac{3a}{2}$ , 6.  $\frac{1}{8}\sqrt{3}$ ,  
7.  $\sqrt[3]{12}$ , 8.  $2x\sqrt[3]{x^2}$ , 9.  $\sqrt[3]{12}$ .

**EJERCICIO 244.** 1.  $\frac{1}{2}\sqrt[3]{32}$ , 2.  $\frac{1}{x}\sqrt[3]{81x^3}$ , 3.  $\sqrt[3]{8a^3b^3}$ , 4.  $\frac{1}{x}\sqrt[3]{32x^3}$ , 5.  $\frac{1}{n}\sqrt[3]{3125mn^{14}}$ ,  
6.  $\sqrt[3]{2a^3b^3}$ , 7.  $m\sqrt[3]{m}$ , 8.  $\frac{8}{n}\sqrt[3]{2a^3b^3}$ .

**EJERCICIO 245.** 1. 32, 2. 12, 3. 175, 4.  $8\sqrt[3]{2}$ , 5.  $162a^2b\sqrt[3]{2a^2b}$ , 6.  $2x\sqrt{2x}$ ,  
7.  $9a^3b^4$ , 8.  $3\sqrt{2}$ , 9.  $32a^2x$ , 10.  $4x+4$ , 11.  $9x-9a$ , 12.  $192ab^2\sqrt{a}$ ,  
13.  $2\sqrt{6}$ , 14.  $35+8\sqrt{6}$ , 15.  $12-2\sqrt{35}$ , 16.  $211-60\sqrt{7}$ , 17.  $2x-1+2\sqrt{x^2-x}$ ,  
18.  $x+1-8\sqrt{x^2+x}$ , 19.  $2a-2\sqrt{a^2-1}$ , 20.  $10x-3+4\sqrt{4x^2-1}$ .

**EJERCICIO 246.** 1.  $\sqrt[3]{a}$ , 2.  $\sqrt{2}$ , 3.  $\sqrt{3}$ , 4.  $\sqrt[3]{3a}$ , 5.  $\sqrt[3]{2a}$ , 6.  $\sqrt{2}$ ,  
7.  $\sqrt[3]{3a}$ , 8.  $\sqrt[3]{27}$ , 9.  $\sqrt[3]{a^2b^3}$ , 10.  $\sqrt[3]{x^2}$ , 11.  $\sqrt[3]{a+b}$ , 12.  $\sqrt[3]{a+b}$ .

**EJERCICIO 247.** 1.  $\frac{1}{3}\sqrt{3}$ , 2.  $\frac{5}{2}\sqrt{2}$ , 3.  $\frac{3}{20}\sqrt{5}$ , 4.  $\frac{1}{x}\sqrt{2ax}$ , 5.  $\frac{5}{2a}\sqrt{2a}$ , 6.  $\frac{1}{3x}\sqrt[3]{3x^2}$ ,  
7.  $\frac{2}{5x}\sqrt[3]{9x^2}$ , 8.  $\frac{2}{5x}\sqrt[3]{9x^2}$ , 9.  $\frac{1}{3}\sqrt[3]{3x^2}$ , 10.  $\frac{1}{2a}\sqrt[3]{4a}$ , 11.  $\frac{5n}{3m}\sqrt{mn}$ , 12.  $\frac{1}{25ax}\sqrt[3]{25x}$ ,  
13.  $\frac{2\sqrt{10}-7}{3}$ , 14.  $\frac{17+3\sqrt{35}}{2}$ , 15.  $\frac{9\sqrt{6}+21}{5}$ , 16.  $\frac{6\sqrt{21}-29}{17}$ , 17.  $-\frac{14+9\sqrt{6}}{5}$ .

**EJERCICIO 248.** 1.  $4\sqrt{2}-5$ , 2.  $2+\sqrt{3}$ , 3.  $\frac{2\sqrt{10}-7}{3}$ , 4.  $\frac{17+3\sqrt{35}}{2}$ ,  
5.  $\frac{95\sqrt{2}+76\sqrt{3}}{2}$ , 6.  $\frac{9\sqrt{6}+21}{5}$ , 7.  $-\frac{6\sqrt{21}-29}{17}$ , 8.  $-\frac{14+9\sqrt{6}}{5}$ ,  
9.  $-\frac{11\sqrt{77}}{3}$ , 10.  $\frac{\sqrt{5}-\sqrt{2}}{3}$ , 11.  $\frac{16\sqrt{3}+3\sqrt{2}}{10}$ , 12.  $\frac{2a-x+\sqrt{ax}}{4a-x}$ ,  
13.  $\frac{a+2-\sqrt{a^2+4a}}{2}$ , 14.  $2\sqrt{a^2+a}-2a-1$ , 15.  $2\sqrt{a^2+a}-2a-1$ , 16.  $\frac{x+4+2\sqrt{2x+4}}{x}$ , 17.  $\frac{a+2-\sqrt{a^2+4a}}{2}$ .

**EJERCICIO 249.** 1.  $\frac{2+\sqrt{6}+\sqrt{10}}{4}$ , 2.  $\frac{14-12\sqrt{2}-2\sqrt{3}+5\sqrt{6}}{23}$ , 3.  $\frac{2\sqrt{3}+8\sqrt{5}-5\sqrt{15}-1}{22}$ ,  
4.  $\frac{24\sqrt{2}-4\sqrt{3}+10\sqrt{6}-5}{23}$ , 5.  $\frac{5\sqrt{2}-14\sqrt{5}-6\sqrt{10}-9}{31}$ , 6.  $\frac{5\sqrt{2}-14\sqrt{5}-6\sqrt{10}-9}{31}$ ,  
7.  $\frac{5\sqrt{2}-14\sqrt{5}-6\sqrt{10}-9}{31}$ , 8.  $\frac{5\sqrt{2}-14\sqrt{5}-6\sqrt{10}-9}{31}$ , 9.  $\frac{5\sqrt{2}-14\sqrt{5}-6\sqrt{10}-9}{31}$ ,  
10.  $\frac{5\sqrt{2}-14\sqrt{5}-6\sqrt{10}-9}{31}$ , 11.  $\frac{5\sqrt{2}-14\sqrt{5}-6\sqrt{10}-9}{31}$ , 12.  $\frac{5\sqrt{2}-14\sqrt{5}-6\sqrt{10}-9}{31}$ ,  
13.  $\frac{5\sqrt{2}-14\sqrt{5}-6\sqrt{10}-9}{31}$ , 14.  $\frac{5\sqrt{2}-14\sqrt{5}-6\sqrt{10}-9}{31}$ , 15.  $\frac{5\sqrt{2}-14\sqrt{5}-6\sqrt{10}-9}{31}$ ,  
16.  $\frac{5\sqrt{2}-14\sqrt{5}-6\sqrt{10}-9}{31}$ , 17.  $\frac{5\sqrt{2}-14\sqrt{5}-6\sqrt{10}-9}{31}$ , 18.  $\frac{5\sqrt{2}-14\sqrt{5}-6\sqrt{10}-9}{31}$ ,  
19.  $\frac{5\sqrt{2}-14\sqrt{5}-6\sqrt{10}-9}{31}$ , 20.  $\frac{5\sqrt{2}-14\sqrt{5}-6\sqrt{10}-9}{31}$ .

**EJERCICIO 250.** 1.  $\sqrt{6}-2$ , 2.  $-\frac{3+2\sqrt{15}}{17}$ , 3.  $-\frac{7+3\sqrt{5}}{4}$ , 4.  $-\frac{7+2\sqrt{10}}{3}$ ,  
5.  $\frac{22+5\sqrt{30}}{19}$ , 6.  $\frac{22+5\sqrt{30}}{19}$ , 7.  $-\frac{66+29\sqrt{6}}{30}$ , 8.  $\frac{36-5\sqrt{77}}{17}$ ,  
9.  $\frac{36-5\sqrt{77}}{17}$ , 10.  $\frac{36-5\sqrt{77}}{17}$ , 11.  $\frac{36-5\sqrt{77}}{17}$ , 12.  $\frac{36-5\sqrt{77}}{17}$ ,  
13.  $\frac{36-5\sqrt{77}}{17}$ , 14.  $\frac{36-5\sqrt{77}}{17}$ , 15.  $\frac{36-5\sqrt{77}}{17}$ , 16.  $\frac{36-5\sqrt{77}}{17}$ , 17.  $\frac{36-5\sqrt{77}}{17}$ ,  
18.  $\frac{36-5\sqrt{77}}{17}$ , 19.  $\frac{36-5\sqrt{77}}{17}$ , 20.  $\frac{36-5\sqrt{77}}{17}$ .

**EJERCICIO 251.** 1. 12, 2. 8, 3. 2, 4. 1, 5. 5, 6. 4, 7. 9, 8. 10,  
9. 15, 10. 15, 11. 20, 12. 11, 13. 15, 14. 17, 15. 2, 16. 9, 17. 5,  
18. 6, 19. 4, 20. 4, 21. 9, 22. 6, 23. -5, 24. a, 25.  $(a+b)^2$ , 26.  $(a-1)^2$ .

**EJERCICIO 252.** 1. 4, 2. 9, 3. 16, 4. 25, 5. 1, 6. 7, 7. 9, 8. 3,  
9. 10, 10. 11, 11. 12, 12. 11, 13. 15, 14. 17, 15. 2, 16. 9, 17. 5,  
18. 6, 19. 4, 20. 4, 21. 9, 22. 6, 23. -5, 24. a, 25.  $(a+b)^2$ , 26.  $(a-1)^2$ .

**EJERCICIO 253.** 1. ai, 2.  $i\sqrt{2}$ , 3. 6i, 4. 9i, 5.  $i\sqrt{6}$ , 6.  $3b^2i$ , 7.  $i2\sqrt{3}$ ,  
8.  $i\sqrt{7}$ , 9.  $3\sqrt{3}i$ , 10.  $2m^2i$ , 11.  $\frac{1}{2}i$ , 12.  $i\sqrt{a^2+b^2}$ .

**EJERCICIO 254.** 1. 6i, 2. 7i, 3. 36i, 4. 22i, 5.  $(2a+a^2+a^3)i$ ,  
6.  $15\sqrt{2}i$ , 7.  $15\sqrt{5}i$ , 8.  $7a^2i$ .

**EJERCICIO 255.** 1. -20, 2. -63, 3. -960, 4.  $-\sqrt{6}$ , 5.  $-6\sqrt{35}$ , 6. -15,  
7. -84, 8. -42i, 9. -30i, 10. 360, 11.  $15\sqrt{xy}$ , 12. -5, 13. 86, 14.  $56+3\sqrt{2}$ .

**EJERCICIO 256.** 1. 2, 2.  $\sqrt{5}$ , 3.  $3\sqrt{3}$ , 4.  $3\sqrt{2}$ , 5.  $5\sqrt{2}$ , 6. 6, 7. 2,  
8.  $3\sqrt{5}$ , 9.  $\sqrt{3}$ , 10.  $\sqrt{5}$ .

**EJERCICIO 257.** 1.  $7+i$ , 2.  $-6+3i$ , 3.  $20-4i$ , 4.  $21+10i$ , 5.  $-2+3i$ ,  
6.  $(5+\sqrt{2})+7i$ , 7.  $6+(\sqrt{2}-\sqrt{3})i$ , 8.  $(3+\sqrt{2})+(1+\sqrt{5})i$ .

**EJERCICIO 258.** 1. 14, 2. -10, 3. 18, 4. -14, 5. 16, 6.  $2\sqrt{2}$ ,  
7.  $2\sqrt{2}$ , 8.  $2\sqrt{2}$ , 9.  $2\sqrt{2}$ , 10.  $2\sqrt{2}$ , 11.  $2\sqrt{2}$ , 12.  $2\sqrt{2}$ , 13.  $2\sqrt{2}$ ,  
14.  $2\sqrt{2}$ , 15.  $2\sqrt{2}$ , 16.  $2\sqrt{2}$ , 17.  $2\sqrt{2}$ , 18.  $2\sqrt{2}$ , 19.  $2\sqrt{2}$ ,  
20.  $2\sqrt{2}$ , 21.  $2\sqrt{2}$ , 22.  $2\sqrt{2}$ , 23.  $2\sqrt{2}$ , 24.  $2\sqrt{2}$ , 25.  $2\sqrt{2}$ ,  
26.  $2\sqrt{2}$ , 27.  $2\sqrt{2}$ , 28.  $2\sqrt{2}$ , 29.  $2\sqrt{2}$ , 30.  $2\sqrt{2}$ , 31.  $2\sqrt{2}$ ,  
32.  $2\sqrt{2}$ , 33.  $2\sqrt{2}$ , 34.  $2\sqrt{2}$ , 35.  $2\sqrt{2}$ , 36.  $2\sqrt{2}$ , 37.  $2\sqrt{2}$ ,  
38.  $2\sqrt{2}$ , 39.  $2\sqrt{2}$ , 40.  $2\sqrt{2}$ , 41.  $2\sqrt{2}$ , 42.  $2\sqrt{2}$ , 43.  $2\sqrt{2}$ ,  
44.  $2\sqrt{2}$ , 45.  $2\sqrt{2}$ , 46.  $2\sqrt{2}$ , 47.  $2\sqrt{2}$ , 48.  $2\sqrt{2}$ , 49.  $2\sqrt{2}$ ,  
50.  $2\sqrt{2}$ , 51.  $2\sqrt{2}$ , 52.  $2\sqrt{2}$ , 53.  $2\sqrt{2}$ , 54.  $2\sqrt{2}$ , 55.  $2\sqrt{2}$ ,  
56.  $2\sqrt{2}$ , 57.  $2\sqrt{2}$ , 58.  $2\sqrt{2}$ , 59.  $2\sqrt{2}$ , 60.  $2\sqrt{2}$ , 61.  $2\sqrt{2}$ ,  
62.  $2\sqrt{2}$ , 63.  $2\sqrt{2}$ , 64.  $2\sqrt{2}$ , 65.  $2\sqrt{2}$ , 66.  $2\sqrt{2}$ , 67.  $2\sqrt{2}$ ,  
68.  $2\sqrt{2}$ , 69.  $2\sqrt{2}$ , 70.  $2\sqrt{2}$ , 71.  $2\sqrt{2}$ , 72.  $2\sqrt{2}$ , 73.  $2\sqrt{2}$ ,  
74.  $2\sqrt{2}$ , 75.  $2\sqrt{2}$ , 76.  $2\sqrt{2}$ , 77.  $2\sqrt{2}$ , 78.  $2\sqrt{2}$ , 79.  $2\sqrt{2}$ ,  
80.  $2\sqrt{2}$ , 81.  $2\sqrt{2}$ , 82.  $2\sqrt{2}$ , 83.  $2\sqrt{2}$ , 84.  $2\sqrt{2}$ , 85.  $2\sqrt{2}$ ,  
86.  $2\sqrt{2}$ , 87.  $2\sqrt{2}$ , 88.  $2\sqrt{2}$ , 89.  $2\sqrt{2}$ , 90.  $2\sqrt{2}$ , 91.  $2\sqrt{2}$ ,  
92.  $2\sqrt{2}$ , 93.  $2\sqrt{2}$ , 94.  $2\sqrt{2}$ , 95.  $2\sqrt{2}$ , 96.  $2\sqrt{2}$ , 97.  $2\sqrt{2}$ ,  
98.  $2\sqrt{2}$ , 99.  $2\sqrt{2}$ , 100.  $2\sqrt{2}$ .

**EJERCICIO 253.** 1. ai, 2.  $i\sqrt{2}$ , 3. 6i, 4. 9i, 5.  $i\sqrt{6}$ , 6.  $3b^2i$ , 7.  $i2\sqrt{3}$ ,  
8.  $i\sqrt{7}$ , 9.  $3\sqrt{3}i$ , 10.  $2m^2i$ , 11.  $\frac{1}{2}i$ , 12.  $i\sqrt{a^2+b^2}$ .

**EJERCICIO 254.** 1. 6i, 2. 7i, 3. 36i, 4. 22i, 5.  $(2a+a^2+a^3)i$ ,  
6.  $15\sqrt{2}i$ , 7.  $15\sqrt{5}i$ , 8.  $7a^2i$ .

**EJERCICIO 255.** 1. -20, 2. -63, 3. -960, 4.  $-\sqrt{6}$ , 5.  $-6\sqrt{35}$ , 6. -15,  
7. -84, 8. -42i, 9. -30i, 10. 360, 11.  $15\sqrt{xy}$ , 12. -5, 13. 86, 14.  $56+3\sqrt{2}$ .

**EJERCICIO 256.** 1. 2, 2.  $\sqrt{5}$ , 3.  $3\sqrt{3}$ , 4.  $3\sqrt{2}$ , 5.  $5\sqrt{2}$ , 6. 6, 7. 2,  
8.  $3\sqrt{5}$ , 9.  $\sqrt{3}$ , 10.  $\sqrt{5}$ .

**EJERCICIO 257.** 1.  $7+i$ , 2.  $-6+3i$ , 3.  $20-4i$ , 4.  $21+10i$ , 5.  $-2+3i$ ,  
6.  $(5+\sqrt{2})+7i$ , 7.  $6+(\sqrt{2}-\sqrt{3})i$ , 8.  $(3+\sqrt{2})+(1+\sqrt{5})i$ .

**EJERCICIO 258.** 1. 14, 2. -10, 3. 18, 4. -14, 5. 16, 6.  $2\sqrt{2}$ ,  
7.  $2\sqrt{2}$ , 8.  $2\sqrt{2}$ , 9.  $2\sqrt{2}$ , 10.  $2\sqrt{2}$ , 11.  $2\sqrt{2}$ , 12.  $2\sqrt{2}$ , 13.  $2\sqrt{2}$ ,  
14.  $2\sqrt{2}$ , 15.  $2\sqrt{2}$ , 16.  $2\sqrt{2}$ , 17.  $2\sqrt{2}$ , 18.  $2\sqrt{2}$ , 19.  $2\sqrt{2}$ ,  
20.  $2\sqrt{2}$ , 21.  $2\sqrt{2}$ , 22.  $2\sqrt{2}$ , 23.  $2\sqrt{2}$ , 24.  $2\sqrt{2}$ , 25.  $2\sqrt{2}$ ,  
26.  $2\sqrt{2}$ , 27.  $2\sqrt{2}$ , 28.  $2\sqrt{2}$ , 29.  $2\sqrt{2}$ , 30.  $2\sqrt{2}$ , 31.  $2\sqrt{2}$ ,  
32.  $2\sqrt{2}$ , 33.  $2\sqrt{2}$ , 34.  $2\sqrt{2}$ , 35.  $2\sqrt{2}$ , 36.  $2\sqrt{2}$ , 37.  $2\sqrt{2}$ ,  
38.  $2\sqrt{2}$ , 39.  $2\sqrt{2}$ , 40.  $2\sqrt{2}$ , 41.  $2\sqrt{2}$ , 42.  $2\sqrt{2}$ , 43.  $2\sqrt{2}$ ,  
44.  $2\sqrt{2}$ , 45.  $2\sqrt{2}$ , 46.  $2\sqrt{2}$ , 47.  $2\sqrt{2}$ , 48.  $2\sqrt{2}$ , 49.  $2\sqrt{2}$ ,  
50.  $2\sqrt{2}$ , 51.  $2\sqrt{2}$ , 52.  $2\sqrt{2}$ , 53.  $2\sqrt{2}$ , 54.  $2\sqrt{2}$ , 55.  $2\sqrt{2}$ ,  
56.  $2\sqrt{2}$ , 57.  $2\sqrt{2}$ , 58.  $2\sqrt{2}$ , 59.  $2\sqrt{2}$ , 60.  $2\sqrt{2}$ , 61.  $2\sqrt{2}$ ,  
62.  $2\sqrt{2}$ , 63.  $2\sqrt{2}$ , 64.  $2\sqrt{2}$ , 65.  $2\sqrt{2}$ , 66.  $2\sqrt{2}$ , 67.  $2\sqrt{2}$ ,  
68.  $2\sqrt{2}$ , 69.  $2\sqrt{2}$ , 70.  $2\sqrt{2}$ , 71.  $2\sqrt{2}$ , 72.  $2\sqrt{2}$ , 73.  $2\sqrt{2}$ ,  
74.  $2\sqrt{2}$ , 75.  $2\sqrt{2}$ , 76.  $2\sqrt{2}$ , 77.  $2\sqrt{2}$ , 78.  $2\sqrt{2}$ , 79.  $2\sqrt{2}$ ,  
80.  $2\sqrt{2}$ , 81.  $2\sqrt{2}$ , 82.  $2\sqrt{2}$ , 83.  $2\sqrt{2}$ , 84.  $2\sqrt{2}$ , 85.  $2\sqrt{2}$ ,  
86.  $2\sqrt{2}$ , 87.  $2\sqrt{2}$ , 88.  $2\sqrt{2}$ , 89.  $2\sqrt{2}$ , 90.  $2\sqrt{2}$ , 91.  $2\sqrt{2}$ ,  
92.  $2\sqrt{2}$ , 93.  $2\sqrt{2}$ , 94.  $2\sqrt{2}$ , 95.  $2\sqrt{2}$ , 96.  $2\sqrt{2}$ , 97.  $2\sqrt{2}$ ,  
98.  $2\sqrt{2}$ , 99.  $2\sqrt{2}$ , 100.  $2\sqrt{2}$ .

**EJERCICIO 259.** 1.  $-2-5i$ , 2.  $5+14i$ , 3.  $6+7i$ , 4.  $-1-4i$ , 5.  $7+3i$ ,  
6.  $8+130i$ , 7.  $2-11i$ , 8.  $2+(\sqrt{5}-\sqrt{3})i$ , 9.  $(\sqrt{2}-\sqrt{3})-11i$ , 10.  $15-(\sqrt{7}+\sqrt{3})i$ .

**EJERCICIO 260.** 1. -2i, 2. 6i, 3. -14i, 4.  $2\sqrt{2}i$ , 5.  $2\sqrt{3}i$ , 6.  $-8\sqrt{5}i$ ,  
7.  $2\sqrt{2}i$ , 8.  $2\sqrt{3}i$ , 9.  $2\sqrt{5}i$ , 10.  $2\sqrt{7}i$ , 11.  $2\sqrt{11}i$ , 12.  $2\sqrt{13}i$ ,  
13.  $2\sqrt{17}i$ , 14.  $2\sqrt{19}i$ , 15.  $2\sqrt{23}i$ , 16.  $2\sqrt{25}i$ , 17.  $2\sqrt{27}i$ ,  
18.  $2\sqrt{29}i$ , 19.  $2\sqrt{31}i$ , 20.  $2\sqrt{33}i$ , 21.  $2\sqrt{35}i$ , 22.  $2\sqrt{37}i$ ,  
23.  $2\sqrt{39}i$ , 24.  $2\sqrt{41}i$ , 25.  $2\sqrt{43}i$ , 26.  $2\sqrt{45}i$ , 27.  $2\sqrt{47}i$ ,  
28.  $2\sqrt{49}i$ , 29.  $2\sqrt{51}i$ , 30.  $2\sqrt{53}i$ , 31.  $2\sqrt{55}i$ , 32.  $2\sqrt{57}i$ ,  
33.  $2\sqrt{59}i$ , 34.  $2\sqrt{61}i$ , 35.  $2\sqrt{63}i$ , 36.  $2\sqrt{65}i$ , 37.  $2\sqrt{67}i$ ,  
38.  $2\sqrt{69}i$ , 39.  $2\sqrt{71}i$ , 40.  $2\sqrt{73}i$ , 41.  $2\sqrt{75}i$ , 42.  $2\sqrt{77}i$ ,  
43.  $2\sqrt{79}i$ , 44.  $2\sqrt{81}i$ , 45.  $2\sqrt{83}i$ , 46.  $2\sqrt{85}i$ , 47.  $2\sqrt{87}i$ ,  
48.  $2\sqrt{89}i$ , 49.  $2\sqrt{91}i$ , 50.  $2\sqrt{93}i$ , 51.  $2\sqrt{95}i$ , 52.  $2\sqrt{97}i$ ,  
53.  $2\sqrt{99}i$ , 54.  $2\sqrt{101}i$ , 55.  $2\sqrt{103}i$ , 56.  $2\sqrt{105}i$ , 57.  $2\sqrt{107}i$ ,  
58.  $2\sqrt{109}i$ , 59.  $2\sqrt{111}i$ , 60.  $2\sqrt{113}i$ , 61.  $2\sqrt{115}i$ , 62.  $2\sqrt{117}i$ ,  
63.  $2\sqrt{119}i$ , 64.  $2\sqrt{121}i$ , 65.  $2\sqrt{123}i$ , 66.  $2\sqrt{125}i$ , 67.  $2\sqrt{127}i$ ,  
68.  $2\sqrt{129}i$ , 69.  $2\sqrt{131}i$ , 70.  $2\sqrt{133}i$ , 71.  $2\sqrt{135}i$ , 72.  $2\sqrt{137}i$ ,  
73.  $2\sqrt{139}i$ , 74.  $2\sqrt{141}i$ , 75.  $2\sqrt{143}i$ , 76.  $2\sqrt{145}i$ , 77.  $2\sqrt{147}i$ ,  
78.  $2\sqrt{149}i$ , 79.  $2\sqrt{151}i$ , 80.  $2\sqrt{153}i$ , 81.  $2\sqrt{155}i$ , 82.  $2\sqrt{157}i$ ,  
83.  $2\sqrt{159}i$ , 84.  $2\sqrt{161}i$ , 85.  $2\sqrt{163}i$ , 86.  $2\sqrt{165}i$ , 87.  $2\sqrt{167}i$ ,  
88.  $2\sqrt{169}i$ , 89.  $2\sqrt{171}i$ , 90.  $2\sqrt{173}i$ , 91.  $2\sqrt{175}i$ , 92.  $2\sqrt{177}i$ ,  
93.  $2\sqrt{179}i$ , 94.  $2\sqrt{181}i$ , 95.  $2\sqrt{183}i$ , 96.  $2\sqrt{185}i$ , 97.  $2\sqrt{187}i$ ,  
98.  $2\sqrt{189}i$ , 99.  $2\sqrt{191}i$ , 100.  $2\sqrt{193}i$ .

**EJERCICIO 261.** 1.  $3-29i$ , 2.  $2-29i$ , 3.  $41+11i$ , 4.  $103+7i$ , 5.  $17+2\sqrt{3}i$ ,  
6.  $(20+\sqrt{6})+(5\sqrt{3}-4\sqrt{2})i$ , 7.  $(\sqrt{6}-\sqrt{10})+(2+\sqrt{15})i$ , 8.  $-1+3\sqrt{15}i$ .

**EJERCICIO 262.** 1. 2, 2. 13, 3. 27, 4. 28, 5. 27, 6. 86,  
7.  $\frac{4+3i}{5}$ , 8.  $\frac{3-29i}{25}$ , 9.  $\frac{26-83i}{85}$ , 10.  $\frac{8+21\sqrt{3}i}{73}$ , 11.  $\frac{-2+9\sqrt{5}i}{37}$ ,  
12.  $\frac{-2+9\sqrt{5}i}{37}$ , 13.  $\frac{-2+9\sqrt{5}i}{37}$ , 14.  $\frac{-2+9\sqrt{5}i}{37}$ , 15.  $\frac{-2+9\sqrt{5}i}{37}$ ,  
16.  $\frac{-2+9\sqrt{5}i}{37}$ , 17.  $\frac{-2+9\sqrt{5}i}{37}$ , 18.  $\frac{-2+9\sqrt{5}i}{37}$ , 19.  $\frac{-2+9\sqrt{5}i}{37}$ ,  
20.  $\frac{-2+9\sqrt{5}i}{37}$ , 21.  $\frac{-2+9\sqrt{5}i}{37}$ , 22.  $\frac{-2+9\sqrt{5}i}{37}$ , 23.  $\frac{-2+9\sqrt{5}i}{37}$ ,  
24.  $\frac{-2+9\sqrt{5}i}{37}$ , 25.  $\frac{-2+9\sqrt{5}i}{37}$ , 26.  $\frac{-2+9\sqrt{5}i}{37}$ , 27.  $\frac{-2+9\sqrt{5}i}{37}$ ,  
28.  $\frac{-2+9\sqrt{5}i}{37}$ , 29.  $\frac{-2+9\sqrt{5}i}{37}$ , 30.  $\frac{-2+9\sqrt{5}i}{37}$ , 31.  $\frac{-2+9\sqrt{5}i}{37}$ ,  
32.  $\frac{-2+9\sqrt{5}i}{37}$ , 33.  $\frac{-2+9\sqrt{5}i}{37}$ , 34.  $\frac{-2+9\sqrt{5}i}{37}$ , 35.  $\frac{-2+9\sqrt{5}i}{37}$ ,  
36.  $\frac{-2+9\sqrt{5}i}{37}$ , 37.  $\frac{-2+9\sqrt{5}i}{37}$ , 38.  $\frac{-2+9\sqrt{5}i}{37}$ , 39.  $\frac{-2+9\sqrt{5}i}{37}$ ,  
40.  $\frac{-2+9\sqrt{5}i}{37}$ , 41.  $\frac{-2+9\sqrt{5}i}{37}$ , 42.  $\frac{-2+9\sqrt{5}i}{37}$ , 43.  $\frac{-2+9\sqrt{5}i}{37}$ ,  
44.  $\frac{-2+9\sqrt{5}i}{37}$ , 45.  $\frac{-2+9\sqrt{5}i}{37}$ , 46.  $\frac{-2+9\sqrt{5}i}{37}$ , 47.  $\frac{-2+9\sqrt{5}i}{37}$ ,  
48.  $\frac{-2+9\sqrt{5}i}{37}$ , 49.  $\frac{-2+9\sqrt{5}i}{37}$ , 50.  $\frac{-2+9\sqrt{5}i}{37}$ , 51.  $\frac{-2+9\$



**ICIO 270.** 1.  $5a, -7a$ . 2.  $\frac{4a}{5}, -\frac{9a}{2}$ . 3.  $\frac{b}{a}, -\frac{2b}{a}$ . 4.  $\frac{2b}{7}, \frac{11b}{6}$ . 5.  $4a, -5a$ .

6.  $-ab$ . 7.  $\frac{a}{b}, -\frac{3a}{b}$ . 8.  $-a, b$ . 9.  $2a, -3b$ . 10.  $\frac{m}{2}, -\frac{2n}{3}$ . 11.  $-a, a+b$ .

12.  $-\frac{2}{b}$ . 13.  $a-b, a+b$ . 14.  $\frac{b}{2}-m, \frac{b}{2}+m$ . 15.  $2a-b, 2a+b$ . 16.  $a, 2$ .

17.  $6a$ . 18.  $-m, m+2$ . 19.  $2m^2, -m^3$ . 20.  $\frac{5a}{2}, \frac{b}{3}$ . 21.  $2a, -\frac{a}{2}$ . 22.  $\frac{2b}{3}, \frac{b}{2}$ .

23.  $-3a$ . 24.  $\frac{a}{2}, \frac{a}{a-2}$ . 25.  $\frac{1}{a}, 2a$ . 26.  $b, -\frac{2b}{3}$ .

**ICIO 271.** 1.  $\pm 4$ . 2.  $\pm \sqrt{11}$ . 3.  $\pm i\sqrt{2}$ . 4.  $\pm \frac{a}{3}$ . 5.  $\pm 3\sqrt{2}$ . 6.  $\pm 6$ .

7.  $\pm \frac{2}{3}$ . 8.  $\pm i\sqrt{7}$ . 9.  $\pm 2$ . 10.  $\pm 2$ . 11.  $\pm \sqrt{3}$ . 12.  $\pm 3$ . 13.  $\pm 3$ . 14.  $\pm 1$ .

**ICIO 272.** 1.  $0, 5$ . 2.  $0, -8$ . 3.  $0, \frac{1}{2}$ . 4.  $0, \frac{2}{5}$ . 5.  $0, -8\frac{2}{5}$ .

6.  $7, 0, -1\frac{1}{7}$ . 7.  $0, -1$ .

**ICIO 273.** 1.  $2$ . 2.  $5$ . 3.  $1$ . 4.  $4$ . 5.  $1$ . 6.  $4$ . 7.  $2$ .

8.  $3$ . 9.  $1, 6$ . 10.  $1, 16$ . 11.  $9$ . 12.  $1$ . 13.  $2$ .

**ICIO 274.** 11.  $1, 3$ . 12.  $2, 4$ . 13.  $-1, 3$ . 14.  $-1, -3$ . 15.  $2, -3$ .

16.  $-4$ . 17.  $-4$ . 18.  $2, -2$ . 19.  $-2, 5$ . 20.  $2$ . 21.  $2, 2\frac{1}{2}$ . 22.  $-1, 3\frac{1}{2}$ .

**ICIO 275.** 1.  $7$  y  $2$ . 2.  $60$  y  $36$ . 3.  $A, 14; B, 11$  años. 4.  $45$  y  $15$ .

5.  $8$  y  $9$ . 6.  $12$  m  $\times$   $8$  m. 7.  $40$  sacos, bs.  $25$ . 8. Caballo,  $900$  sacos;  $225$  sacos.

9.  $10, 15$  y  $8$ . 10.  $17$  y  $6$  años. 11.  $36$  libros,  $\$5$ . 12.  $13, 10$  filas soldados. 13.  $50$  soles. 14.  $6$ . 15.  $6$ . 16.  $16, \$12$ . 17.  $30$  a  $\$5$ . 18.  $10$ .

19.  $3$ . 20.  $6$  h. 21.  $10$  cab.,  $\$200$ . 22.  $4, 5, 6$ . 23.  $12$  y  $15$ . 24.  $30$  a  $5$  cts. 25.  $90$ .

26.  $32$  y  $11$ . 27.  $15$  m y  $5$  m. 28.  $40$  Km por hora. 29.  $12$  días, meses. 30.  $18, \$5$ . 31.  $7$ . 32.  $10$  años. 33.  $10, \$4$ .

**ICIO 276.** 1. Reales y desiguales, racionales. 2. Reales y desiguales, irracionales. 3. Reales e iguales. 4. Imaginarias. 5. Reales e iguales. 6. Reales y desiguales, irracionales. 7. Reales y desiguales, racionales. 8. Reales e iguales. 9. Imaginarias. 10. Reales y desiguales, irracionales. 11. Imaginarias. 12. Reales y desiguales, racionales.

**ICIO 277.** 1. Si. 2. No. 3. Si. 4. Si. 5. No. 6. Si. 7. No. 8. Si. 9. Si. 10. No.

**ICIO 278.** 1.  $x^2-7x+12=0$ . 2.  $x^2-2x-3=0$ . 3.  $x^2+12x+35=0$ . 4.  $x^2-x-2=0$ . 5.  $2x^2-3x+1=0$ . 6.  $5x^2+11x+2=0$ . 7.  $3x^2-7x-6=0$ . 8.  $2x^2+7x+6=0$ . 9.  $-2x-3=0$ . 10.  $7x^2+33x-10=0$ . 11.  $3x^2-13x-30=0$ . 12.  $8x^2+17x+2=0$ . 13.  $x^2+34x-936=0$ . 14.  $x^2+26x+165=0$ . 15.  $x^2-2x=0$ . 16.  $3x^2+x=0$ . 17.  $-25=0$ . 18.  $4x^2-1=0$ . 19.  $x^2-14x+49=0$ . 20.  $3x^2-13x-88=0$ . 21.  $x^2+64x+45=0$ . 22.  $14x^2+73x-22=0$ . 23.  $x^2-ax-2a^2=0$ . 24.  $12x^2+5bx-x^2=0$ . 25.  $2x^2-mx-m^2=0$ . 26.  $x^2-ax+ab-b^2=0$ . 27.  $6x^2-(3a-2b)x-ab=0$ . 28.  $-2x-1=0$ . 29.  $x^2-4x-1=0$ . 30.  $x^2-6x+10=0$ .

**ICIO 279.** 1.  $5$  y  $6$ . 2.  $-13$  y  $-20$ . 3.  $17$  y  $-18$ . 4.  $-7$  y  $-42$ .

5.  $3$  y  $19$ . 6.  $2$  y  $-\frac{1}{2}$ . 7.  $-6$  y  $-\frac{4}{3}$ . 8.  $\frac{3}{4}$  y  $-\frac{1}{2}$ . 9.  $-14$  y  $\frac{3}{7}$ . 10.  $-3$  y  $-\frac{1}{5}$ . 11.  $\frac{3}{8}$  y  $-\frac{5}{6}$ . 12.  $\frac{2}{3}$  y  $-\frac{6}{5}$ . 13.  $\frac{8}{4}$  y  $-\frac{2}{5}$ . 14.  $5$  y  $-\frac{4}{5}$ . 15.  $\frac{3}{5}$  y  $\frac{4}{9}$ . 16.  $1+\sqrt{5}$ . 17.  $\frac{1}{2}+\sqrt{3}$  y  $\frac{1}{2}-\sqrt{3}$ . 18.  $-\frac{2}{3}+\sqrt{7}$  y  $-\frac{2}{3}-\sqrt{7}$ . 19.  $2a$  y  $-a$ . 20.  $-2b$ . 21.  $\frac{2m}{3}$  y  $-\frac{m}{6}$ .

**EJERCICIO 280.** 1.  $(x-7)(x-9)$ . 2.  $(x+11)(x+13)$ . 3.  $(x-31)(x+5)$ . 4.  $(2x+3)(x+2)$ . 5.  $(4x-1)(3x+2)$ . 6.  $(5x+1)(x+8)$ . 7.  $(6x-5)(x+2)$ . 8.  $(4x-3)(3x+1)$ . 9.  $(4x+7)(2x+9)$ . 10.  $(9x+7)(3x+1)$ . 11.  $(6x-5)(5x-6)$ . 12.  $(11x+12)(x-15)$ . 13.  $(3+x)(2-x)$ . 14.  $(5+x)(1-2x)$ . 15.  $(3+2x)(5-2x)$ . 16.  $(1+4x)(4-3x)$ . 17.  $(8x-7)(9x+1)$ . 18.  $(6x+1)(6-5x)$ . 19.  $(10x-3)(x+21)$ . 20.  $(20+x)(5-x)$ . 21.  $(x-1)(18x+49)$ . 22.  $(3x-2a)(2x+a)$ . 23.  $(5x-3y)(x+5y)$ . 24.  $(3x-7m)(5x+m)$ .

**EJERCICIO 282.** 1.  $1, -1, i, -i$ . 2.  $-1, \frac{1+i\sqrt{3}}{2}, \frac{1-i\sqrt{3}}{2}$ . 3.  $3, -3, 3i, -3i$ . 4.  $4, -4, 4i, -4i$ . 5.  $-2, 1+i\sqrt{3}, 1-i\sqrt{3}$ . 6.  $5, -5, 5i, -5i$ . 7.  $-4, 2+2\sqrt{3}i, 2-2\sqrt{3}i$ . 8.  $3, -3, \frac{3+3\sqrt{3}i}{2}, \frac{3-3\sqrt{3}i}{2}, \frac{-3+3\sqrt{3}i}{2}, \frac{-3-3\sqrt{3}i}{2}$ . 9.  $2, -1+i\sqrt{3}, -1-i\sqrt{3}$ . 10.  $2\sqrt{2}, -2\sqrt{2}, 2\sqrt{2}i, -2\sqrt{2}i$ .

**EJERCICIO 283.** 1.  $\pm 1, \pm 3$ . 2.  $\pm 2, \pm 3$ . 3.  $\pm 2, \pm 5$ . 4.  $\pm 5, \pm 6$ . 5.  $\pm 1, \pm 2i$ . 6.  $\pm 3, \pm 5i$ . 7.  $\pm 7, \pm 2i$ . 8.  $\pm 1, \pm \sqrt{5}$ . 9.  $\pm 3, \pm \frac{1}{2}$ . 10.  $\pm 2, \pm \frac{4}{5}$ . 11.  $\pm \frac{4}{5}, \pm i$ . 12.  $\pm \frac{1}{2}, \pm i\sqrt{3}$ . 13.  $\pm 2, \pm \frac{1}{3}\sqrt{66}i$ . 14.  $\pm 1, \pm \frac{1}{3}\sqrt{3}i$ .

**EJERCICIO 284.** 1.  $-1, 2$ . 2.  $-3, -\sqrt{3}$ . 3.  $\frac{1}{2}, -\sqrt{2}$ . 4.  $\pm \sqrt{5}, \pm 2$ . 5.  $1, 2$ . 6.  $\pm \frac{1}{2}, \pm \frac{1}{3}$ . 7.  $-\frac{1}{2}, -\frac{1}{3}$ . 8.  $\frac{1}{3}, -1$ . 9.  $1, 4$ . 10.  $4, 9$ . 11.  $25, \frac{1}{9}$ . 12.  $16, \frac{1}{16}$ .

**EJERCICIO 285.** 1.  $\sqrt{2}+\sqrt{3}$ . 2.  $\sqrt{5}-\sqrt{3}$ . 3.  $1+\sqrt{7}$ . 4.  $5-\sqrt{7}$ . 5.  $\sqrt{3}+\sqrt{2}$ . 6.  $\sqrt{2}+\sqrt{11}$ . 7.  $\sqrt{5}+\sqrt{6}$ . 8.  $9-\sqrt{3}$ . 9.  $\sqrt{6}+\sqrt{15}$ . 10.  $\sqrt{7}+\sqrt{21}$ . 11.  $2\sqrt{3}+\sqrt{5}$ . 12.  $3\sqrt{5}+\sqrt{10}$ . 13.  $3\sqrt{5}-2\sqrt{7}$ . 14.  $15-2\sqrt{7}$ . 15.  $5\sqrt{11}-3\sqrt{2}$ . 16.  $\frac{1}{2}\sqrt{2}+\frac{1}{3}\sqrt{3}$ . 17.  $\frac{1}{2}\sqrt{2}-\frac{1}{3}\sqrt{3}$ . 18.  $\frac{1}{4}+\frac{1}{2}\sqrt{2}$ . 19.  $2+\sqrt{2}$ . 20.  $2+\sqrt{3}$ . 21.  $1+\sqrt{7}$ . 22.  $\sqrt{3}+\sqrt{5}$ . 23.  $\sqrt{3}+\sqrt{15}$ . 24.  $\sqrt{13}-\sqrt{11}$ . 25.  $2\sqrt{5}-\sqrt{10}$ . 26.  $\sqrt{3}+\sqrt{6}$ . 27.  $3\sqrt{10}-2\sqrt{2}$ .

**EJERCICIO 286.** 1.  $31$ . 2.  $60$ . 3.  $150$ . 4.  $437$ . 5.  $-44$ . 6.  $-170$ . 7.  $-45$ . 8.  $-416$ . 9.  $113$ . 10.  $152$ . 11.  $3\frac{1}{4}$ . 12.  $3\frac{1}{3}$ . 13.  $2\frac{2}{3}$ . 14.  $10$ . 15.  $49$ . 16.  $-14\frac{7}{9}$ . 17.  $-1\frac{27}{28}$ . 18.  $-7\frac{4}{15}$ . 19.  $-24\frac{1}{4}$ . 20.  $8\frac{1}{6}$ . 21.  $-2$ . 22.  $-1\frac{1}{6}$ . 23.  $21\frac{9}{10}$ . 24.  $56$ . 25.  $-158\frac{1}{2}$ .

**EJERCICIO 287.** 1.  $16$ . 2.  $-111$ . 3.  $-1$ . 4.  $4\frac{1}{3}$ . 5.  $1$ . 6.  $-\frac{1}{3}$ . 7.  $-5$ . 8.  $-5$ . 9.  $12$ . 10.  $14$ . 11.  $40$ . 12.  $17$ .

**EJERCICIO 288.** 1.  $232$ . 2.  $1786$ . 3.  $-1752$ . 4.  $11840$ . 5.  $-17040$ . 6.  $-10$ . 7.  $22\frac{1}{2}$ . 8.  $13\frac{9}{10}$ . 9.  $142\frac{1}{2}$ . 10.  $-139\frac{2}{5}$ . 11.  $69\frac{2}{5}$ . 12.  $563\frac{1}{2}$ . 13.  $272$ . 14.  $-3$ .

**EJERCICIO 289.** 1.  $\div 3, 5, 7, 9, 11$ . 2.  $\div 19, 16, 13, 10, 7, 4, 1, -2, -5$ . 3.  $\div -13, -23, -33, -43, -53, -63, -73$ . 4.  $\div -42, -23, -4, 15, 34, 53$ . 5.  $\div -69, -57, -45, -33, -21, -9$ . 6.  $\div 1, 1\frac{1}{2}, 2, 2\frac{1}{2}, 3$ . 7.  $\div 5, 6\frac{2}{3}, 7\frac{4}{5}, 9\frac{1}{5}, 10\frac{8}{5}$ . 8.  $\div -4, -2\frac{5}{6}, -1\frac{2}{3}, -\frac{1}{2}, \frac{2}{3}, 1\frac{5}{6}, 3$ . 9.  $\div \frac{3}{4}, \frac{31}{48}, \frac{13}{24}, \frac{7}{16}, \frac{1}{8}, \frac{11}{48}, \frac{1}{8}$ . 10.  $\div -1, -\frac{8}{7}, \frac{1}{7}, \frac{5}{7}, 1\frac{2}{7}, 1\frac{6}{7}, 2\frac{3}{7}, 3$ . 11.  $\div \frac{2}{3}, \frac{77}{144}, \frac{29}{72}, \frac{13}{48}, \frac{5}{36}, \frac{1}{144}, -\frac{1}{8}$ . 12.  $\div -2, -2\frac{5}{6}, -2\frac{3}{4}, -3$ . 13.  $\div \frac{1}{2}, -\frac{3}{5}, -\frac{4}{4}, -\frac{4}{5}, -5$ . 14.  $\div \frac{1}{2}, \frac{11}{30}, \frac{7}{30}, \frac{1}{10}, -\frac{1}{30}, -\frac{1}{6}, -\frac{8}{10}, -\frac{13}{30}, -\frac{17}{30}, -\frac{7}{18}$ .



**EJERCICIO 290.** 1. 1470. 2. 16200. 3. 9417. 4. 10100. 5. 10800. 6. \$40.75.  
7. \$131.20. 8. 33660. 9. bs 5430. 10. 7.75 m; 55 m. 11. 400, 800, 1200 sucres.  
12. 2° 8, 3° 11, 4° 14, 7° 23. 13. \$1648. 14. 246 km. 15. 53½. 16. -27.  
17. 8. 18. \$500. 19. 4200 solcs. 20. 402.5 p. 21. 165024. 22. 80. 23. 16500 colonos.

**EJERCICIO 291.** 1. 192. 2. 729. 3.  $\frac{1}{32}$ . 4.  $\frac{32}{3125}$ . 5.  $\frac{64}{243}$ . 6.  $\frac{16}{5120}$ . 7.  $16\frac{208}{243}$ .  
8. 96. 9.  $\frac{1}{2187}$ . 10.  $\frac{27}{230}$ . 11.  $-\frac{1}{1024}$ . 12.  $-\frac{32}{729}$ . 13.  $-23\frac{7}{16}$ . 14.  $-\frac{1}{20244}$ .

**EJERCICIO 292.** 1. 1. 2.  $\frac{3}{4}$ . 3. 5. 4. 2. 5.  $\pm 3$ . 6. -2. 7.  $\frac{1}{3}$ .  
8.  $\pm \frac{1}{4}$ . 9.  $\pm \frac{2}{5}$ . 10.  $-\frac{2}{3}$ .

**EJERCICIO 293.** 1.  $11\frac{5}{8}$ . 2. -84. 3.  $17\frac{241}{243}$ . 4.  $255\frac{3}{4}$ . 5.  $6\frac{473}{912}$ . 6.  $-4\frac{5}{16}$ .  
7.  $-11\frac{253}{266}$ . 8.  $1\frac{51}{64}$ . 9.  $4\frac{17}{162}$ . 10.  $6\frac{29}{27}$ .

**EJERCICIO 294.** 1.  $\pm 5; \pm 25; \pm 125; \pm 625; \pm 3125$ . 2.  $\pm -7; -14; -28; -56; -112; -224$ .  
3.  $\pm 128; \pm 64; \pm 32; \pm 16; \pm 8; \pm 4; \pm 2$ . 4.  $\pm 4\frac{1}{2}; 3; 2; 1\frac{1}{2}; \frac{3}{2}; \frac{10}{27}$ . 5.  $\pm 2; 3; 4\frac{1}{2}; 6\frac{3}{4}$ .

10.  $\frac{1}{8}; 15\frac{5}{16}; 22\frac{25}{32}; 34\frac{11}{64}$ . 6.  $\pm \frac{4}{9}; \frac{1}{3}; \frac{1}{4}; \frac{3}{20}; \frac{9}{64}; \frac{27}{256}$ . 7.  $\pm 8; \pm 4; \pm 2; \pm 1; \frac{1}{2}; \pm \frac{1}{4}; \frac{1}{8}; \pm \frac{1}{16}; \frac{1}{32}$ .

**EJERCICIO 295.** 1.  $2\frac{2}{3}$ . 2.  $\frac{5}{4}$ . 3.  $-8\frac{1}{3}$ . 4. -12. 5.  $1\frac{1}{8}$ . 6.  $1\frac{1}{6}$ . 7.  $1\frac{2}{3}$ . 8.  $-24\frac{1}{2}$ .

**EJERCICIO 296.** 1.  $\frac{2}{8}$ . 2.  $\frac{4}{33}$ . 3.  $\frac{66}{338}$ . 4.  $\frac{32}{99}$ . 5.  $\frac{16}{111}$ . 6.  $\frac{16}{45}$ . 7.  $\frac{163}{909}$ . 8.  $\frac{7}{22}$ . 9.  $\frac{24}{11}$ .

**EJERCICIO 297.** 1. 64, 126 lempiras. 2. \$10485.75. 3. 2187 balboas. 4.  $\frac{1}{214}$ .  
5.  $\frac{1}{2}$ . 6.  $\frac{1}{10}$ . 7. \$2110. 8.  $\frac{10}{9}$ . 9. bs. 36400. 10. \$7174453.

**EJERCICIO 298.** 1. 97.888. 2. 82814.4. 3. 0.00819. 4. 214992. 5. 210.857.  
6. 13.1577. 7. 8.7141. 8. 619.55. 9. 75.982. 10. 455700. 11. 1024. 12. 0.003375.  
13. 120980.56. 14. 0.026224. 15. 139313.183. 16. 1.73205. 17. 1.25992.  
18. 1.49535. 19. 2.29017. 20. 2.60543.

**EJERCICIO 299.** 1. 6569. 2. 2.63890. 3. 16.9235. 4. 5.1062. 5. 76.464. 6. -2205.14.  
7. 0.054327. 8. -2.13734. 9. 0.3888. 10. 4.6512. 11. 6.6526. 12. 1.19132.  
13. 0.00075182. 14. 0.4888. 15. 7.9988. 16. 61.591. 17. 12.6564. 18. -11.6101.  
19. 2.60614. 20. 1.20766. 21. 0.086551. 22. 0.77958. 23. 1.20782. 24. -1.10756.  
25. 0.56893. 26. 0.69241. 27. 0.80434. 28. 5.23685. 29. 8.9943. 30. 5.95366.

**EJERCICIO 300.** 1. 1.556302. 2. 1.875061. 3. 1.477121. 4. 1.681241. 5. 2.079181.  
6. 1.991226. 7. 1.535294. 8. 1.352182. 9. 0.292256. 10. 1.942008. 11. 2.306424.  
12. 1.651278. 13. 0.397940. 14. 0.176091. 15. 0.146128. 16. 0.367977. 17. 1.113943.  
18. 1.397940.

**EJERCICIO 301.** 1. 0.6826. 2. 3.2059. 3. 4. 4. -0.25107. 5. 5. 6. 6.  
7. 2. 8. 4. 9. 1.42186.

**EJERCICIO 302.** 1. 5. 2. 6. 3. 8. 4. 6. 5. 5.

**EJERCICIO 303.** 1. \$595.51. 2. 4908.94 solcs. 3. bs. 19251.15. 4. \$1183.21. 5. \$15812.33.  
6. 35182.58 sucres. 7. \$65266.27. 8. \$849.09. 9. \$936.54. 10. \$800.16.  
11. \$1454.02. 12. Q. 31624. 13. 5 a. 14. 7 a. 15. 7%. 16. 3%. 17. \$108.52.

**EJERCICIO 304.** 1. \$5180.21. 2. 8540.43 solcs. 3. \$48146. 4. bs. 363245.  
5. 712.19 bolívares. 6. 1510.82 bolívares. 7. 127320.55 sucres. 8. 57743.90 solcs.  
9. 6438.89 bolívares. 10. 5060.61 bolívares. 11. 62173.96 sucres. 12. 2648.61 solcs.

**EJERCICIO 305.** 1. \$2462.38. 2. 2906.03 sucres. 3. \$1576.79. 4. \$687.79.